



**CÂMARA MUNICIPAL DA ESTÂNCIA
BALNEÁRIA DE ITANHAÉM**

ESTADO DE SÃO PAULO

CONCURSO PÚBLICO

001. PROVA OBJETIVA

AGENTE DE MANUTENÇÃO E ZELADORIA

- ◆ Você recebeu sua folha de respostas e este caderno contendo 40 questões objetivas.
- ◆ Confira seus dados impressos na capa deste caderno e na folha de respostas.
- ◆ Quando for permitido abrir o caderno, verifique se está completo ou se apresenta imperfeições. Caso haja algum problema, informe ao fiscal da sala.
- ◆ Leia cuidadosamente todas as questões e escolha a resposta que você considera correta.
- ◆ Marque, na folha de respostas, com caneta de tinta azul ou preta, a letra correspondente à alternativa que você escolheu.
- ◆ A duração da prova é de 3 horas, já incluído o tempo para o preenchimento da folha de respostas.
- ◆ Só será permitida a saída definitiva da sala e do prédio após transcorridos 75% do tempo de duração da prova.
- ◆ Deverão permanecer em cada uma das salas de prova os 3 últimos candidatos, até que o último deles entregue sua prova, assinando termo respectivo.
- ◆ Ao sair, você entregará ao fiscal a folha de respostas e este caderno, podendo levar apenas o rascunho de gabarito, localizado em sua carteira, para futura conferência.
- ◆ Até que você saia do prédio, todas as proibições e orientações continuam válidas.

AGUARDE A ORDEM DO FISCAL PARA ABRIR ESTE CADERNO DE QUESTÕES.

Nome do candidato _____

RG _____

Inscrição _____

Prédio _____

Sala _____

Carteira _____

CONHECIMENTOS GERAIS

LÍNGUA PORTUGUESA

Leia o texto para responder às questões de números **01** a **09**.

O cachorro

Avenida larga e movimentada. Duas pistas, um canteiro no meio, muitos quilômetros. Eu ia em uma mão, o trânsito fluindo lento, mas andando. Do outro lado, na calçada, observei a chegada de um cachorro pequeno. Desses de apartamento. Não sei o nome, mas uma raça dessas bem amorosas, que adora ficar no colo, em especial de mulheres.

Ele apontou na esquina, olhou para um lado e para o outro e parecia ansioso em tomar uma decisão. Não sei se alguém o chamou, ou se o barulho da avenida sugeria sentenças gravíssimas. A decisão veio rápida como um raio: o cachorro começou a correr rapidamente. Escolheu a contramão, ou seja, fomos na mesma direção. Eu com os olhos grudados nele, e ele se desviando das pessoas que tentavam detê-lo, na calçada, atendendo a meus apelos silenciosos. Pelo que podia observar, ele não estava se poupando. Imprimia toda a velocidade que seu pequeno porte possibilitava. Não havia razão para poupar o fôlego, mesmo que ele não soubesse para onde estava indo. E certamente ele não sabia. Em determinado momento, resolveu se livrar das pessoas e das ruas transversais que tinha de atravessar e que o obrigavam a diminuir o passo, e escolheu o asfalto. Contra tudo, naquele mar de gente e máquinas barulhentas. Sem rumo, sem lógica, sem sentido e com muita pressa. E corria, corria, corria.

Nada mais era certo: a vasilha com comida, a hora de dar o passeio, os braços e afagos da dona, as brincadeiras e os latidos. A realidade era outra agora, e ameaçadora. Tudo tinha a incerteza do impulso que não sabe em que vai dar. A vontade sem o ponto. O medo. E o desespero.

(Leo Jaime. *Blônicas*. São Paulo: Jaboticaba, 2005)

01. De acordo com o texto, o cachorro

- (A) demonstrava estar cansado.
- (B) poupava-se de correr rapidamente.
- (C) desviava das pessoas que tentavam detê-lo.
- (D) não atendeu aos apelos silenciosos do narrador.
- (E) escolheu a direção contrária em que o narrador estava.

02. Segundo o texto, a decisão tomada pelo cachorro foi a de

- (A) escolher o asfalto, livrando-se das pessoas e das ruas transversais.
- (B) saltar do colo de uma mulher e correr de um lado para o outro.
- (C) parar e observar as pessoas que caminhavam nas ruas transversais.
- (D) poupar seu fôlego porque sabia onde queria chegar.
- (E) diminuir o passo para livrar-se das pessoas que o atrapalhavam.

03. O trecho do texto que revela a preocupação do narrador em relação ao cachorro é:

- (A) Em determinado momento resolveu se livrar das pessoas e das ruas transversais...
- (B) Eu com os olhos grudados nele, e ele se desviando das pessoas que tentavam detê-lo...
- (C) A decisão veio rápida como um raio: o cachorro começou a correr rapidamente.
- (D) Do outro lado, na calçada, observei a chegada de um cachorro pequeno.
- (E) Ele apontou na esquina, olhou para um lado e para o outro...

04. Assinale a alternativa em que há palavras empregadas no sentido figurado.

- (A) E certamente ele não sabia.
- (B) ... o cachorro começou a correr...
- (C) Duas pistas, um canteiro no meio, muitos quilômetros.
- (D) ... observei a chegada de um cachorro pequeno.
- (E) Contra tudo, naquele mar de gente e máquinas barulhentas.

05. No trecho do 2º parágrafo – ... olhou **para** um lado e **para** o outro...–, os termos destacados estabelecem sentido de

- (A) finalidade.
- (B) causa.
- (C) assunto.
- (D) direção.
- (E) origem.

06. Assinale a alternativa em que o termo entre parênteses substitui, sem alterar o sentido do texto, o termo destacado.

- (A) Imprimia toda a velocidade que seu pequeno porte **possibilitava**. (impedia)
- (B) Eu ia em uma mão, o trânsito **fluindo** lento, mas andando. (desfazendo)
- (C) Não havia razão para **poupar** o fôlego... (esbanjar)
- (D) ... e ele se desviando das pessoas que tentavam **detê-lo**... (soltá-lo)
- (E) Ele **apontou** na esquina, olhou para um lado e para o outro... (apareceu)

07. No trecho, – ... e ele se desviando das pessoas **que** tentavam detê-lo... –, o termo em destaque pode ser substituído, considerando a mesma relação de sentido estabelecida no texto, por:

- (A) as quais.
- (B) nas quais.
- (C) nos quais.
- (D) o qual.
- (E) no qual.

08. Nos trechos das alternativas, o termo que indica circunstância de afirmação é:

- (A) ... o cachorro começou a correr **rapidamente**.
- (B) **Não** sei se alguém o chamou...
- (C) Nada **mais** era certo: a vasilha com comida...
- (D) E **certamente** ele não sabia.
- (E) Eu ia em uma mão, o trânsito fluindo **lento**...

09. No trecho do 2º parágrafo – Escolheu a contramão, **ou seja**, fomos na mesma direção. –, as palavras destacadas estabelecem sentido de

- (A) condição.
- (B) explicação.
- (C) conclusão.
- (D) oposição.
- (E) causa.

10. O verbo destacado está no tempo futuro em:

- (A) A decisão **veio** rápida como um raio.
- (B) Nada mais **é** certo.
- (C) Em determinado momento **resolveria** se livrar das pessoas.
- (D) Não **há** razão para poupar o fôlego.
- (E) Pelo que **podia** observar, ele não estava se poupando.

11. A pontuação está de acordo com a norma-padrão da língua portuguesa em:

- (A) O cachorro, estava sem rumo, sem lógica, sem sentido e com muita pressa.
- (B) A vasilha do cachorro, com comida e a hora de dar o passeio, nada mais, era certo.
- (C) O cachorro, olhou para um lado e para o outro, parecia ansioso em tomar uma decisão.
- (D) Em determinado, momento, o cachorro resolveu se livrar, das pessoas e das ruas transversais.
- (E) O cachorro, aos olhos do narrador, parecia perdido.

12. O cachorro corria _____ para escapar das pessoas que tentavam _____.

Assinale a alternativa que preenche as lacunas, correta e respectivamente, considerando o uso da norma-padrão da língua portuguesa.

- (A) ... às pressas ... alcançá-lo
- (B) ... às pressas ... lhe alcançar
- (C) ... as pressas ... alcançar-te
- (D) ... às pressas ... alcançar-lhe
- (E) ... as pressas ... alcançar-lhe

Leia o cartum para responder às questões de números 13 a 15.



(www.diariodesantamaria.clicrbs.com.br. Acesso em: 15 set. 2017)

13. A comparação feita no cartum se evidencia

- (A) na comparação dos seres humanos aos cães de diferentes raças.
- (B) na diferenciação do tratamento dado a um cão de rua e a um cão de raça.
- (C) no fato de muitos cães serem vítimas de maus-tratos pelos próprios donos.
- (D) na insatisfação do cão que está no pet shop, apesar dos cuidados que recebe.
- (E) na pequena diferença que tem a vida de um cão de rua e a de um que tem dono.

14. No cartum, a expressão – Mundo cão depende do mundo de cada cão – significa que
- (A) os donos de cães precisam oferecer cuidados para seus animais sobreviverem.
 - (B) o bem-estar dos cães se dá pela satisfação das necessidades físicas.
 - (C) os donos de cães devem garantir todas as necessidades de seus animais.
 - (D) os cães adotados têm tratamentos diferentes dos cães de rua, porque estes vivem em situação de abandono.
 - (E) os maus-tratos dos animais acontecem devido à situação financeira de seus donos.
15. No cartum, a frase – Cães vítimas de **maus-tratos** –, a expressão destacada apresenta o mesmo sentido de
- (A) piedade.
 - (B) bondade.
 - (C) clemência.
 - (D) paciência.
 - (E) crueldade.

MATEMÁTICA

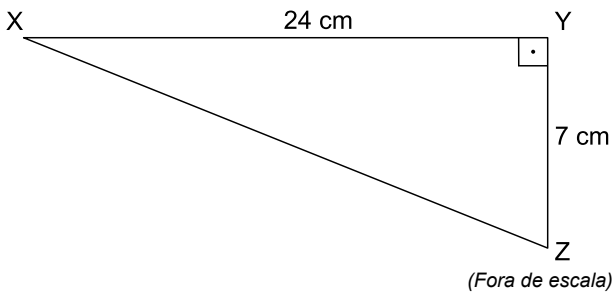
16. Numa prova de matemática, um grupo de alunos obteve nota 4,0, um outro grupo obteve nota 6,0 e alguns alunos obtiveram nota 7,0. É correto afirmar que a nota média desses alunos nessa prova foi
- (A) menor que 4,0.
 - (B) igual a 4,0.
 - (C) maior que 4,0 e menor que 7,0.
 - (D) igual a 7,0.
 - (E) maior que 7,0.
17. Um motorista precisa percorrer uma distância de 9 km. Após percorrer 2 250 m, a fração do trajeto que falta para concluir esse percurso total corresponde a:
- (A) $\frac{1}{6}$
 - (B) $\frac{1}{5}$
 - (C) $\frac{1}{4}$
 - (D) $\frac{3}{4}$
 - (E) $\frac{9}{10}$

18. Num grupo de natação infantil há 35 crianças, sendo o número de meninos igual a $\frac{2}{5}$ do número de meninas. O número de meninas, nesse grupo de natação, é superior ao número de meninos em
- (A) 7.
(B) 9.
(C) 11.
(D) 14.
(E) 15.
19. Uma pessoa comprou uma barra de chocolate e comeu $\frac{1}{5}$ dessa barra ontem. Hoje ela comeu metade do que sobrou da barra. A fração total em relação ao que ela já comeu da barra é:
- (A) $\frac{4}{5}$
(B) $\frac{3}{5}$
(C) $\frac{2}{5}$
(D) $\frac{2}{7}$
(E) $\frac{1}{7}$
20. Thiago está com dois relógios defeituosos. Um deles, a cada 10 minutos, adianta 1 segundo, o outro, a cada 5 minutos, atrasa 2 segundos. Ele acertou os dois relógios, simultaneamente, e, 12 horas depois, notou que a diferença entre eles era de
- (A) 72s.
(B) 3min 36s.
(C) 4min 48s.
(D) 6min.
(E) 6min 30s.
21. Devido ao grande estoque de um tipo de celular, uma empresa abaixou o preço em 10%. Como essa medida, não surtiu o efeito desejado, a empresa reduziu 6% do preço já remarcado. Essas duas remarcações equivalem, do preço original, a uma redução de:
- (A) 14,2%
(B) 15,4%
(C) 16,5%
(D) 17,6%
(E) 18,8%

22. Num cruzamento entre duas avenidas, o fluxo de automóveis, na hora de tráfego intenso, é de, aproximadamente, 25 automóveis por minuto, seja norte/sul ou leste/oeste a cada abertura de sinal, que é de um minuto para cada sentido. Com a ajuda de uma equipe de trânsito, o fluxo passou a ser de, aproximadamente, 30 automóveis por minuto. Então, com essa ajuda, por uma hora, o número de automóveis que passaram a mais nesse fluxo foi de
- (A) 300.
 - (B) 325.
 - (C) 350.
 - (D) 375.
 - (E) 400.
23. Uma empresa de segurança utilizou 1000 m de arame para instalar, com 5 fiadas desse arame, uma cerca elétrica sobre um muro que contorna totalmente um terreno quadrado. A área desse terreno, assim cercado, em m^2 , é de
- (A) 250.
 - (B) 2500.
 - (C) 6250.
 - (D) 40000.
 - (E) 62500.
24. Um Agente de Manutenção e Zeladoria sabe que são necessárias, aproximadamente, 27 telhas para cobrir $2 m^2$ de um telhado. Ele precisa comprar telhas suficientes para cobrir um telhado retangular de 8 m de largura por 12 m de comprimento. O número, aproximado, de telhas que ele precisa comprar é de
- (A) 200.
 - (B) 812.
 - (C) 1 000.
 - (D) 1296.
 - (E) 2712.
25. Um automóvel faz em média 8,5 km por litro de combustível e tem um tanque com capacidade de 50 L. Iniciando uma viagem com o tanque completamente cheio, após percorrer 170 km, o número de litros de combustível que ainda restam, nesse tanque, é
- (A) 41,5.
 - (B) 40.
 - (C) 38,5.
 - (D) 32,5.
 - (E) 30.

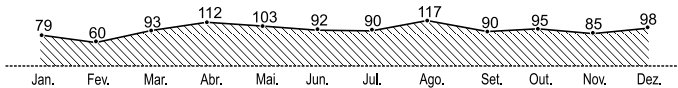
26. Fernanda revende calças e camisas. Ela pagou R\$ 390,00 por duas calças e três camisas do mesmo tipo. Comprando apenas uma dessas calças e quatro dessas camisas, ela paga R\$ 370,00. O preço, em reais, de uma calça supera o preço de uma camisa em
- (A) 20,00.
 (B) 25,00.
 (C) 30,00.
 (D) 35,00.
 (E) 40,00.

27. Arthur desenhou numa folha de papel o triângulo retângulo a seguir. Ele afirmou, corretamente, que a medida do segmento \overline{XY} mais a medida do segmento \overline{YZ} é igual à medida do segmento \overline{XZ} mais _____ cm.



Das alternativas a seguir, aquela que completa corretamente a afirmação de Arthur é:

- (A) 6
 (B) 5
 (C) 4
 (D) 3
 (E) 2
28. O gráfico a seguir representa os 1 114 acidentes de trânsito fatais em 2003, em São Paulo.



(G1.globo.com/SP)

Os meses em que houve maior diferença entre o número de acidentes são

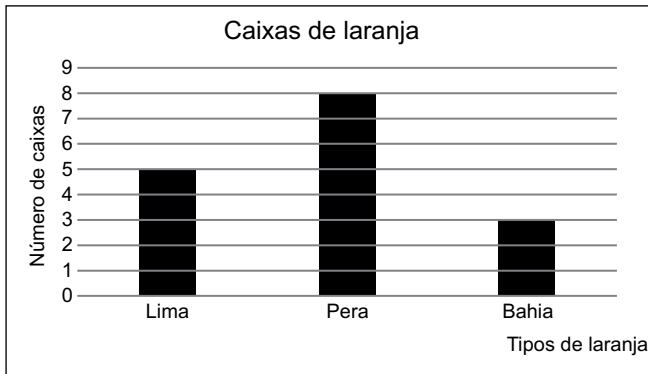
- (A) novembro e dezembro.
 (B) setembro e outubro.
 (C) julho e agosto.
 (D) março e abril.
 (E) fevereiro e março.

29. Um feirante comercializa três tipos de laranja.

A tabela a seguir mostra o preço de compra e venda da dúzia de laranja adquirida pelo feirante.

Tipo de Laranja	Preço de compra (a dúzia)	Preço de venda (a dúzia)
Lima	R\$ 4,00	R\$ 6,00
Pera	R\$ 3,00	R\$ 4,50
Bahia	R\$ 6,00	R\$ 9,00

O gráfico a seguir mostra o número de caixas de laranjas compradas e vendidas de cada tipo pelo feirante.



Sabendo-se que em cada caixa há 6 dúzias de laranjas, a diferença entre o que o feirante pagou pelas laranjas e o que ele recebeu com a venda de todas essas laranjas, em reais, foi de

- (A) 146,00.
- (B) 162,00.
- (C) 186,00.
- (D) 192,00.
- (E) 198,00.

30. Josias, Augusto e Luís nasceram em janeiro. Augusto nasceu dois anos depois de Josias, e Luís três anos depois de Augusto. Em janeiro de 2017, a soma das idades dos três resultou em 41 anos. É correto afirmar que Josias nasceu em janeiro de

- (A) 1999.
- (B) 2000.
- (C) 2001.
- (D) 2002.
- (E) 2003.

ATUALIDADES

31. No sábado [12 ago], um homem lançou seu carro contra um grupo de pessoas que protestava contra uma marcha de pessoas da extrema-direita nacionalista, que é contra negros, imigrantes, gays e judeus. Uma mulher de 32 anos morreu e 33 pessoas ficaram feridas.

(G1-goo.gl/LPqTH8. Acesso em 30.08.2017. Adaptado)

O fato ocorreu

- (A) no Canadá.
- (B) no México.
- (C) nos Estados Unidos.
- (D) no Reino Unido.
- (E) na França.

32. Leia a notícia de 10 de julho de 2017.

Para alguns analistas, o grupo autodenominado Estado Islâmico (EI) está com sérios problemas. Três anos depois de o grupo jihadista ter proclamado seu “califado” ele passa por uma drástica redução no número de combatentes.

(G1-goo.gl/LDqWFh. Acesso em 31.08.2017. Adaptado)

O Estado Islâmico parece estar enfraquecendo porque

- (A) algumas áreas sob sua influência na Síria e no Iraque foram perdidas.
- (B) a Alemanha promoveu vários ataques aéreos em suas fortificações.
- (C) muitos agentes terroristas que atuavam na Europa foram mortos.
- (D) os principais líderes do grupo foram presos em território francês.
- (E) a Rússia retirou o apoio econômico e militar que dava ao grupo.

33. As Farc completaram, nesta segunda-feira (26), a entrega de suas armas à missão da ONU, parte do acordo de paz para pôr fim a mais de meio século de conflito.

“No dia de hoje, a Missão armazenou o conjunto das armas individuais das Farc registradas: 7 132 armas, salvo aquelas que (...) servirão para dar segurança aos 26 acampamentos”, onde estão concentrados cerca de 7 000 guerrilheiros, afirmou a ONU em um comunicado.

(FSP-goo.gl/ZgJv2R. Acesso em 30.08.2017. Adaptado)

As Farc atuavam

- (A) na Venezuela.
- (B) na Colômbia.
- (C) no Peru.
- (D) no Equador.
- (E) na Bolívia.

34. Em 17 de agosto, pelo menos 13 pessoas morreram e 130 ficaram feridas após motorista, posteriormente, identificado e morto, avançar com van contra multidão em importante cidade turística da Europa.

(G1-goo.gl/7ttxd. Acesso em 31.08.2017. Adaptado)

O atentado ocorreu em

- (A) Paris – França.
- (B) Munique – Alemanha.
- (C) Cambridge – Reino Unido.
- (D) Barcelona – Espanha.
- (E) Bruxelas – Bélgica.

35. Leia a notícia publicada em 23 abril de 2017.

Mergulhado em caos econômico, político e social, o estado tenta entender como chegou à maior crise de sua história. O rombo do estado neste ano é resultado de uma combinação que inclui recessão econômica, retração nas atividades da indústria do petróleo, queda da arrecadação e deficit previdenciário. A Federação das Indústrias prevê que, mesmo com o plano de recuperação fiscal, o estado voltará a arrecadar mais do que gasta somente em 2029. Apenas em 2038, o estado será capaz de pagar, integralmente, os juros e a amortização da dívida com a União.

(Estadão-goo.gl/Ur92yx. Acesso em 30.08.2017. Adaptado)

A notícia mostra a situação econômica e social

- (A) do Rio de Janeiro.
- (B) de Minas Gerais.
- (C) do Paraná.
- (D) do Rio Grande do Sul.
- (E) de Alagoas.

36. O Brasil deixou de avançar no IDH (Índice de Desenvolvimento Humano), mantendo o mesmo indicador e mesma posição no ranking global se comparado ao ano anterior. Entre 188 países avaliados, o relatório das Nações Unidas, divulgado nesta terça-feira (21 março), coloca o Brasil na posição 79^a. Essa é a primeira interrupção no crescimento do IDH brasileiro desde 2004.

(FSP-goo.gl/BM79P2. Acesso em 30.08.2017. Adaptado)

Um dos principais motivos para a ausência de crescimento do Brasil foi

- (A) a diminuição da expectativa de vida.
- (B) o aumento do número de analfabetos.
- (C) o fechamento de escolas de educação infantil.
- (D) o aumento da taxa de natalidade.
- (E) a queda na renda da população.

37. A morte de dez pessoas, dia 24 de maio deste ano, em uma operação policial em Pau D'Arco, no Pará, não pode cair no esquecimento nem ficar impune. O pedido foi feito por lideranças sociais que acompanham o caso e parentes das vítimas, durante ato público na noite desta quarta-feira (5), na sede regional da Ordem dos Advogados do Brasil (OAB), no Rio de Janeiro.

(Isto é – goo.gl/iYHnMr. Acesso em 01.09.2017)

No que diz respeito à notícia, é correto afirmar que os mortos eram

- (A) ameaçados por traficantes que operavam no interior do Pará.
- (B) camponeses em uma área de ocupação de terras.
- (C) madeireiros que buscavam autorização para explorar a floresta.
- (D) testemunhas de uma chacina ocorrida nos arredores de Belém.
- (E) desempregados que faziam manifestação em Belo Monte.

38. A morte do cantor e compositor foi recebida com surpresa e comoção. Autor de clássicos da música popular brasileira como *Medo de Avião*, *Como nossos pais* e *Apenas um rapaz latino-americano*, o cearense viveu recluso nos últimos quatro anos onde foi encontrado sem vida na madrugada deste domingo (30 de abril).

(Zero Hora – goo.gl/PNi11i. Acesso em 01.09.2017. Adaptado)

A notícia informa a morte de

- (A) Jerry Adriani.
- (B) Nelson Xavier.
- (C) Luís Melodia.
- (D) Belchior.
- (E) Paulo Silvino.

39. O Banco Central ressalta que a manutenção das condições econômicas até este momento [26 de julho], a despeito do aumento de incerteza quanto ao ritmo de implementação de reformas e ajustes na economia, permitiu a manutenção do ritmo de flexibilização nessa reunião.

(IG-goo.gl/szeuBn. Acesso em 01.09.2017. Adaptado)

A flexibilização, destacada na notícia, refere-se

- (A) ao aumento das importações de manufaturados.
- (B) ao controle sobre a emissão de papel moeda.
- (C) à diminuição das alíquotas do imposto de renda.
- (D) ao perdão sobre dívidas fiscais das empresas.
- (E) à redução da taxa básica dos juros.

40. A missão de paz brasileira termina oficialmente na quinta-feira, dia 31 de agosto. A partir de sexta-feira, nossos militares não poderão deixar a base para patrulhar as ruas. O que o Brasil fará com os quase 37 mil homens e mulheres treinados para o trabalho de polícia? O governo federal tem interesse em enviar a tropa para África, mas especialistas alertam que as crises política e econômica e as eleições de 2018 podem atrasar esse planejamento.

(CBN-goo.gl/3Ydt8U. Acesso em 30.08.2017. Adaptado)

A missão de paz brasileira encerrou seu trabalho

- (A) em Cuba.
- (B) na Colômbia.
- (C) no Haiti.
- (D) na Venezuela.
- (E) no Panamá.

