



# PREFEITURA MUNICIPAL DE BOA VIAGEM

**CONCURSO PÚBLICO A FIM DE PROVER  
CARGOS EFETIVOS PARA O MUNICÍPIO**

**EDITAL Nº. 001 / 2015**



## PROVA OBJETIVA – NÍVEL SUPERIOR

### CARGO

# MÉDICO ANESTESISTA

### INSTRUÇÕES

1. Desligue o telefone celular e o coloque, juntamente com seus outros pertences, dentro do saco plástico fornecido pela fiscalização, embaixo da carteira.
2. Deixe sobre a carteira APENAS caneta de material transparente, lápis, borracha e documento de identidade. Não serão permitidos empréstimo e troca de material entre os candidatos durante a prova.
3. Anote na capa deste Caderno de Questões o seu nome, em letra de forma, e o número da sala. Ao terminar a prova, se quiser, poderá copiar o gabarito no espaço reservado e, ao sair, receberá do fiscal a parte inferior destacada.
4. Antes de iniciar a resolução das questões, verifique se o Caderno de Questões está completo. Qualquer reclamação deverá ser feita nos primeiros 10 (dez) minutos após iniciada a prova. A duração da prova é de 3 (três) horas. O tempo mínimo de permanência do candidato na sala será de 01(uma) hora.
5. Ao receber a Folha-Resposta, confira os seus dados. Havendo necessidade de correção de algum dado, chame o fiscal para anotar a correção no Formulário de Correção de Dados Cadastrais.
6. Para marcar a resposta de uma questão, preencha, totalmente com caneta, apenas a quadrícula correspondente à opção que considere correta. Não use corretivo nem rasure sua Folha-Resposta, pois não haverá substituição da mesma.
7. Não se esqueça de assinar a Lista de Frequência e a Folha-Resposta, no campo destinado à assinatura.
8. É recomendável reservar 20 (vinte) minutos para o preenchimento da Folha-Resposta.
9. A desobediência a qualquer destas determinações e o desrespeito ao pessoal da coordenação e fiscalização constituem faltas que eliminam o candidato do concurso.
10. Ao final da prova, entregue este Caderno de Questões e sua Folha-Resposta.

Boa prova!

Boa Viagem, 12 de abril de 2015

**COLOQUE, DE IMEDIATO, O SEU NOME E O NÚMERO DE SUA SALA NOS ESPAÇOS ABAIXO:**

NOME	SALA
------	------

COPIE, A SEGUIR, O SEU GABARITO. PODE LEVÁ-LO.

01	02	03	04	05	06	07	08	09	10	11	12	13	14	15	16	17	18	19	20
21	22	23	24	25	26	27	28	29	30	31	32	33	34	35	36	37	38	39	40

LINGUA PORTUGUESA - SUPERIOR  
QUALIDADE DE VIDA NO TRABALHO: UMA OPÇÃO INTELIGENTE

01 O homem, nas últimas décadas do século XX e no nascedouro deste, recebeu e continua tendo singular atenção  
02 no ambiente de trabalho e nos estudos desenvolvidos nas Universidades e Órgãos de apoio às atividades empresariais.  
03 Não é por acaso que isto ocorreu e prossegue em evidência. Afinal, nas organizações de qualquer natureza, “ainda”  
04 quem pensa e gera melhorias para a eficiência e a eficácia é o homem.

05 A partir dos anos 20 do século passado, foram iniciados nos Estados Unidos, estudos sobre o comportamento  
06 humano, especialmente no que se refere à investigação dos fatores que contribuíam para satisfação das pessoas no  
07 ambiente de trabalho. No período pós-guerra, cientistas sociais como Maslow, Mayo, Lewin e Herzberg, entre outros,  
08 desenvolveram inúmeras pesquisas objetivando identificar os contornos do comportamento humano que favorecem as  
09 relações interpessoais e, posteriormente, nas organizações.

10 Nos anos 40 do século anterior, pesquisadores do “Tavistock Institute of Human Relation”, de Londres, sob a  
11 orientação do Professor Eric Trist, desenvolveram estudos em organizações que extraíam carvão em Durhan, Inglaterra,  
12 acerca da otimização do trabalho, através do equilíbrio entre os setores técnicos e sociais. Nascia assim, o sistema  
13 sócio-técnico, o qual visualiza a organização como um sistema onde os aspectos sociais e técnicos devam funcionar  
14 concomitantemente e sintonizados, em busca da satisfação do trabalhador e do sucesso dos negócios.

15 Paralelamente ao surgimento do sistema sócio-técnico, ocorreu a difusão dos conceitos de Gestão da Qualidade  
16 Total, ambos se contrapondo, em grande parte, ao método taylorista de gestão, não aceitando que o trabalhador  
17 continuasse sendo visualizado como um acessório da máquina. A qualidade total, genericamente, buscava a melhoria  
18 dos produtos e serviços que viessem atender às necessidades dos clientes. Como consequências desses movimentos, o  
19 homem começou a ganhar destaque no ambiente de trabalho. Somente a remuneração já não satisfazia suas  
20 necessidades. Buscou-se, desde então, a criação de um ambiente organizacional onde prevalecesse um clima que  
21 estimulasse uma relação interpessoal aberta, franca, criativa e reconhecadora de sua condição humana.

22 Em função desses novos argumentos de gestão corporativa, o ambiente organizacional começa a ser  
23 redesenhado de modo que a qualidade de vida das pessoas no trabalho passou a ter o merecido destaque. Afinal, as  
24 pessoas são o maior patrimônio das organizações e merecem desempenhar suas funções num ambiente onde possa  
25 ocorrer a conciliação do desenvolvimento tecnológico com o desenvolvimento humano. Isto tem sido um magnânimo  
26 desafio. O desenvolvimento humano não ocorre na mesma intensidade em que vem ocorrendo o desenvolvimento  
27 tecnológico. O que podemos esperar disso? Todos temos consciência deste quadro, mas o que estamos fazendo para  
28 alterá-lo?

29 Como profissionais atuantes no ambiente tecnológico, onde a racionalidade muitas vezes não leva em  
30 consideração a condição subjetiva do homem, no seu planejamento, tem-se investigado no Programa de Engenharia de  
31 Produção da UFRN, como evitar esta omissão de maneira a sinalizar a importância que se deve destacar ao homem em  
32 todo e qualquer processo produtivo. Ele é quem planeja, executa, analisa e corrige as ações necessárias para as  
33 transformações requeridas pelo cenário competitivo desejado. Mas para isto, ele terá que ter também um ambiente de  
34 trabalho que lhe favoreça.

35 Este ambiente pode ser traduzido por qualidade de vida no trabalho. Esta qualidade de vida não deve ser  
36 resumida às condições ambientais favoráveis. Elas são parte, mas não o todo. Segundo Huse e Cummings, qualidade de  
37 vida no trabalho pode ser definida hoje como sendo “uma forma de pensamento envolvendo pessoas, trabalho e  
38 organização, onde se destacam: a preocupação com o bem estar do trabalhador e com a eficácia organizacional e a  
39 participação dos trabalhadores nas decisões e problemas do trabalho”.

40 Por esta definição, verifica-se a amplitude do conceito e a nossa responsabilidade em gerenciá-lo no cotidiano.  
41 As organizações, nas suas diversas naturezas legais, devem mostrar que são capazes de serem engenhosas nesta área  
42 do conhecimento. Devem propiciar ao homem as condições que favoreçam a sua condição humana, visando promovê-lo  
43 simultaneamente como profissional e como pessoa. Já está na hora das organizações promoverem, no seu ambiente de  
44 trabalho, o desenvolvimento de atividades que representem na prática a qualidade de vida das pessoas e que lhe  
45 permitam conquistar mercados num mundo tão competitivo.

Disponível em <http://www.abqv.com.br/artigos/Content.aspx?id=57>

**01**

Depois da leitura do texto, pode-se inferir que a qualidade de vida no trabalho é uma opção inteligente, porque:

- (A) é um processo que envolve mútuas responsabilidades e que trará benefícios à empresa e ao trabalhador;
- (B) ao valorizar o trabalhador, a eficiência da empresa fica independente das ideias desse trabalhador;
- (C) pela lei, os benefícios estarão assegurados e as empresas terão poucos casos na Justiça do Trabalho;
- (D) contemporaneamente, as empresas precisam-se modernizar com a tecnologia adquirida pelo trabalhador.

**02**

Embora o “método taylorista de gestão” (linha 16) não apareça definido, pode-se inferir, pelo texto, que tal método:

- (A) não valorizava o trabalhador;
- (B) era gerido por um grupo de trabalho;
- (C) buscava a eficácia profissional;
- (D) baseava-se no cenário competitivo.

**03**

Pela leitura do texto, pode-se asseverar que a preocupação com o homem em seu ambiente do trabalho:

- (A) sempre foi motivo de pesquisas, haja vista o fato de que toda empresa depende do homem para a melhor produção;
- (B) ocorreu após a Revolução Industrial, porque tudo tinha que ser produzido em maior quantidade;
- (C) firmou-se no século XXI, já que leis mais protetoras foram criadas para garantir a segurança no trabalho;
- (D) recebeu atenção especial no final do século XX, afinal, a eficiência no trabalho só depende do homem.

**04**

Pode-se afirmar, pela leitura do texto, que a “qualidade total” (linha 17) introduziu um novo conceito de:

- (A) gestão, gerenciamento e melhoria na qualidade de vida do trabalhador;
- (B) produtividade, que atendesse ao cliente, e, ao mesmo tempo, valorização dos recursos humanos;
- (C) empresa economicamente sustentável, que levava em consideração a gestão dos recursos humanos;
- (D) qualidade de vida do trabalhador e gerenciamento sustentável das indústrias mecanizadas.

**05**

Substituindo todas as letras da palavra “técnico” (linha 13) pelo símbolo ♣, sua correta separação silábica seria:

- (A) ♣♣-♣♣♣-♣♣;
- (B) ♣♣♣-♣-♣♣♣;
- (C) ♣♣♣-♣♣♣♣;
- (D) ♣♣-♣♣♣-♣♣♣.

**06**

Pode-se asseverar que o termo “paralelamente” (linha 15) introduz a ideia de:

- (A) proporcionalidade;
- (B) temporalidade;
- (C) competitividade;
- (D) sobreposição.

**07**

O termo “somente” (linha 19) pode ser substituído, sem que haja mudança de sentido, por:

- (A) apenas;
- (B) mormente;
- (C) principalmente;
- (D) ademais.

**08**

De acordo com a leitura do texto, pode-se concluir que:

- (A) o desenvolvimento humano ocorre com a mesma intensidade do desenvolvimento tecnológico, porque a tecnologia possibilita isso, e a consciência empresarial, hoje, é diferente da década passada;
- (B) o desenvolvimento humano não ocorre com a mesma intensidade do desenvolvimento tecnológico, e o grande desafio, hoje, é minimizar tal diferença, ou seja, pensar mais na relação homem-empresa-trabalho;
- (C) o desenvolvimento humano ocorre na mesma intensidade do desenvolvimento tecnológico, porque muitas pesquisas já foram realizadas, e o homem está com muitos direitos que, até então, lhe foram negados;
- (D) o desenvolvimento humano não ocorre na mesma intensidade em que vem ocorrendo o desenvolvimento tecnológico, em razão, principalmente, do atraso tecnológico e da falta de conscientização da população.

**09**

O termo “afinal” (linha 23) expressa uma ideia de:

- (A) início de uma sugestão;
- (B) continuidade de uma circunstância;
- (C) consequência de um fato anterior;
- (D) término de algo.

**10**

O referencial de “Devem propiciar” (linha 42) é:

- (A) eles;
- (B) as condições;
- (C) as coordenações;
- (D) elas.

#### CONHECIMENTOS GERAIS - SUPERIOR

**11**

O mito de origem do Município de Boa Viagem se dá com o romance de Antônio Domingues Alvares e Agostinha Sanches de Carvalho que fugiram das terras do Piauí para casar. Com medo dos jagunços do pai, Agostinha pede proteção a uma santa e lhe promete como devoção fundar um povoado onde chegasse. Eles partiram a cavalo que acabou morrendo de exaustão nas terras cearenses. Assim, o casal cumpre a promessa, funda o povoado e a santa vira a padroeira da cidade. A santa é:

- (A) Santa Terezinha;
- (B) Nossa Senhora da Boa Viagem;
- (C) Nossa Senhora dos Milagres;
- (D) Nossa Senhora Desatadora dos Nós.

**12**

O Município de Boa Viagem, inicialmente, foi distrito de Quixeramobim. Ao ser elevada à categoria de Vila, ao longo do tempo, foram anexados os seus 13 distritos. Dois deles pertencem a Boa Viagem desde a emancipação política no século XIX. Eram eles os distritos de Olinda e Socorro que atualmente são:

- (A) Jacampari e Ibuçu;
- (B) Águas Belas e Domingos da Costa;
- (C) Jacampari e Águas Belas;
- (D) Ibuçu e Domingos da Costa.

**13**

A economia de Boa Viagem atualmente se baseia em comércio e serviços que atende às demais cidades do entorno. A agricultura permanece, pois o Município, nos anos 1980, já esteve entre os dez maiores produtores de:

- (A) milho;
- (B) caju;
- (C) algodão;
- (D) arroz.

**14**

No último mês de 2014, o mundo ocidental teve uma surpresa ao ver uma reaproximação entre Estados Unidos e Cuba. A reaproximação dos dois presidentes, Barack Obama e Raúl Castro, reacendeu a esperança de ver Cuba livre do embargo econômico sancionado pelos Estados Unidos desde 1962. O fim do embargo e o retorno do comércio com Cuba põe fim definitivamente no último resquício da:

- (A) Guerra Fria;
- (B) Revolução Cubana;
- (C) Socialismo;
- (D) Revolução Russa.

**15**

Em janeiro desse ano, o mundo presenciou estarecido o assassinato de 12 pessoas, que faziam parte do jornal satírico francês Charlie Hebdo, por um grupo de muçulmanos em protesto contra um número do jornal que fazia uma piada com Maomé, líder dos muçulmanos. Esse lamentável episódio levou os franceses a reforçar os ideais da Revolução francesa "Liberdade, Fraternidade e Igualdade". Os chefes de Estado e a população saíram em passeata para protestar contra o terrorismo. Os assassinatos levaram os meios intelectuais e jornalísticos, de várias partes do mundo, a protestar criando um jargão:

- (A) Je suis Charlie;
- (B) Liberté;
- (C) Je suis liberté;
- (D) Charlie!

**16**

A medida prevista pelo Conselho Nacional de Trânsito (CONTRAN) desde 2009 obriga a inclusão de itens de segurança em todos os carros zero quilômetro, fabricados em 2014. Desde 2010, as indústrias automobilísticas se ajustam para aderir à medida que agora se torna definitivamente obrigatória. O impacto na sociedade se dá pelo aumento dos veículos com esses itens de segurança e o fim de modelos que não têm como aderir à nova regra, como a Kombi e o Gol G4 (antiga geração) e o popular Fiat Mille (antigo UNO). Os itens são:

- (A) air-bag e ar-condicionado;
- (B) cinto de segurança e freios ABS;
- (C) GPS e air-bag duplo;
- (D) freios ABS e air-bag duplo.

**17**

A chamada Operação Lava Jato, deflagrada pela Polícia federal em março de 2014, é considerada uma das maiores investigações sobre corrupção dos últimos anos, por se tratar de um esquema de "lavagem" de dinheiro e evasão de divisas, que movimentou cerca de 10 bilhões de reais. A Petrobras está no centro das investigações por pagamento de propina a políticos e executivos de empresas que firmaram contrato com a petroleira. Os "clientes" do esquema são acusados de:

- (A) corrupção passiva, tráfico de influências e desvio de recursos públicos;
- (B) tráfico internacional de drogas, contrabando de pedras preciosas e desvio de recursos públicos;
- (C) formação de quadrilha, corrupção passiva e tráfico de influências;
- (D) desvio de recursos públicos, formação de quadrilha e contrabando de pedras preciosas.

**18**

A Argentina, mais uma vez, entra para a história como país dos "calotes". Em julho de 2014, em uma reunião com os fundos credores, o mediador dos Estados Unidos anunciou que a Argentina não tinha "alcançado nenhuma das condições para negociação" levando a mais um "calote". Os chamados fundos são formados por uma minoria de credores que não aceitaram a renegociação da dívida proposta pelo país após o "Calote" de 2001. Entraram na justiça dos EUA exigindo receber de forma integral o que a Argentina lhes deve. Eles são chamados de:

- (A) FMI;
- (B) fundos gananciosos;
- (C) fundos abutres;
- (D) abutres gananciosos.

**19**

O ano de 2014 foi conturbado, com muitos desafios políticos e perdas por mortes lamentáveis. Uma delas é do colombiano Gabriel García Márquez, considerado uns dos maiores escritores do século XX e um dos mais renomados autores latinos da história. Sua obra mais conhecida é:

- (A) *O Amor no tempo do Cólera*;
- (B) *Crônica de uma morte anunciada*;
- (C) *Memórias de minhas putas tristes*;
- (D) *Cem anos de solidão*.

**20**

"A extrema-esquerda vence as eleições na Grécia", diz a notícia na revista Carta Capital, de janeiro deste ano. A Grécia, que passa por uma dura crise econômica desde 2010, com alto índice de desemprego e redução de salário, elegeu um partido de esquerda, que promete tirar o País da recessão, negociar a dívida mas, acima de tudo, melhorar a condição de vida dos gregos. Esse fato não foi bem-visto pelos chefes de Estado europeus, que temem perder dinheiro. É uma eleição histórica para os europeus porque, pela primeira vez, um partido pode enfrentar:

- (A) a crise econômica;
- (B) a austeridade da União Europeia;
- (C) fazer reformas de base;
- (D) a elite grega.

MÉDICO ANESTESISTA

21

Sabendo que, após a administração intravenosa, o início de ação de um bloqueador neuromuscular é inversamente relacionado a sua potência, qual dos bloqueadores neuromusculares abaixo relacionados é o **MENOS** potente?

- (A) Rocurônio.
- (B) Mivacúrio.
- (C) Vecurônio.
- (D) Cistracúrio.

22

Jovem de 32 anos, sem comorbidades prévias ou alergias, há oito meses, apresenta-se paraplégico após acidente com motocicleta. No momento, está no Centro Cirúrgico para realização de cirurgia urológica. Qual dos bloqueadores neuromuscular abaixo relacionados devo evitar neste paciente?

- (A) Atracúrio.
- (B) Rocurônio.
- (C) Pancurônio.
- (D) Succinilcolina.

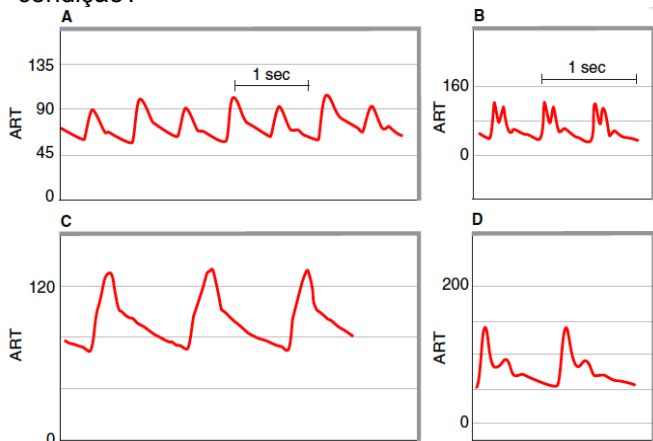
23

Qual dos anestésicos inalatórios abaixo descritos tem potencial epileptogênico ?

- (A) Isoflurano.
- (B) Enflurano.
- (C) Sevoflurano.
- (D) Desflurano.

24

Os gráficos a seguir representam ondas de pulso arterial patológicas em monitoração de pressão arterial invasiva. O gráfico B é representativo e está associado a que condição?



- (A) Estese aórtica de natureza grave.
- (B) Regurgitação aórtica de natureza grave.
- (C) Cardiomiopatia obstrutiva hipertrófica.
- (D) Depressão ventricular esquerda grave.

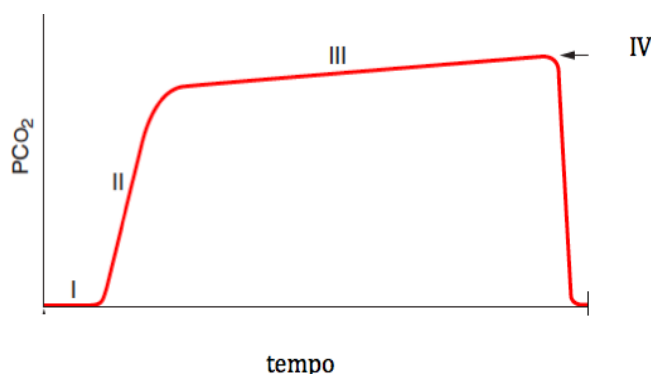
25

Você está diante de um paciente de 28 anos, sem comorbidades prévias, criticamente enfermo, apresentando sepse abdominal, intubado, em ventilação mecânica, hipotenso, taquicárdico; você procede a monitoração invasiva com medição da pressão arterial média (PAM) e pressão venosa central. Você realiza reposição volêmica até PAM = 65mmHg. Solicita gasometria venosa central e observa StvO<sub>2</sub> = 58%; a gasometria arterial fornece valor de saturação de oxigênio = 85%. Qual deve ser o próximo passo na terapêutica desse paciente?

- (A) Medir débito cardíaco.
- (B) Administrar agentes inotrópicos.
- (C) Infundir concentrado de hemácias.
- (D) Aumentar oxigenação pulmonar e otimizar PEEP.

26

A fase IV no traçado de capnometria a seguir ilustrado representa:



- (A) platô alveolar;
- (B) final da exalação;
- (C) espaço morto anatômico;
- (D) transição do espaço morto anatômico para o platô alveolar.

27

Na Sala de Recuperação Pós-Anestésica encontra-se há quatro horas um paciente de 74 anos, previamente hígido, submetido a ressecção transuretral de próstata. Está sonolento e sua dosagem de sódio sérico é 127mEq/L. Qual a conduta recomendada para este paciente?

- (A) Restrição hídrica, 500 a 1.000mL/dia.
- (B) Furosemida 40 a 80mg intravenosa.
- (C) Solução salina hipertônica.
- (D) Flumazenil intravenoso.

28

Você recebe um paciente no Centro Cirúrgico para cirurgia de emergência. Realiza exame de gasometria arterial, que mostra os seguintes resultados: pH = 7,28; PCO<sub>2</sub> = 31mmHg; Excesso ou Déficit de Base = ( - 10). Qual o diagnóstico deste paciente?

- (A) Acidose respiratória aguda.
- (B) Acidose metabólica aguda.
- (C) Alcalose respiratória aguda.
- (D) Alcalose metabólica aguda.

**29**

Senhora de 68 anos, hipertensa e ex-tabagista, é candidata à revascularização de membro inferior. Comparece para avaliação pré-anestésica, faz uso de atenolol para controle da pressão arterial. O eletrocardiograma mostra ritmo sinusal com sobrecarga ventricular esquerda. Relata que fazia caminhadas de 3km todos os dias até surgirem os sintomas de claudicação, que tiveram início há quatro meses. Em casa, faz as tarefas domiciliares normalmente. Ante o exposto, qual a conduta recomendada para esta paciente?

- (A) Suspender o atenolol uma semana antes da cirurgia.
- (B) Liberar para cirurgia de revascularização do membro.
- (C) Indicar realização de cintilografia miocárdica.
- (D) Considerar realização de cateterismo cardíaco.

**30**

Você está realizando uma anestesia para retirada de tumor cerebral em um homem de 35 anos. Ao abrir a calota craniana, o neurocirurgião informa que há sinais de hipertensão intracraniana. O capnógrafo do paciente marca  $ETCO_2 = 65\text{mmHg}$ , a  $FiO_2$  ofertada é 40%; a pressão arterial média é 80mmHg. Qual a conduta mais efetiva e rápida com objetivo de reduzir a pressão intracraniana?

- (A) Elevar a pressão arterial média para 100mmHg.
- (B) Aumentar a fração inspirada de oxigênio para 100%.
- (C) Promover elevação da cabeceira do paciente a 45 graus.
- (D) Otimizar a ventilação mecânica, mantendo  $ETCO_2$  35-40mmHg.

**31**

Numa cirurgia bucomaxilofacial para correção de fratura de mandíbula em que o paciente apresenta limitada abertura da boca e distância tireoimento de 5cm, optou-se por pré-oxigenar, induzir a anestesia geral e usar bloqueador neuromuscular de curta duração de ação; houve dificuldade de ventilar o paciente com máscara facial; a intubação orotraqueal foi sem êxito após três tentativas; tentou-se usar máscara laríngea, porém não se conseguiu alocá-la satisfatoriamente. No momento, o paciente expressa saturação de 40%. Qual o próximo passo, visando a estabelecer a via aérea do paciente?

- (A) Realizar cricotireoidostomia.
- (B) Solicitar o broncofibroscópio.
- (C) Tentar intubação nasotraqueal.
- (D) Pedir para cirurgião fazer traqueostomia.

**32**

Em gestantes, o principal motivo que leva à indicação de anestesia regional em detrimento da anestesia geral para parto cesárea é o risco aumentado de:

- (A) depressão fetal;
- (B) hipotensão uterina;
- (C) manejo da via aérea;
- (D) hipotensão materna.

**33**

Joana, 16 anos, 36 semanas de gestação, apresenta pré-eclampsia. Está internada para resolução da gestação. Faz uso de hidralazina e nifedipina e, no momento, recebe hidratação e sulfato de magnésico. Registra pressão arterial 160x80mmHg. Exames: plaquetas 110.000/mm<sup>3</sup>; TAP e TTPA normais. O obstetra indicou cesárea. Qual o tipo de procedimento anestésico mais indicado para esta paciente?

- (A) Anestesia geral.
- (B) Anestesia peridural contínua.
- (C) Raquianestesia.
- (D) Anestesia combinada raqui e peridural.

**34**

Paciente de 45 anos está se submetendo a cirurgia de correção de hérnia de hiato esofágico via laparoscopia. Estava correndo tudo bem, quando, no meio do procedimento, o paciente passou a indicar pressão arterial 70x40mmHg, e frequência cardíaca 125bpm;  $ETCO_2$  não se altera, porém surge enfisema subcutâneo, especialmente do pescoço e face. Diante do exposto, qual a principal hipótese diagnóstica?

- (A) Intubação seletiva.
- (B) Embolia aérea pulmonar.
- (C) Pneumotórax e/ou pneumomediastino.
- (D) Aumento da pressão intra-abdominal por  $CO_2$ .

**35**

Paciente 68 anos, portador de doença pulmonar obstrutiva crônica, necessita realizar broncoscopia sob sedação. Qual dos anestésicos venosos, na sequência relacionado, **MENOS** deprime o sistema respiratório desse paciente?

- (A) Propofol.
- (B) Tiopental.
- (C) Etomidato.
- (D) Midazolam.

**36**

Ao realizar anestesia peridural em uma mulher de 55kg, imediatamente após injeção de 20ml de bupivacaína a 0,5%, ela passou a relatar dormência na língua, alterações visuais, seguidos de espasmos musculares e inconsciência. Qual o próximo sinal e sintoma esperado em virtude deste evento adverso?

- (A) Coma.
- (B) Convulsão.
- (C) Parada respiratória.
- (D) Depressão cardiovascular.

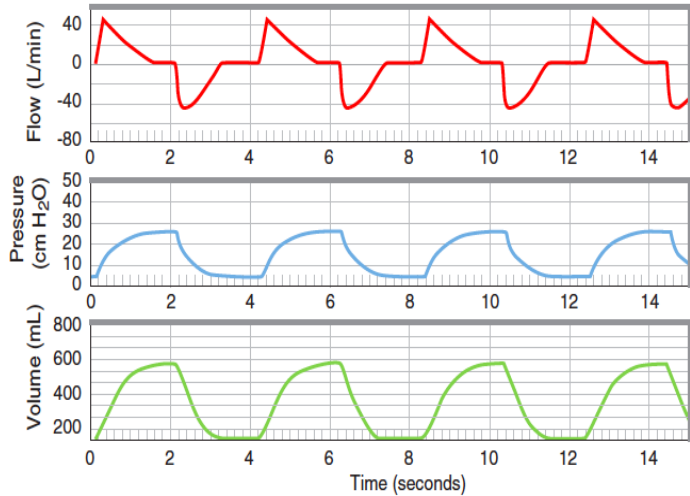
**37**

Qual o agente anestésico adjuvante indicado para uso em procedimentos anestésicos ambulatoriais do tipo raquianestesia, que tem a característica de aumentar a analgesia, sem promover depressão respiratória, não apresentar prurido ou náuseas?

- (A) Clonidina.
- (B) Morfina.
- (C) Cetamina.
- (D) Prostigmine.

38

Na Unidade de Terapia Intensiva Pós-operatória, você vai avaliar uma paciente que necessita de cirurgia. Esta expressa insuficiência respiratória e está em ventilação mecânica. A tela de monitoração do ventilador mostra os traçados dos desenhos da sequência.



Qual o tipo de assistência ventilatória mecânica o referido paciente está recebendo?

- (A) Pressão-suporte.
- (B) Controlada a fluxo.
- (C) Controlada a pressão.
- (D) Assistido controlada a volume.

39

Um paciente com lesão pulmonar aguda, em desmame da ventilação mecânica, denota estabilidade hemodinâmica, sem uso de vasopressores; apresenta esforço respiratório espontâneo. Qual outro critério a seguir assinalado deve haver para se conduzir a evolução deste paciente para respiração espontânea?

- (A)  $PaO_2/FiO_2 > 200\text{mmHg}$ .
- (B)  $PEEP < 8\text{cm H}_2\text{O}$ .
- (C)  $FiO_2 > 0,6\%$ .
- (D)  $pH > 7,35$ .

40

No intraoperatório de uma cirurgia de prótese de quadril, com o paciente sob anestesia geral, observa-se fibrilação ventricular ao cardioscópio após colocação do cimento ósseo (metilmetacrilato), seguido de ausência de pulso observado à oximetria de pulso. Qual a conduta imediata no caso deste quadro?

- (A) Desfibrilação elétrica 200J bifásico.
- (B) Infusão de 1.000mL de soro fisiológico rápido.
- (C) Administração intravenosa de 1mg de adrenalina.
- (D) Administração intravenosa de 150mg de amiodarona.