



M0680014N

Concurso Público

REF. EDITAL N° 03

NÍVEL SUPERIOR - MANHÃ

Cargo
FISIOTERAPEUTA - RESPIRATÓRIA

Nome do Candidato _____

Inscrição _____

ATENÇÃO

O Caderno de questões possui 50 (cinquenta) questões objetivas, numeradas sequencialmente, de acordo com o exposto no quadro a seguir:

| MATÉRIA | QUESTÕES |
|--------------------------------|----------|
| Língua Portuguesa | 01 a 10 |
| Raciocínio Lógico e Matemático | 11 a 15 |
| Legislação Aplicada à EBSERH | 16 a 20 |
| Legislação Aplicada ao SUS | 21 a 25 |
| Conhecimentos Específicos | 26 a 50 |


INSTRUÇÕES

1. Na sua Folha de Respostas, confira seu nome, o número do seu documento e o número de sua inscrição. Além disso, não se esqueça de conferir seu Caderno de Questões quanto a falhas de impressão e de numeração, e se o cargo corresponde àquele para o qual você se inscreveu. Preencha os campos destinados à assinatura e ao número de inscrição. Qualquer divergência comunique ao fiscal.
2. O único documento válido para avaliação da prova é a Folha de Respostas. Só é permitido o uso de caneta esferográfica **transparente** de cor azul ou preta para o preenchimento da Folha de Respostas, que deve ser realizado da seguinte maneira: ■
3. O prazo de realização da prova é de 4 (quatro) horas, incluindo a marcação da Folha de Respostas. Após 60 (sessenta) minutos do início da prova, o candidato estará liberado para utilizar o sanitário ou deixar definitivamente o local de aplicação. A retirada da sala de prova dos 3 (três) últimos candidatos só ocorrerá conjuntamente.
4. Ao término de sua prova, comunique ao fiscal, devolvendo-lhe a Folha de Respostas devidamente preenchida e assinada. O candidato poderá levar consigo o Caderno de Questões, desde que aguarde em sala o término da aplicação.
5. As provas e os gabaritos preliminares estarão disponíveis no site do Instituto AOCP - www.institutoaocp.org.br - no dia posterior à aplicação da prova.
6. Implicará na eliminação do candidato, caso, durante a realização das provas, qualquer equipamento eletrônico venha emitir ruídos, mesmo que devidamente acondicionado no **envelope de guarda de pertences**. O NÃO cumprimento a qualquer uma das determinações constantes em Edital, no presente Caderno ou na Folha de Respostas, incorrerá na eliminação do candidato.

------(destaque aqui)-----

FOLHA PARA ANOTAÇÃO DAS RESPOSTAS DO CANDIDATO

| | | | | | | | | | | | | | | | | | | | | | | | | | | |
|----------------|----|----|----|----|----|----|----|----|----|----|----|----|----|----|----|----|----|----|----|----|----|----|----|----|----|--|
| Questão | 01 | 02 | 03 | 04 | 05 | 06 | 07 | 08 | 09 | 10 | 11 | 12 | 13 | 14 | 15 | 16 | 17 | 18 | 19 | 20 | 21 | 22 | 23 | 24 | 25 | |
| Resp. | | | | | | | | | | | | | | | | | | | | | | | | | | |

| | | | | | | | | | | | | | | | | | | | | | | | | | | |
|----------------|----|----|----|----|----|----|----|----|----|----|----|----|----|----|----|----|----|----|----|----|----|----|----|----|----|--|
| Questão | 26 | 27 | 28 | 29 | 30 | 31 | 32 | 33 | 34 | 35 | 36 | 37 | 38 | 39 | 40 | 41 | 42 | 43 | 44 | 45 | 46 | 47 | 48 | 49 | 50 | |
| Resp. | | | | | | | | | | | | | | | | | | | | | | | | | | |

O gabarito oficial preliminar e o caderno de questões da prova objetiva estarão disponíveis no endereço eletrônico www.institutoaocp.org.br no dia seguinte à aplicação da prova.

Unesco: mundo precisará mudar consumo para garantir abastecimento de água

20/03/15

Relatório da Organização das Nações Unidas para a Educação, a Ciência e a Cultura (Unesco) mostra que há no mundo água suficiente para suprir as necessidades de crescimento do consumo, “mas não sem uma mudança dramática no uso, gerenciamento e compartilhamento”. Segundo o documento, a crise global de água é de governança, muito mais do que de disponibilidade do recurso, e um padrão de consumo mundial sustentável ainda está distante.

De acordo com a organização, nas últimas décadas o consumo de água cresceu duas vezes mais do que a população e a estimativa é que a demanda cresça ainda 55% até 2050. Mantendo os atuais padrões de consumo, em 2030 o mundo enfrentará um déficit no abastecimento de água de 40%. Os dados estão no *Relatório Mundial das Nações Unidas sobre o Desenvolvimento de Recursos Hídricos 2015 – Água para um Mundo Sustentável*.

O relatório atribui a vários fatores a possível falta de água, entre eles, a intensa urbanização, as práticas agrícolas inadequadas e a poluição, que prejudica a oferta de água limpa no mundo. A organização estima que 20% dos aquíferos estejam explorados acima de sua capacidade. Os aquíferos, que concentram água no subterrâneo e abastecem nascentes e rios, são responsáveis atualmente por fornecer água potável à metade da população mundial e é de onde provêm 43% da água usada na irrigação.

Os desafios futuros serão muitos. O crescimento da população está estimado em 80 milhões de pessoas por ano, com estimativa de chegar a 9,1 bilhões em 2050, sendo 6,3 bilhões em áreas urbanas. A agricultura deverá produzir 60% a mais no mundo e 100% a mais nos países em desenvolvimento até 2050. A demanda por água na indústria manufatureira deverá quadruplicar no período de 2000 a 2050.

Segundo a oficial de Ciências Naturais da Unesco na Itália, Angela Ortigara, integrante do Programa Mundial de Avaliação da Água (cuja sigla em inglês é WWAP) e que participou da elaboração do relatório, a intenção do documento é alertar os governos para que incentivem o consumo sustentável e evitem uma grave crise de abastecimento no futuro. “Uma das questões que os países já estão se esforçando para melhorar é a governança da água. É importante melhorar a transparência nas decisões e também tomar medidas de maneira integrada com os diferentes setores que utilizam a água. A população deve sentir que faz parte da solução.”

Cada país enfrenta uma situação específica. De maneira geral, a Unesco recomenda mudanças na administração pública, no investimento em infraestrutura e em educação. “Grande parte dos problemas que os países enfrentam, além de passar por governança e infraestrutura, passa por padrões de consumo, que só a longo prazo conseguiremos mudar, e a educação é a ferramenta para isso”, diz o

coordenador de Ciências Naturais da Unesco no Brasil, Ary Mergulhão.

No Brasil, a preocupação com a falta de água ganhou destaque com a crise hídrica no Sudeste. Antes disso, o país já enfrentava problemas de abastecimento, por exemplo no Nordeste. Ary Mergulhão diz que o Brasil tem reserva de água importante, mas deve investir em um diagnóstico para saber como está em termos de política de consumo, atenção à população e planejamento. “É um trabalho contínuo. Não quer dizer que o país que tem mais ou menos recursos pode relaxar. Todos têm que se preocupar com a situação.”

O relatório será mundialmente lançado hoje (20) em Nova Délhi, na Índia, antes do Dia Mundial da Água (22). O documento foi escrito pelo WWAP e produzido em colaboração com as 31 agências do sistema das Nações Unidas e 37 parceiros internacionais da ONU-Água. A intenção é que a questão hídrica seja um dos Objetivos de Desenvolvimento Sustentável, que vêm sendo discutidos desde 2013, seguindo orientação da Conferência Rio+20 e que deverão nortear as atividades de cooperação internacional nos próximos 15 anos.

Texto adaptado - Fonte: http://afolhasaocarlos.com.br/noticias/ver_noticia/5215/controler:noticias

QUESTÃO 01

Assinale a alternativa que trata da temática do texto.

- (A) Cantareira: uma preocupação mundial, apesar de os níveis de água terem aumentado nos últimos meses.
- (B) Preocupação com a falta de água futura no mundo e mudanças para o consumo sustentável.
- (C) Aquecimento global e discussões para a preservação do Meio ambiente.
- (D) Falta de água no Nordeste e Sudeste do Brasil.
- (E) Educação como chave para um mundo melhor.

QUESTÃO 02

De acordo com o texto, é possível afirmar que

- (A) a preocupação a respeito da crise futura deve ser maior em alguns países, ou seja, nem todos precisam se preocupar com a situação.
- (B) com a produção agrícola crescendo no Brasil todas as crises, principalmente a financeira, diminuem.
- (C) a questão hídrica é a que menos preocupa entre os Objetivos de Desenvolvimento Sustentável, pois o volume de água potável de nossos aquíferos se manterá ainda que a população cresça.
- (D) o sistema de irrigação e as práticas agrícolas que temos hoje contribuem para o consumo sustentável de água.
- (E) para o consumo sustentável é preciso haver mudanças na administração pública, no investimento em infraestrutura e em educação.

QUESTÃO 03

Em “O relatório atribui a vários fatores a possível falta de água, entre eles, a intensa urbanização, as práticas agrícolas inadequadas e a poluição, **que** prejudica a oferta de água limpa no mundo”, o termo em destaque tem a função de retomar o termo antecedente, como o “que” em

- (A) “...o consumo de água cresceu duas vezes mais do que a população”.
- (B) “A organização estima que 20% dos aquíferos estejam explorados acima de sua capacidade.”.
- (C) “Os aquíferos, que concentram água no subterrâneo e abastecem nascentes e rios, são responsáveis atualmente por fornecer água potável à metade da população mundial...”.
- (D) “Ary Mergulhão diz que o Brasil tem reserva de água importante...”.
- (E) “...a intenção do documento é alertar os governos para que incentivem o consumo sustentável...”.

QUESTÃO 04

Em qual das alternativas a seguir seria possível trocar a conjunção “e” em destaque pela conjunção “mas” e, dessa forma, dar ênfase à ação da oração ou termo subsequente?

- (A) “Os aquíferos, que concentram água no subterrâneo e abastecem nascentes e rios, são responsáveis atualmente por fornecer água potável à metade da população mundial”.
- (B) “...entre eles, a intensa urbanização, as práticas agrícolas inadequadas e a poluição, que prejudica a oferta de água limpa no mundo”.
- (C) “...há no mundo água suficiente para suprir as necessidades de crescimento do consumo, ‘mas não sem uma mudança dramática no uso, gerenciamento e compartilhamento”.
- (D) “É importante melhorar a transparência nas decisões e também tomar medidas de maneira integrada com os diferentes setores que utilizam a água.”.
- (E) “Relatório da Organização das Nações Unidas para a Educação, a Ciência e a Cultura (Unesco)...”.

QUESTÃO 05

Assinale a alternativa cuja palavra ou expressão em destaque NÃO tem a função de caracterizar o termo que o acompanha.

- (A) Mudança dramática.
- (B) Grave crise.
- (C) Últimas décadas.
- (D) Água potável.
- (E) Crescimento da população.

QUESTÃO 06

Assinale a alternativa correta quanto ao que se afirma referente a expressões retiradas do excerto a seguir. “O relatório atribui a vários fatores a possível falta de água”.

- (A) “vários fatores” – complementa o verbo, portanto, é o objeto direto.
- (B) “a possível falta de água” – complementa o verbo, portanto, é objeto indireto.
- (C) “de água” – acompanha um nome, portanto, é adjunto adnominal.
- (D) “O relatório” – é sujeito composto, pois está acompanhado do artigo “o”.
- (E) “atribui” – é verbo que está na 3ª conjugação, no singular, para concordar com o sujeito.

QUESTÃO 07

Assinale a alternativa correta quanto ao que se afirma a respeito das palavras em destaque no excerto a seguir.

“Os aquíferos, que **concentram** água no subterrâneo e **abastecem** nascentes e rios, **são** responsáveis atualmente por fornecer água potável à metade da população mundial...”.

- (A) São verbos conjugados no tempo presente do indicativo e se encontram no plural para concordar com “Os aquíferos”.
- (B) Os verbos “concentram” e “abastecem” se encontram no pretérito do indicativo e têm, respectivamente, os seguintes sujeitos pospostos: água, nascentes e rios.
- (C) O verbo “são” se encontra no plural para concordar com o sujeito “nascentes e rios”.
- (D) O verbo “são” tem como objeto direto o que segue: “responsáveis atualmente por fornecer água potável à metade da população mundial”.
- (E) São verbos conjugados no presente do subjuntivo e remetem ao sujeito “água potável”.

QUESTÃO 08

Qual das palavras a seguir NÃO apresenta dígrafo?

- (A) Prazo.
- (B) Crescimento.
- (C) Grande.
- (D) Ferramenta.
- (E) Questões.

QUESTÃO 09

Assinale a alternativa que apresenta Período Composto.

- (A) “O relatório será mundialmente lançado hoje (20) em Nova Délhi, na Índia, antes do Dia Mundial da Água (22)”.
- (B) “O relatório atribui a vários fatores a possível falta de água, entre eles, a intensa urbanização, as práticas agrícolas inadequadas e a poluição”.
- (C) “No Brasil, a preocupação com a falta de água ganhou destaque com a crise hídrica no Sudeste”.
- (D) “Ary Mergulhão diz que o Brasil tem reserva de água importante”.
- (E) “Os desafios futuros serão muitos”.

QUESTÃO 10

Em "...(Unesco) mostra que há no mundo água suficiente para suprir as necessidades de crescimento do consumo, 'mas não sem uma mudança dramática no uso...'", o termo em destaque expressa

- (A) finalidade.
- (B) conclusão.
- (C) contraste.
- (D) adição.
- (E) justificativa.

RACIOCÍNIO LÓGICO E MATEMÁTICO

QUESTÃO 11

João é A. Se todo A é B e todo B é C, então

- (A) nenhum A é C.
- (B) algum C é A.
- (C) nenhum C é A.
- (D) todo B é A.
- (E) todo C é B.

QUESTÃO 12

A terça parte da quinta parte da metade da décima parte de um número é 300. Então esse número é

- (A) 1.
- (B) 1000.
- (C) 90000.
- (D) 3840.
- (E) 4900.

QUESTÃO 13

Considere a sequência numérica a seguir, na qual omitimos dois elementos:

(0, 1, 4, ?, , 16, 25, ?, , 49, 64)

Supondo que seja mantida a regra que determina cada um dos elementos da sequência, a razão entre o maior e o menor dos números omitidos é

- (A) 4.
- (B) 9.
- (C) 11.
- (D) 36.
- (E) 15.

QUESTÃO 14

Amauri e sua esposa trabalham juntos em sua loja. Para atrair mais clientes, combinaram que, a cada compra, o consumidor receberia um desconto de 20%. Em certa oportunidade, após uma confusão entre os dois, Amauri deu o desconto de 20% sobre o preço P da etiqueta. Ao chegar ao caixa,

a esposa de Amauri deu 20% de desconto sobre o preço promocional (já descontado por Amauri). O cliente, desatento, pagou R\$ 256 e foi embora. Qual era o preço P registrado na etiqueta?

- (A) R\$ 163,84
- (B) R\$ 204,80
- (C) R\$ 320,00
- (D) R\$ 400,00
- (E) R\$ 250,00

QUESTÃO 15

A negação da proposição "Todo rato raspa o rabo" é

- (A) "nenhum rato raspa o rabo".
- (B) "se tem rabo raspado, então é rato".
- (C) "algum rato não raspa o rabo".
- (D) "se não raspa o rabo, então não é rato".
- (E) "todo rato tem rabo".

LEGISLAÇÃO APLICADA À EBSERH

QUESTÃO 16

O órgão superior da EBSERH é o Conselho de Administração, composto por nove membros nomeados pelo Ministro de Estado da Educação. O prazo de gestão desses membros será de

- (A) três anos, contados a partir da data de publicação do ato de nomeação, podendo ser reconduzidos por igual período.
- (B) dois anos, contados a partir da data de publicação do ato de nomeação, sem a possibilidade de recondução por igual período.
- (C) um ano, contados a partir da data de publicação do ato de nomeação, podendo ser reconduzidos por igual período.
- (D) dois anos, contado a partir da data de publicação do ato de nomeação, podendo ser reconduzido por igual período.
- (E) três anos, contados a partir da data de publicação do ato de nomeação, sem a possibilidade de recondução por igual período.

QUESTÃO 17**Qual é a finalidade da EBSEERH?**

- (A) Prestação de serviços gratuitos de assistência médico-hospitalar, ambulatorial e de apoio diagnóstico e terapêutico à comunidade, assim como a prestação às instituições públicas federais de ensino ou instituições congêneres de serviços de apoio ao ensino, à pesquisa e à extensão, ao ensino-aprendizagem e à formação de pessoas no campo da saúde pública.
- (B) Prestação de serviços gratuitos de assistência médico-hospitalar, ambulatorial e de apoio diagnóstico e terapêutico à comunidade, assim como a prestação às instituições privadas de ensino ou instituições congêneres de serviços de apoio ao ensino, à pesquisa e à extensão, ao ensino-aprendizagem e à formação de pessoas no campo da saúde pública.
- (C) Prestação de serviços gratuitos de assistência médico-hospitalar, ambulatorial e de apoio diagnóstico e terapêutico à comunidade, assim como a prestação às instituições públicas municipais de ensino ou instituições congêneres de serviços de apoio ao ensino, à pesquisa e à extensão, ao ensino-aprendizagem e à formação de pessoas no campo da saúde pública.
- (D) Prestar serviços de apoio ao processo de gestão dos hospitais municipais e federais e a outras instituições congêneres, com implementação de sistema de gestão único com geração de indicadores quantitativos e qualitativos para o estabelecimento de metas.
- (E) Ressarcimento das despesas com o atendimento de consumidores e respectivos dependentes de planos públicos de assistência à saúde.

QUESTÃO 18**Os membros do Conselho de Administração, salvo impedimento legal, farão jus a**

- (A) honorários trimestrais correspondentes a dez por cento da remuneração média mensal dos Diretores da EBSEERH, além do reembolso obrigatório das despesas de locomoção e estada necessárias ao desempenho da função.
- (B) honorários mensais correspondentes a dez por cento da remuneração média mensal dos Diretores da EBSEERH, além do reembolso obrigatório das despesas de locomoção e estada necessárias ao desempenho da função.
- (C) salário mensal correspondente a vinte por cento da remuneração média mensal dos Diretores da EBSEERH, além do reembolso obrigatório das despesas de locomoção e estada necessárias ao desempenho da função.
- (D) salários mensais correspondentes a dez por cento da remuneração média mensal dos Diretores da EBSEERH, além do reembolso facultativo das despesas de locomoção e estada, ficando esse vinculado à comprovação de sua necessidade.
- (E) honorários mensais correspondentes a vinte por cento da remuneração média mensal dos Diretores da EBSEERH, além do reembolso obrigatório das despesas de locomoção e estada necessárias ao desempenho da função.

QUESTÃO 19**Quanto à organização interna da EBSEERH, é correto afirmar que**

- (A) a estrutura organizacional da EBSEERH, compreendendo a Sede, as Filiais e unidades centralizadas, será estabelecida no organograma funcional aprovado pelo Conselho de Administração, assim como o Plano de Cargos, Carreiras e Salários; o Plano de Benefícios; e o Plano de Cargos em Comissão e de Funções Gratificadas.
- (B) será estabelecida no organograma funcional aprovado pelo Conselho de Administração, assim como o Plano de Cargos, Carreiras e Salários; o Plano de Benefícios; e o Plano de Cargos em Comissão e de Funções Gratificadas, compreendendo apenas as unidades centralizadas.
- (C) a estrutura organizacional da EBSEERH, compreendendo a Sede, as Filiais e unidades descentralizadas, será estabelecida no organograma funcional aprovado pelo Conselho de Administração, assim como o Plano de Cargos, Carreiras e Salários; o Plano de Benefícios; e o Plano de Cargos em Comissão e de Funções Gratificadas.
- (D) as alterações na estrutura organizacional hierárquica e funcional, bem como as respectivas mudanças na distribuição de competências, nunca deverão ser submetidas à aprovação do Conselho de Administração.
- (E) após aprovação pelo Conselho de Administração os Planos serão submetidos à aprovação do Ministério do Planejamento, Orçamento e Gestão e à subsequente homologação do Ministério Público Estadual.

QUESTÃO 20**O Conselho Fiscal, como órgão permanente da EBSEERH, compõe-se de três membros efetivos e respectivos suplentes, nomeados pelo Ministro de Estado da Educação, sendo:**

- (A) um membro indicado pelo Ministro de Estado da Justiça, que exercerá a sua presidência, um membro indicado pelo Ministro da Fazenda como representante do Tesouro Nacional e um membro indicado pelo Ministro da Saúde.
- (B) um membro indicado pelo Ministro de Estado da Educação, que exercerá a sua presidência, um membro indicado pelo Ministro de Estado da Saúde e um membro indicado pelo Ministro do Trabalho e Emprego.
- (C) um membro indicado pelo Ministro de Estado da Saúde, que exercerá a sua presidência, um membro indicado pelo Ministro de Estado da Fazenda como representante do Tesouro Nacional e um membro indicado pelo Ministro da Justiça.
- (D) um membro indicado pelo Ministro de Estado da Educação, que exercerá a sua presidência, um membro indicado pelo Ministro de Estado da Saúde e um membro indicado pelo Ministro de Estado da Fazenda como representante do Tesouro Nacional.

- (E) um membro indicado pelo Estado da Fazenda, que exercerá a sua presidência, um membro indicado pelo Ministro da Saúde e um membro indicado pelo Ministro do Trabalho e Emprego.

LEGISLAÇÃO APLICADA AO SUS

QUESTÃO 21

De acordo com o Decreto nº 7.508 de 28/06/2011, considera-se Região de Saúde

- (A) o espaço geográfico contínuo constituído por agrupamentos de Municípios limítrofes, delimitado a partir de identidades culturais, econômicas e sociais e de redes de comunicação e infraestrutura de transportes compartilhados, com a finalidade de integrar a organização, o planejamento e a execução de ações e serviços de saúde.
- (B) o espaço geográfico contínuo constituído por agrupamentos de Municípios limítrofes, delimitado a partir de identidades culturais, econômicas e sociais e de redes de comunicação e infraestrutura de transportes compartilhados, com a finalidade de interagir entre os Estados, Municípios e a União.
- (C) todo o território Nacional, sem delimitação de identidades culturais, econômicas e sociais e de redes de comunicação e infraestrutura de transportes compartilhados.
- (D) o espaço geográfico contínuo constituído por agrupamentos de Municípios limítrofes, delimitado a partir de identidades culturais, econômicas e sociais e de redes de comunicação e infraestrutura de transportes compartilhados, com a finalidade de integrar a organização, o planejamento e a execução de ações e serviços administrativos.
- (E) o espaço geográfico contínuo constituído por agrupamentos de Municípios limítrofes, sem delimitação de identidades culturais, econômicas e sociais e de redes de comunicação e infraestrutura de transportes compartilhados, com a finalidade de integrar a organização, o planejamento e a execução de ações e serviços financeiros.

QUESTÃO 22

A direção do Sistema Único de Saúde (SUS) é única, sendo exercida em cada esfera de governo pelos seguintes órgãos:

- (A) no âmbito da União, pelo Ministério da Previdência, no âmbito dos Estados e do Distrito Federal, pela respectiva Secretaria de Saúde ou órgão equivalente e, no âmbito dos Municípios, pela respectiva Secretaria de Saúde ou órgão equivalente.
- (B) no âmbito da União, pelo Ministério da Saúde, no âmbito dos Estados e do Distrito Federal, pela

respectiva Secretaria de Desenvolvimento e Cidadania ou órgão equivalente; e, no âmbito dos Municípios, pela respectiva Secretaria de Saúde ou órgão equivalente.

- (C) no âmbito da União, pelo Fundo Nacional de Saúde, no âmbito dos Estados e do Distrito Federal, pela respectiva Secretaria de Saúde ou órgão equivalente e no âmbito dos Municípios, pela respectiva Secretaria de Saúde ou órgão equivalente.
- (D) no âmbito da União, pelo Ministério da Saúde, no âmbito dos Estados e do Distrito Federal, pela respectiva Secretaria de Saúde ou órgão equivalente e, no âmbito dos Municípios, pela respectiva Secretaria de Saúde ou órgão equivalente.
- (E) no âmbito da União, pelo Ministério da Saúde, no âmbito dos Estados e do Distrito Federal, pela respectiva Secretaria de Saúde ou órgão equivalente e, no âmbito dos Municípios, pela respectiva Secretaria de Desenvolvimento e Cidadania ou órgão equivalente.

QUESTÃO 23

Quem poderia se beneficiar da assistência à saúde desenvolvida pelo INAMPS, antes da criação do SUS?

- (A) Apenas os trabalhadores informais, sem “carteira assinada”, e seus dependentes, ou seja, não tinha o caráter universal.
- (B) Todos os trabalhadores tanto da economia formal como os informais e seus dependentes, ou seja, tinha o caráter universal.
- (C) Apenas os funcionários públicos da União e seus dependentes, ou seja, não tinha o caráter universal.
- (D) Apenas os trabalhadores da economia formal, com “carteira assinada”, e seus dependentes, ou seja, não tinha o caráter universal.
- (E) A toda população indiscriminadamente, demonstrando assim o caráter universal da assistência.

QUESTÃO 24

Para ser instituída, a Região de Saúde deve conter, no mínimo, ações e serviços de

- (A) atenção primária, atenção psicossocial, atenção ambulatorial especializada e hospitalar e vigilância sanitária.
- (B) urgência e emergência, atenção psicossocial, vigilância sanitária e atenção ambulatorial especializada e hospitalar.
- (C) atenção primária, urgência e emergência, atenção epidemiológica, atenção ambulatorial especializada e hospitalar e vigilância em saúde.
- (D) vigilância sanitária, atenção primária, urgência e emergência, atenção psicossocial, atenção ambulatorial especializada e hospitalar.
- (E) atenção primária, urgência e emergência, atenção psicossocial, atenção ambulatorial especializada e hospitalar e vigilância em saúde.

QUESTÃO 25

O acesso universal e igualitário à assistência farmacêutica pressupõe, cumulativamente:

- (A) estar o usuário assistido por ações e serviços de saúde do SUS, ter o medicamento sido prescrito por profissional de saúde, no exercício regular de suas funções no SUS, estar a prescrição em conformidade com a RENAME e os Protocolos Clínicos e Diretrizes Terapêuticas ou com a relação específica complementar estadual, distrital ou municipal de medicamentos e ter a dispensação ocorrido em unidades indicadas pela direção do SUS.
- (B) estar a prescrição em conformidade com a RENAME e os Protocolos Clínicos e Diretrizes Terapêuticas ou com a relação específica complementar estadual, distrital ou municipal de medicamentos, porém devido ao acesso universal e igualitário os medicamentos poderão ser prescritos por todos e quaisquer médicos no exercício regular da profissão e atingindo a toda a população.
- (C) o usuário, devido ao acesso universal e igualitário, não necessita estar assistido por ações e serviços de saúde do SUS, porém o medicamento deverá ter sido prescrito por profissional de saúde, no exercício regular de suas funções no SUS, estar a prescrição em conformidade com a RENAME e os Protocolos Clínicos e Diretrizes Terapêuticas ou com a relação específica complementar estadual, distrital ou municipal de medicamentos e ter a dispensação ocorrido em unidades indicadas pela direção do SUS.
- (D) estar a prescrição em conformidade com a RENAME e os Protocolos Clínicos e Diretrizes Terapêuticas ou com a relação específica complementar apenas no âmbito distrital, de medicamentos e ter a dispensação ocorrido em unidades indicadas pela direção do SUS, devendo estar, o usuário, assistido por ações e serviços de saúde do SUS.
- (E) estar o usuário assistido por ações e serviços de saúde do SUS, porém, devido ao acesso universal e igualitário à assistência farmacêutica, a prescrição da medicação não necessita dos Protocolos Clínicos e seguir as Diretrizes Terapêuticas.

CONHECIMENTOS ESPECÍFICOS**QUESTÃO 26**

Assinale a alternativa em que o volume expiratório forçado (VEF) NÃO poderá estar reduzido.

- (A) Enfisema pulmonar.
- (B) Aspiração de corpo estranho.
- (C) Excesso de secreção.
- (D) Hipertrofia das glândulas mucosas.
- (E) Broncodilatação.

QUESTÃO 27

Paciente de 73 anos com diagnóstico de fibrose pulmonar apresenta em seu laudo espirométrico um distúrbio ventilatório restritivo. Assim, espera-se encontrar

- (A) aumento do FEF 25-75%.
- (B) aumento CVF.
- (C) aumento VEF_1/CVF .
- (D) aumento VEF_1 .
- (E) aumento pico de fluxo.

QUESTÃO 28

O enfisema centroacinar é caracterizado por

- (A) destruição limitada à parte central do lóbulo e aos ductos alveolares periféricos, sendo que os alvéolos são poupados.
- (B) parede da via aérea espessada no centro do ácino.
- (C) destruição de todo o lóbulo.
- (D) grandes áreas císticas ou bolhas.
- (E) obstrução parcial do lúmen por excesso de secreção alveolar.

QUESTÃO 29

Paciente, 56 anos, internada com queixa de dor abdominal. Na avaliação, observou-se que o paciente apresentava distensão do abdômen. Após 3 horas da admissão, iniciou com rebaixamento do nível de consciência e houve necessidade de intubação orotraqueal (IOT). Foi coletada uma gasometria arterial que apresentou-se com pH: 7,28, PCO_2 : 36 mmHg, PO_2 : 77 mmHg, HCO_3^- : 17 mEq/L. Assinale a alternativa com o laudo gasométrico correto.

- (A) Acidose respiratória descompensada.
- (B) Acidose metabólica descompensada.
- (C) Alcalose metabólica parcialmente compensada.
- (D) Acidose mista.
- (E) Acidose metabólica compensada.

QUESTÃO 30

Assinale a alternativa que **NÃO** apresenta um efeito da hipercapnia.

- (A) Aumento do fluxo cerebral.
- (B) Aumento da pressão líquórica.
- (C) Papiledema.
- (D) Vasoconstrição cerebral.
- (E) Narcose carbônica.

QUESTÃO 31

Entre as desvantagens da utilização das cânulas nasais, quando comparadas às máscaras de oxigenoterapia, encontra-se o fato de

- (A) apresentar uma tendência à retenção de CO_2 e consequente aumento PCO_2 .
- (B) apresentar impossibilidade de fala e alimentação.
- (C) apresentar imprevisibilidade da concentração de oxigênio inspirado.
- (D) serem mais desconfortáveis quando comparadas às máscaras.
- (E) atingirem uma concentração inspirada de oxigênio de, no máximo, 25%.

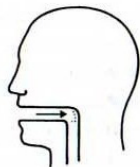
QUESTÃO 32

Assinale a alternativa que **NÃO** apresenta uma alteração fisiológica de uma hipoxemia grave.

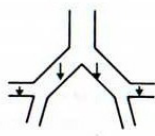
- (A) Hipotensão pulmonar.
- (B) Obnubilção da consciência.
- (C) Hemorragias retinianas.
- (D) Taquicardia.
- (E) Retenção de sódio e proteinúria.

QUESTÃO 33

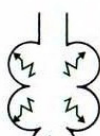
O termo aerossol se refere a uma série de partículas que permanecem no ar por um tempo substancial. Muitos poluentes se comportam dessa forma, e a sua deposição pulmonar depende basicamente do seu tamanho. Com base na figura a seguir, assinale a alternativa que apresenta o tamanho da partícula que tem a maior tendência à deposição nos respectivos mecanismos.



Mecanismo: Impactação



Sedimentação



Difusão

- (A) 1 a 5 μm ; 10 μm ; > 0,1 μm .
- (B) > 5 μm ; 1 a 5 μm ; < 0,1 μm .
- (C) 10 a 15 μm ; 5 μm ; 1 μm .
- (D) 0,5 μm ; 10 μm ; 15 μm .
- (E) < 5 μm ; 5 a 10 μm ; 15 μm .

QUESTÃO 34

Paciente chegou ao hospital relatando dispneia, dor ventilatório-dependente à esquerda, expansibilidade reduzida à esquerda, ausência de murmúrio vesicular e macicez à percussão. Pelo raio x de tórax observa-se hipotransparência em base esquerda, desvio do mediastino para lado oposto, com apagamento do seio costo-frênico e cúpula diafragmática. O provável diagnóstico deste paciente é

- (A) abscesso pulmonar.
- (B) asma brônquica.
- (C) atelectasia.
- (D) derrame pleural.
- (E) pneumotórax.

QUESTÃO 35

Paciente, 55 anos, operador de computador, relata ao fisioterapeuta que está apresentando períodos de ortopneia, mas que durante suas atividades laborais não apresenta nenhum sintoma. Normalmente, pacientes com esta queixa possuem

- (A) atelectasia.
- (B) abscesso pulmonar.
- (C) tuberculose.
- (D) cor-pulmonale.
- (E) disfunção ventricular esquerda com subsequente edema pulmonar cardiogênico.

QUESTÃO 36

Existem várias causas que podem aumentar o risco do aparecimento da PEEPi em um paciente. Assinale a alternativa que **NÃO** expõe o paciente ao risco do aparecimento da PEEPi.

- (A) Colapso dinâmico das vias aéreas.
- (B) Tempo expiratório curto.
- (C) Volume minuto elevado.
- (D) Aumento da complacência.
- (E) Diminuição da frequência respiratória.

QUESTÃO 37

Preencha as lacunas e assinale a alternativa correta.

A redistribuição da água extravascular é aceita como um efeito direto da PEEP. Essa redistribuição faz com que o espaço alvéolo-capilar _____, favorecendo a melhora da _____.

- (A) diminua / difusão de oxigênio
- (B) diminua / perfusão de oxigênio
- (C) aumente / relação V/Q
- (D) aumente / perfusão do CO_2
- (E) diminua / capilarização

QUESTÃO 38

O CPAP é bem utilizado na prevenção de transtornos respiratórios, contudo a sua utilização pode apresentar efeitos colaterais. Entre as alternativas, assinale a que NÃO representa um efeito colateral do CPAP.

- (A) Náuseas e vômitos.
- (B) Aumento da dispneia.
- (C) Diminuição do shunt.
- (D) Distensão abdominal.
- (E) Barotrauma.

QUESTÃO 39

Equipamento utilizado pelo fisioterapeuta que permite: “a frenagem do fluxo expiratório pela produção de curtas e sucessivas interrupções a sua passagem, permitindo, assim, uma repercussão oscilatória de alta frequência, a qual é transmitida à região traqueal e à árvore brônquica, fazendo que com isto ocorra o descolamento e o deslocamento das secreções traqueobrônquicas”.

O enunciado refere-se

- (A) à tapotagem.
- (B) a threshold-PEEP.
- (C) a shaiking.
- (D) a flutter.
- (E) à vibração.

QUESTÃO 40

Paciente, 33 anos, 60 kg, no 3ºPO de laparotomia exploratória, foi diagnosticado com atelectasia pelo raio x de tórax. O fisioterapeuta, após avaliação, selecionou o incentivador Triflo® e durante a terapia o paciente elevou a primeira esfera e a sustentou por 2 segundos em 2 séries de 10 repetições. Assinale a alternativa que referencia o volume mínimo inalado pelo paciente ao elevar a primeira esfera e sustentar por 2 segundos.

- (A) 600 cc.
- (B) 1200 cc.
- (C) 900 cc.
- (D) 800 cc.
- (E) 1800 cc.

Com base no relato de caso a seguir, responda as questões 41 e 42.

Paciente, 23 anos, 70 Kg, deu entrada no hospital pelo SAMU com diagnóstico de politraumatizado, estando em TOT 8,5, VCV, fluxo insp: 50 L/min, PEEP: 5 cmH₂O, FR: 14 rpm, FiO₂: 100%, estipulado um VC 6ml/Kg, realizando uma Ppico:35 cmH₂O, Pplatô: 30 cmH₂O.

QUESTÃO 41

O volume minuto que o referido paciente estará fazendo é

- (A) 6 L/min.
- (B) 7,2 L/min.
- (C) 5,2 L/min.
- (D) 8,5 L/min.
- (E) 5,8 L/min.

QUESTÃO 42

Ao monitorar a complacência estática deste paciente, observou-se que ela se apresenta em

- (A) 15,2.
- (B) 16,8.
- (C) 18,2.
- (D) 21,3.
- (E) 14,8.

QUESTÃO 43

Lactente, 3 meses, deu entrada no hospital com quadro de desconforto respiratório, sibilância generalizada, SpO₂ 82%, sendo necessário instalação da tenda O₂ de 12 litros, onde foi ajustado a 6 L/min de ar comprimido e 6 L/min de O₂. Assinale a alternativa que corresponde à fração de O₂ ajustada a este lactente.

- (A) 40%.
- (B) 53%.
- (C) 48%.
- (D) 60%.
- (E) 55%.

QUESTÃO 44

Assinale a alternativa correta.

- (A) O brônquio fonte esquerdo é mais vertical e mais alinhado com a traqueia, o que favorece com mais facilidade a penetração de vômitos e corpos estranhos ao pulmão.
- (B) Os bronquíolos são diferenciados dos brônquios pela sua grande quantidade de glândulas mucosas no interior de sua paredes.
- (C) As células do tipo II constituem a fonte de surfactante pulmonar e é o principal tipo celular envolvido no reparo do epitélio alveolar após a destruição do tipo I.
- (D) As paredes alveolares funcionam como uma barreira protetora, impedindo a passagem de bactérias e exsudatos entre os alvéolos.
- (E) Um ácino é composto pelos bronquíolos respiratórios e bronquíolos terminais.

QUESTÃO 45

Os ossos podem ser classificados levando em consideração a forma e a predominância de uma de suas dimensões sobre as demais. Assim, os ossos em que o comprimento e a largura predominam sobre a espessura, como o osso esterno, podem ser classificados como

- (A) planos ou laminares.
- (B) longos.
- (C) curtos.
- (D) irregulares.
- (E) sesamoide.

QUESTÃO 46

Assinale a alternativa que relaciona os músculos que participam da elevação das costelas durante a inspiração.

- (A) Intercostal externo, escalenos anterior/médio/posterior, levantador das costelas, subcostal, serrátil posterior superior.
- (B) Intercostal externo, transverso do tórax, serrátil posterior inferior.
- (C) Levantador das costelas, esternocleidomastoideo, intercostal interno.
- (D) Escalenos anterior/médio/posterior, intercostal interno, subcostal.
- (E) Oblíquo externo e interno, levantador das costelas, esternocleidomastoideo.

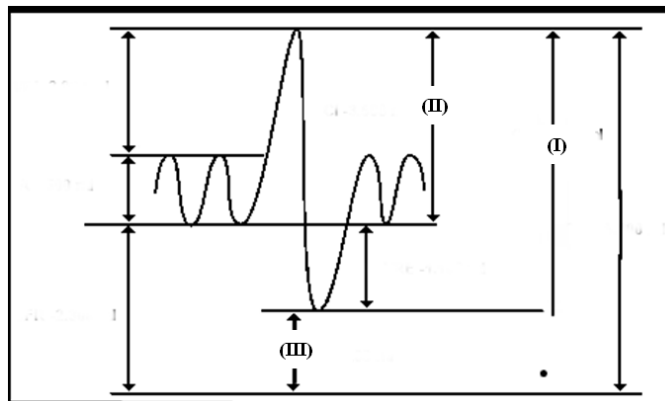
QUESTÃO 47

A pressão de oclusão da via aérea ($P_{0,1}$) é a pressão mensurada na abertura da via aérea 0,1 segundo após a inspiração contra a via aérea ocluída. Seu valor de normalidade para predição de sucesso no desmame é

- (A) 7 cmH₂O.
- (B) < 6 cmH₂O.
- (C) > 8 cmH₂O.
- (D) 10 cmH₂O.
- (E) 15 cmH₂O.

QUESTÃO 48

Observe a figura a seguir e assinale a alternativa que corresponda corretamente ao volume e/ou capacidade pulmonar com as respectivas numerações I, II e III.



- (A) Capacidade residual funcional; volume de reserva inspiratório; volume de reserva expiratório.
- (B) Capacidade pulmonar total; volume corrente; volume residual.
- (C) Capacidade vital; capacidade inspiratória; volume residual.
- (D) Capacidade vital forçada; capacidade inspiratória, volume de reserva expiratório.
- (E) Capacidade vital; volume corrente, capacidade residual funcional.

QUESTÃO 49

A utilização de altas pressões de oclusão da interface da VNI diminui os vazamentos, caso essa pressão exceda a pressão de perfusão capilar da pele, pode predispor

- (A) à assincronia entre paciente e ventilador.
- (B) ao auto-PEEP.
- (C) à retenção de CO₂.
- (D) à lesão isquêmica cutânea.
- (E) ao atraso de ciclagem.

QUESTÃO 50

A recomendação para a utilização da ventilação não invasiva (VNI), em pacientes com edema agudo cardiogênico, encontra-se em GRAU A. Entre seus mecanismos de ação NÃO está

- (A) aumento da CRF.
- (B) reabertura dos alvéolos colapsados.
- (C) aumento da complacência.
- (D) redução do trabalho respiratório.
- (E) diminuição da pressão intratorácica.

