



PREFEITURA MUNICIPAL DE SÃO BENEDITO – CE

CONCURSO PÚBLICO – EDITAL 001/2015

FISIOTERAPEUTA

NOME DO CANDIDATO: _____

RG: _____ ÓRGÃO EXPEDIDOR: _____

Nº DE INSCRIÇÃO

--	--	--	--	--	--	--	--	--	--

ASSINATURA: _____

LEIA COM ATENÇÃO E SIGA RIGOROSAMENTE ESTAS INSTRUÇÕES:

1. Este caderno contém 60 (sessenta) questões de múltipla escolha, numeradas de 01 a 60.
2. Cada uma das questões apresenta um enunciado seguido de 5 (cinco) alternativas, das quais somente uma deve ser assinalada.
3. Examine se a prova está completa, com a sequência numérica das questões, se há falhas ou imperfeições gráficas que causem dúvidas. Qualquer reclamação deverá ser feita durante os 20 minutos iniciais. Após esse tempo, qualquer reclamação será desconsiderada.
4. Depois de decorridas 2 (duas) horas do início da prova, será distribuído o cartão-resposta, o qual será o único documento válido para a correção da prova. Ao recebê-lo, verifique se seu nome e seu número de inscrição estão corretos. Reclame imediatamente se houver discrepância.
5. O cartão-resposta não pode ser dobrado, amassado, rasurado ou manchado. Exceto sua assinatura e inscrição, nada deve ser escrito ou registrado fora dos locais destinados às respostas. Tenha muita atenção ao marcar seu cartão-resposta, pois não haverá substituição por erro do candidato. Marque sua resposta pintando completamente o espaço correspondente à alternativa de sua opção.

Ex.: A ○ B ● C ○ D ○ E ○
6. A leitora de marcas não registrará as respostas em que houver falta de nitidez, uso de corretivo, marcação a lápis ou marcação de mais de uma letra. Não serão computadas questões não assinaladas.
7. Durante a prova, é proibido o intercâmbio e o empréstimo de material de qualquer natureza entre os candidatos. A tentativa de fraude, a indisciplina e o desrespeito às autoridades encarregadas dos trabalhos são faltas que implicarão a desclassificação do(a) candidato(a).
8. Qualquer forma de comunicação entre candidatos implicará a eliminação de ambos do certame.
9. Não será permitido ao candidato, durante a realização das provas, portar armas, aparelhos eletrônicos de qualquer natureza, relógios, bolsas, livros, jornais e impressos em geral; bonés, chapéus, lenço de cabelo, bandanas etc.
10. É vedado o uso de telefone celular ou de qualquer outro meio de comunicação. O candidato que for flagrado portando aparelho celular, durante o período de realização da prova, ou, ainda, aquele cujo aparelho celular tocar, será sumariamente eliminado do certame.
11. Em caso de dúvida, durante a prova, levante o braço para solicitar atendimento da fiscalização. Jamais pergunte em voz alta.
12. O candidato que permanecer na sala de provas, por mais de 3h45min, poderá levar consigo a cópia do gabarito, em formulário específico, fornecido pela **ORGANIZADORA**.
13. Ao terminar a resolução da prova, entregue-a ao fiscal de sala juntamente com o **cartão-resposta** (devidamente assinado). Não se esqueça, também, de **assinar a folha de frequência**.
14. As provas terão duração de 4 (quatro) horas. Turno da Manhã com início às 08h00min e término às 12h00min. Turno da Tarde com início às 14h00min e término às 18h00min. O candidato só poderá ausentar-se da sala depois de decorridas duas horas do início das provas.
15. Os **Gabaritos Preliminares das Provas Objetivas** serão divulgados 72 (setenta e duas) horas após a realização das mesmas.

CONHECIMENTOS GERAIS

Leia o Texto I, para responder às questões 1 a 6.

**TEXTO I
TOCANDO EM FRENTE**

Ando devagar porque já tive pressa
E levo esse sorriso porque já chorei demais
Hoje me sinto mais forte, mais feliz,
Quem sabe eu só levo a certeza
De que muito pouco eu sei
Ou nada sei.

Conhecer as manhas e as manhãs,
O sabor das massas e das maçãs.
É preciso amor para poder pulsar,
É preciso paz para poder sorrir,
É preciso chuva para florir.

Penso que cumprir a vida seja simplesmente
Compreender a marcha e ir tocando em frente.
Como um velho boiadeiro levando a boiada,
Eu vou tocando os dias pela longa estrada, eu sou
Estrada eu vou.

Todo mundo ama um dia
Todo mundo chora um dia
A gente chega e no outro vai embora
Cada um de nós compõe a sua história
E cada ser em si
Carrega o dom de ser capaz
E ser feliz

(Almir Sater / Renato Teixeira)

1. Os versos “Ando devagar porque já tive pressa / E levo esse sorriso porque já chorei demais” denotam

- alegria.
- experiência.
- tristeza.
- sagacidade.
- popularidade.

2. Segundo o Texto I, a felicidade depende

- do amor.
- do sorriso.
- de cada ser.
- das manhas e das manhãs.
- da compreensão.

3. O tema central do Texto I é o(a)

- boiada.
- amor.
- felicidade.
- vida.
- conhecimento.

4. De acordo com o Texto I, marque a opção CORRETA.

- Nem todas as pessoas têm a oportunidade de amar.
- Poucas pessoas sofrem na vida.
- Os dias são todos iguais.
- Não somos responsáveis pelo que acontece conosco.
- A felicidade está em cada um de nós.

5. Os versos “Como um velho boiadeiro levando a boiada, / Eu vou tocando os dias pela longa estrada” estabelecem uma circunstância de

- comparação.
- causa.
- consequência.
- condição.
- proporção.

6. Indique a opção CORRETA em relação ao período “...muito pouco eu sei / Ou nada sei”.

- É composto por subordinação e tem oração concessiva.
- É composto por coordenação e tem oração alternativa.
- É composto por coordenação e tem oração aditiva.
- É composto por subordinação e tem oração predicativa.
- É um período simples.

7. Em relação à correlação entre tempos verbais, marque a opção INCORRETA.

- Se eu tiver condições, ficarei aqui por alguns meses.
- Se eu tivesse condições, ficaria aqui por alguns meses.
- Se você tem condições, fique aqui por alguns meses.
- Se nós temos condições, ficamos aqui por alguns meses.
- Se eu tivesse condições, ficava aqui por alguns meses.

8. Marque a opção que contém apenas pronomes indefinidos.

- que / qual / muito / um.
- este / aquele / o / isso.
- algum / outrem / alguém / cada.
- que / qual / quanto / quem.
- minha / nossas / seu / vosso.

9. Em qual das alternativas a conjunção “e” exerce valor adversativo?

- Casou e viajou.
- A casa era antiga e muito conservada.
- Juçara fuma, e não traga.
- “Dá-me um ponto de apoio, e suspenderei a terra.”
- Precisamos esclarecer isso, e logo.

Leia o Texto II, para responder às questões 10 a 13.

TEXTO II

Pode dizer-se que a presença do negro representou sempre fator obrigatório no desenvolvimento dos latifúndios coloniais. Os antigos moradores da terra foram, eventualmente, prestimosos colaboradores da indústria extrativa, na caça, na pesca, em determinados ofícios mecânicos e na criação do gado.

Difícilmente se acomodavam, porém, ao trabalho acurado e metódico que exige a exploração dos canaviais. Sua tendência espontânea era para as atividades menos sedentárias e que pudessem exercer-se sem regularidade forçada e sem vigilância e fiscalização de estranhos.

(Sérgio Buarque de Holanda, in Raízes)

10. “Prestimosos colaboradores”, linhas 3 e 4, é o mesmo que

- importantes colaboradores.
- inúteis colaboradores.
- muitos colaboradores.
- velozes colaboradores.
- infinitos colaboradores.

11. De acordo com o Texto II, os antigos moradores da terra não tinham

- habilidades.
- trabalho.
- disposição.
- preguiça.
- responsabilidade.

12. Marque a opção CORRETA quanto à função sintática do termo “Os antigos moradores da terra...”, no primeiro parágrafo.

- Sujeito composto.
- Sujeito simples cujo núcleo é moradores.
- Sujeito simples cujo núcleo é antigos.
- Sujeito oracional.
- Sujeito indeterminado.

13. Em “Difícilmente se acomodavam...” o termo destacado é

- advérbio de tempo.
- adjetivo.
- adjunto adnominal.
- adjunto adverbial de tempo.
- advérbio de modo.

14. Marque a alternativa CORRETA quanto à concordância.

- Há menos gente na cidade hoje.
- Conheci bastante pessoas na festa.
- Ela anda meio desanimada.
- Comprei duzentas gramas de queijo.
- Ela disse muito obrigado ao rapaz que a ajudou.

15. Pela mesma regra de pássaro e júri devem ser acentuadas as seguintes palavras:

- Pessego e gari.
- Relampago e taxi.
- Desemprego e iris.
- Bussola e caju.
- Armazem e vi.

16. Marque a opção em que a palavra foi formada por aglutinação.

- Girassol.
- Desconforto.
- Refazer.
- Vinagre.
- Amanhecer.

17. Calcule o juro simples referente a um capital de R\$ 2.400,00 nas seguintes condições: taxa de juros 21% a.a. e prazo: 32 dias.

- R\$ 44,80.
- R\$ 52,40.
- R\$ 58,90.
- R\$ 72,00.
- R\$ 84,70.

18. Considere dois números inteiros, "a" e "b", consecutivos e positivos. Qual das expressões corresponde, necessariamente, a um número par em seu resultado?

- $1 + a + b$.
- $2a + b$.
- $a + b$.
- $1 + ab$.
- $2 + a + b$.

19. Num grupo de pessoas, verificou-se que 310 leram apenas um dos gibis A ou B; 270, o gibi B; 80, os dois gibis, A e B; e 340 não leram o gibi A. O número de estudantes desse grupo é igual a

- 480.
- 380.
- 540.
- 610.
- 430.

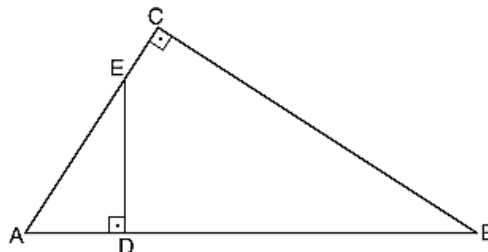
20. A loja de computadores instrui seus vendedores para calcularem o preço de uma mercadoria nas compras com cartão de crédito, dividindo o preço à vista por 0,75. Dessa forma, pode-se concluir que o valor da compra com cartão de crédito em relação ao preço à vista apresenta um

- desconto de 33,33%
- aumento de 25%
- desconto de 75%
- aumento de 33,33%
- aumento de 75%

21. Se f é uma função do primeiro grau tal que $f(12) = 45$ e $f(15) = 54$, então $f(18)$ é igual a

- 60.
- 61.
- 62.
- 63.
- 65.

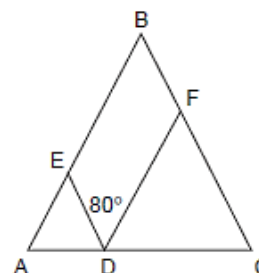
22. Na figura, $AC = 5$, $BC = 6$ e $DE = 3$.



A área do triângulo ADE é

- 10.
- 15.
- $15/2$.
- $15/4$.
- $15/8$.

23. Na figura a seguir, tem-se que $AD = AE$, $CD = DF$ e $BA = BC$ e o ângulo EDF mede 80° .



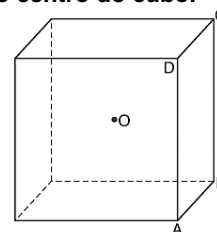
Quanto mede o ângulo ABC?

- 90°
- 60°
- 20°
- 30°
- 50°

24. João encontrou um paralelepípedo retangular com lados de 2, 3 e 6 cm. A distância máxima entre dois vértices desse paralelepípedo, em cm, é

- 11.
- 10.
- 7.
- 8.
- 9.

25. Na figura, O é o centro do cubo.



Se o volume do cubo é 1, o volume da pirâmide de base ABCD e vértice O é

- $1/2$.
- $1/3$.
- $1/4$.
- $1/6$.
- $1/8$.

26. Um trabalho pode ser feito em 2 horas por Pedro, em 3 horas por Maria e em 6 horas por Juquinha. Em quanto tempo será feito pelos 3 juntos?

- 1h.
- $1/2$ h.
- 2h e $1/2$.
- 1h e $1/2$.
- 2h.

27. A fração $\frac{0,65}{0,0104}$ é equivalente a

- 1/15.
- 1/50.
- 2/125.
- 3/45.
- 9/125.

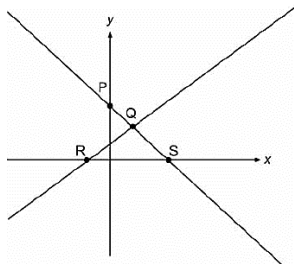
28. Calcule o Mínimo Múltiplo Comum (MMC) de (18, 75, 250) e marque a opção que apresenta o resultado CORRETO.

- 1.570.
- 2.135.
- 2.250.
- 3.350.
- 4.570.

29. Se o conserto de $\frac{2}{3}$ de um carro foi realizado em 5 dias por 8 mecânicos trabalhando 6 horas por dia, o restante do conserto, agora, com 6 mecânicos, trabalhando 10 horas por dia será feito em quantos dias?

- 1.
- 2.
- 3.
- 4.
- 9.

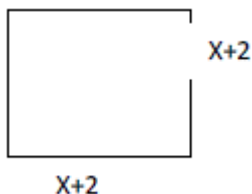
30. Observe a figura.



As retas da figura representam graficamente um sistema de duas equações do 1º grau com duas incógnitas, cuja solução pode ser representada pelo ponto

- P.
- R.
- S.
- Y.
- Q.

31. A área do seguinte quadrado é 49 cm^2 .



O valor de X, em cm, é

- 3.
- 6.
- 5.
- 9.
- 11.

32. A base de uma pirâmide é um triângulo equilátero de lado $L = 6 \text{ cm}$ e arestas laterais das faces $A = 4 \text{ cm}$. Calcule a altura da pirâmide em cm.

- 1.
- 2.
- 3.
- 4.
- 5.

33. Observe a charge:



A charge denuncia o(a)

- morte da ética em Brasília.
- sepultamento da ética no Planalto.
- falta de ética dos representantes do povo.
- ausência de ética nas deliberações do Congresso.
- morte do principal princípio de governo.

34. Na página, Sorriso Pensante por Ivan Cabral, um leitor registrou:

Sr. Ivan Cabral,

sou professor de Sociologia em Escola Pública do D.F. e peço autorização para utilizar sua charge em atividade de sala de aula.

A atitude do leitor

- demonstra simpatia pelo trabalho criativo do autor.
- é pedagógica por aplicar charge em atividade discente.
- coloca em dúvida sua atuação como professor, por solicitar produção alheia.
- compromete o conteúdo da Sociologia por não estar relacionado à charges.
- apresenta um comportamento ético em relação à autoria da charge.

Leia a notícia a seguir para responder às questões 35 e 36.

A ecologia integral do Papa Francisco

Correm rumores de que a ecologia integral é o tema central da encíclica sobre a ecologia e o clima do **Papa Francisco**, a ser publicada nos próximos meses. A Igreja aconselhará o seu 1,2 bilhão de membros sobre questões morais prementes. A eminente encíclica já gerou um considerável impacto na mídia, grande parte do qual pode ser seguido no sítio eletrônico do **Fórum Yale sobre Religião e Ecologia**.

<http://ihu.unisinos.br/noticias/543131-a-ecologia-integral-do-papa-francisco>

35. O "integral" no termo ecologia integral é a novidade. Nessa abordagem podemos esperar que o Papa refira-se em prioridade sobre a(s)

- bondade de Deus ao criar a natureza para o homem.
- responsabilidade de todos na proteção do Planeta.
- questões de igualdade e justiça social.
- desigualdade econômica extrema.
- competição desenfreada pelo recurso.

36. Encíclica, linhas 2 e 5, é

- o nível mais alto e o mais abrangente de ensinamento da Igreja Católica.
- o instrumento principal pelo qual a palavra do Papa se torna lei.
- a intenção de trabalho do cristão, ditada pelo Papa.
- o mandamento da era moderna para os cristãos.
- um pronunciamento do Papa que orienta cardeais e bispos.

Leia o Texto III, para responder à questão 37.

TEXTO III

Imigração no Brasil: Ilegais provocam crise humanitária no Acre

19/04/2013 08h03

Vivendo em condições precárias, imigrantes haitianos aguardam visto provisório em Brasília no estado do Acre.

O Brasil sempre foi conhecido por ser um país aberto aos demais povos, não impondo restrições em suas fronteiras. Nos últimos anos, porém, o crescimento da economia, em meio à crise financeira que atingiu a Europa e os Estados Unidos, tornou o país atrativo para uma massa de imigrantes vindos de países pobres.

"É como se estivesse formada uma rota internacional migratória que se associa à crise social grave que vive o povo do Haiti e a Polícia Federal tem tratado essa questão com bastante cuidado", diz Tião Viana.

A questão é que muitos Estados, principalmente da região Norte, não possuem estrutura de apoio para receber esses imigrantes, a maioria ilegais. E a política da nação acolhedora acaba gerando uma crise social.

<http://vestibular.uol.com.br/resumo-das-disciplinas/atualidades/imigracao-no-brasil-ilegais-provocam-crise-humanitaria-no-acre.htm>

37. Considerando o Texto III, analise as afirmações a seguir.

- I. A situação é mais grave onde cerca de 1,3 mil refugiados vivem em condições precárias, em abrigos improvisados, sem assistência médica ou alimentação adequada.
- II. O fluxo de estrangeiros aumentou no último mês e levou o governador do Acre, Tião Viana, a decretar situação de emergência humanitária no Estado.
- III. A rota migratória começou em 2010, quando um terremoto devastou o Nepal, matando cerca de 200 mil habitantes.
- IV. Após a tragédia, muitos habitantes do Nepal deixaram a ilha e vieram para o Brasil em busca de emprego, aqui eles recebem um "visto humanitário"
- V. A rota aberta pelos haitianos também atraiu imigrantes de outras nacionalidades, como senegaleses, nigerianos, dominicanos e indianos.
- VI. No caso de estrangeiros vindos de países africanos em guerra, a documentação é diferente, a condição é de refugiados.

Marque a opção que apresenta as afirmativas CORRETAS.

- a) I – III – V – VI
- b) III – IV – V – VI
- c) I – II – III – IV
- d) I – II – V – VI
- e) II – III – IV – VI.

38. Leia a notícia:

Quando lembramos dos atletas olímpicos, logo vem à mente a referência da perseverança, disciplina, dedicação e força de vontade. Conquistas que seguem como exemplo para todo o mundo. Estar em contato, sintonia e respeito com o meio ambiente também faz parte dos bons exemplos a serem seguidos pelos estudantes dos Jogos Escolares da Juventude 2015 que estiveram, na manhã desta sexta-feira (4/9), em visita ao Parque Ecológico do Cocó, em Fortaleza.

(<http://www.ceara.gov.br/component/content/article/13955/13955>).

Os referidos atletas estiveram no Ceará para participar do(da)s

- a) Fórum Pró-Olimpíadas 2016.
- b) treinos de diversas modalidades classificatórias.
- c) disputas de atletismo a nível nacional.
- d) competições internacionais de *badminton*.
- e) Jogos Escolares da Juventude.

39. São Benedito tem muitos filhos ilustres que se destacaram em várias áreas do conhecimento, além de exercerem funções na política, na educação e na cultura. Um deles foi filósofo e escritor, catedrático do Colégio Pedro II no Rio de Janeiro, formado como bacharel em direito, possui monumento em sua homenagem, dentre outras ações. Essa é parte da biografia de

- a) Adolfo Correia de Araujo.
- b) Raimundo de Farias Brito.
- c) Claudio de Sá do Amaral.
- d) Mons. Tibúrcio Alves.
- e) Luiz Gonzaga Pinto de Araujo.

40. A bandeira de São Benedito tem por lema "*Virtus et Labor*" que significa

- a) Vitória e Liberdade.
- b) Virtude e Trabalho.
- c) Vitória e Lealdade.
- d) Virtude e Liberdade.
- e) Valentia e Trabalho.

CONHECIMENTOS ESPECÍFICOS

41. Uma paciente de 40 anos de idade iniciou tratamento fisioterapêutico apresentando bloqueio em flexão nas interfalangeanas do terceiro dedo da mão direita, dor e sensação de estalido nos movimentos ativos de flexão e extensão do dedo. Como plano de tratamento, o fisioterapeuta estipulou medidas analgésicas e cinesioterapia com exercícios direcionados. De acordo com o quadro clínico o profissional pode suspeitar de qual patologia?

- a) Dedo em martelo.
- b) Tenossinovite estenosante.
- c) Deformidade em pescoço de cisne.
- d) Tenossinovite de quervain.
- e) Síndrome do túnel do carpo.

42. O complexo articular do cotovelo é composto por três articulações: úmero-ulnar, úmero-radial e rádio-ulnar proximal. Segundo a classificação articular essas articulações são

- a) sinoviais do tipo gínglimo e trocoide.
- b) sinoviais do tipo gínglimo e selar.
- c) fibrosas do tipo sincondrose e trocoide.
- d) fibrosa do tipo trocoide e gínglimo.
- e) sinoviais do tipo gonfose e condilar.

43. Um paciente de 19 anos relata dor na região anterior do ombro principalmente ao realizar movimentos ativos e resistidos. Durante a avaliação o fisioterapeuta identificou a presença positiva para tendinite da porção longa do bíceps. Para chegar a essa conclusão qual teste específico foi realizado?

- a) Gerber.
- b) Pate.
- c) Patte.
- d) Phalen.
- e) Lippman.

44. A bursa trocântérica é um tecido sinovial localizado superficialmente ao trocânter maior do fêmur. No caso de uma bursite, são indicados alongamentos dos tecidos que fazem pressão sobre a bursa. Qual dos músculos a seguir NÃO tem origem ou inserção no trocânter maior do fêmur?

- a) Glúteo médio.
- b) Piriforme.
- c) Iliopsoas.
- d) Gêmeo superior.
- e) Obturatório interno.

45. A condromalácia patelar é uma lesão da cartilagem devido à degeneração prematura com amolecimento, fibrilação e aspereza dessa estrutura, as quais são semelhantes às relacionadas com a osteoartrite. O tratamento é constituído de exercícios que fortaleçam o quadríceps, principalmente o vasto medial oblíquo, sendo recomendado que se realizem exercícios isométricos, pois não exacerbam a dor, fortalecem e envolvem movimento mínimo da patela. De acordo com este tipo de exercícios identifique a afirmativa CORRETA.

- Ocorre quando as fibras musculares trabalham, de maneira controlada, para desacelerar os movimentos, pois a resistência externa ultrapassa a força muscular e o músculo alonga-se à medida que a tensão aumenta.
- O músculo encurta-se e observa-se movimento articular à medida que a tensão aumenta.
- Na cadeira extensora, deverá ser solicitada uma extensão rápida e flexão lenta do joelho.
- Ocorre quando um músculo gera força e tenta encurtar-se, porém não consegue superar a resistência externa, mantendo-se estático.
- Na cadeira extensora, deverá ser solicitada uma extensão lenta e uma flexão rápida do joelho.

46. O controle da postura bípede depende de informações sensorio-motoras comandadas pelo sistema nervoso central. As correções do eixo do corpo em posição estática induzem oscilações leves e constantes com importante papel na distribuição da pressão plantar. Qual técnica é utilizada para avaliar a pressão exercida nos pés na postura ortostática?

- Baropodometria.
- Eletromiografia de superfície.
- Eletrodiagnóstico.
- Fotogrametria.
- Termografia.

47. A Doença de Parkinson é uma doença crônica e degenerativa do sistema nervoso central que resulta da morte de neurônios motores da substância negra, acarretando diminuição da dopamina na via negroestriatal. De acordo com os achados clínicos da patologia, correlacione a COLUNA B pela COLUNA A.

COLUNA A

- Bradicinesia.
- Hipocinesia.
- Acinesia.
- Festinação.

COLUNA B

- () Consiste numa aceleração involuntária da marcha para evitar a queda para a frente.
- () Redução na amplitude do movimento.
- () Lentidão do movimento.
- () Dificuldade em iniciar movimentos

Marque a opção que apresenta a sequência CORRETA.

- II – I – IV – III
- IV – II – I – III
- III – II – IV – I
- IV – III – II – I
- I – III – IV – II.

48. A paralisia facial periférica decorre da interrupção do influxo nervoso de qualquer um dos segmentos do nervo facial. Sobre a paralisia facial periférica, marque a opção INCORRETA.

- A fisioterapia é indispensável com o objetivo principal de restabelecer o trofismo, a força e a função muscular.
- Alguns recursos sugeridos pela literatura são cinesioterapia, massagem e eletrotermoterapia.

- Algumas sequelas estéticas ou funcionais significantes são disfunção oral, contraturas, obstrução nasal, disgeusia, disestesias, sincinesias e espasmo hemifacial.
- Devem ser utilizados a estimulação com massagens rápidas e exercícios de mímica facial para melhorar a simetria.
- O grau de recuperação da função do nervo facial não depende da terapêutica instituída e sim da idade do paciente, da etiologia e do tipo de lesão.

49. Um paciente de 23 anos apresenta dor torácica e desconforto respiratório. Em seu exame de imagem, pôde-se notar uma imagem hipertransparente de um lado do pulmão com distanciamento da pleura visceral da pleura parietal, desvio do mediastino para o lado contralateral, rebaixamento do diafragma e alargamento do espaço intercostal. De acordo com os sinais clínicos e dos achados radiológicos podemos suspeitar de

- derrame pleural.
- empiema pleural.
- pneumotórax.
- enfisema subcutâneo.
- atelectasia.

50. O que significa espaço morto pulmonar?

- É o espaço onde ocorrem 80% da circulação pulmonar.
- Região anatômica onde acontece a oxigenação sanguínea.
- Espaço da traqueia até os bronquíolos terminais que apresenta somente a função condutora, pois não apresenta função respiratória.
- Região anatômica onde se concentra a maior quantidade de sacos alveolares.
- A estrutura conhecida como membrana alvéolo-capilar é constituída apenas pelo epitélio alveolar e endotélio capilar.

51. Identifique a alternativa que representa a forma mais comum de displasia esquelética, gerando condições geneticamente determinadas geralmente com baixa estatura e alteração do arcabouço ósseo.

- Síndrome de Down.
- Síndrome de Turne.
- Síndrome de Asperger.
- Síndrome de Klinefelter
- Acondroplasia.

52. Analise a afirmativa.:

Técnica de estimulação elétrica dos neurônios motores com a finalidade de produzir contração muscular.

Qual recurso a seguir se enquadra na definição citada anteriormente?

- Estimulação Elétrica Transcutânea (TENS).
- Estimulação Elétrica Funcional (FES).
- Ultrassom terapêutico.
- Corrente Difásica Fixa (DF).
- Laserterapia.

53. Durante o tratamento de um paciente com uma tendinopatia dos extensores do punho esquerdo, o fisioterapeuta tomou a decisão terapêutica de realizar uma sonoforese. De acordo com essa conduta, identifique a afirmativa que está relacionada com método.

- Capacidade de alguns cristais gerarem corrente elétrica por resposta a uma pressão mecânica.
- Efeito não térmico produzido pelas ondas acústicas geradas pelo ultrassom provocando a formação de bolhas ou cavidades micrométricas nos líquidos que contêm gás.
- Uso terapêutico da corrente galvânica, utilizando-se exclusivamente os efeitos polares por ela promovidos.
- Habilidade do ultrassom em incrementar a penetração de agentes farmacologicamente ativos através da pele.
- Introdução de radicais químicos nos tecidos através de um campo elétrico, produzido por uma corrente unidirecional.

54. Nos últimos 20 anos, o tratamento do linfedema vem se tornando cada vez menos invasivo, uma vez que resultados terapêuticos muito satisfatórios podem ser atingidos. A forma de tratamento que se mostra mais eficaz para pacientes com linfedema é a Terapia Física Complexa, que consiste de drenagem linfática manual, cuidados com a pele, compressão e exercícios miolinfocinéticos. Sobre este tratamento, marque a opção INCORRETA.

- A compressão pode ser realizada apenas com material elástico, exercendo compressão graduada no membro para promover o fluxo centrípeto da linfa e sua pressão deve ser em torno de 40 mmHg.
- A drenagem linfática manual é utilizada com o objetivo de melhorar o fluxo linfático, remover o excesso de líquido tecidual e ativar a motricidade dos vasos linfáticos.
- A drenagem linfática manual deve ter a pressão exercida no sentido do fluxo e dos linfonodos proximais.
- Medidas higiênicas e dietéticas melhoram o trofismo cutâneo prevenindo infecções bacterianas e micóticas.
- Os exercícios miolinfocinéticos são indicados para ativarem a atividade muscular e recuperarem a amplitude de movimento das articulações.

55. Segundo o Código de Ética da Fisioterapia, Capítulo II, Artigo 9º, constituem-se deveres fundamentais do fisioterapeuta, segundo sua área e atribuição específica:

- assumir responsabilidade técnica por serviço de fisioterapia em caráter de urgência, quando designado ou quando for o único profissional do setor, atendendo a Resolução específica.
- utilizar todos os conhecimentos técnico-científicos a seu alcance e aprimorá-los contínua e permanentemente, para promover a saúde e prevenir condições que impliquem perda da qualidade da vida do ser humano.
- divulgar, para fins de autopromoção, declaração, atestado, imagem ou carta de agradecimento emitida por cliente/paciente/usuário ou familiar deste, em razão de serviço profissional prestado.
- manter segredo sobre fato sigiloso de que tenha conhecimento em razão de sua atividade profissional e exigir o mesmo comportamento do pessoal sob sua direção, salvo situações previstas em lei.
- cumprir os Parâmetros Assistenciais e o Referencial Nacional de Procedimentos Fisioterapêuticos normatizados pelo COFFITO.

56. Paciente apresentando lombalgia crônica foi avaliado pelo fisioterapeuta e identificadas alterações das funções neurodinâmicas dos membros inferiores. Qual teste o profissional realizou para chegar a essa conclusão?

- Tomas.
- Slump test.
- Adson.
- Phalen,
- Froment

57. Após uma torção do tornozelo em eversão, um paciente apresentou exame de imagem evidenciando lesão parcial do músculo fibular longo. De acordo com os conhecimentos da cinesiologia, identifique a origem e inserção correspondente ao músculo lesionado.

- Origem: 2/3 distais da face lateral da fíbula/ Inserção: cuneiforme medial e metatarsal I.
- Origem: cabeça e 2/3 lateral da fíbula/ Inserção: base do 5º metatarsal
- Origem: 2/4 intermediários da fíbula e membrana interóssea; Inserção/ falange distal do hálux.
- Origem: côndilo lateral da tíbia/ Inserção: falange média e distal do 2º ao 5º dedos.
- Origem: cabeça e 2/3 lateral da fíbula/ Inserção: cuneiforme medial e metatarsal I.

58. Paciente do sexo feminino apresenta um espessamento do nervo interdigital que passa entre os dedos do pé, causando dormência e dor na ponta do pé. De acordo com essa fisiopatologia qual provável diagnóstico clínico?

- Halux valgo.
- Neuroma de morton.
- Esporão de calcâneo.
- Fasceite plantar.
- Hallux rigidus.

59. Sobre o SUS, marque (V) para as afirmativas VERDADEIRAS e (F) para as FALSAS.

() Segundo o princípio da **equidade**, a saúde é um direito de todos, sendo providas ações e serviços pelo Poder Público, ofertando saúde a todos que dela necessitam.

() Reduzir as disparidades sociais e regionais do nosso país, buscando um maior equilíbrio entre elas, é uma necessidade regida pelo princípio da **universalidade**.

() Por causa da **integralidade**, estruturam-se redes de maneira hierarquizada.

() Uma política adotada, para garantir o princípio da **equidade**, é a incorporação tecnológica e o investimento estratégico e prioritário no combate de situações agudas ou extremas.

Marque a opção que apresenta a sequência CORRETA.

- V – V – V – V
- F – F – V – V
- V – V – F – F
- F – F – V – F
- F – F – F – V.

60. Sobre o SUS, analise as assertivas a seguir.

- A saúde é entendida como o resultado de políticas econômicas e sociais, um direito de todos e um dever do Estado.
- As demandas do movimento sanitário foram transpostas para o SUS que se organizou pelos princípios da descentralização, do atendimento integral e da participação da comunidade.
- Associando-se à democracia, o princípio da descentralização ampliou os direitos sociais da cidadania e se estendeu também às competências e receitas tributárias, descentralizando-a, com opção preferencial pela municipalização.
- O Pacto pela Vida, o Pacto em Defesa do SUS e o Pacto de Gestão são os três componentes que constituem o Pacto pela Saúde, um movimento de mudança consolidado pelo SUS que possibilita a efetivação de acordos entre as três esferas de gestão para a reforma de aspectos institucionais vigentes.

Marque a opção que apresenta as afirmativas CORRETAS.

- I – II – III
- III – IV
- II – III
- I – II – III – IV
- II – IV.