



# PREFEITURA MUNICIPAL DE SÃO JOSÉ DOS CAMPOS

CONCURSO PÚBLICO

## 033. PROVA OBJETIVA

### AUDITOR TRIBUTÁRIO MUNICIPAL – GESTÃO TRIBUTÁRIA

- ◆ Você recebeu sua folha de respostas e este caderno, contendo 60 questões objetivas, um tema de redação a ser desenvolvido e a folha de redação para transcrição do texto definitivo.
- ◆ Confira seus dados impressos na capa deste caderno e nas folhas de respostas e de redação.
- ◆ Quando for permitido abrir o caderno, verifique se está completo ou se apresenta imperfeições. Caso haja algum problema, informe ao fiscal da sala.
- ◆ A folha de redação deverá ser destacada com cuidado e assinada apenas no local indicado; qualquer identificação ou marca feita pelo candidato no corpo deste caderno ou no verso da folha de redação, que possa permitir sua identificação, acarretará a atribuição de nota zero à redação.
- ◆ É vedado, em qualquer parte do material recebido, o uso de corretor de texto, de caneta marca-texto ou de qualquer outro material similar.
- ◆ Redija o texto definitivo e preencha a folha de respostas com caneta de tinta azul ou preta. Os rascunhos não serão considerados na correção. A ilegibilidade da letra acarretará prejuízo à nota do candidato.
- ◆ A duração das provas objetiva e de redação é de 4 horas e 30 minutos, já incluído o tempo para o preenchimento da folha de respostas e a transcrição do texto definitivo.
- ◆ Só será permitida a saída definitiva da sala e do prédio após transcorridos 75% do tempo de duração das provas.
- ◆ Ao sair, você entregará ao fiscal a folha de redação, a folha de respostas e este caderno, podendo levar apenas o rascunho de gabarito, localizado em sua carteira, para futura conferência.
- ◆ Até que você saia do prédio, todas as proibições e orientações continuam válidas.

AGUARDE A ORDEM DO FISCAL PARA ABRIR ESTE CADERNO DE QUESTÕES.

Nome do candidato \_\_\_\_\_

Prédio \_\_\_\_\_

Sala \_\_\_\_\_

Carteira \_\_\_\_\_

Inscrição \_\_\_\_\_



## CONHECIMENTOS GERAIS

### LÍNGUA PORTUGUESA

Leia o texto para responder às questões de números **01** a **03**.

#### *Invista em companhia para mudar hábitos*

Como ter hábitos de vida mais saudáveis e perder peso com mais facilidade? Além da combinação clássica de mais atividade física com melhor alimentação, dois novos estudos sugerem que topar o desafio na companhia do parceiro ou de um grupo pode fazer toda a diferença.

No primeiro trabalho, da Universidade College of London, do Reino Unido, especialistas avaliaram mais de 3.700 casais com idade igual ou superior a 50 anos. Concluíram que é muito mais fácil parar de fumar, perder peso e fazer exercícios quando a cara-metade também arregança as mangas e compra a briga.

Só para citar um exemplo: 50% das mulheres que fumavam conseguiram largar o cigarro quando o companheiro tentou junto. Entre as mulheres cujo parceiro já era um ex-fumante (portanto não a acompanhou na tentativa), só 17% conseguiram parar. Entre aquelas cujo marido continuou a fumar, o índice de sucesso ficou em apenas 8%.

Num outro trabalho, da Universidade de East Anglia, também do Reino Unido, pesquisadores revisaram 42 estudos envolvendo mais de 1.800 pessoas de 14 países e constataram que fazer atividade física em grupo diminui as condições que ameaçam a saúde, como doença coronariana, derrames, depressão e até alguns tipos de câncer.

Para os especialistas, caminhar em grupo faz as pessoas se exercitarem por mais tempo do que fariam sozinhas, além de estimular treinos mais vigorosos. As atividades coletivas também mostram ganhos psicológicos. Os praticantes ficam menos isolados. O sentimento de pertencimento aumenta o bem-estar e a sensação de apoio emocional. A combinação de benefícios físicos e psicológicos pode reduzir sintomas depressivos e estresse.

Para muitos dos homens e mulheres pesquisados, os grupos podem facilitar a aderência à atividade física regular e converter as caminhadas num novo hábito de vida. Quer seja na companhia do parceiro ou de um grupo, fica mais fácil vencer as resistências e encarar a mudança.

(Jairo Bouer. *Época*, 02.02.2015. Adaptado)

**01.** De acordo com as informações do texto, é correto afirmar que

- (A) a prática de exercícios físicos na companhia de parentes e amigos é comprovadamente mais eficaz para melhorar a saúde que seguir uma alimentação balanceada.
- (B) o hábito de caminhar em grupo levou muitos indivíduos a se dedicarem a treinos mais intensos e vigorosos, situação que tem preocupado médicos cardiologistas.
- (C) os pesquisadores constataram, com base na observação de 1.800 indivíduos, que os casais ingleses que se exercitavam em grupo superaram doenças como depressão e câncer.
- (D) a atividade física, praticada de forma regular e coletiva, torna os indivíduos psicologicamente mais saudáveis, pois pertencer a um grupo reduz a sensação de isolamento.
- (E) as mulheres, tanto as jovens como as de meia-idade, obtiveram maior sucesso para abandonar o cigarro quando receberam o apoio do companheiro.

**02.** Considere a frase do terceiro parágrafo:

*Entre as mulheres cujo parceiro já era um ex-fumante (portanto não a acompanhou na tentativa), só 17% conseguiram parar.*

Assinale a alternativa em que essa frase está reescrita de acordo com a norma-padrão e sem alteração do sentido do texto.

- (A) Entre as mulheres com quem o parceiro já era um ex-fumante (no entanto não a acompanhou no teste), só 17% conseguiram reduzir.
- (B) Entre as mulheres com quem o parceiro já era um ex-fumante (por conseguinte não a acompanhou na empreitada), só 17% conseguiram controlar.
- (C) Entre as mulheres a quem o parceiro já era um ex-fumante (em vista disso não a acompanhou na prova), só 17% conseguiram vitória.
- (D) Entre as mulheres de quem o parceiro já era um ex-fumante (ou seja, não a acompanhou na disputa), só 17% conseguiram moderar.
- (E) Entre as mulheres de quem o parceiro já era um ex-fumante (por isso não a acompanhou no experimento), só 17% conseguiram sucesso.

03. Assinale a alternativa em que o trecho reescrito apresenta o emprego correto do sinal indicativo de crase.

- (A) Além da combinação clássica de mais atividade física com melhor alimentação... → Além de atrelar mais atividade física à alimentação equilibrada...
- (B) Só para citar um exemplo: 50% das mulheres que fumavam... → Fazendo alusão à uma parte do estudo: 50% das mulheres que fumavam...
- (C) ... pesquisadores revisaram 42 estudos envolvendo mais de 1.800 pessoas... → pesquisadores propuseram-se à analisar 42 estudos envolvendo mais de 1.800 pessoas...
- (D) ... atividade física em grupo diminui as condições que ameaçam a saúde... → atividade física em grupo restringe às condições que ameaçam a saúde...
- (E) ... fica mais fácil vencer as resistências e encarar a mudança. → fica mais fácil opor-se à barreiras e encarar a mudança.

Leia o texto para responder às questões de números 04 a 07.

#### *Competição a toda prova*

Interessado em saber como a seleção dos melhores agiria na natureza, o pesquisador William Muir, da Universidade de Purdue, nos Estados Unidos, fez uma experiência com galinhas. Selecionou dois grupos: um natural, em que as aves conviviam normalmente, e outro formado só pelas que mais produziam ovos. Ele queria testar se o isolamento das superprodutivas aumentaria a quantidade de ovos gerada. Após seis gerações, as galinhas do bando natural estavam saudáveis. Mas as do grupo das superaves estavam deprimidas, estressadas e sem botar nenhum ovo – com apenas três sobreviventes. As outras seis tinham sido assassinadas.

A história é usada pela americana Margaret Heffernan, em seu livro *A Bigger Prize: Why Competition Isn't Everything and How We Do Better* ("Um prêmio maior: por que a competição não é tudo e como podemos fazer melhor", numa tradução livre), para demonstrar que a competitividade não é tão boa quanto o mundo dos negócios faz parecer. Segundo a autora, que foi CEO de renomadas empresas de tecnologia, ambientes de trabalho competitivos causam estresse e problemas de relacionamento que não compensam os resultados. Ela cita o caso de Bill Gore que fundou sua indústria química com um modelo hierárquico mais amigável e bateu recordes de patentes. "Pessoas colaborativas tornam as empresas mais inteligentes", diz Margaret.

Para alguns, a competitividade serve para criar uma atmosfera mais produtiva. Jack Welch, ex-presidente da GE, deu fama a seus rankings que dividiam os funcionários entre os 20% potenciais, os 70% medianos e os 10% incompetentes. Para Margaret, essa prática, embora dê lucro, cria cenários que geram ansiedade e estresse. "Qualquer tarefa complexa requer muito de seu cérebro. Mas o estresse prejudica especificamente o funcionamento do córtex pré-frontal, onde os pensamentos ocorrem, e o hipocampo, responsável por coordenar as atividades mentais necessárias para resolver problemas. Quando nos sentimos ameaçados, podemos ter toda a capacidade mental de que precisamos, mas simplesmente não conseguimos articular as ideias", comenta a autora em seu livro.

(Bárbara Nór. *VocêS/A*, janeiro de 2015. Adaptado)

04. Sobre o conteúdo do texto, é correto afirmar que

- (A) o pesquisador William Muir tinha por objetivo provar que a convivência em um ambiente natural levaria as galinhas a produzir quantidade de ovos acima do normal.
- (B) as seis galinhas mais produtivas, pertencentes ao grupo das superaves, ficaram doentes e vieram a morrer vitimadas pelo próprio estresse.
- (C) os indivíduos submetidos a situações constrangedoras e estressantes podem ter bloqueada sua aptidão mental para solucionar impasses.
- (D) os rankings estabelecidos por Jack Welch aumentaram a produtividade da empresa, pois os funcionários não se sentiam discriminados por essa estratégia.
- (E) Bill Gore criou um modelo de gestão administrativa em que aboliu a hierarquia, ou seja, a organização da empresa em diferentes setores.

05. Considerando as opiniões de Margaret Heffernan reproduzidas no texto, assinale a alternativa em que o elemento de coesão em destaque evidencia uma concessão feita por Margaret que, no entanto, não invalida seu ponto de vista sobre competição.

- (A) ... para demonstrar que a competitividade não é tão boa **quanto** o mundo dos negócios faz parecer. (2º parágrafo)
- (B) ... ambientes de trabalho competitivos causam estresse e problemas de relacionamento **que** não compensam os resultados. (2º parágrafo)
- (C) ... fundou sua indústria química com um modelo hierárquico mais amigável **e** bateu recordes de patentes. (2º parágrafo)
- (D) Para Margaret, essa prática, **embora** dê lucro, cria cenários que geram ansiedade e estresse. (3º parágrafo)
- (E) **Quando** nos sentimos ameaçados, podemos ter toda a capacidade mental de que precisamos... (3º parágrafo)

06. Observe o emprego do pronome relativo **onde** no trecho do terceiro parágrafo: *Mas o estresse prejudica especificamente o funcionamento do córtex pré-frontal, onde os pensamentos ocorrem...*

Esse pronome também está corretamente empregado em:

- (A) Aquele foi um período de sua vida **onde** ele se sentiu muito entusiasmado com seus projetos.
- (B) Esta instituição, reconhecida internacionalmente e **onde** estudaram famosos arquitetos, fará a restauração da propriedade.
- (C) Nos próximos meses, **onde** todos os condôminos se comprometeram a colaborar, pretende-se 20% de economia no consumo de água.
- (D) Nossos avós paternos nos contaram que se conheceram na França em 1918, ano **onde** terminou a Primeira Guerra.
- (E) Para a entrevista de trabalho, ela optou por um vestido chamativo **onde** deveria ter optado por uma roupa mais discreta.

07. Assinale a alternativa em que o pronome substitui corretamente a expressão em destaque e atende às regras de colocação estabelecidas pela norma-padrão.

- (A) ... e outro formado só pelas que mais produziam **ovos**. → produziam-nos.
- (B) ... o isolamento das superprodutivas aumentaria a **quantidade de ovos gerada**. → aumentaria-a.
- (C) "Pessoas colaborativas tornam **as empresas** mais inteligentes"... → tornam-lhes mais inteligentes.
- (D) Para alguns, a competitividade serve para criar **uma atmosfera mais produtiva**. → lhe criar.
- (E) ... deu fama a seus rankings que dividiam **os funcionários** entre os 20% potenciais... → os dividiam entre os 20% potenciais...

08. As preposições destacadas estão empregadas de acordo com a norma-padrão em:

- (A) Embora seja inerente **com** o ser humano desejar ser bem-sucedido profissionalmente, é uma situação que, muitas vezes, implica **em** desgaste emocional.
- (B) Uma existência rica **em** amizades que nos incentiva **da** sociabilidade é um privilégio que se deve cultivar.
- (C) Há pessoas que se lamentam **da** falta de predisposição para realizar certas atividades, entretanto são avessas **a** exercícios físicos.
- (D) O livro de Margaret Hefferann pode ser útil **com** os gestores que pretendem se contrapor **das** práticas administrativas convencionais.
- (E) As galinhas superprodutivas procederam **ao** extermínio de algumas companheiras visto que se encontravam em ambiente propício **em** competição.


09. Considere o texto:

Até o meio-dia e \_\_\_\_\_ deste domingo, já \_\_\_\_\_ participado das primeiras competições paraolímpicas cerca de 40% dos atletas inscritos. Desse grupo, muitos são atletas sul-americanos que, \_\_\_\_\_ semanas, \_\_\_\_\_ treinando no país-sede.

Os termos que preenchem, correta e respectivamente, as lacunas do texto são:

- (A) meia ... havia ... fazem ... vem
- (B) meia ... haviam ... faz ... vêm
- (C) meio ... havia ... fazem ... vêm
- (D) meio ... haviam ... faz ... vem
- (E) meio ... haviam ... fazem ... vêm

10. Observe a tira em que estão presentes os amigos Frank (de calça escura) e Ernest (de calça xadrez).



(Bob Thaves. Acessível em <http://goo.gl/Wa78h4>)

Analisando a tira, é correto afirmar que ocorre a

- (A) oposição entre as opiniões de Frank e Ernest sobre os políticos e o emprego dos verbos *fundar* e *afundar* em sentido próprio.
- (B) comparação entre o presente e o passado e o emprego de linguagem predominantemente informal na dedicatória e na fala da personagem.
- (C) comparação entre o presente e o passado e o emprego dos verbos *fundar* e *afundar* que apresentam sentidos opostos.
- (D) identidade entre fundador e dupla de amigos quanto à aparência sóbria e alinhada e o emprego dos verbos *fundar* e *afundar* pela semelhança de sentido.
- (E) identidade entre fundador e dupla de amigos quanto à posição desempenhada na sociedade e o emprego do sarcasmo, da parte de Frank, para caracterizar os políticos de todas as gerações.

11. Quando um cliente solicitou o reembolso de uma compra que foi cancelada, por engano, o vendedor devolveu a ele notas de R\$ 5,00, quando o correto seria ter devolvido a mesma quantidade de notas, porém de R\$ 2,00. O engano implicou na devolução de R\$ 90,00 a mais do que o preço que o cliente havia pago na compra. Nas condições dadas, o número de notas que o vendedor devolveu para o cliente foi igual a
- (A) 15.
  - (B) 20.
  - (C) 25.
  - (D) 30.
  - (E) 35.
12. Cinco cidades (A, B, C, D, E) encontram-se ao longo de uma linha férrea reta que liga a cidade A até a cidade B. Nessa linha férrea, a cidade C está exatamente no meio do caminho entre as cidade A e B. Ainda na linha férrea, a cidade D está tão distante da cidade A quanto está da cidade C, e a cidade C está tão distante da cidade D quanto está da cidade E. Se 20 km separam as cidades A e D na linha férrea, a distância, na mesma linha férrea, entre as cidades D e B, em quilômetros, é igual a
- (A) 10.
  - (B) 20.
  - (C) 35.
  - (D) 40.
  - (E) 60.
13. São dadas as proposições verdadeiras:
- É falso que algum A não seja B.
  - Não há A que não seja C.
- É correto concluir que
- (A) é falso que nenhum B seja C.
  - (B) muitos B não são C.
  - (C) vários C não são B.
  - (D) todo B é C.
  - (E) existe A que não é B.

14. Ricardo aplicou, por um mês,  $x$  reais à taxa mensal de juros simples de  $y\%$ . Paulo aplicou, no mesmo mês,  $y$  reais à taxa mensal de juros simples de  $x\%$ . Ao final desse mês, ambos resgataram suas aplicações com os juros, e não pagaram impostos ou qualquer tipo de taxa. Após o resgate, é correto afirmar que, necessariamente, o
- (A) juro de Ricardo foi maior que o de Paulo.
  - (B) juro de Ricardo foi igual ao de Paulo.
  - (C) juro de Ricardo foi  $x\%$  menor que o de Paulo.
  - (D) montante de Ricardo foi maior que o de Paulo.
  - (E) montante de Ricardo foi menor que o de Paulo.
15. Cada um dos 9 funcionários de um departamento foram avaliados com notas inteiras de 0 a 10. Se a média das notas foi exatamente igual a 6, é necessariamente correto que
- (A) algum funcionário foi avaliado com nota 6.
  - (B) a soma de todas as notas não superou 50.
  - (C) ao menos 2 funcionários foram avaliados com a mesma nota.
  - (D) ao menos 4 funcionários não foram avaliados com nota 0.
  - (E) não mais do que 4 funcionários foram avaliados com nota inferior a 6.
16. Dos 20 funcionários de uma empresa multinacional, 9 fazem curso de inglês, 8 fazem curso de francês, 6 fazem curso de alemão, e 2 não fazem curso de línguas. Sabe-se ainda que 5 fazem apenas curso de francês, 6 fazem apenas curso de inglês, 3 fazem apenas curso de alemão, e 1 faz cursos de inglês, francês e alemão. Sorteando-se ao acaso um dos 20 funcionários dessa empresa, a probabilidade de que ele faça exatamente dois cursos das três línguas citadas é de
- (A) 10%
  - (B) 12%
  - (C) 15%
  - (D) 20%
  - (E) 25%
17. Observe os 18 primeiros termos de uma sequência:  
#, &, %, \*, \$, @, #, &, %, \*, \$, @, #, &, %, \*, \$, @, ...
- Mantendo-se o mesmo padrão, o símbolo que aparecerá menos vezes do 1º ao 983º termo dessa sequência será
- (A) %
  - (B) @
  - (C) \*
  - (D) \$
  - (E) #

18. Quatro fichas estão numeradas, de 3 a 6. Álvaro, Breno, Carlos e Diogo pegam uma ficha diferente cada um, e dizem:

Álvaro: – Minha ficha é a de número 3.

Breno: – O número da minha ficha é o dobro do número da ficha de Diogo.

Carlos: – A ficha de Álvaro não é a de número 3.

Diogo: – A ficha de Carlos é a de número 4.

Se apenas um dos quatro está mentindo, a soma dos números das fichas de Breno e Diogo é igual a

(A) 7.

(B) 8.

(C) 9.

(D) 10.

(E) 11.

19. Destinando a mesma quantidade diária de água para 8 municípios, o tanque de água de uma cidade tem reservas suficientes para exatos 30 dias de abastecimento. Decorridos 5 desses 30 dias, 2 novos municípios se agregam aos 8, recebendo, cada um, a mesma quota diária de água que cada um dos 8 municípios vinha recebendo. Se a quota diária de água recebida pelos 10 municípios não for alterada, após o ingresso dos 2 novos municípios, a água remanescente do tanque irá durar mais

(A) 24 dias.

(B) 23 dias.

(C) 22 dias.

(D) 21 dias.

(E) 20 dias.

20. Um investidor aplicou R\$ 101 200,00, à taxa de juro composto de 1,2% ao mês. Se ele deixar o dinheiro aplicado por 10 anos sem taxas ou impostos, ele resgatará um total, em reais, igual a

(A)  $100000 \cdot 1,012^{121}$

(B)  $100000 \cdot 1,012^{11}$

(C)  $100000 \cdot 1,12^{121}$

(D)  $101200 \cdot 1,012^{10}$

(E)  $101200 \cdot 1,0012^{120}$



## ATUALIDADES

### 21. *Procuradores suíços fazem busca e apreensão no HSBC em Genebra*

Procuradores suíços fizeram hoje (18 de fevereiro) uma busca e apreensão de documentos na filial de Genebra do HSBC. Trata-se de uma operação relacionada a um inquérito que investiga possível participação do banco em crimes – o caso SwissLeaks. Os promotores declararam que estavam investigando o HSBC Private Bank e pessoas suspeitas. O banco informou que estava “cooperando com as autoridades suíças”.

(UOL, 18 fev.15. Disponível em: <<http://goo.gl/sYtihm>>. Adaptado)

O escândalo SwissLeaks

- (A) comprovou a participação do banco em casos de tráfico de armas e de drogas que, no Brasil, envolvia o grupo do crime organizado que atua a partir dos presídios e os grupos que atuam nos morros e nos subúrbios do Rio de Janeiro.
- (B) trouxe à tona a cumplicidade ativa do banco com os casos de corrupção que têm sido denunciados no Brasil, o que levou a instituição financeira a devolver ao governo brasileiro centenas de milhares de dólares relacionados aos casos de desvio de dinheiro.
- (C) possibilitou que fossem descobertas as relações entre alguns casos de crimes financeiros e a crise econômica de 2008, fruto da especulação financeira baseada na fraude de balanços contábeis e na comercialização de derivativos sem lastro real.
- (D) revelou que o banco lucrou fazendo negócios com traficantes de armas, traficantes de diamantes e outros criminosos internacionais, além de ter sido cúmplice dos crimes de sonegação fiscal, evasão de divisas e lavagem de dinheiro.
- (E) atestou que o banco conseguiu, desde o início, com suas políticas de segurança e transparência, detectar a origem ilegal de recursos oriundos dos mais diferentes países, colaborando ativamente com a denúncia de corruptos e sonegadores.

### 22. Após certa acomodação em janeiro, o dólar mostrou forte aceleração em relação ao real nas duas primeiras semanas de fevereiro. O movimento foi tão intenso que o real passou a ser a quarta divisa que, no acumulado de 2015, mais perdeu valor em comparação ao dólar, considerando um total de 47 moedas negociadas à vista.

(Estadão, 18 fev.15. Disponível em: <<http://goo.gl/ebCpPO>>. Adaptado)

Um dos fatores que contribuiu para a valorização do dólar foi

- (A) o cenário de recessão persistente nos EUA e na Europa.
- (B) o aumento da inflação nos EUA no final de 2014.
- (C) a possível elevação da taxa de juros nos EUA em 2015.
- (D) a valorização nos últimos anos do preço das *commodities* no mercado internacional.
- (E) o aumento consistente do preço do petróleo desde 2014.

### 23. O ex-diretor da Petrobras, Renato Duque, preso na 10ª fase da Operação Lava Jato, chegou a Curitiba nesta segunda-feira (16 de março), onde deve ficar detido. Ele teve a prisão preventiva decretada pela Justiça Federal e foi detido junto com outros sete investigados por desvios de dinheiro da Petrobras. Esta é a segunda vez que ele termina preso durante as investigações da Lava Jato. Em dezembro, quando os policiais deflagraram a sétima fase da operação, o ex-diretor foi detido, mas conseguiu um *habeas corpus* dias depois.

(G1, 16 mar.15. Disponível em: <<http://goo.gl/rxhDtP>>. Adaptado)

O que motivou a segunda prisão de Renato Duque foi a denúncia de que o ex-diretor da Petrobras

- (A) tentou obstruir as investigações.
- (B) continua lavando dinheiro no exterior.
- (C) pretende fugir do país.
- (D) segue operando ilegalmente na empresa.
- (E) ameaçou delatar políticos caso não fosse inocentado.

### 24. *Governo anuncia pacote anticorrupção e oficializa entrega ao Congresso*

O governo entregou simbolicamente nesta quarta-feira (18 de março) ao Congresso Nacional o chamado “pacote anticorrupção”, conjunto de propostas elaboradas pelo Executivo para inibir e punir irregularidades na administração pública.

(G1, 18 mar.15. Disponível em: <<http://goo.gl/QO9Fc>> Adaptado)

Entre os principais pontos do pacote está

- (A) o financiamento público de campanha.
- (B) a criminalização do *lobby*.
- (C) a transformação da corrupção em crime hediondo.
- (D) a limitação dos mandatos consecutivos no Legislativo.
- (E) a criminalização da prática de caixa 2.

### 25. *Por fé e lucro, Estado Islâmico promove onda de destruição de patrimônio histórico*

O grupo extremista islâmico autodenominado “Estado Islâmico” (EI) começou a destruir mais um sítio arqueológico. A antiga cidade de Hatra foi fundada durante o Império Parta, há mais de dois mil anos, e é considerada pela Unesco, órgão da ONU, um patrimônio histórico da humanidade. Relatos também dão conta de que extremistas incendiaram uma biblioteca, junto com mais de 8 mil manuscritos. Essa onda de destruição de patrimônios históricos e culturais gerou revolta entre autoridades e pesquisadores.

(UOL, 7 mar.15. Disponível em: <<http://goo.gl/0PQqNV>>. Adaptado)

A destruição do patrimônio pelo EI ocorreu

- (A) no Iraque.
- (B) na Palestina.
- (C) no Paquistão.
- (D) no Afeganistão.
- (E) na Líbia.

26. Para controlar o salário gasto em uma prefeitura, foi criada uma planilha do MS-Excel 2010, a partir da sua configuração padrão. A coluna A contém o nome do funcionário, a coluna B contém a idade, a coluna C informa a condição, se o funcionário está aposentado S(Sim) ou N(NÃO), e a coluna D contém o salário pago ao funcionário.


	A	B	C	D
1	Nome do Funcionário	Idade	Aposentado	Salário
2	Alexandre da Silva	55	S	R\$ 5.200,00
3	Beatriz Oliveira de Paiva	52	N	R\$ 3.200,00
4	Claudia Santana	60	S	R\$ 6.200,00
5	Felipe Camargo	59	N	R\$ 2.500,00
6	Gustavo Borges	62	S	R\$ 4.500,00
7	Maria Angelica Silva	50	S	R\$ 4.100,00
8	Paula Nogueira Vison	35	N	R\$ 1.800,00
9				
10	Total de Salários Pagos para Aposentados com idade superior a 58 anos	R\$ 10.700,00		


A fórmula a ser aplicada na célula B10, para calcular o total de salários pagos para os funcionários aposentados e com idade superior a 58 anos, é


- (A) =SOMASES(C2:C8;B2:B8;"S";D2:D8;">58")  
 (B) =SOMASES(D2:D8;B2:B8;">58";C2:C8;"S")  
 (C) =SOMASES(D2:D8;B2:B8;"S";C2:C8;">58")  
 (D) =SOMASE(D2:D8;B2:B8;">58" E "S")  
 (E) =SOMASE(D2:D8;B2:B8;">58";C2:C8;"S")
27. No MS-Word 2010, na sua configuração padrão, a guia \_\_\_\_\_ contém o ícone \_\_\_\_\_ que permite Inserir Nota de Rodapé. Assinale a alternativa que completa corretamente as lacunas.

(A) Referências ... **AB**<sup>1</sup>

(B) Inserir ... **AB**<sup>1</sup>

(C) Layout da Página ... 

(D) Inserir ... 

(E) Inserir ... 

28. No MS-PowerPoint 2010, na sua configuração padrão, em um slide que está sendo preparado, a sequência para incluir um botão de ação que permite executar uma outra apresentação do PowerPoint é:

(A) A partir da guia Inserir, no grupo "Links", clique no



ícone Hiperlink e selecione, na opção "Botões de Ação", a figura do ícone desejado e insira no Slide; após esse procedimento, irá aparecer a janela de diálogo chamada "Configurar ação". Escolha a opção "Executar programa", clique no botão "Procurar" e selecione a apresentação que deseja que seja executada.

(B) A partir da guia Inserir, no grupo "Texto", clique no



ícone WordArt e selecione, na opção "Botões de Ação", a figura do ícone desejado e insira no Slide; após esse procedimento, irá aparecer a janela de diálogo chamada "Configurar ação". Escolha a opção "Executar programa", clique no botão "Procurar" e selecione a apresentação que deseja que seja executada.

(C) A partir da guia Inserir, no grupo "Ilustrações", clique



no ícone Formas e selecione, na opção "Botões de Ação", a figura do ícone desejado e insira no Slide; após esse procedimento, irá aparecer a janela de diálogo chamada "Configurar ação". Escolha a opção "Executar programa", clique no botão "Procurar" e selecione a apresentação que deseja que seja executada.

(D) A partir da guia Design, no grupo "Figura", clique no



ícone SmartArt e selecione, na opção "Botões de Ação", a figura do ícone desejado e insira no Slide; após esse procedimento, irá aparecer a janela de diálogo chamada "Configurar ação". Escolha a opção "Executar programa", clique no botão "Procurar" e selecione a apresentação que deseja que seja executada.

(E) A partir da guia Design, no grupo "Figura", clique no



ícone Clip-Art e selecione, na opção "Botões de Ação", a figura do ícone desejado e insira no Slide; após esse procedimento, irá aparecer a janela de diálogo chamada "Configurar ação". Escolha a opção "Executar programa", clique no botão "Procurar" e selecione a apresentação que deseja que seja executada.

## CONHECIMENTOS ESPECÍFICOS

29. No Windows 7, a partir da sua configuração padrão, na sua instalação serão criados, por padrão, 4 Bibliotecas, que são:

- (A) Arquivos, Músicas, Fotos e Vídeos.
- (B) Arquivos, Download, Músicas e Vídeos.
- (C) Documentos, Download, Músicas e Vídeos.
- (D) Documentos, Músicas, Imagens e Vídeos.
- (E) Documentos, Músicas, Fotos e Vídeos.

30. Diversas empresas criaram vários navegadores de internet, por exemplo: a Microsoft desenvolveu o navegador \_\_\_\_\_, já a Google desenvolveu o navegador \_\_\_\_\_, e a Mozilla desenvolveu o \_\_\_\_\_.

Assinale a alternativa que preenche, correta e respectivamente, as lacunas.

- (A) Windows Explorer ... Chrome ... Thunderbird
- (B) Windows Explorer ... Safari ... Thunderbird
- (C) Internet Explorer ... Safari ... Firefox
- (D) Internet Explorer ... Chrome ... Thunderbird
- (E) Internet Explorer ... Chrome ... Firefox

31. A Estrutura Conceitual da Contabilidade, aprovada pelo Pronunciamento Técnico 00 do CPC, define-o como um recurso controlado pela entidade, decorrente do resultado de eventos passados, e do qual se espera que fluam futuros benefícios econômicos para a entidade. A Estrutura está se referindo ao

- (A) Ativo.
- (B) Passivo.
- (C) Resultado Abrangente.
- (D) Resultado do Exercício.
- (E) Patrimônio Líquido.

32. As contas patrimoniais

- (A) são encerradas no final do exercício.
- (B) nem sempre alteram o patrimônio líquido quando mudam de valor.
- (C) não podem apresentar saldo nulo.
- (D) quando classificadas no Passivo, aumentam por débito.
- (E) quando classificadas no Patrimônio Líquido, diminuem por crédito.

33. Como decorrência das alterações introduzidas pelas Leis nº 11.638/2007 e nº 11.941/2009, na nova estrutura do Balanço Patrimonial:

- (A) os prêmios recebidos na emissão de debêntures passaram a ser contabilizados em contrapartida a uma conta de reserva de capital.
- (B) o grupo de Resultados de Exercícios Futuros foi mantido, devendo nele serem contabilizados as receitas e custos diferidos.
- (C) houve a criação do Ativo Intangível, de modo que as marcas desenvolvidas internamente pela pessoa jurídica puderam ser contabilizadas no Ativo.
- (D) a possibilidade de constituir reservas de reavaliação foi extinta, mantido o direito de sua conservação pelas companhias que as constituíram até 31.12.2007.
- (E) foi mantido o Ativo Diferido, onde, entretanto, passaram a ser classificados apenas as despesas pré-operacionais da companhia.

- 34.** O estoque inicial da Cia. Comercial Estrela do Norte, em outubro de 2014, era constituído de 500 unidades da mercadoria X, adquiridas ao custo unitário de R\$ 100,00 (preço líquido de impostos recuperáveis). Durante o mês, ocorreram as seguintes movimentações na ficha de estoque dessa mercadoria, dispostas em ordem cronológica, sendo que todos os preços já estão líquidos dos impostos recuperáveis:
- 1) Aquisição de 1.000 unidades, ao preço de R\$ 120,00;
  - 2) Venda de 1.200 unidades, ao preço de R\$ 300,00;
  - 3) Aquisição de 2.000 unidades, ao preço de R\$ 125,00;
  - 4) Venda de 1.500 unidades, ao preço de R\$ 280,00.
- A companhia utiliza o método PEPS para avaliação de seus estoques. O estoque final dessa mercadoria no final do mês de outubro de 2014, a ser classificado no Ativo Circulante, correspondia, em R\$, a
- (A) 96.000,00.
  - (B) 80.000,00.
  - (C) 100.000,00.
  - (D) 115.000,00.
  - (E) 126.000,00.
- 35.** Assinale a alternativa com a conta que é sempre classificada no subgrupo Ativo Realizável a Longo Prazo, pertencente ao Ativo Não Circulante.
- (A) Duplicatas a Receber.
  - (B) Participações Societárias Temporárias.
  - (C) Propriedades para Investimento.
  - (D) Direitos Autorais.
  - (E) Empréstimos a Sócios ou Acionistas.
- 36.** A Cia. Alvorada possui 60% das ações da Cia. Gardênia. O investimento está registrado na contabilidade da investidora, avaliado pela equivalência patrimonial, pelo valor de R\$ 1.200.000,00 em 31.12.2013. No exercício findo em 31.12.2014, a investida apresentou um lucro líquido do exercício correspondente a R\$ 780.000,00. A investidora deverá, em consequência, registrar um resultado positivo da equivalência patrimonial (em R\$) de
- (A) 720.000,00.
  - (B) 780.000,00.
  - (C) 468.000,00.
  - (D) 432.000,00.
  - (E) 525.000,00.
- 37.** A Cia. Industrial América do Norte adquiriu uma máquina para utilização em suas atividades industriais por R\$ 2.700.000,00. O referido imobilizado foi colocado em uso pela companhia no mês de abril de 2010. A vida útil da máquina, prevista pelo departamento de engenharia da companhia, foi de 20 anos, com um valor residual estimado em R\$ 300.000,00. Os valores da depreciação foram revistos ao longo do tempo e a vida útil e o valor residual foram mantidos como corretos. O valor contábil da máquina no Balanço Patrimonial da companhia, levantado em 31.12.2014, correspondia, em R\$, a
- (A) 1.800.000,00.
  - (B) 1.860.000,00.
  - (C) 2.058.750,00.
  - (D) 2.130.000,00.
  - (E) 2.025.000,00.
- 38.** O lucro líquido do exercício, em 2014, da Cia. Amarante correspondeu a R\$ 900.000,00. Houve um aumento de capital, totalmente subscrito e integralizado em numérico de R\$ 500.000,00 em 2014. A companhia constituiu a reserva legal do exercício por meio da aplicação da percentagem de 5% prevista em lei. Os dividendos propostos pela administração equivaleram a 40% do lucro líquido do exercício menos o valor da reserva legal, conforme previsto no estatuto. O valor restante na conta de Lucros Acumulados foi transferido integralmente para a constituição de outras reservas de lucros. Houve a constituição de um ajuste de avaliação patrimonial positivo de R\$ 80.000,00, referentes a instrumentos financeiros. Sabendo-se que o valor do patrimônio líquido da companhia em 31.12.2013 era de R\$ 1.300.000,00, o valor desse mesmo patrimônio líquido em 31.12.2014 corresponderá, em R\$, a
- (A) 2.438.000,00.
  - (B) 2.393.000,00.
  - (C) 2.518.000,00.
  - (D) 2.440.000,00.
  - (E) 1.938.000,00.

39. A Cia. Ouro Branco era detentora de 60% do capital da Cia. Ametista, participação societária adquirida pelo seu valor patrimonial. A investidora incorporou a investida. Na data do evento, o Patrimônio Líquido da investidora era de R\$ 1.000.000,00 e da investida, R\$ 500.000,00. Com base nessas informações, pode-se concluir que o Patrimônio Líquido da sucessora, após o evento, correspondia, em R\$, a
- (A) 1.100.000,00.
  - (B) 1.500.000,00.
  - (C) 1.000.000,00.
  - (D) 1.300.000,00.
  - (E) 1.200.000,00.
40. A Cia. Diamante apresentou um índice de liquidez corrente em seu Balanço Patrimonial de 31.12.2014 igual a 2. O Passivo Circulante da companhia na mesma data era de R\$ 500.000,00, representando 20% do valor do Passivo mais o Patrimônio Líquido na análise vertical desse grupo. Pode-se concluir, com base nas informações fornecidas, que o valor do Ativo não Circulante da companhia nesse mesmo balanço equivaleu, em R\$, a
- (A) 1.000.000,00.
  - (B) 1.500.000,00.
  - (C) 1.250.000,00.
  - (D) 2.500.000,00.
  - (E) 1.750.000,00.
41. De acordo com a legislação tributária brasileira, é correto afirmar que:
- (A) as taxas podem ter bases de cálculo ou fato gerador próprio de impostos.
  - (B) nenhum tributo pode ser cobrado no mesmo exercício financeiro em que haja sido publicada a lei que os instituiu ou aumentou.
  - (C) o imposto sobre transmissão *causa mortis* e doações é de competência municipal.
  - (D) a legislação tributária aplica-se a ato ou fato pretérito ainda não definitivamente julgado quando deixe de defini-lo como infração.
  - (E) na ausência de disposição expressa, a autoridade competente para aplicar a legislação tributária utilizará sucessivamente, na ordem indicada: os princípios gerais de direito tributário, os princípios gerais de direito público, a analogia e a equidade.
42. Extingue o crédito tributário regularmente constituído pelo lançamento:
- (A) a moratória.
  - (B) a remissão.
  - (C) o depósito de seu montante integral.
  - (D) a reclamação ou recurso.
  - (E) o parcelamento.
43. A Dívida Ativa do ente público
- (A) compreende os restos a pagar, o serviço da dívida, os depósitos e os débitos de tesouraria.
  - (B) compreende somente as obrigações legais relativas a tributos e seus adicionais.
  - (C) se for executável em até 12 meses, é denominada dívida flutuante, e acima desse prazo, é denominada dívida fundada.
  - (D) decorre apenas de obrigações não adimplidas de empréstimos efetuados pelo ente público.
  - (E) é constituída por créditos do ente público em relação a terceiros, cuja liquidez e certeza foi apurada pela autoridade competente.
44. Em relação às transferências constitucionais que recebe de outros entes da federação, é correto afirmar que os municípios participam com
- (A) cinquenta por cento (50%) do produto da arrecadação do imposto cobrado pela União sobre a propriedade territorial rural, relativamente aos imóveis neles situados.
  - (B) vinte por cento (20%) do produto da arrecadação do imposto do Estado sobre operações relativas à circulação de mercadorias e sobre prestações de serviços de transporte interestadual e intermunicipal e de comunicação.
  - (C) vinte por cento (20%) do imposto de renda e proventos de qualquer natureza, por meio do Fundo de Participação dos Municípios.
  - (D) vinte e cinco por cento (25%) do produto da arrecadação do imposto do Estado sobre a propriedade de veículos automotores licenciados em seus territórios.
  - (E) dez por cento (10%) do produto da arrecadação do imposto sobre produtos industrializados, por meio do Fundo de Participação dos Municípios.

45. Numa economia, os valores do produto nominal (PN) e do índice geral de preços (IGP) estão reproduzidos na tabela a seguir em números índice, onde o ano de 2008 = 100.

Ano	PN	IGP
2008	100	100
2009	108	104
2010	102	105
2011	112	108
2012	120	110
2013	140	115
2014	144	120

O crescimento real da economia entre 2014 e 2008 equivaleu a

- (A) 16%
- (B) 18%
- (C) 20%
- (D) 24%
- (E) 30%

46. Num modelo keynesiano simples para uma economia fechada, onde consumo privado é representado pela função  $C = 200 + 0,8 Y_d$ , onde  $C$  = consumo privado e  $Y_d$  = renda disponível, a renda de pleno emprego foi estimada como sendo 4.000. Sabe-se que, nessa economia:

- o investimento privado autônomo é igual a 400.
- os gastos do governo, igual a 200.
- a tributação autônoma, igual a 150.

O aumento necessário nos gastos do governo, tudo o mais mantido constante, para que essa economia pudesse alcançar o nível de renda de pleno emprego, será de

- (A) 400.
- (B) 600.
- (C) 80.
- (D) 480.
- (E) 120.

47. No modelo IS-LM, em uma economia aberta com taxas de câmbio flexíveis, mobilidade perfeita de capitais e que esteja abaixo do nível de renda de pleno emprego, o Governo usou uma medida de política econômica que diminuiu o desemprego no curto prazo. Entre as alternativas a seguir, assinale qual seria a única medida que atingiria esse resultado:

- (A) aumento dos gastos do governo.
- (B) aumento da percentagem de depósito compulsório dos bancos comerciais no Banco Central.
- (C) aumento da tributação.
- (D) resgate de títulos da dívida pública no mercado aberto.
- (E) diminuição da tributação.

48. É correto afirmar que

- (A) o modelo de Solow sugere que, caso o Governo consiga estimular a poupança privada, o consumo por trabalhador será máximo quando a produtividade marginal do trabalhador se igualar à taxa de depreciação do estoque de capital da economia.
- (B) no modelo de consumo intertemporal, o aumento da taxa de juros, quando o consumidor é um poupador no primeiro período, inequivocamente diminui o consumo nesse período de tempo.
- (C) no modelo IS-LM para uma economia fechada, o efeito de uma política fiscal expansiva geralmente é a diminuição da taxa de juros da economia e o aumento do produto de equilíbrio.
- (D) a equivalência ricardiana no modelo de consumo intertemporal sugere que uma redução de impostos conseguirá aumentar o consumo presente, desde que não haja restrições de crédito e os consumidores sejam racionais e se preocupem com as gerações futuras.
- (E) na curva de Phillips expandida pelas expectativas, mesmo no longo prazo, há um "trade-off" entre a taxa de inflação e o nível de desemprego da economia.

49. Sobre o modelo de gestão pública por resultados, é correto afirmar que
- (A) o orçamento brasileiro aprovado pelo Congresso Nacional preenche todos os requisitos para ser considerado um orçamento por resultados.
  - (B) o orçamento por resultados contribui para que o orçamento seja um contrato implícito de gestão e não mera declaração de intenções.
  - (C) esse modelo visa estimular que o orçamento do ano corrente seja o mesmo do ano anterior ajustado pela taxa de crescimento das receitas públicas.
  - (D) nesse modelo, a ênfase é dada no cumprimento estrito das formalidades para a execução orçamentária da despesa.
  - (E) o modelo implica em que os agentes públicos sejam remunerados de acordo com sua produtividade.
50. Na gestão pública empreendedora,
- (A) a maior parcela da execução fica a cargo dos agentes públicos, cabendo à iniciativa privada apenas as tarefas residuais.
  - (B) tem-se por objetivo principal a redução do tamanho do Estado, por meio da diminuição dos gastos públicos.
  - (C) dá-se ênfase ao papel dos cidadãos na participação das decisões que afetam sua comunidade e à colaboração com a fiscalização dos serviços públicos.
  - (D) menospreza-se a prevenção dos problemas enfrentados pelo Estado, procurando resolvê-los à medida de seu aparecimento, em virtude da escassez de recursos inerentes ao poder público.
  - (E) a administração é centralizadora, cabendo à burocracia diretora dos órgãos públicos todas as decisões importantes em termos de gestão e a responsabilidade integral pelos seus resultados.
51. Segundo a NBC TA 200, o risco de auditoria é função dos riscos
- (A) de amostragem e de aderência.
  - (B) inerentes e sistemáticos.
  - (C) sistemáticos e não sistemáticos.
  - (D) de distorções relevantes e de detecção.
  - (E) de aderência e materialidade.
52. O auditor independente dos relatórios financeiros da Cia. Flor de Lis constatou em seus trabalhos, por meio de carta endereçada a um cliente, que este já havia quitado uma duplicata a pagar, ainda não baixada na escrituração contábil da entidade, e que um investimento avaliado pela equivalência patrimonial estava registrado por um valor menor que o correto por ter sido utilizada uma percentagem menor do que a participação da companhia na investida. Os procedimentos adotados por esse auditor foram, respectivamente:
- (A) inspeção e confirmação.
  - (B) revisão analítica e observação.
  - (C) inspeção e revisão analítica.
  - (D) observação e cálculo.
  - (E) confirmação e cálculo.
53. Proposta de Emenda Constitucional pretende revogar o inciso I do artigo 150 da Constituição Federal, que prevê que é vedado à União, aos Estados, ao Distrito Federal e aos Municípios exigir ou aumentar tributo sem lei que o estabeleça. A respeito, é correto afirmar que
- (A) o Poder Constituinte Derivado Reformador não permite a revogação de dispositivos da Constituição Federal, apenas a inserção de novas previsões a par das já existentes.
  - (B) a Proposta de Emenda Constitucional em questão não pode ser objeto de deliberação, posto que tende a abolir direitos e garantias individuais.
  - (C) para ser aprovada, a Proposta de Emenda Constitucional deverá ser aprovada em dois turnos de votação, em ambas as Casas Legislativas, pelo voto de dois terços de seus membros.
  - (D) a Casa na qual tenha sido concluída a votação enviará a Proposta de Emenda Constitucional ao Presidente da República, que, aquiescendo, a sancionará.
  - (E) rejeitada ou havida por prejudicada, a Proposta de Emenda Constitucional poderá ser objeto de nova proposta na mesma sessão legislativa, se reapresentada por um terço, no mínimo, dos membros da Câmara dos Deputados ou do Senado Federal.

54. Em razão da autonomia municipal constitucionalmente estabelecida, o Estado não intervirá em seus Municípios, nem a União nos Municípios localizados em Território Federal, exceto quando
- (A) deixar de ser paga, sem motivo de força maior, por seis meses consecutivos, a dívida fundada.
  - (B) não tiver sido aplicado o mínimo exigido da receita municipal na educação e nos serviços públicos de saúde e de segurança pública.
  - (C) o Tribunal de Justiça der provimento a representação para assegurar a observância de princípios indicados na legislação estadual.
  - (D) o Tribunal de Justiça der provimento a representação para prover a execução de lei, de ordem ou de decisão administrativa.
  - (E) não forem prestadas contas devidas, na forma da lei.
55. Cinquenta por cento do produto da arrecadação do imposto do Estado de São Paulo sobre a propriedade de veículos automotores licenciados no território do Município de São José dos Campos pertence a essa Municipalidade. Suponha-se, por hipótese, que o Município de São José dos Campos não cumpra com medidas, impostas pelo Estado, de economia de água por conta da crise hídrica. Em consequência, o Estado de São Paulo retém os valores arrecadados a título de IPVA e condiciona seu pagamento ao cumprimento das metas de economia de água. A conduta do Estado de São Paulo, nesse caso, pode ser considerada
- (A) irregular, pois a Constituição Federal considera que a retenção de valores devidos a título de repartição de receitas é possível desde que haja autorização do Senado Federal.
  - (B) regular, pois permitida pela Constituição Federal, que considera que a retenção de valores pelo Estado é possível, desde que haja ato administrativo específico e motivado.
  - (C) irregular, por previsão expressa da Constituição Federal, que veda a retenção ou qualquer restrição à entrega e ao emprego dos recursos atribuídos aos Municípios por repartição de receitas tributárias, não sendo tal hipótese prevista como exceção.
  - (D) regular, pois a Constituição Federal prevê que o Estado pode reter tais valores por motivos de força maior e para pagamento de seus créditos.
  - (E) irregular, pois a conduta estadual somente estaria amparada se houvesse um decreto federal de calamidade pública no âmbito do Estado de São Paulo ou do Município de São José dos Campos.
56. Assinale a alternativa que discorre corretamente sobre as várias modalidades de obrigação previstas no Código Civil.
- (A) Nas obrigações de restituir coisa certa, se a coisa restituível se deteriorar sem culpa do devedor, recebê-la-á o credor, tal qual se ache, sem direito a indenização.
  - (B) Em obrigações de dar coisa incerta, determinada pelo gênero e pela quantidade, a escolha pertence ao credor, se o contrário não resultar do título da obrigação.
  - (C) Quanto às obrigações de não fazer, praticado pelo devedor o ato, a cuja abstenção se obrigara, o credor não poderá desfazer ou mandar desfazer o ato, ainda que em caso de urgência.
  - (D) Nas obrigações alternativas, a escolha cabe ao devedor, que poderá obrigar o credor a receber parte em uma prestação e parte em outra.
  - (E) A obrigação é indivisível quando a prestação tem por objeto uma coisa não suscetível de divisão que não perde essa qualidade, mesmo quando se resolver em perdas e danos.
57. A respeito dos títulos de crédito, prevê o Código Civil que
- (A) é a prazo de vista o título de crédito que não contenha indicação de vencimento.
  - (B) o aval pode ser total ou parcial, no verso ou no anverso do título.
  - (C) é considerado lugar de pagamento, quando não indicado no título, o domicílio do credor.
  - (D) o credor não é obrigado a receber o pagamento antes do vencimento do título.
  - (E) a prestação não é devida se o título entrar em circulação contra a vontade do emitente.
58. A conduta da Administração Pública de apreender a habilitação de motorista infrator encontra respaldo no
- (A) exercício do poder de polícia judiciária.
  - (B) poder discricionário da Administração Pública, com respaldo legal.
  - (C) poder decorrente de hierarquia.
  - (D) princípio da supremacia do interesse público.
  - (E) exercício de poder de polícia administrativa.



**59.** Assinale a alternativa que corretamente disserta sobre aspectos da responsabilidade civil do Estado.

- (A) Quando se trata de ato de terceiros, como é o caso de danos causados por multidão, o Estado responderá objetivamente, independentemente da comprovação da omissão estatal.
- (B) Os cidadãos podem responsabilizar o Estado por atos de parlamentares, ainda que eles tenham sido eleitos pelos próprios cidadãos.
- (C) A responsabilidade por leis inconstitucionais independe da prévia declaração do vício formal ou material pelo Supremo Tribunal Federal.
- (D) Sendo a existência do nexo de causalidade o fundamento da responsabilidade civil do Estado, esta deixará de existir quando houver culpa exclusiva da vítima.
- (E) Em relação às leis de efeitos concretos, não incide a responsabilidade do Estado, porque elas fogem às características da generalidade e abstração dos atos normativos.

**60.** Cidadão solicita a poda de uma árvore que se encontra no passeio público em frente a sua residência, ao agente público municipal, responsável por atividades de zeladoria urbana. Tal agente afirma que tal serviço demorará de 2 a 3 meses, mas que se o cidadão quiser maior rapidez, pode lhe pagar R\$ 100,00, que enviará a equipe para realizar o serviço no dia seguinte. O interessado paga a quantia e recebe o serviço, conforme combinado. Nesse caso, as condutas do agente público municipal e do cidadão são crimes contra a Administração Pública, respectivamente previstos como

- (A) corrupção passiva e corrupção ativa.
- (B) corrupção ativa e peculato.
- (C) peculato e corrupção passiva.
- (D) concussão e peculato.
- (E) corrupção ativa e concussão.

## REDAÇÃO

### Texto 1

Por que o voto é obrigatório no Brasil? Há argumentos favoráveis e contrários a esse dever que voltam à discussão em períodos de campanha. Se por um lado votar ajuda a ter um compromisso com a política, por outro o voto obrigatório pode gerar uma escolha sem critérios concretos.

Com o compromisso de participar do pleito, a população tem contato com a política a cada dois anos e isso é benéfico para a sociedade brasileira, argumenta o professor de Gestão Pública da Universidade de São Paulo (USP), Wagner Pralon Mancuso. “Querendo ou não, as pessoas ouvem falar sobre política e, com maior ou menor grau de envolvimento, participam do processo eleitoral”, afirma Mancuso.

Uma das principais ideias dos defensores do voto facultativo é a de que somente eleitores que tivessem interesse pela política – e em atribuir um voto consciente – participariam da eleição. Para o professor de Ciência Política da Facinter, Luiz Domingos Costa, essa ideia pode resultar no entendimento de que um eleitor é melhor do que outro, por isso alguns podem reunir a capacidade de decisão. “É um argumento preconceituoso e que pode levar à polarização extrema do debate e ao elitismo”, diz Costa. Segundo os cientistas políticos, outra consequência negativa do voto facultativo é a queda da representatividade, pois há redução no número de eleitores que comparecem para votar.

(Fernanda Leitólis. *A eterna polémica do voto obrigatório ou facultativo no Brasil*. 25.ago.2012. [www.gazetadopovo.com.br](http://www.gazetadopovo.com.br). Adaptado)

### Texto 2

Pesquisas de opinião mostram um elevado índice de rejeição ao voto obrigatório. Um levantamento do Instituto Datafolha divulgado em maio de 2014 aponta que 61% dos eleitores brasileiros são contra a imposição.

Para analistas, permitir que o eleitor decida se quer ou não votar é um risco para o sistema eleitoral brasileiro. A obrigatoriedade, argumentam, ainda é necessária devido ao cenário crítico de compra e venda de votos e à formação política deficiente de boa parte da população.

O sociólogo Eurico Cursino, da UnB, avalia que o dever de participar das eleições é uma prática pedagógica. Ele argumenta que essa é uma forma de canalizar conflitos graves ligados às desigualdades sociais no país. “A democracia só se aprende na prática. Tornar o voto facultativo é como permitir à criança decidir se quer ir ou não à escola”, afirma.

Já para os defensores do voto não obrigatório, participar das eleições é um direito e não um dever. O voto facultativo, dizem, melhora a qualidade do pleito, que passa a contar majoritariamente com eleitores conscientes. E incentiva os partidos a promover programas eleitorais educativos sobre a importância do voto.

O sistema voluntário é adotado em quase todo mundo. O voto é compulsório em apenas 31 países, incluindo o Brasil. O levantamento é do Instituto Internacional para Democracia e Assistência Eleitoral (Idea), que tem sede na Suécia.

De acordo com o órgão, a quantidade de votos brancos e nulos em países que obrigam o eleitor a ir às urnas é muito maior. Em países como Quênia, Dinamarca e Tunísia, onde o voto é facultativo, os índices de abstenção são inferiores a 1%, enquanto que no Peru e no Equador, onde os cidadãos são obrigados a votar, a taxa de abstenção é de cerca de 20%. No Brasil, o índice foi de 8% nas últimas eleições. “Isso indica que as pessoas só vão às urnas porque são obrigadas. Muitas não gostariam de expressar um voto. O cenário com altos índices de abstenção é comum aos sistemas eleitorais que adotam o voto compulsório”, diz Abdurashid Solijonov, do setor de processos eleitorais do Idea.

“Há outras medidas mais eficazes para incentivar a participação dos cidadãos, como aumentar a satisfação dos eleitores com os governos, adotar um sistema eleitoral proporcional e promover debates públicos”, argumenta o especialista.

Apesar de estar entre uma minoria no cenário mundial, o Brasil deve manter a política de obrigatoriedade do voto, segundo o presidente da Comissão Eleitoral da OAB do Rio Grande do Sul, Augusto Mayer. Para o advogado, os países que adotam o sistema voluntário de participação eleitoral cultivam uma pedagogia intensa em torno da valorização do voto, o que não acontece no Brasil. A votação facultativa em países democráticos se deve ao alto grau de politização da sociedade e a uma presença mais forte da cultura de cidadania.

(Karina Gomes. *O voto deveria ser facultativo no Brasil?* 25.ago.2014. [www.cartacapital.com.br](http://www.cartacapital.com.br). Adaptado)

Com base na leitura dos textos e em seus próprios conhecimentos, redija uma dissertação, na norma-padrão da língua portuguesa, posicionando-se em relação ao seguinte tema

**A VOTAÇÃO NO BRASIL DEVERIA SER FACULTATIVA OU OBRIGATÓRIA?**

## **REDAÇÃO**

Em hipótese alguma será considerado o texto escrito neste espaço.

RASCUNHO

**NÃO ASSINE ESTA FOLHA**










PMSJ 1402



02035001



# PREFEITURA MUNICIPAL DE SÃO JOSÉ DOS CAMPOS

CONCURSO PÚBLICO

## 035. PROVA DE REDAÇÃO (Folha de Redação)

AUDITOR TRIBUTÁRIO MUNICIPAL – GESTÃO TRIBUTÁRIA / TECNOLOGIA DA INFORMAÇÃO

- ◆ Confira seus dados impressos nesta folha e assine apenas no local indicado.
- ◆ Destaque esta folha com cuidado e entregue ao fiscal juntamente com os outros materiais ao sair.
- ◆ Fique atento às demais orientações contidas na capa da prova objetiva.

Nome do candidato

Prédio

Sala

Carteira

Inscrição

USO EXCLUSIVO DO FISCAL

AUSENTE

Assinatura do candidato

