

CÂMARA MUNICIPAL DE CAIEIRAS
ESTADO DE SÃO PAULO

CONCURSO PÚBLICO

010. PROVA OBJETIVA

ASSISTENTE LEGISLATIVO

- ◆ Você recebeu sua folha de respostas e este caderno contendo 60 questões objetivas.
- ◆ Confira seu nome e número de inscrição impressos na capa deste caderno e na folha de respostas.
- ◆ Quando for permitido abrir o caderno, verifique se está completo ou se apresenta imperfeições. Caso haja algum problema, informe ao fiscal da sala.
- ◆ Leia cuidadosamente todas as questões e escolha a resposta que você considera correta.
- ◆ Marque, na folha de respostas, com caneta de tinta azul ou preta, a letra correspondente à alternativa que você escolheu.
- ◆ A duração da prova é de 3 horas e 30 minutos, já incluído o tempo para o preenchimento da folha de respostas.
- ◆ Só será permitida a saída definitiva da sala e do prédio após transcorridos 75% do tempo de duração da prova.
- ◆ Ao sair, você entregará ao fiscal a folha de respostas e este caderno, podendo levar apenas o rascunho de gabarito, localizado em sua carteira, para futura conferência.
- ◆ Até que você saia do prédio, todas as proibições e orientações continuam válidas.

AGUARDE A ORDEM DO FISCAL PARA ABRIR ESTE CADERNO DE QUESTÕES.

CONHECIMENTOS GERAIS

LÍNGUA PORTUGUESA

Leia o texto para responder às questões de números 01 a 06.

O fator sorte

As pessoas mais inclinadas a buscar significados nos acontecimentos tendem de fato a encontrá-los, ainda que, para isso, tenham de subestimar as leis da probabilidade, no intuito de encontrar um maior número de “coincidências”, que atribuem à sorte.

Há alguns anos, o físico Richard A. J. Matthews estudou as chamadas leis de Murphy, a irônica suma do pessimismo resumida na máxima “se alguma coisa pode dar errado, dará”. Matthews investigou, em particular, por que uma fatia de pão com manteiga cai geralmente com o lado da manteiga para baixo. A prevalência da “falta de sorte” foi confirmada por um estudo experimental, patrocinado por um fabricante de manteiga: o aparente azar deve-se simplesmente à relação física entre as dimensões da fatia e a altura em que estava colocada.

São também explicáveis outros tipos de infortúnio, como o fato de que, quando duas meias soltas são retiradas da gaveta, geralmente elas não são do mesmo par. Além disso, tendemos a dar mais atenção a fatos rotineiros que nos frustram (como perder o ônibus por chegarmos ao ponto com segundos de atraso), em vez de contabilizar o grande número de ocasiões em que não tivemos contratemplos. Essa atitude contribui para reforçar nossos preconceitos e nos fazer ignorar as leis da probabilidade.

O psicólogo Richard Wiseman, professor da Universidade de Hertfordshire, na Inglaterra, também conduziu um estudo interessante sobre os mecanismos relacionados à sorte. O projeto, financiado por várias instituições, entre as quais a Associação Britânica para o Avanço da Ciência, gerou um manual chamado “O fator sorte”, traduzido em mais de 20 idiomas.

Ele publicou um anúncio no jornal solicitando que pessoas particularmente sortudas ou azaradas entrassem em contato com ele para que seus comportamentos fossem analisados. Descobriu que cerca de 9% desses indivíduos podiam ser considerados azarados e 12% favorecidos pela sorte. Todos os outros entravam na média.

Wiseman deu aos participantes um jornal, solicitando que contassem as fotos impressas e prometendo um prêmio aos que o fizessem corretamente. Ora, o número solicitado estava gravado de forma evidente sobre uma das páginas, algo que muitos “azarados” não perceberam, pois estavam concentrados demais na tarefa.

A análise experimental dos traços de personalidade que distinguiam sortudos e azarados permitiu concluir que esses últimos são mais tensos e concentrados, ao passo que os sortudos tendem a considerar as coisas de forma mais relaxada, mas sem perder de vista o contexto geral. Assim, se considerarmos os dados coletados, ter sorte pode significar, pelo menos em parte, saber fazer boas escolhas e perceber as ocasiões mais vantajosas para si mesmo.

(Gláucia Leal. Disponível em: <http://blogs.estadao.com.br/pensar-psi/o-fator-sorte>. Adaptado)

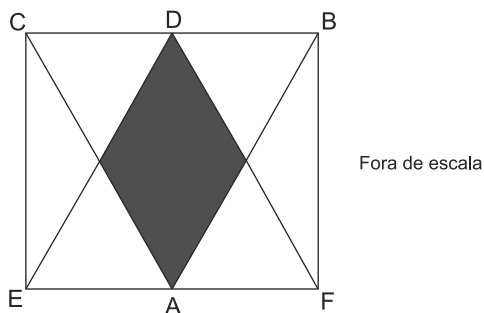
01. Na opinião da autora,
- (A) as situações de azar são mais frequentes para quem atua com displicência.
 - (B) os casos de boa ou má sorte devem ser interpretados como predestinação.
 - (C) a sorte relaciona-se à maneira de atribuir sentido e de reagir aos eventos.
 - (D) as pessoas consideradas sortudas são mais supersticiosas que as azaradas.
 - (E) o sortudo é aquele que realiza suas atividades com mais zelo e disposição.
02. De acordo com o texto, as leis da probabilidade podem ser usadas para
- (A) mostrar que inexistem explicações para os infortúnios.
 - (B) ratificar que a sorte é capaz de alterar as leis da física.
 - (C) confirmar a ideia de que os acontecimentos são regidos pela imprevisibilidade.
 - (D) justificar a interpretação de que os fatos são fruto da sorte.
 - (E) questionar aquilo que muitos consideram ação da sorte.
03. Assinale a alternativa em que os trechos entre colchetes estabelecem, entre si, uma relação de consequência e causa, respectivamente.
- (A) [por que uma fatia de pão com manteiga] [cai geralmente com o lado da manteiga para baixo]
 - (B) [quando duas meias soltas são retiradas da gaveta] [geralmente elas não são do mesmo par]
 - (C) [perder o ônibus] [por chegarmos ao ponto com segundos de atraso]
 - (D) [tendemos a dar mais atenção] [a fatos rotineiros que nos frustram]
 - (E) [análise experimental dos traços de personalidade] [que distinguiam sortudos e azarados]
04. Assinale a alternativa que apresenta um sinônimo para o termo em destaque na frase a seguir.
- Essa atitude contribui para **reforçar** nossos preconceitos e nos fazer ignorar as leis da probabilidade. (3º parágrafo)
- (A) objetar
 - (B) corroborar
 - (C) concernir
 - (D) refutar
 - (E) inquirir

- 05.** Ele publicou um anúncio no jornal solicitando que pessoas particularmente sortudas ou azaradas entrassem em contato com ele **para** que seus comportamentos fossem analisados. (5º parágrafo)
- O termo destacado nessa passagem do texto expressa ideia de
- (A) proporção.
 - (B) finalidade.
 - (C) concessão.
 - (D) conformidade.
 - (E) conclusão.
- 06.** O trecho do texto que se mantém correto e com a mensagem inalterada após o acréscimo da pontuação está em:
- (A) As pessoas mais inclinadas a buscar significados nos acontecimentos tendem de fato a encontrá-los... (1º parágrafo)
As pessoas, mais inclinadas a buscar significados nos acontecimentos, tendem de fato, a encontrá-los...
 - (B) ... tendemos a dar mais atenção a fatos rotineiros que nos frustram... (3º parágrafo)
... tendemos a dar mais atenção, a fatos rotineiros, que nos frustram...
 - (C) ... ter sorte pode significar, pelo menos em parte, saber fazer boas escolhas e perceber as ocasiões mais vantajosas para si mesmo. (7º parágrafo)
... ter sorte pode significar, pelo menos em parte, saber fazer boas escolhas e perceber, as ocasiões, mais vantajosas para si mesmo.
 - (D) ... por que uma fatia de pão com manteiga cai geralmente com o lado da manteiga para baixo. (2º parágrafo)
... por que uma fatia de pão com manteiga cai, geralmente, com o lado da manteiga para baixo.
 - (E) ... o número solicitado estava gravado de forma evidente sobre uma das páginas, algo que muitos “azarados” não perceberam... (6º parágrafo)
... o número solicitado, estava gravado de forma evidente sobre uma das páginas, algo que muitos, “azarados”, não perceberam...
- 07.** A frase cujas formas verbais estão em conformidade com a norma-padrão da língua portuguesa é:
- (A) Os candidatos que se comprometeram com a pesquisa, de um modo geral, não eram nem sortudos nem azarados.
 - (B) A quantidade das fotos que comporam o experimento não se mostrou tão relevante para o resultado do estudo.
 - (C) Alguns candidatos não se ateram ao número das fotos que estava grafado em uma das páginas do jornal.
 - (D) Muitos voluntários se dispuseram a participar da pesquisa, empenhando-se em cumprir suas tarefas.
 - (E) Vários participantes se manteram concentrados nas fotos do jornal, ignorando um dado importante.
- 08.** O acento indicativo de crase está empregado corretamente na frase:
- (A) A autora faz referência à contribuição de alguns estudiosos para o entendimento do que seja a sorte.
 - (B) A autora atribui a sorte de algumas pessoas à uma tendência para buscar significados nos acontecimentos.
 - (C) A autora faz uma crítica à algumas pessoas que consideram os fatos corriqueiros como fruto de sorte ou azar.
 - (D) A autora recorre à pesquisas práticas para construir sua argumentação acerca da relação do homem com a sorte.
 - (E) A autora recusa-se à crer que todos os fatos rotineiros que nos frustram sejam simples reflexos da sorte.
- 09.** Considerando a norma-padrão da língua portuguesa, assinale a alternativa que completa, correta e respectivamente, as lacunas do texto.
- As contratações públicas sustentáveis são aquelas em que _____ as aquisições de bens com especificações ou critérios mais sustentáveis ou eficientes, como o caso dos condicionadores de ar classe A. Para os casos de sistemas de ar condicionado mais eficientes, já _____ critérios que podem ser adotados para torná-los mais _____ .
- (Disponível em: www.comprasgovernamentais.gov.br. Adaptado)
- (A) se prioriza ... existe ... sustentáveis
 - (B) se priorizam ... existem ... sustentável
 - (C) é priorizado ... existem ... sustentável
 - (D) são priorizadas ... existe ... sustentáveis
 - (E) são priorizadas ... existem ... sustentáveis
- 10.** Assinale a alternativa que completa corretamente a frase seguinte, no que se refere ao emprego dos pronomes.
- Prezados colaboradores, caso tenham sugestões para aprimorarmos nossos serviços, favor
- (A) encaminhá-las à diretoria, que se encarregará de analisá-las.
 - (B) encaminhá-las à diretoria, que encarregar-se-á de analisar-lhes.
 - (C) encaminhar-lhes à diretoria, que se encarregará de analisá-las.
 - (D) encaminhar-lhes à diretoria, que se encarregará de analisar-lhes.
 - (E) encaminhar-lhes à diretoria, que encarregar-se-á de analisá-las.

11. Em um clube de ciências, 52% dos membros são mulheres. Esse clube possui 22 pessoas na equipe de xadrez, composta por 15% dos membros masculinos e 20% dos membros femininos. Nessa equipe, o número de mulheres excede o de homens em
- (A) 1.
 - (B) 2.
 - (C) 3.
 - (D) 4.
 - (E) 5.
12. Todos os alunos do ensino médio de uma escola praticam esportes e cada aluno pratica ou futebol ou vôlei. A razão entre os números dos que praticam futebol e os que praticam vôlei é $\frac{3}{7}$. Após as férias de julho, 17 alunos que praticavam vôlei passaram a praticar futebol e a nova razão entre os números dos que praticam futebol e os que praticam vôlei passou a ser $\frac{2}{3}$. O número de alunos que após as férias praticam futebol é igual a
- (A) 64.
 - (B) 66.
 - (C) 68.
 - (D) 70.
 - (E) 72.
13. Um acampamento de escoteiros reuniu 72 representantes de uma cidade, 54 de outra e 84 de uma terceira cidade. Para uma das atividades, os escoteiros foram divididos no maior número de grupos possível, garantindo que em cada grupo todos fossem da mesma cidade e que todos os grupos tivessem o mesmo número de pessoas. O total de grupos assim formados é igual a
- (A) 5.
 - (B) 7.
 - (C) 35.
 - (D) 70.
 - (E) 105.
14. Um galpão será reformado e para essa tarefa foram alocadas 7 pessoas, com a mesma eficiência de trabalho, que trabalharam por 6 dias. Desejando-se acelerar a reforma, mais 7 pessoas, com a mesma eficiência de trabalho das anteriores, passaram a trabalhar do sétimo dia em diante, e a reforma levou no total 20 dias. Se desde o primeiro dia da reforma essas 14 pessoas estivessem trabalhando juntas, a reforma teria levado um total de dias igual a
- (A) 10.
 - (B) 12.
 - (C) 14.
 - (D) 15.
 - (E) 17.

15. Uma família tem 9 irmãos e a média aritmética de suas idades é igual a 33 anos. A média aritmética das idades das irmãs dessa família é 38 anos e a média das idades dos irmãos 29 anos. A média das idades das irmãs e do irmão mais velho é igual a 39 anos, o que permite concluir que a idade, em anos, do irmão mais velho é igual a
- (A) 40.
 (B) 41.
 (C) 42.
 (D) 43.
 (E) 44.
16. Uma empresa oferece serviços de bufê, cobrando às sextas-feiras ou sábados o dobro do valor cobrado nos outros dias da semana, podendo trabalhar em mais de um evento em um mesmo dia. Em certo mês essa empresa foi contratada para 7 serviços em sextas-feiras, 13 em sábados, 20 em domingos e 10 em quartas-feiras, tendo recebido em média R\$ 980,00 por serviço prestado. O valor desse serviço de bufê às segundas-feiras é
- (A) R\$ 680,00.
 (B) R\$ 700,00.
 (C) R\$ 720,00.
 (D) R\$ 740,00.
 (E) R\$ 760,00.

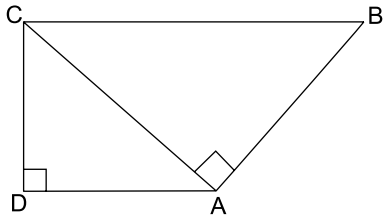
17. Os triângulos ABC e DEF são equiláteros e congruentes, com o vértice D pertencendo ao lado CB e o vértice A pertencendo ao lado EF. A intersecção desses triângulos forma um polígono de área 1 cm^2 , sombreado na figura.



A área, em cm^2 , do retângulo BCEF vale

- (A) 4.
 (B) 5.
 (C) 6.
 (D) 7.
 (E) 8.

18. O trapézio da figura é retângulo e a diagonal CA forma ângulo reto com o lado AB, conforme a figura.



Se as bases desse trapézio medem 9 cm e $\frac{145}{9}$ cm, sua área, em cm^2 , vale aproximadamente

- (A) 100.
 (B) 120.
 (C) 140.
 (D) 160.
 (E) 180.
19. No último Natal cada um de meus irmãos comprou presentes de R\$ 50,00 para cada um dos irmãos. Eu mesmo comprei para cada um de meus irmãos presentes de R\$ 50,00 e juntos gastamos R\$ 6.600,00. O total de irmãos que somos é um número divisor de
- (A) 20.
 (B) 30.
 (C) 40.
 (D) 50.
 (E) 60.
20. O número de alunos dos três anos do ensino médio de uma escola é igual a 450. O dobro de alunos do terceiro ano é 20 a menos que o número de alunos do primeiro ano. A metade dos alunos do primeiro ano é 20 a menos que o número de alunos do segundo ano. A diferença de alunos entre os dois anos com menos alunos desse ensino médio é igual a
- (A) 25.
 (B) 30.
 (C) 35.
 (D) 40.
 (E) 45.

ATUALIDADES

21. Agora é oficial: o desmatamento na Amazônia disparou em agosto e setembro [2014]. Foram devastados 1.626 km² de florestas, um crescimento de 122% sobre os mesmos dois meses de 2013.

As análises mensais do sistema de alertas de desmatamento Deter estavam prontas pelo menos desde 14 de outubro no Inpe (Instituto Nacional de Pesquisas Espaciais). Em agosto, foram desmatados 890,2 km², um salto de 208% sobre os 288,6 km² do mesmo mês de 2013. Em setembro foram 736 km², 66% mais que no ano passado.

(<http://www1.folha.uol.com.br/ambiente/2014/11/1544688-desmatamento-na-amazonia-dispara-em-agosto-e-setembro.shtml>. Adaptado)

Um dos fatores responsáveis pelo aumento do desmatamento foi

- (A) a construção de hidrelétricas.
 - (B) a abertura de uma ferrovia.
 - (C) o reinício das obras da BR-163.
 - (D) a redução de terras indígenas.
 - (E) a expansão da agropecuária.
22. A questão está relacionada à imagem de 07.11.2014.

LONGA CAMINHADA



Obama em direção à Casa Branca: para os rivais, o governo está sem rumo.

(<http://www.istoe.com.br/reportagens/391383>)

Barack Obama tem passado por sérios problemas políticos que têm aumentado sua impopularidade. Exemplo desse fato ocorreu em novembro de 2014, quando Obama

- (A) deixou de opinar sobre a libertação do policial que matou acidentalmente um jovem negro no estado sulino do Mississippi.
- (B) sofreu forte derrota, pois o partido Republicano, de oposição, conquistou a maioria do Senado e ampliou sua liderança na Câmara dos Representantes.
- (C) priorizou a política externa estadunidense mantendo tropas no Afeganistão e, portanto, aumentando as despesas militares.
- (D) promoveu a regularização do trabalho de milhões de imigrantes asiáticos que concorrem com a mão de obra dos trabalhadores estadunidenses.
- (E) negou apoio à Ucrânia, que luta contra as investidas russas em seu território, o que gerou, entre os estadunidenses, o temor de uma nova Guerra Fria.

23. O escritor paraibano morreu nesta quarta-feira [23/07], aos 87 anos. Integrante da Academia Brasileira de Letras, ele era defensor da cultura popular brasileira, e um dos maiores dramaturgos do país, além de autor de romances e poemas. O *Auto da compadecida* é uma de suas obras mais conhecidas.

(<http://oglobo.globo.com/cultura/livros/morre-aos-87-anos-escriptor-cavaleiro-do-sertao-13341934>)

Trata-se de

- (A) Ariano Suassuna.
 - (B) Ivan Mesquita.
 - (C) Rubem Alves.
 - (D) João Ubaldo Ribeiro.
 - (E) Paulo Leminski.
24. No âmbito das relações internacionais, o Brasil participa do **G20** desde sua fundação e, em novembro, ocorreu um evento que reuniu o Grupo e contou com a participação da presidente Dilma Roussef, logo após sua reeleição. Leia a notícia.

A reunião de 2014 do chamado G-20, em 15 e 16 de novembro na Austrália, pouco produziu em termos de resoluções concretas e factíveis. [...] Na reunião deste ano houve a manifestação de profundas preocupações com a garantia do emprego e de melhores condições de vida das pessoas.

(<http://www.teoriaedebate.org.br/colunas/mundo/cupula-do-g-20-na-australia>)

Sobre o G20, é correto afirmar que

- (A) tem se caracterizado pela formação de uma frente de oposição às grandes instituições financeiras, como o FMI.
- (B) é composto por países que têm em comum o agronegócio e as exportações de *commodities* de alto valor econômico.
- (C) é uma força geopolítica mais forte que a Otan, pois suas recentes ações neutralizaram o conflito entre Israel e Palestina.
- (D) é formado por países desenvolvidos e por emergentes que se reúnem para discutir problemas socioeconômicos globais.
- (E) se mantém como grupo de oposição à ONU e periodicamente faz pressão para mudanças no Conselho de Segurança da organização.

25. O desaquecimento da economia brasileira não é exceção mundial e, nos dois primeiros trimestres de 2014, a variação negativa do PIB é indiscutível.

(Carta Capital, Ano XX, nº 818. 10.set.2014. Adaptado)

Na observação de especialistas, o Brasil está em

- (A) recessão profunda porque o PIB negativo provocou déficits na balança comercial e aumento da dívida externa.
- (B) estagnação porque deixou de importar produtos primários e manufaturados necessários para o setor manufatureiro interno.
- (C) recessão técnica pois, apesar da queda do PIB, o desemprego é baixo e não houve redução da massa salarial.
- (D) estagnação pois a queda do PIB relaciona-se às fracas exportações e à incapacidade de o país saldar seus débitos.
- (E) inadimplência porque não tem conseguido manter o nível de emprego nem de investimento nos setores sociais e de infraestrutura.

NOÇÕES DE INFORMÁTICA


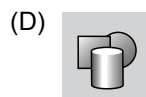
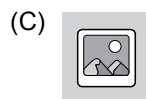

26. Em uma planilha do MS- Excel 2010, a partir da sua configuração padrão, utilizada por uma empresa de cobrança para controlar as pessoas devedoras, como ilustra a figura, a coluna A contém o nome do devedor, a coluna B contém o RG do devedor, a coluna C contém o montante a receber e a coluna D informa se foi pago: N para Não e S para Sim.

	A	B	C	D
1	Empresa de Cobrança Só Calote			
2	Nome do Devedor	RG	Valor	Pago (S/N)
3	Alexandre Bueno	1111111111	R\$ 2.500,00	S
4	Benedito Suqueira	2222222222	R\$ 1.250,00	S
5	Clodoaldo Nunes	3333333333	R\$ 850,00	N
6	Flavia Oliveira	4444444444	R\$ 690,00	N
7	Paula Flores	5555555555	R\$ 3.500,00	S
8	Rogério Caldas	6666666666	R\$ 1.300,00	S
9				
10		Total Pago	R\$ 8.550,00	
11				

A fórmula a ser aplicada na célula C10 para calcular o Valor Total que os devedores pagaram é

- (A) =SOMASE(D3:D8;"S";C3:C8)
- (B) =SOMASE(C3:C8;"S";D3:D8)
- (C) =SOMASE(D3:D8;"S";C3:C8)
- (D) =SOMASES(B2:B8;C2:C10;"S";D2:D8)
- (E) =SOMASES(C2:C8;"S";B2:B8)

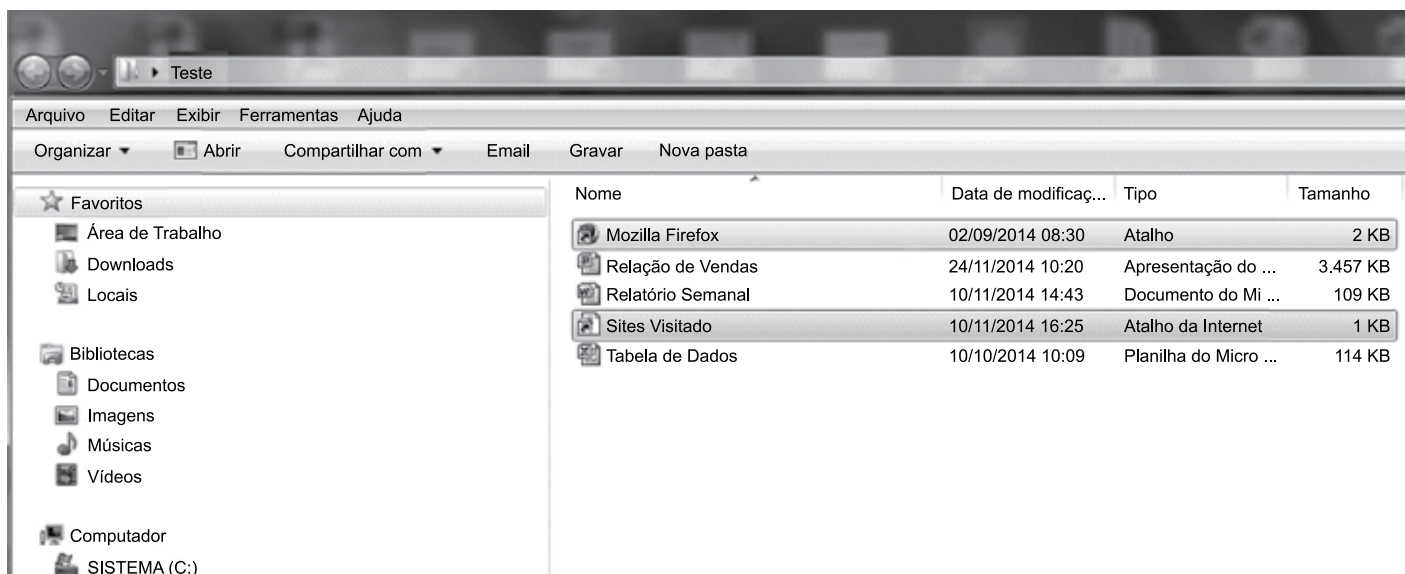
27. No MS-Word 2010, na sua configuração padrão, no guia "Inserir", o ícone que permite incluir uma imagem é



28. Com relação ao e-mail, assinale a alternativa que apresenta um endereço eletrônico válido.

- (A) feliz.da.silva@@hotmail.com
- (B) nível-@ gmail.com
- (C) www.terra.com.br
- (D) verdade.gmail.com
- (E) duvida@empresa1.com

29. No Windows Explorer do Windows 7, na sua configuração padrão, apresenta o conteúdo de uma pasta chamada “Teste”, conforme ilustra a figura.




O conteúdo da pasta “Teste” apresenta dois atalhos, uma planilha do Excel 2010, uma apresentação do PowerPoint 2010 e um documento do Word 2010.

Analisando a figura, assinale a alternativa cuja afirmação é correta.

- (A) Para selecionar os dois atalhos usando o mouse, a tecla Alt precisa estar pressionada durante a seleção.
- (B) Para selecionar os dois atalhos usando o mouse, a tecla Esc precisa estar pressionada durante a seleção.
- (C) Para selecionar os dois atalhos usando o mouse, a tecla Tab precisa estar pressionada durante a seleção.
- (D) Para selecionar os dois atalhos usando o mouse, a tecla Ctrl precisa estar pressionada durante a seleção.
- (E) Para selecionar os dois atalhos usando o mouse, a tecla F1 precisa estar pressionada durante a seleção.

30. No MS-PowerPoint 2010, a partir da sua configuração padrão, no guia “Apresentação de Slides”, existe um grupo que contém vários ícones, conforme é ilustrado na figura.



Assinale a alternativa que contém o nome desse grupo.

- (A) Monitores.
- (B) Configurar.
- (C) Iniciar Apresentação de Slides.
- (D) Opções.
- (E) Testar Apresentação.

CONHECIMENTOS ESPECÍFICOS

NOÇÕES DE DIREITO CONSTITUCIONAL

31. A atual Constituição Federal adota o Sistema de Tripartição de Poderes. A respeito desse tema, assinale a alternativa correta.
- (A) Os Poderes da União são entre si independentes e harmônicos.
 - (B) Os Poderes da União são interdependentes e harmônicos entre si.
 - (C) Os Poderes da União são: o Executivo, o Legislativo e o Moderador.
 - (D) Os Poderes Executivo e Judiciário são autônomos e dependentes entre si.
 - (E) O Poder Executivo centraliza as decisões políticas e administrativas dos demais poderes.
32. Conforme o artigo 4º, parágrafo único, da Constituição Federal, a República Federativa do Brasil buscará a integração econômica
- (A) com todos os países com os quais mantém relações diplomáticas, visando ao desenvolvimento do comércio internacional.
 - (B) e o intercâmbio comercial entre os países da Europa.
 - (C) e também política, social e cultural dos povos da América Latina, visando à formação de uma comunidade latino-americana de nações.
 - (D) e também cultural dos povos de todo o mundo, visando à formação de uma comunidade mais justa e solidária.
 - (E) e também política dos povos das Américas, visando ao pluralismo político e à cidadania.
33. Em relação aos direitos e garantias fundamentais, é correto afirmar que
- (A) a liberdade de consciência pode ser alegada para eximir-se de obrigação legal a todos imposta.
 - (B) a criação de associações e, na forma da lei, a de cooperativas independem de autorização, sendo vedada a interferência estatal em seu funcionamento.
 - (C) é plena a liberdade de associações para quaisquer fins.
 - (D) é obrigatória a associação para que o indivíduo possa gozar dos direitos sociais.
 - (E) o Estado promoverá a defesa dos comerciantes, na forma da lei.
34. Segundo o que prescreve a Constituição Federal, a liberdade de reunião está condicionada
- (A) ao pagamento de taxas.
 - (B) ao pagamento de tributos estabelecidos pela autoridade policial competente.
 - (C) à situação política e administrativa da entidade representativa da categoria profissional.
 - (D) à autorização especial da autoridade competente que determinará hora e local para a reunião.
 - (E) ao prévio aviso à autoridade competente e desde que não frustrar outra reunião anteriormente convocada para o mesmo local.
35. Nos termos da Constituição Federal, são gratuitas as ações de
- (A) Mandado de Segurança e atos necessários ao exercício da cidadania.
 - (B) Mandado de Segurança e *Habeas Corpus*.
 - (C) Mandado de Segurança Coletivo e *Habeas Data*.
 - (D) *Habeas Corpus* e *Habeas Data*.
 - (E) Mandado de Injunção e Ação Popular.
36. Em relação ao que dispõe a Constituição Federal sobre a organização político-administrativa, assinale a alternativa correta.
- (A) Os Estados e os Municípios poderão criar distinções entre brasileiros, de acordo com suas preferências e cargos a serem ocupados.
 - (B) É vedado à União, aos Estados, ao Distrito Federal e aos Municípios recusar fé aos documentos públicos.
 - (C) É vedada a incorporação de Municípios pelos Estados sem autorização da União.
 - (D) Os Territórios Federais integram os Estados nos quais estão localizados.
 - (E) A criação e o desmembramento de novos Municípios far-se-ão por medida provisória, após consulta prévia, mediante referendo, às populações envolvidas.
37. Conforme estabelece a Constituição Federal, o direito de greve do servidor público civil será exercido nos termos e nos limites definidos
- (A) em Lei Específica.
 - (B) na própria Constituição Federal.
 - (C) na própria Constituição Estadual.
 - (D) na Lei Orgânica de cada Município.
 - (E) no regime jurídico único.

38. Nos termos do que prescreve o artigo 37 da Constituição Federal, assinale a alternativa correta.

- (A) Os cargos, empregos e funções públicas não são acessíveis aos estrangeiros.
- (B) O prazo de validade do concurso público será de até três anos, prorrogáveis por duas vezes, por igual período.
- (C) É garantido ao servidor público civil o direito à livre associação sindical.
- (D) As funções de confiança serão exercidas por servidores ocupantes de cargo efetivo, ou função temporária.
- (E) Os vencimentos dos cargos do Poder Executivo e do Poder Judiciário não poderão ser superiores aos pagos pelo Poder Legislativo.

39. A contratação por tempo determinado

- (A) é admitida durante todo o período eleitoral.
- (B) é admitida em todas as circunstâncias em que haja interesse público.
- (C) depende da discricionariedade e vontade do administrador público.
- (D) é admitida para atender a necessidade temporária de excepcional interesse público.
- (E) não é admitida pela Constituição Federal.

40. Ao Servidor Público da administração direta, autárquica e fundacional, no exercício de mandato eletivo, aplica-se a seguinte disposição correta e em conformidade com a Constituição Federal:

- (A) quando em mandato eletivo distrital, não poderá se afastar de seu cargo, emprego ou função.
- (B) investido no mandato de Prefeito, será afastado do cargo, emprego ou função, devendo, obrigatoriamente, receber a remuneração do mandato eletivo.
- (C) investido no mandato de Vereador, será obrigado a se afastar do seu cargo, emprego ou função, sendo-lhe facultado optar pela sua remuneração.
- (D) em qualquer caso que exija o afastamento para o exercício de mandato eletivo, seu tempo de serviço não será contado para os efeitos legais.
- (E) para efeito de benefício previdenciário, no caso de afastamento, os valores serão determinados como se no exercício estivesse.

41. O artigo 39 da Constituição Federal estabelece que

- (A) a União e os Estados, ao fixarem os padrões de vencimento do sistema remuneratório, não levarão em conta os requisitos para a investidura do cargo.
- (B) o Município deve adotar o mesmo plano de carreira estabelecido pelo Estado ao qual pertence.
- (C) os Poderes Executivo, Legislativo e Judiciário publicarão anualmente os valores do subsídio e da remuneração dos cargos e empregos públicos.
- (D) a União, os Estados, o Distrito Federal e os Municípios instituirão, no âmbito de suas competências, regime jurídico diferenciado para os servidores das Autarquias.
- (E) é vedado à União e ao Distrito Federal, ao fixarem os padrões de vencimento e demais componentes do sistema remuneratório, observar as peculiaridades de cada cargo.

42. O servidor público declarado estável poderá perder o cargo em virtude de

- (A) filiação sindical.
- (B) processo administrativo em que lhe seja assegurada ampla defesa.
- (C) sindicância baseada em verdade sabida.
- (D) participação em greve por quarenta dias consecutivos.
- (E) extinção do cargo que ocupa.

NOÇÕES DE DIREITO ADMINISTRATIVO

43. A fiscalização do Município será exercida mediante controle

- (A) interno pelo Poder Legislativo Municipal.
- (B) externo pelo Poder Legislativo Municipal.
- (C) interno pelo Tribunal de Contas Estadual.
- (D) externo pela Procuradoria Geral do Município.
- (E) interno pelo Órgão de Contas Municipal.

44. Quanto ao ato administrativo e sua revogação, assinale a alternativa correta.

- (A) O ato vinculado pode ser revogado por interesse público.
- (B) Depois de praticado, o ato discricionário não comporta revogação.
- (C) A revogação faz com que o ato discricionário perca seus efeitos desde que foi emanado.
- (D) A revogação de ato vinculado atinge direito adquirido.
- (E) A revogação produz o desfazimento de ato discricionário válido.

45. São pressupostos essenciais à prática do ato administrativo discricionário:
- (A) conveniência e oportunidade.
 - (B) competência e autorização judicial.
 - (C) interesse público e hierarquia.
 - (D) liberdade administrativa e vinculação ao texto legal.
 - (E) fonte legislativa e subordinação.
46. Em relação ao processo administrativo disciplinar, assinale a alternativa correta.
- (A) A falta de defesa técnica por advogado ofende a Constituição.
 - (B) A autoridade julgadora, motivadamente, pode decidir de forma contrária à conclusão do órgão processante.
 - (C) A pena de demissão determinada em processo administrativo disciplinar deverá ser convalidada pelo Poder Judiciário.
 - (D) Processo administrativo disciplinar contra servidor público em estágio probatório independe do contraditório ou ampla defesa.
 - (E) Tratando-se de aplicação de pena de demissão, não há prazo prescricional ou decadencial para abertura do processo disciplinar.
47. É vedada a acumulação remunerada de cargos públicos, exceto, quando houver compatibilidade de horários, a de
- (A) três cargos de professor.
 - (B) dois cargos de professor com outro cargo técnico ou científico.
 - (C) dois cargos ou empregos privativos de profissionais de saúde, com profissões regulamentadas.
 - (D) dois cargos no Poder Executivo e outro em autarquia.
 - (E) um cargo em fundação pública, um em autarquia e um na administração direta, desde que não semelhantes.
48. Com base na Constituição Federal, possuirão cargo estável no Poder Legislativo Municipal os servidores nomeados para cargo de provimento efetivo em virtude de concurso público, após o prazo de
- (A) um ano.
 - (B) dois anos.
 - (C) três anos.
 - (D) cinco anos.
 - (E) seis anos.
49. A responsabilidade dos agentes públicos, quando, nesta qualidade, causam danos a terceiros, é:
- (A) cumulativa e objetiva.
 - (B) individual e objetiva.
 - (C) concorrente e objetiva.
 - (D) regressiva e subjetiva.
 - (E) subsidiária e subjetiva.
50. Quanto à possibilidade de anulação do ato administrativo, assinale a alternativa correta.
- (A) A Administração pode anular seus próprios atos, quando eivados de vícios que os tornem ilegais.
 - (B) Tratando-se de vício ou ilegalidade, os atos administrativos somente podem ser anulados pelo Poder Judiciário.
 - (C) O conceito de ilegalidade ou ilegitimidade, para fins de anulação do ato administrativo, restringe-se somente à violação frontal da lei.
 - (D) O ato nulo vincula as partes, não produzindo efeitos válidos em relação a terceiros de boa-fé.
 - (E) Os atos nulos devem ser revogados por motivo de conveniência ou oportunidade.
51. É um ato negocial, através do qual a Administração Pública delega, a título precário e revogável, e mediante licitação, a prestação dos serviços públicos à pessoa física ou jurídica que demonstre capacidade de desempenho, por sua conta e risco. Este é um conceito de
- (A) Autorização.
 - (B) Concessão.
 - (C) Agência Reguladora.
 - (D) Permissão de Serviço Público.
 - (E) Atividade econômica de Empresa Pública.

- 52.** A autarquia, órgão da administração pública indireta, tem como principais elementos caracterizadores:
- (A) ser criada por lei e ter patrimônio próprio.
 - (B) possuir função econômica e patrimônio próprio.
 - (C) ser autorizada por lei e ter personalidade de direito privado.
 - (D) ser autorizada por lei e ter patrimônio personalizado.
 - (E) possuir forma societária e regime estatutário.
- 53.** O servidor público estável de Caieiras que tiver seu cargo extinto será
- (A) designado a outro cargo de igual natureza e terá vencimentos compatíveis ao do cargo extinto.
 - (B) designado a outro cargo de igual natureza e terá vencimentos compatíveis ao do novo cargo.
 - (C) posto em disponibilidade, com remuneração proporcional ao tempo de serviço, até seu adequado aproveitamento em outro cargo.
 - (D) posto em disponibilidade, com remuneração equivalente ao cargo que exercia, até que outro cargo seja criado.
 - (E) posto em licença, com remuneração contabilizada entre a média dos últimos três anos exercidos.
- 54.** Para os servidores públicos de Caieiras, readmissão é o reingresso do funcionário demitido ou exonerado no serviço público municipal, sem direito a ressarcimento de prejuízo. Quanto à contagem de tempo para fins de aposentadoria, assinale a alternativa correta.
- (A) Decorridos mais de dois anos de afastamento, não haverá contagem do tempo anterior de exercício.
 - (B) Com a ruptura do vínculo laboral com a administração, não é possível a contagem de tempo anterior de exercício na administração pública.
 - (C) A contagem de tempo anterior para fins de aposentadoria somente será possível se o retorno se der para o mesmo cargo anteriormente exercido.
 - (D) Para efeito de aposentadoria, será contado o tempo de afastamento, assim como o tempo de serviço anterior.
 - (E) Será contado o tempo de serviço público anterior para efeito de disponibilidade e aposentadoria.
- 55.** Fica facultado ao servidor estável de Caieiras o direito à licença para tratar de interesses particulares,
- (A) sem vencimentos, pelo prazo de dois anos, podendo ser prorrogado por igual período.
 - (B) com vencimentos, pelo prazo de um ano, podendo ser prorrogado por igual período.
 - (C) sem vencimentos, por prazo a ser definido pela Administração, sem direito à prorrogação.
 - (D) com ou sem vencimentos, dependendo da natureza do interesse a ser tratado, sem direito à prorrogação.
 - (E) sem vencimentos, por prazo indeterminado, sem direito à prorrogação.
- 56.** A Lei Orgânica Municipal de Caieiras poderá ser emendada por proposta
- (A) de qualquer cidadão, desde que eleitor do Município.
 - (B) do governador do Estado, em matéria de interesse estadual.
 - (C) de, no mínimo, $\frac{1}{2}$ dos membros da Câmara Municipal.
 - (D) da procuradoria geral do Município.
 - (E) do Prefeito Municipal.
- 57.** As leis complementares do Município de Caieiras exigem a aprovação
- (A) da maioria simples dos vereadores presentes à sessão.
 - (B) da maioria absoluta dos vereadores presentes à sessão.
 - (C) de $\frac{1}{3}$, no mínimo, dos vereadores presentes à sessão.
 - (D) da maioria absoluta dos vereadores.
 - (E) da maioria simples dos vereadores.

58. Compete ao presidente da Câmara Municipal de Caieiras

- (A) dar posse ao prefeito.
- (B) constatar a presença dos vereadores no início da sessão.
- (C) redigir e transcrever as atas das sessões secretas.
- (D) fazer a inscrição dos oradores.
- (E) representar o Município.

59. A composição das Comissões Permanentes será feita de comum acordo pelo Presidente da Câmara e os Líderes ou Representantes das Bancadas. Quanto a esse fato, assinale a alternativa correta.

- (A) Essas comissões serão eleitas por dois anos de legislatura.
- (B) O mesmo vereador poderá participar de três comissões.
- (C) Somente deliberarão com a presença da maioria de seus membros.
- (D) As reuniões extraordinárias serão sempre convocadas com antecedência de 10 dias.
- (E) O presidente da comissão, em suas ausências, será substituído por seu suplente, do mesmo partido.

60. Quanto ao substitutivo a projeto de lei, nos termos do Regimento Interno da Câmara de Caieiras, assinale a alternativa correta.

- (A) Somente pode ser apresentado por vereador do mesmo partido que propôs o projeto.
- (B) Não é permitido ao vereador apresentar substitutivo parcial ou mais de um substitutivo ao mesmo projeto.
- (C) Não é permitido apresentação de substitutivo por comissão.
- (D) O substitutivo pode ser parcial, aditivo ou modificativo.
- (E) O substitutivo não poderá obedecer a regime de urgência, quando parcial.

