

**CÂMARA MUNICIPAL DE CAIEIRAS**  
ESTADO DE SÃO PAULO

CONCURSO PÚBLICO

**007. PROVA OBJETIVA**

**ASSISTENTE DE CONTABILIDADE**

- ◆ Você recebeu sua folha de respostas e este caderno contendo 60 questões objetivas.
- ◆ Confira seu nome e número de inscrição impressos na capa deste caderno e na folha de respostas.
- ◆ Quando for permitido abrir o caderno, verifique se está completo ou se apresenta imperfeições. Caso haja algum problema, informe ao fiscal da sala.
- ◆ Leia cuidadosamente todas as questões e escolha a resposta que você considera correta.
- ◆ Marque, na folha de respostas, com caneta de tinta azul ou preta, a letra correspondente à alternativa que você escolheu.
- ◆ A duração da prova é de 3 horas e 30 minutos, já incluído o tempo para o preenchimento da folha de respostas.
- ◆ Só será permitida a saída definitiva da sala e do prédio após transcorridos 75% do tempo de duração da prova.
- ◆ Ao sair, você entregará ao fiscal a folha de respostas e este caderno, podendo levar apenas o rascunho de gabarito, localizado em sua carteira, para futura conferência.
- ◆ Até que você saia do prédio, todas as proibições e orientações continuam válidas.

**AGUARDE A ORDEM DO FISCAL PARA ABRIR ESTE CADERNO DE QUESTÕES.**

## CONHECIMENTOS GERAIS

### LÍNGUA PORTUGUESA

Leia o texto para responder às questões de números 01 a 06.

#### O fator sorte

As pessoas mais inclinadas a buscar significados nos acontecimentos tendem de fato a encontrá-los, ainda que, para isso, tenham de subestimar as leis da probabilidade, no intuito de encontrar um maior número de “coincidências”, que atribuem à sorte.

Há alguns anos, o físico Richard A. J. Matthews estudou as chamadas leis de Murphy, a irônica suma do pessimismo resumida na máxima “se alguma coisa pode dar errado, dará”. Matthews investigou, em particular, por que uma fatia de pão com manteiga cai geralmente com o lado da manteiga para baixo. A prevalência da “falta de sorte” foi confirmada por um estudo experimental, patrocinado por um fabricante de manteiga: o aparente azar deve-se simplesmente à relação física entre as dimensões da fatia e a altura em que estava colocada.

São também explicáveis outros tipos de infortúnio, como o fato de que, quando duas meias soltas são retiradas da gaveta, geralmente elas não são do mesmo par. Além disso, tendemos a dar mais atenção a fatos rotineiros que nos frustram (como perder o ônibus por chegarmos ao ponto com segundos de atraso), em vez de contabilizar o grande número de ocasiões em que não tivemos contratempos. Essa atitude contribui para reforçar nossos preconceitos e nos fazer ignorar as leis da probabilidade.

O psicólogo Richard Wiseman, professor da Universidade de Hertfordshire, na Inglaterra, também conduziu um estudo interessante sobre os mecanismos relacionados à sorte. O projeto, financiado por várias instituições, entre as quais a Associação Britânica para o Avanço da Ciência, gerou um manual chamado “O fator sorte”, traduzido em mais de 20 idiomas.

Ele publicou um anúncio no jornal solicitando que pessoas particularmente sortudas ou azaradas entrassem em contato com ele para que seus comportamentos fossem analisados. Descobriu que cerca de 9% desses indivíduos podiam ser considerados azarados e 12% favorecidos pela sorte. Todos os outros entravam na média.

Wiseman deu aos participantes um jornal, solicitando que contassem as fotos impressas e prometendo um prêmio aos que o fizessem corretamente. Ora, o número solicitado estava gravado de forma evidente sobre uma das páginas, algo que muitos “azarados” não perceberam, pois estavam concentrados demais na tarefa.

A análise experimental dos traços de personalidade que distinguiam sortudos e azarados permitiu concluir que esses últimos são mais tensos e concentrados, ao passo que os sortudos tendem a considerar as coisas de forma mais relaxada, mas sem perder de vista o contexto geral. Assim, se considerarmos os dados coletados, ter sorte pode significar, pelo menos em parte, saber fazer boas escolhas e perceber as ocasiões mais vantajosas para si mesmo.

(Gláucia Leal. Disponível em: <http://blogs.estadao.com.br/pensar-psi/o-fator-sorte>. Adaptado)

01. Na opinião da autora,
  - (A) as situações de azar são mais frequentes para quem atua com displicência.
  - (B) os casos de boa ou má sorte devem ser interpretados como predestinação.
  - (C) a sorte relaciona-se à maneira de atribuir sentido e de reagir aos eventos.
  - (D) as pessoas consideradas sortudas são mais supersticiosas que as azaradas.
  - (E) o sortudo é aquele que realiza suas atividades com mais zelo e disposição.
02. De acordo com o texto, as leis da probabilidade podem ser usadas para
  - (A) mostrar que inexistem explicações para os infortúnios.
  - (B) ratificar que a sorte é capaz de alterar as leis da física.
  - (C) confirmar a ideia de que os acontecimentos são regidos pela imprevisibilidade.
  - (D) justificar a interpretação de que os fatos são fruto da sorte.
  - (E) questionar aquilo que muitos consideram ação da sorte.
03. Assinale a alternativa em que os trechos entre colchetes estabelecem, entre si, uma relação de consequência e causa, respectivamente.
  - (A) [por que uma fatia de pão com manteiga] [cai geralmente com o lado da manteiga para baixo]
  - (B) [quando duas meias soltas são retiradas da gaveta] [geralmente elas não são do mesmo par]
  - (C) [perder o ônibus] [por chegarmos ao ponto com segundos de atraso]
  - (D) [tendemos a dar mais atenção] [a fatos rotineiros que nos frustram]
  - (E) [análise experimental dos traços de personalidade] [que distinguiam sortudos e azarados]
04. Assinale a alternativa que apresenta um sinônimo para o termo em destaque na frase a seguir.

Essa atitude contribui para **reforçar** nossos preconceitos e nos fazer ignorar as leis da probabilidade. (3º parágrafo)

  - (A) objetar
  - (B) corroborar
  - (C) concernir
  - (D) refutar
  - (E) inquirir

05. Ele publicou um anúncio no jornal solicitando que pessoas particularmente sortudas ou azaradas entrassem em contato com ele **para** que seus comportamentos fossem analisados. (5º parágrafo)

O termo destacado nessa passagem do texto expressa ideia de

- (A) proporção.
- (B) finalidade.
- (C) concessão.
- (D) conformidade.
- (E) conclusão.

06. O trecho do texto que se mantém correto e com a mensagem inalterada após o acréscimo da pontuação está em:

- (A) As pessoas mais inclinadas a buscar significados nos acontecimentos tendem de fato a encontrá-los... (1º parágrafo)

As pessoas, mais inclinadas a buscar significados nos acontecimentos, tendem de fato, a encontrá-los...

- (B) ... tendemos a dar mais atenção a fatos rotineiros que nos frustram... (3º parágrafo)

... tendemos a dar mais atenção, a fatos rotineiros, que nos frustram...

- (C) ... ter sorte pode significar, pelo menos em parte, saber fazer boas escolhas e perceber as ocasiões mais vantajosas para si mesmo. (7º parágrafo)

... ter sorte pode significar, pelo menos em parte, saber fazer boas escolhas e perceber, as ocasiões, mais vantajosas para si mesmo.

- (D) ... por que uma fatia de pão com manteiga cai geralmente com o lado da manteiga para baixo. (2º parágrafo)

... por que uma fatia de pão com manteiga cai, geralmente, com o lado da manteiga para baixo.

- (E) ... o número solicitado estava gravado de forma evidente sobre uma das páginas, algo que muitos “azarados” não perceberam... (6º parágrafo)

... o número solicitado, estava gravado de forma evidente sobre uma das páginas, algo que muitos, “azarados”, não perceberam...

07. A frase cujas formas verbais estão em conformidade com a norma-padrão da língua portuguesa é:

- (A) Os candidatos que se comprometeram com a pesquisa, de um modo geral, não eram nem sortudos nem azarados.

- (B) A quantidade das fotos que comporam o experimento não se mostrou tão relevante para o resultado do estudo.

- (C) Alguns candidatos não se ateram ao número das fotos que estava grafado em uma das páginas do jornal.

- (D) Muitos voluntários se dispuseram a participar da pesquisa, empenhando-se em cumprir suas tarefas.

- (E) Vários participantes se manteram concentrados nas fotos do jornal, ignorando um dado importante.

08. O acento indicativo de crase está empregado corretamente na frase:

- (A) A autora faz referência à contribuição de alguns estudiosos para o entendimento do que seja a sorte.

- (B) A autora atribui a sorte de algumas pessoas à uma tendência para buscar significados nos acontecimentos.

- (C) A autora faz uma crítica à algumas pessoas que consideram os fatos corriqueiros como fruto de sorte ou azar.

- (D) A autora recorre à pesquisas práticas para construir sua argumentação acerca da relação do homem com a sorte.

- (E) A autora recusa-se à crer que todos os fatos rotineiros que nos frustram sejam simples reflexos da sorte.

09. Considerando a norma-padrão da língua portuguesa, assinale a alternativa que completa, correta e respectivamente, as lacunas do texto.

As contratações públicas sustentáveis são aquelas em que \_\_\_\_\_ as aquisições de bens com especificações ou critérios mais sustentáveis ou eficientes, como o caso dos condicionadores de ar classe A. Para os casos de sistemas de ar condicionado mais eficientes, já \_\_\_\_\_ critérios que podem ser adotados para torná-los mais \_\_\_\_\_ .

(Disponível em: [www.comprasgovernamentais.gov.br](http://www.comprasgovernamentais.gov.br). Adaptado)

- (A) se prioriza ... existe ... sustentáveis

- (B) se priorizam ... existem ... sustentável

- (C) é priorizado ... existem ... sustentável

- (D) são priorizadas ... existe ... sustentáveis

- (E) são priorizadas ... existem ... sustentáveis

10. Assinale a alternativa que completa corretamente a frase seguinte, no que se refere ao emprego dos pronomes.

Prezados colaboradores, caso tenham sugestões para aprimorarmos nossos serviços, favor

- (A) encaminhá-las à diretoria, que se encarregará de analisá-las.

- (B) encaminhá-las à diretoria, que encarregar-se-á de analisar-lhes.

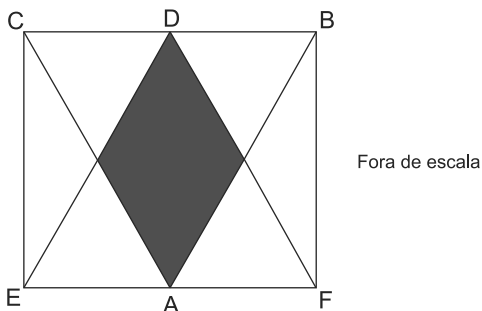
- (C) encaminhar-lhes à diretoria, que se encarregará de analisá-las.

- (D) encaminhar-lhes à diretoria, que se encarregará de analisar-lhes.

- (E) encaminhar-lhes à diretoria, que encarregar-se-á de analisá-las.

11. Em um clube de ciências, 52% dos membros são mulheres. Esse clube possui 22 pessoas na equipe de xadrez, composta por 15% dos membros masculinos e 20% dos membros femininos. Nessa equipe, o número de mulheres excede o de homens em
- (A) 1.  
(B) 2.  
(C) 3.  
(D) 4.  
(E) 5.
12. Todos os alunos do ensino médio de uma escola praticam esportes e cada aluno pratica ou futebol ou vôlei. A razão entre os números dos que praticam futebol e os que praticam vôlei é  $\frac{3}{7}$ . Após as férias de julho, 17 alunos que praticavam vôlei passaram a praticar futebol e a nova razão entre os números dos que praticam futebol e os que praticam vôlei passou a ser  $\frac{2}{3}$ . O número de alunos que após as férias praticam futebol é igual a
- (A) 64.  
(B) 66.  
(C) 68.  
(D) 70.  
(E) 72.
13. Um acampamento de escoteiros reuniu 72 representantes de uma cidade, 54 de outra e 84 de uma terceira cidade. Para uma das atividades, os escoteiros foram divididos no maior número de grupos possível, garantindo que em cada grupo todos fossem da mesma cidade e que todos os grupos tivessem o mesmo número de pessoas. O total de grupos assim formados é igual a
- (A) 5.  
(B) 7.  
(C) 35.  
(D) 70.  
(E) 105.
14. Um galpão será reformado e para essa tarefa foram alocadas 7 pessoas, com a mesma eficiência de trabalho, que trabalharam por 6 dias. Desejando-se acelerar a reforma, mais 7 pessoas, com a mesma eficiência de trabalho das anteriores, passaram a trabalhar do sétimo dia em diante, e a reforma levou no total 20 dias. Se desde o primeiro dia da reforma essas 14 pessoas estivessem trabalhando juntas, a reforma teria levado um total de dias igual a
- (A) 10.  
(B) 12.  
(C) 14.  
(D) 15.  
(E) 17.

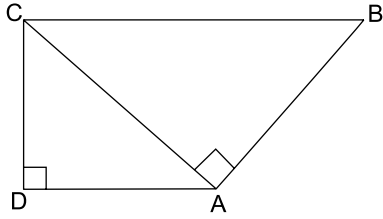
15. Uma família tem 9 irmãos e a média aritmética de suas idades é igual a 33 anos. A média aritmética das idades das irmãs dessa família é 38 anos e a média das idades dos irmãos 29 anos. A média das idades das irmãs e do irmão mais velho é igual a 39 anos, o que permite concluir que a idade, em anos, do irmão mais velho é igual a
- (A) 40.  
 (B) 41.  
 (C) 42.  
 (D) 43.  
 (E) 44.
16. Uma empresa oferece serviços de bufê, cobrando às sextas-feiras ou sábados o dobro do valor cobrado nos outros dias da semana, podendo trabalhar em mais de um evento em um mesmo dia. Em certo mês essa empresa foi contratada para 7 serviços em sextas-feiras, 13 em sábados, 20 em domingos e 10 em quartas-feiras, tendo recebido em média R\$ 980,00 por serviço prestado. O valor desse serviço de bufê às segundas-feiras é
- (A) R\$ 680,00.  
 (B) R\$ 700,00.  
 (C) R\$ 720,00.  
 (D) R\$ 740,00.  
 (E) R\$ 760,00.
17. Os triângulos ABC e DEF são equiláteros e congruentes, com o vértice D pertencendo ao lado CB e o vértice A pertencendo ao lado EF. A intersecção desses triângulos forma um polígono de área  $1 \text{ cm}^2$ , sombreado na figura.



A área, em  $\text{cm}^2$ , do retângulo BCEF vale

- (A) 4.  
 (B) 5.  
 (C) 6.  
 (D) 7.  
 (E) 8.

18. O trapézio da figura é retângulo e a diagonal CA forma ângulo reto com o lado AB, conforme a figura.



Se as bases desse trapézio medem 9 cm e  $\frac{145}{9}$  cm, sua área, em  $\text{cm}^2$ , vale aproximadamente

- (A) 100.  
(B) 120.  
(C) 140.  
(D) 160.  
(E) 180.
19. No último Natal cada um de meus irmãos comprou presentes de R\$ 50,00 para cada um dos irmãos. Eu mesmo comprei para cada um de meus irmãos presentes de R\$ 50,00 e juntos gastamos R\$ 6.600,00. O total de irmãos que somos é um número divisor de
- (A) 20.  
(B) 30.  
(C) 40.  
(D) 50.  
(E) 60.
20. O número de alunos dos três anos do ensino médio de uma escola é igual a 450. O dobro de alunos do terceiro ano é 20 a menos que o número de alunos do primeiro ano. A metade dos alunos do primeiro ano é 20 a menos que o número de alunos do segundo ano. A diferença de alunos entre os dois anos com menos alunos desse ensino médio é igual a

- (A) 25.  
(B) 30.  
(C) 35.  
(D) 40.  
(E) 45.

## ATUALIDADES

21. Agora é oficial: o desmatamento na Amazônia disparou em agosto e setembro [2014]. Foram devastados 1.626 km<sup>2</sup> de florestas, um crescimento de 122% sobre os mesmos dois meses de 2013.

As análises mensais do sistema de alertas de desmatamento Deter estavam prontas pelo menos desde 14 de outubro no Inpe (Instituto Nacional de Pesquisas Espaciais). Em agosto, foram desmatados 890,2 km<sup>2</sup>, um salto de 208% sobre os 288,6 km<sup>2</sup> do mesmo mês de 2013. Em setembro foram 736 km<sup>2</sup>, 66% mais que no ano passado.

(<http://www1.folha.uol.com.br/ambiente/2014/11/1544688-desmatamento-na-amazonia-dispara-em-agosto-e-setembro.shtml>. Adaptado)

Um dos fatores responsáveis pelo aumento do desmatamento foi

- (A) a construção de hidrelétricas.
- (B) a abertura de uma ferrovia.
- (C) o reinício das obras da BR-163.
- (D) a redução de terras indígenas.
- (E) a expansão da agropecuária.

22. A questão está relacionada à imagem de 07.11.2014.

### LONGA CAMINHADA



**Obama em direção à Casa Branca: para os rivais, o governo está sem rumo.**

(<http://www.istoe.com.br/reportagens/391383>)

Barack Obama tem passado por sérios problemas políticos que têm aumentado sua impopularidade. Exemplo desse fato ocorreu em novembro de 2014, quando Obama

- (A) deixou de opinar sobre a libertação do policial que matou acidentalmente um jovem negro no estado sulino do Mississippi.
- (B) sofreu forte derrota, pois o partido Republicano, de oposição, conquistou a maioria do Senado e ampliou sua liderança na Câmara dos Representantes.
- (C) priorizou a política externa estadunidense mantendo tropas no Afeganistão e, portanto, aumentando as despesas militares.
- (D) promoveu a regularização do trabalho de milhões de imigrantes asiáticos que concorrem com a mão de obra dos trabalhadores estadunidenses.
- (E) negou apoio à Ucrânia, que luta contra as investidas russas em seu território, o que gerou, entre os estadunidenses, o temor de uma nova Guerra Fria.

23. O escritor paraibano morreu nesta quarta-feira [23/07], aos 87 anos. Integrante da Academia Brasileira de Letras, ele era defensor da cultura popular brasileira, e um dos maiores dramaturgos do país, além de autor de romances e poemas. O *Auto da compadecida* é uma de suas obras mais conhecidas.

(<http://oglobo.globo.com/cultura/livros/morre-aos-87-anos-escritor-cavaleiro-do-sertao-13341934>)

Trata-se de

- (A) Ariano Suassuna.
- (B) Ivan Mesquita.
- (C) Rubem Alves.
- (D) João Ubaldo Ribeiro.
- (E) Paulo Leminski.

24. No âmbito das relações internacionais, o Brasil participa do **G20** desde sua fundação e, em novembro, ocorreu um evento que reuniu o Grupo e contou com a participação da presidente Dilma Roussef, logo após sua reeleição. Leia a notícia.

*A reunião de 2014 do chamado G-20, em 15 e 16 de novembro na Austrália, pouco produziu em termos de resoluções concretas e factíveis. [...] Na reunião deste ano houve a manifestação de profundas preocupações com a garantia do emprego e de melhores condições de vida das pessoas.*

(<http://www.teoriaedebate.org.br/colunas/mundo/cupula-do-g-20-na-australia>)

Sobre o G20, é correto afirmar que

- (A) tem se caracterizado pela formação de uma frente de oposição às grandes instituições financeiras, como o FMI.
- (B) é composto por países que têm em comum o agronegócio e as exportações de *commodities* de alto valor econômico.
- (C) é uma força geopolítica mais forte que a Otan, pois suas recentes ações neutralizaram o conflito entre Israel e Palestina.
- (D) é formado por países desenvolvidos e por emergentes que se reúnem para discutir problemas socioeconômicos globais.
- (E) se mantém como grupo de oposição à ONU e periodicamente faz pressão para mudanças no Conselho de Segurança da organização.

25. O desaquecimento da economia brasileira não é exceção mundial e, nos dois primeiros trimestres de 2014, a variação negativa do PIB é indiscutível.

(Carta Capital, Ano XX, nº 818. 10.set.2014. Adaptado)

Na observação de especialistas, o Brasil está em

- (A) recessão profunda porque o PIB negativo provocou déficits na balança comercial e aumento da dívida externa.
- (B) estagnação porque deixou de importar produtos primários e manufaturados necessários para o setor manufatureiro interno.
- (C) recessão técnica pois, apesar da queda do PIB, o desemprego é baixo e não houve redução da massa salarial.
- (D) estagnação pois a queda do PIB relaciona-se às fracas exportações e à incapacidade de o país saldar seus débitos.
- (E) inadimplência porque não tem conseguido manter o nível de emprego nem de investimento nos setores sociais e de infraestrutura.

### NOÇÕES DE INFORMÁTICA


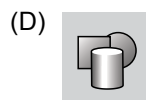

26. Em uma planilha do MS- Excel 2010, a partir da sua configuração padrão, utilizada por uma empresa de cobrança para controlar as pessoas devedoras, como ilustra a figura, a coluna A contém o nome do devedor, a coluna B contém o RG do devedor, a coluna C contém o montante a receber e a coluna D informa se foi pago: N para Não e S para Sim.

	A	B	C	D
1	Empresa de Cobrança Só Calote			
2	Nome do Devedor	RG	Valor	Pago (S/N)
3	Alexandre Bueno	1111111111	R\$ 2.500,00	S
4	Benedito Suqueira	2222222222	R\$ 1.250,00	S
5	Clodoaldo Nunes	3333333333	R\$ 850,00	N
6	Flavia Oliveira	4444444444	R\$ 690,00	N
7	Paula Flores	5555555555	R\$ 3.500,00	S
8	Rogério Caldas	6666666666	R\$ 1.300,00	S
9				
10		Total Pago	R\$ 8.550,00	
11				

A fórmula a ser aplicada na célula C10 para calcular o Valor Total que os devedores pagaram é

- (A) =SOMASE(D3:D8;"S";C3:C8)
- (B) =SOMASE(C3:C8;"S";D3:D8)
- (C) =SOMASE(D3:D8;"S";C3:C8)
- (D) =SOMASES(B2:B8;C2:C10;"S";D2:D8)
- (E) =SOMASES(C2:C8;"S";B2:B8)

27. No MS-Word 2010, na sua configuração padrão, no guia "Inserir", o ícone que permite incluir uma imagem é

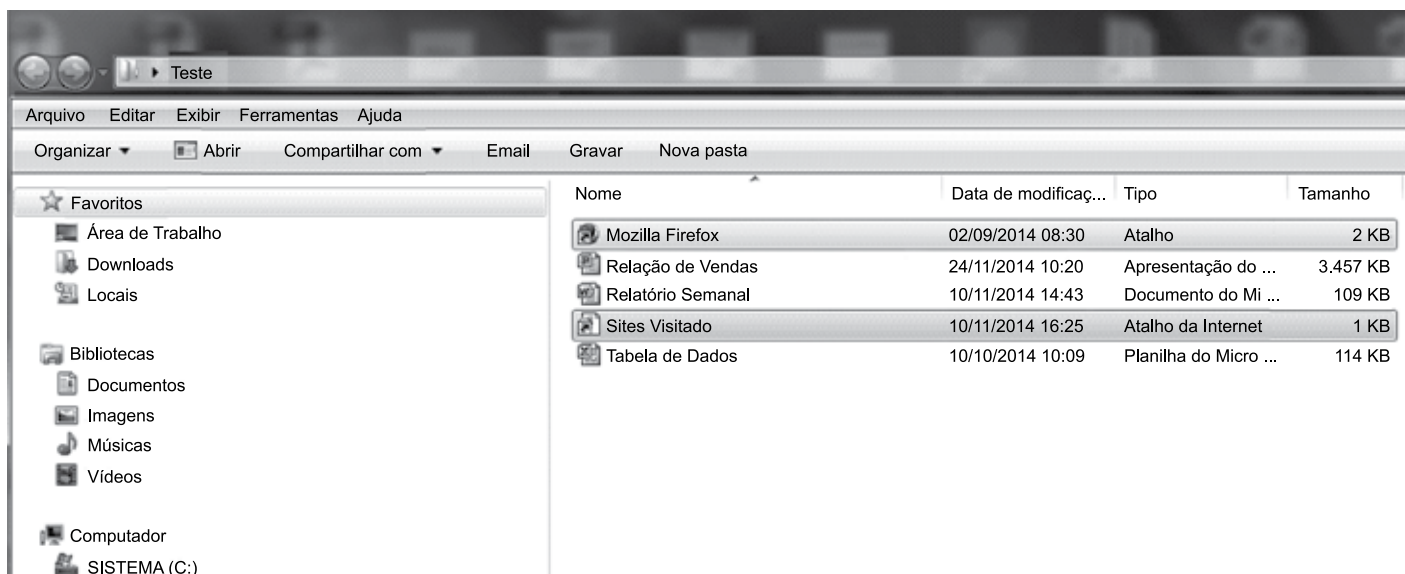


28. Com relação ao e-mail, assinale a alternativa que apresenta um endereço eletrônico válido.

- (A) feliz.da.silva@@hotmail.com
- (B) nível-@ gmail.com
- (C) www.terra.com.br
- (D) verdade.gmail.com
- (E) duvida@empresa1.com



29. No Windows Explorer do Windows 7, na sua configuração padrão, apresenta o conteúdo de uma pasta chamada “Teste”, conforme ilustra a figura.




O conteúdo da pasta “Teste” apresenta dois atalhos, uma planilha do Excel 2010, uma apresentação do PowerPoint 2010 e um documento do Word 2010.

Analisando a figura, assinale a alternativa cuja afirmação é correta.

- (A) Para selecionar os dois atalhos usando o mouse, a tecla Alt precisa estar pressionada durante a seleção.
- (B) Para selecionar os dois atalhos usando o mouse, a tecla Esc precisa estar pressionada durante a seleção.
- (C) Para selecionar os dois atalhos usando o mouse, a tecla Tab precisa estar pressionada durante a seleção.
- (D) Para selecionar os dois atalhos usando o mouse, a tecla Ctrl precisa estar pressionada durante a seleção.
- (E) Para selecionar os dois atalhos usando o mouse, a tecla F1 precisa estar pressionada durante a seleção.

30. No MS-PowerPoint 2010, a partir da sua configuração padrão, no guia “Apresentação de Slides”, existe um grupo que contém vários ícones, conforme é ilustrado na figura.



Assinale a alternativa que contém o nome desse grupo.

- (A) Monitores.
- (B) Configurar.
- (C) Iniciar Apresentação de Slides.
- (D) Opções.
- (E) Testar Apresentação.

## CONHECIMENTOS ESPECÍFICOS

31. Trata-se de um processo em que todas as atividades operacionais, financeiras e acessórias de uma entidade são contempladas. Tal processo deve dispor de controles eficientes e eficazes, capazes de permitir apurar desvios entre valores e tendências, tendo em vista efetuar correções de rumo em tempo oportuno. Pode-se afirmar, ainda, que se trata de uma ferramenta fundamental para o processo de planejamento, decisões e até mesmo de sobrevivência das organizações. Neste caso, destacam-se como ferramentas administrativas: controle de vendas, marketing, finanças, custos, qualidade, entre outras.

O texto trata de

- (A) Demonstrações Contábeis.
- (B) Relatórios Gerenciais.
- (C) Sistema Financeiro.
- (D) SIAF.
- (E) Sistema Orçamentário.

32. É correto afirmar que, de acordo com a Lei Complementar nº 101/2000, a ação planejada e transparente, em que se previnem riscos e se corrigem desvios capazes de afetar o equilíbrio das contas públicas, mediante o cumprimento de metas de resultados entre receitas e despesas e a obediência a limites e condições no que tange a renúncia de receita, geração de despesas com pessoal, seguridade social e outras, dívidas consolidada e mobiliária, operações de crédito, inclusive por antecipação de receita, concessão de garantia e inscrição em Restos a Pagar, pressupõe ser uma responsabilidade da

- (A) gestão fiscal.
- (B) gestão contábil.
- (C) gestão orçamentária.
- (D) gestão financeira.
- (E) gestão patrimonial.

33. A concessão ou ampliação de incentivo ou benefício de natureza tributária da qual decorra renúncia de receita, deverá estar acompanhada de estimativa do impacto orçamentário-financeiro no exercício em que deva iniciar sua vigência e nos dois exercícios seguintes. Adicionalmente, deverá atender condições legais, bem como ao disposto

- (A) no Plano de Contas Contábil contido no manual de contabilidade aplicada ao setor público.
- (B) na Lei de Diretrizes Orçamentárias.
- (C) nas Normas Gerais de Direito Financeiro para elaboração e controle dos orçamentos.
- (D) nas Normas Orçamentárias e de Balanços da União, dos Estados, dos Municípios e do Distrito Federal.
- (E) na Política Econômica Financeira e no Programa de Trabalho do Governo.

34. Serão consideradas não autorizadas, irregulares e lesivas ao patrimônio público a geração de despesa ou a assunção de obrigação que não atendam à criação, expansão ou ao aperfeiçoamento de ação governamental que acarrete aumento da despesa que, por sua vez, será acompanhado de:

- I. estimativa do impacto orçamentário-financeiro no exercício em que deva entrar em vigor e nos dois subsequentes; e
- II. declaração do ordenador da despesa de que o aumento tem adequação orçamentária e financeira com a lei orçamentária anual e compatibilidade com o plano plurianual e com a lei de diretrizes orçamentárias.

O texto trata, especificamente,

- (A) da despesa obrigatória de caráter continuado.
- (B) das definições e limites de despesa.
- (C) do controle da despesa.
- (D) da geração de despesas.
- (E) do aumento ou redução de despesas.

35. Os planos, orçamentos e as leis de diretrizes orçamentárias; as prestações de contas e o respectivo parecer prévio; o Relatório Resumido da Execução Orçamentária e o próprio Relatório de Gestão Fiscal; bem como as versões simplificadas desses documentos, no contexto da gestão fiscal, são considerados como

- (A) modelos de gestão pública.
- (B) instrumentos de transparência.
- (C) relatórios financeiros e contábeis, sobretudo como ferramentas de auditoria.
- (D) suporte para a preparação do Plano Plurianual.
- (E) peças das demonstrações contábeis e patrimoniais.

36. Compreende os compromissos de exigibilidade superior a doze meses, contraídos para atender a desequilíbrio orçamentário ou financeiro de obras e serviços públicos e será escriturado(a) com individualização e especificações que permitam verificar, a qualquer momento, a posição dos empréstimos, bem como os respectivos serviços de amortização e juros.

O texto trata

- (A) do passivo ordinário.
- (B) do fundo creditório.
- (C) do passivo contingente.
- (D) da reserva creditória.
- (E) da dívida fundada.

37. Estabelecer, privativamente, limites globais e condições para o montante da dívida mobiliária dos Estados, do Distrito Federal e dos Municípios compete
- (A) ao Senado Federal.
  - (B) à Câmara dos Deputados.
  - (C) ao Poder Executivo.
  - (D) ao Poder Judiciário.
  - (E) à legislação específica.
38. Ao avaliar uma determinada transação, o assistente de contabilidade verificou que se trata de uma operação em concordância com compromisso financeiro assumido em razão de mútuo, abertura de crédito, emissão e aceite de título, aquisição financiada de bens, recebimento antecipado de valores provenientes da venda a termo de bens e serviços, arrendamento mercantil e outras operações assemelhadas.
- Diante desse fato e à luz da legislação, tal operação será classificada como
- (A) dívida imobiliária e de capitais.
  - (B) dívida pública.
  - (C) concessão de garantia.
  - (D) operação de crédito.
  - (E) financiamento de giro e de capital.
39. Das metas e prioridades da administração pública federal, a elaboração e a aprovação dos Projetos de Lei Orçamentária e a execução da respectiva Lei deverão ser compatíveis com a obtenção da meta de superávit primário para os Orçamentos Fiscal e da Seguridade Social. Tais metas serão estabelecidas em cumprimento e como determinado em Lei, bem como em concordância com
- (A) a Lei de Diretrizes Orçamentárias.
  - (B) o estabelecido no Controle Orçamentário.
  - (C) as prioridades e metas dos Governos Federal, Estadual, Municipal e Distrito Federal.
  - (D) o resultado primário.
  - (E) a Constituição Federal.
40. Considerando a Lei de Responsabilidade Fiscal, pode-se afirmar que o projeto de Lei Orçamentária Anual, elaborado de forma compatível com o Plano Plurianual e com a Lei de Diretrizes Orçamentárias,
- (A) conterá o demonstrativo da compatibilidade da programação dos orçamentos com os objetivos e metas constantes do documento "Anexo de Metas Fiscais".
  - (B) será acompanhado do demonstrativo regionalizado do efeito, sobre as entradas e saídas de caixa, decorrente de isenções, anistias, remissões, subsídios e benefícios de natureza financeira, tributária e creditícia, bem como das medidas de compensação a denúncias de receita e ao aumento de despesas obrigatórias de caráter descontinuado.
  - (C) conterá reserva de capital, cuja forma de utilização e montante, definida com base na receita corrente bruta, será estabelecida na lei de finanças públicas, destinada a atendimento de passivos e outros riscos e eventos financeiros não previstos.
  - (D) será obrigação do Banco Central para com o Tesouro Federal, consignado em dotação específica no orçamento.
  - (E) terá o impacto e o custo fiscal das operações realizadas pelo Tesouro Nacional demonstrados trimestralmente, nos termos em que dispuser a Lei de Diretrizes Orçamentárias da União.
41. No que tange à Execução Orçamentária e ao Cumprimento das Metas, não serão objeto de limitação as despesas
- (A) que até o final dos meses de maio, setembro e fevereiro, o Poder Executivo demonstrar e avaliar o cumprimento das metas fiscais de cada quadrimestre.
  - (B) que constituam obrigações constitucionais e legais do ente, inclusive aquelas destinadas ao pagamento do serviço da dívida, e as ressalvadas pela lei de diretrizes orçamentárias.
  - (C) cujas execuções orçamentária e financeira identificarão os beneficiários de pagamento de sentenças judiciais ou administrativas, por meio de sistema de contabilidade e administração financeira, para fins de observância da ordem cronológica.
  - (D) cujas previsões de receita observarem as normas técnicas e legais, considerarem os efeitos das alterações na legislação, da variação do índice de preços, do crescimento econômico ou de qualquer outro fator relevante, e forem acompanhadas de demonstrativo de sua evolução.
  - (E) em que a reestimativa da contrapartida da receita, por parte do Poder Legislativo, só será admitida se comprovado erro ou omissão de ordem técnica ou legal.

42. Analise as definições a seguir:

“Trata-se do processo através do qual a empresa se mobiliza para atingir o sucesso e construir o seu futuro, por meio de um comportamento proativo, considerando o seu ambiente atual e futuro”. (Schmidt, Santos, Pinheiros e Martins *apud* Pagnoncelli e Vasconcellos – 1992)

“Trata-se do processo gerencial que permite estabelecer o rumo a ser seguido pela empresa, com vistas a obter um nível de otimização na relação da empresa com o seu ambiente”. (Schmidt, Santos, Pinheiros e Martins *apud* Oliveira – 1999)

“É um processo que consiste na análise dos pontos fortes e pontos fracos da empresa e das oportunidades e ameaças do ambiente. Esta análise tem o intuito de estabelecer objetivos, planos e ações que possibilitem um aumento da competitividade empresarial”. (Cunha – *apud* LUNKES, 2003)

Com base nessas definições, conclui-se que os autores, apesar de diferentes formas, abordam

- (A) plano de cultura de risco.
- (B) gestão de risco.
- (C) planejamento estratégico.
- (D) planejamento organizacional.
- (E) administração de conflitos internos e externos ao ambiente estratégico.

43. Uma pessoa obteve um empréstimo de R\$ 8.000,00 (oito mil reais) com um amigo, que ofereceu as seguintes condições de atualização e pagamento desse empréstimo:

- taxa de juros 12% ao ano – juros simples e não capitalizáveis;
- amortizações semestrais, incluindo juros e principal. Para essas amortizações os juros deverão ser calculados semestralmente até o vencimento, considerando o valor devedor líquido, bem como o pagamento da respectiva parcela do principal;
- prazo de 48 meses; e
- por fim, a garantia do empréstimo será de um veículo.

Com base nessas informações, pode-se concluir que o total dos juros pagos nesse empréstimo, em R\$, foi de

- (A) 960,00.
- (B) 1.320,00.
- (C) 1.920,00.
- (D) 2.160,00.
- (E) 3.840,00.

44. Uma empresa toma empréstimo de R\$100.000,00 (cem mil reais) à taxa de 2% ao mês, no regime de juro composto de capitalização. Sabendo que não haverá nenhuma amortização e que a quitação total se dará em 12 (doze) meses após a contratação, assinale a alternativa que apresenta o montante, em R\$, a ser pago no final do período.

**Considere:** não utilizar centavos nem critério de arredondamento; para o cálculo da taxa de juros, utilizar quatro casas decimais.

- (A) 113.560.
- (B) 119.780.
- (C) 123.289.
- (D) 123.292.
- (E) 126.780.

45. Um investidor necessita saber qual o valor inicial de uma aplicação financeira para obter, ao final do período de 8 meses e a uma taxa de juro de 1,5% mensal, um valor final de R\$ 42.000. Esse valor é:

**Considere:** não utilizar centavos nem critério de arredondamento; para o cálculo da taxa de juros, utilizar quatro casas decimais.

- (A) 32.457.
- (B) 37.293.
- (C) 39.293.
- (D) 41.379.
- (E) 41.593.

46. As receitas de que trata a Lei nº 4.320/64, relativamente a Impostos, Taxas e Contribuições de Melhorias, correspondem à categoria econômica na seguinte classificação:

- (A) Receitas de Capital.
- (B) Receitas Imobiliárias.
- (C) Transferências Correntes.
- (D) Receitas Diversas
- (E) Receitas Correntes.

47. Considerando o previsto no art. 12º da Lei nº 4.320/64, a qual estatui Normas Gerais de Direito Financeiro para elaboração e controle dos orçamentos e balanços da União, dos Estados, dos Municípios e do Distrito Federal, as despesas de Investimentos e Inversões Financeiras são classificadas na categoria econômica de Despesas
- (A) de Capital.
  - (B) de Custeio.
  - (C) Financeiras.
  - (D) Operacionais.
  - (E) Correntes.
48. Equipara-se a \_\_\_\_\_ à assunção, ao reconhecimento ou à confissão de dívidas pelo ente da Federação, sem prejuízo do cumprimento das exigências para a geração de despesa. Por outro lado, não se caracterizam como \_\_\_\_\_ as incorporações de passivos decorrentes de precatórios judiciais, as quais, no entanto, integrarão a dívida consolidada nos termos definidos no Manual de Demonstrativos Fiscais.
- Assinale a alternativa que preenche, correta e respectivamente, as lacunas do enunciado.
- (A) transferência de titularidade ... operações financeiras
  - (B) operação de transferência ... movimentações de caixa
  - (C) obrigação fiduciária ... operações complementares
  - (D) operação de crédito ... operações de crédito
  - (E) cessão de crédito ... operações interbancárias públicas
49. Segundo o art. 104 da Lei nº 4.320/64, a Demonstração das Variações Patrimoniais evidenciará as alterações verificadas no patrimônio, resultantes ou independentes da execução orçamentária e indicará o resultado patrimonial do exercício. Essas variações são decorrentes de transações no setor público que aumentam ou diminuem o patrimônio líquido, bem como decorrentes de transações no setor público que alteram a composição dos elementos patrimoniais sem afetar o patrimônio líquido e são denominadas
- (A) subsidiadas e de cumprimento.
  - (B) quantitativas e qualitativas.
  - (C) tempestivas e financeiras.
  - (D) qualitativas e econômicas.
  - (E) patrimoniais e financeiras.
50. De acordo com as Normas da profissão contábil, o profissional deverá seguir determinados princípios. O princípio que impõe a todos os profissionais da contabilidade a obrigação de não comprometer seu julgamento profissional ou do negócio em decorrência de comportamento tendencioso, conflito de interesse ou influência indevida de outros, é
- (A) o do ceticismo.
  - (B) o da integridade.
  - (C) o da tempestividade.
  - (D) o do zelo profissional.
  - (E) o da objetividade.
51. Segundo as Normas da Profissão, o Contador poderá exercer determinados cargos dentro de uma organização, considerados de influência. Esperam-se desse profissional comportamento ético e atitudes exemplares. Todavia, o cumprimento dos princípios éticos pode, potencialmente, ser ameaçado por ampla gama de circunstâncias e relacionamentos.
- Nesse caso, assinale a alternativa que apresenta um exemplo de circunstância que pode ser uma ameaça de interesse próprio para o contador interno.
- (A) Deter interesse financeiro na organização empregadora ou receber empréstimo ou garantia da organização empregadora.
  - (B) Fazer uso pessoal e adequado de bens corporativos.
  - (C) Exercer pressão comercial externa à diretoria de suprimentos da organização empregadora.
  - (D) Não participar de acordos de remuneração de incentivos oferecidos pela organização empregadora.
  - (E) Não haver preocupação com a manutenção do emprego ou do contrato de prestação de serviços.

Com base no balancete de verificação da empresa Cristais Transparentes Indústria e Comércio de Plástico Ltda., em 31 de dezembro de 2013, demonstrado a seguir, responda às questões de números 52 a 55. Seguem algumas informações adicionais.

- O fechamento do balanço será em 31 de dezembro de 2013, portanto, trata-se de um balancete para tal fechamento. Nesse caso, o candidato deverá realizar tal fechamento.
- A empresa está enquadrada no sistema de apuração de imposto de renda e da contribuição social pelo Lucro Real, portanto, o regime do PIS e da COFINS é não cumulativo. Pede-se considerar o cálculo anual para as contribuições.

BALANCETE DE VERIFICAÇÃO – 31/12/2013	VALORES EM R\$
Estoques	106.000,00
Parcelamento de Impostos (Circulante)	(62.350,00)
Fornecedores	(52.500,00)
Imposto de Renda e Contribuição Social sobre o Lucro	16.268,40
Reserva de Lucros	(42.547,40)
Outras Despesas Operacionais	2.000,00
Máquinas e Equipamentos	217.500,00
Ativos Intangíveis	31.500,00
Despesas Administrativas	32.000,00
Devoluções de Vendas	25.500,00
Depósitos Judiciais (Não Circulante)	11.400,00
Bancos Conta Movimento	23.614,00
Salários a Pagar	(41.250,00)
Caixa	3.750,00
Capital Social	(105.000,00)
Despesas Antecipadas - prêmios de seguros	4.000,00
CMV - Custo das Mercadorias Vendidas	300.000,00
Impostos sobre Vendas	158.050,00
Receitas Financeiras	(24.470,00)
Títulos a Receber (Não Circulante)	33.750,00
Despesas com Vendas	28.935,00
Impostos a recolher	(43.500,00)
Contas a Receber de Clientes	37.500,00
Parcelamentos de Impostos (Não Circulante)	(28.500,00)
Aplicações Financeiras de Liquidez Imediata	26.400,00
Despesas Financeiras	5.000,00
Empréstimos e Financiamentos (Não circulante)	(33.750,00)
Provisão de Férias	(34.500,00)
Outras Receitas Operacionais	(14.800,00)
Vendas de Produtos	(580.000,00)

52. Demonstra o lucro líquido do exercício, bem como lançamento contábil para o encerramento do balanço, a seguinte alternativa:

- (A) Débito: Resultado do Exercício  
Crédito: Reservas de Capital R\$ 51.524,70
- (B) Débito: Lucro do Exercício  
Crédito: Reserva Legal R\$ 51.615,60
- (C) Débito: Resultado do Exercício  
Crédito: Lucros a Destinar R\$ 51.516,60
- (D) Débito: Resultado do Exercício  
Crédito: Lucro do Exercício R\$ 67.785,60
- (E) Débito: Lucro do exercício  
Crédito: Reserva estatutária R\$ 67.785,50

53. O Patrimônio Líquido, em R\$, após o encerramento do exercício é de

- (A) 199.064,00.
- (B) 105.000,00.
- (C) 147.547,40.
- (D) 96.064,00.
- (E) 42.547,40.

54. Assinale a alternativa com o valor, em R\$, da contribuição social para a COFINS sobre as Receitas de Vendas de Produtos, de acordo com a legislação pertinente.

**Considere:** não ocorreram créditos por entrada de insumos para tal cálculo.

- (A) 158.050,00.
- (B) 53.650,00.
- (C) 44.080,00.
- (D) 25.500,00.
- (E) 17.400,00.

55. Assinale a alternativa com o valor, em R\$, da contribuição social para PIS sobre as Receitas de Vendas de Produtos, de acordo com a legislação pertinente.

**Considere:** não ocorreram créditos por entrada de insumos para tal cálculo.

- (A) 3.770,00.
- (B) 6.953,00.
- (C) 9.570,00.
- (D) 9.590,23.
- (E) 11.435,40.

Com base nas informações a seguir, responda às questões de números **56** e **57**:

A empresa Calcula Tudo S.A. necessita calcular o Imposto de Renda e a Contribuição Social sobre o Lucro para o exercício de 2013. Sabe-se que a empresa encontra-se enquadrada no sistema de apuração pelo Lucro Real. Adicionalmente, a empresa escriturou o LALUR, que apresenta as seguintes informações necessárias para tal cálculo:

- Lucro Antes do Imposto de Renda e da Contribuição Social – R\$ 650.300,00
- Adições temporárias – R\$ 130.000,00
- Exclusões Permanentes – R\$ 78.000,00

**56.** Assinale a alternativa com o valor, em R\$, dispensando centavos, do Imposto de Renda e adicional do Imposto de Renda em 31 de dezembro de 2013 da empresa.

- (A) 105.345.
- (B) 138.575.
- (C) 150.075.
- (D) 151.575.
- (E) 175.575.

**57.** Assinale a alternativa com o valor, em R\$, dispensando centavos, da Contribuição Social sobre o Lucro em 31 de dezembro de 2013 da empresa.

- (A) 58.527.
- (B) 61.707.
- (C) 63.207.
- (D) 63.228.
- (E) 66.207.

**58.** A contabilidade deverá evidenciar, em seus registros, o montante dos créditos orçamentários vigentes, a despesa empenhada e a despesa realizada, à conta dos mesmos créditos, e as dotações disponíveis. O registro contábil da receita e da despesa far-se-á de acordo com as especificações constantes da Lei de Orçamento e dos créditos adicionais. Nesse caso, pode-se afirmar que os restos a pagar, excluídos os serviços da dívida, os serviços da dívida a pagar, os depósitos, bem como os débitos de tesouraria, estão classificados como

- (A) Dívida Fundada.
- (B) Dívida Flutuante.
- (C) Contas Financeiras a Pagar.
- (D) Dívida Temporária.
- (E) Equivalentes de Caixa.

**59.** De acordo com a Lei nº 4.320/64, os bens, créditos e valores cuja mobilização ou alienação dependa de autorização legislativa estão compreendidos no Balanço Patrimonial Público pelo

- (A) Ativo Financeiro.
- (B) Passivo Permanente.
- (C) Ativo Permanente.
- (D) Passivo Permanente.
- (E) Passivo Patrimonial.

**60.** O objetivo da \_\_\_\_\_ é fornecer aos usuários informações sobre os resultados alcançados e os aspectos de natureza \_\_\_\_\_, econômica, financeira e física do patrimônio da entidade do setor público e suas mutações, em apoio ao processo de tomada de decisão; a adequada prestação de contas; e o necessário suporte para a instrumentalização do \_\_\_\_\_.

Assinale a alternativa que completa, correta e respectivamente, as lacunas do enunciado.

- (A) Controladoria Pública ... contábil ... controle orçamentário
- (B) Contabilidade ... contábil e operacional ... sistema de controle interno
- (C) Demonstração Contábil ... orçamentária e extraorçamentária ... controle fiscal
- (D) Contabilidade Aplicada ao Setor Público ... orçamentária ... controle social
- (E) Demonstração Orçamentária ... arrecadatória ... controle de arrecadação

