



# Tribunal de Justiça do Estado da Bahia

Concurso Público 2014

Prova objetiva e discursiva – Nível Superior

## **Analista Judiciário - Área de Apoio Especializado - Especialidade - Engenharia Civil TIPO 1 – BRANCA**

### **Informações Gerais**

1. Você receberá do fiscal de sala:
  - a) este caderno de prova, contendo 70 questões objetivas, o tema de redação;
  - b) uma folha destinada às respostas das questões objetivas;
  - c) um caderno de respostas destinado à redação.
2. Verifique se seu caderno está completo, sem repetição ou falhas, com cinco alternativas de resposta (A, B, C, D e E) para cada questão objetiva. Caso contrário, notifique imediatamente o fiscal de sala para que sejam tomadas as devidas providências.
3. As questões são identificadas pelo número situado acima do seu enunciado.
4. Ao receber a folha de respostas da prova objetiva você deve:
  - a) conferir seus dados pessoais, em especial seu nome, número de inscrição e o número do documento de identidade.
  - b) ler atentamente as instruções para o preenchimento da folha de respostas;
  - c) marcar na folha de respostas da prova objetiva o campo relativo à confirmação do tipo/cor de prova, conforme o caderno que você recebeu;
  - d) assinar seu nome, apenas nos espaços reservados, com caneta esferográfica de tinta azul ou preta.
5. Durante a aplicação da prova não será permitido:
  - a) qualquer tipo de comunicação entre os candidatos;
  - b) levantar da cadeira sem a devida autorização do fiscal de sala;
  - c) será eliminado do concurso o candidato que, durante a realização da prova, for surpreendido portando aparelhos eletrônicos, tais como *iPod*, *smartphone*, telefone celular, agenda eletrônica, aparelho MP3, *notebook*, *tablet*, *palmtop*, *pendrive*, receptor, gravador, máquina de calcular, máquina fotográfica, controle de alarme de carro etc., bem como relógio de qualquer espécie, óculos escuros ou quaisquer acessórios de chapelaria, tais como chapéu, boné, gorro etc., e, ainda, lápis, lapiseira (grafite), corretor líquido e/ou borracha. O candidato que estiver portando algo definido ou similar ao disposto neste subitem deverá informar ao fiscal da sala, que determinará o seu recolhimento em embalagens não reutilizáveis fornecidas pelos fiscais, as quais deverão permanecer lacradas durante todo o período da prova, sob a guarda do candidato.
6. O preenchimento das respostas da prova objetiva, de inteira responsabilidade do candidato, deverá ser feito com caneta esferográfica de tinta indelével de cor preta ou azul. **Não será permitida a troca da folha de respostas por erro do candidato.**
7. O tempo disponível para a realização da prova é de **5 (cinco)** horas, já incluído o tempo para a marcação da folha de respostas da prova objetiva.
8. Reserve tempo suficiente para o preenchimento de suas respostas. Para fins de avaliação, serão levadas em consideração apenas as marcações realizadas na folha de respostas da prova objetiva, não sendo permitido anotar informações relativas às suas respostas em qualquer outro meio que não seja o próprio caderno de provas.
9. Somente após decorridos **noventa minutos** do início da prova você poderá retirar-se da sala de prova sem, contudo, levar o caderno de provas.
10. Somente no decorrer dos últimos **sessenta minutos** do período da prova, você poderá retirar-se da sala levando o caderno de provas.
11. Ao terminar a prova, entregue a folha de respostas ao fiscal da sala e deixe o local de prova. Caso você se negue a entregar, será eliminado do concurso.
12. A FGV realizará a coleta da impressão digital dos candidatos na folha de respostas.
13. Os candidatos poderão ser submetidos a sistema de detecção de metais quando do ingresso e da saída de sanitários durante a realização das provas. Ao sair da sala, ao término da prova, o candidato não poderá usar o sanitário.
14. Os gabaritos preliminares das provas objetivas serão divulgados no dia **27/01/2015**, no endereço [www.fgv.br/fgvprojetos/concursos/tjba](http://www.fgv.br/fgvprojetos/concursos/tjba).
15. O prazo para interposição de recursos contra os gabaritos preliminares será de 0h do dia **28/01/2015** até as 23h59 do dia **29/01/2015**, observado o horário oficial, no endereço eletrônico [www.fgv.br/fgvprojetos/concursos/tjba](http://www.fgv.br/fgvprojetos/concursos/tjba), por meio do Sistema Eletrônico de Interposição de Recurso.



## Língua Portuguesa

Texto 1 – “A história está repleta de erros memoráveis. Muitos foram cometidos por pessoas bem-intencionadas que simplesmente tomaram decisões equivocadas e acabaram sendo responsáveis por grandes tragédias. Outros, gerados por indivíduos motivados por ganância e poder, resultaram de escolhas egoístas e provocaram catástrofes igualmente terríveis.” (*As piores decisões da história*, Stephen Weir)

### 1

A primeira frase do texto 1, no desenvolvimento desse texto, desempenha o seguinte papel:

- (A) aborda o tema de “erros memoráveis”, que são enumerados nos períodos seguintes;
- (B) introduz um assunto, que é subdividido no restante do texto;
- (C) mostra a causa de algo cujas consequências são indicadas a seguir;
- (D) denuncia a história como uma sequência de erros cometidos por razões explicitadas a seguir;
- (E) faz uma afirmação que é comprovada pelas exemplificações seguintes.

### 2

As palavras “tragédias” e “catástrofes” foram empregadas no texto 1 para:

- (A) repetir a mesma ideia contida em “erros memoráveis”;
- (B) construir a coesão textual entre os períodos;
- (C) dimensionar a gravidade dos erros cometidos;
- (D) intensificar a razão humana que conduz a erros;
- (E) mostrar a visão parcial de um dos lados dos fatos históricos.

### 3

Os dois últimos períodos do texto 1 mostram um paralelismo semântico ou sintático, que só NÃO se realiza no seguinte par de termos:

- (A) muitos / outros;
- (B) foram cometidos / gerados;
- (C) pessoas bem-intencionadas / indivíduos motivados por ganância e poder;
- (D) tomaram decisões equivocadas / provocaram catástrofes;
- (E) grandes tragédias / catástrofes igualmente terríveis.

### 4

O texto 1 mostra seguidamente a participação do enunciador no assunto veiculado; o segmento em que essa participação está exemplificada de forma inadequada é:

- (A) seleção de adjetivos subjetivos: “grandes tragédias”;
- (B) dúvida tendenciosa: “motivados por ganância e poder”;
- (C) opinião particular: “pessoas bem-intencionadas”;
- (D) parcialidade no julgamento: “catástrofes terríveis”;
- (E) análise pessoal: “escolhas egoístas”.

### 5

No texto 1, a palavra “bem-intencionada” aparece grafada com hífen; o Novo Acordo Ortográfico diz que “Nas palavras em que o primeiro elemento é *bem-*, a regra geral é o emprego do hífen, não importando se o segundo elemento começa por vogal ou consoante”. Sobre esse caso, a afirmação correta é:

- (A) a palavra foi mal grafada, pois deve ser escrita sem hífen;
- (B) a palavra foi bem grafada já que se trata da junção de um advérbio de modo + adjetivo;
- (C) a palavra foi bem grafada, pois se trata de um adjetivo composto com um elemento de valor prefixal;
- (D) a palavra foi mal grafada, visto que não se trata de um vocábulo, mas de dois;
- (E) a palavra foi bem grafada, pois houve mudanças nesse emprego, com as novas regras.

Texto 2 - “A saga do rapto de Helena e a subsequente Guerra de Troia continuam sendo um dos melhores exemplos dos perigos da luxúria. No todo, a história sugere quão imprudente é para um hóspede na casa de um homem levar consigo, ao partir, a esposa do anfitrião. Acrescentamos a esse erro crasso a dupla idiotice da raiva e da inveja, agravadas quando o marido abandonado, Menelau, insistiu nos direitos de um velho tratado e arrastou todo o seu reino e os dos vizinhos em missão de vingança. Muitos deles demoraram quase vinte anos na guerra e no retorno, para não falar na maioria que morreu, deixando os lares e as famílias no desamparo e na ruína – mal sobrevivendo, sugerem os registros, a assédios diversos e a desastres naturais.” (*Menelau e a esposa perdida*, Stephen Weir)

### 6

O erro histórico aludido nesse texto 2 inclui um conjunto de defeitos humanos; aquele que está caracterizado de forma imperfeita, por NÃO fazer parte do texto, é:

- (A) a imprudência do hóspede, que sequestrou a mulher de Menelau;
- (B) o espírito de vingança de Menelau, que arrastou os reinos gregos para a Guerra de Troia;
- (C) a irresponsabilidade de alguns heróis, que deixaram suas famílias ao desamparo;
- (D) a raiva e a inveja do marido traído, que provocou o conflito entre gregos e troianos;
- (E) a beleza de Helena, que seduziu o hóspede do marido.

### 7

“A saga do rapto de Helena e a subsequente Guerra de Troia continuam sendo um dos melhores exemplos dos perigos da luxúria.”

Sobre os componentes desse segmento do texto 2, a afirmação correta é:

- (A) os termos “de Helena” e “de Troia” desempenham a mesma função sintática;
- (B) a saga do rapto de Helena e a Guerra de Troia são acontecimentos sucessivos, sendo o segundo causa do primeiro;
- (C) o verbo “continuar” é um verbo de ligação, expressando mudança de estado;
- (D) a Guerra de Troia, segundo o texto, é o exemplo mais importante dos problemas trazidos pela luxúria;
- (E) na expressão “perigos da luxúria”, o termo “da luxúria” representa a causa dos “perigos” aludidos.

**8**

No texto 2, os elementos sublinhados se referem a termos anteriores; a correspondência identificada corretamente é:

- (A) consigo / um hóspede;
- (B) esse erro / a imprudência de Helena;
- (C) seu / do hóspede;
- (D) os / os erros;
- (E) que / muitos deles.

Texto 3 - Sobre esse acontecimento referido no texto 2, o historiador grego Heródoto disse o seguinte: “Até então, não houvera de uma parte e de outra mais do que raptos; depois do acontecido, porém, os Gregos, julgando-se ofendidos em sua honra, fizeram guerra à Ásia, antes que os asiáticos a declarassem à Europa. Ora, conquanto lícito não seja raptar mulheres, dizem os Persas, é loucura vingar-se de um rapto. Manda o bom senso não fazer caso disso, pois sem o próprio consentimento delas decerto não teriam as mulheres sido raptadas.” (Heródoto, *História*).

**9**

No texto 3, Heródoto relativizou o ocorrido, por meio da seguinte estratégia:

- (A) retirando importância de uma declaração de guerra;
- (B) mostrando os raptos como acontecimentos aceitáveis;
- (C) indicando a colaboração de Helena no próprio rapto;
- (D) revelando a licitude do ato de raptar mulheres;
- (E) demonstrando que a vingança não é fruto do bom-senso.

**10**

No texto 3 há uma série de marcas que indicam antiguidade; entre elas, a que formalmente mostra uma variação antiga é:

- (A) a referência a fatos antigos da história grega;
- (B) a utilização constante da forma simples do mais-que-perfeito;
- (C) uso de termos raros como “conquanto”;
- (D) a repetida inversão de ordem sintática;
- (E) o emprego da voz passiva.

**11**

A forma verbal “houvera”, no texto 3, corresponde à forma simples do mais-que-perfeito do indicativo do verbo haver; as formas compostas equivalentes a essa forma simples são:

- (A) era havido / tinha havido;
- (B) tinha havido / havia havido;
- (C) havia havido / seja havido;
- (D) seja havido / tinha sido havido;
- (E) tinha sido havido / era havido.

**12**

“conquanto lícito não seja raptar mulheres”; a forma dessa frase que modifica o seu sentido original é:

- (A) ainda que lícito não seja raptar mulheres;
- (B) apesar de lícito não ser raptar mulheres;
- (C) mesmo que lícito não seja raptar mulheres;
- (D) malgrado lícito não seja raptar mulheres;
- (E) se lícito não é raptar mulheres.

**13**

“julgando-se ofendidos em sua honra”; essa frase do texto 3 poderia estar corretamente expressa numa oração desenvolvida por:

- (A) após se julgarem ofendidos em sua honra;
- (B) quando se julgaram ofendidos em sua honra;
- (C) caso se tenham julgado ofendidos em sua honra;
- (D) dado que se julgaram ofendidos em sua honra;
- (E) por se julgarem ofendidos em sua honra.

Texto 4 – “O caminho para baixo era estreito e íngreme, e tanto os homens quanto os animais não sabiam onde estavam pisando, por causa da neve; todos os que saíam da trilha ou tropeçavam em algo perdiam o equilíbrio e despencavam no precipício. A esses perigos eles resistiam, pois àquela altura já se haviam acostumado a tais infortúnios, mas, por fim, chegaram a um lugar onde o caminho era estreito demais para os elefantes e até para os animais de carga. Uma avalanche anterior já havia arrastado cerca de trezentos metros da encosta, ao passo que outra, mais recente, agravava ainda mais a situação. A essa altura, os soldados mais uma vez perderam a calma e quase caíram em desespero.” (Políbio, *Histórias*).

**14**

Esse texto 4 fala de um outro erro histórico, cometido por Aníbal, general de Cartago, que pretendeu chegar a Roma atravessando os Alpes durante o inverno.

Entre as razões abaixo, aquela que NÃO deve ser vista como causa dos problemas enfrentados pelo exército de Aníbal é:

- (A) a estreiteza do caminho nas montanhas;
- (B) a não identificação do traçado dos caminhos;
- (C) a grande altura por que passavam as tropas;
- (D) a existência comum de avalanches;
- (E) o nervosismo e o desespero dos soldados.

**15**

“pois àquela altura já se haviam acostumado a tais infortúnios”; O termo “àquela altura” se refere:

- (A) ao momento por que passavam;
- (B) à altitude das montanhas;
- (C) à dimensão dos caminhos;
- (D) ao modo por que atravessavam os caminhos;
- (E) à consequência dos fatos anteriores.

**16**

“tanto os homens quanto os animais”; “todos os que saíam da trilha ou tropeçavam em algo”. Nesses dois segmentos do texto 4, os conectores tanto/quanto e ou indicam, respectivamente:

- (A) comparação e alternância;
- (B) semelhança e alternância;
- (C) adição e adição;
- (D) comparação e adição;
- (E) adição e alternância.

**17**

“A(1) esses perigos eles resistiam, pois àquela(2) altura já se haviam acostumado a(3) tais infortúnios, mas, por fim, chegaram a(4) um lugar onde o caminho era estreito demais para os elefantes e até para os animais de carga.”

Nesse segmento do texto 4 há quatro ocorrências numeradas da preposição A; dessas quatro ocorrências, as exigidas pela regência verbal são:

- (A) 1-2-3;
- (B) 2-3-4;
- (C) 1-2-4;
- (D) 1-3-4;
- (E) 1-2-3-4.

**18**

“Uma avalanche anterior já havia arrastado cerca de trezentos metros da encosta, ao passo que outra, mais recente, agravava ainda mais a situação. A essa altura, os soldados mais uma vez perderam a calma e quase caíram em desespero.”

A troca de posição de termos desse segmento que altera o sentido original é:

- (A) uma avalanche anterior / uma anterior avalanche;
- (B) já havia arrastado cerca de trezentos metros da encosta / havia arrastado da encosta cerca de trezentos metros;
- (C) agravava ainda mais a situação / agravava mais ainda a situação;
- (D) os soldados mais uma vez / os soldados uma vez mais;
- (E) quase caíram em desespero / caíram quase em desespero.

**19**

Duas formas verbais sucessivas do texto 4 que mostram sucessão cronológica de ações são:

- (A) sabiam / estavam pisando;
- (B) saíam / tropeçavam;
- (C) perdiam / despencavam;
- (D) resistiam / haviam acostumado;
- (E) chegaram / era.

**20**

“chegaram a um lugar onde o caminho era estreito”; nesse segmento do texto 4 ocorre o emprego correto do vocábulo sublinhado. A frase abaixo em que o emprego do mesmo vocábulo também mostra correção é:

- (A) Os soldados sentiram desespero pelo momento onde todos estavam.
- (B) Em função do mau tempo por onde passavam, decidiram mudar o caminho.
- (C) No final da tarde, onde as nuvens se escondiam, tudo era mais perigoso.
- (D) Na viagem, onde tudo era desconhecido, as surpresas preocupavam.
- (E) No meio da noite, onde o medo aumenta, o comandante tranquilizava a todos.

**Legislação Específica****21**

Carmem, servidora pública estadual ocupante de cargo efetivo, foi aposentada por invalidez por doença psiquiátrica. Meses depois, Carmem se recuperou da enfermidade e, desejando regressar ao serviço público, ajuizou ação ordinária em face do Estado da Bahia. Durante a instrução probatória, por meio de perícia judicial que ratificou a nova conclusão de junta médica oficial, restou comprovado que Carmem se curou completamente da doença e está apta a voltar ao trabalho. De acordo com o Estatuto dos Servidores Públicos Civis do Estado da Bahia, no caso em tela:

- (A) não é cabível o retorno de Carmem ao serviço público, porque a aposentadoria por invalidez é ato irrevogável;
- (B) não é cabível o retorno de Carmem ao serviço público por determinação judicial, mas somente por vontade do próprio poder público estadual;
- (C) é cabível o retorno de Carmem ao serviço público, por meio da reintegração;
- (D) é cabível o retorno de Carmem ao serviço público, por meio da reversão;
- (E) é cabível o retorno de Carmem ao serviço público, por meio da readaptação.

**22**

João, servidor público civil estadual ocupante de cargo efetivo, com o objetivo de colaborar com sua irmã Maria, igualmente servidora pública estadual, que sofreu um acidente e estava impossibilitada de se locomover, atuou como seu procurador junto a determinada repartição pública estadual, para tratar de assunto relativo à percepção de remuneração e benefícios assistenciais em favor dela. Pelos fatos narrados, de acordo com a Lei Estadual nº 6.677/94 da Bahia, em matéria de sanção disciplinar, João:

- (A) não praticou falta funcional, mas está sujeito a ser advertido;
- (B) praticou falta funcional e está sujeito à pena de multa;
- (C) praticou falta funcional e está sujeito à pena de suspensão;
- (D) praticou falta funcional e está sujeito à pena de demissão;
- (E) não praticou falta funcional, porque existe autorização legal expressa para tal hipótese.

**23**

Em relação à licença à gestante e à adotante, o Estatuto dos Servidores Públicos Civis do Estado da Bahia estabelece que:

- (A) à servidora que adotar ou obtiver guarda judicial de criança de até 1 (um) ano de idade serão concedidos 30 (trinta) dias de licença;
- (B) pelo nascimento ou adoção de filho, o servidor terá direito à licença-paternidade de 20 (vinte) dias consecutivos;
- (C) no caso de aborto não criminoso, atestado por médico oficial, a servidora terá direito a 30 (trinta) dias de repouso;
- (D) no caso de natimorto, decorridos 5 (cinco) dias do evento, a servidora será submetida a exame médico e, se julgada apta, reassumirá o exercício;
- (E) à servidora gestante será concedida, mediante atestado médico, licença por 90 (noventa) dias consecutivos.

**24**

Sobre a Ouvidoria Judicial, de acordo com o Regimento dos Órgãos Auxiliares e de Apoio Técnico Administrativo da Justiça da Bahia, aprovado pela Resolução nº 05, de 27 de março de 2013, é correto afirmar que:

- (A) sua finalidade é exclusivamente receber reclamações contra servidores da Justiça e magistrados, possibilitando aos cidadãos participação no aprimoramento dos serviços jurisdicionais;
- (B) a coordenação das atividades da Ouvidoria Geral é exercida por um Juiz de Direito de entrância final, denominado Assessor Especial, indicado pela 2ª Vice-Presidência e aprovado pelo Tribunal Pleno;
- (C) é o órgão destinado a programar, coordenar e executar as políticas e articulações dos processos de comunicação social, internos e externos, de acordo com as diretrizes estabelecidas pela Presidência do Tribunal de Justiça;
- (D) é responsável por observar as normas e padrões técnicos relativos à segurança, manuseio de equipamentos de combate a incêndio e medidas de proteção contra acidentes nas instalações do Poder Judiciário;
- (E) é competente para promover a interlocução entre organismos sociais, imprensa, cidadão e Poder Judiciário, bem como tem por objetivo dar publicidade às ações do Judiciário.

**25**

Determinado Juiz de Direito do Tribunal de Justiça da Bahia foi denunciado criminalmente pelo Ministério Público Estadual, que lhe imputa a prática de crime comum. De acordo com o Regimento Interno do Tribunal de Justiça do Estado da Bahia, é competente para processá-lo e julgá-lo originariamente:

- (A) o Tribunal Pleno;
- (B) a Turma Criminal, escolhida por livre distribuição;
- (C) a Seção Criminal;
- (D) a Câmara Criminal, escolhida por livre distribuição;
- (E) o Juízo Criminal de primeiro grau do local do fato, escolhido por livre distribuição.

**26**

Consoante dispõe o Regimento Interno do Tribunal de Justiça do Estado da Bahia, compete ao Conselho da Magistratura:

- (A) organizar e publicar, anualmente, a lista de substituição dos juízes de primeiro grau;
- (B) dar instruções aos juízes, respondendo às suas consultas, sobre matéria administrativa;
- (C) publicar, até o dia 15 (quinze) do mês de janeiro de cada ano, a lista de antiguidade dos magistrados;
- (D) autorizar os servidores da Justiça a exercer comissões temporárias, a prestar serviços em outros órgãos públicos e a exercer cargos eletivos;
- (E) expedir os atos de nomeação, remoção, promoção, permuta, disponibilidade e aposentadoria dos magistrados e servidores do Poder Judiciário.

**27**

Em regra, dependem de preparo, consoante dispõe o Regimento Interno do Tribunal de Justiça do Estado da Bahia:

- (A) os reexames de sentença e os recursos interpostos pelo Ministério Público, pela Defensoria Pública, pela Fazenda Pública e por entidades da administração indireta, assim como as ações por eles intentadas;
- (B) os processos e recursos previstos no Estatuto da Criança e do Adolescente;
- (C) os conflitos de competência, as exceções de impedimento, de suspeição e de incompetência;
- (D) as ações diretas de inconstitucionalidade, as reclamações e os pedidos de intervenção;
- (E) os mandados de segurança, sendo que, quando indicados os litisconsortes, o preparo incluirá as cartas, inclusive as de ordem a serem expedidas.

**28**

De acordo com a Lei nº 10.845, de 27 de novembro de 2007, que dispõe sobre a Organização e Divisão Judiciária do Estado da Bahia, ao escrivão e ao diretor de Secretaria de Vara compete, de modo geral:

- (A) manter o edifício do fórum aberto e em condições de funcionamento, nos dias e no horário do expediente;
- (B) zelar pelo recolhimento da taxa judiciária e demais exigências fiscais;
- (C) escriturar, em livro especial, com discriminação de cada uma das Varas, a receita e a despesa dos depósitos, remetendo ao juiz competente o balanço mensal de escrituração;
- (D) fazer inventário e avaliação de bens e lavar termos de penhora;
- (E) cumprir os mandados, fazendo citações, intimações, notificações e outras diligências emanadas do juiz.

**29**

Consoante determina a Lei nº 10.845/2007, que dispõe sobre a Organização e Divisão Judiciária do Estado da Bahia, para o pleno desempenho de suas finalidades, ao Poder Judiciário é assegurada autonomia funcional, administrativa e financeira, que se traduz, entre outros, no seguinte atributo:

- (A) dispor de orçamento próprio, de sua iniciativa;
- (B) editar diretamente ato normativo com alteração do número de membros do Tribunal de Justiça;
- (C) sancionar lei sobre criação e extinção de cargos, inclusive de magistrados;
- (D) remeter ao Governador, para a devida nomeação e publicação na imprensa oficial, a lista dos aprovados em concurso público para ingresso na carreira da Magistratura;
- (E) editar diretamente ato normativo com alteração da organização e divisão judiciárias.

**30**

Em relação à pena disciplinar de demissão dos servidores da Justiça, a Lei nº 10.845/2007 (Organização e Divisão Judiciária do Estado da Bahia) estabelece que:

- (A) a prescrição ocorre em 2 (dois) anos, a partir da data em que o fato se tornou conhecido;
- (B) é aplicada ao servidor estável, em virtude de sentença judicial ou de sindicância sumária;
- (C) ocorre nos casos de falta de cumprimento dos deveres funcionais;
- (D) é aplicável em casos de reiterada negligência;
- (E) é competente para aplicá-la o Conselho da Magistratura.

**31**

Em matéria de adicional por serviço extraordinário, o Estatuto dos Servidores Públicos Civis do Estado da Bahia prevê que:

- (A) o serviço extraordinário será remunerado, em regra, com acréscimo de 100% (cem por cento) em relação à hora normal de trabalho;
- (B) somente será permitida a realização de serviço extraordinário para atender situações excepcionais e temporárias, respeitado o limite máximo, em regra, de 2 (duas) horas diárias;
- (C) o serviço extraordinário é aquele prestado em horário compreendido entre 22 (vinte e duas) horas de um dia e 5 (cinco) horas do dia seguinte;
- (D) fazem jus a seu recebimento os servidores que trabalham com habitualidade em locais insalubres ou em contato permanente com substâncias tóxicas ou com risco de vida;
- (E) fazem jus a seu recebimento todos os servidores contratados por tempo determinado para atender a necessidade temporária de excepcional interesse público.

**32**

O Regimento Interno do Tribunal de Justiça do Estado da Bahia estabelece que compete ao Desembargador Revisor:

- (A) decidir os incidentes que não dependem de acórdão e executar as diligências necessárias ao julgamento;
- (B) indeferir petições iniciais de ações da competência originária do Tribunal;
- (C) sugerir ao Relator medidas ordinatórias do processo, que tenham sido omitidas, ou surgidas após o relatório;
- (D) homologar desistências e transações, e decidir, nos casos de impugnação, o valor da causa;
- (E) processar a execução do julgado, na ação originária, podendo delegar atos não decisórios a juiz de primeiro grau.

**33**

A Lei nº 10.845/2007 (Organização e Divisão Judiciária do Estado da Bahia) dispõe que, para o exercício das atividades jurisdicionais, o território do Estado da Bahia constitui seção judiciária única, fracionada, contudo, para efeitos de administração da Justiça. Nesse contexto, entende-se como:

- (A) Subseção Judiciária, o agrupamento de Circunscrições Judiciárias;
- (B) Região Judiciária, o conjunto das Subseções Judiciárias;
- (C) Circunscrição Judiciária, o agrupamento de comarcas e comarcas não-instaladas, contíguas, com atuação distinta, embora integradas;
- (D) Comarca, unidade de divisão judiciária integrada jurisdicional e administrativamente a uma Vara constituída por mais de um juízo;
- (E) Vara, unidade de divisão judiciária autônoma, sede de juízo único, ou múltiplo quando desdobrada em vários juízos.

## Noções de Informática

34

João está trabalhando num texto escrito em português. Porém, como há trechos que contêm longas citações em inglês, João fica incomodado pelas marcações que apontam erros de ortografia na maioria das palavras inglesas, pois o idioma do texto está definido como “Português”. Além disso, João gostaria que houvesse ajuda também para identificar e corrigir eventuais erros ortográficos nos trechos em inglês. No LibreOffice 4.2 uma solução para resolver essas dificuldades e conseguir o que João deseja é:

- (A) selecionar cada um dos trechos em inglês e desligar o corretor ortográfico para a seleção;
- (B) posicionar o cursor sobre cada um dos termos em inglês que foram marcados pelo corretor e adicioná-los ao dicionário em uso;
- (C) selecionar cada um dos trechos em inglês e alterar o idioma da seleção para “Inglês”;
- (D) reinstalar o LibreOffice no modo “personalizado” e escolher o conjunto completo de idiomas disponibilizados;
- (E) digitar os textos em inglês num arquivo separado, corrigir eventuais erros, e reuni-los novamente num único arquivo.

35

Considere duas planilhas, **LO** e **EX**, criadas respectivamente com o LibreOffice 2-4 Calc e o MS Excel 2010. O conteúdo das duas planilhas é idêntico, como descrito a seguir:

Célula	Fórmula	Valor
A1		2
A2		3
A3		5
A4		3
A5	=SOMA(A1:A4)	13

Considere que tenha sido efetuada uma sequência de comandos que removeu a terceira linha de cada planilha.

Após a execução desses comandos, o conteúdo da célula A4 em cada planilha **LO** e **EX**, respectivamente, é:

- (A) =SOMA (A1 : A3) e #VALOR!
- (B) =SOMA (A1 : A3) e =SOMA (A1 : A3)
- (C) =SOMA (A1 : A4) e =SOMA (A1 : A4)
- (D) =SOMA (A1 : A4) e =SOMA (A1 : A3)
- (E) #VALOR! e =SOMA (A1 : A3)

36

Analise as seguintes afirmativas a respeito das opções de configuração do navegador Chrome em sua versão mais recente.

I. A pasta onde os arquivos obtidos por download são gravados é necessariamente aquela que foi escolhida na página de configurações do Chrome. Para gravar um arquivo de download em outra pasta é preciso refazer essa escolha na tela de configurações.

II. Quando o Chrome é iniciado, há duas opções de inicialização: abrir a página nova guia, ou abrir uma página específica (ou conjunto de páginas). Não há opção para continuar de onde você parou na última utilização do Chrome.

III. Existe uma opção de configuração que determina se o mecanismo de preenchimento automático de formulários da Web com um clique deve ser ativado ou não.

Está correto somente o que se afirma em:

- (A) I;
- (B) I e II;
- (C) II e III;
- (D) III;
- (E) I e III.

37

O professor Eduardo pretende aplicar uma prova para seus quase sessenta alunos, mas quer espalhá-los pela sala a fim de evitar grupinhos de cola. Olhando para a planilha MS Excel, onde mantém a lista de alunos e o controle de notas da turma, Eduardo teve a ideia de imprimir cada cópia da prova de modo personalizado, com o nome do aluno estampado no cabeçalho, e distribuí-las em ordem alfabética. A prova está sendo editada por meio do LibreOffice Writer.

Para aproveitar os dados da planilha e assim evitar o trabalho de digitar cada um dos nomes no documento, o professor Eduardo deve utilizar o recurso:

- (A) Galeria;
- (B) Filtros XML;
- (C) Tabela Dinâmica;
- (D) Mala Direta;
- (E) Objeto OLE.

38


Depois de “copiar” (copy) um trecho de texto corrido, a operação “colar” (paste) no MS Word 2010 pode ser feita de diferentes maneiras. A opção “Colar especial.../Texto não formatado” faz com que:

- (A) o documento onde o trecho foi colado seja convertido para o tipo “Texto sem formatação (\*.txt)”;
- (B) o trecho colado seja tratado como uma imagem *bitmap*;
- (C) o parágrafo onde o trecho foi colado seja formatado de acordo com o estilo “Normal”;
- (D) o trecho colado assuma a formatação correntemente aplicada ao ponto onde foi feita a colagem;
- (E) o trecho colado mantenha sua formatação original.



39

No MS Excel 2010, a guia “Dados” contém um procedimento identificado pelo ícone mostrado a seguir.



Um filtro aplicado a uma coluna X é usado para:

- (A) impedir a digitação, nas células da coluna X, de valores fora dos limites superior e inferior determinados por meio do filtro;
- (B) limitar os valores permitidos nas células da coluna X a uma lista especificada por meio do filtro;
- (C) exibir na planilha apenas as linhas que contenham, na coluna X, algum dos valores escolhidos por meio do filtro;
- (D) remover da planilha todas as linhas que não contenham, na coluna X, algum dos valores escolhidos por meio do filtro;
- (E) remover da planilha as linhas que contenham, na coluna X, valores que se repetem.

40

João vai fazer a apresentação de um relatório na sua empresa e preparou dois documentos: o primeiro é o relatório a ser projetado, já em formato PDF, de acordo com o padrão da empresa; o outro é um conjunto de anotações, gravadas num arquivo MS Word, contendo comentários que João gostaria de consultar durante a apresentação. Como a impressora onde João imprimiria suas anotações está indisponível, João precisa manter essas anotações na tela do computador, mas sem que estejam visíveis para a plateia, que deve ver na tela do projetor apenas o documento principal durante a apresentação.

No Windows 7, João pode obter uma configuração no computador que permita o que ele pretende:

- (A) abrindo o programa *Central de Sincronização*, no grupo *Acessórios*, e usando a opção *Gerenciar arquivos offline*;
- (B) abrindo o *Painel de Controle*, escolhendo *Ferramentas administrativas*, e usando a opção *Fontes de Dados*;
- (C) abrir o arquivo PDF por meio de um browser e usar o modo de visualização “lado a lado” no MS Word;
- (D) abrindo o programa *Conectar a um projetor* no grupo *Acessórios* (ou por meio de atalho), e usando a opção *Estender*;
- (E) abrindo o *Painel de Controle*, escolhendo *Gadgets da área de trabalho* (ou por meio de atalho), e usando a opção *Apresentação de Slides*.

## Conhecimentos Específicos

41

Uma laje maciça de concreto armado de 10 cm de espessura total é revestida por um piso de porcelanato com peso de  $1,0 \text{ kN/m}^2$ . Sabendo que o peso específico do concreto armado é  $25 \text{ kN/m}^3$  e a carga acidental da laje é  $2,0 \text{ kN/m}^2$ , a carga total na laje, em  $\text{kN/m}^2$ , é:

- (A) 3,5
- (B) 4,0
- (C) 4,5
- (D) 5,0
- (E) 5,5

42

Considere as seguintes informações sobre estados limites para dimensionamento de seções de pontes de concreto armado, X e Y:

X: considera que as tensões atuantes no concreto e no aço são iguais às respectivas resistências características e as solicitações são multiplicadas por coeficiente unitário;

Y: admite que as tensões atuantes no concreto e no aço sejam minoradas e as solicitações são majoradas.

Analisando-se as informações de cada um dos estados limites, conclui-se que:

- (A) X é um estado limite de serviço e Y, um estado limite último;
- (B) X é um estado limite último e Y, um estado limite de serviço;
- (C) X é um estado limite último e Y um estado limite de trabalho;
- (D) X e Y são estados limites últimos;
- (E) X e Y são estados limites de serviço.

43

Um viga apoiada-engastada de vão L suporta em equilíbrio uma carga distribuída de forma triangular. No apoio engastado, a carga triangular atinge um valor p, enquanto no apoio oposto, este valor é nulo. O momento fletor negativo atuante no apoio engastado é:

- (A)  $pL^2/5$
- (B)  $pL^2/10$
- (C)  $pL^2/15$
- (D)  $pL^2/20$
- (E)  $pL^2/25$

**44**

Com relação aos coeficientes de empuxo de terra relacionados a um muro de arrimo, analise as afirmativas abaixo, considerando V para a(s) afirmativa(s) verdadeira(s) e F para a(s) falsa(s).

( ) Para o seu cálculo, considera-se o solo granular, homogêneo, isotrópico, não saturado e de superfície horizontal.

( ) O coeficiente de empuxo ativo é calculado quando o solo se expande contra o muro, o que provoca o movimento do muro no sentido da expansão do solo.

( ) O coeficiente de empuxo passivo é calculado quando o muro desloca-se contra o solo, provocando a compressão do solo.

A sequência correta é:

- (A) F - V - F;
- (B) V - F - V;
- (C) V - F - F;
- (D) V - V - V;
- (E) F - F - V.

**45**

O processo de investigação de um subsolo para fim de projeto de fundações de estruturas que consiste basicamente na cravação à velocidade lenta e constante de uma haste com ponta cônica, medindo-se a resistência encontrada na ponta e a resistência por atrito lateral, é:

- (A) o ensaio pressiométrico;
- (B) o ensaio de cone;
- (C) a sondagem a trado;
- (D) a sondagem a percussão com *SPT*;
- (E) a sondagem rotativa.

**46**

Com relação à capacidade de carga de fundações superficiais de estruturas, analise as afirmativas a seguir.

I. Terzaghi (1943), que foi o primeiro autor a apresentar fórmulas para o cálculo da capacidade de carga das fundações superficiais, admitiu que uma fundação superficial é aquela cuja largura  $2B$  é igual ou menor que a profundidade da base da fundação, sendo  $B$  a menor dimensão da base da fundação.

II. A teoria de Meyerhof (1951), que aperfeiçoou a teoria de Terzaghi, despreza a resistência ao cisalhamento do solo acima da base da fundação.

III. Hansen (1961) utilizou o conceito de área efetiva da fundação e introduziu os fatores de forma, de profundidade e de inclinação da carga para avaliar a capacidade de carga das fundações superficiais submetidas a um carregamento qualquer.

Está correto somente o que se afirma em:

- (A) I;
- (B) II;
- (C) III;
- (D) I e II;
- (E) II e III.

**47**

A realização do orçamento de uma obra contempla diferentes etapas em ordenamento. A etapa que precede a quantificação dos trabalhos por serviço é:

- (A) a realização do projeto e suas especificações;
- (B) o relacionamento das atividades de cada serviço com base na tecnologia a ser adotada;
- (C) a definição e quantificação do custo dos insumos, equipamentos e mão de obra, produtividade e índices de produção;
- (D) o cálculo do custo unitário da mão de obra aplicada a cada serviço, dos insumos que dele participam e de equipamentos;
- (E) o cálculo do índice de encargos sociais.

**48**

O item que o construtor adiciona ao custo de uma obra para cobrir as despesas indiretas, o risco do empreendimento, as despesas financeiras incorridas, os tributos incidentes na operação, as eventuais despesas de comercialização, e o lucro do empreendedor é:

- (A) depreciação;
- (B) juro sobre capital;
- (C) margem de lucro;
- (D) custo unitário básico;
- (E) benefício e despesas indiretas.

**49**

Com relação à despesa de mobilização e desmobilização de uma obra, analise as afirmativas abaixo, considerando V para a(s) afirmativa(s) verdadeira(s) e F para a(s) falsa(s).

( ) É um componente de custo indireto constituído por despesas incorridas para a preparação da infraestrutura operacional da obra.

( ) Compreende serviços de transporte, carga e descarga de materiais para a montagem do canteiro de obras.

( ) Deve compor a planilha de orçamento como item independente, podendo ser calculada analiticamente ou por verba.

As afirmativas são, respectivamente:

- (A) F - V - F;
- (B) V - F - V;
- (C) V - F - F;
- (D) F - V - V;
- (E) V - V - F.

**50**

Aquele que pode ser identificado e diretamente apropriado a cada tipo de obra a ser custeado, no momento de sua ocorrência, é:

- (A) o custo indireto;
- (B) o custo direto;
- (C) o juro;
- (D) o lucro;
- (E) o rateio.

**51**

Para a execução de um revestimento, será executada argamassa com traço 1:2:8 em massa seca de cimento, cal e areia, com consumo de cimento igual a  $150\text{kg}/\text{m}^3$ . Para a execução de  $1,2\text{ m}^3$  dessa argamassa, o menor número de sacos de 20kg de cal necessário é:

- (A) 11
- (B) 13
- (C) 16
- (D) 18
- (E) 20

**52**

Foi disponibilizado no canteiro de obra um volume de  $4,8\text{ m}^3$  de areia úmida. Sabe-se que a massa unitária dessa areia na condição seca é igual a  $1500\text{ kg}/\text{m}^3$  e seu ensaio de inchamento indicou um inchamento médio de 20%. Indique o volume de concreto de traço 1:2,5:4 (em massa seca de cimento, areia e brita), e com consumo de cimento de  $300,0\text{ kg}/\text{m}^3$ , que pode ser executado a partir do volume de areia disponibilizado:

- (A)  $2\text{ m}^3$ ;
- (B)  $4\text{ m}^3$ ;
- (C)  $6\text{ m}^3$ ;
- (D)  $8\text{ m}^3$ ;
- (E)  $10\text{ m}^3$ .

**53**

A estrutura analítica de um projeto está apresentada na tabela a seguir, denominando cada atividade, sua interdependência e o prazo de execução.

Atividade	Duração (dias)	Antecessora
A	3	-
B	3	A
C	4	B
D	2	B
E	4	A
F	3	D, E
G	2	C, F

O caminho crítico do projeto é definido pela seguinte sequência de atividades:

- (A) A-B-C-G;
- (B) A-B-D-F-G;
- (C) A-E-F-G;
- (D) A-E-D-F-G;
- (E) A-B-E-C-G.

**54**

A curva ABC consiste numa importante ferramenta para a análise de orçamentos por equipes de auditoria. Acerca da curva ABC, é correto afirmar que:

- (A) a faixa A representa os componentes de menor importância relativa, podendo receber atenção circunstancial;
- (B) trata-se de uma curva de acumulação que apresenta o consumo de recursos ou mão de obra ao longo do tempo;
- (C) representa os serviços programados em ordem cronológica, através do desenho de retângulos dispostos sequencialmente;
- (D) na elaboração da curva ABC, os serviços são ordenados de acordo com a sua participação relativa no valor total das obras, em ordem crescente de custo absoluto;
- (E) auxilia a equipe de auditoria na determinação dos componentes do orçamento que devem ser preferencialmente auditados.

**55**

Com relação aos procedimentos executivos relacionados ao uso de estacas de aço como elementos de fundações, é correto afirmar que:

- (A) é proibido o uso de trilhos como estacas;
- (B) as tensões na estaca durante a cravação não devem ultrapassar 50% da tensão de escoamento do aço;
- (C) nas emendas com solda, o eletrodo utilizado deve ser de classe não inferior que o tipo AWS E 60XX para o aço ASTM A572;
- (D) o comprimento mínimo para aproveitamento de estacas de aço cravadas por percussão é de 500 mm;
- (E) a transferência dos esforços do bloco para as estacas pode ser feita através de embutimento de parte da estaca e fretagem.

**56**

Determinada licitante saiu-se vencedora de uma licitação com 20% de desconto em relação ao orçamento-base da Administração, e com todos os preços unitários inferiores aos previstos pela Administração. Numa análise mais aprofundada, observou-se que a proposta da licitante adotou preços dos serviços da primeira metade da obra sem nenhum desconto em relação ao orçamento-base, enquanto os serviços da segunda metade da obra foram cotados com 40% de desconto. Dessa forma, é correto afirmar que:

- (A) trata-se de um resultado vantajoso para a Administração Pública, devendo-se homologar o certame sem restrições;
- (B) trata-se de um tipo de superfaturamento, pois os serviços a serem executados posteriormente apresentam preços unitários superiores aos de mercado;
- (C) mesmo que a construtora abandone a obra depois de executar a parte que lhe é interessante, não há ocorrência de “jogo de planilha”, pois os valores pagos pelos serviços executados estão todos com desconto em relação ao orçamento-base;
- (D) ao se deparar com evidências de “jogo de cronograma”, pela adoção de descontos excessivos nos serviços finais, a equipe deve verificar se os preços unitários dos serviços da segunda metade da obra são inexequíveis;
- (E) trata-se de um resultado regular, devendo-se apenas verificar se o edital prevê corretamente as condições de reajuste dos preços.

**57**

Para cobertura de emboço, propiciando uma superfície fina que permita receber o acabamento, é indicada a argamassa:

- (A) para assentamento de alvenaria;
- (B) decorativa em monocamada;
- (C) de regularização;
- (D) para chapisco;
- (E) para reboco.

**58**

A propriedade do Concreto Auto-Adensável (CAA) que expressa a sua capacidade de fluir dentro da forma, entre os embutidos (armaduras, etc), sem obstrução do fluxo ou segregação é denominada:

- (A) resistência à segregação estática;
- (B) resistência à segregação dinâmica;
- (C) habilidade passante;
- (D) viscosidade plástica aparente;
- (E) auto-adsensabilidade.

**59**

Entre os requisitos dos aditivos para concreto classificados como SP-II A, estabelecidos a partir de ensaios mantendo a consistência, encontra-se:

- (A) redução de água maior ou igual a 20% em relação ao concreto de referência;
- (B) retardador de pega em pelo menos 30 minutos em relação à argamassa de referência;
- (C) acelerador de pega em pelo menos 120 minutos em relação à argamassa de referência;
- (D) teor de ar menor ou igual a 50% em relação ao concreto de referência;
- (E) resistência a compressão em ensaio aos 28 dias maior ou igual a 80% da resistência do concreto de referência.

**60**

A água é essencial na vida do homem, mas ela precisa ser convenientemente tratada, para quebrar a cadeia de transmissão das chamadas doenças de veiculação hídrica.

Observe as doenças de veiculação hídrica listadas:

- I. Dengue.
- II. Malária.
- III. Chikungunya.

A água é usada como meio de crescimento dos mosquitos que funcionam como vetores de transmissão da(s) doença(s):

- (A) somente I;
- (B) somente II;
- (C) somente III;
- (D) somente I e II;
- (E) I, II e III.

**61**

Em uma bacia hidrográfica onde não existem fugas da água subterrânea para outra bacia, o total anual precipitado é de 1873,04 mm.

Considerando que o período de tempo de um ano é longo o suficiente para que se despreze o volume armazenado na bacia e que a vazão específica média anual na foz da bacia nesse ano foi de 15 L/s/Km<sup>2</sup>, o valor da evapotranspiração total neste ano é:

- (A) 700 mm;
- (B) 850 mm;
- (C) 1100 mm;
- (D) 1250 mm;
- (E) 1400 mm.

62

No lançamento do projeto geométrico de uma estrada, o topógrafo levantou que o azimute do ponto 10 para o 11 foi de  $254^\circ 22' 26''$ . Nesse caso, o rumo foi de:

- (A)  $54^\circ 22' 26''$  SE;
- (B)  $54^\circ 22' 26''$  NW;
- (C)  $74^\circ 22' 26''$  SW;
- (D)  $74^\circ 22' 26''$  NE;
- (E)  $105^\circ 37' 34''$  SW.

63

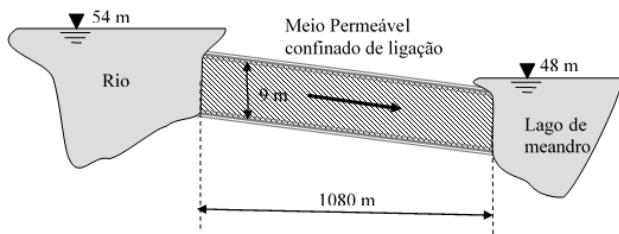
No Autocad existe um comando que cria cópias paralelas de linhas, polilinhas, splines (neste caso, seguindo sempre a tangente de uma aresta ou curva). No uso desse comando seleciona-se uma entidade, digita-se o valor de distância paralela (pedida no prompt de comando) e clica-se para o lado da entidade selecionada ao qual se deseja criar a cópia.

Esse comando é o:

- (A) Trim;
- (B) Stretch;
- (C) Copy;
- (D) OffSet;
- (E) Move.

64

Um lago de meandro formado quase paralelo a um rio é alimentado por esse corpo d'água através de um meio permeável confinado de ligação que possui 9 m de espessura, 1080 m de comprimento e um coeficiente de permeabilidade de 1,80 m/dia.



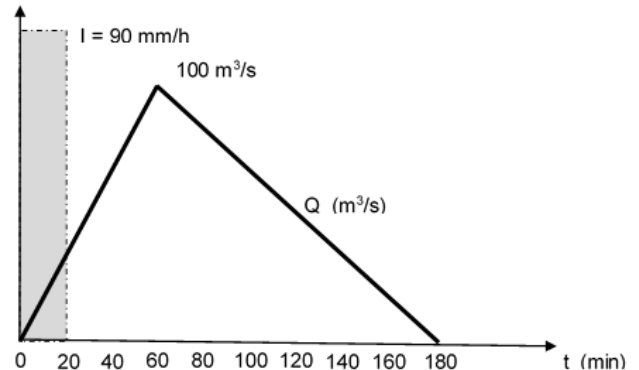
Observa-se que o nível de água no rio situa-se na cota de 54 m e no lago de meandro na cota de 48 m.

Usando-se a Lei de Darcy, o fluxo diário de água por metro de rio que alimenta o canal é igual a:

- (A)  $0,05 \text{ m}^3/\text{dia}/\text{m}$ ;
- (B)  $0,07 \text{ m}^3/\text{dia}/\text{m}$ ;
- (C)  $0,09 \text{ m}^3/\text{dia}/\text{m}$ ;
- (D)  $0,11 \text{ m}^3/\text{dia}/\text{m}$ ;
- (E)  $0,13 \text{ m}^3/\text{dia}/\text{m}$ .

65

A figura mostra o hietograma de uma precipitação crítica que caiu uniformemente em uma bacia hidrográfica de  $25 \text{ km}^2$ . A intensidade da precipitação foi de  $90 \text{ mm/h}$  e sua duração de 20 min. Essa chuva gerou no exutório da bacia o hidrograma de cheia triangular com vazão de pico de  $100 \text{ m}^3/\text{s}$  e tempo de base de 3 horas.



O coeficiente de escoamento superficial ou de runoff dessa bacia hidrográfica é:

- (A) 0,24;
- (B) 0,36;
- (C) 0,50;
- (D) 0,64;
- (E) 0,72.

66

Visando dimensionar um decantador prismático convencional de uma ETE, um engenheiro realizou ensaios com cone de Inhoff com o esgoto a ser tratado e obteve uma velocidade de sedimentação crítica ( $V_s$ ) de  $0,006 \text{ m/s}$ .

Sabendo-se que já foram pré-dimensionados uma velocidade de escoamento ( $V_e$ ) de  $0,04 \text{ m/s}$ , uma largura de 5 m e um comprimento de 20 m, para atingir uma remoção de 100% das partículas sedimentadas no ensaio crítico com cone de Inhoff, a altura do decantador deverá ser:

- (A) 2,0 m;
- (B) 2,5 m;
- (C) 3,0 m;
- (D) 3,5 m;
- (E) 4,0 m.

67

Uma das etapas de tratamento da água em uma ETA é a coagulação.

Sobre o processo realizado nessa etapa, está correto afirmar que:

- (A) busca remover compostos orgânicos e inorgânicos indesejáveis fazendo a água entrar em contato com uma substância adsorvente, em geral carvão ativado;
- (B) o hidróxido de sódio é um dos agentes de coagulação mais utilizados em estações de tratamento;
- (C) na coagulação por adsorção e neutralização com sulfato de alumínio, a desestabilização dos colóides é realizada através da formação de uma grande quantidade de hidróxido de alumínio gel insolúvel que, ao ser arrastado, aprisiona os colóides;
- (D) na coagulação por varredura, o potencial zeta da água é zerado;
- (E) para tratar uma mesma água, na coagulação exclusivamente por adsorção e neutralização há um menor consumo de sulfato de alumínio que na coagulação exclusivamente por varredura.

68

O Tribunal de Justiça da Bahia (TJBA) realizou uma licitação do tipo menor preço para contratar de uma obra por execução indireta no regime de empreitada por preço global.

O orçamento da obra elaborado pelo TJBA foi de R\$ 830.000,00 e os preços das propostas apresentadas pelas empresas licitantes são:

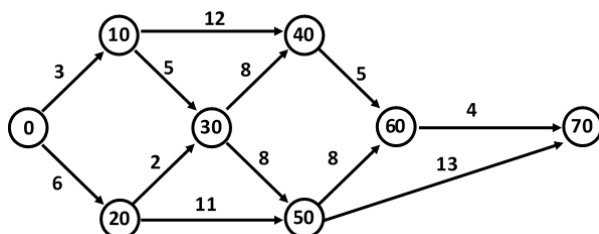
Empresa	A	B	C	D	E	F	G
Preço R\$ x 1000	680	390	750	550	350	470	850

A partir desses dados, a(s) empresa(s) que apresentou(ram) orçamento(s) considerado(s) inexequível(is) foi/foram:

- (A) nenhuma;
- (B) somente a empresa E;
- (C) somente as empresas B e E;
- (D) somente as empresas B, E e F;
- (E) somente as empresas B, D, E e F.

69

Observe a rede PERT-CPM a seguir:



O Caminho crítico da rede é:

- (A) 0 - 10 - 30 - 50 - 60 - 70;
- (B) 0 - 10 - 30 - 50 - 70;
- (C) 0 - 20 - 50 - 70;
- (D) 0 - 20 - 30 - 50 - 70;
- (E) 0 - 20 - 30 - 50 - 60 - 70.

70

No planejamento de uma obra, um engenheiro precisa calcular o número de viagens de caminhões de 12 m<sup>3</sup> necessário a fim de transportar solo para executar o reforço de subleito de uma rodovia.

O volume total para o reforço do subleito é de 7.800 m<sup>3</sup>, o percentual de empolamento é de 20% e o grau de compactabilidade é de 0,80.

Se cada caminhão fizer 25 viagens, a quantidade de caminhões necessária é:

- (A) 4
- (B) 16
- (C) 27
- (D) 39
- (E) 95

## Redação

Seja por ocorrência de acidente, incidente ou desastre ambiental, em 2013 - assim como em outros anos - houve uma série de desabamentos no Brasil. Em alguns, sabe-se o motivo e os responsáveis estão sendo indiciados. Em outros, as causas ainda não são conhecidas.

De qualquer forma, a imagem da Engenharia Civil fica arranhada, ainda que esse não seja um problema exclusivamente brasileiro. Há, de fato, uma má qualificação profissional de nossos engenheiros civis? Comente a situação em um texto de no mínimo 20 e no máximo 30 linhas, em língua culta, com atenção especial à estrutura do texto e aos argumentos apresentados na defesa de suas posições.

01	
02	
03	
04	
05	
06	
07	
08	
09	
10	
11	
12	
13	
14	
15	
16	
17	
18	
19	
20	
21	
22	
23	
24	
25	
26	
27	
28	
29	
30	

Realização

