



PREFEITURA MUNICIPAL DE SÃO JOSÉ DOS CAMPOS

CONCURSO PÚBLICO

024. PROVA OBJETIVA

ANALISTA EM SAÚDE – PSICÓLOGO

- ◆ Você recebeu sua folha de respostas e este caderno contendo 60 questões objetivas.
- ◆ Confira seus dados impressos na capa deste caderno e na folha de respostas.
- ◆ Quando for permitido abrir o caderno, verifique se está completo ou se apresenta imperfeições. Caso haja algum problema, informe ao fiscal da sala.
- ◆ Leia cuidadosamente todas as questões e escolha a resposta que você considera correta.
- ◆ Marque, na folha de respostas, com caneta de tinta azul ou preta, a letra correspondente à alternativa que você escolheu.
- ◆ A duração da prova é de 3 horas e 30 minutos, já incluído o tempo para o preenchimento da folha de respostas.
- ◆ Só será permitida a saída definitiva da sala e do prédio após transcorridos 75% do tempo de duração da prova.
- ◆ Ao sair, você entregará ao fiscal a folha de respostas e este caderno, podendo levar apenas o rascunho de gabarito, localizado em sua carteira, para futura conferência.
- ◆ Até que você saia do prédio, todas as proibições e orientações continuam válidas.

AGUARDE A ORDEM DO FISCAL PARA ABRIR ESTE CADERNO DE QUESTÕES.

Nome do candidato _____

Prédio _____

Sala _____

Carteira _____

Inscrição _____

CONHECIMENTOS GERAIS

LÍNGUA PORTUGUESA

Leia o texto para responder às questões de números **01** a **03**.

Invista em companhia para mudar hábitos

Como ter hábitos de vida mais saudáveis e perder peso com mais facilidade? Além da combinação clássica de mais atividade física com melhor alimentação, dois novos estudos sugerem que topar o desafio na companhia do parceiro ou de um grupo pode fazer toda a diferença.

No primeiro trabalho, da Universidade College of London, do Reino Unido, especialistas avaliaram mais de 3.700 casais com idade igual ou superior a 50 anos. Concluíram que é muito mais fácil parar de fumar, perder peso e fazer exercícios quando a cara-metade também arregança as mangas e compra a briga.

Só para citar um exemplo: 50% das mulheres que fumavam conseguiram largar o cigarro quando o companheiro tentou junto. Entre as mulheres cujo parceiro já era um ex-fumante (portanto não a acompanhou na tentativa), só 17% conseguiram parar. Entre aquelas cujo marido continuou a fumar, o índice de sucesso ficou em apenas 8%.

Num outro trabalho, da Universidade de East Anglia, também do Reino Unido, pesquisadores revisaram 42 estudos envolvendo mais de 1.800 pessoas de 14 países e constataram que fazer atividade física em grupo diminui as condições que ameaçam a saúde, como doença coronariana, derrames, depressão e até alguns tipos de câncer.

Para os especialistas, caminhar em grupo faz as pessoas se exercitarem por mais tempo do que fariam sozinhas, além de estimular treinos mais vigorosos. As atividades coletivas também mostram ganhos psicológicos. Os praticantes ficam menos isolados. O sentimento de pertencimento aumenta o bem-estar e a sensação de apoio emocional. A combinação de benefícios físicos e psicológicos pode reduzir sintomas depressivos e estresse.

Para muitos dos homens e mulheres pesquisados, os grupos podem facilitar a aderência à atividade física regular e converter as caminhadas num novo hábito de vida. Quer seja na companhia do parceiro ou de um grupo, fica mais fácil vencer as resistências e encarar a mudança.

(Jairo Bouer. *Época*, 02.02.2015. Adaptado)

01. De acordo com as informações do texto, é correto afirmar que

- (A) a prática de exercícios físicos na companhia de parentes e amigos é comprovadamente mais eficaz para melhorar a saúde que seguir uma alimentação balanceada.
- (B) o hábito de caminhar em grupo levou muitos indivíduos a se dedicarem a treinos mais intensos e vigorosos, situação que tem preocupado médicos cardiologistas.
- (C) os pesquisadores constataram, com base na observação de 1.800 indivíduos, que os casais ingleses que se exercitavam em grupo superaram doenças como depressão e câncer.
- (D) a atividade física, praticada de forma regular e coletiva, torna os indivíduos psicologicamente mais saudáveis, pois pertencer a um grupo reduz a sensação de isolamento.
- (E) as mulheres, tanto as jovens como as de meia-idade, obtiveram maior sucesso para abandonar o cigarro quando receberam o apoio do companheiro.

02. Considere a frase do terceiro parágrafo:

Entre as mulheres cujo parceiro já era um ex-fumante (portanto não a acompanhou na tentativa), só 17% conseguiram parar.

Assinale a alternativa em que essa frase está reescrita de acordo com a norma-padrão e sem alteração do sentido do texto.

- (A) Entre as mulheres com quem o parceiro já era um ex-fumante (no entanto não a acompanhou no teste), só 17% conseguiram reduzir.
- (B) Entre as mulheres com quem o parceiro já era um ex-fumante (por conseguinte não a acompanhou na empreitada), só 17% conseguiram controlar.
- (C) Entre as mulheres a quem o parceiro já era um ex-fumante (em vista disso não a acompanhou na prova), só 17% conseguiram vitória.
- (D) Entre as mulheres de quem o parceiro já era um ex-fumante (ou seja, não a acompanhou na disputa), só 17% conseguiram moderar.
- (E) Entre as mulheres de quem o parceiro já era um ex-fumante (por isso não a acompanhou no experimento), só 17% conseguiram sucesso.

03. Assinale a alternativa em que o trecho reescrito apresenta o emprego correto do sinal indicativo de crase.

- (A) Além da combinação clássica de mais atividade física com melhor alimentação... → Além de atrelar mais atividade física à alimentação equilibrada...
- (B) Só para citar um exemplo: 50% das mulheres que fumavam... → Fazendo alusão à uma parte do estudo: 50% das mulheres que fumavam...
- (C) ... pesquisadores revisaram 42 estudos envolvendo mais de 1.800 pessoas... → pesquisadores propuseram-se à analisar 42 estudos envolvendo mais de 1.800 pessoas...
- (D) ... atividade física em grupo diminui as condições que ameaçam a saúde... → atividade física em grupo restringe às condições que ameaçam a saúde...
- (E) ... fica mais fácil vencer as resistências e encarar a mudança. → fica mais fácil opor-se à barreiras e encarar a mudança.

Leia o texto para responder às questões de números 04 a 07.

Competição a toda prova

Interessado em saber como a seleção dos melhores agiria na natureza, o pesquisador William Muir, da Universidade de Purdue, nos Estados Unidos, fez uma experiência com galinhas. Selecionou dois grupos: um natural, em que as aves conviviam normalmente, e outro formado só pelas que mais produziam ovos. Ele queria testar se o isolamento das superprodutivas aumentaria a quantidade de ovos gerada. Após seis gerações, as galinhas do bando natural estavam saudáveis. Mas as do grupo das superaves estavam deprimidas, estressadas e sem botar nenhum ovo – com apenas três sobreviventes. As outras seis tinham sido assassinadas.

A história é usada pela americana Margaret Heffernan, em seu livro *A Bigger Prize: Why Competition Isn't Everything and How We Do Better* ("Um prêmio maior: por que a competição não é tudo e como podemos fazer melhor", numa tradução livre), para demonstrar que a competitividade não é tão boa quanto o mundo dos negócios faz parecer. Segundo a autora, que foi CEO de renomadas empresas de tecnologia, ambientes de trabalho competitivos causam estresse e problemas de relacionamento que não compensam os resultados. Ela cita o caso de Bill Gore que fundou sua indústria química com um modelo hierárquico mais amigável e bateu recordes de patentes. "Pessoas colaborativas tornam as empresas mais inteligentes", diz Margaret.

Para alguns, a competitividade serve para criar uma atmosfera mais produtiva. Jack Welch, ex-presidente da GE, deu fama a seus rankings que dividiam os funcionários entre os 20% potenciais, os 70% medianos e os 10% incompetentes. Para Margaret, essa prática, embora dê lucro, cria cenários que geram ansiedade e estresse. "Qualquer tarefa complexa requer muito de seu cérebro. Mas o estresse prejudica especificamente o funcionamento do córtex pré-frontal, onde os pensamentos ocorrem, e o hipocampo, responsável por coordenar as atividades mentais necessárias para resolver problemas. Quando nos sentimos ameaçados, podemos ter toda a capacidade mental de que precisamos, mas simplesmente não conseguimos articular as ideias", comenta a autora em seu livro.

(Bárbara Nór. *VocêS/A*, janeiro de 2015. Adaptado)

04. Sobre o conteúdo do texto, é correto afirmar que

- (A) o pesquisador William Muir tinha por objetivo provar que a convivência em um ambiente natural levaria as galinhas a produzir quantidade de ovos acima do normal.
- (B) as seis galinhas mais produtivas, pertencentes ao grupo das superaves, ficaram doentes e vieram a morrer vitimadas pelo próprio estresse.
- (C) os indivíduos submetidos a situações constrangedoras e estressantes podem ter bloqueada sua aptidão mental para solucionar impasses.
- (D) os rankings estabelecidos por Jack Welch aumentaram a produtividade da empresa, pois os funcionários não se sentiam discriminados por essa estratégia.
- (E) Bill Gore criou um modelo de gestão administrativa em que aboliu a hierarquia, ou seja, a organização da empresa em diferentes setores.

05. Considerando as opiniões de Margaret Heffernan reproduzidas no texto, assinale a alternativa em que o elemento de coesão em destaque evidencia uma concessão feita por Margaret que, no entanto, não invalida seu ponto de vista sobre competição.

- (A) ... para demonstrar que a competitividade não é tão boa **quanto** o mundo dos negócios faz parecer. (2º parágrafo)
- (B) ... ambientes de trabalho competitivos causam estresse e problemas de relacionamento **que** não compensam os resultados. (2º parágrafo)
- (C) ... fundou sua indústria química com um modelo hierárquico mais amigável **e** bateu recordes de patentes. (2º parágrafo)
- (D) Para Margaret, essa prática, **embora** dê lucro, cria cenários que geram ansiedade e estresse. (3º parágrafo)
- (E) **Quando** nos sentimos ameaçados, podemos ter toda a capacidade mental de que precisamos... (3º parágrafo)

06. Observe o emprego do pronome relativo **onde** no trecho do terceiro parágrafo: *Mas o estresse prejudica especificamente o funcionamento do córtex pré-frontal, onde os pensamentos ocorrem...*

Esse pronome também está corretamente empregado em:

- (A) Aquele foi um período de sua vida **onde** ele se sentiu muito entusiasmado com seus projetos.
- (B) Esta instituição, reconhecida internacionalmente e **onde** estudaram famosos arquitetos, fará a restauração da propriedade.
- (C) Nos próximos meses, **onde** todos os condôminos se comprometeram a colaborar, pretende-se 20% de economia no consumo de água.
- (D) Nossos avós paternos nos contaram que se conheceram na França em 1918, ano **onde** terminou a Primeira Guerra.
- (E) Para a entrevista de trabalho, ela optou por um vestido chamativo **onde** deveria ter optado por uma roupa mais discreta.

07. Assinale a alternativa em que o pronome substitui corretamente a expressão em destaque e atende às regras de colocação estabelecidas pela norma-padrão.

- (A) ... e outro formado só pelas que mais produziam **ovos**. → produziam-nos.
- (B) ... o isolamento das superprodutivas aumentaria a **quantidade de ovos gerada**. → aumentaria-a.
- (C) "Pessoas colaborativas tornam **as empresas** mais inteligentes"... → tornam-lhes mais inteligentes.
- (D) Para alguns, a competitividade serve para criar **uma atmosfera mais produtiva**. → lhe criar.
- (E) ... deu fama a seus rankings que dividiam **os funcionários** entre os 20% potenciais... → os dividiam entre os 20% potenciais...

08. As preposições destacadas estão empregadas de acordo com a norma-padrão em:

- (A) Embora seja inerente **com** o ser humano desejar ser bem-sucedido profissionalmente, é uma situação que, muitas vezes, implica **em** desgaste emocional.
- (B) Uma existência rica **em** amizades que nos incentiva **da** sociabilidade é um privilégio que se deve cultivar.
- (C) Há pessoas que se lamentam **da** falta de predisposição para realizar certas atividades, entretanto são avessas **a** exercícios físicos.
- (D) O livro de Margaret Hefferann pode ser útil **com** os gestores que pretendem se contrapor **das** práticas administrativas convencionais.
- (E) As galinhas superprodutivas procederam **ao** extermínio de algumas companheiras visto que se encontravam em ambiente propício **em** competição.


09. Considere o texto:

Até o meio-dia e _____ deste domingo, já _____ participado das primeiras competições paraolímpicas cerca de 40% dos atletas inscritos. Desse grupo, muitos são atletas sul-americanos que, _____ semanas, _____ treinando no país-sede.

Os termos que preenchem, correta e respectivamente, as lacunas do texto são:

- (A) meia ... havia ... fazem ... vem
- (B) meia ... haviam ... faz ... vêm
- (C) meio ... havia ... fazem ... vêm
- (D) meio ... haviam ... faz ... vem
- (E) meio ... haviam ... fazem ... vêm

10. Observe a tira em que estão presentes os amigos Frank (de calça escura) e Ernest (de calça xadrez).



(Bob Thaves. Acessível em <http://goo.gl/Wa78h4>)

Analisando a tira, é correto afirmar que ocorre a

- (A) oposição entre as opiniões de Frank e Ernest sobre os políticos e o emprego dos verbos *fundar* e *afundar* em sentido próprio.
- (B) comparação entre o presente e o passado e o emprego de linguagem predominantemente informal na dedicatória e na fala da personagem.
- (C) comparação entre o presente e o passado e o emprego dos verbos *fundar* e *afundar* que apresentam sentidos opostos.
- (D) identidade entre fundador e dupla de amigos quanto à aparência sóbria e alinhada e o emprego dos verbos *fundar* e *afundar* pela semelhança de sentido.
- (E) identidade entre fundador e dupla de amigos quanto à posição desempenhada na sociedade e o emprego do sarcasmo, da parte de Frank, para caracterizar os políticos de todas as gerações.

11. Em uma instituição de ensino superior, a nota semestral de cada aluno é calculada pela média aritmética ponderada, sendo de peso 4 a nota da primeira prova e de peso 6 a nota da segunda prova. Ana, aluna dessa instituição, tirou, na primeira prova, nota 5,5.

Se a nota mínima para a aprovação semestral nessa instituição é 7,0, então é verdade que Ana deverá tirar na segunda prova, para ser aprovada, a nota mínima que corresponda, da nota da primeira prova, a

(A) $\frac{15}{13}$

(B) $\frac{14}{11}$

(C) $\frac{16}{11}$

(D) $\frac{7}{9}$

(E) $\frac{8}{9}$

12. Ontem, Cláudio vendeu cada unidade de um produto a x reais e obteve, com a venda de uma quantidade numericamente igual a $(x + 15)$ unidades, um lucro de R\$ 320,00, somente com essa venda. Sabendo-se que o custo de cada unidade vendida por Cláudio é R\$ 17,00, é correto afirmar que o custo total que ele teve com a quantidade de produtos vendidos foi de

(A) R\$ 380,00

(B) R\$ 425,00

(C) R\$ 480,00

(D) R\$ 525,00

(E) R\$ 680,00

13. Uma fotografia no formato retangular tem o comprimento excedendo em 30% a sua altura. Deseja-se fazer uma ampliação dessa fotografia, de modo que a altura, na foto ampliada, corresponda a 140% da altura da foto original e que a razão entre as dimensões da foto ampliada seja a mesma razão entre as dimensões da foto original. Nessas condições, é correto afirmar que a diferença entre o comprimento da fotografia ampliada e o comprimento da fotografia original corresponda, da altura da fotografia original, assim como a área da foto ampliada corresponda, da área da foto original, respectivamente, a

(A) 52% e 196%

(B) 52% e 180%

(C) 52% e 140%

(D) 40% e 196%

(E) 40% e 140%

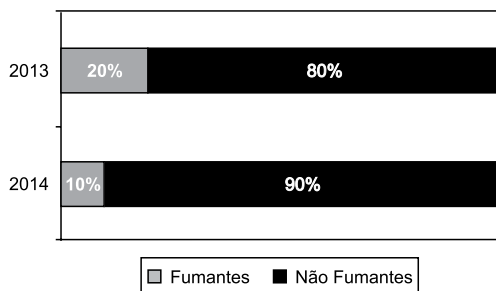
14. Antonio criou uma senha com dois números inteiros positivos A e B, nessa ordem, ambos com dois dígitos. Para a criação da senha, ele utilizou os seguintes critérios:

- A razão entre o mínimo múltiplo comum de A e B e o máximo divisor comum de A e B é 30;
- O mínimo múltiplo comum de A e B supera o máximo divisor comum de A e B em 145 unidades;
- A é menor que B, e a diferença $B - A$ é mínima.

Conhecidos esses critérios, pode-se concluir corretamente que a soma $A + B$ dos números utilizados por Antonio para a criação dessa senha é igual a

- (A) 45.
- (B) 55.
- (C) 65.
- (D) 75.
- (E) 85.

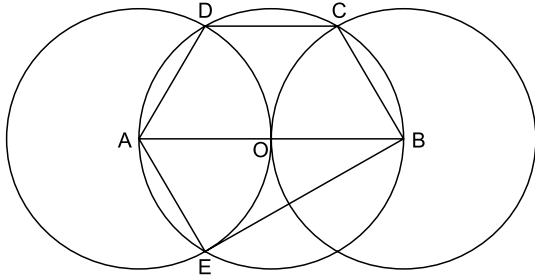
15. O gráfico apresenta informações sobre a relação entre os funcionários fumantes e os não fumantes, que trabalhavam em uma empresa e estavam registrados no último dia útil dos anos 2013 e 2014.



Com base nas informações apresentadas, é correto afirmar que

- (A) em 2013 havia um número de fumantes maior que em 2014.
- (B) em 2014 havia um número de não fumantes maior que em 2013.
- (C) de 2013 para 2014 o número de fumantes diminuiu em 50%.
- (D) em 2013 havia mais funcionários não fumantes que funcionários fumantes.
- (E) em 2014 houve um acréscimo no número de funcionários que deixaram de fumar.

16. Na figura, estão representados um trapézio ABCD, um triângulo ABE e três circunferências com centros nos pontos A, O e B, de mesmo raio. Sabendo-se que as circunferências de centro A e B são tangentes no ponto O, que os pontos A, B, C, D e E pertencem à circunferência de centro O, e que os pontos C, D e E pertencem a duas das circunferências representadas, é possível afirmar corretamente que a razão entre os perímetros do trapézio ABCD e do triângulo ABE é:



- (A) $\frac{5\sqrt{3} - 15}{6}$
- (B) $\frac{\sqrt{3} - 3}{5}$
- (C) $\frac{15 - 5\sqrt{3}}{6}$
- (D) $\frac{3 + \sqrt{3}}{5}$
- (E) $\frac{15 + 5\sqrt{3}}{6}$
17. Para negar, de maneira lógica, a afirmação “Se Marcelo é formado em administração de empresas ou Débora é formada em ciências contábeis, então Sérgio é formado em educação física e Raquel é formada em ciências econômicas”, pode-se corretamente afirmar que
- (A) Marcelo não é formado em administração de empresas e Débora não é formada em ciências contábeis, ou, Sérgio não é formado em educação física e Raquel não é formada em ciências econômicas.
- (B) Se Marcelo não é formado em administração de empresas ou Débora não é formada em ciências contábeis, então Sérgio não é formado em educação física e Raquel não é formada em ciências econômicas.
- (C) Sérgio é formado em educação física e Raquel é formada em ciências econômicas, e, Marcelo não é formado em administração de empresas e Débora não é formada em ciências contábeis.
- (D) Se Sérgio não é formado em educação física e Raquel não é formada em ciências econômicas, então Marcelo não é formado em administração de empresas e Débora não é formada em ciências contábeis.
- (E) Marcelo é formado em administração de empresas ou Débora é formada em ciências contábeis, e, Sérgio não é formado em educação física ou Raquel não é formada em ciências econômicas.

18. Se Paulo é pedreiro, então Quirino não é marceneiro. Rute é analista se, e somente se, Silvia é dentista. Quirino é marceneiro ou Telma é diarista. Constatado que Telma não é diarista e que Silvia não é dentista, é correto concluir que
- (A) Quirino é marceneiro, Rute é analista e Paulo é pedreiro.
 - (B) Quirino é marceneiro, Rute não é analista, e Paulo não é pedreiro.
 - (C) Quirino é marceneiro, Rute é analista, e Paulo não é pedreiro.
 - (D) Quirino não é marceneiro, Rute não é analista, e Paulo é pedreiro.
 - (E) Quirino não é marceneiro, Rute não é analista, e Paulo não é pedreiro.
19. Em um grupo composto por X pessoas, os que têm curso de ensino superior cursaram administração de empresas ou ciências econômicas, apenas. Das X pessoas, sabe-se que exatamente 150 cursaram administração de empresas, que exatamente 100 cursaram administração de empresas e ciências econômicas, que exatamente 230 cursaram apenas um desses dois cursos, e que exatamente 110 não cursaram ciências econômicas. Sendo assim, é possível afirmar, corretamente, que o valor de X é
- (A) 360.
 - (B) 370.
 - (C) 380.
 - (D) 390.
 - (E) 400.
20. A sequência numérica 1, 24, 116, 484, 1 956, ... obedece, a partir do segundo elemento, a uma lei de formação do tipo $a_{n+1} = x \cdot a_n + y$, com x , y e n naturais e n maior ou igual a 1. O próximo elemento dessa sequência é
- (A) 7 844.
 - (B) 7 895.
 - (C) 7 945.
 - (D) 7 994.
 - (E) 8 003.

21. *Procuradores suíços fazem busca e apreensão no HSBC em Genebra*

Procuradores suíços fizeram hoje (18 de fevereiro) uma busca e apreensão de documentos na filial de Genebra do HSBC. Trata-se de uma operação relacionada a um inquérito que investiga possível participação do banco em crimes – o caso SwissLeaks. Os promotores declararam que estavam investigando o HSBC Private Bank e pessoas suspeitas. O banco informou que estava “cooperando com as autoridades suíças”.

(UOL, 18 fev.15. Disponível em: <<http://goo.gl/sYtIhm>>. Adaptado)

O escândalo SwissLeaks

- (A) comprovou a participação do banco em casos de tráfico de armas e de drogas que, no Brasil, envolvia o grupo do crime organizado que atua a partir dos presídios e os grupos que atuam nos morros e nos subúrbios do Rio de Janeiro.
- (B) trouxe à tona a cumplicidade ativa do banco com os casos de corrupção que têm sido denunciados no Brasil, o que levou a instituição financeira a devolver ao governo brasileiro centenas de milhares de dólares relacionados aos casos de desvio de dinheiro.
- (C) possibilitou que fossem descobertas as relações entre alguns casos de crimes financeiros e a crise econômica de 2008, fruto da especulação financeira baseada na fraude de balanços contábeis e na comercialização de derivativos sem lastro real.
- (D) revelou que o banco lucrou fazendo negócios com traficantes de armas, traficantes de diamantes e outros criminosos internacionais, além de ter sido cúmplice dos crimes de sonegação fiscal, evasão de divisas e lavagem de dinheiro.
- (E) atestou que o banco conseguiu, desde o início, com suas políticas de segurança e transparência, detectar a origem ilegal de recursos oriundos dos mais diferentes países, colaborando ativamente com a denúncia de corruptos e sonegadores.

22. Após certa acomodação em janeiro, o dólar mostrou forte aceleração em relação ao real nas duas primeiras semanas de fevereiro. O movimento foi tão intenso que o real passou a ser a quarta divisa que, no acumulado de 2015, mais perdeu valor em comparação ao dólar, considerando um total de 47 moedas negociadas à vista.

(Estadão, 18 fev.15. Disponível em: <<http://goo.gl/ebCpPO>>. Adaptado)

Um dos fatores que contribuiu para a valorização do dólar foi

- (A) o cenário de recessão persistente nos EUA e na Europa.
- (B) o aumento da inflação nos EUA no final de 2014.
- (C) a possível elevação da taxa de juros nos EUA em 2015.
- (D) a valorização nos últimos anos do preço das *commodities* no mercado internacional.
- (E) o aumento consistente do preço do petróleo desde 2014.

23. O ex-diretor da Petrobras, Renato Duque, preso na 10ª fase da Operação Lava Jato, chegou a Curitiba nesta segunda-feira (16 de março), onde deve ficar detido. Ele teve a prisão preventiva decretada pela Justiça Federal e foi detido junto com outros sete investigados por desvios de dinheiro da Petrobras. Esta é a segunda vez que ele termina preso durante as investigações da Lava Jato. Em dezembro, quando os policiais deflagraram a sétima fase da operação, o ex-diretor foi detido, mas conseguiu um *habeas corpus* dias depois.

(G1, 16 mar.15. Disponível em: <<http://goo.gl/rxhDtP>>. Adaptado)

O que motivou a segunda prisão de Renato Duque foi a denúncia de que o ex-diretor da Petrobras

- (A) tentou obstruir as investigações.
- (B) continua lavando dinheiro no exterior.
- (C) pretende fugir do país.
- (D) segue operando ilegalmente na empresa.
- (E) ameaçou delatar políticos caso não fosse inocentado.

24. *Governo anuncia pacote anticorrupção e oficializa entrega ao Congresso*

O governo entregou simbolicamente nesta quarta-feira (18 de março) ao Congresso Nacional o chamado “pacote anticorrupção”, conjunto de propostas elaboradas pelo Executivo para inibir e punir irregularidades na administração pública.

(G1, 18 mar.15. Disponível em: <<http://goo.gl/QOi9Fc>> Adaptado)

Entre os principais pontos do pacote está

- (A) o financiamento público de campanha.
- (B) a criminalização do *lobby*.
- (C) a transformação da corrupção em crime hediondo.
- (D) a limitação dos mandatos consecutivos no Legislativo.
- (E) a criminalização da prática de caixa 2.

25. *Por fé e lucro, Estado Islâmico promove onda de destruição de patrimônio histórico*

O grupo extremista islâmico autodenominado “Estado Islâmico” (EI) começou a destruir mais um sítio arqueológico. A antiga cidade de Hatra foi fundada durante o Império Parta, há mais de dois mil anos, e é considerada pela Unesco, órgão da ONU, um patrimônio histórico da humanidade. Relatos também dão conta de que extremistas incendiaram uma biblioteca, junto com mais de 8 mil manuscritos. Essa onda de destruição de patrimônios históricos e culturais gerou revolta entre autoridades e pesquisadores.

(UOL, 7 mar.15. Disponível em: <<http://goo.gl/0PQqNV>>. Adaptado)

A destruição do patrimônio pelo EI ocorreu

- (A) no Iraque.
- (B) na Palestina.
- (C) no Paquistão.
- (D) no Afeganistão.
- (E) na Líbia.

26. Para controlar o salário gasto em uma prefeitura, foi criada uma planilha do MS-Excel 2010, a partir da sua configuração padrão. A coluna A contém o nome do funcionário, a coluna B contém a idade, a coluna C informa a condição, se o funcionário está aposentado S(Sim) ou N(NÃO), e a coluna D contém o salário pago ao funcionário.


	A	B	C	D
1	Nome do Funcionário	Idade	Aposentado	Salário
2	Alexandre da Silva	55	S	R\$ 5.200,00
3	Beatriz Oliveira de Paiva	52	N	R\$ 3.200,00
4	Claudia Santana	60	S	R\$ 6.200,00
5	Felipe Camargo	59	N	R\$ 2.500,00
6	Gustavo Borges	62	S	R\$ 4.500,00
7	Maria Angelica Silva	50	S	R\$ 4.100,00
8	Paula Nogueira Vison	35	N	R\$ 1.800,00
9				
10	Total de Salários Pagos para Aposentados com idade superior a 58 anos	R\$ 10.700,00		


A fórmula a ser aplicada na célula B10, para calcular o total de salários pagos para os funcionários aposentados e com idade superior a 58 anos, é


- (A) =SOMASES(C2:C8;B2:B8;"S";D2:D8;">58")
 (B) =SOMASES(D2:D8;B2:B8;">58";C2:C8;"S")
 (C) =SOMASES(D2:D8;B2:B8;"S";C2:C8;">58")
 (D) =SOMASE(D2:D8;B2:B8;">58" E "S")
 (E) =SOMASE(D2:D8;B2:B8;">58";C2:C8;"S")
27. No MS-Word 2010, na sua configuração padrão, a guia _____ contém o ícone _____ que permite Inserir Nota de Rodapé. Assinale a alternativa que completa corretamente as lacunas.

(A) Referências ... **AB**¹

(B) Inserir ... **AB**¹

(C) Layout da Página ... 

(D) Inserir ... 

(E) Inserir ... 

28. No MS-PowerPoint 2010, na sua configuração padrão, em um slide que está sendo preparado, a sequência para incluir um botão de ação que permite executar uma outra apresentação do PowerPoint é:

(A) A partir da guia Inserir, no grupo "Links", clique no



ícone Hiperlink e selecione, na opção "Botões de Ação", a figura do ícone desejado e insira no Slide; após esse procedimento, irá aparecer a janela de diálogo chamada "Configurar ação". Escolha a opção "Executar programa", clique no botão "Procurar" e selecione a apresentação que deseja que seja executada.

(B) A partir da guia Inserir, no grupo "Texto", clique no



ícone WordArt e selecione, na opção "Botões de Ação", a figura do ícone desejado e insira no Slide; após esse procedimento, irá aparecer a janela de diálogo chamada "Configurar ação". Escolha a opção "Executar programa", clique no botão "Procurar" e selecione a apresentação que deseja que seja executada.

(C) A partir da guia Inserir, no grupo "Ilustrações", clique



no ícone Formas e selecione, na opção "Botões de Ação", a figura do ícone desejado e insira no Slide; após esse procedimento, irá aparecer a janela de diálogo chamada "Configurar ação". Escolha a opção "Executar programa", clique no botão "Procurar" e selecione a apresentação que deseja que seja executada.

(D) A partir da guia Design, no grupo "Figura", clique no



ícone SmartArt e selecione, na opção "Botões de Ação", a figura do ícone desejado e insira no Slide; após esse procedimento, irá aparecer a janela de diálogo chamada "Configurar ação". Escolha a opção "Executar programa", clique no botão "Procurar" e selecione a apresentação que deseja que seja executada.

(E) A partir da guia Design, no grupo "Figura", clique no



ícone Clip-Art e selecione, na opção "Botões de Ação", a figura do ícone desejado e insira no Slide; após esse procedimento, irá aparecer a janela de diálogo chamada "Configurar ação". Escolha a opção "Executar programa", clique no botão "Procurar" e selecione a apresentação que deseja que seja executada.

CONHECIMENTOS ESPECÍFICOS

29. No Windows 7, a partir da sua configuração padrão, na sua instalação serão criados, por padrão, 4 Bibliotecas, que são:

- (A) Arquivos, Músicas, Fotos e Vídeos.
- (B) Arquivos, Download, Músicas e Vídeos.
- (C) Documentos, Download, Músicas e Vídeos.
- (D) Documentos, Músicas, Imagens e Vídeos.
- (E) Documentos, Músicas, Fotos e Vídeos.

30. Diversas empresas criaram vários navegadores de internet, por exemplo: a Microsoft desenvolveu o navegador _____, já a Google desenvolveu o navegador _____, e a Mozilla desenvolveu o _____.

Assinale a alternativa que preenche, correta e respectivamente, as lacunas.

- (A) Windows Explorer ... Chrome ... Thunderbird
- (B) Windows Explorer ... Safari ... Thunderbird
- (C) Internet Explorer ... Safari ... Firefox
- (D) Internet Explorer ... Chrome ... Thunderbird
- (E) Internet Explorer ... Chrome ... Firefox

31. A Lei Orgânica do Município de São José dos Campos estabelece que

- (A) o respeito ao meio ambiente e o controle da poluição ambiental são de relevância pública, mas não estão incluídos dentre os direitos fundamentais à saúde.
- (B) as ações e os serviços de saúde são de natureza pública e privada, cabendo sua execução aos órgãos públicos e aos serviços privados, respeitadas as diretrizes gerais do Sistema Único de Saúde Municipal – SUS.
- (C) o Conselho Municipal de Saúde é órgão gestor do Sistema Único de Saúde no âmbito do Município.
- (D) é de competência do Município, exercida pela Secretaria Municipal de Finanças, elaborar e atualizar a sua proposta orçamentária do SUS e administrar o Fundo Municipal de Saúde.
- (E) a gestão das unidades de saúde é de responsabilidade dos Conselhos Gestores de Unidades, formados por usuários, trabalhadores de saúde e representantes governamentais.

32. “O número médio de anos que ainda restam para serem vividos pelos indivíduos que sobrevivem até a idade considerada, pressupondo-se que as probabilidades de morte que serviram para o cálculo continuem as mesmas” corresponde ao conceito do indicador de saúde denominado de

- (A) Índice de Swaroop & Uemura.
- (B) Quantificação de Guedes.
- (C) Vida Média.
- (D) Esperança de Vida.
- (E) Anos Potenciais de Vida Perdidos.

- 33.** Com relação à Política Nacional de Atenção Básica, é correto afirmar que
- (A) ela preconiza a utilização de tecnologias de cuidado que sejam simples e com baixa variabilidade, priorizando o manejo das demandas e necessidades de saúde de maior gravidade.
 - (B) ela considera o termo Atenção Básica à Saúde mais avançado conceitualmente do que Atenção Primária à Saúde.
 - (C) ela tem, na Saúde da Família, sua estratégia prioritária para expansão e consolidação da Atenção Básica.
 - (D) suas ações são desenvolvidas por equipes multiprofissionais, coordenadas por médico generalista ou especialista em saúde da família.
 - (E) é de responsabilidade exclusiva do governo federal desenvolver, disponibilizar e implantar os sistemas de informações da Atenção Básica.
- 34.** Com base na Portaria nº 1.271, de 6 de junho de 2014, que define a Lista Nacional de Notificação Compulsória de doenças, agravos e eventos de saúde pública nos serviços de saúde públicos e privados em todo o território nacional, é correto afirmar que
- (A) a comunicação dos agravos de notificação compulsória também deve ser realizada pelos responsáveis por estabelecimentos privados educacionais e instituições de pesquisa.
 - (B) o registro dos agravos de notificação compulsória deve ser feito prioritariamente pelos médicos.
 - (C) a notificação compulsória imediata deve ser feita até 12 horas após a confirmação diagnóstica do agravo.
 - (D) só são de notificação obrigatória os casos de dengue que levem à morte.
 - (E) os acidentes de trabalho graves, fatais e em crianças e adolescentes são de notificação semanal.
- 35.** A vacina contra HPV, preconizada no Calendário Nacional de Vacinação do Ministério da Saúde,
- (A) tem como público alvo preferencial as mulheres com vida sexual ativa.
 - (B) tem por objetivo prevenir o câncer de colo do útero, refletindo na redução da incidência e da mortalidade por essa enfermidade.
 - (C) não pode ser administrada concomitantemente com outra vacina.
 - (D) substitui a necessidade de realização do exame de Papanicolau.
 - (E) deve ser aplicada em dose única, por via intramuscular.
- 36.** A Terapia Comunitária tem sido utilizada frequentemente para o atendimento de indivíduos e famílias que enfrentam, no seu cotidiano, situações de exclusão social, violência, preconceito, solidão e isolamento. Esse tipo de abordagem
- (A) avalia a qualidade da saúde mental da população vulnerável, para a criação de políticas públicas mais abrangentes e eficazes.
 - (B) promove a escuta das demandas da população carente, para oferecer assistência, buscar recursos e suprir suas necessidades.
 - (C) contém os impulsos destrutivos dos indivíduos e famílias vulneráveis por meio da identificação dos líderes positivos da comunidade.
 - (D) analisa os discursos dos indivíduos de uma comunidade para explicitar o conteúdo latente das manifestações que estão em desacordo com a ordem social.
 - (E) reforça a construção de redes sociais solidárias que possibilitam a troca de experiências e o enfrentamento dos problemas com os quais se depara a comunidade.
- 37.** Pessoas que são vítimas de estupro geralmente acreditam que são responsáveis pelo fato que aconteceu. Essa atitude traduz uma postura
- (A) narcísica, que caracteriza pessoas com estrutura de personalidade sugestível, com maiores chances de sofrerem agressões.
 - (B) defensiva, que mascara o pensamento perturbador de que estão completamente desamparadas em um universo onde a violência é um acaso.
 - (C) onipotente, que indica uma identificação com a figura do agressor e com a sua capacidade de expressar abertamente seus impulsos.
 - (D) alienada, que demonstra impossibilidade de contato com as situações da realidade e prejuízo da capacidade de julgamento.
 - (E) dissociada, que evidencia dificuldade de integração da experiência de violência às demais vivências afetivas.

- 38.** A ação interdisciplinar em uma equipe de profissionais de saúde
- (A) implica integração e superposição de conhecimentos de diversas áreas.
 - (B) constitui um retrocesso no que se refere às ações de saúde integradas.
 - (C) privilegia a dimensão empírica, por isso sua intervenção é mais efetiva.
 - (D) restabelece elos que permitem uma compreensão geral e profunda dos fenômenos.
 - (E) elimina as tensões teóricas entre os profissionais que integram o mesmo grupo.
- 39.** Um psicólogo foi convocado a realizar a avaliação diagnóstica de um adolescente de 14 anos. Ao realizar a primeira entrevista com o adolescente, o psicólogo deve ter em mente que
- (A) a tarefa primordial do avaliador é a de propiciar um clima receptivo, a fim de encorajá-lo a discorrer livremente sobre seus problemas.
 - (B) o uso de perguntas, esclarecimentos e assinalamentos pode se tornar uma estratégia perigosa, pois inibe a livre expressão do paciente.
 - (C) as interpretações devem ser abundantes, para eliminar as ansiedades paranoides que caracterizam essa etapa do desenvolvimento.
 - (D) o silêncio não deve ser rompido, para que o adolescente demonstre claramente que é capaz de vencer as suas resistências iniciais.
 - (E) o uso de materiais gráficos para facilitar a expressão de conteúdos não é recomendável, porque infantiliza o paciente avaliado.
- 40.** John Bowlby afirma que é essencial para a saúde mental de um bebê que este vivencie uma relação calorosa, íntima e contínua com sua mãe ou figura substituta. Quando essa vivência não é possível, a criança sofre com a privação, que pode ter efeitos variados de acordo com o grau em que ocorre. Segundo a perspectiva do autor, a privação total
- (A) provoca angústia e exagerada necessidade de amor, o que gera sentimentos de culpa e depressão.
 - (B) ainda permite à criança alguma satisfação nos relacionamentos, desde que ela não seja frustrada.
 - (C) pode mutilar completamente na criança a capacidade de estabelecer relações com as outras pessoas.
 - (D) permite que a criança lide com suas emoções e impulsos, mas provoca certa instabilidade.
 - (E) gera fortes sentimentos de vingança e retaliação que provocam reações de prazer e satisfação.
- 41.** Aos quatro anos de idade uma criança vê o mar pela primeira vez. Surpresa com o constante fluir das ondas, ela se volta para o pai e pergunta: “Quando isso vai parar?”. O pai responde: “Esse movimento nunca para”. A criança então questiona: “Nem quando a gente está dormindo?”.
- Segundo a teoria de Piaget, o trecho apresentado identifica uma das características do pensamento de uma criança no estágio pré-operatório. Essa característica é denominada
- (A) animismo.
 - (B) reversibilidade.
 - (C) flexibilidade.
 - (D) conservação.
 - (E) egocentrismo.
- 42.** Como forma de prevenção junto às famílias nas quais a agressividade é um tema recorrente nas sessões, o terapeuta deve
- (A) trabalhar o luto pela separação inevitável entre os pais violentos e os filhos.
 - (B) desenvolver a comunicação não violenta como um novo padrão de relacionamento.
 - (C) realizar visitas domiciliares frequentes para controlar situações de violência.
 - (D) favorecer, por meio de material lúdico, a catarse dos impulsos agressivos da família.
 - (E) identificar o membro violento da família e atendê-lo em psicoterapia individual.
- 43.** Atualmente a terapia familiar implica uma multiplicidade de abordagens. No entanto, as práticas pós-modernas se unem em torno de alguns pressupostos teóricos básicos. Um desses pressupostos enfatiza que
- (A) toda mudança no grupo familiar ocorre pela ação e pela capacidade do terapeuta para determinar e anunciar o foco do processo de intervenção.
 - (B) no grupo familiar, as pessoas não podem atuar como protagonistas de suas histórias, pois essa atitude compromete o equilíbrio da família.
 - (C) o diálogo, definido como um cruzamento de perspectivas, impede uma prática social transformadora no grupo familiar.
 - (D) o terapeuta constrói, em ação conjunta com a família, uma definição do problema e das possibilidades de mudança do grupo familiar.
 - (E) o conteúdo das histórias passadas, relatadas pelos membros da família, deve atuar como elemento protetor da identidade familiar.

44. A Política de Saúde Mental preconiza a criação de serviços alternativos para reintegrar as pessoas em desvantagem no mercado econômico, dentre elas os portadores de transtornos mentais. A alternativa criada com a finalidade de inserir esses indivíduos junto à comunidade por meio do trabalho é o(a)
- (A) Empresa Solidária.
 - (B) Oficina terapêutica.
 - (C) Cooperativa Social.
 - (D) Centro de Convivência.
 - (E) Sistema Local de Saúde.
45. No cenário brasileiro, identifica-se um processo que rompe com o modelo hospitalocêntrico, para promover um modelo de base comunitária em atenção à saúde mental. No modelo comunitário,
- (A) o objeto de atenção em saúde mental passa a ser a existência-sofrimento do indivíduo e sua relação com a sociedade.
 - (B) a família deve proteger o indivíduo que adoece psiquicamente, pois este não pode assumir o papel de agente de sua própria saúde.
 - (C) os atendimentos em saúde mental caracterizados como urgências e emergências não são mais encaminhados para hospitais psiquiátricos.
 - (D) a atenção em saúde mental tem um enfoque individual, especializado e padronizado para cada um dos transtornos identificados.
 - (E) a atenção básica tem eliminado o uso da medicação, substituindo-o pela realização de oficinas com diversos objetivos terapêuticos.
46. As Redes de Atenção Psicossocial – RAPS têm como um de seus objetivos gerais
- (A) oferecer abrigo às pessoas com necessidades decorrentes do uso de crack.
 - (B) encaminhar as pessoas com transtorno mental aos serviços da comunidade.
 - (C) efetivar ações de controle junto aos indivíduos dependentes de álcool.
 - (D) ampliar o acesso à atenção psicossocial da população em geral.
 - (E) realizar estudos epidemiológicos que indiquem as demandas das comunidades.
47. Durante uma avaliação diagnóstica, identificam-se numa pessoa as seguintes características: pensamento quase psicótico, comportamento de automutilação, preocupação com abandono, sensação de ser alguém especial e comportamento regressivo durante o atendimento. Esses sinais indicam que a pessoa sofre com um
- (A) transtorno de personalidade *borderline*.
 - (B) transtorno de estresse pós-traumático.
 - (C) transtorno de conduta.
 - (D) transtorno de ansiedade generalizada.
 - (E) transtorno de personalidade esquizoide.
48. Uma variedade de fatores físicos presentes durante a gestação, tais como: infecções, consumo de drogas, temperatura, pressão e nutrição podem prejudicar o cérebro de um recém-nascido e provocar deficiência mental. O déficit resultante desses fatores
- (A) é sempre profundo e não pode ser revertido de nenhuma forma.
 - (B) varia de leve a profundo e não pode ser atenuado por nenhuma terapêutica.
 - (C) é considerado leve e não interfere na aquisição de habilidades e na aprendizagem.
 - (D) compromete moderadamente a memória, mas não afeta a cognição.
 - (E) é geralmente menos severo e, na maioria dos casos, pode ser evitado.
49. Em relação ao processo psicodiagnóstico, pode-se afirmar que
- (A) sua duração é sempre definida previamente, não podendo ser alterada em hipótese alguma, para não abalar a confiança do paciente em relação à competência do terapeuta.
 - (B) seus objetivos são definidos pela pessoa que realizou o encaminhamento ou pela pessoa avaliada, devendo ser respeitados pelo psicólogo.
 - (C) este é um processo científico, que parte de perguntas específicas, cujas respostas se estruturam como hipóteses que serão confirmadas ou não durante as etapas do processo.
 - (D) o plano de avaliação é definido em conjunto pelo terapeuta e pela pessoa que será avaliada, o que aumenta a motivação do paciente e facilita a coleta de dados.
 - (E) o processo utiliza técnicas e testes psicológicos, que são analisados e interpretados, e se encerra com a definição da problemática do cliente para o psicólogo.

- 50.** Os principais teóricos da abordagem psicodinâmica
- (A) dedicam-se ao conhecimento da estrutura da personalidade e à definição do conjunto sistemático de características que resumem a personalidade.
 - (B) preocupam-se com as forças dinâmicas que determinam o comportamento e com as estruturas defensivas que protegem o homem dessas forças.
 - (C) afirmam que as pessoas não são vítimas de suas biografias e estão livres para escolherem e para mudarem suas vidas.
 - (D) acreditam que a aprendizagem desempenha papel fundamental na aquisição das tendências e características de personalidade.
 - (E) enfatizam a importância da hereditariedade na determinação dos traços fundamentais que definem a personalidade.
- 51.** Segundo a teoria proposta por Sigmund Freud, a personalidade é constituída por três grandes sistemas: o id, o ego e o superego. Em relação a esses sistemas, é correto afirmar que
- (A) o ego é o reservatório da energia psíquica e fornece toda a força para operação dos outros dois sistemas: id e superego.
 - (B) o id é o representante interno dos valores tradicionais e dos ideais da sociedade conforme interpretados para a criança pelos pais.
 - (C) o comportamento é uma produção tão singular que é possível determinar qual o sistema que opera em cada uma de suas manifestações.
 - (D) id, ego e superego interagem de forma tão estreita que é difícil avaliar seus efeitos e pesar a sua contribuição na manifestação do comportamento.
 - (E) o superego é o sistema que realiza as transações necessárias entre a realidade instintual e a realidade objetiva.
- 52.** Os testes projetivos são especialmente úteis durante o psicodiagnóstico de pacientes
- (A) reservados e lacônicos em situação de entrevista, e que não compartilham livremente sua vida interna com o psicólogo.
 - (B) agressivos e violentos, que tendem a demonstrar menos ansiedade diante de situações pouco estruturadas.
 - (C) fóbicos, que podem se sentir mais confortáveis em situações de exposição e de questionamento direto sobre suas ideias e impressões.
 - (D) deprimidos, que conseguem repelir sua tendência ao isolamento e à apatia durante o contato com situações pouco definidas.
 - (E) maníacos e agitados quando questionados diretamente, e que se sentem menos ansiosos em situações controladas.
- 53.** Um dos cuidados que um psicólogo deve ter ao elaborar um laudo psicológico é o de
- (A) apresentar os resultados e medidas obtidos por meio da mensuração e interpretação dos testes psicológicos.
 - (B) evitar indicações diretas sobre as condutas e encaminhamentos a serem adotados no caso avaliado.
 - (C) apresentar todos os procedimentos por ele adotados e as conclusões resultantes do processo de avaliação.
 - (D) apresentar informações diagnósticas que ultrapassem as demandas e solicitações feitas ao início do processo.
 - (E) elaborar a redação do documento utilizando-se de termos e de linguagem técnicos e científicos.
- 54.** Para os pacientes que sofrem com quadros de fobia, transtorno de pânico, transtornos alimentares, disfunções sexuais, autismo e dependência química, a abordagem terapêutica mais indicada é a
- (A) psicanálise.
 - (B) terapia interpessoal.
 - (C) terapia centrada na pessoa.
 - (D) técnica do psicodrama.
 - (E) terapia comportamental.
- 55.** Um dos pressupostos do modelo psicológico para compreensão sobre as causas do comportamento desajustado enfatiza que o
- (A) tratamento adequado pode curar o comportamento desajustado assim como cura as doenças orgânicas.
 - (B) indivíduo com comportamento desajustado difere quantitativamente do indivíduo com comportamento normal.
 - (C) comportamento desajustado indica que o ambiente social é incapaz de atender as necessidades de seus integrantes.
 - (D) comportamento desajustado não implica sofrimento, somente demonstra padrão atípico de conduta.
 - (E) comportamento desajustado é modelado pela experiência e não sofre interferência de fatores biológicos.
- 56.** As parafilias que envolvem crueldade explícita feita a outros estão com frequência presentes em pacientes com
- (A) transtorno da personalidade antissocial.
 - (B) transtorno obsessivo-compulsivo.
 - (C) transtorno de pânico.
 - (D) transtorno da personalidade narcísica.
 - (E) transtorno da personalidade esquizoide.

57. Um perfil dos mecanismos de defesa utilizados frequentemente por um paciente é um indicador de sua saúde psicológica. Nos casos de psicose, alguns dos mecanismos de defesa identificados são:
- (A) identificação, deslocamento e racionalização.
 - (B) supressão, altruísmo e humor.
 - (C) introjeção, isolamento afetivo e repressão.
 - (D) cisão, identificação projetiva e idealização.
 - (E) sublimação, somatização e atuação.
58. O dimensionamento dos recursos humanos de uma organização de trabalho, tendo como base as competências que a empresa precisa manter ou adquirir,
- (A) centraliza na área de recursos humanos as decisões sobre as contratações que serão necessárias.
 - (B) revela baixa flexibilidade do sistema organizacional diante das novas formas de organização do trabalho.
 - (C) impede que os gestores da organização opinem sobre as decisões relativas a seus funcionários.
 - (D) privilegia as relações hierárquicas em detrimento dos aspectos fundamentais para a sobrevivência da organização.
 - (E) permite o acompanhamento da evolução do mercado e a sustentação de vantagens competitivas.
59. Há uma concordância entre autores e profissionais da psicologia de que as ações do departamento de Treinamento e Desenvolvimento em uma organização de trabalho se compõem de quatro atividades. São elas:
- (A) avaliação do desempenho individual, avaliação do desempenho do grupo, mediação e *feedback*.
 - (B) análise de recursos, orçamento, definição dos objetivos e metas de produtividade e apresentação de resultados.
 - (C) levantamento de necessidades, planejamento e programação, execução e avaliação dos resultados.
 - (D) escolha das estratégias e instrumentos, definição do público-alvo, definição de data e local e realização.
 - (E) definição de objetivos, definição das recompensas a serem oferecidas, execução e divulgação dos resultados.
60. Um jovem de dezesseis anos comparece sozinho a um serviço de atendimento em saúde mental para solicitar atendimento psicológico. O psicólogo desse serviço
- (A) poderá atender o jovem sem autorização porque este procura espontaneamente o serviço de saúde.
 - (B) poderá atender o jovem se conseguir uma autorização de pelo menos um de seus responsáveis legais.
 - (C) poderá atender o jovem desde que consiga autorização de todos os seus responsáveis legais.
 - (D) deverá comunicar o atendimento às autoridades competentes mesmo obtendo autorização dos responsáveis.
 - (E) poderá atender o jovem desde que seus responsáveis legais compareçam a todas as sessões.

