



PREFEITURA MUNICIPAL DE SÃO JOSÉ DOS CAMPOS

CONCURSO PÚBLICO

018. PROVA OBJETIVA

ANALISTA EM SAÚDE – ENFERMEIRO

- ◆ Você recebeu sua folha de respostas e este caderno contendo 60 questões objetivas.
- ◆ Confira seus dados impressos na capa deste caderno e na folha de respostas.
- ◆ Quando for permitido abrir o caderno, verifique se está completo ou se apresenta imperfeições. Caso haja algum problema, informe ao fiscal da sala.
- ◆ Leia cuidadosamente todas as questões e escolha a resposta que você considera correta.
- ◆ Marque, na folha de respostas, com caneta de tinta azul ou preta, a letra correspondente à alternativa que você escolheu.
- ◆ A duração da prova é de 3 horas e 30 minutos, já incluído o tempo para o preenchimento da folha de respostas.
- ◆ Só será permitida a saída definitiva da sala e do prédio após transcorridos 75% do tempo de duração da prova.
- ◆ Ao sair, você entregará ao fiscal a folha de respostas e este caderno, podendo levar apenas o rascunho de gabarito, localizado em sua carteira, para futura conferência.
- ◆ Até que você saia do prédio, todas as proibições e orientações continuam válidas.

AGUARDE A ORDEM DO FISCAL PARA ABRIR ESTE CADERNO DE QUESTÕES.

Nome do candidato _____

Prédio _____

Sala _____

Carteira _____

Inscrição _____

CONHECIMENTOS GERAIS

LÍNGUA PORTUGUESA

Leia o texto para responder às questões de números **01** a **03**.

Invista em companhia para mudar hábitos

Como ter hábitos de vida mais saudáveis e perder peso com mais facilidade? Além da combinação clássica de mais atividade física com melhor alimentação, dois novos estudos sugerem que topar o desafio na companhia do parceiro ou de um grupo pode fazer toda a diferença.

No primeiro trabalho, da Universidade College of London, do Reino Unido, especialistas avaliaram mais de 3.700 casais com idade igual ou superior a 50 anos. Concluíram que é muito mais fácil parar de fumar, perder peso e fazer exercícios quando a cara-metade também arregança as mangas e compra a briga.

Só para citar um exemplo: 50% das mulheres que fumavam conseguiram largar o cigarro quando o companheiro tentou junto. Entre as mulheres cujo parceiro já era um ex-fumante (portanto não a acompanhou na tentativa), só 17% conseguiram parar. Entre aquelas cujo marido continuou a fumar, o índice de sucesso ficou em apenas 8%.

Num outro trabalho, da Universidade de East Anglia, também do Reino Unido, pesquisadores revisaram 42 estudos envolvendo mais de 1.800 pessoas de 14 países e constataram que fazer atividade física em grupo diminui as condições que ameaçam a saúde, como doença coronariana, derrames, depressão e até alguns tipos de câncer.

Para os especialistas, caminhar em grupo faz as pessoas se exercitarem por mais tempo do que fariam sozinhas, além de estimular treinos mais vigorosos. As atividades coletivas também mostram ganhos psicológicos. Os praticantes ficam menos isolados. O sentimento de pertencimento aumenta o bem-estar e a sensação de apoio emocional. A combinação de benefícios físicos e psicológicos pode reduzir sintomas depressivos e estresse.

Para muitos dos homens e mulheres pesquisados, os grupos podem facilitar a aderência à atividade física regular e converter as caminhadas num novo hábito de vida. Quer seja na companhia do parceiro ou de um grupo, fica mais fácil vencer as resistências e encarar a mudança.

(Jairo Bouer. *Época*, 02.02.2015. Adaptado)

01. De acordo com as informações do texto, é correto afirmar que

- (A) a prática de exercícios físicos na companhia de parentes e amigos é comprovadamente mais eficaz para melhorar a saúde que seguir uma alimentação balanceada.
- (B) o hábito de caminhar em grupo levou muitos indivíduos a se dedicarem a treinos mais intensos e vigorosos, situação que tem preocupado médicos cardiologistas.
- (C) os pesquisadores constataram, com base na observação de 1.800 indivíduos, que os casais ingleses que se exercitavam em grupo superaram doenças como depressão e câncer.
- (D) a atividade física, praticada de forma regular e coletiva, torna os indivíduos psicologicamente mais saudáveis, pois pertencer a um grupo reduz a sensação de isolamento.
- (E) as mulheres, tanto as jovens como as de meia-idade, obtiveram maior sucesso para abandonar o cigarro quando receberam o apoio do companheiro.

02. Considere a frase do terceiro parágrafo:

Entre as mulheres cujo parceiro já era um ex-fumante (portanto não a acompanhou na tentativa), só 17% conseguiram parar.

Assinale a alternativa em que essa frase está reescrita de acordo com a norma-padrão e sem alteração do sentido do texto.

- (A) Entre as mulheres com quem o parceiro já era um ex-fumante (no entanto não a acompanhou no teste), só 17% conseguiram reduzir.
- (B) Entre as mulheres com quem o parceiro já era um ex-fumante (por conseguinte não a acompanhou na empreitada), só 17% conseguiram controlar.
- (C) Entre as mulheres a quem o parceiro já era um ex-fumante (em vista disso não a acompanhou na prova), só 17% conseguiram vitória.
- (D) Entre as mulheres de quem o parceiro já era um ex-fumante (ou seja, não a acompanhou na disputa), só 17% conseguiram moderar.
- (E) Entre as mulheres de quem o parceiro já era um ex-fumante (por isso não a acompanhou no experimento), só 17% conseguiram sucesso.

03. Assinale a alternativa em que o trecho reescrito apresenta o emprego correto do sinal indicativo de crase.

- (A) Além da combinação clássica de mais atividade física com melhor alimentação... → Além de atrelar mais atividade física à alimentação equilibrada...
- (B) Só para citar um exemplo: 50% das mulheres que fumavam... → Fazendo alusão à uma parte do estudo: 50% das mulheres que fumavam...
- (C) ... pesquisadores revisaram 42 estudos envolvendo mais de 1.800 pessoas... → pesquisadores propuseram-se à analisar 42 estudos envolvendo mais de 1.800 pessoas...
- (D) ... atividade física em grupo diminui as condições que ameaçam a saúde... → atividade física em grupo restringe às condições que ameaçam a saúde...
- (E) ... fica mais fácil vencer as resistências e encarar a mudança. → fica mais fácil opor-se à barreiras e encarar a mudança.

Leia o texto para responder às questões de números 04 a 07.

Competição a toda prova

Interessado em saber como a seleção dos melhores agiria na natureza, o pesquisador William Muir, da Universidade de Purdue, nos Estados Unidos, fez uma experiência com galinhas. Selecionou dois grupos: um natural, em que as aves conviviam normalmente, e outro formado só pelas que mais produziam ovos. Ele queria testar se o isolamento das superprodutivas aumentaria a quantidade de ovos gerada. Após seis gerações, as galinhas do bando natural estavam saudáveis. Mas as do grupo das superaves estavam deprimidas, estressadas e sem botar nenhum ovo – com apenas três sobreviventes. As outras seis tinham sido assassinadas.

A história é usada pela americana Margaret Heffernan, em seu livro *A Bigger Prize: Why Competition Isn't Everything and How We Do Better* ("Um prêmio maior: por que a competição não é tudo e como podemos fazer melhor", numa tradução livre), para demonstrar que a competitividade não é tão boa quanto o mundo dos negócios faz parecer. Segundo a autora, que foi CEO de renomadas empresas de tecnologia, ambientes de trabalho competitivos causam estresse e problemas de relacionamento que não compensam os resultados. Ela cita o caso de Bill Gore que fundou sua indústria química com um modelo hierárquico mais amigável e bateu recordes de patentes. "Pessoas colaborativas tornam as empresas mais inteligentes", diz Margaret.

Para alguns, a competitividade serve para criar uma atmosfera mais produtiva. Jack Welch, ex-presidente da GE, deu fama a seus rankings que dividiam os funcionários entre os 20% potenciais, os 70% medianos e os 10% incompetentes. Para Margaret, essa prática, embora dê lucro, cria cenários que geram ansiedade e estresse. "Qualquer tarefa complexa requer muito de seu cérebro. Mas o estresse prejudica especificamente o funcionamento do córtex pré-frontal, onde os pensamentos ocorrem, e o hipocampo, responsável por coordenar as atividades mentais necessárias para resolver problemas. Quando nos sentimos ameaçados, podemos ter toda a capacidade mental de que precisamos, mas simplesmente não conseguimos articular as ideias", comenta a autora em seu livro.

(Bárbara Nór. *VocêS/A*, janeiro de 2015. Adaptado)

04. Sobre o conteúdo do texto, é correto afirmar que

- (A) o pesquisador William Muir tinha por objetivo provar que a convivência em um ambiente natural levaria as galinhas a produzir quantidade de ovos acima do normal.
- (B) as seis galinhas mais produtivas, pertencentes ao grupo das superaves, ficaram doentes e vieram a morrer vitimadas pelo próprio estresse.
- (C) os indivíduos submetidos a situações constrangedoras e estressantes podem ter bloqueada sua aptidão mental para solucionar impasses.
- (D) os rankings estabelecidos por Jack Welch aumentaram a produtividade da empresa, pois os funcionários não se sentiam discriminados por essa estratégia.
- (E) Bill Gore criou um modelo de gestão administrativa em que aboliu a hierarquia, ou seja, a organização da empresa em diferentes setores.

05. Considerando as opiniões de Margaret Heffernan reproduzidas no texto, assinale a alternativa em que o elemento de coesão em destaque evidencia uma concessão feita por Margaret que, no entanto, não invalida seu ponto de vista sobre competição.

- (A) ... para demonstrar que a competitividade não é tão boa **quanto** o mundo dos negócios faz parecer. (2º parágrafo)
- (B) ... ambientes de trabalho competitivos causam estresse e problemas de relacionamento **que** não compensam os resultados. (2º parágrafo)
- (C) ... fundou sua indústria química com um modelo hierárquico mais amigável **e** bateu recordes de patentes. (2º parágrafo)
- (D) Para Margaret, essa prática, **embora** dê lucro, cria cenários que geram ansiedade e estresse. (3º parágrafo)
- (E) **Quando** nos sentimos ameaçados, podemos ter toda a capacidade mental de que precisamos... (3º parágrafo)

06. Observe o emprego do pronome relativo **onde** no trecho do terceiro parágrafo: *Mas o estresse prejudica especificamente o funcionamento do córtex pré-frontal, onde os pensamentos ocorrem...*

Esse pronome também está corretamente empregado em:

- (A) Aquele foi um período de sua vida **onde** ele se sentiu muito entusiasmado com seus projetos.
- (B) Esta instituição, reconhecida internacionalmente e **onde** estudaram famosos arquitetos, fará a restauração da propriedade.
- (C) Nos próximos meses, **onde** todos os condôminos se comprometeram a colaborar, pretende-se 20% de economia no consumo de água.
- (D) Nossos avós paternos nos contaram que se conheceram na França em 1918, ano **onde** terminou a Primeira Guerra.
- (E) Para a entrevista de trabalho, ela optou por um vestido chamativo **onde** deveria ter optado por uma roupa mais discreta.

07. Assinale a alternativa em que o pronome substitui corretamente a expressão em destaque e atende às regras de colocação estabelecidas pela norma-padrão.

- (A) ... e outro formado só pelas que mais produziam **ovos**. → produziam-nos.
- (B) ... o isolamento das superprodutivas aumentaria a **quantidade de ovos gerada**. → aumentaria-a.
- (C) "Pessoas colaborativas tornam **as empresas** mais inteligentes"... → tornam-lhes mais inteligentes.
- (D) Para alguns, a competitividade serve para criar **uma atmosfera mais produtiva**. → lhe criar.
- (E) ... deu fama a seus rankings que dividiam **os funcionários** entre os 20% potenciais... → os dividiam entre os 20% potenciais...

08. As preposições destacadas estão empregadas de acordo com a norma-padrão em:

- (A) Embora seja inerente **com** o ser humano desejar ser bem-sucedido profissionalmente, é uma situação que, muitas vezes, implica **em** desgaste emocional.
- (B) Uma existência rica **em** amizades que nos incentiva **da** sociabilidade é um privilégio que se deve cultivar.
- (C) Há pessoas que se lamentam **da** falta de predisposição para realizar certas atividades, entretanto são avessas **a** exercícios físicos.
- (D) O livro de Margaret Hefferann pode ser útil **com** os gestores que pretendem se contrapor **das** práticas administrativas convencionais.
- (E) As galinhas superprodutivas procederam **ao** extermínio de algumas companheiras visto que se encontravam em ambiente propício **em** competição.


09. Considere o texto:

Até o meio-dia e _____ deste domingo, já _____ participado das primeiras competições paraolímpicas cerca de 40% dos atletas inscritos. Desse grupo, muitos são atletas sul-americanos que, _____ semanas, _____ treinando no país-sede.

Os termos que preenchem, correta e respectivamente, as lacunas do texto são:

- (A) meia ... havia ... fazem ... vem
- (B) meia ... haviam ... faz ... vêm
- (C) meio ... havia ... fazem ... vêm
- (D) meio ... haviam ... faz ... vem
- (E) meio ... haviam ... fazem ... vêm

10. Observe a tira em que estão presentes os amigos Frank (de calça escura) e Ernest (de calça xadrez).



(Bob Thaves. Acessível em <http://goo.gl/Wa78h4>)

Analisando a tira, é correto afirmar que ocorre a

- (A) oposição entre as opiniões de Frank e Ernest sobre os políticos e o emprego dos verbos *fundar* e *afundar* em sentido próprio.
- (B) comparação entre o presente e o passado e o emprego de linguagem predominantemente informal na dedicatória e na fala da personagem.
- (C) comparação entre o presente e o passado e o emprego dos verbos *fundar* e *afundar* que apresentam sentidos opostos.
- (D) identidade entre fundador e dupla de amigos quanto à aparência sóbria e alinhada e o emprego dos verbos *fundar* e *afundar* pela semelhança de sentido.
- (E) identidade entre fundador e dupla de amigos quanto à posição desempenhada na sociedade e o emprego do sarcasmo, da parte de Frank, para caracterizar os políticos de todas as gerações.

11. Em uma instituição de ensino superior, a nota semestral de cada aluno é calculada pela média aritmética ponderada, sendo de peso 4 a nota da primeira prova e de peso 6 a nota da segunda prova. Ana, aluna dessa instituição, tirou, na primeira prova, nota 5,5.

Se a nota mínima para a aprovação semestral nessa instituição é 7,0, então é verdade que Ana deverá tirar na segunda prova, para ser aprovada, a nota mínima que corresponda, da nota da primeira prova, a

(A) $\frac{15}{13}$

(B) $\frac{14}{11}$

(C) $\frac{16}{11}$

(D) $\frac{7}{9}$

(E) $\frac{8}{9}$

12. Ontem, Cláudio vendeu cada unidade de um produto a x reais e obteve, com a venda de uma quantidade numericamente igual a $(x + 15)$ unidades, um lucro de R\$ 320,00, somente com essa venda. Sabendo-se que o custo de cada unidade vendida por Cláudio é R\$ 17,00, é correto afirmar que o custo total que ele teve com a quantidade de produtos vendidos foi de

(A) R\$ 380,00

(B) R\$ 425,00

(C) R\$ 480,00

(D) R\$ 525,00

(E) R\$ 680,00

13. Uma fotografia no formato retangular tem o comprimento excedendo em 30% a sua altura. Deseja-se fazer uma ampliação dessa fotografia, de modo que a altura, na foto ampliada, corresponda a 140% da altura da foto original e que a razão entre as dimensões da foto ampliada seja a mesma razão entre as dimensões da foto original. Nessas condições, é correto afirmar que a diferença entre o comprimento da fotografia ampliada e o comprimento da fotografia original corresponda, da altura da fotografia original, assim como a área da foto ampliada corresponda, da área da foto original, respectivamente, a

(A) 52% e 196%

(B) 52% e 180%

(C) 52% e 140%

(D) 40% e 196%

(E) 40% e 140%

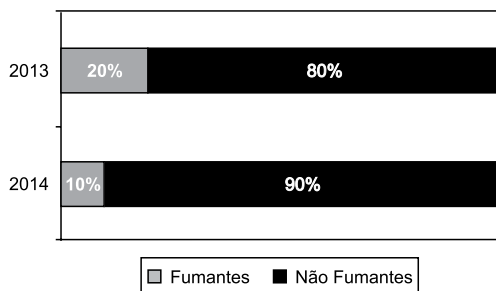
14. Antonio criou uma senha com dois números inteiros positivos A e B, nessa ordem, ambos com dois dígitos. Para a criação da senha, ele utilizou os seguintes critérios:

- A razão entre o mínimo múltiplo comum de A e B e o máximo divisor comum de A e B é 30;
- O mínimo múltiplo comum de A e B supera o máximo divisor comum de A e B em 145 unidades;
- A é menor que B, e a diferença $B - A$ é mínima.

Conhecidos esses critérios, pode-se concluir corretamente que a soma $A + B$ dos números utilizados por Antonio para a criação dessa senha é igual a

- (A) 45.
- (B) 55.
- (C) 65.
- (D) 75.
- (E) 85.

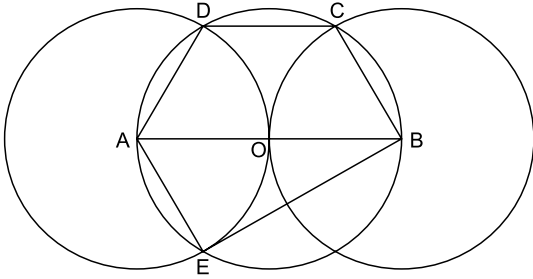
15. O gráfico apresenta informações sobre a relação entre os funcionários fumantes e os não fumantes, que trabalhavam em uma empresa e estavam registrados no último dia útil dos anos 2013 e 2014.



Com base nas informações apresentadas, é correto afirmar que

- (A) em 2013 havia um número de fumantes maior que em 2014.
- (B) em 2014 havia um número de não fumantes maior que em 2013.
- (C) de 2013 para 2014 o número de fumantes diminuiu em 50%.
- (D) em 2013 havia mais funcionários não fumantes que funcionários fumantes.
- (E) em 2014 houve um acréscimo no número de funcionários que deixaram de fumar.

16. Na figura, estão representados um trapézio ABCD, um triângulo ABE e três circunferências com centros nos pontos A, O e B, de mesmo raio. Sabendo-se que as circunferências de centro A e B são tangentes no ponto O, que os pontos A, B, C, D e E pertencem à circunferência de centro O, e que os pontos C, D e E pertencem a duas das circunferências representadas, é possível afirmar corretamente que a razão entre os perímetros do trapézio ABCD e do triângulo ABE é:



- (A) $\frac{5\sqrt{3} - 15}{6}$
- (B) $\frac{\sqrt{3} - 3}{5}$
- (C) $\frac{15 - 5\sqrt{3}}{6}$
- (D) $\frac{3 + \sqrt{3}}{5}$
- (E) $\frac{15 + 5\sqrt{3}}{6}$
17. Para negar, de maneira lógica, a afirmação “Se Marcelo é formado em administração de empresas ou Débora é formada em ciências contábeis, então Sérgio é formado em educação física e Raquel é formada em ciências econômicas”, pode-se corretamente afirmar que
- (A) Marcelo não é formado em administração de empresas e Débora não é formada em ciências contábeis, ou, Sérgio não é formado em educação física e Raquel não é formada em ciências econômicas.
- (B) Se Marcelo não é formado em administração de empresas ou Débora não é formada em ciências contábeis, então Sérgio não é formado em educação física e Raquel não é formada em ciências econômicas.
- (C) Sérgio é formado em educação física e Raquel é formada em ciências econômicas, e, Marcelo não é formado em administração de empresas e Débora não é formada em ciências contábeis.
- (D) Se Sérgio não é formado em educação física e Raquel não é formada em ciências econômicas, então Marcelo não é formado em administração de empresas e Débora não é formada em ciências contábeis.
- (E) Marcelo é formado em administração de empresas ou Débora é formada em ciências contábeis, e, Sérgio não é formado em educação física ou Raquel não é formada em ciências econômicas.

18. Se Paulo é pedreiro, então Quirino não é marceneiro. Rute é analista se, e somente se, Silvia é dentista. Quirino é marceneiro ou Telma é diarista. Constatado que Telma não é diarista e que Silvia não é dentista, é correto concluir que
- (A) Quirino é marceneiro, Rute é analista e Paulo é pedreiro.
 - (B) Quirino é marceneiro, Rute não é analista, e Paulo não é pedreiro.
 - (C) Quirino é marceneiro, Rute é analista, e Paulo não é pedreiro.
 - (D) Quirino não é marceneiro, Rute não é analista, e Paulo é pedreiro.
 - (E) Quirino não é marceneiro, Rute não é analista, e Paulo não é pedreiro.
19. Em um grupo composto por X pessoas, os que têm curso de ensino superior cursaram administração de empresas ou ciências econômicas, apenas. Das X pessoas, sabe-se que exatamente 150 cursaram administração de empresas, que exatamente 100 cursaram administração de empresas e ciências econômicas, que exatamente 230 cursaram apenas um desses dois cursos, e que exatamente 110 não cursaram ciências econômicas. Sendo assim, é possível afirmar, corretamente, que o valor de X é
- (A) 360.
 - (B) 370.
 - (C) 380.
 - (D) 390.
 - (E) 400.
20. A sequência numérica 1, 24, 116, 484, 1 956, ... obedece, a partir do segundo elemento, a uma lei de formação do tipo $a_{n+1} = x \cdot a_n + y$, com x , y e n naturais e n maior ou igual a 1. O próximo elemento dessa sequência é
- (A) 7 844.
 - (B) 7 895.
 - (C) 7 945.
 - (D) 7 994.
 - (E) 8 003.

21. Procuradores suíços fazem busca e apreensão no HSBC em Genebra

Procuradores suíços fizeram hoje (18 de fevereiro) uma busca e apreensão de documentos na filial de Genebra do HSBC. Trata-se de uma operação relacionada a um inquérito que investiga possível participação do banco em crimes – o caso SwissLeaks. Os promotores declararam que estavam investigando o HSBC Private Bank e pessoas suspeitas. O banco informou que estava “cooperando com as autoridades suíças”.

(UOL, 18 fev.15. Disponível em: <<http://goo.gl/sYt ihm>>. Adaptado)

O escândalo SwissLeaks

- (A) comprovou a participação do banco em casos de tráfico de armas e de drogas que, no Brasil, envolvia o grupo do crime organizado que atua a partir dos presídios e os grupos que atuam nos morros e nos subúrbios do Rio de Janeiro.
- (B) trouxe à tona a cumplicidade ativa do banco com os casos de corrupção que têm sido denunciados no Brasil, o que levou a instituição financeira a devolver ao governo brasileiro centenas de milhares de dólares relacionados aos casos de desvio de dinheiro.
- (C) possibilitou que fossem descobertas as relações entre alguns casos de crimes financeiros e a crise econômica de 2008, fruto da especulação financeira baseada na fraude de balanços contábeis e na comercialização de derivativos sem lastro real.
- (D) revelou que o banco lucrou fazendo negócios com traficantes de armas, traficantes de diamantes e outros criminosos internacionais, além de ter sido cúmplice dos crimes de sonegação fiscal, evasão de divisas e lavagem de dinheiro.
- (E) atestou que o banco conseguiu, desde o início, com suas políticas de segurança e transparência, detectar a origem ilegal de recursos oriundos dos mais diferentes países, colaborando ativamente com a denúncia de corruptos e sonegadores.

22. Após certa acomodação em janeiro, o dólar mostrou forte aceleração em relação ao real nas duas primeiras semanas de fevereiro. O movimento foi tão intenso que o real passou a ser a quarta divisa que, no acumulado de 2015, mais perdeu valor em comparação ao dólar, considerando um total de 47 moedas negociadas à vista.

(Estadão, 18 fev.15. Disponível em: <<http://goo.gl/ebCpPO>>. Adaptado)

Um dos fatores que contribuiu para a valorização do dólar foi

- (A) o cenário de recessão persistente nos EUA e na Europa.
- (B) o aumento da inflação nos EUA no final de 2014.
- (C) a possível elevação da taxa de juros nos EUA em 2015.
- (D) a valorização nos últimos anos do preço das *commodities* no mercado internacional.
- (E) o aumento consistente do preço do petróleo desde 2014.

23. O ex-diretor da Petrobras, Renato Duque, preso na 10ª fase da Operação Lava Jato, chegou a Curitiba nesta segunda-feira (16 de março), onde deve ficar detido. Ele teve a prisão preventiva decretada pela Justiça Federal e foi detido junto com outros sete investigados por desvios de dinheiro da Petrobras. Esta é a segunda vez que ele termina preso durante as investigações da Lava Jato. Em dezembro, quando os policiais deflagraram a sétima fase da operação, o ex-diretor foi detido, mas conseguiu um *habeas corpus* dias depois.

(G1, 16 mar.15. Disponível em: <<http://goo.gl/rxhDtP>>. Adaptado)

O que motivou a segunda prisão de Renato Duque foi a denúncia de que o ex-diretor da Petrobras

- (A) tentou obstruir as investigações.
- (B) continua lavando dinheiro no exterior.
- (C) pretende fugir do país.
- (D) segue operando ilegalmente na empresa.
- (E) ameaçou delatar políticos caso não fosse inocentado.

24. Governo anuncia pacote anticorrupção e oficializa entrega ao Congresso

O governo entregou simbolicamente nesta quarta-feira (18 de março) ao Congresso Nacional o chamado “pacote anticorrupção”, conjunto de propostas elaboradas pelo Executivo para inibir e punir irregularidades na administração pública.

(G1, 18 mar.15. Disponível em: <<http://goo.gl/QOi9Fc>> Adaptado)

Entre os principais pontos do pacote está

- (A) o financiamento público de campanha.
- (B) a criminalização do *lobby*.
- (C) a transformação da corrupção em crime hediondo.
- (D) a limitação dos mandatos consecutivos no Legislativo.
- (E) a criminalização da prática de caixa 2.

25. Por fé e lucro, Estado Islâmico promove onda de destruição de patrimônio histórico

O grupo extremista islâmico autodenominado “Estado Islâmico” (EI) começou a destruir mais um sítio arqueológico. A antiga cidade de Hatra foi fundada durante o Império Parta, há mais de dois mil anos, e é considerada pela Unesco, órgão da ONU, um patrimônio histórico da humanidade. Relatos também dão conta de que extremistas incendiaram uma biblioteca, junto com mais de 8 mil manuscritos. Essa onda de destruição de patrimônios históricos e culturais gerou revolta entre autoridades e pesquisadores.

(UOL, 7 mar.15. Disponível em: <<http://goo.gl/0PQqNV>>. Adaptado)

A destruição do patrimônio pelo EI ocorreu

- (A) no Iraque.
- (B) na Palestina.
- (C) no Paquistão.
- (D) no Afeganistão.
- (E) na Líbia.

26. Para controlar o salário gasto em uma prefeitura, foi criada uma planilha do MS-Excel 2010, a partir da sua configuração padrão. A coluna A contém o nome do funcionário, a coluna B contém a idade, a coluna C informa a condição, se o funcionário está aposentado S(Sim) ou N(NÃO), e a coluna D contém o salário pago ao funcionário.


	A	B	C	D
1	Nome do Funcionário	Idade	Aposentado	Salário
2	Alexandre da Silva	55	S	R\$ 5.200,00
3	Beatriz Oliveira de Paiva	52	N	R\$ 3.200,00
4	Claudia Santana	60	S	R\$ 6.200,00
5	Felipe Camargo	59	N	R\$ 2.500,00
6	Gustavo Borges	62	S	R\$ 4.500,00
7	Maria Angelica Silva	50	S	R\$ 4.100,00
8	Paula Nogueira Vison	35	N	R\$ 1.800,00
9				
10	Total de Salários Pagos para Aposentados com idade superior a 58 anos	R\$ 10.700,00		


A fórmula a ser aplicada na célula B10, para calcular o total de salários pagos para os funcionários aposentados e com idade superior a 58 anos, é


- (A) =SOMASES(C2:C8;B2:B8;"S";D2:D8;">58")
 (B) =SOMASES(D2:D8;B2:B8;">58";C2:C8;"S")
 (C) =SOMASES(D2:D8;B2:B8;"S";C2:C8;">58")
 (D) =SOMASE(D2:D8;B2:B8;">58" E "S")
 (E) =SOMASE(D2:D8;B2:B8;">58";C2:C8;"S")
27. No MS-Word 2010, na sua configuração padrão, a guia _____ contém o ícone _____ que permite Inserir Nota de Rodapé. Assinale a alternativa que completa corretamente as lacunas.

(A) Referências ... **AB**¹

(B) Inserir ... **AB**¹

(C) Layout da Página ... 

(D) Inserir ... 

(E) Inserir ... 

28. No MS-PowerPoint 2010, na sua configuração padrão, em um slide que está sendo preparado, a sequência para incluir um botão de ação que permite executar uma outra apresentação do PowerPoint é:

(A) A partir da guia Inserir, no grupo "Links", clique no



ícone Hiperlink e selecione, na opção "Botões de Ação", a figura do ícone desejado e insira no Slide; após esse procedimento, irá aparecer a janela de diálogo chamada "Configurar ação". Escolha a opção "Executar programa", clique no botão "Procurar" e selecione a apresentação que deseja que seja executada.

(B) A partir da guia Inserir, no grupo "Texto", clique no



ícone WordArt e selecione, na opção "Botões de Ação", a figura do ícone desejado e insira no Slide; após esse procedimento, irá aparecer a janela de diálogo chamada "Configurar ação". Escolha a opção "Executar programa", clique no botão "Procurar" e selecione a apresentação que deseja que seja executada.

(C) A partir da guia Inserir, no grupo "Ilustrações", clique



no ícone Formas e selecione, na opção "Botões de Ação", a figura do ícone desejado e insira no Slide; após esse procedimento, irá aparecer a janela de diálogo chamada "Configurar ação". Escolha a opção "Executar programa", clique no botão "Procurar" e selecione a apresentação que deseja que seja executada.

(D) A partir da guia Design, no grupo "Figura", clique no



ícone SmartArt e selecione, na opção "Botões de Ação", a figura do ícone desejado e insira no Slide; após esse procedimento, irá aparecer a janela de diálogo chamada "Configurar ação". Escolha a opção "Executar programa", clique no botão "Procurar" e selecione a apresentação que deseja que seja executada.

(E) A partir da guia Design, no grupo "Figura", clique no



ícone Clip-Art e selecione, na opção "Botões de Ação", a figura do ícone desejado e insira no Slide; após esse procedimento, irá aparecer a janela de diálogo chamada "Configurar ação". Escolha a opção "Executar programa", clique no botão "Procurar" e selecione a apresentação que deseja que seja executada.

29. No Windows 7, a partir da sua configuração padrão, na sua instalação serão criados, por padrão, 4 Bibliotecas, que são:

- (A) Arquivos, Músicas, Fotos e Vídeos.
- (B) Arquivos, Download, Músicas e Vídeos.
- (C) Documentos, Download, Músicas e Vídeos.
- (D) Documentos, Músicas, Imagens e Vídeos.
- (E) Documentos, Músicas, Fotos e Vídeos.

30. Diversas empresas criaram vários navegadores de internet, por exemplo: a Microsoft desenvolveu o navegador _____, já a Google desenvolveu o navegador _____, e a Mozilla desenvolveu o _____.

Assinale a alternativa que preenche, correta e respectivamente, as lacunas.

- (A) Windows Explorer ... Chrome ... Thunderbird
- (B) Windows Explorer ... Safari ... Thunderbird
- (C) Internet Explorer ... Safari ... Firefox
- (D) Internet Explorer ... Chrome ... Thunderbird
- (E) Internet Explorer ... Chrome ... Firefox

CONHECIMENTOS ESPECÍFICOS

31. A Lei Orgânica do Município de São José dos Campos estabelece que

- (A) o respeito ao meio ambiente e o controle da poluição ambiental são de relevância pública, mas não estão incluídos dentre os direitos fundamentais à saúde.
- (B) as ações e os serviços de saúde são de natureza pública e privada, cabendo sua execução aos órgãos públicos e aos serviços privados, respeitadas as diretrizes gerais do Sistema Único de Saúde Municipal – SUS.
- (C) o Conselho Municipal de Saúde é órgão gestor do Sistema Único de Saúde no âmbito do Município.
- (D) é de competência do Município, exercida pela Secretaria Municipal de Finanças, elaborar e atualizar a sua proposta orçamentária do SUS e administrar o Fundo Municipal de Saúde.
- (E) a gestão das unidades de saúde é de responsabilidade dos Conselhos Gestores de Unidades, formados por usuários, trabalhadores de saúde e representantes governamentais.

32. “O número médio de anos que ainda restam para serem vividos pelos indivíduos que sobrevivem até a idade considerada, pressupondo-se que as probabilidades de morte que serviram para o cálculo continuem as mesmas” corresponde ao conceito do indicador de saúde denominado de

- (A) Índice de Swaroop & Uemura.
- (B) Quantificação de Guedes.
- (C) Vida Média.
- (D) Esperança de Vida.
- (E) Anos Potenciais de Vida Perdidos.

33. Com relação à Política Nacional de Atenção Básica, é correto afirmar que

- (A) ela preconiza a utilização de tecnologias de cuidado que sejam simples e com baixa variabilidade, priorizando o manejo das demandas e necessidades de saúde de maior gravidade.
- (B) ela considera o termo Atenção Básica à Saúde mais avançado conceitualmente do que Atenção Primária à Saúde.
- (C) ela tem, na Saúde da Família, sua estratégia prioritária para expansão e consolidação da Atenção Básica.
- (D) suas ações são desenvolvidas por equipes multiprofissionais, coordenadas por médico generalista ou especialista em saúde da família.
- (E) é de responsabilidade exclusiva do governo federal desenvolver, disponibilizar e implantar os sistemas de informações da Atenção Básica.

- 34.** Com base na Portaria nº 1.271, de 6 de junho de 2014, que define a Lista Nacional de Notificação Compulsória de doenças, agravos e eventos de saúde pública nos serviços de saúde públicos e privados em todo o território nacional, é correto afirmar que
- (A) a comunicação dos agravos de notificação compulsória também deve ser realizada pelos responsáveis por estabelecimentos privados educacionais e instituições de pesquisa.
 - (B) o registro dos agravos de notificação compulsória deve ser feito prioritariamente pelos médicos.
 - (C) a notificação compulsória imediata deve ser feita até 12 horas após a confirmação diagnóstica do agravo.
 - (D) só são de notificação obrigatória os casos de dengue que levem à morte.
 - (E) os acidentes de trabalho graves, fatais e em crianças e adolescentes são de notificação semanal.
- 35.** A vacina contra HPV, preconizada no Calendário Nacional de Vacinação do Ministério da Saúde,
- (A) tem como público alvo preferencial as mulheres com vida sexual ativa.
 - (B) tem por objetivo prevenir o câncer de colo do útero, refletindo na redução da incidência e da mortalidade por essa enfermidade.
 - (C) não pode ser administrada concomitantemente com outra vacina.
 - (D) substitui a necessidade de realização do exame de Papanicolaou.
 - (E) deve ser aplicada em dose única, por via intramuscular.
- 36.** Na reunião geral, a enfermeira anunciou os objetivos, as atividades e as metas a serem alcançadas no dia de combate à dengue, e cada um dos presentes se inseriu naturalmente nas atividades propostas em um movimento de apoio recíproco.
- De acordo com Kurgant (2010), a situação descrita apresenta características da formação de
- (A) trabalho especializado: os agentes aceitam a tarefa e se esforçam mutuamente para o alcance dos resultados esperados.
 - (B) trabalho em equipe: os membros planejam, comunicam-se e sentem-se responsáveis pelo sucesso do projeto comum.
 - (C) trabalho de grupo: os membros desenvolvem suas tarefas com competência, preservando as diferenças técnicas do trabalho especializado dos diferentes agentes.
 - (D) trabalho institucional: cada agente acata as decisões dos superiores e assume o padrão de comportamento esperado pela instituição, desempenhando seu papel profissional específico.
 - (E) divisão técnica do trabalho: traduzida pelo parcelamento dos processos implicados na execução de uma atividade em numerosas operações realizadas por diferentes trabalhadores.
- 37.** Na consulta de enfermagem de dengue, o enfermeiro verifica a pressão arterial do paciente deitado ou sentado e em pé, considerando o estreitamento ou convergência de PA um sinal de choque. A pressão arterial é considerada convergente se
- (A) em todas as medidas, o paciente apresenta níveis pressóricos elevados.
 - (B) em todas as medidas, o paciente apresenta níveis pressóricos muito baixos.
 - (C) a diferença entre a PA sistólica e a PA diastólica for igual ou menor do que 20 mmHg.
 - (D) a diferença entre a PA sentado e a PA em pé for igual ou menor do que 20 mmHg.
 - (E) em todas as posições, o paciente mantiver os níveis pressóricos iguais.

38. Os profissionais de saúde de um município estão em greve, atendendo rigorosamente o percentual de atividade estabelecido em Lei. Os enfermeiros de uma equipe da Estratégia Saúde da Família (ESF) resolveram entre si que, enquanto persistisse a greve, eles trabalhariam em regime de plantão para as emergências, mas, nesse período, deixariam de registrar em prontuário as informações relativas à assistência prestada.

Segundo o código de ética de enfermagem, essa decisão está

- (A) correta, pois, pelo código, é proibida apenas a negação da assistência, e não a recusa do registro da mesma.
- (B) correta, pois o código confere aos profissionais de enfermagem o direito a participar de prática multiprofissional e interdisciplinar com responsabilidade, autonomia e liberdade.
- (C) correta, pois o código estabelece o direito profissional de participação em movimentos de defesa da cidadania e das reivindicações por melhores condições de assistência, trabalho e remuneração.
- (D) incorreta, pois o código de ética estabelece o dever profissional de registrar, no prontuário do paciente, as informações inerentes e indispensáveis ao processo de cuidar.
- (E) incorreta, pois o código de ética faculta ao enfermeiro a avaliação criteriosa acerca de sua competência técnica, ética e legal para aceitar atribuições e encargos quando for capaz de desempenho seguro para si e para outrem.

39. De acordo com a Lei nº 7.498/86, que dispõe sobre a regulamentação do exercício de enfermagem, emissão de parecer sobre matéria de enfermagem é

- (A) privativa do enfermeiro.
- (B) compartilhada entre enfermeiros e técnicos de enfermagem.
- (C) livre para todos os profissionais de enfermagem.
- (D) privativa do enfermeiro ocupante de cargo de chefia.
- (E) livre entre os profissionais responsáveis técnicos de enfermagem.

40. Uma criança recebeu a vacina BCG-ID na Unidade Básica de Saúde (UBS) no 5º dia de vida. Quarenta dias após a vacinação, a mãe retorna com a criança à UBS porque percebeu nódulos endurecidos no mesmo braço, próximo à axila, que inicialmente eram pequenos pontos que foram aumentando de tamanho. No local da aplicação da vacina, há uma endureção semelhante, sem a cicatriz típica da vacina. A mãe relata que não ocorreu a “ferida da vacina”, conforme havia sido orientado no momento da aplicação. O diagnóstico e a conduta corretos são, respectivamente:

- (A) ausência de relação temporal que apoie evento adverso de vacinação; encaminhar ao pediatra para investigação de doença ganglionar.
- (B) falha na vacinação; revacinar e registrar no cartão da criança.
- (C) reação de ansiedade relacionada à vacinação; acalmar a mãe e orientar que algumas crianças realmente não desenvolvem a ulceração pós-vacinação com BCG-D.
- (D) erro de imunização decorrente de técnica adequada de aplicação; notificar o procedimento inadequado de vacinação e iniciar tratamento com Isoniazida 10 mg/kg/dia até a regressão das lesões.
- (E) evento adverso pós-vacinação; notificar o EVAP e acompanhar, e orientar retorno, pois pode ocorrer supuração. Não há indicação de tratamento com Isoniazida.

41. Uma criança com um 1 ano e 3 meses viveu no exterior do Brasil dos sete aos 12 meses, quando retornou ao país. No momento da viagem para o exterior, estava com a situação vacinal em dia e, no período em que esteve fora, não recebeu qualquer dose de vacina, exceto a de febre amarela, que foi exigida dez dias antes do embarque de volta. De acordo com o calendário de vacinação da criança de zero a seis anos do Estado de São Paulo, a conduta correta para o atendimento hoje é

- (A) reiniciar o esquema de vacinação, porque a criança está em atraso vacinal desde os sete meses de vida.
- (B) administrar todas as vacinas em atraso desde a última dose recebida e agendar retorno para os reforços programados para os 4 anos de idade.
- (C) administrar todas as vacinas em atraso programadas para os 12 e 15 meses de idade e agendar retorno em 30 dias para completar o esquema previsto para a idade atual.
- (D) não vacinar. Aguardar 28 dias de intervalo recomendado em virtude da vacina contra febre amarela recebida antes do embarque.
- (E) não vacinar. Agendar retorno para os reforços programados para os 5 anos de idade.

42. Para o enfrentamento do aumento de casos de coqueluche em crianças com idade inferior a seis meses, a vacina dpTa (tríplice bacteriana acelular) foi incluída no calendário vacinal da gestante. Essa vacina está indicada para mulheres

- (A) sem vacinação prévia à gestação: duas doses da dupla adulto, com intervalo de no mínimo 30 dias e complementar com a dTpa a partir da 27ª semana de gestação.
- (B) sem vacinação prévia à gestação: três doses de dTpa com intervalo mínimo de 30 dias entre as doses, entre a 27ª e a 36ª semana de gestação.
- (C) com história prévia de esquema completo com dT: reiniciar o esquema vacinal com duas doses de dT e duas de dTpa, até a 27ª semana de gestação.
- (D) com história prévia de vacinação com dT há mais de 2 anos.
- (E) com esquema vacinal de DPTHib completo na infância e reforços de dT há menos de 5 anos.

43. Para garantir a eficiência dos processos de esterilização, a UBS deve contar com um programa de monitoramento para avaliar e controlar todas as suas fases, detectar possíveis falhas e onde elas ocorrem. A preparação padronizada de esporos bacterianos, que, após passar pelo processo de autoclavagem, são incubados para verificação do crescimento e viabilidade dos microrganismos, é um processo de monitoramento por

- (A) identificação de produtos.
- (B) monitoração mecânica.
- (C) indicador químico.
- (D) indicador biológico.
- (E) práticas de trabalho.

44. O gerenciamento de recursos físicos e ambientais integra a administração em enfermagem e apoia-se em resoluções específicas. A RDC 306/04 (ANVISA, 2006) descreve o plano de gerenciamento de resíduos dos serviços de saúde em sete etapas, do momento da geração ao destino final, das quais algumas são apresentadas no quadro a seguir.

ETAPAS DO PLANO DE GERENCIAMENTO DE RESÍDUOS
Segregação – identificação para separação dos resíduos no momento da geração, em função da classificação previamente adotada.
Acondicionamento – guarda dos resíduos em recipientes adequados.
Coleta interna – recolhimento do ponto de geração e transporte até o armazenamento temporário.
Armazenamento – guarda temporária em locais específicos até o recolhimento pelo serviço de coleta.
Tratamento – modificação das características físicas, químicas ou biológicas dos resíduos, eliminando ou minimizando o risco associado a estes.

Estabeleça a relação correta entre a etapa do plano de gerenciamento de resíduos nos serviços de saúde e o procedimento descrito.

- (A) Segregação – Dispensação de embalagens de acondicionamento de seringas e agulhas em lixeira com sacos pretos.
- (B) Acondicionamento – Disposição de insumos perfurocortantes em recipientes impermeáveis e resistentes à ruptura após o uso.
- (C) Coleta interna – Disposição de insumos contaminados com fluidos humanos ou material biológico em lixeiras com sacos brancos leitosos.
- (D) Armazenamento – Recolhimento e transporte de resíduos de acordo com órgão de limpeza urbana.
- (E) Tratamento – Limpeza de rotina da sala de vacina.

45. A supervisão de enfermagem pode ser definida como uma ação de comunicação direta entre supervisor e supervisionado no âmbito da execução do trabalho, pertinente ao gerenciamento dos recursos humanos. Seu produto tem como finalidade direta as ações de

- (A) educação em serviço.
- (B) educação em saúde.
- (C) medidas disciplinares.
- (D) plano de carreira.
- (E) exercício do poder.

46. Frente ao agravamento da situação epidemiológica da dengue em 2014/2015, a Secretaria de Estado da Saúde de São Paulo instituiu protocolo para realizar a triagem dos casos suspeitos, aplicando uma escala de classificação de risco por cores de acordo com sinais e sintomas referidos.

É suspeita de dengue?	Azul
Há tendência a sangramento?	Verde
Há sinais de alarme?	Amarelo
Há sinais de choque?	Vermelho

Por essa escala, um paciente, apresentando um ou mais sinais de alarme, será classificado na cor amarela, que indica

- (A) atendimento de acordo com o horário de chegada.
- (B) atendimento prioritário não urgente.
- (C) urgência, com atendimento o mais rápido possível.
- (D) emergência, com necessidade de atendimento imediato.
- (E) emergência, com necessidade de internação em Unidade de Terapia Intensiva.

47. Homem, 67 anos, portador de Doença Pulmonar Obstrutiva Crônica (DPOC), deu entrada no pronto socorro com quadro de agravamento. Para o diagnóstico de enfermagem "Troca de gases prejudicada relacionada à desigualdade de ventilação e perfusão", o enfermeiro posiciona o paciente em decúbito elevado, reduzindo o esforço respiratório, monitora SpO₂ por oxímetro e inicia oxigenoterapia por cateter, se o nível observado for

- (A) > 95%.
- (B) > 90%.
- (C) ≤ 90%.
- (D) < 85%.
- (E) ≤ 50%.

48. No exame físico do recém-nascido, o enfermeiro utiliza, como referência de normalidade, a relação entre o perímetro cefálico e o torácico, em que o perímetro cefálico

- (A) é maior do que o torácico ao nascer e se iguala a ele aos três meses de vida.
- (B) é maior do que o torácico ao nascer e se iguala a ele aos seis meses de vida.
- (C) se equivale ao torácico ao nascer e aumenta após os seis meses de vida.
- (D) é menor do que o torácico ao nascer e se iguala a ele aos três meses de vida.
- (E) é menor do que o torácico ao nascer e se iguala a ele aos seis meses de vida.

49. Em crianças, o grupo etário de maior prevalência de anemia é aquele composto por pacientes entre 6 e 24 meses de idade, pelo rápido crescimento associado à ingestão frequentemente inadequada de ferro nessa faixa etária. Recomenda-se a suplementação de ferro às crianças, observadas as doses diárias correspondentes à condição individual. A esse respeito, está correto prescrever

- (A) de 1 a 2 mg/kg/dia de ferro dos 12 aos 24 meses, para crianças em aleitamento exclusivo.
- (B) de 2 a 3 mg/kg/dia de ferro dos 4 aos 24 meses, para crianças em aleitamento misto.
- (C) 2 mg/kg/dia a partir de 1 mês de vida por 12 meses, para crianças em uso de fórmulas com leite de vaca não enriquecidas com ferro.
- (D) 2 mg/kg/dia após 1 mês de vida por 2 meses. Depois, de 1 a 2 mg/kg/dia até os 18 meses, para prematuros saudáveis e bebês pequenos para a idade gestacional.
- (E) suplementação de ferro condicionada à presença de anemia comprovada em hemograma solicitado a partir do 4^o mês de vida.

50. De acordo com a regra de Nägele, uma mulher cuja data da última menstruação foi 25.10.2014 terá como data provável do parto

- (A) 15.06.2015.
- (B) 02.07.2015.
- (C) 17.07.2015.
- (D) 25.07.2015.
- (E) 01.08.2015.

51. Relacione, no quadro a seguir, os métodos contraceptivos e as características descritas.

MÉTODO CONTRACEPTIVO	CARACTERÍSTICAS
Diafragma	A. Aumenta a eficácia se utilizado em conjunto com outros métodos contraceptivos.
Geleia espermicida	B. Não é indicado para mulheres com múltiplos parceiros sexuais porque eleva o risco de doença inflamatória pélvica.
DIU	C. Pode ser colocado na hora da relação sexual ou, no máximo, até duas horas antes e retirado de 6 a 8 horas após a última relação sexual.

Está correta a relação estabelecida entre

- (A) Diafragma e as características descritas em A e C.
- (B) Diafragma e as características descritas em B.
- (C) Geleia espermicida e as características descritas em B.
- (D) DIU e as características descritas em C.
- (E) DIU e as características descritas em A.

52. O exame clínico das mamas – ECM – possibilita identificar anormalidades que contribuem para a detecção precoce do câncer de mama. A seu respeito, está correto afirmar que
- (A) o ECM tem alta sensibilidade para detecção de tumores de mama em todas as fases de desenvolvimento.
 - (B) o exame é composto por dois tipos de inspeção: a estática ou inspeção visual e a dinâmica, em que ocorre a palpação.
 - (C) a pele com aspecto de casca de laranja e a proeminência venosa constituem achados de normalidade anatômica.
 - (D) a palpação das mamas abrange o exame de linfonodos axilares, supra e infraclaviculares, preferentemente com a mulher em decúbito lateral e os braços estendidos ao lado do corpo.
 - (E) a detecção de linfonodos duros e pouco móveis ou descarga papilar espontânea e unilateral, aquosa ou não, constitui sinal de alerta para prosseguimento da investigação.
53. Adulto de 56 anos, IMC 28 kg/m², PAS 140mmHg – PAD 90mmHg. Na consulta de Enfermagem, deverá ser orientado em relação ao tratamento não medicamentoso com ênfase na perda de peso, tendo como meta IMC entre 20 e 24 kg/m². A perda ponderal é uma diretriz no tratamento não medicamentoso porque
- (A) é a conduta com maior impacto para redução dos níveis pressóricos.
 - (B) é uma condicionante para o paciente iniciar atividades físicas regulares.
 - (C) impede a instalação de comorbidades como *Diabetes mellitus*.
 - (D) eleva a autoestima do paciente.
 - (E) reduz o custo do tratamento.
54. A depressão incide em todos os grupos etários de uma população, e sua evolução e desfecho podem ser modificados se a doença for diagnosticada precocemente. Por essa razão, o enfermeiro da Atenção Básica deve estar atento aos sinais de depressão, entre eles,
- (A) alucinações olfativas.
 - (B) repetição de comportamentos ritualistas.
 - (C) catatonia.
 - (D) tristeza diante de perdas.
 - (E) isolamento social.
55. A intoxicação oral por chumbinho (carbamato) é uma condição clínica emergencial que tem grande tendência à alta mortalidade relacionada ao diagnóstico tardio e à conduta inadequada dos profissionais de saúde. A intervenção específica no atendimento emergencial nesses casos inclui
- (A) enema com solução fisiológica.
 - (B) alimentação parenteral por bomba de infusão.
 - (C) sondagem nasogástrica e aplicação de carvão ativado.
 - (D) posicionamento do paciente em decúbito lateral.
 - (E) sondagem vesical de demora.
56. No grupo educativo sobre planejamento familiar com gestantes adolescentes, a enfermeira organizou as cadeiras em semicírculo e sentou na cadeira do meio, de onde podia ver e ser vista por todas as participantes. Ao escolher essa posição, ela se colocou na linha do olhar das adolescentes, favorecendo o estabelecimento da confiança mútua. No campo da relação paciente/profissional, a redução da distância entre os interlocutores é um dos sinais característicos da comunicação
- (A) verbal.
 - (B) não verbal.
 - (C) simbólica.
 - (D) formal.
 - (E) informal.
57. O educador Paulo Freire disse que “a educação não transforma o mundo. A educação muda as pessoas. As pessoas mudam o mundo.” É correto afirmar, então, que Paulo Freire entendia a educação em saúde como caminho para
- (A) a aquisição de habilidades para o trabalho.
 - (B) o desenvolvimento de autonomia das pessoas para decisões.
 - (C) a hierarquização das pessoas segundo seu conhecimento.
 - (D) a formação acadêmica e ascensão social.
 - (E) o domínio de tecnologia e independência financeira.
58. Ao adentrar à casa, uma enfermeira se deu conta da vulnerabilidade da família. Suas necessidades básicas não estavam sendo atendidas, e as mudanças necessárias poderiam demorar.
- Essa reflexão sobre a visita domiciliar a um idoso acamado caracteriza a visita domiciliar como instrumento de enfermagem para
- (A) certificar a real exclusão social da clientela.
 - (B) agendar consultas médicas e de enfermagem.
 - (C) contextualizar o plano terapêutico familiar.
 - (D) relacionar as patologias que acometem a família.
 - (E) inspecionar a adesão ao tratamento prescrito.

- 59.** O trabalho do enfermeiro se insere no processo de trabalho das equipes de Atenção Básica conforme disposto na Portaria nº 2.488, de 21 de outubro de 2011. Dentre as atribuições específicas desse profissional, uma deu maior visibilidade para seu saber específico e impactou diretamente sobre a sua autonomia. Essa atribuição é
- (A) a atenção à saúde nos espaços comunitários.
 - (B) a educação permanente da equipe de enfermagem.
 - (C) o gerenciamento das atividades desenvolvidas pelos agentes comunitários de saúde.
 - (D) a consulta de enfermagem conforme protocolos e disposições legais da profissão.
 - (E) o gerenciamento dos insumos necessários para o funcionamento da Unidade Básica de Saúde.
- 60.** A vacinação do idoso em domicílio, inclusive de idosos abrigados e acolhidos por instituições públicas, filantrópicas ou sem fins lucrativos e eventualmente conveniadas com o Poder Público, nos meios urbano e rural, é desenvolvida pelos serviços de Atenção Básica em razão de
- (A) a unidade de saúde dispor de equipes em quantidade suficiente para oferecer este benefício.
 - (B) ser um dispositivo do Programa Nacional de Imunização, restrito à vacinação anual contra Influenza.
 - (C) ser uma atribuição específica das equipes de saúde que atuam na Estratégia Saúde da Família, que abrange idosos residentes dentro dos limites da área adscrita.
 - (D) ser um dispositivo da política nacional de humanização do Sistema Único de Saúde – SUS, que reconhece as condições iníquas de saúde e vida dos idosos nas áreas de exclusão social.
 - (E) ser um direito, garantido no Estatuto do Idoso, referente ao atendimento domiciliar, para a população que dele necessitar e esteja impossibilitada de se locomover.

