

PREFEITURA MUNICIPAL DE SÃO JOSÉ DOS CAMPOS

CONCURSO PÚBLICO

019. PROVA OBJETIVA

ANALISTA EM SAÚDE – ENFERMEIRO DO TRABALHO

- ◆ Você recebeu sua folha de respostas e este caderno contendo 60 questões objetivas.
- ◆ Confira seus dados impressos na capa deste caderno e na folha de respostas.
- ◆ Quando for permitido abrir o caderno, verifique se está completo ou se apresenta imperfeições. Caso haja algum problema, informe ao fiscal da sala.
- ◆ Leia cuidadosamente todas as questões e escolha a resposta que você considera correta.
- ◆ Marque, na folha de respostas, com caneta de tinta azul ou preta, a letra correspondente à alternativa que você escolheu.
- ◆ A duração da prova é de 3 horas e 30 minutos, já incluído o tempo para o preenchimento da folha de respostas.
- ◆ Só será permitida a saída definitiva da sala e do prédio após transcorridos 75% do tempo de duração da prova.
- ◆ Ao sair, você entregará ao fiscal a folha de respostas e este caderno, podendo levar apenas o rascunho de gabarito, localizado em sua carteira, para futura conferência.
- ◆ Até que você saia do prédio, todas as proibições e orientações continuam válidas.

AGUARDE A ORDEM DO FISCAL PARA ABRIR ESTE CADERNO DE QUESTÕES.

Nome do candidato _____

Prédio _____

Sala _____

Carteira _____

Inscrição _____

CONHECIMENTOS GERAIS

LÍNGUA PORTUGUESA

Leia o texto para responder às questões de números **01** a **03**.

Invista em companhia para mudar hábitos

Como ter hábitos de vida mais saudáveis e perder peso com mais facilidade? Além da combinação clássica de mais atividade física com melhor alimentação, dois novos estudos sugerem que topar o desafio na companhia do parceiro ou de um grupo pode fazer toda a diferença.

No primeiro trabalho, da Universidade College of London, do Reino Unido, especialistas avaliaram mais de 3.700 casais com idade igual ou superior a 50 anos. Concluíram que é muito mais fácil parar de fumar, perder peso e fazer exercícios quando a cara-metade também arregança as mangas e compra a briga.

Só para citar um exemplo: 50% das mulheres que fumavam conseguiram largar o cigarro quando o companheiro tentou junto. Entre as mulheres cujo parceiro já era um ex-fumante (portanto não a acompanhou na tentativa), só 17% conseguiram parar. Entre aquelas cujo marido continuou a fumar, o índice de sucesso ficou em apenas 8%.

Num outro trabalho, da Universidade de East Anglia, também do Reino Unido, pesquisadores revisaram 42 estudos envolvendo mais de 1.800 pessoas de 14 países e constataram que fazer atividade física em grupo diminui as condições que ameaçam a saúde, como doença coronariana, derrames, depressão e até alguns tipos de câncer.

Para os especialistas, caminhar em grupo faz as pessoas se exercitarem por mais tempo do que fariam sozinhas, além de estimular treinos mais vigorosos. As atividades coletivas também mostram ganhos psicológicos. Os praticantes ficam menos isolados. O sentimento de pertencimento aumenta o bem-estar e a sensação de apoio emocional. A combinação de benefícios físicos e psicológicos pode reduzir sintomas depressivos e estresse.

Para muitos dos homens e mulheres pesquisados, os grupos podem facilitar a aderência à atividade física regular e converter as caminhadas num novo hábito de vida. Quer seja na companhia do parceiro ou de um grupo, fica mais fácil vencer as resistências e encarar a mudança.

(Jairo Bouer. *Época*, 02.02.2015. Adaptado)

01. De acordo com as informações do texto, é correto afirmar que

- (A) a prática de exercícios físicos na companhia de parentes e amigos é comprovadamente mais eficaz para melhorar a saúde que seguir uma alimentação balanceada.
- (B) o hábito de caminhar em grupo levou muitos indivíduos a se dedicarem a treinos mais intensos e vigorosos, situação que tem preocupado médicos cardiologistas.
- (C) os pesquisadores constataram, com base na observação de 1.800 indivíduos, que os casais ingleses que se exercitavam em grupo superaram doenças como depressão e câncer.
- (D) a atividade física, praticada de forma regular e coletiva, torna os indivíduos psicologicamente mais saudáveis, pois pertencer a um grupo reduz a sensação de isolamento.
- (E) as mulheres, tanto as jovens como as de meia-idade, obtiveram maior sucesso para abandonar o cigarro quando receberam o apoio do companheiro.

02. Considere a frase do terceiro parágrafo:

Entre as mulheres cujo parceiro já era um ex-fumante (portanto não a acompanhou na tentativa), só 17% conseguiram parar.

Assinale a alternativa em que essa frase está reescrita de acordo com a norma-padrão e sem alteração do sentido do texto.

- (A) Entre as mulheres com quem o parceiro já era um ex-fumante (no entanto não a acompanhou no teste), só 17% conseguiram reduzir.
- (B) Entre as mulheres com quem o parceiro já era um ex-fumante (por conseguinte não a acompanhou na empreitada), só 17% conseguiram controlar.
- (C) Entre as mulheres a quem o parceiro já era um ex-fumante (em vista disso não a acompanhou na prova), só 17% conseguiram vitória.
- (D) Entre as mulheres de quem o parceiro já era um ex-fumante (ou seja, não a acompanhou na disputa), só 17% conseguiram moderar.
- (E) Entre as mulheres de quem o parceiro já era um ex-fumante (por isso não a acompanhou no experimento), só 17% conseguiram sucesso.

03. Assinale a alternativa em que o trecho reescrito apresenta o emprego correto do sinal indicativo de crase.

- (A) Além da combinação clássica de mais atividade física com melhor alimentação... → Além de atrelar mais atividade física à alimentação equilibrada...
- (B) Só para citar um exemplo: 50% das mulheres que fumavam... → Fazendo alusão à uma parte do estudo: 50% das mulheres que fumavam...
- (C) ... pesquisadores revisaram 42 estudos envolvendo mais de 1.800 pessoas... → pesquisadores propuseram-se à analisar 42 estudos envolvendo mais de 1.800 pessoas...
- (D) ... atividade física em grupo diminui as condições que ameaçam a saúde... → atividade física em grupo restringe às condições que ameaçam a saúde...
- (E) ... fica mais fácil vencer as resistências e encarar a mudança. → fica mais fácil opor-se à barreiras e encarar a mudança.

Leia o texto para responder às questões de números 04 a 07.

Competição a toda prova

Interessado em saber como a seleção dos melhores agiria na natureza, o pesquisador William Muir, da Universidade de Purdue, nos Estados Unidos, fez uma experiência com galinhas. Selecionou dois grupos: um natural, em que as aves conviviam normalmente, e outro formado só pelas que mais produziam ovos. Ele queria testar se o isolamento das superprodutivas aumentaria a quantidade de ovos gerada. Após seis gerações, as galinhas do bando natural estavam saudáveis. Mas as do grupo das superaves estavam deprimidas, estressadas e sem botar nenhum ovo – com apenas três sobreviventes. As outras seis tinham sido assassinadas.

A história é usada pela americana Margaret Heffernan, em seu livro *A Bigger Prize: Why Competition Isn't Everything and How We Do Better* ("Um prêmio maior: por que a competição não é tudo e como podemos fazer melhor", numa tradução livre), para demonstrar que a competitividade não é tão boa quanto o mundo dos negócios faz parecer. Segundo a autora, que foi CEO de renomadas empresas de tecnologia, ambientes de trabalho competitivos causam estresse e problemas de relacionamento que não compensam os resultados. Ela cita o caso de Bill Gore que fundou sua indústria química com um modelo hierárquico mais amigável e bateu recordes de patentes. "Pessoas colaborativas tornam as empresas mais inteligentes", diz Margaret.

Para alguns, a competitividade serve para criar uma atmosfera mais produtiva. Jack Welch, ex-presidente da GE, deu fama a seus rankings que dividiam os funcionários entre os 20% potenciais, os 70% medianos e os 10% incompetentes. Para Margaret, essa prática, embora dê lucro, cria cenários que geram ansiedade e estresse. "Qualquer tarefa complexa requer muito de seu cérebro. Mas o estresse prejudica especificamente o funcionamento do córtex pré-frontal, onde os pensamentos ocorrem, e o hipocampo, responsável por coordenar as atividades mentais necessárias para resolver problemas. Quando nos sentimos ameaçados, podemos ter toda a capacidade mental de que precisamos, mas simplesmente não conseguimos articular as ideias", comenta a autora em seu livro.

(Bárbara Nór. *VocêS/A*, janeiro de 2015. Adaptado)

04. Sobre o conteúdo do texto, é correto afirmar que

- (A) o pesquisador William Muir tinha por objetivo provar que a convivência em um ambiente natural levaria as galinhas a produzir quantidade de ovos acima do normal.
- (B) as seis galinhas mais produtivas, pertencentes ao grupo das superaves, ficaram doentes e vieram a morrer vitimadas pelo próprio estresse.
- (C) os indivíduos submetidos a situações constrangedoras e estressantes podem ter bloqueada sua aptidão mental para solucionar impasses.
- (D) os rankings estabelecidos por Jack Welch aumentaram a produtividade da empresa, pois os funcionários não se sentiam discriminados por essa estratégia.
- (E) Bill Gore criou um modelo de gestão administrativa em que aboliu a hierarquia, ou seja, a organização da empresa em diferentes setores.

05. Considerando as opiniões de Margaret Heffernan reproduzidas no texto, assinale a alternativa em que o elemento de coesão em destaque evidencia uma concessão feita por Margaret que, no entanto, não invalida seu ponto de vista sobre competição.

- (A) ... para demonstrar que a competitividade não é tão boa **quanto** o mundo dos negócios faz parecer. (2º parágrafo)
- (B) ... ambientes de trabalho competitivos causam estresse e problemas de relacionamento **que** não compensam os resultados. (2º parágrafo)
- (C) ... fundou sua indústria química com um modelo hierárquico mais amigável **e** bateu recordes de patentes. (2º parágrafo)
- (D) Para Margaret, essa prática, **embora** dê lucro, cria cenários que geram ansiedade e estresse. (3º parágrafo)
- (E) **Quando** nos sentimos ameaçados, podemos ter toda a capacidade mental de que precisamos... (3º parágrafo)

06. Observe o emprego do pronome relativo **onde** no trecho do terceiro parágrafo: *Mas o estresse prejudica especificamente o funcionamento do córtex pré-frontal, onde os pensamentos ocorrem...*

Esse pronome também está corretamente empregado em:

- (A) Aquele foi um período de sua vida **onde** ele se sentiu muito entusiasmado com seus projetos.
- (B) Esta instituição, reconhecida internacionalmente e **onde** estudaram famosos arquitetos, fará a restauração da propriedade.
- (C) Nos próximos meses, **onde** todos os condôminos se comprometeram a colaborar, pretende-se 20% de economia no consumo de água.
- (D) Nossos avós paternos nos contaram que se conheceram na França em 1918, ano **onde** terminou a Primeira Guerra.
- (E) Para a entrevista de trabalho, ela optou por um vestido chamativo **onde** deveria ter optado por uma roupa mais discreta.

07. Assinale a alternativa em que o pronome substitui corretamente a expressão em destaque e atende às regras de colocação estabelecidas pela norma-padrão.

- (A) ... e outro formado só pelas que mais produziam **ovos**. → produziam-nos.
- (B) ... o isolamento das superprodutivas aumentaria a **quantidade de ovos gerada**. → aumentaria-a.
- (C) "Pessoas colaborativas tornam **as empresas** mais inteligentes"... → tornam-lhes mais inteligentes.
- (D) Para alguns, a competitividade serve para criar **uma atmosfera mais produtiva**. → lhe criar.
- (E) ... deu fama a seus rankings que dividiam **os funcionários** entre os 20% potenciais... → os dividiam entre os 20% potenciais...

08. As preposições destacadas estão empregadas de acordo com a norma-padrão em:

- (A) Embora seja inerente **com** o ser humano desejar ser bem-sucedido profissionalmente, é uma situação que, muitas vezes, implica **em** desgaste emocional.
- (B) Uma existência rica **em** amizades que nos incentiva **da** sociabilidade é um privilégio que se deve cultivar.
- (C) Há pessoas que se lamentam **da** falta de predisposição para realizar certas atividades, entretanto são avessas **a** exercícios físicos.
- (D) O livro de Margaret Hefferann pode ser útil **com** os gestores que pretendem se contrapor **das** práticas administrativas convencionais.
- (E) As galinhas superprodutivas procederam **ao** extermínio de algumas companheiras visto que se encontravam em ambiente propício **em** competição.


09. Considere o texto:

Até o meio-dia e _____ deste domingo, já _____ participado das primeiras competições paraolímpicas cerca de 40% dos atletas inscritos. Desse grupo, muitos são atletas sul-americanos que, _____ semanas, _____ treinando no país-sede.

Os termos que preenchem, correta e respectivamente, as lacunas do texto são:

- (A) meia ... havia ... fazem ... vem
- (B) meia ... haviam ... faz ... vêm
- (C) meio ... havia ... fazem ... vêm
- (D) meio ... haviam ... faz ... vem
- (E) meio ... haviam ... fazem ... vêm

10. Observe a tira em que estão presentes os amigos Frank (de calça escura) e Ernest (de calça xadrez).



(Bob Thaves. Acessível em <http://goo.gl/Wa78h4>)

Analisando a tira, é correto afirmar que ocorre a

- (A) oposição entre as opiniões de Frank e Ernest sobre os políticos e o emprego dos verbos *fundar* e *afundar* em sentido próprio.
- (B) comparação entre o presente e o passado e o emprego de linguagem predominantemente informal na dedicatória e na fala da personagem.
- (C) comparação entre o presente e o passado e o emprego dos verbos *fundar* e *afundar* que apresentam sentidos opostos.
- (D) identidade entre fundador e dupla de amigos quanto à aparência sóbria e alinhada e o emprego dos verbos *fundar* e *afundar* pela semelhança de sentido.
- (E) identidade entre fundador e dupla de amigos quanto à posição desempenhada na sociedade e o emprego do sarcasmo, da parte de Frank, para caracterizar os políticos de todas as gerações.

11. Em uma instituição de ensino superior, a nota semestral de cada aluno é calculada pela média aritmética ponderada, sendo de peso 4 a nota da primeira prova e de peso 6 a nota da segunda prova. Ana, aluna dessa instituição, tirou, na primeira prova, nota 5,5.

Se a nota mínima para a aprovação semestral nessa instituição é 7,0, então é verdade que Ana deverá tirar na segunda prova, para ser aprovada, a nota mínima que corresponda, da nota da primeira prova, a

(A) $\frac{15}{13}$

(B) $\frac{14}{11}$

(C) $\frac{16}{11}$

(D) $\frac{7}{9}$

(E) $\frac{8}{9}$

12. Ontem, Cláudio vendeu cada unidade de um produto a x reais e obteve, com a venda de uma quantidade numericamente igual a $(x + 15)$ unidades, um lucro de R\$ 320,00, somente com essa venda. Sabendo-se que o custo de cada unidade vendida por Cláudio é R\$ 17,00, é correto afirmar que o custo total que ele teve com a quantidade de produtos vendidos foi de

(A) R\$ 380,00

(B) R\$ 425,00

(C) R\$ 480,00

(D) R\$ 525,00

(E) R\$ 680,00

13. Uma fotografia no formato retangular tem o comprimento excedendo em 30% a sua altura. Deseja-se fazer uma ampliação dessa fotografia, de modo que a altura, na foto ampliada, corresponda a 140% da altura da foto original e que a razão entre as dimensões da foto ampliada seja a mesma razão entre as dimensões da foto original. Nessas condições, é correto afirmar que a diferença entre o comprimento da fotografia ampliada e o comprimento da fotografia original corresponda, da altura da fotografia original, assim como a área da foto ampliada corresponda, da área da foto original, respectivamente, a

(A) 52% e 196%

(B) 52% e 180%

(C) 52% e 140%

(D) 40% e 196%

(E) 40% e 140%

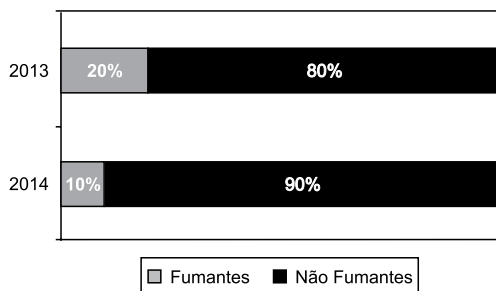
14. Antonio criou uma senha com dois números inteiros positivos A e B, nessa ordem, ambos com dois dígitos. Para a criação da senha, ele utilizou os seguintes critérios:

- A razão entre o mínimo múltiplo comum de A e B e o máximo divisor comum de A e B é 30;
- O mínimo múltiplo comum de A e B supera o máximo divisor comum de A e B em 145 unidades;
- A é menor que B, e a diferença $B - A$ é mínima.

Conhecidos esses critérios, pode-se concluir corretamente que a soma $A + B$ dos números utilizados por Antonio para a criação dessa senha é igual a

- (A) 45.
- (B) 55.
- (C) 65.
- (D) 75.
- (E) 85.

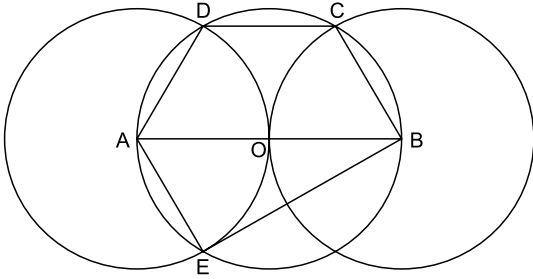
15. O gráfico apresenta informações sobre a relação entre os funcionários fumantes e os não fumantes, que trabalhavam em uma empresa e estavam registrados no último dia útil dos anos 2013 e 2014.



Com base nas informações apresentadas, é correto afirmar que

- (A) em 2013 havia um número de fumantes maior que em 2014.
- (B) em 2014 havia um número de não fumantes maior que em 2013.
- (C) de 2013 para 2014 o número de fumantes diminuiu em 50%.
- (D) em 2013 havia mais funcionários não fumantes que funcionários fumantes.
- (E) em 2014 houve um acréscimo no número de funcionários que deixaram de fumar.

16. Na figura, estão representados um trapézio ABCD, um triângulo ABE e três circunferências com centros nos pontos A, O e B, de mesmo raio. Sabendo-se que as circunferências de centro A e B são tangentes no ponto O, que os pontos A, B, C, D e E pertencem à circunferência de centro O, e que os pontos C, D e E pertencem a duas das circunferências representadas, é possível afirmar corretamente que a razão entre os perímetros do trapézio ABCD e do triângulo ABE é:



- (A) $\frac{5\sqrt{3} - 15}{6}$
- (B) $\frac{\sqrt{3} - 3}{5}$
- (C) $\frac{15 - 5\sqrt{3}}{6}$
- (D) $\frac{3 + \sqrt{3}}{5}$
- (E) $\frac{15 + 5\sqrt{3}}{6}$
17. Para negar, de maneira lógica, a afirmação “Se Marcelo é formado em administração de empresas ou Débora é formada em ciências contábeis, então Sérgio é formado em educação física e Raquel é formada em ciências econômicas”, pode-se corretamente afirmar que
- (A) Marcelo não é formado em administração de empresas e Débora não é formada em ciências contábeis, ou, Sérgio não é formado em educação física e Raquel não é formada em ciências econômicas.
- (B) Se Marcelo não é formado em administração de empresas ou Débora não é formada em ciências contábeis, então Sérgio não é formado em educação física e Raquel não é formada em ciências econômicas.
- (C) Sérgio é formado em educação física e Raquel é formada em ciências econômicas, e, Marcelo não é formado em administração de empresas e Débora não é formada em ciências contábeis.
- (D) Se Sérgio não é formado em educação física e Raquel não é formada em ciências econômicas, então Marcelo não é formado em administração de empresas e Débora não é formada em ciências contábeis.
- (E) Marcelo é formado em administração de empresas ou Débora é formada em ciências contábeis, e, Sérgio não é formado em educação física ou Raquel não é formada em ciências econômicas.

18. Se Paulo é pedreiro, então Quirino não é marceneiro. Rute é analista se, e somente se, Silvia é dentista. Quirino é marceneiro ou Telma é diarista. Constatado que Telma não é diarista e que Silvia não é dentista, é correto concluir que
- (A) Quirino é marceneiro, Rute é analista e Paulo é pedreiro.
 - (B) Quirino é marceneiro, Rute não é analista, e Paulo não é pedreiro.
 - (C) Quirino é marceneiro, Rute é analista, e Paulo não é pedreiro.
 - (D) Quirino não é marceneiro, Rute não é analista, e Paulo é pedreiro.
 - (E) Quirino não é marceneiro, Rute não é analista, e Paulo não é pedreiro.
19. Em um grupo composto por X pessoas, os que têm curso de ensino superior cursaram administração de empresas ou ciências econômicas, apenas. Das X pessoas, sabe-se que exatamente 150 cursaram administração de empresas, que exatamente 100 cursaram administração de empresas e ciências econômicas, que exatamente 230 cursaram apenas um desses dois cursos, e que exatamente 110 não cursaram ciências econômicas. Sendo assim, é possível afirmar, corretamente, que o valor de X é
- (A) 360.
 - (B) 370.
 - (C) 380.
 - (D) 390.
 - (E) 400.
20. A sequência numérica 1, 24, 116, 484, 1 956, ... obedece, a partir do segundo elemento, a uma lei de formação do tipo $a_{n+1} = x \cdot a_n + y$, com x , y e n naturais e n maior ou igual a 1. O próximo elemento dessa sequência é
- (A) 7 844.
 - (B) 7 895.
 - (C) 7 945.
 - (D) 7 994.
 - (E) 8 003.

21. Procuradores suíços fazem busca e apreensão no HSBC em Genebra

Procuradores suíços fizeram hoje (18 de fevereiro) uma busca e apreensão de documentos na filial de Genebra do HSBC. Trata-se de uma operação relacionada a um inquérito que investiga possível participação do banco em crimes – o caso SwissLeaks. Os promotores declararam que estavam investigando o HSBC Private Bank e pessoas suspeitas. O banco informou que estava “cooperando com as autoridades suíças”.

(UOL, 18 fev.15. Disponível em: <<http://goo.gl/sYtthm>>. Adaptado)

O escândalo SwissLeaks

- (A) comprovou a participação do banco em casos de tráfico de armas e de drogas que, no Brasil, envolvia o grupo do crime organizado que atua a partir dos presídios e os grupos que atuam nos morros e nos subúrbios do Rio de Janeiro.
- (B) trouxe à tona a cumplicidade ativa do banco com os casos de corrupção que têm sido denunciados no Brasil, o que levou a instituição financeira a devolver ao governo brasileiro centenas de milhares de dólares relacionados aos casos de desvio de dinheiro.
- (C) possibilitou que fossem descobertas as relações entre alguns casos de crimes financeiros e a crise econômica de 2008, fruto da especulação financeira baseada na fraude de balanços contábeis e na comercialização de derivativos sem lastro real.
- (D) revelou que o banco lucrou fazendo negócios com traficantes de armas, traficantes de diamantes e outros criminosos internacionais, além de ter sido cúmplice dos crimes de sonegação fiscal, evasão de divisas e lavagem de dinheiro.
- (E) atestou que o banco conseguiu, desde o início, com suas políticas de segurança e transparência, detectar a origem ilegal de recursos oriundos dos mais diferentes países, colaborando ativamente com a denúncia de corruptos e sonegadores.

22. Após certa acomodação em janeiro, o dólar mostrou forte aceleração em relação ao real nas duas primeiras semanas de fevereiro. O movimento foi tão intenso que o real passou a ser a quarta divisa que, no acumulado de 2015, mais perdeu valor em comparação ao dólar, considerando um total de 47 moedas negociadas à vista.

(Estadão, 18 fev.15. Disponível em: <<http://goo.gl/ebCpPO>>. Adaptado)

Um dos fatores que contribuiu para a valorização do dólar foi

- (A) o cenário de recessão persistente nos EUA e na Europa.
- (B) o aumento da inflação nos EUA no final de 2014.
- (C) a possível elevação da taxa de juros nos EUA em 2015.
- (D) a valorização nos últimos anos do preço das *commodities* no mercado internacional.
- (E) o aumento consistente do preço do petróleo desde 2014.

23. O ex-diretor da Petrobras, Renato Duque, preso na 10ª fase da Operação Lava Jato, chegou a Curitiba nesta segunda-feira (16 de março), onde deve ficar detido. Ele teve a prisão preventiva decretada pela Justiça Federal e foi detido junto com outros sete investigados por desvios de dinheiro da Petrobras. Esta é a segunda vez que ele termina preso durante as investigações da Lava Jato. Em dezembro, quando os policiais deflagraram a sétima fase da operação, o ex-diretor foi detido, mas conseguiu um *habeas corpus* dias depois.

(G1, 16 mar.15. Disponível em: <<http://goo.gl/rxhDtP>>. Adaptado)

O que motivou a segunda prisão de Renato Duque foi a denúncia de que o ex-diretor da Petrobras

- (A) tentou obstruir as investigações.
- (B) continua lavando dinheiro no exterior.
- (C) pretende fugir do país.
- (D) segue operando ilegalmente na empresa.
- (E) ameaçou delatar políticos caso não fosse inocentado.

24. Governo anuncia pacote anticorrupção e oficializa entrega ao Congresso

O governo entregou simbolicamente nesta quarta-feira (18 de março) ao Congresso Nacional o chamado “pacote anticorrupção”, conjunto de propostas elaboradas pelo Executivo para inibir e punir irregularidades na administração pública.

(G1, 18 mar.15. Disponível em: <<http://goo.gl/QOi9Fc>> Adaptado)

Entre os principais pontos do pacote está

- (A) o financiamento público de campanha.
- (B) a criminalização do *lobby*.
- (C) a transformação da corrupção em crime hediondo.
- (D) a limitação dos mandatos consecutivos no Legislativo.
- (E) a criminalização da prática de caixa 2.

25. Por fé e lucro, Estado Islâmico promove onda de destruição de patrimônio histórico

O grupo extremista islâmico autodenominado “Estado Islâmico” (EI) começou a destruir mais um sítio arqueológico. A antiga cidade de Hatra foi fundada durante o Império Parta, há mais de dois mil anos, e é considerada pela Unesco, órgão da ONU, um patrimônio histórico da humanidade. Relatos também dão conta de que extremistas incendiaram uma biblioteca, junto com mais de 8 mil manuscritos. Essa onda de destruição de patrimônios históricos e culturais gerou revolta entre autoridades e pesquisadores.

(UOL, 7 mar.15. Disponível em: <<http://goo.gl/0PQqNV>>. Adaptado)

A destruição do patrimônio pelo EI ocorreu

- (A) no Iraque.
- (B) na Palestina.
- (C) no Paquistão.
- (D) no Afeganistão.
- (E) na Líbia.

26. Para controlar o salário gasto em uma prefeitura, foi criada uma planilha do MS-Excel 2010, a partir da sua configuração padrão. A coluna A contém o nome do funcionário, a coluna B contém a idade, a coluna C informa a condição, se o funcionário está aposentado S(Sim) ou N(NÃO), e a coluna D contém o salário pago ao funcionário.


	A	B	C	D
1	Nome do Funcionário	Idade	Aposentado	Salário
2	Alexandre da Silva	55	S	R\$ 5.200,00
3	Beatriz Oliveira de Paiva	52	N	R\$ 3.200,00
4	Claudia Santana	60	S	R\$ 6.200,00
5	Felipe Camargo	59	N	R\$ 2.500,00
6	Gustavo Borges	62	S	R\$ 4.500,00
7	Maria Angelica Silva	50	S	R\$ 4.100,00
8	Paula Nogueira Vison	35	N	R\$ 1.800,00
9				
10	Total de Salários Pagos para Aposentados com idade superior a 58 anos	R\$ 10.700,00		


A fórmula a ser aplicada na célula B10, para calcular o total de salários pagos para os funcionários aposentados e com idade superior a 58 anos, é


- (A) =SOMASES(C2:C8;B2:B8;"S";D2:D8;">58")
 (B) =SOMASES(D2:D8;B2:B8;">58";C2:C8;"S")
 (C) =SOMASES(D2:D8;B2:B8;"S";C2:C8;">58")
 (D) =SOMASE(D2:D8;B2:B8;">58" E "S")
 (E) =SOMASE(D2:D8;B2:B8;">58";C2:C8;"S")
27. No MS-Word 2010, na sua configuração padrão, a guia _____ contém o ícone _____ que permite Inserir Nota de Rodapé. Assinale a alternativa que completa corretamente as lacunas.

(A) Referências ... **AB**¹

(B) Inserir ... **AB**¹

(C) Layout da Página ... 

(D) Inserir ... 

(E) Inserir ... 

28. No MS-PowerPoint 2010, na sua configuração padrão, em um slide que está sendo preparado, a sequência para incluir um botão de ação que permite executar uma outra apresentação do PowerPoint é:

(A) A partir da guia Inserir, no grupo "Links", clique no



ícone Hiperlink e selecione, na opção "Botões de Ação", a figura do ícone desejado e insira no Slide; após esse procedimento, irá aparecer a janela de diálogo chamada "Configurar ação". Escolha a opção "Executar programa", clique no botão "Procurar" e selecione a apresentação que deseja que seja executada.

(B) A partir da guia Inserir, no grupo "Texto", clique no



ícone WordArt e selecione, na opção "Botões de Ação", a figura do ícone desejado e insira no Slide; após esse procedimento, irá aparecer a janela de diálogo chamada "Configurar ação". Escolha a opção "Executar programa", clique no botão "Procurar" e selecione a apresentação que deseja que seja executada.

(C) A partir da guia Inserir, no grupo "Ilustrações", clique



no ícone Formas e selecione, na opção "Botões de Ação", a figura do ícone desejado e insira no Slide; após esse procedimento, irá aparecer a janela de diálogo chamada "Configurar ação". Escolha a opção "Executar programa", clique no botão "Procurar" e selecione a apresentação que deseja que seja executada.

(D) A partir da guia Design, no grupo "Figura", clique no



ícone SmartArt e selecione, na opção "Botões de Ação", a figura do ícone desejado e insira no Slide; após esse procedimento, irá aparecer a janela de diálogo chamada "Configurar ação". Escolha a opção "Executar programa", clique no botão "Procurar" e selecione a apresentação que deseja que seja executada.

(E) A partir da guia Design, no grupo "Figura", clique no



ícone Clip-Art e selecione, na opção "Botões de Ação", a figura do ícone desejado e insira no Slide; após esse procedimento, irá aparecer a janela de diálogo chamada "Configurar ação". Escolha a opção "Executar programa", clique no botão "Procurar" e selecione a apresentação que deseja que seja executada.

29. No Windows 7, a partir da sua configuração padrão, na sua instalação serão criados, por padrão, 4 Bibliotecas, que são:

- (A) Arquivos, Músicas, Fotos e Vídeos.
- (B) Arquivos, Download, Músicas e Vídeos.
- (C) Documentos, Download, Músicas e Vídeos.
- (D) Documentos, Músicas, Imagens e Vídeos.
- (E) Documentos, Músicas, Fotos e Vídeos.

30. Diversas empresas criaram vários navegadores de internet, por exemplo: a Microsoft desenvolveu o navegador _____, já a Google desenvolveu o navegador _____, e a Mozilla desenvolveu o _____.

Assinale a alternativa que preenche, correta e respectivamente, as lacunas.

- (A) Windows Explorer ... Chrome ... Thunderbird
- (B) Windows Explorer ... Safari ... Thunderbird
- (C) Internet Explorer ... Safari ... Firefox
- (D) Internet Explorer ... Chrome ... Thunderbird
- (E) Internet Explorer ... Chrome ... Firefox

CONHECIMENTOS ESPECÍFICOS

31. A Lei Orgânica do Município de São José dos Campos estabelece que

- (A) o respeito ao meio ambiente e o controle da poluição ambiental são de relevância pública, mas não estão incluídos dentre os direitos fundamentais à saúde.
- (B) as ações e os serviços de saúde são de natureza pública e privada, cabendo sua execução aos órgãos públicos e aos serviços privados, respeitadas as diretrizes gerais do Sistema Único de Saúde Municipal – SUS.
- (C) o Conselho Municipal de Saúde é órgão gestor do Sistema Único de Saúde no âmbito do Município.
- (D) é de competência do Município, exercida pela Secretaria Municipal de Finanças, elaborar e atualizar a sua proposta orçamentária do SUS e administrar o Fundo Municipal de Saúde.
- (E) a gestão das unidades de saúde é de responsabilidade dos Conselhos Gestores de Unidades, formados por usuários, trabalhadores de saúde e representantes governamentais.

32. “O número médio de anos que ainda restam para serem vividos pelos indivíduos que sobrevivem até a idade considerada, pressupondo-se que as probabilidades de morte que serviram para o cálculo continuem as mesmas” corresponde ao conceito do indicador de saúde denominado de

- (A) Índice de Swaroop & Uemura.
- (B) Quantificação de Guedes.
- (C) Vida Média.
- (D) Esperança de Vida.
- (E) Anos Potenciais de Vida Perdidos.

33. Com relação à Política Nacional de Atenção Básica, é correto afirmar que

- (A) ela preconiza a utilização de tecnologias de cuidado que sejam simples e com baixa variabilidade, priorizando o manejo das demandas e necessidades de saúde de maior gravidade.
- (B) ela considera o termo Atenção Básica à Saúde mais avançado conceitualmente do que Atenção Primária à Saúde.
- (C) ela tem, na Saúde da Família, sua estratégia prioritária para expansão e consolidação da Atenção Básica.
- (D) suas ações são desenvolvidas por equipes multiprofissionais, coordenadas por médico generalista ou especialista em saúde da família.
- (E) é de responsabilidade exclusiva do governo federal desenvolver, disponibilizar e implantar os sistemas de informações da Atenção Básica.

- 34.** Com base na Portaria nº 1.271, de 6 de junho de 2014, que define a Lista Nacional de Notificação Compulsória de doenças, agravos e eventos de saúde pública nos serviços de saúde públicos e privados em todo o território nacional, é correto afirmar que
- (A) a comunicação dos agravos de notificação compulsória também deve ser realizada pelos responsáveis por estabelecimentos privados educacionais e instituições de pesquisa.
 - (B) o registro dos agravos de notificação compulsória deve ser feito prioritariamente pelos médicos.
 - (C) a notificação compulsória imediata deve ser feita até 12 horas após a confirmação diagnóstica do agravo.
 - (D) só são de notificação obrigatória os casos de dengue que levem à morte.
 - (E) os acidentes de trabalho graves, fatais e em crianças e adolescentes são de notificação semanal.
- 35.** A vacina contra HPV, preconizada no Calendário Nacional de Vacinação do Ministério da Saúde,
- (A) tem como público alvo preferencial as mulheres com vida sexual ativa.
 - (B) tem por objetivo prevenir o câncer de colo do útero, refletindo na redução da incidência e da mortalidade por essa enfermidade.
 - (C) não pode ser administrada concomitantemente com outra vacina.
 - (D) substitui a necessidade de realização do exame de Papanicolau.
 - (E) deve ser aplicada em dose única, por via intramuscular.
- 36.** Uma trabalhadora procurou o ambulatório da empresa, apresentando cefaleia intensa, déficit sensório motor e alteração da fala. No atendimento, o enfermeiro do trabalho considerou as ações requeridas, segundo o estabelecido na Linha do Cuidado em AVC/MS, que recomenda
- (A) verificar sinais vitais, proceder venopunção em membro não parético, aplicar escala de avaliação neurológica, como Escala de Glasgow, Cincinnati ou Richmond.
 - (B) encaminhar, rapidamente, para tratamento hospitalar, em até trinta minutos a partir do início dos sintomas, caso contrário não há efetividade dos procedimentos terapêuticos.
 - (C) evitar uso de antitérmicos, mesmo com temperatura axilar maior do que 37,5 °C, para não prejudicar o uso de trombolíticos, como próxima terapêutica a ser instituída no hospital.
 - (D) verificar glicemia capilar, pois a hipoglicemia pode causar sinais focais e simular um AVC.
 - (E) reduzir níveis pressóricos, em todos os casos com pressão arterial sistólica ≥ 160 mmHg ou pressão arterial diastólica ≥ 100 mmHg.
- 37.** Em visitas ao laboratório da instituição, o enfermeiro do trabalho presenciou acidentes com derramamento de material biológico. Com relação a esse tipo de acidente, informou aos trabalhadores que, dentre as normas da ANVISA (2013), orienta-se
- (A) recolher os estilhaços de vidro e plástico em saco de lixo comum.
 - (B) colocar folhas de papel toalha sobre o material derramado e, sobre elas, solução de hipoclorito de sódio a 2% ou cloro ativo e aguardar por quinze minutos.
 - (C) impedir a manipulação no local por, pelo menos, uma hora.
 - (D) recolher o material derramado, as toalhas de papel, as luvas, o material usado na descontaminação e descartar em saco de lixo comum.
 - (E) repetir a descontaminação da área, por três vezes seguidas, friccionando o local com solução de hipoclorito de sódio a 20%.

38. Dois trabalhadores foram atendidos no ambulatório da empresa, com suspeita de dengue. De acordo com o estadiamento da doença, os indivíduos pertencentes ao grupo
- (A) A devem ter acompanhamento ambulatorial, se prova do laço positiva.
 - (B) B devem ter acompanhamento em unidade de saúde com leitos de observação, se presença de sinais de alarme.
 - (C) C devem ter acompanhamento em unidade hospitalar, se apresentarem algum sinal de alarme, e manifestações hemorrágicas presentes ou ausentes.
 - (D) D devem ter acompanhamento, preferencialmente, em unidade com terapia intensiva, se apresentarem sintomas de desconforto respiratório e ausência de sinais de choque.
 - (E) I necessitam de acompanhamento domiciliar até o aparecimento de sinais de alarme.
39. Segundo as VI Diretrizes Brasileiras de Hipertensão (2010), as medidas de pressão arterial requerem cuidados específicos. Pode-se afirmar, sobre as medidas realizadas
- (A) em consultório, que, na primeira avaliação, devem ser obtidas em ambos os braços, e, em caso de diferença, deve-se utilizar como referência o braço com o menor valor para as medidas subsequentes.
 - (B) fora do consultório, que se recomenda que sejam obtidas sempre que possível, para esclarecimento do diagnóstico, identificação da hipertensão do avental branco e da hipertensão mascarada.
 - (C) em gestante, que devem ser obtidas no braço direito, em decúbito lateral direito, sob repouso, por ser mais fidedigna do que a posição sentada, considerando o 3º ruído de Korotkoff como referência da pressão diastólica.
 - (D) em idosos, que, devido ao processo aterosclerótico, a "pseudo-hipertensão" não pode ser detectada pela manobra de Osler, o que dificulta a medida nesses indivíduos.
 - (E) por automedida, que consistem em medidas supervisionadas realizadas em ambulatório, por pacientes ou familiares, não profissionais de saúde; são pouco recomendadas e consideradas fontes de informação precárias, com valores duvidosos.
40. Em orientação à trabalhadora gestante, o enfermeiro do trabalho esclarece que os fatores de risco para diabetes gestacional incluem
- (A) baixa estatura, inferior a 1,5 metro de altura.
 - (B) faixa etária igual ou maior de 29 anos.
 - (C) sobrepeso na infância.
 - (D) oligo-hidrânio na gestação atual.
 - (E) microssomia fetal na gestação atual.
41. Em palestra sobre moléstias transmissíveis, o enfermeiro do trabalho explica que o CHIKV é o vírus causador da febre de chikungunya, considerada doença
- (A) transmissível entre os seres humanos, cuja contaminação em gestantes frequentemente provoca infecção fetal e doença neurológica; não é doença de notificação compulsória, conforme Portaria nº 1.271/2014.
 - (B) transmitida exclusivamente pelo *Aedes aegypti*, originando, imediatamente, a fase aguda, cuja duração é de 20 a 30 dias, sendo que a fase crônica persiste por até dois meses, incluindo cansaço e depressão.
 - (C) incompatível com a dengue, uma vez que o indivíduo não pode contrair as duas doenças simultaneamente; assim como a dengue, é possível contrair a chikungunya por várias vezes, mas esta última manifesta-se de maneira assintomática a partir da segunda contaminação.
 - (D) de tratamento específico para CHIKV, sintomático para o doloroso processo inflamatório articular, caracterizado pela ausência de manifestações como exantemas, erupções maculopapulares, eritema difuso ou lesões vesículo bolhosas.
 - (E) comumente caracterizada, na fase aguda, por febre de início súbito, tipicamente maior que 39 °C e dor articular intensa; podem ocorrer cefaleia, dor difusa nas costas, mialgia, náusea, vômito, poliartrite, erupção cutânea e conjuntivite.
42. Analise a situação: Após receber advertência verbal, o trabalhador compreende que o uso de álcool prejudica o desempenho profissional e que necessita de ajuda no combate à dependência. Considerando que o dependente passa por estágios motivacionais na prontidão para a mudança, nessa situação, configura-se o estágio denominado
- (A) pré-contemplação: sabe que tem problema de dependência, mas está ambivalente para promover mudança, no abandono do uso da substância.
 - (B) contemplação: não identifica o problema de dependência e não tem planos de mudanças, permanece no uso da substância.
 - (C) determinação: percebe que tem problema de dependência e que precisa promover mudanças.
 - (D) manutenção: o dependente está pronto para começar a mudança e abandonar o uso de substâncias.
 - (E) ação: o dependente decide pela mudança, abandona o uso de substâncias e incorpora nova rotina de vida.

43. No treinamento sobre primeiros socorros, foram abordados os fundamentos gerais do atendimento, enfatizando que é necessário proceder a
- (A) avaliação da cena, verificando a segurança do local e do profissional antes de se aproximar e iniciar a assistência; a segurança da pessoa a ser atendida; e a segurança dos demais que se encontram ao redor, nas proximidades do local.
 - (B) avaliação primária, considerada a avaliação inicial, que fornece a impressão geral do estado respiratório, circulatório e neurológico; é o momento indicado para iniciar os cuidados das lesões, abertas e fechadas.
 - (C) avaliação secundária, na qual se realiza a verificação dos sinais vitais e o exame físico criterioso; é o momento indicado para identificar lesões e efetuar o controle de sangramento e hemorragia externa.
 - (D) estabilização manual da cabeça e estabilização da coluna cervical, imediatamente após efetuar a avaliação secundária, em caso de suspeita de trauma.
 - (E) mobilização da vítima em bloco, providenciar transporte e remoção para o serviço de emergência hospitalar, nas emergências clínicas e traumáticas.
44. Um idoso apresentou mal estar súbito, foi amparado pelos colegas e deitado no chão da recepção da empresa. Ao avaliá-lo, o enfermeiro do trabalho identificou a parada cardiorrespiratória e, ao prover o suporte básico de vida, dentre as ações prioritárias na reanimação cardiopulmonar, deve
- (A) efetuar quinze compressões torácicas externas e duas ventilações, durante cinco ciclos ou dois minutos.
 - (B) promover a estabilização da coluna e posicionar o colar cervical, para evitar outros traumas e lesão raquimedular.
 - (C) puncionar dois acessos venosos calibrosos para administrar reposição volêmica e medicamentos, como adrenalina e atropina.
 - (D) efetuar, no mínimo, cem compressões contínuas alternadas com duas ventilações, utilizando bolsa valva-máscara.
 - (E) solicitar o desfibrilador externo automático e instalar assim que disponível.
45. Em conversa com o enfermeiro do trabalho, um trabalhador revela as dificuldades vivenciadas no trabalho em equipe, no setor em que atua como gestor. Visando minimizar o sofrimento e os conflitos no grupo, o enfermeiro do trabalho esclarece o trabalhador sobre os estilos de negociação possíveis de serem adotados, como o estilo
- (A) colaborativo: ser cooperativo, mas não confrontador; é indicado quando o interesse da outra parte no conflito é mais importante, ou quando se pretende obter crédito para negociação futura.
 - (B) contestador: ser, ao mesmo tempo, confrontador e cooperativo; é útil quando é importante encontrar soluções com as quais os dois lados tenham os interesses preservados e requer compromisso mútuo. Esse estilo exige tempo e esforço e é pouco indicado para questões triviais.
 - (C) da aceitação: situa-se no meio termo dos demais estilos, possuindo elementos de um e de outro; é indicado quando os objetivos têm importância relativa, que não justifiquem confronto, permitindo aguardar situação mais oportuna de negociação. Envolve barganha, como rápida troca de concessões que satisfazem as necessidades das partes.
 - (D) da retirada: não ser confrontador e nem cooperativo; tende a ser mais apropriado em questão mais trivial ou quando o benefício de não enfrentar um conflito prevalecer sobre o enfrentamento naquele momento. Pode constituir-se em estratégia de acumulação de força ou de conquista de aliados para que a negociação se torne mais fortalecida.
 - (E) do compromisso: ser confrontador; é indicado quando as situações exigem ações decisivas e rápidas, ou quando há um índice considerável de rejeição de propostas e interesses das pessoas envolvidas no processo.
46. Na gestão do serviço, o planejamento estratégico situacional é utilizado para resolução de problemas, originando possíveis propostas de melhorias. Na promoção das mudanças, o poder que influencia na decisão dos sujeitos envolvidos, pode se revelar na dimensão
- (A) política, representada por atores sociais que ocupam cargos administrativos na esfera municipal, estadual ou federal.
 - (B) econômica, representada por atores sociais que detêm o manejo dos recursos econômico-financeiros.
 - (C) administrativa, representada por atores sociais que detêm o poder, por conta do conhecimento sobre determinadas áreas.
 - (D) técnica, representada por atores sociais que detêm o poder em função do exercício de um mandato.
 - (E) educativa, quando os sujeitos analisam a situação atual, assumem o aprendizado das vivências anteriores e defendem decisões baseadas em experiências bem sucedidas.

47. Após a filiação ao Regime Geral da Previdência Social, os segurados que se beneficiarão da concessão, sem carência, de auxílio doença ou de aposentadoria por invalidez, são os portadores de
- (A) tuberculose, alucinação mental, arterite de Takayasu.
 - (B) cegueira, encondromatose, doença de Paget.
 - (C) hanseníase, espondiloartrose anquilosante, doença de Parkinson.
 - (D) cardiopatia, nefropatia, síndrome de Ménière.
 - (E) neoplasia maligna, AIDS, síndrome do canal de Guyon.
48. Segundo o art. 5º do Decreto nº 3.048/99, a Previdência Social será organizada sob a forma de regime geral, de caráter contributivo e de filiação obrigatória, observados os critérios que preservem o equilíbrio financeiro e atuarial, e atenderá a situação descrita em:
- (A) cobertura de eventos de doença, invalidez, morte e idade avançada.
 - (B) proteção à maternidade, especificamente ao recém-nascido.
 - (C) proteção em situação de desemprego voluntário, após pedido de demissão.
 - (D) auxílio-reclusão para dependentes, independentemente da renda dos segurados.
 - (E) pensão ao cônjuge por morte do segurado, não extensiva aos dependentes.
49. Para o encaminhamento do trabalhador que sofreu queimadura acidental, o enfermeiro do trabalho considera os critérios de transferência de pacientes para unidades especializadas em tratamento de queimados, como ocorrência de queimadura
- (A) de 1º grau, desde que o paciente não apresente doenças associadas e outros traumas.
 - (B) em face, olhos, períneo, mãos, pés e em grandes articulações.
 - (C) de 3º grau em áreas maiores do que 30% da superfície corporal queimada (SCQ) em adultos.
 - (D) de 2º grau maior do que 5% da SCQ em adultos com idade superior a 50 anos.
 - (E) de 2º grau em áreas maiores do que 10% da SCQ em adultos.
50. O Guia de Análise de Acidentes de Trabalho (MTE, 2010) descreve que evento adverso é qualquer ocorrência de natureza indesejável relacionada direta ou indiretamente ao trabalho, incluindo o acidente de trabalho. Na atenção à saúde do trabalhador, o enfermeiro do trabalho precisa conhecer os fatores relacionados com a ocorrência de eventos adversos, como os fatores
- (A) imediatos: razões sistêmicas ou organizacionais menos evidentes, porém necessárias para que ocorra um evento adverso.
 - (B) independentes: situações que não se relacionam com os acidentes de trabalho.
 - (C) subjacentes: razões mais óbvias da ocorrência de um evento adverso, evidenciadas na proximidade das consequências.
 - (D) latentes: condições iniciadoras frequentemente remotas no tempo, que geralmente envolvem concepção, gestão, planejamento ou organização.
 - (E) interativos: razões parcialmente associadas com os acidentes de trabalho.
51. Na Sistematização da Assistência de Enfermagem, recomenda-se a implementação do Processo de Enfermagem em ambientes públicos ou privados, onde ocorre o cuidado profissional de Enfermagem. Esse processo organiza-se em várias etapas, como
- (A) o Histórico de Enfermagem: processo de interpretação e agrupamento dos dados coletados, para tomada de decisão sobre os conceitos diagnósticos de enfermagem que representam, com mais exatidão, as respostas da pessoa, família ou coletividade humana em um dado momento do processo saúde e doença; e que constituem a base para a seleção das ações ou intervenções com as quais se objetiva alcançar os resultados esperados.
 - (B) o Diagnóstico de Enfermagem: processo deliberado, sistemático e contínuo, realizado com o auxílio de métodos e técnicas variadas, para obtenção de informações sobre a pessoa, a família ou a coletividade humana e sobre suas respostas em um dado momento do processo saúde e doença.
 - (C) o Planejamento de Enfermagem: realização das ações ou intervenções determinadas ou previstas.
 - (D) a Implementação: determinação dos resultados que se espera alcançar; e das ações ou intervenções de enfermagem que serão realizadas face às respostas da pessoa, família ou coletividade humana em um dado momento do processo saúde e doença, identificadas na etapa de Diagnóstico de Enfermagem.
 - (E) a Avaliação de Enfermagem: processo deliberado, sistemático e contínuo de verificação de mudanças nas respostas da pessoa, família ou coletividade humana em um dado momento do processo saúde e doença, para determinar se as ações ou intervenções de enfermagem alcançaram o resultado esperado; e de verificação da necessidade de mudanças ou adaptações nas etapas do Processo de Enfermagem.

52. Na ocorrência de doença profissional do trabalhador por exposição ao ruído, recomenda-se
- (A) dispensar a emissão da Comunicação de Acidente do Trabalho – CAT, pois doença profissional não é considerada acidente de trabalho.
 - (B) encaminhar o trabalhador ao sindicato da categoria para definição da conduta previdenciária em relação ao trabalho.
 - (C) realizar o exame audiométrico quando necessário; esse exame é indicado, no mínimo, no momento da admissão, no sexto mês após a mesma, anualmente a partir de então, e na demissão.
 - (D) orientar o trabalhador a permanecer em repouso auditivo por período mínimo de 12 horas até o momento de realização do exame audiométrico.
 - (E) registrar os dados obtidos nos exames médicos em prontuário clínico individual, armazenando-o por período mínimo de dez anos, após o desligamento do trabalhador.
53. Estruturando a programação da campanha de prevenção de acidentes de trabalho, o enfermeiro do trabalho e membros da CIPA incluíram a saúde psíquica, mental e psicológica como tema das ações educativas e, assertivamente, destacaram que
- (A) a exposição do trabalhador a agentes químicos, como tolueno e solventes aromáticos, tem relação com episódios depressivos.
 - (B) as formas de organização nos processos de trabalho não têm relação conhecida como fator causal da depressão, enquanto doença profissional.
 - (C) a presença de agentes estressantes e conflitos no ambiente de trabalho justifica que a depressão seja considerada um acidente de trabalho, independentemente do nexo técnico epidemiológico.
 - (D) as atividades como ginásticas laborais são benéficas na prevenção dos distúrbios psíquicos, e, ao serem implementadas, deve-se convocar os trabalhadores e assegurar a participação obrigatória de todos.
 - (E) os estudos recentes descrevem que o estresse, independentemente do grau, seja em estágio inicial ou final, tem efeito positivo e protetor na saúde do trabalhador, pois representa uma reação de enfrentamento ao agente agressor e desencadeia alterações mínimas na saúde.
54. Duas empresas que desenvolvem atividades no mesmo pólo comercial constituíram SESMT comum, conforme estabelecido em acordo coletivo. Em conformidade com a NR 4, devem saber que
- (A) o SESMT organizado deve ter seu funcionamento avaliado a cada dois anos por comissão composta por representantes das empresas, dos sindicatos de trabalhadores e do Ministério do Trabalho.
 - (B) os serviços especializados em Engenharia de Segurança e em Medicina do Trabalho de que trata essa NR deverão ser registrados no órgão regional da FUNDACENTRO.
 - (C) esse tipo de serviço também pode ser organizado pelas empresas, independentemente de acordos coletivos de trabalho ou de convenções das categorias envolvidas.
 - (D) cabe aos sindicatos dos trabalhadores determinar a proporção do número de trabalhadores assistidos.
 - (E) o dimensionamento do SESMT comum deve considerar o somatório dos trabalhadores assistidos e a atividade econômica que empregue o maior número entre os trabalhadores assistidos.
55. Com base na NR 5, durante a palestra sobre a CIPA, os trabalhadores foram orientados que
- (A) todos os representantes da comissão, titulares e suplentes, serão eleitos pela comunidade trabalhadora, no prazo mínimo de 60 dias antes do término do mandato em curso.
 - (B) o mandato dos membros eleitos terá a duração de dois anos, permitida uma reeleição, sendo que todos os documentos relativos à eleição, devem ser guardados por dez anos.
 - (C) é vedada a dispensa arbitrária ou sem justa causa de todos os trabalhadores eleitos, até dois anos após o final do mandato.
 - (D) o treinamento para a CIPA deverá contemplar vários itens, inclusive noções sobre a Síndrome da Imunodeficiência Adquirida.
 - (E) em caso de afastamento definitivo do presidente, o substituto deverá ser eleito em até sete dias úteis, preferencialmente entre os membros da comissão.
56. Na lista de aquisição de equipamentos de proteção foram incluídos novos itens, e, segundo a NR 6, são considerados EPI's, os itens descritos em:
- (A) luvas para proteção das mãos contra agentes biológicos e extintores.
 - (B) *wrap* e máscara cirúrgica.
 - (C) protetor facial para proteção da face contra radiação ultravioleta e creme protetor de segurança para proteção dos membros superiores contra agentes químicos.
 - (D) dedeira para proteção dos dedos contra agentes abrasivos e dispositivo de enclausuramento acústico de fonte de ruído.
 - (E) meia para proteção dos pés contra baixas temperaturas e *sprinkle*.

57. Estudando o quadro I da NR 7, o enfermeiro do trabalho verificou que indicadores biológicos são utilizados para monitorização da saúde do trabalhador, incluindo análise de
- (A) ocorrência de surtos epidêmicos na área de trabalho para notificação dos eventos ao serviço de vigilância competente.
 - (B) níveis de contaminação alimentar e ocorrência de distúrbios gastrointestinais em trabalhadores que se alimentam no local de trabalho para controle da alimentação.
 - (C) metanol no sangue para controle da exposição ao pentaclorofenol.
 - (D) incidência de doenças preveníveis para adoção de medidas imunopreveníveis.
 - (E) acetilcolinesterase eritrocitária, ou colinesterase plasmática, ou colinesterase eritrocitária e plasmática no sangue total para controle da exposição a ésteres organofosforados e carbamatos.
58. Durante a revisão do PPRA da empresa, o grupo de trabalho baseou-se nas descrições da NR 9 e verificou que
- (A) deverá ser efetuada, sempre que necessário e pelo menos uma vez ao ano, uma análise global do PPRA para avaliação do seu desenvolvimento, realização dos ajustes necessários e estabelecimento de novas metas e prioridades.
 - (B) o estudo, o desenvolvimento e a implantação de medidas de proteção coletiva deverão obedecer uma hierarquia de medidas, iniciada por ações que reduzam os níveis ou a concentração de agentes de risco no ambiente de trabalho e, por último, as que impeçam a liberação ou disseminação desses agentes no ambiente.
 - (C) a implantação de medidas de caráter coletivo dispensa o treinamento dos trabalhadores quanto aos procedimentos que assegurem a sua eficiência e a informação sobre eventuais limitações de proteção que ofereçam.
 - (D) quando comprovada pelo empregador ou pela instituição a inviabilidade técnica da adoção de medidas de proteção coletiva ou quando estas não forem suficientes, deve-se priorizar o uso de EPI, uma vez que a organização do trabalho não se constitui medida que contribui para a proteção coletiva.
 - (E) se consideram riscos ambientais os agentes químicos como substâncias, compostos ou produtos, nas formas de poeiras, fumos, névoas, neblinas, gases, vapor ou umidade, que possam contaminar o meio e provocar danos ao ambiente, ainda que não causem danos à saúde do trabalhador.
59. Na avaliação da adaptação das condições de trabalho às características psicofisiológicas dos trabalhadores, a análise ergonômica do trabalho deve
- (A) conter, no mínimo, avaliação da organização do trabalho e recomendações ergonômicas expressas em planos e propostas claras e objetivas, ainda que sem definição de datas de implantação.
 - (B) estimar as condições ambientais de trabalho: laboratórios e escritórios devem ter, dentre outros, índices de temperatura efetiva entre 20 °C e 23 °C e umidade relativa do ar não inferior a 40%.
 - (C) considerar o mobiliário do trabalho: os assentos utilizados nos postos de trabalho devem ter altura ajustável à estatura do trabalhador e à natureza da função exercida, base com grande conformação, borda frontal reta e sem curvas e encosto reto para proteção da região lombar.
 - (D) ponderar, quanto aos equipamentos de trabalho: em atividades que envolvam leitura e digitação deve ser fornecido suporte de documentos para boa visualização, com iluminação correta, medida regularmente com o linímetro para evitar luminosidade precária.
 - (E) contemplar, obrigatoriamente, as seguintes etapas de execução: análise das atividades de trabalho, avaliação das intervenções e avaliação da eficiência das recomendações.
60. O plano de prevenção de riscos de acidentes com materiais perfurocortantes, apresentado pelo SESMT, no serviço de saúde, indica conformidade com o disposto na NR 32, ao descrever que a comissão gestora multidisciplinar
- (A) deve ser instituída por meio de pleito legalmente organizado no serviço de saúde, segundo os moldes das eleições da CIPA, com ampla participação de trabalhadores de todos os setores representativos da instituição.
 - (B) é composta por membros de diversas áreas e, obrigatoriamente, deve incluir o coordenador do laboratório de análises clínicas, do centro cirúrgico e o representante comercial de uma empresa especializada em produtos perfurocortantes.
 - (C) tem por objetivo reduzir os riscos de acidentes com materiais perfurocortantes, por meio da elaboração e implementação de ações, destacando que não cabe a essa comissão realizar a análise dos acidentes de trabalho ocorridos com tais materiais, pois é de responsabilidade da CIPA.
 - (D) considera, na adoção das medidas de controle, a seguinte hierarquia: substituir o uso de agulhas e outros perfurocortantes, quando for tecnicamente possível; adotar controles de engenharia no ambiente; adotar o uso de material perfurocortante com dispositivo de segurança, quando existente, disponível e tecnicamente possível; mudanças na organização e nas práticas de trabalho.
 - (E) deve monitorar o referido plano, a ser avaliado a cada triênio, no mínimo, e sempre que se produza uma mudança nas condições de trabalho ou quando a análise das situações de risco e dos acidentes assim o determinar.

