



CONCURSO PÚBLICO

007. PROVA OBJETIVA

ANALISTA DE SERVIÇOS ADMINISTRATIVOS (ADMINISTRAÇÃO DE PESSOAL / RECURSOS HUMANOS)

- ◆ Você recebeu sua folha de respostas e este caderno contendo 60 questões objetivas.
- ◆ Confira seus dados impressos na capa deste caderno e na folha de respostas.
- ◆ Quando for permitido abrir o caderno, verifique se está completo ou se apresenta imperfeições. Caso haja algum problema, informe ao fiscal da sala.
- ◆ Leia cuidadosamente todas as questões e escolha a resposta que você considera correta.
- ◆ Marque, na folha de respostas, com caneta de tinta azul ou preta, a letra correspondente à alternativa que você escolheu.
- ◆ A duração da prova é de 3 horas e 30 minutos, já incluído o tempo para o preenchimento da folha de respostas.
- ◆ Só será permitida a saída definitiva da sala e do prédio após transcorridos 75% do tempo de duração da prova.
- ◆ Ao sair, você entregará ao fiscal a folha de respostas e este caderno, podendo levar apenas o rascunho de gabarito, localizado em sua carteira, para futura conferência.
- ◆ Até que você saia do prédio, todas as proibições e orientações continuam válidas.

AGUARDE A ORDEM DO FISCAL PARA ABRIR ESTE CADERNO DE QUESTÕES.

Nome do candidato _____

Prédio _____

Sala _____

Carteira _____

Inscrição _____

CONHECIMENTOS GERAIS

LÍNGUA PORTUGUESA

Leia o texto para responder às questões de números **01** a **09**.

Não há como não ressaltar a fortíssima repercussão – e os aplausos – da encíclica *Laudato Si*, do papa Francisco, principalmente as questões ali relacionadas com meio ambiente – uma delas, a dos recursos hídricos. Também é instigante verificar a coincidência da encíclica em temas centrais – como o da água – com os enunciados na mesma semana por um novo documento da Nasa, a agência espacial dos Estados Unidos.

Pode-se começar pela questão dos recursos hídricos, com base em estudos da Nasa decorrentes de registros de satélites (pesquisas de 2003 a 2013). Neles se ressalta que “o mundo caminha para a falta de água” e que 21 dos 37 maiores aquíferos subterrâneos do mundo “estão sendo exauridos em níveis alarmantes”, pois a retirada é maior que a reposição. E isso acontece simultaneamente com algumas das secas mais fortes da história, inclusive nos EUA e no Nordeste brasileiro.

A encíclica papal investe pesadamente contra a “crescente tendência à privatização” dos recursos hídricos no mundo, “apesar de sua escassez” – e tendendo a transformá-los “em mercadoria, sujeita às leis do mercado” –, o que prejudicaria muito os pobres. E a água continua a ser desperdiçada, em países ricos e nos menos desenvolvidos. O conjunto de causas leva a um aumento do custo de alimentos – a ponto de vários estudos indicarem um déficit de recursos hídricos em poucas décadas –, afetando “bilhões de pessoas”. Além disso, seria admissível pensar que “o controle da água por grandes empresas multinacionais de negócios” pode tornar-se “um dos fatores mais importantes de conflitos neste século”.

Essas causas podem levar também à dramática perda da biodiversidade, que se ressentir ainda da ação de produtos químicos nas lavouras. Nesse ponto, a encíclica é muito direta e dura ao ressaltar que na Amazônia e na bacia do Congo “interesses globais, sob pretexto de proteger os negócios, podem solapar a soberania das nações”. Já há até – diz o documento – “propostas de internacionalização da Amazônia, que serviriam apenas aos interesses econômicos de corporações transnacionais”.

A encíclica papal e os estudos da Nasa são dois documentos que nos põem diante das questões cruciais para a humanidade nestes tempos conturbados. Não há como fugir a elas em nenhum lugar. Em termos de Brasil, convém que prestemos muita atenção a documentos como o da Pesquisa Nacional por Amostragem de Municípios, que aponta milhões de brasileiros vivendo na miséria e outras dezenas de milhões abaixo do nível de pobreza. A hora de agir é agora.

(Washington Novaes. *O Estado de S. Paulo*. 26.06.2015. Adaptado)

01. Lendo-se o texto, conclui-se que o ponto de vista do autor

- (A) constrói-se a partir da apresentação de dados estatísticos, mas sem emitir uma posição definida sobre a questão hídrica.
- (B) desenvolve argumentação subjetiva, desvinculada das pesquisas sobre recursos hídricos, feitas pelos órgãos competentes.
- (C) corrobora a opinião formulada por agentes representativos de setores diversos, quanto aos problemas relativos ao meio ambiente.
- (D) prescinde de um posicionamento claro, pois, limita-se a citar documentos inconsistentes sobre o meio ambiente.
- (E) defende a ideia de que é preciso contrapor-se às conclusões dos cientistas sobre a escassez hídrica do planeta.

02. No contexto do último parágrafo, as frases – Não há como fugir a elas em nenhum lugar. – e – A hora de agir é agora. – contêm afirmações explícitas, mas elas permitem ao leitor inferir, respectivamente, que:

- (A) As questões cruciais da humanidade têm de ser encaradas por todos. / Este é o momento de uma ação inadiável.
- (B) É melhor atenuar o impacto dos problemas cruciais da humanidade. / Avaliar a melhor hora de agir é sensato.
- (C) Ainda dá tempo de livrar a humanidade de seus graves problemas. / Recomenda-se, neste momento, agir moderadamente.
- (D) É difícil, neste momento, identificar quais são os problemas cruciais da humanidade. / Ou se age agora ou se perde a oportunidade.
- (E) Os problemas da humanidade são tantos que é melhor ignorá-los. / Deixar para agir depois pode trazer danos.

03. A frase – Os maiores aquíferos subterrâneos estão sendo exauridos em níveis alarmantes. – indica que os aquíferos

- (A) proliferam-se assustadoramente.
- (B) esgotam-se inquietantemente.
- (C) esvaem-se paulatinamente.
- (D) normalizam-se eficientemente.
- (E) dissipam-se criteriosamente.

04. Os pronomes **sua** e **los**, em destaque no início do terceiro parágrafo, estabelecem relação com o termo

- (A) mencionado anteriormente: recursos hídricos.
- (B) explicitado ao final do parágrafo: bilhões de pessoas.
- (C) subentendido: privatização.
- (D) enunciado no começo da frase: encíclica papal.
- (E) citado em seguida: os pobres.

05. Assinale a alternativa em que as duas frases estão corretas quanto à flexão do verbo e à colocação do pronome **se**.

- (A) Convém que presta-se mais atenção aos documentos sobre os recursos hídricos. / É bom que as pessoas não distanciem-se das questões ambientais.
- (B) Convém que se preste mais atenção aos documentos sobre os recursos hídricos. / É bom que as pessoas não distanciam-se das questões ambientais.
- (C) Convém que se presta mais atenção aos documentos sobre os recursos hídricos. / É bom que as pessoas não se distanciam das questões ambientais.
- (D) Convém que se presta mais atenção aos documentos sobre os recursos hídricos. / É bom que as pessoas não distanciem-se das questões ambientais.
- (E) Convém que se preste mais atenção aos documentos sobre os recursos hídricos. / É bom que as pessoas não se distanciem das questões ambientais.

06. Leia as frases a seguir.

O poder e a soberania das nações _____ por interesses globais.

_____ os estudos da Nasa que o mundo caminha para a falta de água.

Já _____ propostas de internacionalização da Amazônia.

Assinale a alternativa que preenche, correta e respectivamente, as lacunas das frases, de acordo com a norma-padrão.

- (A) serão solapadas ... Ressalta ... existe
- (B) será solapada ... Ressalta ... existem
- (C) será solapados ... Ressaltam ... existia
- (D) serão solapados ... Ressaltam ... existem
- (E) serão solapados ... Ressalta ... existem

07. Reescrevendo-se a frase – A encíclica papal investe contra a tendência à privatização dos recursos hídricos. – tem-se versão correta, quanto à regência e ao emprego do acento indicativo da crase, em:

- (A) A encíclica papal opõe-se na propensão à privatizar os recursos hídricos.
- (B) A encíclica papal opõe-se à propensão a privatizar os recursos hídricos.
- (C) A encíclica papal opõe-se à propensão à privatizar os recursos hídricos.
- (D) A encíclica papal opõe-se a propensão à privatizar os recursos hídricos.
- (E) A encíclica papal opõe-se na propensão a privatizar os recursos hídricos.

08. Assinale a alternativa em que a pontuação foi empregada de acordo com a norma-padrão.

- (A) Os documentos científicos são, precisos e revelam que milhões de brasileiros, vivem na miséria e outras dezenas de milhões, abaixo do nível, de pobreza.
- (B) Os documentos científicos, são precisos e revelam que, milhões de brasileiros vivem, na miséria e outras dezenas de milhões, abaixo, do nível de pobreza.
- (C) Os documentos científicos são precisos e revelam que milhões de brasileiros vivem na miséria, e outras dezenas de milhões, abaixo do nível de pobreza.
- (D) Os documentos científicos, são precisos e, revelam que, milhões de brasileiros, vivem, na miséria, e outras dezenas de milhões, abaixo do nível, de pobreza.
- (E) Os documentos científicos são, precisos e revelam que milhões, de brasileiros, vivem na miséria e outras dezenas, de milhões, abaixo do nível, de pobreza.

09. Relacionando-se a charge a seguir ao texto lido, conclui-se que



(www.google.com.br)

- (A) a provisão de água no planeta é promissora, de acordo com a charge, mas Washington Novaes está muito descrente.
- (B) a suspeita de que os aquíferos se esvaziarão é improcedente, como comprovam os elementos da charge.
- (C) a água no planeta é inextinguível, segundo a charge, e os países ricos encontrarão um meio de fornecê-la às populações pobres.
- (D) a charge sugere controlar o consumo da água, para que não se agrave o cenário caótico das condições dos recursos hídricos.
- (E) Washington Novaes baseia-se em dados científicos e não no potencial hídrico do planeta, demonstrado pela charge.
10. Assinale a alternativa em que a palavra **água** está empregada em sentido figurado.
- (A) Na água lançamos os nossos fétidos esgotos e os resíduos de uma produção industrial contaminada.
- (B) A química dos nossos adubos e pesticidas agrícolas, os restos daquilo que não queremos mais são lançados na água.
- (C) Se falta água limpa para aplacar nossa sede e cultivar nossos alimentos, falta consciência para zelar, preservar e despoluir fontes e reservas.
- (D) As águas subterrâneas guardadas por séculos e milênios nós conseguimos poluir: é a poluição invisível das águas profundas.
- (E) É inaceitável que os países ricos resistam a adotar medidas de proteção ambiental; até que eles se conscientizem dessa necessidade, a busca de soluções navegará ainda por águas turvas.

MATEMÁTICA

11. A Estação de Tratamento de Água (ETA) da SAEG tem capacidade de produção de 1472,4 metros cúbicos de água tratada por hora, o que corresponde, em litros por segundo, a
- (A) 392.
- (B) 397.
- (C) 407.
- (D) 409.
- (E) 411.

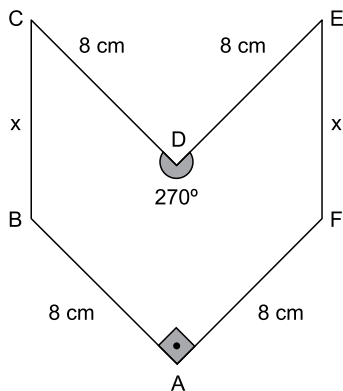
12. A tabela a seguir indica a vazão média mensal dos únicos quatro reservatórios que abastecem uma cidade. Apenas 90% da soma dessas vazões já é suficiente para abastecer mensalmente as necessidades da cidade, o que implica dizer que há uma margem de folga de 10%.

Reservatório	Vazão média mensal (em milhares de m ³)
A	35
B	22
C	12
D	11

Em um determinado mês, houve problemas no reservatório A, que parou totalmente de operar. Em caráter emergencial, nesse mês, a companhia de abastecimento aumentou a vazão dos reservatórios B, C e D em $x\%$, e reduziu a margem de folga para 0% , com o objetivo de continuar atendendo às necessidades mínimas da cidade. Em tais condições, x é igual a

- (A) 56.
- (B) 58.
- (C) 60.
- (D) 62.
- (E) 64.
13. Em um painel de controle, há luzes verdes e vermelhas. As luzes verdes permanecem 80 segundos apagadas e 150 segundos acesas, em sequência contínua. As luzes vermelhas permanecem 90 segundos apagadas e 100 segundos acesas, também em sequência contínua. Um dia, ocorreu o seguinte episódio: as luzes verdes e vermelhas, que estavam acesas, se apagaram simultaneamente às 8h00. Nesse dia, o mesmo episódio se repetiu às
- (A) 8h 20m 30s.
- (B) 9h 06m 30s.
- (C) 9h 12m 50s.
- (D) 9h 18m 30s.
- (E) 9h 21m 50s.

14. Um líquido é vendido em copo, jarra ou balde, com preço diretamente proporcional à capacidade do recipiente. Um copo cheio equivale a 35% de 1 litro. Uma jarra cheia tem $\frac{7}{8}$ de 1 litro. E um balde cheio equivale a $\frac{28}{5}$ de uma jarra cheia. Se um copo cheio do líquido é vendido por R\$ 1,25, um balde cheio desse líquido custará
- (A) R\$ 16,25.
 (B) R\$ 17,50.
 (C) R\$ 18,75.
 (D) R\$ 19,25.
 (E) R\$ 20,00.
15. Valdir trabalha na cozinha de uma empresa e faz para o almoço 18 kg de arroz para suprir as necessidades dos 200 funcionários, sem sobras. Recentemente, a empresa contratou 16 novos funcionários, e Valdir aumentou a quantidade de arroz proporcionalmente ao novo total de funcionários. A estratégia implicou em sobra diária de 440 g de arroz no almoço. Se nesse período não houve variação no consumo médio de arroz dos 200 funcionários antigos, é correto concluir que o consumo médio de arroz, em gramas, de cada funcionário antigo supera o de cada funcionário novo em
- (A) 27,50.
 (B) 28,25.
 (C) 28,50.
 (D) 70,25.
 (E) 72,50.
16. Em uma peça hexagonal ABCDEF, com medidas indicadas na figura a seguir, $BC = FE = x$.



Sabendo que a área do polígono que representa essa peça é 80 cm^2 , então x , em centímetros, é igual a

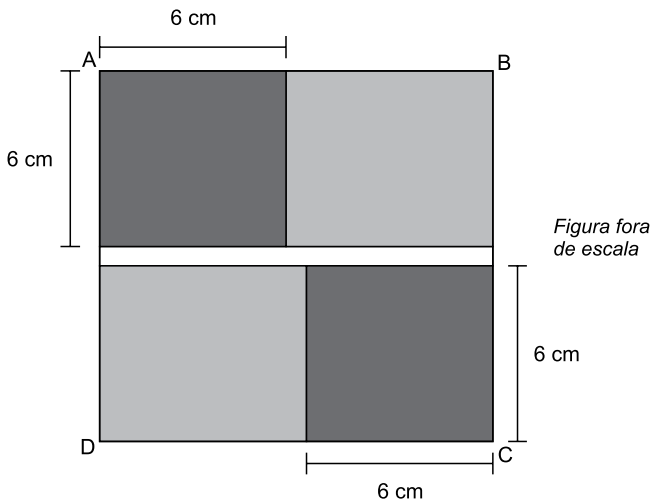
- (A) $4\sqrt{2}$
 (B) $3,5\sqrt{3}$
 (C) $4,5\sqrt{2}$
 (D) $4\sqrt{3}$
 (E) $5\sqrt{2}$

17. As 5 primeiras colunas de uma planilha de cálculo estão sendo usadas em um arquivo da contabilidade de uma empresa. Na coluna A, são armazenados números inteiros maiores que -3 ; na coluna D, todas as células são preenchidas com o número 1; as colunas B, C e E são alimentadas com fórmulas que realizam cálculos com um ou mais números já armazenados.

	A	B	C	D	E
1	-2	4	-6	1	-1
2	-1	1	-3	1	-1
3	0	0	0	1	1
4	1	1	3	1	5
5	2	4	6	1	11
6	3	9	9	1	19
7	4	16	12	1	29
8	5	25	15	1	41
9	6	36	18	1	55
10	7	49	21	1	71
11	8	64	24	1	89
	⋮	⋮	⋮	⋮	⋮

Essa planilha prossegue, com a mesma lógica descrita, até uma célula da coluna E em que aparece o número 755. Sendo assim, o total de células com números diferentes de zero na planilha inteira é igual a

- (A) 155.
 (B) 148.
 (C) 145.
 (D) 142.
 (E) 127.
18. Na figura, ABCD é um quadrado de área igual a 196 cm^2 . Como mostra a figura, esse quadrado é formado por outros dois quadrados idênticos (em cinza-escuro) e três retângulos (dois em cinza-claro e um em branco). Os retângulos em cinza-claro são idênticos.



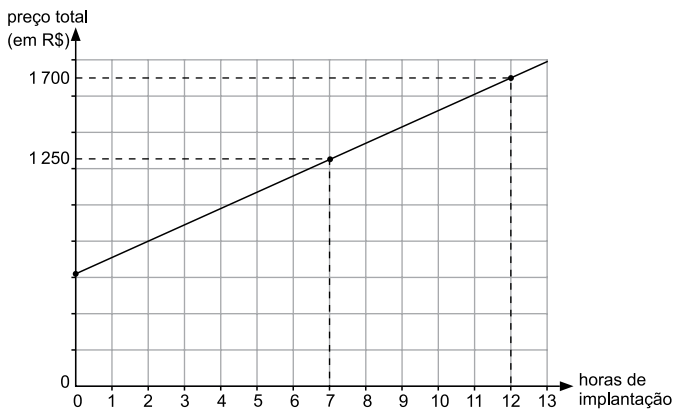
Nas condições descritas, o número de retângulos brancos necessários e suficientes para recobrir por completo o quadrado ABCD é igual a

- (A) 6.
 (B) 7.
 (C) 8.
 (D) 9.
 (E) 10.

19. Usando o Raciocínio Lógico, com as letras da palavra RESÍDUO pode-se formar um total de 5040 palavras diferentes, não importando se elas tenham ou não significado. Se essas palavras forem ordenadas como em um dicionário, a primeira será DEÍORSU, e a 5040ª será USROÍED. Nessa ordenação, a palavra EDÍOURS será a

- (A) 725ª
- (B) 724ª
- (C) 723ª
- (D) 722ª
- (E) 721ª

20. Renata presta serviço de paisagismo em residências. Ela cobra um valor fixo pelo projeto e um valor por hora de trabalho para implantá-lo. O gráfico mostra o preço total (incluindo o projeto) cobrado por Renata em função do total de horas que ela leva para implantar o projeto na residência do cliente.



Uma cliente decidiu contratar Renata apenas para o serviço de elaboração do projeto que, de acordo com a semirreta indicada no gráfico, custará, em reais,

- (A) 600,00.
- (B) 605,00.
- (C) 610,00.
- (D) 615,00.
- (E) 620,00.

ATUALIDADES

21. O Parlamento grego aprovou, com o apoio de 250 dos 300 parlamentares, o programa de reformas apresentado na quinta-feira (9 de julho) por Atenas aos credores internacionais na tentativa de garantir um acordo sobre a dívida do país. Do lado de fora do Parlamento, manifestantes expressaram sua indignação com o pacote de medidas, que mantém boa parte das demandas dos credores internacionais rejeitadas por 61% da população no plebiscito do último domingo (5 de julho).

(EBC, 10.07.2015.

Disponível em: <<http://goo.gl/CwbWWA>> Adaptado)

Entre as medidas questionadas por parte da população e aprovadas pelo Parlamento grego está

- (A) a saída da Grécia da União Europeia.
- (B) o não pagamento da dívida externa.
- (C) o aumento de impostos.
- (D) o fechamento temporário dos bancos.
- (E) o estabelecimento de limites para saques em dinheiro.

22. *Com novo projeto, Senado deve travar redução da maioria penal*

(Folha de S.Paulo, 16.07.2015.

Disponível em: <<http://goo.gl/WCYQWZ>> Adaptado)

O projeto aprovado pelo Senado como alternativa à redução da maioria penal estabelece

- (A) a reforma do ECA, transformando as medidas socio-educativas em medidas punitivas.
- (B) o endurecimento do tratamento conferido aos jovens pelas autoridades policiais.
- (C) a responsabilização penal dos pais ou responsáveis nos crimes cometidos por menores.
- (D) a prisão em cela de segurança máxima para adultos que envolverem menores em seus crimes.
- (E) a ampliação do tempo de internação de jovens infratores para até dez anos.

23. A governadora da Carolina do Sul (EUA) sancionou uma lei nesta quinta-feira (9 de julho) para remover permanentemente a bandeira da batalha dos confederados do Capitólio do Estado. A bandeira rebelde vai para a “sala de relíquias” do museu militar da Carolina do Sul, em Columbia, a capital do Estado.

(G1, 09.07.2015.

Disponível em: <<http://goo.gl/EGxqaP>> Adaptado)

O que reacendeu a discussão sobre a bandeira confederada nos EUA foi

- (A) a suspeita de que os EUA teriam apoiado o Estado Islâmico na luta contra a ditadura síria.
- (B) o assassinato de nove negros por um homem branco em uma igreja da comunidade negra no sul dos EUA.
- (C) a crítica radical dos Republicanos à assinatura do tratado nuclear entre os EUA e o Irã, contrariando Israel.
- (D) a forte oposição de parte da população branca dos EUA à retomada das relações diplomáticas com Cuba.
- (E) a crítica aos mexicanos feita por um dos pré-candidatos republicanos à presidência.

24. *José Maria Marin é detido na Suíça acusado de corrupção*

(Opera Mundi, 13.03.2015.

Disponível em: <<http://goo.gl/74ptnw>> Adaptado)

Marin foi detido por suspeita de envolvimento no escândalo de corrupção

- (A) investigado pela Operação Zelotes.
- (B) conhecido como a Máfia do ISS (Imposto sobre Serviços).
- (C) investigado pela Operação Lava Jato.
- (D) que envolve a FIFA.
- (E) que envolve o banco HSBC.

25. A economia brasileira começa a dar sinais de reação, ainda que o andamento de medidas consideradas importantes pelo governo para cumprir o roteiro do ajuste fiscal esteja mais lento do que o esperado inicialmente, afirmou hoje o ministro da Fazenda Joaquim Levy.

(O Estado de São Paulo, 17.07.2015.

Disponível em: <<http://goo.gl/Ur5dtl>> Adaptado)

Entre as medidas consideradas atrasadas pelo ministro, no contexto do recesso do Congresso em julho, estava o projeto de lei que

- (A) estabelece uma política regular de redução da taxa de juros.
- (B) revê as desonerações sobre a folha de pagamento de empresas.
- (C) institui uma política de valorização do salário mínimo indexada à inflação.
- (D) impõe metas de superávit fiscal para o governo ao longo do ano.
- (E) restringe os gastos do governo com previdência e seguridade social.

26. Para abrir uma página da internet em uma nova aba no navegador MS-Internet Explorer, em sua configuração padrão, deve-se clicar no link correspondente a página desejada segurando, no teclado, a(s) tecla(s):

- (A) Shift
- (B) Ctrl
- (C) Alt
- (D) Shift+Alt
- (E) Ctrl+Alt

27. As figuras a seguir foram extraídas do MS-Excel 2010, em sua configuração padrão, e apresentam uma tabela em dois momentos: ANTES e DEPOIS da utilização de um recurso do grupo Alinhamento, da guia Página Inicial.

ANTES

A1 Tabela de valores				
	A	B	C	D
1	Tabela de valores			
2	Produtos/Desconto	Sem desconto	Com desconto (10%)	
3	Produto 1	28	25,2	
4	Produto 2	38	34,2	
5	Produto 3	85	76,5	
6	Produto 4	38	34,2	
7	Produto 5	29	26,1	
8				
9				
10				

DEPOIS

A1 Tabela de valores				
	A	B	C	D
1	Tabela de valores			
2	Produtos/Desconto	Sem desconto	Com desconto (10%)	
3	Produto 1	28	25,2	
4	Produto 2	38	34,2	
5	Produto 3	85	76,5	
6	Produto 4	38	34,2	
7	Produto 5	29	26,1	
8				
9				
10				

Assinale a alternativa que contém o nome do recurso utilizado entre os dois momentos, ANTES e DEPOIS, responsável por agrupar as três primeiras células da primeira linha em apenas uma célula.

- (A) Mesclar.
- (B) Agrupar.
- (C) Mesclar e Centralizar.
- (D) Agrupar e Centralizar.
- (E) Agrupar Através.

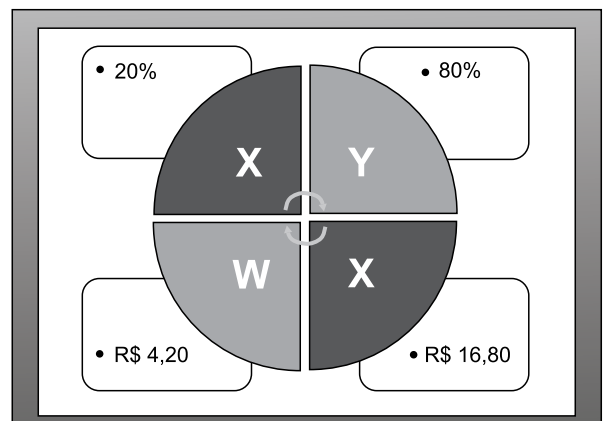
28. Ao imprimir um documento de 2 páginas no MS-Word 2010, percebe-se que há apenas duas linhas na última página. Para evitar desperdício de papel, é recomendado reduzir o tamanho da fonte do texto, apenas o necessário, para que o seu conteúdo caiba em 1 página. Assinale a alternativa que contém o recurso que permite reduzir o documento para uma página.

- (A) Reduzir para Caber.
- (B) Reduzir para Ajustar.
- (C) Resumir para Caber.
- (D) Resumir para Ajustar.
- (E) Reduzir uma Página.

29. O procedimento correto para enviar um e-mail para três pessoas, de modo que cada uma delas consiga ver apenas o seu próprio endereço de e-mail e o do remetente é

- (A) incluir os três endereços de e-mail como CCO.
- (B) incluir os três endereços de e-mail como CC.
- (C) incluir um endereço de e-mail como Destinatário e os demais como CC.
- (D) incluir um endereço de e-mail como Destinatário e os demais como CCO.
- (E) incluir os três endereços de e-mail como Destinatário e como CC.

30. Observe a figura a seguir, extraída do MS-PowerPoint 2010, em sua configuração padrão.



O nome do recurso utilizado para gerar o conteúdo desse slide é

- (A) SmartArt, do grupo de Ilustrações, da guia Inserir.
- (B) Formas, do grupo de Ilustrações, da guia Inserir.
- (C) Gráficos, do grupo de Ilustrações, da guia Inserir.
- (D) WordArt, do grupo de Ilustrações, da guia Inserir.
- (E) Estilo, do grupo de WordArt, da guia Formatar.

CONHECIMENTOS ESPECÍFICOS

31. Uma importante característica das técnicas de seleção é o fato delas possibilitarem prever antecipadamente o comportamento do candidato, no desempenho futuro do cargo, em função dos resultados que ele alcançou quando foi submetido àquelas técnicas. O nome dessa característica é
- (A) exame.
 - (B) observação.
 - (C) preditor.
 - (D) ponderação.
 - (E) análise.
32. A empresa Ventos e Brisas utiliza para seu planejamento de pessoal, com vistas ao recrutamento de profissionais, um modelo que é estruturado no histórico de entradas, saídas, promoções e transferências de pessoas. O nome desse modelo é “ baseado
- (A) na substituição de postos-chave”.
 - (B) na procura estimada do produto ou serviço”.
 - (C) na segmentação de cargos e funções”.
 - (D) no fluxo de pessoal”.
 - (E) no planejamento integrado”.
33. Ao entrar em férias, o funcionário, além do salário que recebe, deve receber, até dois dias antes das férias, uma parte de seu salário equivalente a
- (A) $\frac{1}{3}$
 - (B) $\frac{1}{2}$
 - (C) 30%
 - (D) 33,11%
 - (E) $\frac{1}{4}$
34. Quanto à conceituação de cargo, tem-se alguns elementos envolvidos. Sobre o elemento “Atribuição”, pode-se dizer que ele representa uma atividade relacionada
- (A) a cargos simples.
 - (B) a cargos simples e repetitivos.
 - (C) a algum cargo que está no organograma.
 - (D) a algum cargo provisório.
 - (E) a cargos mais diferenciados.
35. A hierarquização dos cargos, com o objetivo de verificar sua importância relativa para a consecução dos objetivos organizacionais é o conteúdo principal
- (A) do planejamento de cargos.
 - (B) da avaliação de cargos.
 - (C) do posicionamento de cargos.
 - (D) da reordenação de cargos.
 - (E) da pontuação de cargos.
36. José da Conceição está sendo contratado pela empresa Baratos e Baratíssimos Ltda. Ele tem 4 filhos, com idades de 4, 6, 8 e 12 anos, e direito a receber o salário-família. Além dos documentos obrigatórios exigidos na contratação, José terá que apresentar certidão de nascimento, carteira de vacinação e declaração de matrícula e frequência no ensino fundamental, de acordo com a faixa etária de cada um de seus filhos. A quantidade de cada tipo de documentos a ser entregue será, respectivamente,
- (A) 2, 3, 2.
 - (B) 3, 2, 1.
 - (C) 4, 2, 2.
 - (D) 4, 3, 1.
 - (E) 4, 3, 2.
37. Fontes & Acessórios é uma empresa com 20 empregados, 10 deles têm um salário de R\$ 1.200,00; 5, de R\$ 2.300,00 e os outros 5, de R\$ 2.800,00. O somatório dos descontos, na fonte, do INSS a ser consignado na folha dos empregados é
- (A) R\$ 3.420,00.
 - (B) R\$ 3.535,00.
 - (C) R\$ 3.650,00.
 - (D) R\$ 3.655,00.
 - (E) R\$ 3.780,00.
38. As parcelas devidas ao empregado em razão do rompimento do vínculo contratual, tais como, o saldo de salários, as férias vencidas e proporcionais, o 13º salário, e outros valores restantes devidos, compõem
- (A) o Aviso prévio indenizado.
 - (B) a Homologação.
 - (C) os Créditos rescisórios.
 - (D) as Verbas rescisórias.
 - (E) o Saldo remanescente.

39. A funcionária Maria do Nascimento teve, durante o ano, 12 faltas ao serviço; Joana da Silva, 21; João José, 22; e Mário Antônio, 25. Todas as ausências sem justificativas. O total de dias que esses empregados terão, juntos, para o gozo de suas férias, de acordo com o artigo 130, da CLT, é de

- (A) 72.
- (B) 78.
- (C) 80.
- (D) 84.
- (E) 90.

40. A Cia Águas Turvas tem em seu conjunto de empregados alguns que estão trabalhando em graus diferentes de insalubridade e outros que estão em atividades consideradas perigosas. O quadro a seguir apresenta os salários e o nível de insalubridade e periculosidade de cada um deles. Assinale a alternativa que contém o valor correto dos adicionais pagos, na sua totalidade, à esses empregados.

FUNCIONÁRIO	SALÁRIO EM REAIS	PERICULOSIDADE OU GRAU DE INSALUBRIDADE
A	2.000,00	Periculosidade
B	1.000,00	Insalubridade – Grau Médio
C	2.000,00	Insalubridade – Grau Mínimo
D	3.500,00	Insalubridade – Grau Máximo
E	1.500,00	Periculosidade
F	2.500,00	Insalubridade – Grau Máximo

- (A) R\$ 2.500,00.
- (B) R\$ 2.850,00.
- (C) R\$ 3.450,00.
- (D) R\$ 3.700,00.
- (E) R\$ 3.850,00.

41. Paulo Barbosa foi admitido na empresa Frutos e Flores no mês de julho e seu empregador verificou que ele não havia feito a contribuição sindical do ano em curso no emprego anterior. Dessa forma, seu empregador

- (A) vai proceder ao desconto no mês de admissão e recolher a contribuição ao sindicato da categoria no mês de agosto.
- (B) não poderá fazer nenhum desconto da contribuição sindical no ano e avisará o sindicato da categoria sobre o fato.
- (C) vai proceder ao desconto em agosto e recolher a contribuição ao sindicato da categoria apenas no mês de março do ano seguinte.
- (D) vai proceder ao desconto em agosto e recolher a contribuição ao sindicato da categoria no mês de setembro.
- (E) vai proceder ao desconto e recolher a contribuição ao sindicato da categoria apenas no mês de março do ano seguinte.

42. Assinale a alternativa que contém um Benefício Supletivo.

- (A) Bolsa de estudos.
- (B) Horário flexível.
- (C) Apoio de Serviço Social.
- (D) Seguro de acidentes pessoais.
- (E) Sala de jogos.

43. Os prazos limites estabelecidos pela CLT para os contratos de prazo determinado e contrato de experiência são, respectivamente,

- (A) 90 dias e 60 dias.
- (B) 1 ano e 60 dias.
- (C) 2 anos e 90 dias.
- (D) 2 anos e 60 dias.
- (E) 90 dias e 90 dias.

44. Assinale a alternativa que contém uma situação que configura a suspensão do contrato de trabalho.

- (A) Licença remunerada.
- (B) Doação de sangue.
- (C) Afastamento por acidente do trabalho.
- (D) Licença-maternidade.
- (E) Licença sem remuneração.

45. A Lei do Orçamento, nº 4.320/64, diz em seu artigo 3º que ela compreenderá todas as receitas, incluindo as _____ autorizadas em lei.
- (A) operações de crédito
 - (B) subvenções por transferências
 - (C) dotações globais
 - (D) transferências globais
 - (E) contribuições por transferências
46. O Salário Mínimo Profissional de um engenheiro diplomado em um curso de 5 anos e que trabalha 8 horas por dia é de
- (A) R\$ 3.940,00.
 - (B) R\$ 4.728,00.
 - (C) R\$ 5.910,00.
 - (D) R\$ 7.092,00.
 - (E) R\$ 7.880,00.
47. Em respeito à Lei nº 5.194/66, uma atividade que pode ser indistintamente exercida por pessoa física ou jurídica, no âmbito da engenharia, diz respeito a
- (A) ensino, pesquisa, experimentação e ensaios.
 - (B) direção de obras e serviços técnicos.
 - (C) produção técnica especializada, industrial ou agropecuária.
 - (D) estudos, projetos, análises, avaliações, vistorias, perícias, pareceres e divulgação técnica.
 - (E) fiscalização de obras e serviços técnicos.
48. A Lei nº 6.496/77, além de instituir a ART (Anotação de Responsabilidade Técnica) na prestação de serviços de engenharia, cria também
- (A) o Código de Ética para os engenheiros.
 - (B) o Regulamento de Atuação Profissional do sistema CREA.
 - (C) o Plano Aberto de Previdência Suplementar.
 - (D) o Plano Aberto de Previdência Complementar.
 - (E) a Mútua de Assistência Profissional do sistema CREA.
49. A construção, pelo poder público, de um conjunto habitacional para a população de baixa renda está estimada em R\$ 2.000.000,00 (dois milhões de reais). A modalidade, de acordo com o art. 23, da Lei nº 8.666/93, deve ser
- (A) a Concorrência.
 - (B) o Leilão.
 - (C) a Tomada de Preços.
 - (D) o Convite.
 - (E) o Pregão.
50. A objetividade no atendimento do interesse público é um dos critérios que devem ser observados nos processos administrativos, de acordo com a Lei nº 9.784/99 art. 2º alínea III. Essa objetividade impede
- (A) a imposição de obrigações, restrições e sanções.
 - (B) a promoção pessoal de agentes ou autoridades.
 - (C) a prática de atos de improbidade.
 - (D) a cobrança de despesas indevidas.
 - (E) o desrespeito aos direitos dos interessados.
51. O técnico de 2º grau, das áreas de engenharia civil e de arquitetura, na modalidade de edificações, de acordo com o Decreto nº 90.922/85, podem projetar e dirigir edificações com área construída de até
- (A) 80 m².
 - (B) 90 m².
 - (C) 100 m².
 - (D) 180 m².
 - (E) 800 m².
52. Além das atividades profissionais da engenharia, elencadas no artigo 1º da Resolução CONFEA nº 218/73, é específico da profissão de engenheiro civil:
- (A) irrigação e drenagem para fins agrícolas.
 - (B) sistemas de comunicação e telecomunicações.
 - (C) pontes e grandes estruturas.
 - (D) prospecção e pesquisa mineral.
 - (E) operação, tráfego e serviços de comunicação de transporte aéreo.

53. Dentre as atividades que podem ser exercidas pelos tecnólogos, abrangidos pelo sistema Confea, desde que sejam sob supervisão e direção de Engenheiros, Arquitetos ou Engenheiros Agrônomos, de acordo com a Resolução CONFEA nº 313/86, está a de
- (A) padronização, mensuração e controle de qualidade.
 - (B) execução de instalação, montagem e reparo.
 - (C) operação e manutenção de equipamento e instalação.
 - (D) execução de obra e serviço técnico.
 - (E) execução de desenho técnico.
54. Quanto ao registro de pessoas jurídicas nos Conselhos Regionais de Engenharia, Arquitetura e Agronomia, de acordo com a Resolução CONFEA nº 336/89, é correto afirmar que
- (A) a Classe C refere-se a prestação de serviços, execução de obras ou serviços ou desenvolvimento de atividades reservadas aos profissionais da Engenharia, Arquitetura, Agronomia, Geologia, Geografia ou Meteorologia.
 - (B) a pessoa jurídica que não requerer o seu registro, no prazo de 90 (noventa) dias a contar do arquivamento de seus atos constitutivos nos órgãos competentes, será notificada para que, em 60 (sessenta) dias, promova a sua regularização perante o CREA, sob pena da competente autuação por exercício ilegal da profissão.
 - (C) a Classe A refere-se a qualquer outra atividade que mantenha seção, que preste ou execute para si ou para terceiros serviços, obras ou desenvolva atividades ligadas às áreas de Engenharia, Arquitetura, Agronomia, Geologia, Geografia ou Meteorologia.
 - (D) a mesma pessoa jurídica não pode ser enquadrada simultaneamente em mais de uma das classes relacionadas na Resolução.
 - (E) a Classe B refere-se a produção técnica especializada, industrial ou agropecuária, cuja atividade básica ou preponderante necessite do conhecimento técnico inerente aos profissionais da Engenharia, Arquitetura, Agronomia, Geologia, Geografia ou Meteorologia.
55. O Parágrafo Único do art. 73 da Lei nº 5.194/66 e a Resolução CONFEA nº 397/95 que o referenda, estipulam que, no caso de reincidência do não cumprimento do piso salarial, seja aplicada uma multa equivalente
- (A) ao triplo da multa anterior.
 - (B) ao dobro da multa anterior.
 - (C) à 4 vezes a multa anterior.
 - (D) à $\frac{1}{2}$ da multa anterior.
 - (E) à $\frac{1}{4}$ da multa anterior.
56. A Resolução CONFEA nº 413/97, que trata do visto em registro de pessoa jurídica, estabelece que será concedido visto a pessoa jurídica originária de outro Conselho Regional, no caso de execução de obras ou prestação de serviços, por um prazo
- (A) equivalente a validade da certidão de registro.
 - (B) não superior a 120 dias.
 - (C) não superior a 180 dias.
 - (D) de até 90 dias.
 - (E) renovável, por 3 vezes, a cada 90 dias.
57. Quanto à Anotação de Responsabilidade Técnica – ART – é correto afirmar que
- (A) a ART define, para os efeitos legais, os responsáveis técnicos pela execução de obras ou prestação de quaisquer serviços de Engenharia, Arquitetura e Agronomia, objeto do contrato.
 - (B) a alteração do cargo ou função técnica não gerará a obrigatoriedade de uma nova ART.
 - (C) a substituição, a qualquer tempo, de um ou mais responsáveis técnicos pelas obras ou serviços previstos no contrato, não gerará a obrigatoriedade de uma nova ART.
 - (D) o erro ou falta de preenchimento de qualquer campo ou formulário da ART, gerará a obrigatoriedade de substituição da referida ART, no prazo de 60 (sessenta) dias.
 - (E) a prorrogação, o aditamento, a modificação de objetivo ou qualquer outra alteração contratual que envolva obras ou prestação de serviços de Engenharia, Arquitetura e Agronomia não gerará a obrigatoriedade de ART complementar.

- 58.** O Código de Ética Profissional da Engenharia, da Arquitetura, da Agronomia, da Geologia, da Geografia e da Meteorologia adotado pela resolução CONFEA 1.002/02 estabelece algumas práticas que são vedadas aos seus profissionais. Na relação com clientes, fornecedores, colaboradores e empregados é vedado
- (A) usar de privilégio profissional ou faculdade decorrente de função de forma abusiva, para fins discriminatórios ou para auferir vantagens pessoais.
 - (B) aceitar trabalho, contrato, emprego, função ou tarefa para os quais não tenha efetiva qualificação.
 - (C) intervir em trabalho de outro profissional sem a devida autorização de seu titular, salvo no exercício do dever legal.
 - (D) utilizar indevida ou abusivamente do privilégio de exclusividade de direito profissional.
 - (E) usar de artifícios ou expedientes enganosos para a obtenção de vantagens indevidas, ganhos marginais ou conquista de contratos.
- 59.** A Resolução CONFEA nº 1.004/03 aprova documento que estabelece procedimentos para instauração, instrução e julgamento dos processos administrativos e aplicação das penalidades relacionadas à apuração de infração ao Código de Ética Profissional. O nome correto desse documento é
- (A) Manual de Procedimentos para a Condução de Processo de Infração ao Código de Ética Profissional.
 - (B) Regulamento para a Condução do Processo Ético Disciplinar.
 - (C) Manual para a Observância do Código de Ética Profissional.
 - (D) Regulamento para a Condução do Processo de Infração ao Código de Ética Profissional.
 - (E) Manual de Procedimentos para a Condução da Observância ao Código de Ética Profissional.
- 60.** Ao profissional que tenha seu registro interrompido no sistema Confea/Crea é facultado solicitar
- (A) a Certidão de Responsabilidade Técnica – CRT.
 - (B) a Anotação do Sistema Confea/CREA – SIC.
 - (C) a Anotação de Responsabilidade Técnica – ART.
 - (D) a Certidão de Acervo Técnico – CAT.
 - (E) o Comprovante de Formação Técnica – CFT.

