



CÂMARA MUNICIPAL DE SÃO JOSÉ DO RIO PRETO
ESTADO DE SÃO PAULO

CONCURSO PÚBLICO

004. PROVA OBJETIVA

AGENTE PARLAMENTAR DE CERIMONIAL

- ◆ Você recebeu sua folha de respostas e este caderno contendo 50 questões objetivas.
- ◆ Confira seu nome e número de inscrição impressos na capa deste caderno e na folha de respostas.
- ◆ Quando for permitido abrir o caderno, verifique se está completo ou se apresenta imperfeições. Caso haja algum problema, informe ao fiscal da sala.
- ◆ Leia cuidadosamente todas as questões e escolha a resposta que você considera correta.
- ◆ Marque, na folha de respostas, com caneta de tinta azul ou preta, a letra correspondente à alternativa que você escolheu.
- ◆ A duração da prova é de 3 horas, já incluído o tempo para o preenchimento da folha de respostas.
- ◆ Só será permitida a saída definitiva da sala e do prédio após transcorridos 75% do tempo de duração da prova.
- ◆ Ao sair, você entregará ao fiscal a folha de respostas e este caderno, podendo levar apenas o rascunho de gabarito, localizado em sua carteira, para futura conferência.
- ◆ Até que você saia do prédio, todas as proibições e orientações continuam válidas.

AGUARDE A ORDEM DO FISCAL PARA ABRIR ESTE CADERNO DE QUESTÕES.

Nome do candidato _____

Prédio _____

Sala _____

Carteira _____

Inscrição _____

CONHECIMENTOS GERAIS

LÍNGUA PORTUGUESA

Leia o texto para responder às questões de números **01** a **05**.

Quando vieram ao mundo, eram de uma feiura que chegava a comover; o corpo pelado, a pele enrugada, os olhos cerrados. Mas poucos bebês foram tão esperados como as duas ararinhas-azuis que nasceram no interior paulista, em endereço mantido em sigilo. São as primeiras geradas no Brasil nos últimos 14 anos, quando a espécie foi considerada extinta na natureza, com o fim do último exemplar, em Curaçá, na Bahia.

Os bebês feiosos em nada lembravam a ararinha Blu, famosa personagem do filme *Rio*. Nasceram com 15 gramas, mas com pouco menos de dois meses já haviam ganhado corpo e penas azuis, que as tornam tão valiosas no mercado paralelo – cada uma chega a valer 100 mil euros (cerca de R\$ 325,4 mil reais).

O nascimento dos filhotes, ainda sem nome, foi fruto de um esforço de instituições do Brasil, da Alemanha e do Catar, que integram o “Projeto Ararinha na Natureza”, coordenado pelo Instituto Chico Mendes de Conservação da Biodiversidade, com patrocínio da Vale.

As ararinhas-azuis eram encontradas somente na Caatinga, em Curaçá. Além dos predadores naturais, como gaviões, enfrentaram dificuldades para reprodução: foram expulsas por abelhas do oco das árvores onde faziam ninhos. Mas foi a captura para o tráfico a causa de seu desaparecimento na natureza. Sobraram 90 ararinhas em cativeiro – 70 delas no Catar, 9 na Alemanha e 11 no Nest, criadouro científico no interior de São Paulo, cadastrado no Instituto, cujo endereço não é divulgado para não atrair caçadores e traficantes de aves.

A analista ambiental, Patrícia Serafini, afirma que as ararinhas-azuis são monogâmicas e entre elas há uma química. O que em laboratório parece ideal, às vezes não dá certo. No caso das aves que estão no Nest, Blu e Flor, a união indicada pelos testes funcionou. A fêmea começou a pôr ovos. Foram três posturas, oito ovos – dois vingaram. Pai e mãe cuidam dos bebês, que passaram os primeiros 20 dias no ninho.

(O Estado de S. Paulo. 21.12.2014. Adaptado)

01. Lendo-se o texto, conclui-se que o título coerente com os sentidos expressos é:

- (A) O homem, predador eterno da natureza.
- (B) Os testes suspeitos do Projeto Ararinha-azul.
- (C) A inconsciência da população de Curaçá.
- (D) A analista ambiental desaconselha os testes de laboratórios.
- (E) Química entre casal de aves faz nascer duas ararinhas-azuis.

02. O sigilo do endereço das aves-bebês foi mantido porque

- (A) os cientistas gananciosos querem se aproveitar do experimento.
- (B) os mercadores de aves cobiçam a plumagem azul das ararinhas.
- (C) as ararinhas-azuis ajudam na conservação da biodiversidade.
- (D) outros países têm interesse em preservar a espécie.
- (E) a Vale exigiu, pois investiu muito dinheiro na experiência.

03. De acordo com a frase – ... poucos bebês foram tão esperados como as duas ararinhas-azuis... –, é correto afirmar que os bebês feiosos

- (A) produziram grande expectativa nas pessoas.
- (B) inspiraram cuidados exagerados dos cientistas.
- (C) agitaram o mercado paralelo nos países europeus.
- (D) provocaram euforia nos habitantes de Curaçá.
- (E) deixaram a analista ambiental comovida.

04. Quanto ao emprego ou não da crase, as frases:

- Quando vieram ao mundo, eram de uma feiura que levava...

- O Instituto Chico Mendes dedica-se...

completam-se, correta e respectivamente, em

- (A) a comoção./ à conservar a biodiversidade.
- (B) à comoção./ a conservar à biodiversidade.
- (C) à comoção./ à conservar à biodiversidade.
- (D) à comoção./ a conservar a biodiversidade.
- (E) a comoção./ a conservar a biodiversidade.

05. A regra de concordância verbal de – Pai e mãe cuidam dos bebês... – repete-se em:

- (A) Sobraram 90 ararinhas em cativeiro.
- (B) Em nada lembravam a ararinha Blu os bebês feiosos.
- (C) Alemanha, Brasil e Catar integram o “Projeto Ararinha na Natureza”.
- (D) As ararinhas-azuis eram encontradas apenas na Caatinga.
- (E) Patrícia Serafini coordena o programa de cativeiro.

Leia o trecho para responder às questões de números 06 a 08.

Uma onda de criatividade

Antes da web, pessoas comuns só podiam publicar ideias e criações se convencessem guardiões dos portais da mídia a lhes dar destaque. Mas a web deu a elas uma plataforma global para publicar seus escritos, fotos, áudios e vídeos, e as pessoas agarraram a oportunidade.

(Folha de S. Paulo. 09.03.2014. Adaptado)

06. Assinale a alternativa correta quanto à colocação do pronome pessoal.

- (A) A web não dava-lhes oportunidade.
- (B) Era a web que dava-lhes oportunidade.
- (C) Lhes dava, sim, oportunidade a web.
- (D) A web sempre dava-lhes oportunidade.
- (E) A web não lhes dava oportunidade.

07. Assinale a alternativa em que há entre as frases sentido contrário.

- (A) Pessoas comuns podem publicar ideias. – Pessoas comuns podem divulgar ideias.
- (B) Uma onda de criatividade tomou conta de todos. – Uma onda de inspiração apossou-se de todos.
- (C) A web deu destaque às pessoas. – A web ignorou as pessoas.
- (D) A web ofereceu publicidade às pessoas. – A web franqueou publicidade às pessoas.
- (E) Pessoas comuns convenceram os guardiões dos portais. – Pessoas comuns persuadiram os guardiões dos portais.

08. Em – ... as pessoas agarraram a oportunidade. –, observe-se emprego de sentido figurado, o que se repete em:

- (A) A criança agarrou-se à mãe quando viu a figura do ET na tela do cinema.
- (B) A macaca-mãe e o filhote estavam amedrontados e agarravam-se aos galhos da árvore.
- (C) Assim que foi convocado, o jogador agarrou a unhas e dentes o convite para compor a equipe.
- (D) Quando querem protestar, os presidiários agarram-se às grades e começam a gritar.
- (E) O peão agarrou-se ao animal e não mais o soltou, até que fosse dado como vencedor.

Leia a tirinha para responder às questões de números 09 e 10.



(Folha de S. Paulo, 05.03.2014)

09. Interpretando-se as falas das personagens, conclui-se que

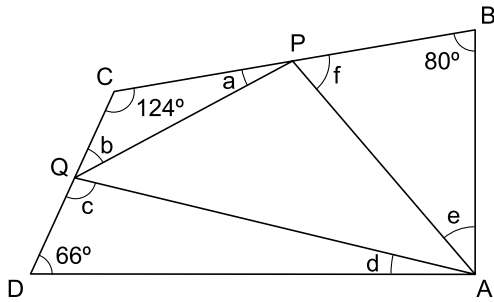
- (A) as ferramentas digitais facultam ao cidadão participar da democracia.
- (B) o Facebook não fez bom negócio ao pagar tão caro pelo WhatsApp.
- (C) o proprietário do Facebook concorda com os ideais de democracia.
- (D) o WhatsApp será majoritário na aquisição de ferramentas digitais.
- (E) o conceito de democracia pressupõe distribuição igualitária de poder.

10. Assinale a alternativa que completa corretamente, de acordo com a modalidade-padrão, a frase – As empresas são poucas, mas

- (A) nenhuma pleiteiam concentração de poder.
- (B) os internautas atualmente são muitos.
- (C) cada uma procuram exercer a democracia.
- (D) os usuários são tanto que não se pode contá-los.
- (E) são o mais possivelmente democrática.

11. Uma brincadeira antiga com números começava com a pergunta:
“Quanto é a metade de dois mais dois?”
E o interpelado quase sempre respondia com “2”, quando a resposta correta é “3”. Essa brincadeira usa a ordem de precedência dos operadores, que exige que a divisão venha antes da soma, quando não há parênteses envolvidos.
Usando a ordem de precedência dos operadores, e considerando que não há parênteses envolvidos, para a pergunta: “Quanto é a décima segunda parte de mil duzentos e doze subtraída de doze vezes nove mais doze”?
A resposta correta é
- (A) -151.
(B) -85.
(C) 5.
(D) 120.
(E) 762.
12. O hall de um edifício comercial possui três elevadores que servem andares diferentes. Entre sair do hall, atender aos andares predeterminados e voltar ao hall para reiniciar as viagens, cada um desses elevadores, em situações normais, demora 4 minutos, 10 minutos e 12 minutos, respectivamente. Em um dia em que os elevadores operaram normalmente, esses elevadores encontravam-se no hall às 9h12min. O próximo horário em que os três elevadores estiveram, ao mesmo tempo, no hall, foi às
- (A) 9h38min.
(B) 9h44min.
(C) 9h50min.
(D) 10h06min.
(E) 10h12min.
13. Uma doçaria produz bolos de três tamanhos. O bolo mais produzido é o médio, que representa 40% dos bolos fabricados no mês. São produzidos 110 bolos grandes por mês, e o número de bolos pequenos produzidos é 10 a menos do que o número de bolos médios. No total, essa doçaria produz, por mês, um número de bolos igual a
- (A) 400.
(B) 500.
(C) 600.
(D) 700.
(E) 800.
14. O produto do número de irmãos pelo número de irmãs em uma família é igual a 24. Se a diferença entre o número de irmãos e irmãs é igual a 5, o número de irmãos mais irmãs dessa família é igual a
- (A) 8.
(B) 9.
(C) 10.
(D) 11.
(E) 12.

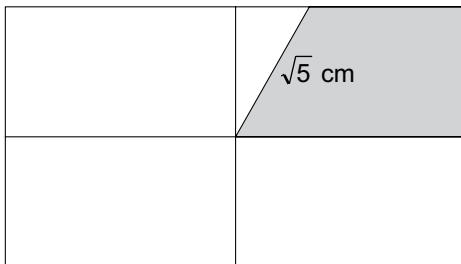
15. Na figura, os pontos P e Q pertencem, respectivamente, aos lados BC e CD do quadrilátero ABCD.



A soma dos ângulos internos do triângulo APQ é 180° , que é o valor da soma dos ângulos internos de qualquer triângulo.

O valor de $a + b + c + d + e + f$ é igual a

- (A) 270° .
 - (B) 300° .
 - (C) 330° .
 - (D) 360° .
 - (E) 390° .
16. O retângulo da figura tem lado maior de medida 7 cm e lado menor medindo 4 cm e está dividido por dois segmentos.

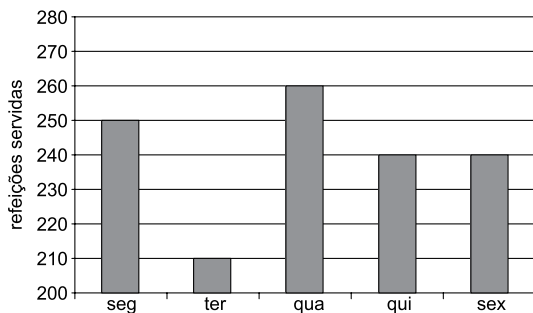


Esses segmentos ligam os pontos médios dos lados opostos do retângulo, e o trapézio destacado tem a base maior sobre um dos segmentos e outros dois lados sobre lados do retângulo.

A área desse trapézio, em cm^2 , vale

- (A) 4,5.
 - (B) 5.
 - (C) 5,5.
 - (D) 6.
 - (E) 6,5.
17. Três amigos que fazem aniversário no mesmo dia fizeram uma comemoração especial, pois a soma de suas idades passou a ser 100 anos. O mais velho tem 12 anos a mais do que o mais novo, e a diferença entre as idades dos dois amigos mais novos é de apenas 1 ano. A diferença, em anos, entre os dois amigos mais velhos, é
- (A) 9.
 - (B) 10.
 - (C) 11.
 - (D) 12.
 - (E) 13.

18. A soma das massas de quatro irmãos é 264 kg. Considerando os três irmãos mais pesados, a média aritmética de suas massas é 71 kg, o que permite concluir que a massa, em kg, do irmão mais leve, é
- (A) 51.
(B) 54.
(C) 57.
(D) 60.
(E) 63.
19. Para completar uma coleção de revistas antigas, Daniel precisou procurar, por cinco anos, em sebos da cidade. No primeiro ano, ele conseguiu o triplo de revistas conseguidas no segundo ano. No terceiro ano, ele conseguiu 77 revistas, e no quarto ano, a metade do que conseguiu no primeiro ano. O total das revistas dessa coleção é cinco vezes maior do que o total conseguido no quarto ano. Sabendo-se que no último ano Daniel conseguiu os 43 últimos exemplares, o número de exemplares conseguidos no segundo ano é um número múltiplo de
- (A) 14.
(B) 15.
(C) 16.
(D) 17.
(E) 18.
20. O gráfico representa o número de refeições servidas por um restaurante na primeira semana útil do mês.



Em relação ao total de refeições servidas nessa semana, o número de refeições servidas na quinta-feira corresponde a

- (A) 4%.
(B) 8%.
(C) 12%.
(D) 16%.
(E) 20%.

LEGISLAÇÃO

21. A Constituição Federal, por meio de seu art. 5º, assegura a todos:

- (A) o direito à obtenção de certidões em repartições públicas, para defesa de direitos e esclarecimentos de situações de interesse coletivo.
- (B) que a pequena e média propriedade rural, assim definida em lei, desde que trabalhada pela família, não será objeto de penhora para pagamento de débitos decorrentes de sua atividade produtiva.
- (C) a proteção, nos termos da lei, às participações individuais em obras coletivas e à reprodução da imagem e voz humanas, salvo nas atividades desportivas.
- (D) o direito de petição aos Poderes Públicos em defesa de direito ou contra ilegalidade ou abuso de poder, independentemente do pagamento de taxas.
- (E) a competência do júri para o julgamento dos crimes culposos contra a vida.

22. José é professor aposentado da rede municipal de ensino e recebe proventos em decorrência de sua aposentadoria no valor de R\$ 2.000,00. Em virtude de seus conhecimentos na área do ensino, José, após ter sido aposentado, foi convidado para assumir determinado cargo em comissão na prefeitura do município em que reside, para o qual seria remunerado no valor de R\$ 4.000,00. Como seu ganho somaria R\$ 6.000,00, valor abaixo do teto constitucional, José ficou animado com o convite. Nos termos da Constituição Federal, José

- (A) caso aceite o convite e seja nomeado para o cargo em comissão, só perderá o cargo, após três anos de efetivo exercício, em virtude de sentença judicial transitada em julgado.
- (B) pode perceber proventos de aposentadoria e, simultaneamente, a remuneração do cargo em comissão.
- (C) não pode ocupar o cargo em comissão por já ser servidor aposentado.
- (D) pode ocupar o cargo em comissão, mas desde que solicite sua desaposentação.
- (E) não pode ser nomeado para o cargo em comissão, pois a investidura em cargo ou emprego público depende de aprovação prévia em concurso público de provas ou de provas e títulos.

23. João é servidor público do Município de São José do Rio Preto e, cumprindo ordem de seu superior hierárquico, utilizou seu veículo para executar serviço externo no próprio Município, por força das atribuições de seu cargo. Como bom conhecedor do Estatuto a que está vinculado, João solicitou e teve deferido o direito

- (A) ao reembolso de transporte.
- (B) à ajuda de custo.
- (C) à diária.
- (D) ao auxílio transporte.
- (E) à gratificação de locomoção.

24. Sobre as sessões legislativas, o Regimento Interno da Câmara Municipal de São José do Rio Preto estabelece que

- (A) a legislatura compreende 1 sessão legislativa que se inicia em 1º de fevereiro e termina em 20 de dezembro de cada ano.
- (B) a legislatura compreende 2 sessões legislativas: a primeira tem início em 1º de fevereiro e término em 30 de junho de cada ano; e a segunda tem início em 21 de julho e término em 20 de dezembro de cada ano.
- (C) a legislatura compreende 4 sessões legislativas, com início cada uma em 1º de fevereiro e término em 20 de dezembro de cada ano.
- (D) as sessões ordinárias só poderão ser abertas com a presença de, no mínimo, metade dos membros da Câmara.
- (E) terão a duração máxima de duas horas, podendo ser prorrogadas a requerimento escrito de qualquer Vereador, aprovado pelo Plenário.

25. A Lei Orgânica de São José do Rio Preto estabelece que as contas do Município ficarão, anualmente, à disposição de qualquer contribuinte, para exame e apreciação, durante o prazo de

- (A) dez dias.
- (B) trinta dias.
- (C) quarenta e cinco dias.
- (D) sessenta dias.
- (E) noventa dias.

26. Em uma planilha do MS-Excel 2010, na sua configuração padrão, conforme ilustra a figura, na célula D2 foi aplicada a fórmula






=SOMA(A1:B2)/SE(MÉDIA(C1:C4)>4;B1*(SOMA(B2:B3)/5);B2/2)

	A	B	C	D
1	2	5	9	4
2	1	2	6	2
3	2	3	4	2
4	1	2	1	2
5				

Alterando o valor da célula C1 de 9 para 1, o novo valor da célula D2 será


- (A) 10
- (B) 11
- (C) 15
- (D) 16
- (E) 20

27. No MS-Word 2010, a partir da sua configuração padrão, em um documento que está sendo editado, no guia “Página Inicial”, no grupo “Parágrafo”, o ícone que permite desenhar uma Tabela é

- (A) 
- (B) 
- (C) 
- (D) 
- (E) 

28. No PowerPoint 2010, a partir da sua configuração, o



ícone  permite inserir um gráfico em uma apresentação que está sendo editada. Assinale a alternativa correta com o nome do guia que contém esse ícone.

- (A) Arquivo.
- (B) Exibição.
- (C) Design.
- (D) Inserir.
- (E) Página Inicial.

29. No Windows 7, a partir da sua configuração padrão, a aplicação chamada “Notas Autoadesivas” está contida na pasta _____, bem como a “Calculadora”.

Assinale a alternativa que preenche corretamente a lacuna.

- (A) Aplicações
- (B) Opções
- (C) Acessibilidade
- (D) Acessórios
- (E) Painel de Programas

30. Durante a preparação de um e-mail, foram digitados:

Campo “Para”, os seguintes endereços eletrônicos: jose@ gmail.com; solange@@yahoo.com.br

Campo “Cc”, os seguintes endereços eletrônicos: sergiosolano.globo.com; sac_cliente@gmail.com

Campo “Cco”, sem nenhum endereço eletrônico.

Campo “Assunto” ficou sem preenchimento.

Assinale a alternativa que contém afirmativa verdadeira.

- (A) Os endereços eletrônicos digitados no campo “Para” e “Cc” estão corretos.
- (B) O campo “Cco” e “Assunto” são de preenchimentos obrigatórios.
- (C) O endereço eletrônico: sac_cliente@gmail.com está correto.
- (D) O campo “Cc” foi preenchido porque é de preenchimento obrigatório.
- (E) O endereço eletrônico sergiosolano.globo.com é válido.

CONHECIMENTOS ESPECÍFICOS

31. De acordo com teóricos da área, as etapas de organização de um evento são:
- (A) classificação, pesquisa e coordenação.
 - (B) logística, comunicação e orçamento.
 - (C) planejamento, execução e avaliação.
 - (D) produção, divulgação e realização.
 - (E) protocolo, cerimonial e precedência.
32. “A secretaria de eventos é o local de recepção dos participantes, e de trabalho da equipe de recepcionistas.”
- Desta forma, a secretaria possui como atribuições, além da recepção do público em geral e dos participantes inscritos ou não,
- (A) controle de autoridades, atendimento à imprensa, montagem de listas de presenças, registro de atas e guarda de bagagens.
 - (B) montagem da mesa diretora, organização das pastas, credenciamento, arquivo de inscrições e atendimento telefônico.
 - (C) montagem de material, atendimento ao público, arquivo de documentos, pagamento de fornecedores e serviço de apoio.
 - (D) registro de documentos, controle de agendas, pauta da solenidade, atendimento ao público e organização do material.
 - (E) registro de novas inscrições, entrega de material, informações gerais, controle de presenças e atualização de endereços.
33. Assinale a alternativa que contém a sequência correta para os pronunciamentos dos discursos das autoridades que compõem uma mesa diretora, durante uma cerimônia oficial, nos Estados da União, com a presença de autoridades federais.
- (A) Governador, Prefeito e, por último, o Presidente da República.
 - (B) Prefeito, Governador e, por último, o Presidente da República.
 - (C) Prefeito, Presidente da República e, por último, o Governador.
 - (D) Presidente da República, Governador e, por último, o Prefeito.
 - (E) Presidente da República, Prefeito e, por último, o Governador.
34. Assinale a alternativa que contém a lista de autoridades que recebem a forma de tratamento “Vossa Excelência”, de acordo com a instrução normativa nº 4, de 6 de março de 1992.
- (A) Embaixadores, Deputados Estaduais e Membros de Tribunais.
 - (B) Governadores de Estado, Cardeais e Ministros dos Tribunais Superiores.
 - (C) Juízes, Reitores e Presidentes das Câmaras Legislativas Municipais.
 - (D) Prefeitos Municipais, Cônegos e Auditores da Justiça Militar.
 - (E) Presidente da República, Deputados Federais e Reitores.
35. São considerados eventos baseados nas reuniões diárias:
- (A) *brunch*, almoço, *coffee break* e coquetel.
 - (B) concurso, torneio, prêmio e vestibular.
 - (C) conferência, palestra, seminário e simpósio.
 - (D) excursão, noite de autógrafos, salão e mostra.
 - (E) festival, inauguração, feira e *road show*.
36. O tipo de evento que marca o início de uma construção e consiste em depositar em uma urna algo que represente o momento vivido pela organização e que fique devidamente registrado para gerações futuras é
- (A) a inauguração de espaço físico.
 - (B) a inauguração de retratos, bustos e estátuas.
 - (C) o lançamento de maquete.
 - (D) o lançamento de pedra fundamental.
 - (E) o lançamento de projeto arquitetônico.
37. Assinale a alternativa correta para o termo que define “a rigorosa observância de certas formalidades em eventos oficiais, entre autoridades nacionais e estrangeiras”.
- (A) Cerimonial.
 - (B) Etiqueta.
 - (C) Hierarquia.
 - (D) Protocolo.
 - (E) Solenidade.

38. O Decreto Federal nº 70.274/72, que apresenta as normas do cerimonial público e ordem geral de precedência, esclarece que quando o Presidente da República se fizer representar em solenidades ou cerimônias, o lugar que compete a seu representante é
- (A) à direita da autoridade que as presidir.
 - (B) à direita do representante do poder legislativo.
 - (C) à esquerda da autoridade que as presidir.
 - (D) à esquerda do chefe do cerimonial.
 - (E) ao centro da mesa diretora.
39. “A Bandeira Nacional pode ser usada em todas as manifestações do sentimento patriótico dos brasileiros, de caráter oficial ou particular”. Desta forma, de acordo com o Decreto Federal nº 70.274/72, é correto afirmar que a Bandeira Nacional pode ser apresentada
- (A) à esquerda de tribunas, púlpitos, mesas de reunião ou de trabalho.
 - (B) compondo com outras bandeiras, panóplias, escudos ou peças semelhantes.
 - (C) destacada atrás de outras bandeiras, quando conduzidas em formaturas ou desfiles.
 - (D) distendida ou sem mastro, de modo que o lado maior fique na vertical.
 - (E) em mastros, podendo ser hasteada às 09h00 e arriada às 18h00.
40. “É o elemento de ligação entre as fases da solenidade e os participantes e tem a incumbência de anunciá-la, identificando os envolvidos em cada etapa e acrescentando informações complementares quando necessário.”
- Assinale a alternativa que se refere ao profissional descrito.
- (A) Apresentador.
 - (B) Anfitrião.
 - (C) Co-anfitrião.
 - (D) Coordenador.
 - (E) Mestre de cerimônias.
41. Durante a abertura de uma cerimônia, sugere-se, como um roteiro básico, que o mestre de cerimônias faça uma saudação à plateia e uma breve apresentação alusiva ao evento. Na sequência, deve-se
- (A) compor a mesa diretiva.
 - (B) executar o hino nacional.
 - (C) iniciar pronunciamentos/discursos.
 - (D) passar a palavra à maior autoridade a fim de dar por aberto o evento.
 - (E) registrar a presença de autoridades.
42. Assinale a alternativa que descreve a função de um assessor de imprensa durante a organização de um evento.
- (A) Comprar espaço publicitário nos veículos de comunicação.
 - (B) Criar meios para que o evento atraia a atenção da imprensa.
 - (C) Definir a contratação de palestrantes e cuidar dela.
 - (D) Realizar levantamento e cotação de fornecedores.
 - (E) Supervisionar a montagem do espaço físico e respectiva decoração.
43. O tipo de material a ser produzido pela Assessoria de Imprensa para divulgação de um evento em veículos de comunicação é:
- (A) anúncio publicitário a ser veiculado nos principais veículos de comunicação.
 - (B) brindes para atrair a atenção de jornalistas que realizam a cobertura do setor.
 - (C) jornal mural a ser afixado nas dependências dos jornais locais.
 - (D) *press releases* a serem distribuídos aos veículos de comunicação de interesse.
 - (E) pesquisa prévia para conhecer o interesse dos jornalistas quanto ao horário do evento.

44. Devem estar presentes à chegada do Presidente da República, em visita oficial, além do Governador do Estado e de representantes de cada Ministério Militar, as seguintes autoridades locais:
- (A) Prefeito, Presidente da Câmara dos Vereadores, Secretários de Governo, Presidente da Assembleia Legislativa e do Tribunal Regional Eleitoral.
 - (B) Presidente da Assembleia Legislativa e do Tribunal de Justiça, Secretários de Governo e do Município, além do Prefeito.
 - (C) Presidente da Câmara dos Vereadores, Vice-Governador do Estado, Presidente da Assembleia Legislativa e Secretários de Governo.
 - (D) Vice-Governador do Estado, Prefeito, Presidente da Câmara dos Vereadores, Secretários de Governo e Presidente da Assembleia Legislativa.
 - (E) Vice-Governador do Estado, Presidente da Assembleia Legislativa e do Tribunal de Justiça, Secretários de Governo e Prefeito.
45. Assinale a alternativa em que está relacionada a norma oficial do protocolo para a recepção de um Chefe de Estado Estrangeiro.
- (A) A autoridade deverá ser recebida no desembarque pela equipe de trabalho do aeroporto, sem prejuízo ao funcionamento normal do local.
 - (B) A recepção deverá ser realizada no momento do desembarque apenas pelo Decano do Corpo Consular e demais autoridades do Ministério das Relações Exteriores.
 - (C) A recepção, com a presença do Presidente da República e demais autoridades locais, ocorrerá em local apropriado e não no aeroporto.
 - (D) Quando acompanhado de sua senhora, todos os membros da comitiva de recepção deverão, também, estar acompanhados de suas respectivas senhoras.
 - (E) Será a equipe do aeroporto a responsável pela organização do cortejo de automóveis que levará a comitiva ao local de hospedagem.
46. Para o controle das atividades operacionais de um evento, os organizadores devem utilizar diversas ferramentas visando sistematizar o trabalho, bem como torná-lo ágil e manter o controle sobre o processo.
- Assinale a alternativa que contém ferramentas que contribuem para que o organizador conheça o ponto de equilíbrio de um evento.
- (A) Cronograma, roteiro e mailing.
 - (B) Fluxo de caixa, planilha de custos e orçamento.
 - (C) Organograma, fluxograma e roteiro.
 - (D) Pró-memória, contrato e fluxograma.
 - (E) Relatório, checklist e programação.
47. Como devem ser estabelecidos os objetivos de um evento, considerando que a sua realização requer o envolvimento de diversos públicos, ou seja, autoridades, participantes, patrocinadores, imprensa, fornecedores, comunidade, órgãos governamentais, entre outros, e que sua avaliação será necessária para posterior demonstração dos resultados?
- (A) Considerando que os objetivos do evento são de interesse exclusivo da organização promotora, esses devem ser mensurados de acordo com os resultados mercadológicos da ação.
 - (B) Considerando que os resultados do evento são de interesse exclusivo dos patrocinadores, os objetivos devem ser estabelecidos de forma a ampliar a visibilidade desse público.
 - (C) O planejador do evento deve considerar apenas os interesses do público-alvo do evento, já que os demais são secundários e não serão considerados no momento da avaliação e mensuração dos resultados.
 - (D) Para que os resultados sejam identificados, os promotores do evento devem contratar empresas especializadas em pesquisa para avaliar a satisfação dos participantes e estabelecer objetivos que possam ser cumpridos.
 - (E) Sendo o evento um ambiente de convergência dos diversos interesses dos públicos envolvidos, o plano do evento deve conter objetivos que sejam mensuráveis e específicos para cada tipo de público.

- 48.** Assinale a alternativa correta no que diz respeito à presidência de cerimônias oficiais, segundo as normas do Cerimonial Público do Município de São José do Rio Preto.
- (A) As regras do cerimonial do Poder Executivo devem ser aplicadas aos demais poderes municipais.
 - (B) Mesmo nas solenidades de caráter exclusivamente militar, o Prefeito Municipal presidirá a cerimônia.
 - (C) O Prefeito Municipal presidirá as solenidades realizadas em qualquer um dos Três Poderes.
 - (D) Quando outra autoridade presidir a solenidade, o Prefeito Municipal deverá ocupar lugar de honra.
 - (E) Solenidade oficial do Poder Executivo deverá ser presidida pelo Secretário da Fazenda do Município.
- 49.** De acordo com o Decreto nº 9.204/97, o critério que deve ser utilizado para a definição da precedência do secretariado Municipal de São José do Rio Preto em cerimônias oficiais é:
- (A) decisão do mestre de cerimônias.
 - (B) idade dos Secretários.
 - (C) ordem alfabética das Secretarias.
 - (D) sexo dos Secretários.
 - (E) tempo de existência das Secretarias.
- 50.** De acordo com o Decreto nº 9.204/97, é correto afirmar que possui precedência o presidente do partido político que possui
- (A) o maior número de deputados e vereadores.
 - (B) a menor representação na Câmara Municipal.
 - (C) a mesma filiação do atual chefe do Executivo.
 - (D) a mesma filiação do atual vice-prefeito.
 - (E) a mesma filiação do presidente da Câmara dos Vereadores.

