



CONCURSO PÚBLICO

002. PROVA OBJETIVA**MÉDICO – ÁREA: CLÍNICA GERAL**

(Código 002)

- ◆ Você recebeu sua folha de respostas e este caderno contendo 60 questões objetivas.
- ◆ Confira seu nome e número de inscrição impressos na capa deste caderno e na folha de respostas.
- ◆ Quando for permitido abrir o caderno, verifique se está completo ou se apresenta imperfeições. Caso haja algum problema, informe ao fiscal da sala.
- ◆ Leia cuidadosamente todas as questões e escolha a resposta que você considera correta.
- ◆ Marque, na folha de respostas, com caneta de tinta azul ou preta, a letra correspondente à alternativa que você escolheu.
- ◆ A duração da prova é de 3 horas e 30 minutos, já incluído o tempo para o preenchimento da folha de respostas.
- ◆ Só será permitida a saída definitiva da sala e do prédio após transcorridos 75% do tempo de duração da prova.
- ◆ Ao sair, você entregará ao fiscal a folha de respostas e este caderno, podendo levar apenas o rascunho de gabarito, localizado em sua carteira, para futura conferência.
- ◆ Até que você saia do prédio, todas as proibições e orientações continuam válidas.

AGUARDE A ORDEM DO FISCAL PARA ABRIR ESTE CADERNO DE QUESTÕES.

CONHECIMENTOS GERAIS

LÍNGUA PORTUGUESA

Leia o texto para responder às questões de números **01** a **08**.

Espaço para duas pernas

Ruy Castro

RIO DE JANEIRO – Parece mentira: Detroit, a cidade-símbolo da cultura do automóvel, quebrou. Deve US\$ 20 bilhões, que não tem como pagar, e, de lá, saem agora apenas 5% dos carros montados nos EUA. Sua população passou de 1,8 milhão para 700 mil, dos quais 40% vivem abaixo da linha da pobreza. É também a cidade mais violenta do país, com quarteirões incendiados, destruídos e abandonados.

As causas parecem ser as crises econômicas e a concorrência da Ásia. Mas há também um fator que me toca mais: o declínio da dita cultura – a do automóvel. Segundo pesquisas, 20% dos jovens americanos hoje, entre 20 e 24 anos, não têm carteira de habilitação. Se essa idade caísse para 18 anos, o número subiria para 40%. Isso num país em que, até há pouco, o carro era mais importante para um adolescente do que jogar beisebol ou beijar a coleguinha de classe e no qual o principal documento no bolso do cidadão era a carteira de motorista – como se a identidade do indivíduo estivesse atrelada a uma máquina e, sem esta, ele não existisse.

Claro que, nos países novos-ricos e grotões mais atrasados, a obsessão pelo carro continua. Mas, em algumas cidades, a agenda dos habitantes mudou. As pessoas estão tentando reduzir as distâncias, morando perto do trabalho ou mesmo trabalhando em casa. Em vez de sair de carro, andam a pé, usam bicicleta e exigem mais e melhor transporte público – nesse sentido, as recentes manifestações no Brasil não foram por acaso. Tudo passou a conspirar contra o automóvel – na verdade, contra o carro particular.

Ao ler isso, considero-me meio pioneiro. Nunca quis ter carro ou dirigir, o que me poupou de séculos de manobras, estacionamentos, engarrafamentos, bafômetro, multas e estresse. E de ocupar com quatro rodas o espaço que me foi concedido para as duas pernas.

(Folha de S.Paulo. 29.07.13. Adaptado)

01. De acordo com o texto, a cidade de Detroit

- (A) deixou de ser a cidade-símbolo da cultura do automóvel, devido à crise econômica que a afeta.
- (B) teve sua economia prejudicada ao fechar todas as montadoras de automóveis.
- (C) abriga montadoras de automóveis que devem bilhões ao governo, e não têm como pagar.
- (D) enfrenta problemas econômicos que resultam em altos índices de pobreza entre sua população.
- (E) teve boa parte de sua indústria automobilística incendiada, destruída ou simplesmente abandonada.

02. De acordo com o texto, os problemas econômicos enfrentados pela cidade de Detroit

- (A) têm sua origem no aumento do número de norte-americanos vivendo abaixo da linha da pobreza.
- (B) têm, como um dos fatores, a diminuição do interesse pelo automóvel entre os jovens norte-americanos.
- (C) são consequência do aumento populacional, do desemprego e da violência que assola a cidade.
- (D) revelam a obsessão entre os jovens norte-americanos pelos automóveis de origem asiática.
- (E) transformaram-se em uma grave crise, que se espalhou pelo território americano e chegou à Ásia.

03. Segundo o autor, o fato de jamais ter possuído ou dirigido qualquer automóvel

- (A) dificulta seu deslocamento para o trabalho.
- (B) causou-lhe diversos constrangimentos.
- (C) obrigou-o a morar perto do trabalho.
- (D) tornou-o obcecado por carros.
- (E) livrou-o de inúmeras situações estressantes.

04. Considere o seguinte trecho do penúltimo parágrafo:

Claro que, nos países novos-ricos e grotões mais atrasados, a obsessão pelo carro continua. **Mas**, em algumas cidades, a agenda dos habitantes mudou.

O termo em destaque estabelece, entre as orações, relação de

- (A) causa.
- (B) concessão.
- (C) contraste.
- (D) alternância.
- (E) consequência.

05. Considere os trechos a seguir.

- As pessoas estão tentando reduzir as distâncias, morando **perto** do trabalho ou mesmo trabalhando em casa.
- **Nunca** quis ter carro ou dirigir, o que me poupou de séculos de manobras...

Os termos destacados nas frases introduzem, correta e respectivamente, circunstâncias de

- (A) tempo e de lugar.
- (B) intensidade e de tempo.
- (C) modo e de negação.
- (D) lugar e de tempo.
- (E) intensidade e de modo.

06. Leia o seguinte trecho do segundo parágrafo:

Isso num país em que, até há pouco, o carro era mais importante para um adolescente do que jogar beisebol ou beijar a coleguinha de classe e **no qual** o principal documento no bolso do cidadão era a carteira de motorista...

A expressão em destaque no trecho refere-se a

- (A) num país.
- (B) o carro.
- (C) mais importante.
- (D) um adolescente.
- (E) jogar beisebol.

07. Considere a seguinte frase do texto:

Segundo pesquisas, 20% dos jovens americanos hoje, entre 20 e 24 anos, não têm carteira de habilitação.

Assinale a alternativa em que a frase está corretamente reescrita quanto à pontuação, de acordo com a norma-padrão da língua portuguesa.

- (A) 20% dos jovens americanos, entre 20 e 24 anos segundo pesquisas, hoje não têm carteira de habilitação.
- (B) 20% dos jovens americanos, entre 20 e 24 anos, segundo pesquisas hoje não têm, carteira de habilitação.
- (C) Hoje, segundo pesquisas 20% dos jovens americanos, entre 20 e 24 anos, não têm carteira de habilitação.
- (D) Hoje segundo pesquisas, 20% dos jovens americanos, entre 20 e 24 anos, não têm carteira de habilitação.
- (E) Hoje, segundo pesquisas, 20% dos jovens americanos, entre 20 e 24 anos, não têm carteira de habilitação.

08. Leia a tirinha.



(Quino, *Toda Mafalda*. São Paulo: Martins Fontes, 1991)

O verbo destacado na fala do segundo quadrinho – Bem, talvez porque aqui não **haja** campo suficiente ... – está no subjuntivo, que é o modo verbal utilizado para expressar um fato incerto, em que há apenas a possibilidade de realização, como ocorre com a forma verbal destacada em:

- (A) As causas **parecem ser** as crises econômicas e a concorrência da Ásia.
- (B) Se essa idade **caísse** para 18 anos, o número subiria para 40%.
- (C) ... nos países novos-ricos e grotões mais atrasados, a obsessão pelo carro **continua**.
- (D) As pessoas **estão tentando** reduzir as distâncias...
- (E) Nunca quis ter carro ou **dirigir**, o que me poupou de séculos de manobras...

09. Assinale a alternativa correta quanto à concordância verbal e/ou nominal, de acordo com a norma-padrão da língua portuguesa.

- (A) A cidade de Detroit está passando por graves problemas econômico.
- (B) A pobreza e a violência tomou conta de boa parte da Cidade de Detroit.
- (C) A concorrência com a Ásia é considerado uma das causas para a queda nas vendas de automóveis.
- (D) Morar perto do trabalho é uma das maneiras encontradas para não precisar do carro.
- (E) Cansada dos efeitos do trânsito, muitas pessoas passaram a trabalhar em casa.

10. A queda no número de automóveis vendidos nos EUA parece estar relacionada _____ sucessivas crises econômicas pelas quais o país tem passado, _____ concorrência de montadoras estrangeiras, especialmente as asiáticas e, sobretudo, _____ algumas mudanças no comportamento dos consumidores norte-americanos.

Considerando as regras de regência e de uso do acento indicativo de crase, assinale a alternativa que preenche, correta e respectivamente, as lacunas do trecho.

- (A) as ... a ... a
- (B) às ... a ... à
- (C) às ... à ... a
- (D) às ... à ... à
- (E) as ... à ... a

MATEMÁTICA

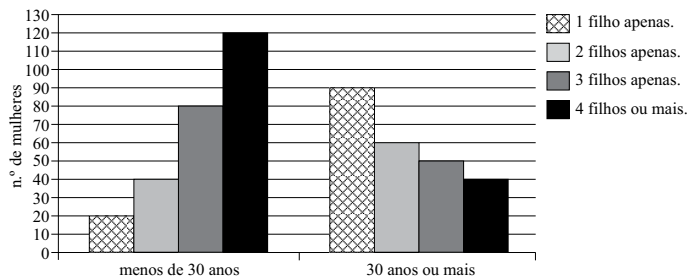
11. André comprou uma geladeira da seguinte maneira: pagou entrada de 30% do preço à vista e, trinta dias depois, pagou uma parcela de R\$ 793,80. O preço à vista da geladeira era R\$ 1.080,00. Assim, a taxa mensal de juros simples cobrada pela loja foi de

- (A) 4%.
- (B) 5%.
- (C) 6%.
- (D) 7%.
- (E) 8%.

12. Uma loja tinha um estoque de 200 camisas de um determinado tipo. Foi vendido, inicialmente, apenas 40% desse estoque. Para vender as demais camisas, o gerente anunciou um desconto de R\$ 10,00 no valor de cada camisa restante. Desse modo, todas as demais camisas desse estoque foram vendidas. Se o total arrecadado com a venda de todo o referido estoque foi R\$ 8.800,00, é correto concluir que o preço sem desconto, cobrado inicialmente por cada camisa, era

- (A) R\$ 62,50.
- (B) R\$ 50,00.
- (C) R\$ 47,50.
- (D) R\$ 40,00.
- (E) R\$ 37,50.

13. O gráfico apresenta dados referentes a uma pesquisa realizada com 500 mulheres que deixam seus filhos em creches para trabalhar. Cada uma dessas mulheres informou sua idade e o número de filhos.



A partir dos dados desse gráfico, é correto afirmar que, dentre as mulheres que têm 4 filhos ou mais, exatamente

- (A) 75% têm menos de 30 anos.
 (B) 52% têm menos de 30 anos.
 (C) 40% têm 30 anos ou mais.
 (D) 24% têm 30 anos ou mais.
 (E) 8% têm 30 anos ou mais.
14. Na administração de seu salário, Paulo destina $\frac{2}{5}$ à alimentação,

$\frac{1}{4}$ ao aluguel e ainda reserva $\frac{1}{5}$ do restante para depositar na

caderneta de poupança, o que corresponde a R\$ 420,00. Paulo gasta com a alimentação a quantia de

- (A) R\$ 2.400,00.
 (B) R\$ 2.000,00.
 (C) R\$ 1.750,00.
 (D) R\$ 1.500,00.
 (E) R\$ 1.250,00.
15. Uma embalagem de suco concentrado tem a forma de um paralelepípedo reto. Sua base tem a forma de um quadrado de 8 cm de lado. Sabendo que essa embalagem tem capacidade de 1 litro, é correto afirmar que o valor mais próximo da altura dessa embalagem é

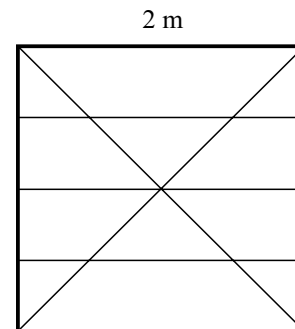
- (A) 10,0 cm.
 (B) 12,8 cm.
 (C) 15,6 cm.
 (D) 16,4 cm.
 (E) 18,8 cm.

16. A tabela a seguir apresenta a distribuição dos salários de 80 funcionários de uma empresa segundo as funções que exercem.

NÚMERO DE FUNCIONÁRIOS	SALÁRIO MENSAL (R\$)
4	8.000,00
16	4.000,00
20	x
40	1.200,00

Sabendo-se que o salário médio desses funcionários é de R\$ 2.350,00, o salário x é igual a

- (A) R\$ 1.450,00.
 (B) R\$ 1.600,00.
 (C) R\$ 1.750,00.
 (D) R\$ 2.000,00.
 (E) R\$ 2.200,00.
17. Sidnei vai fazer um varal apenas com hastes de metal, conforme o esboço representado na figura, que mostra o varal visto de cima. As hastes externas do varal formam um quadrado.

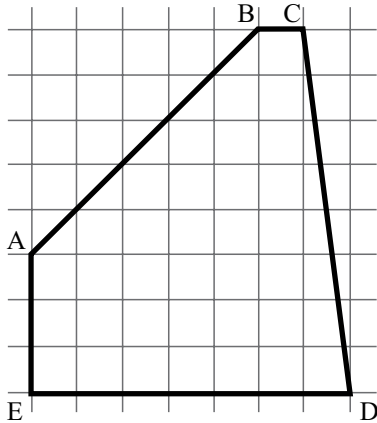


Se a haste de metal é vendida por R\$ 10,00 o metro, é correto afirmar, considerando $\sqrt{2} = 1,4$, que o valor a ser pago por todas as hastes que vão compor o varal será de

- (A) R\$ 220,50.
 (B) R\$ 214,00.
 (C) R\$ 210,80.
 (D) R\$ 196,00.
 (E) R\$ 171,50.
18. Uma foto, impressa em papel, tem a forma retangular com 7 cm de largura por 9,8 cm de comprimento. A partir dessa foto, será obtida outra foto ampliada, de modo que o comprimento passe a ser 14,7 cm. Assim, se a nova foto conservar a mesma razão entre o comprimento e a largura da original, a largura da foto ampliada será de

- (A) 11,9 cm.
 (B) 11,2 cm.
 (C) 10,5 cm.
 (D) 9,8 cm.
 (E) 9,4 cm.

19. O polígono ABCDE representado na malha quadriculada é um terreno. Sabe-se que cada quadradinho da malha representa um quadrado de 2 m de lado.



Assim, a área do terreno, em m^2 , é igual a

- (A) 213.
 (B) 204.
 (C) 166.
 (D) 158.
 (E) 79.
20. Em uma caixa, há apenas moedas de R\$ 0,25 e de R\$ 0,50. Uma pessoa retira 36 moedas, no total de R\$ 12,75. Nesse caso, o número de moedas de R\$ 0,25, que foram retiradas, perfazem um total de
- (A) R\$ 3,00.
 (B) R\$ 3,75.
 (C) R\$ 4,00.
 (D) R\$ 4,50.
 (E) R\$ 5,25.

R A S C U N H O

LEGISLAÇÃO

21. Assinale a alternativa que está de acordo com o texto expresso da Constituição Federal.
- (A) Ninguém será privado da liberdade, de seus bens ou de qualquer outro direito sem o devido processo administrativo.
 (B) Aos litigantes, em processo judicial, e aos acusados em geral são assegurados o direito de defesa e a garantia do sigilo processual.
 (C) É assegurada a liberdade religiosa a todos os cidadãos, nos termos da lei, sendo vedadas, no entanto, atividades religiosas nas entidades civis e militares de interseção coletiva.
 (D) A lei penal não retroagirá, salvo para estabelecer penas mais severas contra o réu em casos de crimes hediondos, da prática do racismo ou de tráfico ilícito de entorpecentes.
 (E) É a todos assegurado, independentemente do pagamento de taxas, o direito de petição aos Poderes Públicos em defesa de direitos ou contra ilegalidade ou abuso de poder.
22. Assinale a alternativa que indica, correta e respectivamente, os remédios constitucionais cabíveis para: viabilizar o exercício dos direitos e liberdades constitucionais na falta de norma regulamentadora; proteger a liberdade de locomoção; e anular ato lesivo ao patrimônio público.
- (A) *Habeas data*; *habeas corpus*; ação civil pública.
 (B) Mandado de injunção; *habeas corpus*; ação popular.
 (C) Mandado de segurança; mandado de injunção; ação de improbidade administrativa.
 (D) Mandado de injunção; mandado de segurança; ação popular.
 (E) Mandado de segurança; *habeas corpus*; mandado de segurança.
23. Considerando o disposto na Constituição Federal a respeito da Administração Pública, é correto afirmar que
- (A) deve obediência, entre outros, aos princípios da pessoalidade, da improbidade e da moralidade.
 (B) os cargos e empregos públicos são acessíveis aos brasileiros que preencham os requisitos estabelecidos em lei, sendo vedado o acesso aos estrangeiros.
 (C) os cargos em comissão, a serem preenchidos por servidores de carreira, destinam-se apenas às funções técnicas, especializadas e de assessoramento superior.
 (D) os atos de improbidade administrativa importarão, entre outras penas, a suspensão dos direitos políticos e o ressarcimento ao erário, na forma e gradação previstas em lei.
 (E) as pessoas jurídicas de direito público responderão pelos danos que seus agentes, nessa qualidade, causarem a terceiros, assegurado o direito de regresso contra o responsável, independentemente de dolo ou culpa.

24. Assinale a alternativa correta a respeito da Educação, tendo em vista o disposto na Carta Magna Brasileira.

- (A) O ensino religioso, de matrícula facultativa, constituirá disciplina dos horários normais das escolas públicas de ensino fundamental.
- (B) São princípios constitucionais da educação a padronização de ideias e de concepções pedagógicas e a coexistência de instituições públicas e privadas de ensino.
- (C) O dever do Estado com a educação será efetivado mediante a garantia, entre outras, de educação infantil, em creche e pré-escola, às crianças até seis anos de idade.
- (D) Os Estados e os Municípios devem aplicar, anualmente, vinte por cento, no mínimo, da receita resultante de seus impostos na manutenção e no desenvolvimento do ensino.
- (E) Os Municípios atuarão prioritariamente no ensino fundamental e na educação infantil, e os Estados atuarão, prioritariamente, nos ensinos fundamental, médio e superior.

25. Considerando o disposto no Regimento Geral da UNESP, assinale a alternativa correta a respeito do rendimento escolar.

- (A) As faltas coletivas dos alunos serão consideradas como aulas efetivamente ministradas pelo professor responsável pela disciplina, sendo permitida, no entanto, a reposição do programa a pedido dos alunos.
- (B) Para ser considerado aprovado, com direito aos créditos da disciplina, o aluno, além da exigência de frequência, deve obter nota igual ou superior a 7 (sete).
- (C) O aluno que não tiver frequentado pelo menos setenta por cento das atividades escolares programadas estará automaticamente reprovado.
- (D) Ao aluno reprovado por não ter atingido a nota mínima, poderá ser concedida a oportunidade de um único período de recuperação, a juízo do Conselho de Classe.
- (E) É expressamente vedado o direito à banca especial ao aluno reprovado duas vezes consecutivas, pelo mesmo professor, numa mesma disciplina.

26. É correto afirmar que

- (A) o Movimento da Reforma Sanitária Brasileira nasce em consequência da instituição do Sistema Único de Saúde – SUS pela Assembleia Nacional Constituinte, passando a representar uma importante voz na defesa do novo modelo de saúde, descentralizado e universal.
- (B) as Ações Integradas de Saúde – AIS e o Sistema Unificado e Descentralizado de Saúde – SUDS foram estratégias definidas pelo Conselho Nacional de Secretários Municipais de Saúde – CONASEMS após o advento do SUS, visando a garantir sua consolidação.
- (C) a Atenção Básica caracteriza-se por um conjunto de ações de saúde, desenvolvidas por meio do exercício de práticas de cuidado e gestão, democráticas e participativas, sob forma de trabalho em equipe, dirigidas a populações de territórios definidos, pelas quais assume a responsabilidade sanitária, utilizando de tecnologias de cuidado complexas e variadas.
- (D) a Constituição Federal, ao estabelecer que a saúde é direito de todos, definiu que sua garantia é dever do Estado e da sociedade civil, inclusive das instituições e organizações de direito privado.
- (E) o Ministério da Saúde tem no Programa “Mais Médicos” sua estratégia prioritária para expansão e consolidação da Política Nacional de Atenção Básica.

27. O conjunto de ações que proporcionam o conhecimento, a detecção ou prevenção de qualquer mudança nos fatores determinantes e condicionantes da saúde individual e coletiva, com a finalidade de adotar ou recomendar medidas de prevenção e controle das doenças e agravos à saúde, corresponde ao conceito de

- (A) vigilância epidemiológica.
- (B) vigilância sanitária.
- (C) vigilância ambiental.
- (D) saúde pública.
- (E) medicina preventiva.

CONHECIMENTOS ESPECÍFICOS

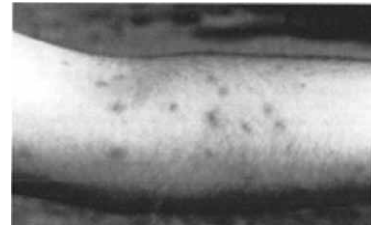
28. Dentre outros indicadores de saúde, no Brasil utilizam-se a Razão de Mortalidade Proporcional (*Índice de Swaroop & Uemura*), a Esperança de Vida e a Mortalidade Infantil. Esses indicadores usam, respectivamente, variáveis relacionadas a
- (A) mortalidade por faixa etária; idade média da população; óbitos em crianças menores de 1 mês.
 - (B) mortalidade por faixa etária; número médio de anos que ainda resta para ser vivido pelos indivíduos; óbitos em crianças menores de 1 ano.
 - (C) mortalidade por doenças infectocontagiosas; número médio de anos que ainda resta para ser vivido pelos indivíduos; óbitos em crianças menores de 1 mês.
 - (D) mortalidade por doenças crônico-degenerativas; idade média da população; óbitos em crianças menores de 1 ano.
 - (E) proporção de mortes por doenças infectocontagiosas; número médio de anos que ainda resta para ser vivido pelos indivíduos; óbitos em crianças menores de 1 ano.
29. Paciente é atendido num ambulatório de saúde ocupacional e é feito o diagnóstico de dermatose relacionada à exposição ao cimento durante atividade de trabalho como pedreiro. Com relação à sua notificação no Sistema de Informação de Agravos de Notificação – SINAN, é correto afirmar que
- (A) ela não deve ser feita, pois esse agravo não está incluído dentre aqueles de notificação obrigatória.
 - (B) ela deve ser feita apenas se o trabalhador tiver direito ao seguro acidente de trabalho do Instituto Nacional do Seguro Social – INSS.
 - (C) ela deve ser feita apenas se implicar afastamento do trabalho superior a 15 dias.
 - (D) ela deve ser feita apenas se o diagnóstico for feito em serviço da rede pública de saúde, por médico do trabalho.
 - (E) ela deve ser feita, independentemente da situação previdenciária do trabalhador, da especialidade do médico e da natureza do serviço de saúde.
30. Segundo o Calendário Nacional de Vacinação, pode-se afirmar que
- (A) a prevenção do tétano deve ser feita com a aplicação da vacina em três doses nas crianças e, posteriormente, com reforços a cada cinco anos.
 - (B) a vacina Hepatite B recombinante é contraindicada para gestantes.
 - (C) a vacina BCG deve se aplicada na criança ao nascer e, como reforço, sempre que exposta a risco elevado de contrair tuberculose.
 - (D) a vacina adsorvida difteria e tétano adulto deve ser aplicada como reforço, a cada 10 anos, em adolescentes, adultos e idosos.
 - (E) a vacina contra o *Haemophilus influenzae* B só é indicada em situações de epidemia e surtos epidêmicos.
31. O teste de esforço (ergometria) tem sua maior utilidade no descarte de doença coronariana em pacientes com dor torácica considerada de baixo risco. Em sendo negativo, a probabilidade de ocorrências de eventos cardíacos em seis meses é, aproximadamente, menor do que
- (A) 2%.
 - (B) 10%.
 - (C) 30%.
 - (D) 45%.
 - (E) 55%.
32. A síncope de origem cardíaca tem como características o acometimento, principalmente, em
- (A) homens, com idade < 45 anos, cursando com palidez e cefaleia.
 - (B) homens, com idade acima de 55 anos, de curta duração.
 - (C) mulheres, com idade < 45 anos, desencadeada por estresse emocional.
 - (D) mulheres, com idade acima de 55 anos, acompanhada de sintomas visuais e hipotensão.
 - (E) mulheres, com idade acima de 55 anos, acompanhada de bradicardia e movimentos clônicos.
33. Das drogas citadas, aquela que mostrou maior eficácia no tratamento de quadros graves de hepatite alcoólica, até o momento, é
- (A) cloroquina.
 - (B) pentoxifilina.
 - (C) N-acetilcisteína.
 - (D) corticosteroide.
 - (E) primaquina.
34. Os ergotamínicos são, ainda hoje, muito utilizados no tratamento de crises de enxaqueca. A fim de se evitar o aparecimento de complicações conhecidas por ergotismo, recomenda-se não exceder a dose semanal em
- (A) 1 a 2 mg.
 - (B) 3 a 4 mg.
 - (C) 6 a 8 mg.
 - (D) 10 a 12 mg.
 - (E) 15 a 20 mg.

35. Mulher de 45 anos apresenta quadro de curtos episódios de vertigem rotatória desencadeada por movimentos bruscos da cabeça. Com a realização da manobra de Dix-Hallpike, ocorre o aparecimento de nistagmo. Mais, provavelmente, trata-se de quadro de
- (A) neurite vestibular.
 - (B) AVC de cerebello.
 - (C) esclerose múltipla.
 - (D) mastoidite.
 - (E) vertigem posicional paroxística benigna.
36. A articulação mais, frequentemente, acometida nos quadros iniciais de artrite gotosa é
- (A) punho.
 - (B) cotovelo.
 - (C) tornozelo.
 - (D) joelho.
 - (E) metatarsofalangiana.
37. O uso de betabloqueador deve ser evitado nos quadros de
- (A) dissecção de aorta e síndrome coronariana.
 - (B) BAV de 3.º grau e DPOC.
 - (C) estenose e insuficiência mitral.
 - (D) estenose e insuficiência aórtica.
 - (E) hipercalcemia e asma.
38. A encefalopatia hipertensiva apresenta alta mortalidade se não tratada. Recomenda-se que na primeira hora de tratamento ocorra uma redução da pressão arterial média de, aproximadamente,
- (A) 10 a 20%.
 - (B) 20 a 30%.
 - (C) 30 a 40%.
 - (D) 40 a 50%.
 - (E) 50 a 60%.
39. O controle da frequência cardíaca em casos de paciente com insuficiência cardíaca e fibrilação atrial deve ser feito, preferencialmente, com
- (A) inibidor da ECA e betabloqueador.
 - (B) digoxina e inibidor da ECA.
 - (C) digoxina e betabloqueador.
 - (D) apenas bloqueador de canal de cálcio.
 - (E) apenas betabloqueador.
40. O tratamento da *Entamoeba histolytica* faz-se, especialmente, com
- (A) tiabendazol.
 - (B) doxiciclina.
 - (C) tetraciclina.
 - (D) metronidazol.
 - (E) ciprofloxacino.
41. A intoxicação por carbamato cursa, em geral, com
- (A) miose, bradicardia e hipersalivação.
 - (B) sudorese, taquicardia e hipertensão arterial.
 - (C) midríase, taquicardia e coma.
 - (D) retenção urinária, confusão e taquipneia.
 - (E) cefaleia, hipotensão arterial e alteração de coagulação.
42. No tratamento da vaginose bacteriana, recomenda-se o uso de
- (A) miconazol tópico apenas para a paciente.
 - (B) metronidazol via oral apenas para a paciente.
 - (C) clindamicina via oral para a paciente e para o parceiro.
 - (D) secnidazol via oral para a paciente e para o parceiro.
 - (E) tinidazol via oral para a paciente e para o parceiro.
43. A pneumonia adquirida na comunidade classificada como PORT I deve ser tratada,
- (A) preferencial e ambulatoriamente, com doxiciclina.
 - (B) preferencial e ambulatoriamente, com tetraciclina.
 - (C) preferencial e ambulatoriamente, com macrolídeo.
 - (D) preferencialmente dentro do hospital, com ceftriaxone.
 - (E) preferencialmente dentro do hospital, com quinolona.
44. A profilaxia geral recomendada, atualmente, para a prevenção de endocardite bacteriana durante a realização de procedimentos dentários ou respiratórios em pacientes com valvopatia prévia é feita com
- (A) ceftriaxone endovenoso, uma hora após o procedimento.
 - (B) claritromicina endovenosa, duas horas após o procedimento.
 - (C) clindamicina endovenosa, meia hora antes do procedimento.
 - (D) cefalexina oral, duas horas após o procedimento.
 - (E) amoxicilina oral, uma hora antes do procedimento.

45. O exame de escolha para o diagnóstico da TVP é
- (A) pletismografia.
 - (B) angiogramografia.
 - (C) antirressonância venosa.
 - (D) ultrassom doppler.
 - (E) venografia.
46. Com relação à coqueluche, pode-se afirmar que
- (A) é doença de notificação compulsória.
 - (B) sua principal forma de transmissão se dá por meio de objetos contaminados.
 - (C) o tratamento de escolha é feito com amoxicilina.
 - (D) se caracteriza pela presença de exantema universal.
 - (E) o diagnóstico específico é feito por meio de sorologia.
47. A sífilis primária é mais bem tratada com penicilina G benzatina
- (A) uma vez por semana, por 03 semanas.
 - (B) duas vezes por semana, por 03 semanas.
 - (C) uma vez por semana, por 02 semanas.
 - (D) duas vezes por semana, por 02 semanas.
 - (E) em dose única.
48. Paciente apresenta quadro de eritema nodoso, acompanhado de febre baixa e mal estar, dores articulares difusas e espessamento do nervo radial. Mais, provavelmente, trata-se de quadro de
- (A) onovanose.
 - (B) hanseníase.
 - (C) linfogranuloma venéreo.
 - (D) leishmaniose visceral.
 - (E) histoplasmose.
49. A presença do marcador HBsAg por mais de 24 meses é indicativo de quadro
- (A) pós-vacinal, com conversão sorológica.
 - (B) de cura da doença.
 - (C) de hepatite aguda.
 - (D) de hepatite crônica.
 - (E) de suscetibilidade à doença.

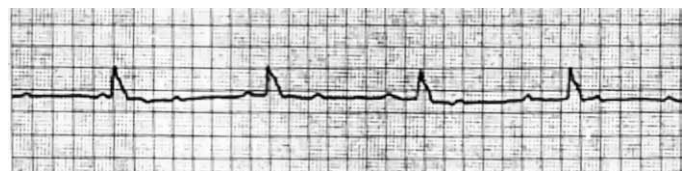
50. A quimioprofilaxia da febre purpúrica brasileira é feita com
- (A) ampicilina.
 - (B) amoxicilina.
 - (C) rifampicina.
 - (D) tetraciclina.
 - (E) cloranfenicol.

A imagem a seguir refere-se às questões de números 51 e 52.



51. Considere que o paciente encontra-se com sintomas inespecíficos, tais como mal-estar, náusea, febre e mialgia há 06 dias. O exantema iniciou-se hoje, acometendo regiões palmares e plantares. O diagnóstico mais provável é de
- (A) sarampo.
 - (B) febre maculosa brasileira.
 - (C) dengue.
 - (D) febre amarela.
 - (E) febre tifoide.
52. O tratamento recomendado deve ser feito com
- (A) sintomático.
 - (B) cloranfenicol.
 - (C) ampicilina.
 - (D) tetraciclina.
 - (E) levofloxacina.

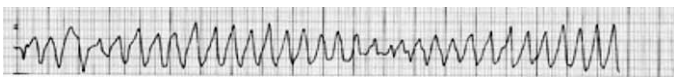
O ECG a seguir refere-se às questões de números 53 e 54.



53. Paciente chega ao consultório trazendo esse ECG, referindo-se cansaço aos esforços há vários meses. O ECG mostra
- (A) BAV de 3.º grau.
 - (B) BAV de 2.º grau tipo II.
 - (C) BAV de 2.º grau tipo I.
 - (D) BAV de 1.º grau.
 - (E) bradicardia sinusal.

54. A conduta mais indicada no momento é
- (A) observação.
 - (B) administração de lidocaína.
 - (C) administração de amiodarona.
 - (D) administração de adrenalina.
 - (E) colocação de marcapasso provisório transcutâneo.

O ECG a seguir refere-se à questão de número 55.



55. Considerando que o paciente encontra-se, neste momento, sem respiração e sem pulso, a conduta mais indicada no momento é iniciar as manobras de RCP e
- (A) administrar 1 mg de epinefrina.
 - (B) administrar 150 mg de amiodarona.
 - (C) administrar 1 mg de atropina.
 - (D) desfibrilar com 200 J.
 - (E) cardioverter com 100 J.

A imagem a seguir refere-se às questões de números 56 e 57.



56. O RX é mais sugestivo de quadro de
- (A) tuberculose pulmonar.
 - (B) neoplasia de pulmão.
 - (C) abscesso pulmonar.
 - (D) pneumonia adquirida na comunidade.
 - (E) TEP.

57. Neste momento, considerando que a paciente apresenta quadro de insuficiência respiratória, o tratamento inicial deve ser feito com
- (A) esquema tríplice.
 - (B) quimioterapia.
 - (C) ceftriaxone + metronidazol.
 - (D) levofloxacina.
 - (E) heparina fracionada.

58. A imagem a seguir sugere o diagnóstico de



- (A) TEP.
 - (B) broncopneumonia.
 - (C) insuficiência cardíaca.
 - (D) DPOC.
 - (E) asma.
59. A presença de FAN positivo é bastante elevada em portadores de LES com doença ativa. Pode-se dizer que, nessa doença, é considerado um exame de
- (A) alta sensibilidade.
 - (B) média sensibilidade.
 - (C) média especificidade.
 - (D) alta especificidade.
 - (E) baixa especificidade.
60. Imperícia é
- (A) falta de habilidade técnica.
 - (B) falta de cuidado.
 - (C) falta de atenção.
 - (D) falta de interesse.
 - (E) desleixo.

