

RASCUNHO

Para responder às questões de 1 a 4, leia o texto abaixo.

A pipoca

Rubem Alves

A culinária me fascina. De vez em quando eu até me até atrevo a cozinhar. Mas o fato é que sou mais competente com as palavras do que com as panelas.

Por isso tenho mais escrito sobre comidas que cozinhado. Dedico-me a algo que poderia ter o nome de "culinária literária". Já escrevi sobre as mais variadas entidades do mundo da cozinha: cebolas, ora-pro-nobis, picadinho de carne com tomate feijão e arroz, bacalhoadas, suflês, sopas, churrascos.

Cheguei mesmo a dedicar metade de um livro poético-filosófico a uma meditação sobre o filme A Festa de Babette, que é uma celebração da comida como ritual de feitiçaria. Sabedor das minhas limitações e competências, nunca escrevi como chef. Escrevi como filósofo, poeta, psicanalista e teólogo — porque a culinária estimula todas essas funções do pensamento.

As comidas, para mim, são entidades oníricas.

Provocam a minha capacidade de sonhar. Nunca imaginei, entretanto, que chegaria um dia em que a pipoca iria me fazer sonhar. Pois foi precisamente isso que aconteceu.

A pipoca, milho mirrado, grãos redondos e duros, me pareceu uma simples molecagem, brincadeira deliciosa, sem dimensões metafísicas ou psicanalíticas. Entretanto, dias atrás, conversando com uma paciente, ela mencionou a pipoca. É algo inesperado na minha mente aconteceu. Minhas ideias começaram a estourar como pipoca. Percebi, então, a relação metafórica entre a pipoca e o ato de pensar. Um bom pensamento nasce como uma pipoca que estoura, de forma inesperada e imprevisível.

A pipoca se revelou a mim, então, como um extraordinário objeto poético. Poético porque, ao pensar nelas, as pipocas, meu pensamento se pôs a dar estouros e pulos como aqueles das pipocas dentro de uma panela. Lembrei-me do sentido religioso da pipoca. A pipoca tem sentido religioso? Pois tem. Para os cristãos, religiosos são o pão e o vinho, que simbolizam o corpo e o sangue de Cristo, a mistura de vida e alegria (porque vida, só vida, sem alegria, não é vida...). Pão e vinho devem ser bebidos juntos. Vida e alegria devem existir juntas.

Lembrei-me, então, de lição que aprendi com a Mãe Stella, sábia poderosa do Candomblé baiano: que a pipoca é a comida sagrada do Candomblé...

A pipoca é um milho mirrado, subdesenvolvido. Fosse eu agricultor ignorante, e se no meio dos meus milhos graúdos aparecessem aquelas espigas nanicas, eu ficaria bravo e trataria de me livrar delas. Pois o fato é que, sob o ponto de vista de tamanho, os milhos da pipoca não podem competir com os milhos normais. Não sei como isso aconteceu, mas o fato é que houve alguém que teve a ideia de debulhar as espigas e colocá-las numa panela sobre o fogo, esperando que assim os grãos amolecassem e pudessem ser comidos.

Havendo fracassado a experiência com água, tentou a gordura. O que aconteceu, ninguém jamais poderia ter imaginado.

Repentinamente os grãos começaram a estourar, saltavam da panela com uma enorme barulheira. Mas o extraordinário era o que acontecia com eles: os grãos duros quebra-dentes se transformavam em flores brancas e macias que até as crianças podiam comer. O estouro das pipocas se transformou, então, de uma simples operação culinária, em uma festa, brincadeira, molecagem, para os risos de todos, especialmente as crianças. É muito divertido ver o estouro das pipocas!

E o que é que isso tem a ver com o Candomblé? É que a transformação do milho duro em pipoca macia é símbolo da grande transformação porque devem passar os homens para que eles venham a ser o que devem ser. O milho da pipoca não é o que deve ser. Ele deve ser aquilo que acontece depois do estouro. O milho da pipoca somos nós: duros, quebra-dentes, impróprios para comer, pelo poder do fogo podemos, repentinamente, nos transformar em outra coisa — voltar a ser crianças! Mas a transformação só acontece pelo poder do fogo.

Milho de pipoca que não passa pelo fogo continua a ser milho de pipoca, para sempre.

Assim acontece com a gente. As grandes transformações acontecem quando passamos pelo fogo. Quem não passa pelo fogo fica do mesmo jeito, a vida inteira. São pessoas de uma mesmice e dureza assombrosa. Só que elas não percebem. Acham que o seu jeito de ser é o melhor jeito de ser.

Mas, de repente, vem o fogo. O fogo é quando a vida nos lança numa situação que nunca imaginamos. Dor. Pode ser fogo de fora: perder um amor, perder um filho, ficar doente, perder um emprego, ficar pobre. Pode ser fogo de dentro. Pânico, medo, ansiedade, depressão — sofrimentos cujas causas ignoramos. Há sempre o recurso aos remédios. Apagar o fogo. Sem fogo o sofrimento diminui. E com isso a possibilidade da grande transformação.

Imagino que a pobre pipoca, fechada dentro da panela, lá dentro ficando cada vez mais quente, pense que sua hora chegou: vai morrer. De dentro de sua casca dura, fechada em si mesma, ela não pode imaginar destino diferente. Não pode imaginar a transformação que está sendo preparada. A pipoca não imagina aquilo de que ela é capaz. Aí, sem aviso prévio, pelo poder do fogo, a grande transformação acontece: PUF!! — e ela aparece como outra coisa, completamente diferente, que ela mesma nunca havia sonhado. É a lagarta rastejante e feia que surge do casulo como borboleta voante.

Na simbologia cristã, o milagre do milho de pipoca está representado pela morte e ressurreição de Cristo: a ressurreição é o estouro do milho de pipoca. É preciso deixar de ser de um jeito para ser de outro.

"Morre e transforma-te!" — dizia Goethe.

Em Minas, todo mundo sabe o que é piruá. Falando sobre os piruás com os paulistas, descobri que eles ignoram o que seja. Alguns, inclusive, acharam que era gozação minha, que piruá é palavra inexistente. Cheguei a ser forçado a me valer do Aurélio para confirmar o meu conhecimento da língua. Piruá é o milho de pipoca que se recusa a estourar.

Meu amigo William, extraordinário professor pesquisador da Unicamp, especializou-se em milhos e desvendou cientificamente o assombro do estouro da pipoca. Com certeza ele tem uma explicação científica para os piruás. Mas, no mundo da poesia, as explicações científicas não valem.

Por exemplo: em Minas "piruá" é o nome que se dá às mulheres que não conseguiram casar. Minha prima, passada dos quarenta, lamentava: "Fiquei piruá!" Mas acho que o poder metafórico dos piruás é maior.

Piruás são aquelas pessoas que, por mais que o fogo es quente, se recusam a mudar. Elas acham que não pode existir coisa mais maravilhosa do que o jeito delas serem.

Ignoram o dito de Jesus: "Quem preservar a sua vida perdê-la-á". A sua presunção e o seu medo são a dura casca do milho que não estoura. O destino delas é triste. Vão ficar duras a vida inteira. Não vão se transformar na flor branca macia. Não vão dar alegria para ninguém. Terminado o estouro alegre da pipoca, no fundo a panela ficam os piruás que não servem para nada. Seu destino é o lixo.

Quanto às pipocas que estouraram, são adultos que voltaram a ser crianças e que sabem que a vida é uma grande brincadeira...

"Nunca imaginei que chegaria um dia em que a pipoca iria me fazer sonhar. Pois foi precisamente isso que aconteceu".

1) Quanto à ideia central do texto, assinale a alternativa correta:

- a) A intencionalidade discursiva do autor é divagar sobre a culinária e a origem da pipoca.
- b) A pipoca é usada como metáfora para a transformação de pessoas fisicamente feias em bonitas.
- c) O autor emprega a palavra "piruá" para pessoas duras que não se transformam em algo melhor.
- d) O autor considera que só as pessoas não religiosas tornam-se piruás.

2) Assinale a alternativa que indica outra forma correta de se reescrever o período abaixo:

- Lembrei-me, então, de lição que aprendi com a Mãe Stella.
- a) Me lembrei, então, de lição que aprendi com a Mãe Stella.
 - b) Lembrei, então, a lição que aprendi com a Mãe Stella.
 - c) Lembrei-me, então, lição que aprendi com a Mãe Stella.
 - d) Lembrei, então, de lição que aprendi com a Mãe Stella.

3) **Considere o período abaixo:**

Não sei como isso aconteceu, mas o fato é que houve alguém que teve a ideia de debulhar as espigas e colocá-las numa panela sobre o fogo, esperando que assim os grãos amolecessem e pudessem ser comidos.

O pronome **isso** refere-se:

- a) Ao fato de haver milhos mirrados.
- b) Ao modo como foi “inventada” a pipoca.
- c) Ao sentido religioso da pipoca.
- d) Aos grãos que não estouram no fogo.

4) **Assinale a alternativa que indica corretamente a classe gramatical da palavra destacada no trecho abaixo:**

Mas o extraordinário era o que acontecia com eles: os grãos duros quebra-dentes se transformavam em flores brancas e macias que até as crianças podiam comer.

- a) Substantivo.
- b) Adjetivo.
- c) Advérbio.
- d) Verbo.

5) **Considere as orações abaixo:**

- I. Nesta semana, eu já tinha chegado tarde ao escritório.
- II. Ele deixou claro a sua opinião.

De acordo com a norma culta,

- a) somente I está correta.
- b) somente II está correta.
- c) I e II estão corretas.
- d) nenhuma está correta.

6) **Assinale a alternativa em que a palavra deve ser obrigatoriamente acentuada:**

- a) Publica.
- b) Ironia.
- c) Malefício.
- d) Analise.

7) **Considere o período e as afirmações abaixo.**

A adoção de projetos bem elaborados fazem-se necessários para o bem da comunidade.

- I. Há um erro de concordância nominal.
- II. Há um erro de concordância verbal.

Está correto o que se afirma em

- a) somente I.
- b) somente II.
- c) I e II.
- d) nenhuma.

8) **Considere o período e as afirmações abaixo:**

O jovem aspirava em seus sonhos, uma vida muito confortável.

- I. A pontuação está correta.
- II. Há um problema de regência verbal.

Está correto o que se afirma em

- a) somente I.
- b) somente II.
- c) I e II.
- d) nenhuma.

9) **Assinale a alternativa que completa, correta e respectivamente, as lacunas:**

Não diga _____ ela que eu fui _____ academia.

- a) a – à
- b) a – a
- c) à – à
- d) à – a

10) **Considere o período e as afirmações abaixo:**

Meu amigo, nunca encontrei-o tão preocupado!

- I. A colocação pronominal está incorreta.
- II. A pontuação está correta.

Está correto o que se afirma em

- a) somente I.
- b) somente II.
- c) I e II.
- d) nenhuma.

NOÇÕES DE INFORMÁTICA

11) **Identifique a alternativa abaixo que preencha os espaços em branco da função do Microsoft Excel 2007 com a sua sintaxe correta: CONT.SE(_____ ; _____)**

- a) Critérios - intervalo.
- b) Intervalo - parágrafo.
- c) Intervalo - critérios.
- d) Critérios - texto.

12) **O processo de adicionar som em um slide do PowerPoint 2007 ocorre por meio da guia:**

- a) Inserir > Grupo Clipes de Mídia > Som.
- b) Animações > Grupo Configurar > Gravar Narração.
- c) Apresentação de Slides > Grupo Clipes de Mídia > Som.
- d) Exibição > Grupo Configurar > Gravar Narração.

13) **No Microsoft Word 2007, para inserir uma marca de referência de nota, deve-se utilizar a guia:**

- a) Inserir, no grupo Rodapé, e clicar em Nota de Rodapé.
- b) Layout da Página, no grupo Notas de Rodapé, e clicar em Nota de Rodapé.
- c) Exibição, no grupo Rodapé, e clicar em Inserir Nota de Rodapé.
- d) Referências, no grupo Notas de Rodapé, e clicar em Inserir Nota de Rodapé.

14) **No Windows XP, ao renomear uma série de arquivos selecionados, foi dado o nome Aniversario. Os outros arquivos da série serão denominados:**

- a) Aniversario 1, Aniversario 2 e assim por diante.
- b) Aniversario (1), Aniversario (2) e assim por diante.
- c) Aniversario-1, Aniversario-2 e assim por diante.
- d) Aniversario.1, Aniversario.2 e assim por diante.

15) **Identifique a URL que NÃO seja convencionalmente iniciada na navegação típica de um site de uma instituição financeira na Internet:**

- a) www.
- b) http://www.
- c) http://www
- d) https://www

GESTÃO PÚBLICA

16) **O Estado é uma organização que exerce o poder supremo sobre o conjunto de indivíduos que ocupam um determinado território. O exercício do poder é a capacidade de influenciar decisivamente a ação e o comportamento das pessoas. Considerando o conceito de Estado, o que diferencia o poder exercido pelo Estado e o poder de outros grupos particulares ou não reconhecidos que controlam territórios e indivíduos com base no uso da força é a:**

- a) Universalidade.
- b) Legitimidade.
- c) Legalidade.
- d) Ideologia.

37) O decreto 7508 de 2011 regulamenta a Lei 8080/90. Considerando a organização do SUS, como expressa nesse decreto, assinale a alternativa incorreta:

- a) Poderão ser instituídas Regiões de Saúde interestaduais.
- b) Unidades Básicas de Saúde e Unidades de Pronto Atendimento são consideradas Serviços Especiais de Acesso Aberto.
- c) Região de Saúde é o espaço geográfico contínuo constituído por agrupamentos de Municípios limítrofes, delimitado a partir de identidades culturais, econômicas e sociais e de redes de comunicação e infraestrutura de transportes compartilhados, com a finalidade de integrar a organização, o planejamento e a execução de ações e serviços de saúde.
- d) Ao usuário será assegurada a continuidade do cuidado em saúde, em todas as suas modalidades, nos serviços, hospitais e em outras unidades integrantes da rede de atenção da respectiva região.

38) Considerando a estrutura organizacional do Sistema Nacional de Sangue, Componentes e Derivados – SINASAN, assinale a alternativa incorreta:

- a) Órgãos gestores do SUS nos três níveis de governo não integram o SINASAN.
- b) Serviços de hemoterapia habilitados à execução de captação e triagem de candidatos à doação, coleta, processamento, seleção, controle e garantia da qualidade, estocagem, distribuição de sangue, seus componentes e hemoderivados, integram o SINASAN.
- c) Bancos de células de cordão umbilical e de medula óssea integram o SINASAN.
- d) Serviços de hemoterapia filantrópicos e privados integram o SINASAN.

39) Considerando a estrutura do Ministério da Saúde, o Sistema Nacional de Sangue, Componentes e Derivados – SINASAN é subordinado à (ao):

- a) Secretaria de Atenção à Saúde.
- b) Secretaria de Ciência, Tecnologia e Insumos Estratégicos.
- c) Secretaria de Vigilância à Saúde.
- d) Departamento de Assistência Farmacêutica e Insumos Estratégicos.

40) A Portaria MS nº 1.353, de 13.06.2011 aprovou o regulamento técnico de procedimentos hemoterápicos. Considerando essa legislação, analise as sentenças abaixo e assinale V(verdadeiro) ou F(falso):

- () A frequência máxima admitida e o intervalo entre as doações são de três doações anuais para o homem e de duas doações anuais para a mulher, exceto em circunstâncias especiais que devem ser avaliadas e aprovadas pelo responsável técnico.
- () O doador de sangue ou componentes deve ter idade máxima de 64 anos, 11 meses e 29 dias.
- () O peso mínimo para um candidato a doador ser aceito para a doação é de 50 kg.

A sequência correta, de cima para baixo, é:

- a) V,V,V.
- b) F,V,F.
- c) V,F,F.
- d) F,F,V.

41) Contraindica a doação de sangue, o uso atual pelo doador de:

- a) Anticonvulsivantes.
- b) Paracetamol.
- c) Inibidores da enzima conversora da angiotensina.
- d) Antidepressivos.

42) A RDC - 11, de 16 de fevereiro de 2012 dispõe sobre a Rede Brasileira de Laboratórios Analíticos em Saúde (REBLAS). Sobre essa legislação é incorreto afirmar que:

- a) A admissão da validade de um resultado de avaliação de conformidade fornecido por uma pessoa ou por outro organismo é denominada reconhecimento.
- b) A REBLAS é coordenada pela Coordenação-Geral de Sangue e Hemoderivados do Ministério da Saúde.
- c) A habilitação dos laboratórios integrantes da REBLAS será cancelada se a acreditação ou reconhecimento for cancelada pelo INMETRO (Instituto Nacional de Metrologia, Normalização e Qualidade Industrial).
- d) O laboratório habilitado pode exibir o logotipo da REBLAS em relatórios de ensaios ou estudos, por meio impresso ou eletrônico, desde que relacionados ao escopo habilitado.

43) Considerando a RDC- 57, de 16 de dezembro de 2010, analise as sentenças abaixo e assinale V (verdadeiro) ou F (falso):

- () As bolsas de sangue total com volume inferior a 300 ml devem ser desprezadas exceto que sejam produzidas em bolsas específicas para esta finalidade.
- () A irradiação de hemocomponentes deve ser feita em irradiador de células usado para tratamento de radioterapia, sob supervisão de profissional qualificado, não sendo permitido para esse fim o uso de equipamento de acelerador linear.
- () O plasma isento de crioprecipitado deve ser preparado em sistema fechado, armazenado a 18°C negativos ou menos, com validade de 24 meses.

A sequência correta, de cima para baixo, é:

- a) V,F,F.
- b) F,V,V.
- c) F,F,F.
- d) V,V,V.

44) Considerando as principais causas de inaptidão temporária para a doação de sangue, é incorreto afirmar que:

- a) O tempo de inaptidão para pacientes que tiveram diagnóstico de meningite infecciosa é de pelo menos 6 meses após a cura.
- b) O tempo de inaptidão para pacientes que tiveram diagnóstico de dengue é de pelo menos 8 semanas após a cura.
- c) O tempo de inaptidão para pacientes que tiveram diagnóstico de infecção pelo Citomegalovírus é de 3 meses após desaparecimento dos sintomas.
- d) O tempo de inaptidão para pacientes que tiveram diagnóstico de gripes ou resfriado é de 1 semana após cessarem os sintomas.

45) Considerando a testagem obrigatória e liberação de bolsas de sangue, assinale a alternativa incorreta:

- a) A detecção do HIV deve ser feita por dois testes distintos.
- b) Se o teste inicial para pesquisa da hepatite C (anti-HCV) for positivo a bolsa deve ser prontamente descartada.
- c) Se a pesquisa da doença de Chagas for positiva deve ser repetido o teste inicial em duplicata.
- d) Se a pesquisa do anti-HTLV I/II for positiva deve ser repetido o teste inicial em duplicata. Se o resultado for “reagente” em uma duplicata e “não-reagente” na outra, a bolsa deve ser descartada.

CONHECIMENTOS ESPECÍFICOS

46) Sabe-se que tanto a estrutura de P&D(Pesquisa e Desenvolvimento) centralizada quanto a descentralizada possuem suas vantagens. O quadro abaixo deve refletir este conceito. Associe as vantagens de cada uma das opções abaixo relacionando-as a uma das Letras A ou B.

Estrutura de P&D centralizada	Estrutura de P&D descentralizada
A	B

- I. Melhor uso de recursos.
 - II. Maior integração entre pesquisadores e o produto.
 - III. Maior facilidade de padronização.
 - IV. Menor risco da rotina “absorver” a pesquisa.
 - V. Maior facilidade para atender a dispersão geográfica das unidades.
- a) Associa-se I e IV ao Lado A e II, III e V ao Lado B.
 - b) Associa-se I, III e IV ao Lado A e II e V ao Lado B.
 - c) Associa-se I e III ao Lado A e II, IV e V ao Lado B.
 - d) Associa-se I, II e IV ao Lado A e III e V ao Lado B.

47) Segundo o conceituado pesquisador Michael Porter as estratégias genéricas para a competitividade são as expressas abaixo, exceto pela alternativa:

- I. Diferenciação.
- II. Liderança de Custo.
- III. Enfoque.

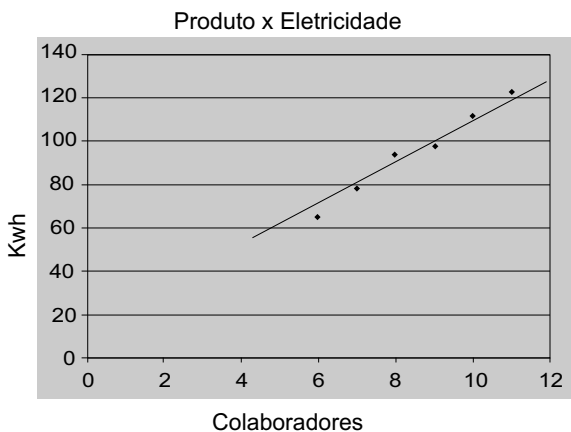
Das afirmações acima:

- a) Apenas I e III estão corretas.
- b) Todas estão corretas.
- c) Apenas I e II estão corretas.
- d) Apenas II e III estão corretas.

48) As ações estratégicas para a competitividade podem variar com o tipo e o momento de cada empresa. Em um plano de uma indústria emergente, podem-se identificar as barreiras de mobilidade iniciais comuns, as quais são apresentadas nas alternativas abaixo, exceto em:

- a) Acesso a canais de distribuição.
- b) Tecnologias patenteadas.
- c) Instabilidade da rivalidade.
- d) Acesso às matérias primas e a outros insumos de qualidade e custos adequados.

49) Um gerente de qualidade está avaliando indicadores de produção. Ele está averiguando o gráfico abaixo, ferramenta essencial para a análise, sendo que esta ferramenta classifica-se como:



- a) Diagrama de Pareto.
- b) Diagrama FishBone.
- c) Histograma.
- d) Diagrama de Dispersão.

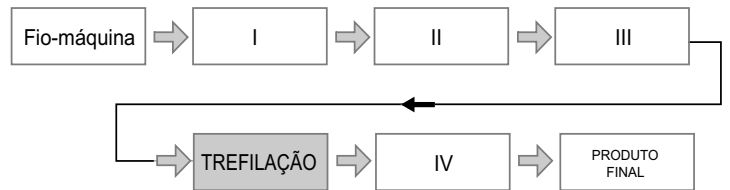
50) Preencha a lacuna com a alternativa correta. A metodologia de Análise do Tipo e Efeito de Falha, conhecida como _____, é uma ferramenta que busca, em princípio, evitar, por meio da análise das falhas potenciais e propostas de ações de melhoria, que ocorram falhas no projeto do produto ou do processo.

- a) FMEA.
- b) Poka-Yoke.
- c) Lean Quality.
- d) Análise PDPC.

51) Também conhecido como Diagrama de Causa e Efeito ou Diagrama Espinha-de-peixe esta ferramenta permite estruturar hierarquicamente as causas potenciais de determinado problema ou oportunidade de melhoria, bem como seus efeitos sobre a qualidade do produto ou serviço. Esse texto refere-se à ferramenta:

- a) Roda de Maslow.
- b) PDCA.
- c) Diagrama de Pareto.
- d) Diagrama de Ishikawa.

52) O desenho abaixo apresenta um processo de fabricação de trefilação de arames de aço. A alternativa que indica respectivamente o nome correto das etapas I, II, III e IV é a:



- a) Lavagem, descarepação, recobrimento e secagem.
- b) Descarepação, lavagem, recobrimento e secagem.
- c) Lavagem, recobrimento, secagem e descarepação.
- d) Recobrimento, lavagem, secagem e descarepação.

53) Complete a lacuna do texto a seguir com a resposta correta. _____ é um material polimérico que pode sofrer deformações elásticas grandes e reversíveis.

- a) Perlita.
- b) Elastômero.
- c) Polímero doce.
- d) Policristalino.

54) Complete a lacuna do texto a seguir com a resposta correta. Os materiais não metálicos (cerâmicas) são isolantes térmicos, uma vez que eles carecem de grandes números de elétrons livres, e desta forma _____ são os principais responsáveis pela condutividade térmica.

- a) os fônons.
- b) as lacunas.
- c) os ânions.
- d) os íons.

55) Complete a lacuna do texto a seguir com a resposta correta. A deformação conhecida por _____ ocorre quando os materiais são colocados em serviço altas temperaturas e ficam constantemente expostos a tensões mecânicas estáticas. Exemplo de sistemas nesta situação são rotores de turbinas e geradores de vapor.

- a) fadiga.
- b) fratura dúctil.
- c) elástica.
- d) fluência.

56) São defeitos básicos do processo de fabricação por extrusão, **exceto**:

- a) Casca de Laranja.
- b) Bolhas.
- c) Anel de Óxidos.
- d) Segregação.

57) As operações de Brunir, polir e lapidar estão relacionadas à etapa do processo de fabricação conhecida por:

- a) Ajuste.
- b) Retificação.
- c) Acabamento.
- d) Fresamento.

58) Complete o texto a seguir com a alternativa correta. Nos ensaios de dureza Brinell, assim como nas medidas Rockwell, um penetrador esférico e duro é forçado contra a superfície do metal a ser testado. O diâmetro do penetrador geralmente é da ordem de 10 mm e sua composição pode ser de:

- I. Aço endurecido.
 - II. Carbetto
 - III. Tungstênio.
- a) I, II e III se encaixam para completar corretamente o texto.
 - b) Apenas I e II se encaixam para completar corretamente o texto.
 - c) Apenas II e III se encaixam para completar corretamente o texto.
 - d) Apenas I e III se encaixam para completar corretamente o texto.

59) Os ensaios de tração permitem conhecer como os materiais reagem aos esforços de tração, quais os limites de tração que suportam e a partir de que momento se rompem. As deformações resultantes dos campos de força podem ser classificadas em tipos:

- I. Deformação elástica – é aquela em que removidos os esforços atuando sobre o corpo, ele volta a sua forma original.
- II. Deformação plástica – é aquela em que removidos os esforços, não há recuperação da forma original.
- III. Deformação cisalhante – é aquela em que removidos os esforços, é necessário a aplicação de outro de sentido inverso para que o corpo volte a sua forma original.

Das afirmações acima, são verdadeiras:

- a) II e III.
- b) I e III.
- c) I e II.
- d) I, II e III.

60) Complete a lacuna do texto a seguir com a resposta correta. A _____ é a capacidade de um material absorver energia quando ele é deformado elasticamente e, depois, com a remoção da carga, permitir a recuperação desta energia.

- a) resiliência.
- b) ductilidade.
- c) tenacidade.
- d) coercibilidade.

QUESTÕES DISSERTATIVAS

Transcreva em no máximo 15 linhas, as respostas das questões dissertativas, com caneta azul ou preta, para o cartão de respostas.

1) Você foi acionado para avaliar uma instalação industrial onde existem alguns equipamentos. Visando avaliar as necessidades, será publicado um memorial descritivo dos equipamentos. Descreva este memorial indicando o que os equipamentos abaixo são e para que fins são utilizados.

- Calandra.
- Fresa.
- Torno Mecânico.
- Máquina de Mandrilar.

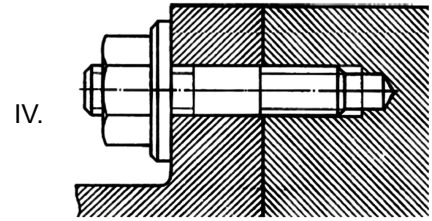
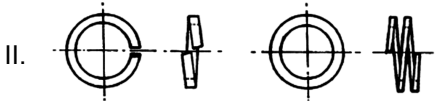
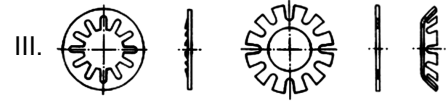
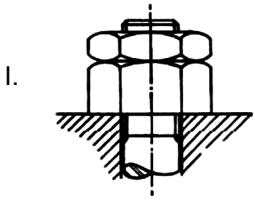
1

5

10

15

2) Você está definindo alguns elementos de máquinas para uma apresentação em seu setor. Descreva os quatro elementos a seguir dando informações técnicas e aplicação:



1

5

10

15

RASCUNHO