



# PREFEITURA MUNICIPAL DE ITAPAJÉ - CE

## CONCURSO PÚBLICO – EDITAL 001/2013

### ENFERMEIRO

NOME DO CANDIDATO: \_\_\_\_\_

RG: \_\_\_\_\_ ÓRGÃO EXPEDIDOR: \_\_\_\_\_

Nº DE INSCRIÇÃO

--	--	--	--	--	--

ASSINATURA: \_\_\_\_\_

### LEIA COM ATENÇÃO E SIGA RIGOROSAMENTE ESTAS INSTRUÇÕES:

1. Este caderno está contendo 60 (sessenta) questões de múltipla escolha, numeradas de 01 a 60.
2. Cada uma das questões apresenta um enunciado seguido de 5 (cinco) alternativas, das quais somente uma é a correta. Assinale-a.
3. Examine se a prova está completa, com a sequência numérica das questões, se há falhas ou imperfeições gráficas que causem dúvidas. Qualquer reclamação deverá ser feita durante os 20 minutos iniciais. Após esse tempo, qualquer reclamação será desconsiderada.
4. Depois de decorridos 2 (duas) horas do início da prova, será distribuído o Cartão-Resposta, o qual será o único documento válido para a correção da prova. Ao recebê-lo, verifique se o seu nome e número de inscrição estão corretos. Reclame imediatamente se houver discrepância.
5. O cartão-resposta não pode ser dobrado, amassado, rasurado ou manchado. Exceto sua assinatura e inscrição, nada deve ser escrito ou registrado fora dos locais destinados às respostas. Tenha muita atenção ao marcar seu cartão-resposta, pois não haverá substituição por erro do candidato. Marque sua resposta pintando completamente o espaço correspondente à alternativa de sua opção.  
  
Ex.: A  B  C  D  E
6. A leitora de marcas não registrará as respostas em que houver falta de nitidez, uso de corretivo, marcação a lápis ou marcação de mais de uma letra. Não serão computadas questões não assinaladas.
7. Durante a prova, é proibido o intercâmbio e o empréstimo de material de qualquer natureza entre os candidatos. A tentativa de fraude, a indisciplina e o desrespeito às autoridades encarregadas dos trabalhos são faltas que implicarão na desclassificação do candidato(a).
8. Qualquer forma de comunicação entre candidatos implicará na eliminação de ambos do certame.
9. Não será permitido ao candidato, durante a realização das provas, portar: armas; aparelhos eletrônicos de qualquer natureza; bolsas; livros; jornais ou impressos em geral; bonés, chapéus, lenço de cabelo, bandanas etc.
10. É vedado o uso de telefone celular ou de qualquer outro meio de comunicação. O candidato que for flagrado portando aparelho celular, durante o período de realização da prova, ou, ainda, aquele candidato cujo aparelho celular tocar será sumariamente eliminado do certame.
11. Em caso de dúvida, durante a prova, levante o braço para solicitar atendimento da fiscalização. Jamais pergunte em voz alta.
12. O Candidato que permanecer na sala de provas, por mais de 3h45min, poderá levar consigo a cópia do gabarito, em formulário específico, fornecido pela **ORGANIZADORA**.
13. Ao terminar a resolução da prova, entregue-a ao fiscal de sala juntamente com o **Cartão-Resposta** (devidamente assinado). Não esqueça, também, de **assinar a folha de frequência**.
14. As provas terão duração de 4 horas. Turno da Manhã com início às 08h00min e término às 12h00min e Turno da Tarde com início às 14h00min e término às 18h00min. Entretanto, o candidato só poderá ausentar-se da sala, depois de decorridas duas horas do início das provas.
15. Os **Gabaritos Preliminares das Provas Objetivas** serão divulgados 72 (setenta e duas) horas após a realização das mesmas.



**CONHECIMENTOS GERAIS**

Leia o texto I e responda as questões de 1 a 5.

**TEXTO I**

**Inclusão no Ensino Superior**

Nos últimos anos, o país assistiu a uma notável ampliação no número de alunos matriculados no ensino superior. Segundo dados do Censo da Educação Superior, de 2002 a 2011, o aumento de matrículas em graduação foi de 91%. As matrículas em instituições de ensino superior (IES) públicas cresceram 63% no mesmo período e, nas privadas, o número de matrículas mais que dobrou, com um crescimento de 104%. Mas qual é o perfil dos alunos que ingressam no ensino superior no Brasil?

"A expansão recente no número de matrículas revela que o acesso à educação superior

ainda se mostra bastante concentrado nos jovens das faixas de renda alta e média e brancos", afirma Clarissa Eckert Baeta Neves, professora da Universidade Federal do Rio Grande do Sul (UFRS), em trabalho apresentado no Congresso da Associação de Estudos Americanos (Lasa).

No último Censo do Instituto Brasileiro de Geografia e Estatística (IBGE, 2010), pela primeira vez os afrodescendentes passaram a ser maioria na sociedade brasileira (com 51% da população). Os brancos representam 48%. Mas essa mudança está muito longe de acontecer no ensino superior. Analisando o perfil socioeconômico do estudante de graduação no Brasil<sup>1</sup>, Dilvo Ristoff, professor da Universidade Federal de Santa Catarina (UFSC), mostra que, nos cursos de Medicina e Odontologia, mais de 70% dos alunos são brancos. No curso de Direito, eles somam 66%.

Nesse contexto, algumas políticas públicas têm buscado amenizar essas desigualdades, por meio de mecanismos para ampliar o número de alunos do ensino público e de negros, pardos e índios no ensino superior.

(Pré-universo, nº 33 agosto de 2013)

**1. Refletindo sobre o texto I, marque a opção CORRETA.**

- a) As matrículas nas instituições de ensino superior públicas cresceram mais que nas instituições privadas.
- b) Os pobres e negros ainda são minoria nesse processo.
- c) Não há políticas públicas voltadas para esse fim.
- d) Há igualdade de oportunidades para o acesso ao ensino de nível superior para os alunos de diferentes classes sociais.
- e) A porcentagem da população afrodescendente na sociedade brasileira é proporcional ao ingresso deles nas instituições de ensino superior.

**2. Em qual das opções a seguir, encontra-se verbo com a mesma regência do verbo "assistir", linha 1?**

- a) Vive-se bem neste país.
- b) Maria namora João há mais de dois anos.
- c) As empresas negam-se a assistir os idosos.
- d) O aluno parece dedicado.
- e) O ensino deve sempre visar ao progresso social.

**3. No trecho "afirma Clarissa Eckert Baeta Neves, professora da Universidade Federal do Rio Grande do Sul (UFRS), em trabalho apresentado no Congresso da Associação de Estudos Americanos (Lasa).", o termo entre vírgulas é classificado como:**

- a) Vocativo.
- b) Adjunto adverbial.

- c) Oração subordinada adjetiva.
- d) Aposto.
- e) Predicativo do sujeito.

**4. Quanto ao gênero textual, podemos classificar o Texto I como:**

- a) Crônica.
- b) Entrevista.
- c) Reportagem.
- d) Fábula.
- e) Conto.

**5. Marque a opção CORRETA que indica a função da linguagem predominante no texto I.**

- a) Referencial.
- b) Metalinguística.
- c) Poética.
- d) Fática.
- e) Apelativa.

**6. Marque a opção INCORRETA quanto ao uso ou não da crase.**

- a) Tenho um fogão a gás.
- b) Vou à Bahia.
- c) Cheguei à casa do professor.
- d) Parabéns a você.
- e) Refiro-me à minha velha amiga.

**7. Analise as afirmações a seguir:**

- I. No vocábulo "ruim" há um hiato.
- II. É facultativo pronunciar-se o "u" depois de "g" na palavra "antiguidade".
- III. "X" soa /KS/ nas palavras "tíxico", "asfixia", "intoxicar".
- IV. São proparoxítonas "caracteres", "edito" (lei, decreto), "filantropo".

**Marque a opção que apresenta as afirmativas CORRETAS.**

- a) I – II – III – IV.
- b) I – II – III.
- c) I – II – IV.
- d) I – III – IV.
- e) II – III – IV.

**8. Quanto ao gênero do substantivo, marque a opção CORRETA.**

- a) Borboleta é substantivo sobrecomum.
- b) Criança é substantivo comum de dois gêneros.
- c) Alface é substantivo feminino.
- d) Entorse é substantivo masculino.
- e) Aneurisma é substantivo epiceno.

**9. Observe os períodos a seguir:**

- I. A maior parte recusou-se a segui-los.
- II. Mais de um passageiro se irritou com ele.
- III. Vossa Senhoria não respeitastes o compromisso.
- IV. Fui eu quem perdeu mais no investimento.

**Quanto à concordância verbal, marque a opção que apresenta a(s) afirmativa(s) CORRETA(S).**

- a) I – II.
- b) II.
- c) I – II – III.
- d) III.
- e) I – II – IV.

Leia a tirinha para responder a questão 10  
**TEXTO II**



(disponível em [www.tirinhasnovestibular](http://www.tirinhasnovestibular))

10. Quanto à linguagem empregada no texto II, marque a opção INCORRETA.

- É coloquial, utilizada entre amigos.
- Há presença de gírias.
- É predominantemente denotativa.
- É predominantemente conotativa.
- É linguagem verbal.

11. Em “Fez tudo porque eu não obtivesse bons resultados”, o valor da conjunção do período é de:

- Causa.
- Condição.
- Conformidade.
- Explicação.
- Finalidade.

12. Marque a opção CORRETA em que as palavras destacadas apresentam a mesma relação semântica que “ausência” e “presença”.

- A participação em nosso grupo provoca sentimentos de segurança e bem-estar.
- O desconhecido provoca a nossa desconfiança, às vezes, nosso medo.
- Sentimos que aqueles que mais nos conhecem são também capazes de ignorar o que de melhor trazemos conosco.
- As situações novas são atraentes e provocantes.
- Ainda sonhamos com o país distante, a terra prometida onde possamos ser felizes.

13. Qual a figura de linguagem presente no período “Falta-lhe inteligência para compreender isso.”?

- Ironia.
- Eufemismo.
- Hipérbole.
- Metonímia.
- Prosopopeia.

14. Marque a opção CORRETA que indica a palavra que tem o sufixo formador de advérbio.

- Extremamente.
- Sociedade.
- Enriquecimento.
- Pessimismo.
- Desesperança.

15. Analise as afirmativas a seguir.

A enfermeira procede \_\_\_ exame do paciente.  
O conferencista aludiu \_\_\_ fato.  
A gerente visa \_\_\_ cheque do cliente.  
A equipe visa \_\_\_ primeiro lugar no campeonato.  
Não podendo lutar, preferiu morrer \_\_\_ viver.

Marque a opção que preenche corretamente e respectivamente as lacunas.

- Ao / o / ao / ao / do que.
- Ao / ao / ao / ao / do que.
- A / ao / o / ao / que.
- Ao / ao / o / ao / a.
- Ao / ao / o / ao / à.

16. Um provedor de acesso à Internet oferece dois planos para seus assinantes:

Plano A - Assinatura mensal de R\$ 8,00 mais R\$ 0,03 por cada minuto de conexão durante o mês.

Plano B - Assinatura mensal de R\$ 10,00 mais R\$ 0,02 por cada minuto de conexão durante o mês.

Acima de quantos minutos de conexão por mês é mais econômico optar pelo plano B?

- 160.
- 180.
- 200.
- 220.
- 240.

17. Quatro amigos, Gustavo, Natalia, João e Deborah, vão ao cinema e sentam-se em lugares consecutivos na mesma fila. O número de maneiras que os quatro podem ficar dispostos de forma que Gustavo e Natalia fiquem sempre juntos e João e Deborah também, é:

- 2.
- 4.
- 8.
- 16.
- 24.

18. Num grupo constituído de Y pessoas, das quais 14 jogam xadrez, 40 são homens. Se 20% dos homens jogam xadrez e 80% das mulheres não jogam xadrez, então o valor de Y é:

- 62.
- 70.
- 78.
- 84.
- 90.

19. Sendo D o determinante da matriz mostrada na figura adiante o valor positivo de x é:

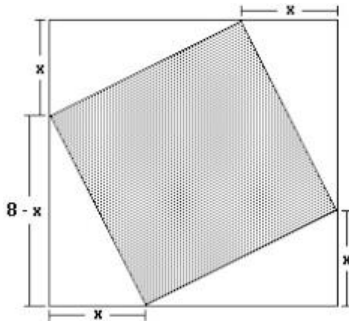
$$M = \begin{bmatrix} x & 1 \\ 1 & x \end{bmatrix} \text{ e } D = 8$$

- Um múltiplo de 4.
- O máximo divisor comum de 6 e 9.
- Um divisor de 10.
- O mínimo múltiplo comum de 3 e 5.
- Não se pode calcular.

20. Sabe-se que  $x - y = 4$  e  $x^2 + xy + y^2 = 52$ . Então:

- $x^2 - y^2 = 208$ .
- $x^2 + y^2 = 208$ .
- $x^3 + y^3 = 208$ .
- $x^3 - y^3 = 208$ .
- $x(x - y) = 208$ .

21. Na figura a seguir tem-se um quadrado inscrito em outro quadrado. Pode-se calcular a área do quadrado interno, subtraindo-se da área do quadrado externo as áreas dos 4 triângulos. Feito isso, verifica-se que  $A$  é uma função da medida  $x$ . O valor mínimo de  $A$  é:



- a)  $16 \text{ cm}^2$ .
- b)  $32 \text{ cm}^2$ .
- c)  $24 \text{ cm}^2$ .
- d)  $48 \text{ cm}^2$ .
- e)  $28 \text{ cm}^2$ .

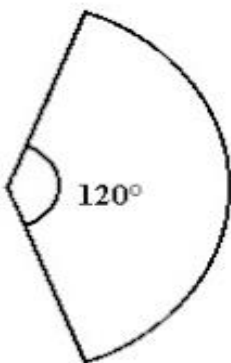
22. Considere dois pontos distintos  $A$  e  $B$  de um plano. O lugar geométrico dos pontos  $P$  deste plano tal que a soma das distâncias de  $P$  aos pontos  $A$  e  $B$  é constante, é uma curva denominada:

- a) Reta.
- b) Circunferência.
- c) Elipse.
- d) Parábola.
- e) Hipérbole.

23.  $A$  é um ponto não-pertencente a um plano  $P$ . O número de retas que contêm  $A$  e fazem um ângulo de  $45^\circ$  com  $P$  é igual a:

- a) 0.
- b) 1.
- c) 2.
- d) 4.
- e) Infinito.

24. O setor circular da figura a seguir é a superfície lateral de um cone cuja base tem diâmetro 4 e área igual a  $k\%$  da área total do cone. Então  $k$  vale:



- a) 20.
- b) 25.
- c) 30.
- d) 35.
- e) 40.

25. A soma de todos os elementos da inversa da matriz  $M$  mostrada na figura, a seguir, é igual a:

$$M = \begin{bmatrix} 1 & -1 \\ 0 & 2 \end{bmatrix}$$

- a) -2.
- b) -1.
- c) 0.
- d) 1.
- e) 2.

26. Um inseto, cujo tamanho é desprezível, faz um percurso linear. Inicialmente, caminha para a direita uma distância de 1 m. Então, ele vira para a esquerda, caminhando metade da distância do seu ponto corrente. Se o inseto continuar caminhando para a direita e para a esquerda, sempre andando a metade da distância previamente caminhada, percorrerá, a partir da origem, a distância de:

- a) 1 m.
- b) 2 m.
- c) 4 m.
- d) 8 m.
- e) 10 m.

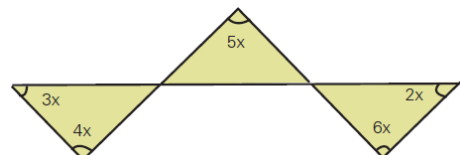
27. Luiz Eduardo depositou metade do seu capital para render juros durante três anos, a uma taxa de 15% ao ano, e a outra metade durante dois anos, a uma taxa de 12% ao ano, obtendo-se, ao final, um rendimento total de R\$ 8.625,00. Sabendo que a aplicação é com juros simples, determine o total aplicado nas duas operações.

- a) R\$ 25.000,00.
- b) R\$ 35.000,00.
- c) R\$ 15.000,00.
- d) R\$ 20.000,00.
- e) R\$ 8.000,00.

28. Para fazer 24 pães, Sr. João usa exatamente 1 quilo de farinha de trigo, 6 ovos e 200 gramas de manteiga. Qual é o maior número de pães que ele conseguirá fazer com 12 quilos de farinha, 54 ovos e 3,6 quilos de manteiga?

- a) 200.
- b) 216.
- c) 228.
- d) 300.
- e) 432.

29. Observe a figura, a seguir:



Quanto Vale " $x$ "?

- a)  $24^\circ$ .
- b)  $6^\circ$ .
- c)  $18^\circ$ .
- d)  $20^\circ$ .
- e)  $12^\circ$ .

**30. A diferença entre o quadrado da soma de dois números inteiros e a soma de seus quadrados NÃO pode ser:**

- 12.
- 6.
- 4.
- 2.
- 9.

**31. “Regime político no qual a soberania é exercida pelo povo, pertence ao conjunto dos cidadãos.”**

JAPIASSÚ, H.; MARCONDES, D. *Dicionário Básico de Filosofia*. Rio de Janeiro: Zahar, 2006.

**A afirmação acima é um conceito sobre:**

- Soberania.
- Autonomia.
- Direito.
- Justiça.
- Democracia.

**32. Leia a notícia a seguir:**

**Nordeste é região com mais bolsas do governo federal.**

*O Estado de S. Paulo – 16/09/2013*

*cod. 12.507*

Historicamente menos prestigiado nas políticas de ensino superior, o Nordeste enviou o maior número de graduandos para o exterior, em relação ao número de estudantes da região. Até agosto, o governo concedeu 547 bolsas para cada 100 mil universitários nordestinos, contra 509 no Sudeste. As bolsas oferecidas pelo Brasil somam quase 37,8 mil - das 101 mil prometidas até 2015.

Especialistas apontam que ainda é cedo para determinar impactos no desenvolvimento científico-tecnológico das instituições nordestinas. A expectativa mais imediata é de que as bolsas favoreçam a internacionalização das universidades locais e incrementem o repertório dos estudantes.

**A notícia apresenta dados sobre o programa:**

- Ciência Sem Fronteiras.
- Brasil Profissionalizado.
- Fundo de financiamento Estudantil.
- Plano Juventude Viva.
- Programa Nacional de Acesso ao Ensino Técnico e Emprego.

**Leia os textos (1 e 2) a seguir e responda a questão 33.**

#### TEXTO 1

**PIB - Apesar de mais altos, investimentos em educação ainda são mal distribuídos, aponta OCDE.**

*Agência Brasil – 14/09/2013*

*cod. 12.510*

Brasília – Os investimentos totais em educação no Brasil em relação ao Produto Interno Bruto (PIB) passaram de 5,8% para 6,1%, de 2010 para 2011. No mesmo período, as aplicações diretas – excluídos financiamentos e pagamento de bolsas, passaram de 5,1% para 5,3%. O último relatório da Organização para a Cooperação e Desenvolvimento Econômico (OCDE) mostra que, em relação a outros países, em 2010, o Brasil ultrapassou a Hungria (4,6%), a Itália (4,7%) e

equiparou-se à Suíça (5,6%). As porcentagens, no entanto, escondem os valores reais e a má distribuição desses recursos no país.

O relatório da OCDE mostra que o Brasil aumentou significativamente o investimento de 2000 para 2010, mas ainda está abaixo da média dos países da organização, que é de 6,3% do PIB. A porcentagem significa que, por aluno de instituição pública, o país investe, por ano, US\$ 2,96 mil. Os países cuja proporção foi ultrapassada ou equiparada, investem mais em termos reais. A Hungria investe US\$ 4,8 mil, a Itália US\$ 7,83 mil e a Suíça, US\$ 12,8 mil.

#### TEXTO 2

**RECURSOS - MEC usou menos de um terço do orçamento da pasta no primeiro semestre.**

*Agência Brasil – 14/09/2013*

*cod. 12.509*

Brasília – Nos primeiros seis meses deste ano, o Ministério da Educação (MEC) usou menos de um terço do orçamento aprovado para a pasta. Desse total, 2% foram usados em investimentos, ou seja, no que é incorporado ao patrimônio público. A Agência Brasil solicitou às consultorias de Orçamento da Câmara dos Deputados e do Senado Federal, que acompanham a execução orçamentária do governo, detalhes sobre o orçamento para o setor de janeiro a junho de 2013.

De acordo com os dados, até o dia 22 de junho, o Governo Federal liquidou R\$ 27,7 bilhões dos R\$ 89,1 bilhões autorizados para uso do MEC e financiamento estudantil, ou seja, 31% do que foi aprovado pelo Congresso Nacional no início do ano.

**33. Refletindo sobre os dois textos, marque a opção CORRETA.**

- São ambíguos, sem contextualização com a temática.
- A temática é comum, embora o Texto 2, contradiga o Texto 1.
- O Texto 2 é uma argumentação do Texto 1.
- Os dois textos diferem em argumentos.
- O Texto 1 fundamenta o Texto 2.

**34. A charge a seguir pretende, evidentemente, fazer uma crítica a um determinado comportamento da sociedade, postura essa decorrente do desenvolvimento da tecnologia.**

**Observe a charge:**



**A crítica apresentada na charge ao comportamento da sociedade equivale a(ao):**

- Consumismo exagerado das novas tecnologias.
- Registro por populares de acontecimentos inesperados.
- Insaciável corrida pelos últimos modelos de celular.

- d) Atitude uniforme pela ânsia de um “furo” de reportagem.  
e) Mudança nos relacionamentos interpessoais.

**35. Analise a charge a seguir:**



Leia-se: **VAI LAVAR AS MÃOS PARA O ABANDONO DA MATA ATLÂNTICA? APROVEITA ENQUANTO TEM ÁGUA.**

A charge sensibiliza para:

- a) O desperdício da água na região da mata atlântica.  
b) O desmatamento comprometendo os lençóis freáticos da região.  
c) A ausência de controle sobre os recursos hídricos da região.  
d) A deficiência da rede de água e esgoto na área urbana da região.  
e) Os procedimentos corretos da higiene das mãos da população na região.

Leia a notícia a seguir para responder a questão 36.

MEC – 13/09/2013

cod. 12.514

A presidenta da República, Dilma Rousseff, participou, em Uberlândia, no Triângulo Mineiro, da formatura de 2.634 alunos. Segundo a presidenta, o Brasil precisa de ensino técnico para ser competitivo e para desenvolver a economia. Daí a necessidade de a formação dos trabalhadores ser constante, é tão importante que vamos fazer com que se torne programa constante do governo” afirmou. “O Brasil precisa de ensino técnico para competir no mundo, precisamos para melhorar nós mesmos, a nossa economia.”

**36. De acordo com a notícia, a fala da Presidente refere-se a qual programa?**

- a) PROUNI.  
b) FIES.  
c) SISTEMA S de ensino.  
d) PRONATEC.  
e) PROEJA.

**37. O Jornal O POVO, de 23 de novembro de 1974 / sábado, destaca a seguinte manchete: “VEM DE ITAPAJÉ A PRIMEIRA DEPUTADA ESTADUAL DO CEARÁ”. Essa notícia refere-se a itapajeense:**

- a) Maria Luíza Gomes.  
b) Maria Lúcia Mota.  
c) Maria Zélia Mota.  
d) Maria Zélia Gomes.  
e) Maria Augusta Forte.

**38. Sobre o município de Itapajé marque (V) para as afirmativas VERDADEIRAS, e (F) para as FALSAS.**

- ( ) A BR – 022 é a principal via de acesso a cidade.  
( ) Itapajé é originário do Tupi, que significa “frade de pedra”.  
( ) O ano de criação do município foi 1847.  
( ) Os limites de Itapajé são: Apuiaries, Irauçuba e Itapipoca.

**Marque a opção que apresenta a sequência CORRETA.**

- a) V – V – V – F.  
b) F – F – V – V.  
c) V – F – V – F.  
d) V – V – V – V.  
e) F – V – F – V.

**39. “Não há solução para os problemas sociológicos e ambientais dentro das lógicas de mercado global”.**

(Slavoj Zizek.)

**A economia mundial influencia outros setores da sociedade. Sobre esse tema, considere as seguintes afirmativas:**

- I. O atual modelo assumido pela economia mundial coloca países subdesenvolvidos e desenvolvidos em um mesmo patamar socioeconômico e cultural.  
II. A presença da rede McDonald’s em países como a Índia e a China mostra a eficácia dos modelos de consumo ocidentais difundidos pela ruptura de barreiras comerciais.  
III. Cuba é um dos poucos países do mundo ocidental que se mantém fora do circuito mundial do comércio, da informação e da comunicação, embora na atualidade se verifiquem algumas mudanças na participação cubana nesses setores.  
IV. A abertura econômica da China tem sido acompanhada por um acelerado processo de democratização do país.

**Marque a opção que apresenta a(s) afirmativa(s) CORRETA(S).**

- a) I.  
b) II – III.  
c) II – IV.  
d) I – II – III.  
e) I – III – IV.

**40. A agricultura familiar no Ceará se mostra um segmento importante, não só para a economia do agronegócio, mas também para a economia total. Sua importância social, seja pela geração de emprego e ocupação, seja pelo perfil dos produtos, é notória, especialmente, em algumas cadeias produtivas que têm características predominantemente familiares. Segundo o Instituto Agropólos do Ceará, marque a opção CORRETA que apresenta atividades agrícolas familiares.**

- a) Feijão, milho e mandioca.  
b) Algodão, milho e feijão.  
c) Feijão, mandioca e algodão.  
d) Cana-de-açúcar, feijão e milho.  
e) Soja, milho e mandioca.

**CONHECIMENTOS ESPECÍFICOS**

**41. Marque a opção CORRETA que apresenta a doença que se recomenda a notificação compulsória imediata tanto para os casos suspeitos como para os casos confirmados.**

- a) Leptospirose.
- b) Malária.
- c) Dengue.
- d) Botulismo.
- e) Sífilis.

**42. Marque a opção CORRETA sobre o processo saúde doença.**

- a) A epidemiologia é a ciência que estuda o processo saúde doença analisando a distribuição e os fatores determinantes das enfermidades e agravos à saúde coletiva, propondo medidas específicas de prevenção e controle para evitar a erradicação.
- b) O período de transmissibilidade é o intervalo de tempo que decorre desde a infecção até o aparecimento dos primeiros sintomas.
- c) As ações preventivas realizadas no período da pré-patogênese são chamadas de prevenção primária e são divididas em dois tipos: promoção da saúde e proteção específica.
- d) O período de incubação é aquele que o indivíduo é capaz de transmitir a doença.
- e) O conceito de saúde-doença estuda somente os fatores biológicos para obter possíveis motivações para o surgimento de alguma enfermidade.

**43. Baseado no Código de Ética dos profissionais de enfermagem assinale (V) para as afirmativas VERDADEIRAS e (F) para FALSAS sobre os conceitos das infrações.**

- ( ) Negligência significa falta de atenção, cuidado ou aplicação em uma determinada situação. Ausência de reflexão necessária.
- ( ) Imprudência é a ausência de conhecimentos elementares e básicos da profissão.
- ( ) Imperícia é a falta de qualificação técnica, teórica ou prática do profissional.
- ( ) Dolo é o desejo de praticar ato considerado sem consciência de estar violando regras que podem prejudicar a terceiros.
- ( ) É falta classificada como imperícia a cateterização vesical que, realizada pelo profissional de enfermagem sem a devida qualificação, coloque em risco a saúde do paciente.

**Marque a opção que apresenta a sequência CORRETA.**

- a) V – F – F – F – V.
- b) V – V – V – V – V.
- c) V – V – F – F – V.
- d) F – V – F – F – V.
- e) V – F – V – F – V.

**44. Marque a opção INCORRETA sobre a prova tuberculínica ou teste de Mantoux.**

- a) A tuberculina deve ser conservada de 4° a 8°C, não pode ser congelada nem exposta à luz solar.
- b) No Brasil o derivado proteico utilizado é o R23.
- c) A prova tuberculínica é indicada como método auxiliar no diagnóstico da tuberculose em pessoas não vacinadas com BCG ou indivíduos infectados pelo HIV.
- d) A leitura da prova tuberculínica é realizada de 48 a 72 horas após a aplicação, podendo este prazo ser estendido até 96 horas.

- e) A prova tuberculínica quando positiva, isoladamente indica presença de infecção e é suficiente para o diagnóstico da tuberculose.

**45. Sobre as doenças infecciosas de interesse para a saúde pública segundo o Ministério da Saúde, assinale (V) para as afirmativas VERDADEIRAS e (F) para as FALSAS.**

- ( ) As medidas de controle e combate à dengue visam manter a infestação do vetor em níveis incompatíveis com a transmissão.
- ( ) A AIDS é uma doença que representa um dos maiores problemas de saúde da atualidade em função do seu caráter pandêmico e sua gravidade.
- ( ) A gonorreia é uma doença infecciosa do trato genital, de transmissão sexual e baixa morbidade. Com maior proporção de casos em pessoas do sexo feminino.
- ( ) Leptospirose é uma doença infecciosa febril de início abrupto e baixa letalidade.
- ( ) O tétano neonatal é uma doença infecciosa aguda, grave, contagiosa e imunoprevenível.

**Marque a opção que apresenta a sequência CORRETA.**

- a) V – F – F – F – V.
- b) F – V – F – F – V.
- c) V – V – F – V – F.
- d) V – F – V – F – V.
- e) V – V – F – F – F.

**46. Em relação aos aspectos clínicos da cetoacidose diabética, marque a opção INCORRETA.**

- a) Astenia.
- b) Náuseas e vômitos.
- c) Ganho ponderal.
- d) Desidratação.
- e) Poliúria.

**47. Transtorno mental de evolução crônica, mais comum no sexo masculino, caracterizado pelo comprometimento na interação social, comunicação e desenvolvimento das atividades, são características da(o):**

- a) Neurose.
- b) Demência.
- c) Psicose.
- d) Esquizofrenia.
- e) Autismo.

**48. Marque a opção INCORRETA relacionada às doenças infecciosas.**

- a) Tétano – doença transmissível e não contagiosa.
- b) Difteria – doença bacteriana transmissível e imunoprevenível.
- c) Raiva humana – doença viral infecciosa aguda e fatal.
- d) Sarampo – doença bacteriana imunoprevenível, transmissível e contagiosa.
- e) Hepatites virais são consideradas doenças sexualmente transmissíveis.

**49. Marque a opção CORRETA sobre a Notificação Compulsória que é a comunicação da ocorrência de determinada doença ou agravo à saúde, feita a autoridade sanitária.**

- a) Não deve ser feita para os casos de doenças ou agravos suspeitos, somente para os casos confirmados.
- b) O Sistema de Informação de Agravos de Notificação (SINAN) tem como objetivo coletar e processar dados sobre os agravos de notificação



em todo território nacional.

- c) É obrigatória a notificação dos casos de pacientes que são portadores do vírus HIV e não manifestaram a doença.
- d) Não é necessário que a Notificação Compulsória seja sigilosa quando para fins estatísticos.
- e) Só pode ser feita por profissionais de saúde.

**50. Marque a opção CORRETA relacionada à Síndrome da Rubéola Congênita (SRC) que é uma complicação da infecção pelo vírus da rubéola durante a gestação, principalmente no primeiro trimestre, podendo comprometer o desenvolvimento do feto e causar aborto e morte fetal.**

- a) A SRC é transmitida por via transplacentária, antes da viremia materna.
- b) As crianças com SRC frequentemente apresentam mais de um sinal ou sintoma, mas podem ter apenas uma malformação, das quais a deficiência auditiva é a menos comum.
- c) A vacinação não é uma boa estratégia para o controle da rubéola e prevenção da SRC.
- d) Deve ser notificada toda criança até 12 meses que apresente sinais clínicos compatíveis com infecção congênita pelo vírus da rubéola, independente da história materna.
- e) A notificação dos casos suspeitos não precisa ser feita de imediato para o Serviço de Vigilância Epidemiológica da Unidade de Saúde.

**51. O choque hipovolêmico é uma condição de comprometimento grave da perfusão tecidual. Marque a opção que NÃO caracteriza manifestação clínica do choque hipovolêmico.**

- a) Acidose metabólica.
- b) Bradicardia.
- c) Oligúria.
- d) Inquietação.
- e) Hipertensão.

**52. Em relação aos distúrbios do metabolismo, marque a opção INCORRETA.**

- a) Hipernatremia é quando a dosagem de potássio for alta.
- b) O paciente apresenta hiponatremia quando a concentração de sódio no plasma sanguíneo é menor do que o normal, inferior a 135mEq/L (miliequivalentes por litro de sangue).
- c) A *hipercalcemia* é definida como uma concentração sérica de cálcio maior que 5 mEq/L.
- d) A hipermagnesemia pode acarretar fraqueza, hipotensão arterial e dificuldade respiratória.
- e) Hipocalcemia é quando a dosagem de cálcio sérico estiver abaixo do normal.

**53. A reforma psiquiátrica no Brasil compreende um movimento amplo, complexo e dinâmico que está em processo de construção e tem como estratégia a superação e transformação do paradigma psiquiátrico. Sobre a saúde mental, assinale (V) para as afirmativas VERDADEIRAS e (F) para as FALSAS.**

( ) A esquizofrenia caracteriza-se essencialmente por uma fragmentação da estrutura básica dos processos de pensamento, acompanhada pela dificuldade em estabelecer a distinção entre as experiências internas e externas.

( ) No Transtorno Obsessivo-Compulsivo (TOC), o indivíduo apresenta medo excessivo de espaços abertos, multidões e situações em que haja dificuldade

de fuga.

( ) O Transtorno Bipolar do Humor, antigamente denominado de psicose maníaco-depressiva, é caracterizado por oscilações ou mudanças cíclicas de humor. Estas mudanças vão desde oscilações normais, como nos estados de alegria e tristeza, até mudanças patológicas acentuadas e diferentes do normal.

( ) O Transtorno Obsessivo-Compulsivo é um transtorno de ansiedade em que a pessoa apresenta pensamentos, sentimentos, ideias, sensações (obsessões) ou comportamentos repetidos e indesejados que fazem ela sentir-se forçada a fazer alguma coisa (compulsões).

( ) A depressão não é considerada uma doença, mas sim, um distúrbio afetivo que acompanha a humanidade ao longo da sua história.

**Marque a opção que apresenta a sequência CORRETA.**

- a) V – F – V – F – V.
- b) F – V – V – V – F.
- c) V – V – F – F – V.
- d) V – F – V – V – F.
- e) V – V – V – V – F.

**54. Marque a opção CORRETA que apresenta os sintomas clássicos do paciente com hiperglicemia.**

- a) Poliúria e polidipsia.
- b) Disúria e polaciúria.
- c) Oligúria e dor torácica.
- d) Disúria e oligofagia.
- e) Oligúria e polaciúria.

**55. O período de incubação do vírus da dengue tem um período de quantos dias?**

- a) 3 a 15.
- b) 7 a 30.
- c) 2 a 25.
- d) 7 a 20.
- e) 5 a 30.

**56. Marque a opção INCORRETA sobre a doença hemolítica do recém-nascido.**

- a) Doença hemolítica do recém-nascido ocorre quando o sangue de um feto sofre hemólise, ou seja, é aglutinado pelos anticorpos do sangue da mãe.
- b) Caracteriza-se por anemia hemolítica e hipobilirrubinemia.
- c) É causada pela transferência de anticorpos maternos para o feto causando hemólise.
- d) A doença hemolítica do recém-nascido também pode ser chamada de eritroblastose fetal pelo fato de haver eritroblastos em circulação.
- e) As formas mais graves estão relacionadas à incompatibilidade Rh.

**57. Marque a opção INCORRETA relacionada à vacina contra a tuberculose, que é o BCG (bacilo de Calmette & Guérin) liofilizado, obtido por atenuação do *Mycobacterium bovis*.**

- a) Em criança que recebeu a vacina BCG há seis meses ou mais, e não apresenta cicatriz vacinal, indica-se a revacinação, sem necessidade de realização prévia do teste tuberculínico (PPD).
- b) Está indicada o mais precocemente possível, nas crianças HIV positivas assintomáticas e filhos de mães HIV positivas.
- c) É indicada principalmente para prevenir as formas

- graves da tuberculose (miliar e meníngea).
- d) É contra-indicada nos indivíduos HIV positivos sintomáticos.
  - e) Deverá ser administrada nos contatos intradomiciliares sem sinais e sintomas de Hanseníase independentemente de terem uma ou duas cicatrizes vacinais.

**58. Com relação às medidas de prevenção e controle das doenças transmissíveis, assinale (V) para as afirmativas VERDADEIRAS e (F) para as FALSAS.**

( ) O modo de transmissão da hanseníase se dá por meio de uma pessoa doente em tratamento que elimina o bacilo para o meio exterior infectando outras pessoas susceptíveis.

( ) A tuberculose é transmitida de pessoa a pessoa, principalmente através do contato.

( ) O tratamento preventivo da tuberculose está indicado para indivíduos que apresentam alto risco de desenvolver a tuberculose e não tenham a suspeita de estarem doentes.

( ) As doenças sexualmente transmissíveis (DST) de notificação compulsória são: AIDS, HIV na gestante/criança exposta, sífilis na gestação, sífilis congênita e sífilis adquirida.

( ) A hanseníase é uma doença infectocontagiosa crônica, curável, causada pelo vírus de Hansen (*Mycobacterium leprae*).

**Marque a opção que apresenta a sequência CORRETA.**

- a) V – V – F – F – F.
- b) F – F – V – V – F.
- c) F – V – F – V – V.
- d) F – V – F – F – V.
- e) V – F – F – V – F.

**59. Em relação à Constituição Federal de 1988, marque a opção INCORRETA.**

- a) A descentralização, atendimento integral e participação da comunidade são diretrizes dos serviços públicos de saúde que constituem o Sistema Único conforme Artigo 198 da Constituição Federal.
- b) O Sistema Único de Saúde criado no Brasil em 1988 com a promulgação da nova Constituição Federal tornou acesso gratuito à saúde direito de todo cidadão.
- c) Como exemplo de uma das ações mais reconhecidas do SUS estão os programas de vacinação em massa de crianças e idosos em todo país.
- d) Conforme Artigo 200 da Constituição Federal de 1988 compete ao SUS participar da produção de medicamentos, equipamentos, imunobiológicos, hemoderivados e outros insumos.
- e) Baseado na Constituição Federal de 1988 é permitida a participação de empresas ou capitais estrangeiros na assistência à saúde.

**60. A definição legal do Sistema Único de Saúde inclui todos os itens a seguir, EXCETO:**

- a) Rede regionalizada.
- b) Rede hierarquizada.
- c) Descentralização.
- d) Gratuidade.
- e) Atendimento integral.