



**PREFEITURA  
MUNICIPAL  
DE CACOAL**

# **PREFEITURA MUNICIPAL DE CACOAL – RO SECRETARIA MUNICIPAL DE ADMINISTRAÇÃO – SEMAD**

## **CONCURSO PÚBLICO para o cargo de Economista**

**PROVA  
S11 – P  
TARDE**

**ATENÇÃO:**  
Verifique se o tipo de prova deste caderno de questões confere com o seu cartão de respostas.



**TRANSCREVA, EM ESPAÇO DETERMINADO NO SEU CARTÃO DE RESPOSTAS,  
A FRASE DO ESCRITOR PAULO COELHO PARA EXAME GRAFOTÉCNICO**

**“O caminho da sabedoria é não ter medo de errar.”**

### **ATENÇÃO**

● **DURAÇÃO DA PROVA:** 3 horas e 30 minutos.

● **ESTE CADERNO CONTÉM 60 (SESSENTA) QUESTÕES DE MÚLTIPLA ESCOLHA, CADA UMA COM 5 ALTERNATIVAS DE RESPOSTA – A, B, C, D e E – CONFORME DISPOSIÇÃO ABAIXO:**

Disciplinas	Quantidade de questões	Valor de cada questão
Língua Portuguesa	15	2
Legislação e Ética na Administração Pública Municipal	5	1
Geografia e História de Rondônia	5	1
Informática Básica	10	1
Conhecimentos Específicos	25	2

● **VERIFIQUE SE ESTE MATERIAL ESTÁ EM ORDEM, CASO CONTRÁRIO, NOTIFIQUE IMEDIATAMENTE O FISCAL.**

● **RESERVE OS 30 (TRINTA) MINUTOS FINAIS PARA MARCAR SEU CARTÃO DE RESPOSTAS.**

### **LEIA AS INSTRUÇÕES ABAIXO**

- Após identificado e instalado na sala, você não poderá consultar qualquer material, enquanto aguarda o horário de início da prova.
- Siga, atentamente, a forma correta de preenchimento do Cartão de Respostas, conforme estabelecido no próprio.
- Não haverá substituição do Cartão de Respostas por erro do candidato.

#### **Por motivo de segurança:**

- O candidato só poderá retirar-se definitivamente da sala após 1 (uma) hora do início efetivo da prova;
- Somente faltando 1 (uma) hora para o término da prova, o candidato poderá retirar-se levando o seu Caderno de Questões;
- O candidato que optar por se retirar sem levar o seu Caderno de Questões, não poderá copiar suas respostas por qualquer meio. O descumprimento dessa determinação será registrado em ata e acarretará a eliminação do candidato; e
- Ao terminar a prova, o candidato deverá retirar-se imediatamente do local, não sendo possível nem mesmo a utilização dos banheiros e/ou bebedouros.
- Ao terminar a prova, é de sua responsabilidade entregar ao fiscal o Cartão de Respostas assinado. Não se esqueça dos seus pertences.
- Os três últimos candidatos deverão permanecer na sala até que o último candidato entregue o Cartão de Respostas.
- O fiscal de sala não está autorizado a alterar quaisquer destas instruções. Em caso de dúvida, solicite a presença do coordenador local.

**BOA PROVA!**

[www.funcab.org](http://www.funcab.org)

Leia o texto abaixo e responda às questões propostas.

### A hora da estrela

Maio, mês das borboletas noivas flutuando em brancos véus. Sua exclamação talvez tivesse sido um prenúncio do que ia acontecer no final da tarde desse mesmo dia: no meio da chuva abundante encontrou (explosão) a primeira espécie de namorado de sua vida, o coração batendo como se ela tivesse englutido um passarinho esvoaçante e preso. O rapaz e ela se olharam por entre a chuva e se reconheceram como dois nordestinos, bichos da mesma espécie que se farejam. Ele a olhara enxugando o rosto molhado com as mãos. E a moça, bastou-lhe vê-lo pra torná-lo imediatamente sua goiabada-com-queijo.

Ele...

Ele se aproximou e com voz cantante de nordestino que a emocionou, perguntou-lhe:

– E se me desculpe, senhorinha, posso convidar a passear? [...]

Eles não sabiam como se passeia. Andaram sob a chuva grossa e pararam diante da vitrine de uma loja de ferragem onde estavam expostos atrás do vidro canos, latas, parafusos grandes e pregos. [...]

Da segunda vez em que se encontraram caía uma chuva fininha que ensopava os ossos. Sem nem ao menos se darem as mãos caminhavam na chuva que na cara de Macabéa parecia lágrimas escorrendo.

Da terceira vez que se encontraram – pois não é que estava chovendo? – o rapaz, irritado e perdendo o leve verniz de finura que o padrasto a custo lhe ensinara, disse-lhe:

– Você também só sabe é chover!

– Desculpe.

Mas ela já o amava tanto que não sabia mais como se livrar dele, estava em desespero de amor.

Numa das vezes em que se encontraram ela afinal perguntou-lhe o nome.

– Olímpico de Jesus Moreira Chaves – mentiu ele porque tinha como sobrenome apenas o de Jesus, sobrenome dos que não têm pai. Fora criado por um padrasto que lhe ensinara o modo fino de tratar pessoas para se aproveitar delas e lhe ensinara como pegar mulher. [...]

Olímpico de Jesus trabalhava de operário numa metalúrgica e ela nem notou que ele não se chamava de “operário” e sim de “metalúrgico”. Macabéa ficava contente com a posição social dele porque também tinha orgulho de ser datilógrafa, embora ganhasse menos que o salário mínimo. Mas ela e Olímpico eram alguém no mundo. “Metalúrgico” e “datilógrafa” formavam um casal de classe. [...]

LISPECTOR, Clarice. *A hora da estrela*. Rio de Janeiro: Rocco, 1998. p. 42-45. (Fragmento)

> englutido: engolido

### Questão 01

Das alternativas abaixo, assinale a que apresenta um trecho do texto que revela os sentimentos de Macabéa por Olímpico.

- A) “[...] o coração batendo como se ela tivesse englutido um passarinho esvoaçante e preso.” (§ 1)
- B) “[...] Sua exclamação talvez tivesse sido um prenúncio do que ia acontecer no final da tarde desse mesmo dia [...]” (§ 1)
- C) “Eles não sabiam como se passeia. [...]” (§ 5)
- D) “Maio, mês das borboletas noivas flutuando em brancos véus. [...]” (§ 1)
- E) “Numa das vezes em que se encontraram ela afinal perguntou-lhe o nome.” (§ 11)

### Questão 02

Nos três primeiros encontros dos dois jovens estava chovendo. A repetição desse fato provoca no leitor a sensação de:

- A) aconchego.
- B) relação harmoniosa.
- C) desagradável melancolia.
- D) afeto.
- E) equilíbrio amoroso.

### Questão 03

A ingenuidade de Macabéa é uma de suas características mais marcantes. Sobre como isso fica evidente no último parágrafo, analise as afirmativas a seguir.

- I. Macabéa considera que ela e Olímpico formavam um casal de classe em razão da posição social que tinham.
- II. O fato de Olímpico não se chamar de operário, pois ele trabalhava honestamente.
- III. Ela acreditava que uma datilógrafa e um metalúrgico “eram alguém no mundo”.

Está(ão) correta(s) somente as afirmativas:

- A) I.
- B) II.
- C) III.
- D) I e II.
- E) I e III.

Questão 04

No período “[...] EMBORA ganhasse menos que o salário mínimo. [...]” (§ 13), a palavra destacada pode ser substituída, sem prejuízo para o sentido original do texto, por:

- A) porém.
- B) conforme.
- C) por que.
- D) conquanto.
- E) consoante.

Questão 05

Há desvios da norma culta no texto. Assinale a alternativa que indica um deles.

- A) Em lugar de TALVEZ TIVESSE SIDO (§ 1), deveria estar escrito TIVESSE SIDO TALVEZ.
- B) Deveria haver uma vírgula depois do termo “Da segunda vez em que se encontraram [...]” (§ 6)
- C) Assim como no período anterior, o verbo da oração “Mas ela e Olímpico eram alguém no mundo. [...]” (§ 13) deveria estar no imperfeito do subjuntivo.
- D) O vocativo SENHORINHA (§ 4) deveria estar, obrigatoriamente, no início da frase.
- E) O vocábulo PRENÚNCIO (§ 1) não deveria estar acentuado.

Questão 06

A figura de linguagem presente em “[...] e se reconheceram como dois nordestinos [...]” (§ 1) é:

- A) prosopopeia.
- B) comparação.
- C) sinestesia.
- D) hipérbole.
- E) metáfora.

Questão 07

Em uma das alternativas a seguir, o termo destacado funciona como agente do termo anterior. Assinale-o.

- A) com voz cantante (§ 3)
- B) de operário (§ 13)
- C) por um padrao (§ 12)
- D) em desespero (§ 10)
- E) numa metalúrgica (§ 13)

Questão 08

Sobre o fragmento “Mas ela já o amava tanto que não sabia mais como se livrar dele [...]” (§ 10), pode-se afirmar que:

- A) a segunda oração é uma consequência da primeira.
- B) a primeira oração estabelece uma condição em relação à segunda.
- C) a primeira oração é uma explicação da segunda.
- D) as orações mostram ações que se aproximam pela relação temporal.
- E) as orações estão ligadas por conectores circunstanciais.

Questão 09

“[...] Sua exclamação talvez tivesse sido um prenúncio do que ia acontecer no final da tarde desse mesmo dia: no meio da chuva abundante encontrou (explosão) a primeira espécie de namorado de sua vida, o coração batendo como se ela tivesse englutido um passarinho esvoaçante e preso. [...]” Com relação aos componentes desse fragmento do texto, é correto afirmar que:

- A) as duas ocorrências do pronome possessivo SUA referem-se a um elemento imediatamente anterior.
- B) a palavra SE é um pronome apassivador.
- C) a expressão “NO FINAL DA TARDE” é uma circunstância de tempo.
- D) a preposição presente em “DE sua vida” indica finalidade.
- E) PASSARINHO e PRESO pertencem à mesma classe gramatical.

Questão 10

Em “Maio, MÊS DAS BORBOLETAS NOIVAS FLUTUANDO EM BRANCOS VÉUS. [...]” o trecho destacado marca:

- A) intercalação do adjunto adverbial.
- B) um comentário acessório.
- C) um aposto.
- D) uma citação.
- E) uma inversão.

Questão 11

Assinale a alternativa cujo termo destacado possui classe gramatical DIFERENTE da dos demais.

- A) “[...] bichos da mesma espécie QUE se farejam. [...]”
- B) “[...] ela nem notou QUE ele não se chamava [...]”
- C) “[...] Fora criado por um padrasto QUE lhe ensinara [...]”
- D) “[...] mãos caminhavam na chuva QUE na cara de Macabéa parecia lágrimas escorrendo.”
- E) “[...] sobrenome dos QUE não têm pai. [...]”

Questão 12

“[...] ANDARAM sob a chuva grossa e PARARAM diante da vitrine de uma loja de ferragem onde estavam expostos atrás do vidro canos, latas, parafusos grandes e pregos.”

Com relação às formas verbais destacadas, é correto afirmar que:

- A) indicam um passado que continua no presente.
- B) atribuem singularidade e mistério ao sujeito.
- C) referem-se ao futuro iminente.
- D) remetem, contextualmente, a um sujeito já conhecido.
- E) compõem a ideia de inexistência de um sujeito.

Questão 13

Assinale a alternativa em que se tenha reescrito o trecho em destaque em consonância com a norma culta e sem alterar o sentido do texto.

“[...] Fora criado por um padrasto QUE LHE ENSINARA O MODO FINO DE TRATAR PESSOAS PARA SE APROVEITAR DELAS e lhe ensinara como pegar mulher. [...]”

- A) que ensinara-lhe o modo fino de se tratar pessoas para se aproveitar delas.
- B) que o ensinara o modo fino de tratar pessoas, para que pudesse se aproveitar delas.
- C) que lhe ensinara o modo fino de tratar pessoas, embora se aproveitasse delas.
- D) que ensinara-lhe o modo fino de tratar pessoas, à medida que se aproveitava delas.
- E) que lhe ensinara o modo fino de se tratar pessoas, a fim de se aproveitar delas.

Questão 14

Qual a função sintática do QUE em “[...] Fora criado por um padrasto que lhe ensinara [...]”?

- A) sujeito.
- B) objeto direto.
- C) objeto indireto.
- D) adjunto adnominal.
- E) complemento nominal.

Questão 15

De acordo com os estudos de regência verbal e com o padrão culto da língua, o verbo em destaque em “Numa das vezes em que se encontraram ela afinal PERGUNTOU-lhe o nome.” é:

- A) transitivo indireto.
- B) transitivo direto e indireto.
- C) intransitivo.
- D) de ligação.
- E) transitivo direto.

LEGISLAÇÃO E ÉTICA NA  
ADMINISTRAÇÃO PÚBLICA MUNICIPAL

Questão 16

Segundo disposto na Constituição Federal, em caso de iminente perigo público:

- A) a autoridade competente poderá usar de propriedade particular, assegurada ao proprietário indenização ulterior, se houver dano.
- B) a autoridade competente poderá usar de propriedade particular, assegurada ao proprietário prévia indenização.
- C) qualquer um do povo poderá usar de propriedade particular, assegurada ao proprietário indenização ulterior, se houver dano.
- D) qualquer um do povo poderá usar de propriedade particular, não lhe sendo exigível indenização ulterior ao proprietário.
- E) a autoridade competente poderá usar de propriedade particular, não lhe sendo exigível indenização ulterior ao proprietário.

Questão 17

A licitação na modalidade de pregão poderá ser adotada para a aquisição de bens e serviços comuns, assim entendidos aqueles:

- A) cujo valor unitário não supere a fração de 1/10 do salário mínimo vigente.
- B) que forem assim discricionariamente considerados pela autoridade licitante, considerados seus padrões tecnológicos.
- C) cujos padrões de desempenho e qualidade possam ser objetivamente definidos pelo edital, por meio de especificações usuais no mercado.
- D) cuja tecnologia seja comum e usual no mercado, mesmo que não possam ser objetivamente definidos seus padrões de desempenho e qualidade.
- E) cujos valores possam ser prévia e objetivamente definidos pelo edital, por meio de cotação oficial.

Questão 18

Assinale a alternativa correta no que diz respeito à característica legal dos atos de improbidade administrativa.

- A) Dependem da ocorrência de dolo do agente.
- B) Só podem ser praticados por servidor público.
- C) Dependem da ocorrência de enriquecimento ilícito.
- D) Não são capazes de ensejar perda da função pública, mas apenas suspensão dos direitos políticos.
- E) Podem ser praticados por empregado de sociedade de economia mista.

Questão 19

O funcionário público que intencionalmente deixa a porta da repartição pública aberta para, à noite, alguém entrar e furtar dinheiro que lá estava guardado, responde por crime de:

- A) corrupção ativa.
- B) corrupção passiva.
- C) prevaricação.
- D) peculato.
- E) facilitação de descaminho.

Questão 20

Segundo o Regime Jurídico Estatutário dos Servidores Públicos do Município de Cacoal – RO, é vedado ao servidor público:

- A) guardar sigilo sobre assuntos da repartição.
- B) ausentar-se do serviço, mesmo que autorizado por seu superior imediato.
- C) representar contra ilegalidade ou abuso de poder.
- D) ser assíduo ao serviço.
- E) promover manifestação de apreço no recinto da repartição.

GEOGRAFIA E HISTÓRIA DE RONDÔNIA

Questão 21

O início da construção da Estrada de Ferro Madeira-Mamoré, em virtude da assinatura do Tratado de Petrópolis (1903), constituiu um poderoso impulso para o povoamento da região. Na fase de construção, os acampamentos de operários no ponto inicial e no ponto final deram origem a formação de quais cidades, respectivamente?

- A) Porto Velho e Guajará-Mirim.
- B) Ji-Paraná e Ariquemes.
- C) Ji-Paraná e Vilhena.
- D) Ariquemes e Guajará-Mirim.
- E) Porto Velho e Vilhena.

Questão 22

O primeiro explorador europeu que teria alcançado o vale do rio Guaporé foi o espanhol Núfio de Chávez, de passagem entre 1541 e 1542. Mais tarde, no século XVII, a região foi percorrida pela Bandeira de Antônio Raposo Tavares que, entre 1648 e 1651, partindo de São Paulo alcançou Belém do Pará. No século seguinte, os bandeirantes começaram a explorar o vale do Guaporé. (<<http://www.rondonia.ro.gov.br>> Adaptado).

O fator que levou os bandeirantes a explorar o vale do Guaporé foi a:

- A) descoberta de ouro.
- B) exploração das drogas do sertão.
- C) busca por terras para o plantio.
- D) exploração do pau-brasil.
- E) descoberta de jazidas de cassiterita.

Questão 23



<<http://domacedo.blogspot.com.br/2011/11/chevron-o-desastre.html>> Acesso em 21/09/13.

Além da poluição dos mares, por exemplo, a exploração do petróleo tem gerado um grande debate sobre a distribuição dos *royalties* entre os estados do Brasil. Os *royalties* são:

- A) tarifas pagas pelo governo federal às empresas exploradoras de petróleo.
- B) impostos repassados pelas prefeituras para órgãos ambientais.
- C) compensações financeiras pagas pelas empresas exploradoras aos governos.
- D) taxas pagas pelos governos às prefeituras de municípios fornecedores de petróleo.
- E) recursos tecnológicos repassados pelas empresas exploradoras aos governos.

Questão 24

A morte de Hugo Chávez, presidente da Venezuela, em março de 2013, abre um período de incertezas não só para o país, mas também para outras nações latino-americanas que seguiam de perto as políticas desenvolvidas pelo líder venezuelano.

Apesar das incertezas e dos questionamentos sobre o processo eleitoral naquele país, um novo presidente foi eleito em abril de 2013. O presidente eleito da Venezuela é:

- A) Henrique Capriles.
- B) Evo Morales.
- C) Nicolás Maduro.
- D) Juan Manoel Santos.
- E) José Mujica.

Questão 25

Rondônia tem um relevo pouco acidentado, sem elevações ou depressões acentuadas. As altitudes variam entre 70 e 500 metros, tendo como referência o nível do mar. No sul do estado, são encontradas as áreas mais acidentadas, com depressões e elevações. Nessa região fica o ponto mais elevado do estado, a Serra:

- A) da Cutia.
- B) dos Parecis.
- C) do Colorado.
- D) dos Pacaás Novos.
- E) da Providência.

INFORMÁTICA BÁSICA

Questão 26

Observe a seguir a imagem exibida na Faixa de Opções do Microsoft Office Word 2007.




Essa imagem corresponde:

- A) a opções de folhas de rosto.
- B) ao conjunto de estilos, cores e fontes usados no documento.
- C) ao conjunto de fontes bibliográficas.
- D) ao conjunto de formatos do índice remissivo.
- E) ao modo de estrutura de tópicos.

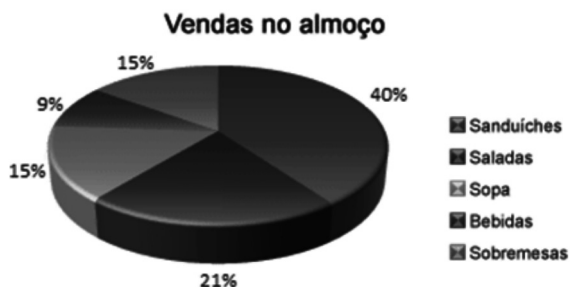
Questão 27

Sobre o uso de janelas no Windows 7, é correto afirmar:

- A) Ao minimizar uma janela, esta desaparece da barra de tarefas.
- B) O botão “Minimizar” corresponde à imagem .
- C) A combinação de teclas ALT e TAB permite navegar entre as janelas abertas no seu computador.
- D) Na área de trabalho, é possível ter somente uma janela aberta por vez.
- E) Para que uma janela ocupe a tela inteira, é preciso clicar em seu botão “Recuperar”.

Questão 28

No Office Excel 2007, a imagem a seguir, extraída do site da Microsoft, representa:



- A) um gráfico de pizza.
- B) um gráfico de área.
- C) um gráfico de superfície.
- D) um filtro.
- E) uma tabela dinâmica.

Questão 29

O Corretor Ortográfico do Microsoft Office Word 2007 identifica palavras grafadas incorretamente, formatando as palavras com:

- A) fonte azul sublinhada.
- B) negrito.
- C) realce amarelo.
- D) sublinhada com linha ondulada vermelha.
- E) tachado.

Questão 30

Observe a imagem parcial de uma planilha no Microsoft Office Excel 2007:

	A	B	H	I
1	Item	Valor		
3	Escola	830		
13	Dentista crianças	494		
14	Gás	50		
15	Luz	200		
16	IPTU	58		
17	Incêndio	4		
18	CEG	250		
25	Filtro	60		
26	Remédios crianças	150		
27				
28				

As linhas pontilhadas na horizontal (parte inferior da imagem) e na vertical (lado direito da imagem) representam:

- A) seleção de dados para criação de uma tabela dinâmica.
- B) área de sombreamento.
- C) seleção de dados para geração de gráficos.
- D) área selecionada para impressão.
- E) quebras de página inseridas automaticamente pelo Excel.

Questão 31

A tecla de atalho que atualiza a página aberta em seu navegador é:

- A) F1
- B) F3
- C) F5
- D) Home
- E) Esc

Questão 32

O Windows permite que você utilize o mouse para realizar diversas operações. Para mover um arquivo de uma pasta para outra, você deve:

- A) clicar com o botão esquerdo do mouse sobre o arquivo.
- B) clicar com o botão direito do mouse sobre o arquivo.
- C) clicar duas vezes seguidas (duplo-clique) sobre o arquivo.
- D) usar a função arrastar-e-soltar (manter pressionado o botão esquerdo, mover o arquivo para a pasta de destino e soltar o botão).
- E) usar a roda de rolagem.

Questão 33

Observe abaixo a imagem exibida no canto inferior direito da tela do seu computador.



Essa área é chamada de:

- A) Barra de Tarefas.
- B) Área de Notificação.
- C) Iniciar.
- D) Área de Trabalho.
- E) Gerenciador de Tarefas.

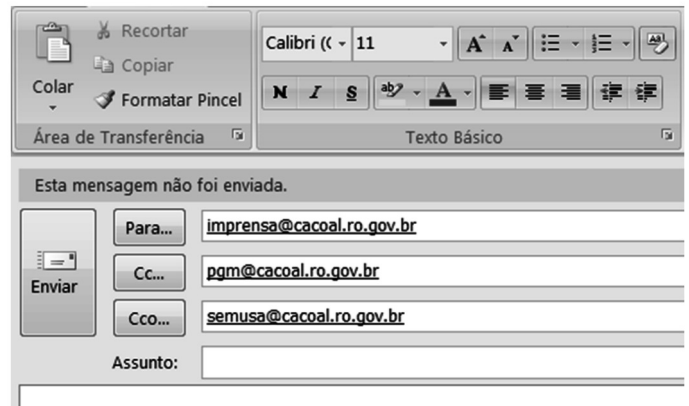
Questão 34

A criptografia é um dos principais mecanismos de segurança para se proteger no uso da Internet. Por meio do uso da criptografia, é possível melhorar a segurança de informações de diversas formas, EXCETO:

- A) proteger os dados sigilosos armazenados em seu computador, como informações sobre processos de licitação em andamento.
- B) criar uma partição no seu computador, na qual todas as informações que forem lá gravadas serão automaticamente criptografadas.
- C) proteger seus *backups* contra acesso indevido, principalmente aqueles gravados em mídias externas, como *pendrivers*.
- D) proteger as comunicações realizadas pela Internet, como transações bancárias.
- E) detectar e eliminar de um computador vírus e outros tipos de códigos maliciosos.

Questão 35

Observe a tela para criação e envio de uma mensagem no Microsoft Office Outlook 2007 a seguir:



Com base na tela apresentada, é INCORRETO afirmar que:

- A) `Imprensa@cacoal.ro.gov.br` não terá ciência de que `pgm@cacoal.ro.gov.br` e `semusa@cacoal.ro.gov.br` também receberam a mensagem.
- B) Ao clicar o botão "Para" será exibido o Catálogo de Endereços.
- C) As opções de formatação de texto se aplicam tanto ao corpo da mensagem quanto à caixa de diálogo "Assunto".
- D) Calibri é nome de um tipo de fonte.
- E) 11 indica o tamanho da fonte.

CONHECIMENTOS ESPECÍFICOS

Questão 36

O instrumento de organização da ação governamental que visa a concretização de objetivos, que é mensurado por indicadores e que pode ser tipificado como finalístico, de apoio administrativo ou de encargos especiais é denominado:

- A) programa.
- B) projeto.
- C) atividade.
- D) meta.
- E) diretriz.



Questão 37

A diminuição da regulamentação no mercado de crédito, no que concerne aos limites impostos aos prazos de empréstimos ou ao montante do crédito direto ao consumidor, é um dos instrumentos utilizados para promover a chamada:

- A) velocidade de circulação da moeda.
- B) composição de equilíbrio de carteira.
- C) política monetária expansionista.
- D) desmonetização.
- E) política de desconto.

Questão 38

A Economia da Informação avalia probabilidades de que alguns agentes possuam maior número de informações do que outros, ocorrendo a denominada assimetria de informação. Decorrem, então, problemas de natureza pré-contratual, como, por exemplo, num contrato de trabalho, no qual um empregador, desejando admitir um colaborador, não consegue diferenciar a qualidade de um candidato, podendo estar selecionando uma pessoa não apta para o trabalho, recaindo numa situação de:

- A) desequilíbrio de estratégia.
- B) risco moral.
- C) comportamento paramétrico.
- D) seleção adversa.
- E) informação imperfeita.

Questão 39

A quantia que um comprador está disposto a pagar por um bem, diminuída da quantia que ele realmente paga, é explicada na teoria da economia do bem-estar pelo:

- A) excedente do produtor.
- B) excedente do consumidor.
- C) equilíbrio da oferta e da demanda.
- D) nível de eficiência de alocação do bem.
- E) nível de equidade de alocação do bem.

Questão 40

Ao analisar os custos de produção de uma firma, pode-se afirmar que o custo fixo médio sempre diminuirá quando ocorrer:

- A) aumento no número de trabalhadores.
- B) diminuição da produção a curto prazo.
- C) aumento da produção no longo prazo.
- D) diminuição da produção no longo prazo.
- E) aumento da produção a curto prazo.

Questão 41

O setor financeiro é responsável por intermediar recursos entre unidades deficitárias e superavitárias, transformando e repassando alguns riscos existentes. Tal intermediação é realizada por agentes bancários e não bancários, sendo exemplo desses últimos:

- A) os bancos comerciais.
- B) os bancos de investimentos.
- C) os bancos múltiplos.
- D) as caixas econômicas.
- E) o Banco Central do Brasil.

Questão 42

Considere um projeto com investimento de \$ 50.000 que gera fluxos de caixa em quatro períodos anuais consecutivos de \$ 20.000, \$ 15.000, \$ 10.000 e \$ 5.000, respectivamente. Sendo 10% a taxa de desconto estipulada para tal investimento, pode-se afirmar que o projeto:

- A) será rejeitado, pois seu valor presente líquido é igual a zero.
- B) será aprovado, pois seu valor presente líquido é igual a \$ 8.493,27.
- C) será rejeitado, pois seu valor presente líquido é negativo e igual a - \$ 12.260,09
- D) será rejeitado, pois seu valor presente líquido é negativo e igual a - \$ 8.493,27.
- E) será aprovado, pois seu valor presente líquido é igual a \$ 12.260,09.

Questão 43

A relação entre a taxa de desemprego e a taxa de crescimento dos salários nominais pode ser determinada utilizando variáveis como taxa de inflação, elasticidade da inflação em relação aos desvios da taxa de desemprego, taxa de desemprego e a taxa natural de desemprego. Tal relação é expressa pela:

- A) equação (paridade) de Fisher.
- B) teoria (modelo) de Solow.
- C) curva (equação) de Phillips.
- D) teoria (modelo) de Mundell-Fleming.
- E) teoria (modelo) de Harrod-Domar.

Questão 44

Um país hipotético apresenta os seguintes valores em suas contas nacionais:

• Renda Nacional Líquida a custo de fatores	8.000
• Impostos Indiretos	1.600
• Impostos Diretos	800
• Subsídios	160
• Transferências	320
• Depreciação	640
• Renda Líquida enviada ao Exterior	0

Utilizando somente duas casas decimais, o índice percentual de carga tributária líquida é igual a:

- A) 19,05%
- B) 0,19%
- C) 23,80%
- D) 0,24%
- E) 20,34%

Questão 45

Considere um produto transacionado em um mercado de concorrência perfeita e que expresse seus preços de oferta ( $P_s$ ) e de demanda ( $P_d$ ), respectivamente, em função das quantidades ( $x$ ) ofertadas e demandadas, como  $P_s = x + 10$  e  $P_d = 40 - 0,5x$ . Caso o governo table o preço de venda em \$ 25, ocorrerá:

- A) escassez de demanda igual a 30 unidades.
- B) excesso de oferta igual a 15 unidades.
- C) excesso de demanda igual a 15 unidades.
- D) escassez de oferta igual a 30 unidades.
- E) equilíbrio entre oferta e demanda.

Questão 46

Um exemplo de instrumental utilizado para análise regional é o *quociente locacional*, desenvolvido por Hildebrand e Mace e que:

- A) permite a obtenção de um indicador do número de unidades monetárias de salários por unidade de peso do produto.
- B) permite medir a concentração de um determinado setor ou atividade, de uma região, numa área de referência na qual a região esteja inserida.
- C) mostra o esgotamento da vantagem possível de ser obtida em relação ao custo de mão de obra com a localização da indústria em determinado lugar.
- D) indica o ganho para a firma em relação à redução de custos proporcionado por sua localização próxima a outras firmas da mesma indústria.
- E) mostra a redução de despesas obtida por uma determinada firma em virtude de seu distanciamento de outras da mesma indústria já estabelecidas.

Questão 47

Na expressão  $q_x = 360 - 1,5p_x - 1,2p_y - 0,4R$ , onde  $q_x$  é a quantidade demandada do bem x;  $p_x$  é o preço do bem x;  $p_y$  é o preço do bem y e  $R$  é a renda do consumidor, se forem atribuídos os valores  $p_x = 3$ ;  $p_y = 1,5$  e  $R = 150$ , pode-se afirmar que:

- A) o bem y é complementar ao bem x e a quantidade demandada de x é igual a 294,2.
- B) o bem x é um bem normal e sua quantidade demandada é igual a 293,7.
- C) o bem x é um bem inferior e sua quantidade demandada é igual a 294,2.
- D) o bem y é substituto do bem x e a quantidade demandada de x é igual a 293,7.
- E) o bem y é complementar ao bem x e a quantidade demandada de x é igual a 293,7.

Questão 48

Uma economia com taxa interna de poupança de 25%, uma relação produto/capital de 0,3 e com uma poupança externa de 3% do Produto Nacional, terá uma taxa potencial de crescimento de:

- A) 7,50%
- B) 8,25%
- C) 8,50%
- D) 7,40%
- E) 8,40%

Questão 49

A inflação pode ser definida como um processo contínuo e generalizado de aumento de preços e pode ocorrer quando uma economia estiver utilizando seus recursos produtivos próximo ao pleno emprego. Segundo Vasconcellos, neste caso, em especial, para combater o processo inflacionário, a política econômica deve basear-se em redução dos gastos do governo, aumento da carga tributária, controle do crédito e elevação da taxa de juros. Tal processo inflacionário é definido como inflação:

- A) formal.
- B) de demanda.
- C) de custos.
- D) informal.
- E) inercial.

Questão 50

A elasticidade-preço da demanda de certo produto é igual a 2,1 e sua quantidade demandada, ao preço atual, é de 8.000 unidades. Havendo um acréscimo de 3,5% em seu preço, a demanda desse produto deverá ser de:

- A) 7.412 unidades.
- B) 7.720 unidades.
- C) 8.280 unidades.
- D) 8.448 unidades.
- E) 8.588 unidades.

Questão 51

A estrutura de custos de uma empresa que atua num mercado de concorrência perfeita é definida pela expressão  $CT = 6q^2 + 90q + 84$ , onde **CT** representa o Custo Total e **q**, quantidade por período de tempo. Se o preço de seu produto for igual a \$ 534, a oferta no mercado, para maximizar o lucro, deverá ser de:

- A) 14 unidades.
- B) 29 unidades.
- C) 30 unidades.
- D) 37 unidades.
- E) 28 unidades.

Questão 52

Supondo que as exportações de bens e serviços de um país representem 7,5% de seu Produto Interno Bruto e considerando que as demais parcelas da demanda global permanecerão constantes, o crescimento real das exportações para haver um crescimento do PIB de 3,0% no ano deverá ser de:

- A) 60%
- B) 25%
- C) 40%
- D) 50%
- E) 30%

Questão 53

Um mercado é um grupo de compradores e vendedores de um determinado bem ou serviço. Quando um grande número de vendedores pode estabelecer os preços de seus próprios produtos por oferecer condições de qualidade e atendimento que os diferenciam de muitos outros, ligeiramente diferentes, tal grupo estará atuando num mercado:

- A) de concorrência monopolística.
- B) de concorrência imperfeita.
- C) oligopolista.
- D) monopolista.
- E) de concorrência perfeita.

Questão 54

Uma empresa com um nível de lucro atual da ordem de \$ 50.000 e um volume de vendas igual a 19.000 unidades, apresenta um grau de alavancagem operacional de 2,5. Se suas vendas chegarem a 19.950 unidades, seu lucro será alavancado para:

- A) \$ 125.000
- B) \$ 52.500
- C) \$ 50.950
- D) \$ 53.813
- E) \$ 56.250

Questão 55

Supondo que a produção de determinado país esteja empregando plenamente seus fatores de produção, uma diminuição da oferta monetária deverá causar:

- A) diminuição da renda real.
- B) aumento do nível geral de preços.
- C) diminuição do emprego de mão de obra.
- D) diminuição do nível geral de preços.
- E) aumento da renda real.

Questão 56

Numa economia fechada, em que a tributação (T) corresponde a 25% da renda nacional (Y), os gastos do governo (G) são iguais a \$ 480, o consumo (C) é expresso por  $C = 0,8(Y - T)$  e o investimento (I) é igual a \$ 480, havendo equilíbrio, o *superávit* orçamentário será de:

- A) \$ 480
- B) \$ 240
- C) \$ 120
- D) \$ 360
- E) \$ 600

Questão 57

O desenvolvimento econômico não se distribui de forma homogênea no espaço. Alguns teóricos, como Perroux e Schumpeter, formularam conceitos a respeito dos espaços geográficos e econômicos. Assim, um espaço econômico diferenciado, hierarquizado e articulado de forma funcional, constituído por concentrações de população e de produção que tendem a gerar efeitos de atração e repulsão sobre as demais regiões, é definido como:

- A) espaço de planejamento.
- B) espaço homogêneo.
- C) anéis de Von Thünen.
- D) espaço polarizado.
- E) espaço geográfico.

Questão 58

Conhecendo as relações intersetoriais entre os setores A e B, constantes da tabela a seguir, determine o valor do PIB dessa economia.

Vendas de A para B	150
Vendas de B para A	120
Vendas de A para A	135
Vendas de B para B	75
Importações de A	15
Importações de B	30
Demanda Final de A	300
Demanda Final de B	450

- A) 390
- B) 315
- C) 645
- D) 585
- E) 705

Questão 59

Considere um bem classificado como inferior e a renda média dos consumidores igual a \$ 1.000. Ocorrendo um aumento na renda desses consumidores para \$ 1.250 e sendo a elasticidade renda da procura por esse bem igual, em módulo, a  $[0,20]$ , a demanda do bem mencionado será:

- A) diminuída em 5%.
- B) aumentada em 25%.
- C) diminuída em 20%.
- D) aumentada em 5%.
- E) diminuída em 25%.

Questão 60

Uma empresa, cuja estrutura de custos mostra custos e despesas, fixos, iguais a \$ 240.000, tem uma margem de contribuição unitária de \$ 150, para seu único produto. Para que ela obtenha um lucro líquido de \$ 294.120, após a tributação direta de 24% sobre o lucro operacional, deverá comercializar:

- A) 1.600 unidades.
- B) 4.180 unidades.
- C) 2.080 unidades.
- D) 1.100 unidades.
- E) 2.700 unidades.