



Concurso Público

EDITAL Nº 01/2013

PREFEITURA MUNICIPAL DE BRUMADINHO

ANALISTA ADM. I – ARQUITETO

Código 401

LEIA COM ATENÇÃO AS SEGUINTE INSTRUÇÕES

- 1 - Este caderno contém as questões da **PROVA OBJETIVA**.
- 2 – Use, como rascunho, a **Folha de Respostas** reproduzida ao final deste caderno.
- 3 - Ao receber a **Folha de Respostas da PROVA OBJETIVA**:
 - confira seu nome, número de inscrição e o cargo;
 - assine, **A TINTA**, no espaço próprio indicado.

ATENÇÃO: FOLHA DE RESPOSTA SEM ASSINATURA NÃO TEM VALIDADE.

- 4 - Ao transferir as respostas para a **Folha de Respostas**:

01	<input type="checkbox"/>	<input type="checkbox"/>	<input type="checkbox"/>	<input type="checkbox"/>
02	<input type="checkbox"/>	<input checked="" type="checkbox"/>	<input type="checkbox"/>	<input type="checkbox"/>
03	<input type="checkbox"/>	<input type="checkbox"/>	<input checked="" type="checkbox"/>	<input type="checkbox"/>
04	<input type="checkbox"/>	<input type="checkbox"/>	<input type="checkbox"/>	<input checked="" type="checkbox"/>

- use apenas caneta esferográfica azul ou preta;
- preencha, sem forçar o papel, toda a área reservada à letra correspondente à resposta solicitada em cada questão;
- assinale somente **uma** alternativa em cada questão. Sua resposta **NÃO** será computada se houver marcação de mais de uma alternativa, questões não assinaladas ou questões rasuradas.

NÃO DEIXE NENHUMA QUESTÃO SEM RESPOSTA.

A **Folha de Respostas da PROVA OBJETIVA** não deve ser dobrada, amassada ou rasurada.
CUIDE BEM DELA. ELA É A SUA PROVA.

O tempo de duração das provas abrange a assinatura da **Folha de Respostas**, a transcrição das respostas do Caderno de Questões da Prova Objetiva para a **Folha de Respostas**.

ATENÇÃO - Nos termos do Edital nº 01/2013, “Poderá ainda ser eliminado o candidato que [...]: **portar arma(s)** no local de realização das provas [...]; **portar**, mesmo que desligados [...] **quaisquer equipamentos eletrônicos** [...] ou de **instrumentos de comunicação** interna ou externa, tais como **telefone celular** [...] entre **outros**; deixar de entregar as Folhas de respostas das Provas Objetiva [...]” (subitem 8.2.30, alíneas “d”, “e” e “i”)

DURAÇÃO MÁXIMA DA PROVA: QUATRO HORAS

Data: ____/____/____



A T E N Ç Ã O

Sr.(a) Candidato(a),

Antes de começar a fazer a prova, confira se este caderno contém, ao todo, **40 (quarenta) questões** de múltipla escolha — cada uma constituída de 4 (quatro) alternativas — assim distribuídas: **15 (quinze) questões de Conhecimentos Específicos, 10 (dez) questões de Legislação, 10 (dez) questões de Língua Portuguesa e 5 (cinco) questões de Conhecimentos Gerais**, todas perfeitamente legíveis.

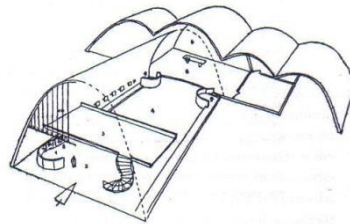
Havendo algum problema, informe ***imediatamente*** ao aplicador de provas para que ele tome as providências necessárias.

Caso V. S^a não observe essa recomendação, ***não lhe caberá qualquer reclamação ou recurso posteriores.***

Conhecimentos Específicos

Questão 1

A Igreja de São Francisco, localizada no bairro da Pampulha, em Belo Horizonte, projetada pelo arquiteto Oscar Niemeyer é um dos símbolos da arquitetura brasileira.



A solução formal dada na cobertura do templo é a de um arco parabólico, o que torna mais complexa a reflexão do som. Segundo Conrado Silva De Marco, uma superfície côncava concentra o som em forma não-homogênea, criando:

- A) zonas focais de alta concentração e outras surdas.
- B) zonas de difusão e de eco.
- C) zonas focais de alta concentração e de eco.
- D) zonas de alta absorção e surdas.

Questão 2

Com o objetivo de empregar madeiras com propriedades padronizadas e orientar engenheiros e arquitetos na escolha do material mais adequado para projetos estruturais de madeira, a norma brasileira introduziu o sistema de classes de resistência para as espécies coníferas e dicotiledôneas (folhosas).

Na condição padrão de referência de umidade $U=12\%$, são apresentadas as seguintes classes:

- A) 3 classes de resistência para coníferas e 3 classes de resistência para dicotiledôneas.
- B) 3 classes de resistência para coníferas e 4 classes de resistência para dicotiledôneas.
- C) 4 classes de resistência para coníferas e 5 classes de resistência para dicotiledôneas.
- D) 5 classes de resistência para coníferas e 3 classes de resistência para dicotiledôneas.

Questão 3

A Prefeitura Municipal de Brumadinho, no seu plano diretor, tem instrumentos de política urbana que possibilitam a cessão do direito de construir e de operações urbanas consorciadas. Com a necessidade de obter recursos para implementar programas de interesse social, a Prefeitura identificou duas áreas que serviriam, tanto para redinamizar o centro antigo, quanto para a geração desses recursos desejados, que podem ser obtidos por meio da utilização da outorga onerosa (instrumento urbanístico que possibilita o aumento do coeficiente básico de aproveitamento mediante contrapartida).

Para apresentar a proposta ao Conselho de Desenvolvimento Urbano do Município, a Prefeitura fez uma simulação para as duas áreas, assim definidas:

Área 1: 2,0 ha de área bruta, 1,4 ha de área líquida, coeficiente de aproveitamento básico de 2,5 e coeficiente de aproveitamento máximo de 3,0.

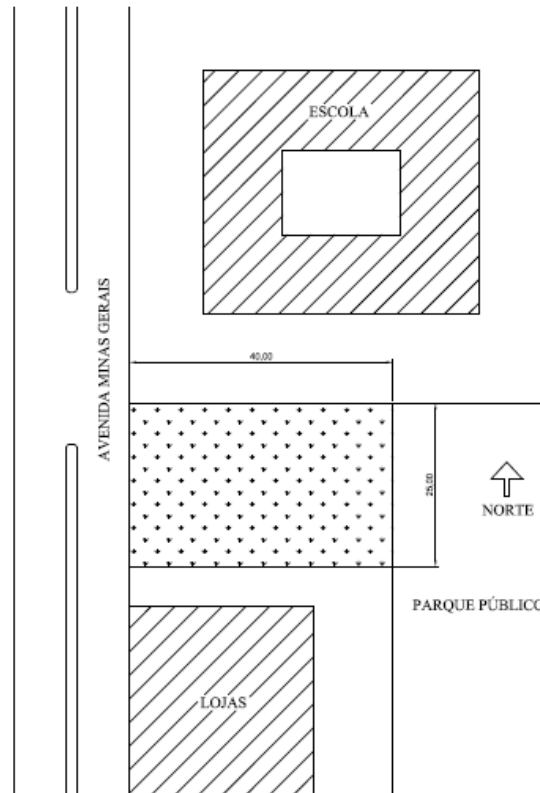
Área 2: 1,0 ha de área bruta, 0,7 ha de área líquida, coeficiente de aproveitamento básico de 1,5 e coeficiente de aproveitamento máximo de 3,0.

Considerando o mesmo valor de contrapartida por m² a ser pago para os dois perímetros, tem-se que,

- A) nas duas áreas, se conseguiriam os mesmos recursos, visto que o coeficiente máximo de aproveitamento é o mesmo para os dois.
- B) na área 1, se conseguiriam maiores recursos, visto que suas áreas (bruta e líquida) são duas vezes maiores que as da área 2.
- C) na área 2, será gerado o dobro dos recursos provenientes de outorga onerosa em relação a área 1, visto a diferença entre o coeficiente de aproveitamento máximo e básico.
- D) na área 2, se conseguiriam maiores recursos, visto que ela oferece uma área de outorga onerosa uma vez e meia maior que a oferecida pela área 1.

Questão 4

A Associação dos Trabalhadores sem Teto de Brumadinho recebeu da Prefeitura Municipal um terreno de 1.000 m² (25 m de frente por 40 m de fundos), plano, limdeiro à Avenida Minas Gerais, próximo ao centro, para a construção de um edifício de apartamentos.



A Secretaria de Ação Social solicitou o apoio da Secretaria de Obras, por meio do serviço de arquitetura pública, para analisar as condições do terreno obtido junto à Prefeitura, com o objetivo de gerar alternativas de implantação de moradias em edificações de 6 e 8 pavimentos. O arquiteto responsável fez as observações a seguir.

- I. A fachada sul será parcialmente sombreada pelo edifício de lojas do terreno vizinho. Como esse prédio tem apenas dois pavimentos não prejudicará muito a insolação dos dormitórios, caso esses sejam voltados para o sul.
- II. A fachada norte é muito ensolarada e mais sujeita aos ruídos das crianças da Escola. Para ela devem ser voltados os espaços de permanência não prolongada, como circulações, banheiros, cozinhas e áreas de serviço.
- III. As árvores existentes na frente do terreno devem ser mantidas porque sombrearão a fachada oeste, trazendo conforto ambiental para todo o edifício.
- IV. Os espaços de permanência prolongada que abrirem para a Avenida Minas Gerais ficarão sujeitos ao desconforto do ruído do tráfego, quando as janelas estiverem abertas.
- V. A fachada leste volta-se para um parque público e deve ser explorada ao máximo, em razão da bonita vista. Por isso, recomendamos que as salas e as varandas se voltem para o leste.

Estão **CORRETAS** as observações.

- A) II, IV e V apenas.
- B) II, III e IV apenas.
- C) I, II e V apenas.
- D) I, II, IV e V.

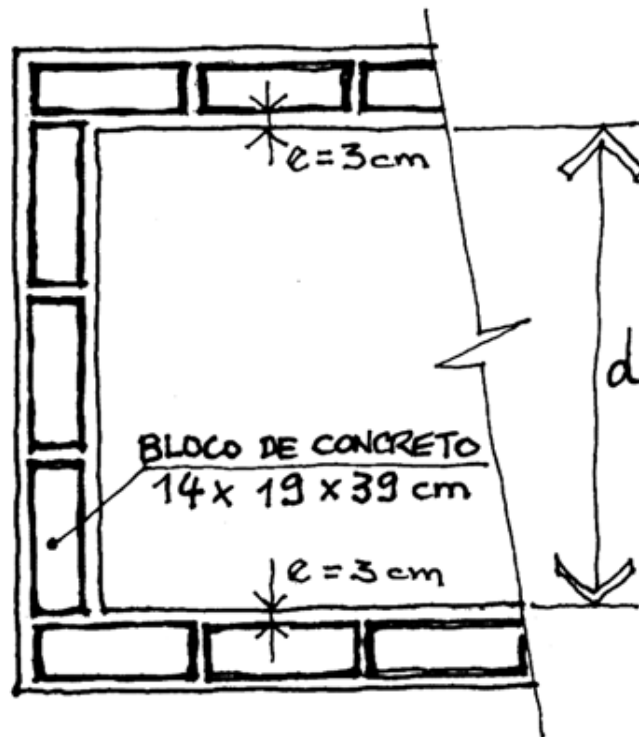
Questão 5

Os ganhos de calor a que uma edificação é submetida ocasionam a elevação da temperatura interna, gerando o fluxo ascendente do ar quente em direção às aberturas mais altas para o exterior do ambiente e pode ser chamado de

- A) efeito estufa.
- B) ventilação forçada.
- C) efeito chaminé.
- D) insuflação vertical do ar quente.

Questão 6

A alvenaria de bloco de concreto está amplamente difundida no mercado nacional. O desenho abaixo mostra um trecho de edificação em alvenaria de blocos de concreto de dimensões $14 \times 19 \times 39$ cm, assentados com juntas horizontais e verticais com espessura de 1 cm, conforme especificação do fabricante, e revestidos com reboco paulista, com espessura total $e = 3$ cm (incluindo a espessura do chapisco e reboco).



Como se trata de uma cópia entregue ao encarregado, as dimensões no desenho podem estar distorcidas, o que pode trazer problemas para uma solução “visual” na obra. Considerando-se uma execução racionalizada, sem quebra de blocos e com as juntas respeitando as especificações do fabricante, a dimensão ‘d’ entre as faces acabadas das paredes, em centímetros, indicada no desenho, será de:

- A) 115.
- B) 117.
- C) 119.
- D) 121.

Questão 7

O projeto de arquitetura pode viabilizar a racionalização da execução das instalações hidráulico-sanitárias e sua compatibilização com outros sistemas da edificação, facilitando a manutenção da edificação, com a adoção de algumas soluções técnicas como:

- I. adotar prumadas em *shafts* visitáveis e concentrar as tubulações em paredes não estruturais.
- II. evitar soluções de pisos elevados e forros falsos nas áreas molhadas.
- III. garantir o caminhamento horizontal de todas as redes, inclusive gás, por galerias técnicas visitáveis totalmente estanques.
- IV. garantir o caminhamento vertical de todas as redes, inclusive gás, por galerias técnicas visitáveis totalmente estanques.
- V. embutir as prumadas verticais em pilares e as tubulações horizontais em vigas ou outros elementos estruturais.

Estão **CORRETAS** as observações

- A) II e IV, apenas.
- B) II, III e V, apenas.
- C) I, III e IV apenas.
- D) I, II, III, IV e V.

INSTRUÇÕES - As questões de números **08, 09 e 10** referem-se ao texto a seguir.

Uma empresa estatal irá executar um conjunto de serviços e obras de engenharia e arquitetura para ampliação de uma de suas plantas, com um valor total estimado em R\$ 6.500.000,00. A área de engenharia da estatal fará o desenvolvimento dos projetos internamente, porém será necessário contratar externamente consultores especialistas que não constam do quadro da empresa, tanto para a fase de projetos quanto de obras. Será necessário também terceirizar o controle tecnológico. Com isso, decidiu-se pela contratação de serviços de consultoria em projetos e gerenciamento de obras, em valor estimado em 10% do valor total dos serviços e obras.

Questão 8

Para um contrato abrangendo os mencionados serviços de consultoria e gerenciamento, qual a modalidade e o critério de julgamento adequados, **respectivamente**.

- A) Carta-convite, por técnica e preço.
- B) Dispensa de licitação, pela menor entre pelo menos três cotações de preços.
- C) Concurso público, por comissão julgadora dos projetos apresentados.
- D) Tomada de preços, por técnica e preço.

Questão 9

Os desenhos, memoriais e especificações de serviços e obras, necessários para compor os anexos técnicos do edital de licitação para a contratação de obras, devem ser desenvolvidos no mínimo até o nível de:

- A) Projeto básico.
- B) Anteprojeto.
- C) Estudo preliminar.
- D) Estudo de viabilidade técnico-financeira.

Questão 10

Os contratos de obras públicas são regidos pela Lei nº 8.666, de 21 de junho de 1993. Análise as seguintes assertivas sobre a lei que institui normas para licitações e contratos da administração pública e assinale a alternativa **INCORRETA**.

- A) Admitem a fiscalização da execução da obra ou serviço.
- B) Podem ser modificados para melhor adequação às finalidades de interesse público, desde que haja consentimento do contratado.
- C) Podem ser rescindidos unilateralmente, nos casos específicos no inciso. I do art. 79 da lei.
- D) Conferem à Administração Pública a prerrogativa de aplicar sanções ao contratado, motivadas pela inexecução total ou parcial do ajuste.

Questão 11

A cor da luz é determinada pelo comprimento de onda. A luz violeta é a de menor comprimento de onda visível do espectro e a luz vermelha é a de maior comprimento de onda visível.

De acordo com o espectro da luz visível em função do comprimento de onda, qual é a cor que dá maior sensibilidade visual?

- A) Amarela.
- B) Branca.
- C) Verde.
- D) Laranja.

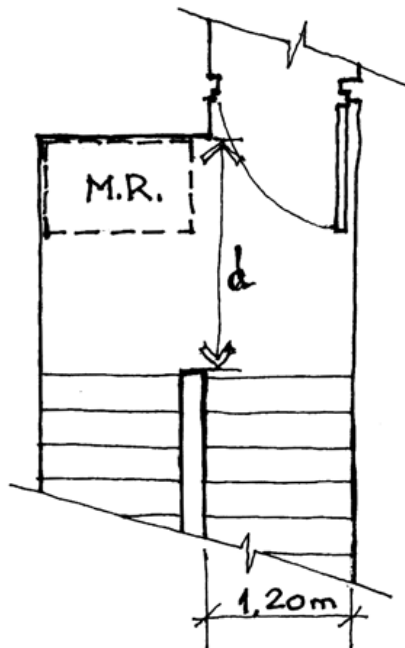
Questão 12

Na distribuição de água são utilizados os seguintes sistemas de distribuição: indireto, direto e misto. O sistema misto possui parte da instalação com alimentação direta da rede de distribuição e parte indireta. São vantagens do sistema misto, **EXCETO**:

- A) Água de melhor qualidade devido ao abastecimento direto em torneiras para filtros, pia de cozinha e bebedouros.
- B) Fornecimento de água de forma contínua no caso de interrupções no sistema de abastecimento ou de distribuição.
- C) Menor custo da instalação, não havendo necessidade de reservatórios, bombas, registros de boia, entre outros.
- D) Permite a instalação de válvula de descarga.

Questão 13

A NBR 9050:2004 (Acessibilidade a edificações, mobiliário, espaços e equipamentos urbanos) define o módulo de referência (M.R.) ocupada por uma pessoa utilizando cadeira de rodas. O desenho a seguir mostra o *layout* de uma escada protegida no qual deverá ser prevista largura para cadeirante aguardar o resgate (M.R.).



Considerando que deve ser garantida largura livre do patamar igual à largura do lance de escada, de modo a garantir a continuidade do fluxo de pessoas, a largura total 'd' do patamar, em metros, indicada no desenho, será de:

- A) 2,00.
- B) 2,10.
- C) 2,20.
- D) 2,40.

Questão 14

Os muros de arrimo são usados para criar áreas relativamente planas e permitir mudanças em elevação que não podem ser obtidas por inclinação dentro das dimensões horizontais de um local. Eles devem ser construídos para resistir ao empuxo do solo, que deve ser contido. Este empuxo pode fazer com que o muro de arrimo colapse de três maneiras:

- A) tombamento, escorregamento e desmoronamento.
- B) desmoronamento, recalque e deslocamento.
- C) tombamento, desmoronamento e saturação.
- D) tombamento, escorregamento e recalque.

Questão 15

Atualmente a área de saúde encontra-se com uma defasagem significativa em sua infraestrutura de atendimento, sejam hospitais, postos de saúde ou ambulatorios. A resolução RDC 189 dispõe sobre a regulamentação dos procedimentos de análise, avaliação e aprovação dos projetos de estabelecimentos de saúde.

Segundo a resolução a avaliação do Projeto Básico de Arquitetura (PBA) compreende a elaboração de um parecer técnico que deverá descrever o objeto de análise e conter:

- I. adequação do projeto, arquitetônico às atividades propostas pelo Estabelecimento Assistencial de Saúde.
- II. funcionalidade do edifício.
- III. identificação dos sistemas de reúso da água e aproveitamento da água da chuva.
- IV. apresentação dos sistemas de conforto térmico por meios mecânicos.
- V. apresentação das instalações ordinárias e especiais.
- VI. dimensionamento dos ambientes.
- VII. Especificação básica dos materiais.

Estão **CORRETAS** as afirmativas

- A) I, II, V, VI e VII apenas.
- B) I, II, III, VI e VII apenas.
- C) II, III, V, VI e VII apenas.
- D) II, IV, V, VI e VII apenas.

Legislação

Questão 16

Considere o seguinte: *a Prefeitura de Brumadinho realiza concurso público com prazo de validade de 2 anos, para provimento do cargo público X. Homologado o concurso e não tendo sido preenchidas todas as vagas, a Prefeitura publica novo edital de concurso para provimento do mesmo cargo.*

Nessa hipótese, é **CORRETO** afirmar que a realização do segundo concurso é

- A) irregular, porque não poderia ter se iniciado antes do término da validade do primeiro concurso.
- B) irregular, porque só poderia ocorrer depois de esgotadas as nomeações dos candidatos aprovados no primeiro concurso.
- C) irregular, porque só poderia ocorrer após a aprovação do primeiro concurso pelo Tribunal de Contas do Estado.
- D) regular, mas não poderão ser nomeados candidatos aprovados no segundo concurso em detrimento daqueles aprovados no primeiro.

Questão 17

Considere o seguinte. *O Prefeito de Brumadinho envia ao Legislativo Municipal projeto de lei que cria cargos públicos na estrutura administrativa da Câmara de Vereadores daquele Município.*

Nessa hipótese, é **CORRETO** afirmar que a medida do Prefeito

- A) contraria a Lei Orgânica, porque, no caso, a iniciativa de lei pertence à Mesa da Câmara.
- B) contraria a Lei Orgânica, porque, no caso, a iniciativa de lei pertence ao Presidente da Câmara.
- C) contraria a Lei Orgânica, porque a criação de cargos da estrutura administrativa do Legislativo Municipal é feita por resolução da Câmara.
- D) está de acordo com a Lei Orgânica.

Questão 18

Em razão da extinção do cargo efetivo que ocupava na Administração do Poder Executivo do Município de Brumadinho, Antônio é posto em disponibilidade.

Considerando que foram observadas as normas aplicáveis, é **INCORRETO** afirmar que Antônio

- A) é servidor público estável.
- B) receberá vencimento proporcional ao seu tempo de efetivo exercício.
- C) terá interrompida, durante a disponibilidade, a contagem de tempo de serviço para fins de aposentadoria, por não estar no exercício do cargo.
- D) terá preferência para preenchimento de vagas em cargo efetivo ou função pública cuja necessidade se dê no âmbito do quadro de servidores a que pertencia.

Questão 19

Agindo com culpa e na condição de servidor público do Município de Brumadinho, Mário pratica ato ilícito do qual resultam prejuízos para o Município e para terceiros.

Na hipótese, é **CORRETO** afirmar

- A) que não há caracterização de responsabilidade civil de Mário.
- B) que, no caso do dano causado a terceiros, Mário responderá perante a Fazenda Pública em ação regressiva.
- C) que a obrigação de reparar os danos não passa da pessoa de Mário, não podendo ser estendida aos seus sucessores.
- D) que não poderá se dar acumulação de sanções civis e administrativas.

Questão 20

Considere a seguinte enumeração de atribuições.

- I. Exercer a iniciativa de lei complementar.
- II. Expedir decretos e regulamentos.
- III. Convocar extraordinariamente a Câmara Municipal em caso de urgência e de interesse público.
- IV. Promulgar emenda à Lei Orgânica com o respectivo número de ordem.

Segundo o que dispõe a Lei Orgânica do Município de Brumadinho, são competências do Prefeito

- A) I e II apenas.
- B) I, II e III apenas.
- C) II, III e IV apenas.
- D) I, II, III e IV.

Questão 21

A perda do cargo do servidor estável, no âmbito do Município de Brumadinho, **NÃO** poderá se dar em virtude de

- A) sentença judicial transitada em julgado.
- B) indiciamento em inquérito administrativo do Ministério Público.
- C) processo administrativo em que seja assegurada ampla defesa.
- D) procedimento de avaliação periódica de desempenho, assegurada ampla defesa.

Questão 22

Sobre o estágio probatório do servidor público do Município de Brumadinho, é **INCORRETO** afirmar que

- A) tem prazo de duração de 36 meses.
- B) o servidor que não alcançar a pontuação mínima de 70% dos pontos anual ou semestralmente durante todo o estágio probatório passará por igual período de recuperação.
- C) a desvinculação do servidor que não logre aprovação do estágio probatório se dará por exoneração após abertura de processo administrativo.
- D) o servidor poderá recorrer do resultado que lhe atribua ineficiência de desempenho.

Questão 23

Servidor efetivo da Administração Direta do Município de Brumadinho, Cláudio encontra-se em gozo de licença a título de prêmio.

Na hipótese é **INCORRETO** afirmar

- A) que a licença terá a duração máxima de 3 meses.
- B) que Cláudio tem pelo menos 5 anos de exercício efetivo.
- C) que, no período aquisitivo da licença, Cláudio não sofreu uma pena disciplinar de suspensão.
- D) que a licença não poderia ter sido convertida em espécie, nem mesmo se Cláudio assim preferisse.

Questão 24

No âmbito de processo disciplinar, um servidor do Município de Brumadinho da Secretaria X tem um pedido acolhido pelo órgão correicional.

É **CORRETO** afirmar que, da decisão,

- A) caberá recurso de revisão extraordinária do Secretário Municipal ao Prefeito.
- B) caberá recurso de revisão extraordinária do Secretário Municipal ao próprio órgão correicional.
- C) caberá recurso de revisão do Prefeito ao órgão correicional.
- D) não caberá recurso.

Questão 25

Servidor efetivo da Administração Pública do Poder Executivo do Município de Brumadinho, Raul encontra-se em gozo de licença para tratar de interesse particular.

Nessa hipótese, é **CORRETO** afirmar que

- A) Raul recebe remuneração proporcional ao tempo de serviço.
- B) a licença poderá durar até 3 anos.
- C) Raul não poderá retornar ao serviço antes do término do prazo da licença.
- D) Raul não poderá contribuir para o sistema previdenciário distinto daquele adotado para o servidor público de Brumadinho.

INSTRUÇÃO: As questões de **26** a **32** devem ser respondidas com base no texto a seguir. Leia-o atentamente antes de respondê-las.

Onde você mora?

Não tente achar um endereço no Japão. Os endereços por lá são quase tão indecifráveis quanto os ideogramas. Os bairros são subdivididos em pequenas regiões numeradas. Dentro de uma região, cada quarteirão tem um número, mas também dentro de cada quarteirão, cada casa ou edifício tem o seu número. Por exemplo: o endereço Shibuya 10-3-20 significa que o que você procura está na vigésima casa da terceira quadra da décima microrregião do distrito de Shibuya. Detalhe: nenhum desses números está visível nos nossos algarismos.

Pense duas vezes antes de reclamar. Talvez o fato de os japoneses adorarem viajar em grupo se deva a uma total incapacidade de entender o sistema ocidental de endereçamento. Como assim, Faria Lima com Rebouças? Qual é a lógica de essas duas avenidas fazerem esquina?

Na Inglaterra, um mesmo nome pode ser atribuído a uma *street*¹, a uma *road*² e a uma *lane*³, todas pertinho umas das outras – mas, até você descobrir qual é qual, lá se vão 15 minutos debaixo de chuva. O sistema perfeito seria o americano, com ruas e avenidas dispostas em grades numeradas em sequência perfeita e organizadas por ponto cardeal. O problema é que nós, brasileiros, temos problemas com norte, sul, leste e oeste. Nossos pontos cardiais são seis: à esquerda, à direita, na frente, atrás, em cima e embaixo.

Quer uma prova? Nossa cidade com o sistema de endereçamento mais perfeito, Brasília, tem o mapa mais errado do planeta: a Asa Sul aparece no oeste, e a Asa Norte, no leste. Ano passado passei uma semana em Palmas, que teoricamente seguiu o sistema de Brasília. Quanto mais eu me deslocava, menos entendia a lógica da coisa. Acredito que se orientar na cidade requer o mesmo tipo de talento necessário para decifrar um manual de TV a cabo.

Mas o troféu de cidade brasileira onde é mais difícil achar um endereço vai para a bela, próspera e animadíssima Goiânia. Suas ruas são numeradas, mas não obedecem a nenhuma grade ou lógica. No fim das contas nem é preciso: basta decorar que a rua 146 do Setor Marista passa a se chamar Dom Emanuel Gomes e tudo o que você precisava saber sobre a noite da cidade está resolvido.

FREIRE, Ricardo. Revista GOL. n.136, Jul.2013, p.140.

Disponível em: <<http://www.voegol.com.br/pt-br/servicos/entretenimento-a-bordo/paginas/default.aspx>>

Acesso em: 10 ago. 2013.

¹ Rua

² Estrada, rodovia

³ Pista

Questão 26

Nesse texto, o autor

- A) aponta critérios de endereçamento e expõe as consequências geradas pelos diferentes modos de se ter acesso a um endereço.
- B) apresenta a diversidade de endereçamento em alguns países e no Brasil e avalia representações culturais de acesso a um endereço.
- C) descreve e julga as limitações de pessoas comuns e turistas para localizarem um endereço, tanto no Brasil, quanto no exterior.
- D) evidencia os obstáculos enfrentados pelas pessoas para se localizarem em diferentes regiões do Brasil e desqualifica o País.

Questão 27

Para o desenvolvimento do texto, verifica-se o uso do seguinte recurso:

- A) Elaboração de perguntas para dar progressão ao texto, conduzindo a reflexões sobre aquilo que é questionado.
- B) Emprego de citações diretas para amparar em reconhecida autoridade algumas ideias defendidas pelo autor.
- C) Utilização de linguagem hermética para expressar informações advindas da experiência do autor.
- D) Uso de termos em língua estrangeira por falta de palavra equivalente em língua portuguesa.

Questão 28

De acordo com o texto, no Japão, é difícil achar um endereço porque

- A) o número é escrito em ideograma e isso faz com que seja incompreensível a identificação dos endereços.
- B) o sistema se caracteriza pelo uso de algarismos não arábicos em uma sequência culturalmente definida de endereçamento.
- C) os algarismos usados são indecifráveis e causam estranhamento, tanto para o turista, quanto para os habitantes locais.
- D) os bairros, os quarteirões e as casas são numerados sem critério claramente estabelecido para favorecer sua localização.

Questão 29

De acordo com o texto, infere-se que,

- I. nos Estados Unidos, se adotam seis pontos cardeais para o endereçamento.
- II. em Brasília, a Asa Sul deveria aparecer no sul e a Asa Norte, no norte.
- III. em Palmas, o sistema de endereçamento obedece a mesma lógica que o de Goiânia.
- IV. em Goiânia, uma mesma rua pode mudar de nome.

Estão **CORRETAS** as assertivas

- A) I e III apenas.
- B) I, II e IV apenas.
- C) II e IV apenas.
- D) II, III e IV apenas.

Questão 30

O conector “mas” introduz a ideia de oposição, contraste nas seguintes orações, **EXCETO** em:

- A) “Dentro de uma região, cada quarteirão tem um número, mas também dentro de cada quarteirão, cada casa ou edifício tem o seu número.”
- B) “- mas, até você descobrir qual é qual, lá se vão 15 minutos debaixo de chuva”.
- C) Mas o troféu de cidade brasileira onde é mais difícil achar um endereço vai para a bela, próspera e animadíssima Goiânia.
- D) Suas ruas são numeradas, mas não obedecem a nenhuma grade ou lógica.

Questão 31

No trecho: “Suas ruas são numeradas, mas não obedecem a nenhuma grade ou lógica”, a vírgula foi empregada para separar uma oração

- A) intercalada inserida no período composto.
- B) subordinada adverbial posposta à principal.
- C) subordinada adjetiva explicativa da principal.
- D) coordenada sindética de outra coordenada.

Questão 32

Assinale a alternativa em que, no contexto do texto, os termos são **sinônimos**:

- A) decifrar / compilar.
- B) indecifráveis / incompreensíveis.
- C) próspera / adversa.
- D) visível / acessível.

Questão 33

Assinale a alternativa em que a crase deveria ter sido usada de acordo com a norma padrão da língua portuguesa.

- A) Após o trabalho, volta a casa, cansado.
- B) Os naufragos, exaustos, retornaram a terra.
- C) Van Gogh pintou seus quadros a óleo.
- D) Zoraide foi a polícia registrar sua queixa.

Questão 34

De acordo com a norma padrão da língua portuguesa, as vírgulas foram empregadas corretamente nos enunciados, **EXCETO** em:

- A) Fui com a família ao estádio do Maracanã; não assistimos a um bom jogo, porém.
- B) Depois da partida, falaram, os jogadores, o técnico e o juiz em entrevista à imprensa.
- C) No dia 7 de setembro, feriado nacional, haverá outra partida entre os dois times.
- D) O técnico, que é respeitado pela torcida, não decidiu quem irá escalar para o jogo.

Questão 35

Assinale a alternativa **INCORRETA**, no que se refere à concordância, de acordo com a norma padrão da língua portuguesa.

- A) É proibido a entrada, logo é necessária prudência e muita cautela.
- B) Haja vista o resultado obtido, conclui-se que poucos estudaram.
- C) Naquele condomínio, havia casas caras, mas os lotes custavam barato.
- D) No exame final, havia bastantes questões e muitas bastante difíceis.

Conhecimentos Gerais

Questão 36

Em razão de aprovação de uma lei em fins de julho de 2013, _____ passa a ser o primeiro país do mundo a permitir e controlar a venda de maconha pelo próprio Estado a consumidores devidamente cadastrados.

Assinale a alternativa que completa **CORRETAMENTE** a lacuna da frase.

- A) a Colômbia.
- B) a Holanda.
- C) o Uruguai.
- D) a Suécia.

Questão 37

Além das possíveis candidaturas da atual presidente da República, do senador Aécio Neves e da ex-ministra e ambientalista Marina Silva, tem sido fortemente cogitado como possível candidato a presidência da República, em 2014, o nome de:

- A) Carlos Lupi, do PDT.
- B) Beto Richa, do PR.
- C) Eduardo Campos, do PSB.
- D) Sérgio Cabral, do PMDB.

Questão 38

O cancelamento, em agosto de 2013, pelos Estados Unidos, de uma reunião de cúpula entre os Presidentes Barack Obama e Vladimir Putin, da Rússia, prevista para setembro, foi atribuído ao estremecimento das relações entre Washington e Moscou, especialmente em decorrência

- A) do ingresso da Rússia na Organização Mundial do Comércio – OMC.
- B) da concessão de asilo político pela Rússia ao americano Edward Snowden.
- C) da posição adotada pela Rússia relativamente ao conflito entre Israel e Palestina.
- D) do apoio dado pela Rússia ao presidente do Egito, o islamita Mohamed Mursi, que foi derrubado do governo pelos militares naquele país.

Questão 39

Entre as decisões mais ou menos recentes do Supremo Tribunal Federal, **NÃO** se inclui aquela que

- A) deixou a critério do presidente da República a decisão sobre pedido de extradição do ativista de esquerda Cesare Battisti formulado pela Itália.
- B) reconhece a união estável entre pessoas do mesmo sexo.
- C) declara a constitucionalidade do uso de pesquisas com células-tronco permitido em lei.
- D) libera, sem restrições, o aborto desde que feito na rede pública de saúde para qualquer mulher que esteja no primeiro trimestre de gravidez.

Questão 40

Considere a seguinte manchete de Jornal de 10/07/2013: “pela terceira vez seguida o Banco Central (BC) aumenta os juros básicos da economia.”

Sobre o fato, **NÃO É CORRETO** afirmar que

- A) se trata da taxa SELIC.
- B) a medida foi editada pelo Banco Central, por intermédio do Comitê de Política Monetária (COPOM).
- C) se busca com a medida o reaquecimento da economia.
- D) o aumento é utilizado como instrumento do Banco Central para conter a inflação.

FOLHA DE RESPOSTAS

(RASCUNHO)

01 A B C D

02 A B C D

03 A B C D

04 A B C D

05 A B C D

06 A B C D

07 A B C D

08 A B C D

09 A B C D

10 A B C D

11 A B C D

12 A B C D

13 A B C D

14 A B C D

15 A B C D

16 A B C D

17 A B C D

18 A B C D

19 A B C D

20 A B C D

21 A B C D

22 A B C D

23 A B C D

24 A B C D

25 A B C D

26 A B C D

27 A B C D

28 A B C D

29 A B C D

30 A B C D

31 A B C D

32 A B C D

33 A B C D

34 A B C D

35 A B C D

36 A B C D

37 A B C D

38 A B C D

39 A B C D

40 A B C D

AO TRANSFERIR ESSAS MARCAÇÕES PARA A FOLHA DE RESPOSTAS, OBSERVE AS INSTRUÇÕES ESPECÍFICAS DADAS NA CAPA DA PROVA.

USE CANETA ESFEROGRÁFICA AZUL OU PRETA.

ATENÇÃO:
AGUARDE AUTORIZAÇÃO
PARA VIRAR O CADERNO DE PROVA.