



ESTADO DO ACRE
SECRETARIA DE ESTADO DA GESTÃO ADMINISTRATIVA
SECRETARIA DE ESTADO DE EDUCAÇÃO E ESPORTE

CONCURSO PÚBLICO para o cargo de
Apoio Administrativo Educacional – Nível 2

PROVA
MO1 – P

ATENÇÃO:
Verifique se o tipo de prova deste caderno de questões confere com o seu cartão de respostas.



TRANSCREVA, EM ESPAÇO DETERMINADO NO SEU CARTÃO DE RESPOSTAS,
A FRASE DO POETA MÁRIO QUINTANA PARA EXAME GRAFOTÉCNICO

"Os verdadeiros analfabetos são os que aprenderam a ler e não leem."

ATENÇÃO

● DURAÇÃO DA PROVA: 6 horas.

● ESTE CADERNO CONTÉM 80 (OITENTA) QUESTÕES DE MÚLTIPLA ESCOLHA, CADA UMA COM 5 ALTERNATIVAS DE RESPOSTA – A, B, C, D e E – CONFORME DISPOSIÇÃO ABAIXO, e REDAÇÃO:

Disciplinas	Quantidade de questões	Valor de cada questão
Língua Portuguesa	20	1,25
Raciocínio Lógico	20	1,25
História e Geografia do Acre	20	1,25
Informática Básica	20	1,25

● VERIFIQUE SE ESTE MATERIAL ESTÁ EM ORDEM, CASO CONTRÁRIO, NOTIFIQUE IMEDIATAMENTE O FISCAL.

● RESERVE OS 30 (TRINTA) MINUTOS FINAIS PARA MARCAR SEU CARTÃO DE RESPOSTAS.

LEIA AS INSTRUÇÕES ABAIXO

- Após identificado e instalado na sala, você não poderá consultar qualquer material enquanto aguarda o horário de início da prova.
- Siga, atentamente, a forma correta de preenchimento do Cartão de Respostas, conforme estabelecido no próprio.
- Não haverá substituição do Cartão de Respostas por erro do candidato.

Por motivo de segurança:

- O candidato só poderá retirar-se definitivamente da sala após 1 (uma) hora do início efetivo da prova;
- Somente faltando 1 (uma) hora para o término da prova, o candidato poderá retirar-se levando o seu Caderno de Questões;
- O candidato que optar por se retirar sem levar o seu Caderno de Questões não poderá copiar suas respostas por qualquer meio. O descumprimento dessa determinação será registrado em ata e acarretará a eliminação do candidato; e
- Ao terminar a prova, o candidato deverá se retirar imediatamente do local, não sendo possível nem mesmo a utilização dos banheiros e/ou bebedouros.
- Ao terminar a prova, é de sua responsabilidade entregar ao fiscal o Cartão de Respostas assinado e Folha da Redação. Não se esqueça dos seus pertences.
- A Redação deverá ser desenvolvida na Folha da Redação, personalizada e desidentificada pelo candidato, que deverá destacar o canhoto que contém seus dados cadastrais. A Folha da Redação é o único documento válido para a correção.
- O preenchimento da Folha de Respostas será de sua inteira responsabilidade. Não haverá substituição da Folha de Respostas por erro do candidato.
- Os três últimos candidatos deverão permanecer na sala até que o último candidato entregue o Cartão de Respostas.
- O fiscal de sala não está autorizado a alterar qualquer dessas instruções. Em caso de dúvida, solicite a presença do coordenador local.

BOA PROVA!

www.funcab.org

Leia o texto abaixo e responda às questões propostas.

Envelhecer é uma dádiva

Sei que há gente que mente sobre a idade que tem, claro. O que me surpreende é que mintam para menos. Parece modéstia. É como se dissessem que têm menos dinheiro do que têm de fato, ou mentissem que nunca saíram do país, ou que são virgens. Que alguém queira passar por menos experiente do que é me parece inconcebível. Cada experiência, por ridícula que tenha sido, cada noite maldormida, cada década de subempregos, devia ser motivo de orgulho. Devíamos mostrar nossas rugas como um soldado veterano mostrando cicatrizes. “Consegui esta ruga fazendo uma viagem chata para a Disney em 1987... Esta outra aqui foi por ter vendido a preço muito baixo o meu Ford Landau Galaxy em 1985...”

Li uma vez que na China é o contrário, e as pessoas sempre aumentam a própria idade, muitas vezes incluindo os nove meses de gestação na conta. Se for verdade, diminuo agora mesmo meu desprezo por todo o continente asiático. Alguma coisa eles fazem certo, aparentemente.

Portanto, comemore os seus aniversários com gosto, e entre na meia-idade e na velhice como quem entra devagar numa banheira quente depois de um longo dia infernal. Juventude é para maricas. Sorria, deixe as suas células morrerem. Entre contente para o seletivo time dessas nobres e românticas figuras, o tiozão da calçada (grande amigo dos taxistas do bairro) e o senhor vagamente fascista que vai à padaria de sandália e pijama.

[...]

(SILVA. Alexandre Soares. Revista VIP. edição 338. Ed. Abril. SP. in. <http://vip.abril.com.br/cultura/papo-vip/envelhecer-e-uma-dadiva/> <acesso 23/10/2013> fragmentado).

Questão 01

A opção que melhor justifica a afirmação do autor, no início do texto, “O que me surpreende é que mintam para menos.” é:

- A) as pessoas também deveriam mentir sobre outras questões, mas não o fazem.
- B) a idolatria pela juventude e pelo sucesso faz parte da cultura do povo brasileiro.
- C) ser jovem equivale a ser bem-sucedido perante a sociedade.
- D) as experiências de vida são valorizadas por todas as culturas no mundo.
- E) assim como os chineses, os brasileiros valorizam as experiências adquiridas pelo tempo.

Questão 02

A afirmação “Parece modéstia.” (parágrafo 1) refere-se, de acordo com o texto, ao fato de que:

- A) é comum as pessoas mentirem sobre sua situação financeira.
- B) as rugas representam as experiências adquiridas durante a vida.
- C) a sociedade aceita melhor as pessoas com mais idade, por serem sábias.
- D) as pessoas são comedidas quando revelam a própria idade.
- E) quanto maior for a idade da pessoa, mais vaidosa ela será.

Questão 03

A palavra INCONCEBÍVEL, na frase “Que alguém queira passar por menos experiente do que é me parece inconcebível.”, pode ser substituída, sem alteração de sentido, por:

- A) razoável.
- B) inacessível.
- C) imprevisível.
- D) notável.
- E) inacreditável.

Questão 04

Assinale a alternativa que apresenta um fragmento do primeiro parágrafo do texto em que o autor também inclui o leitor no processo da enunciação.

- A) “Sei que há gente que mente sobre a idade que tem, claro.”
- B) “Cada experiência, por ridícula que tenha sido, cada noite maldormida, cada década de subempregos, devia ser motivo de orgulho.”
- C) “Devíamos mostrar nossas rugas como um soldado veterano mostrando cicatrizes.”
- D) “Que alguém queira passar por menos experiente do que é me parece inconcebível.”
- E) “Consegui esta ruga fazendo uma viagem chata para a Disney em 1987.”

Questão 05

Por suas características discursivas, o texto “Envelhecer é uma dádiva” é:

- A) descritivo.
- B) narrativo.
- C) expositivo.
- D) argumentativo.
- E) injuntivo.

Questão 06

Do último parágrafo do texto, assinale a opção em que se transcreveu um verbo que DESTOA dos demais quanto a sua flexão.

- A) comemore.
- B) sorria.
- C) entre.
- D) deixe.
- E) vai.

Questão 07

Reestruturando o fragmento do texto “Esta outra aqui foi por ter vendido a preço muito baixo o meu Ford Landau Galaxy em 1985...”, o sentido é preservado na opção:

- A) “Esta outra aqui foi porque vendi a preço muito baixo o meu Ford Landau Galaxy em 1985...”
- B) “Esta outra aqui foi para vender a preço muito baixo o meu Ford Landau Galaxy em 1985...”
- C) “Esta outra aqui foi, conforme se vende a preço muito baixo o meu Ford Landau Galaxy em 1985...”
- D) “Esta outra aqui foi quando venderam a preço muito baixo o meu Ford Landau Galaxy em 1985...”
- E) “Esta outra aqui foi desde que venderam a preço muito baixo o meu Ford Landau Galaxy em 1985...”

Questão 08

Considerando a compreensão que se faz da leitura do texto, qual das seguintes alternativas justifica corretamente o emprego das aspas no primeiro parágrafo?

- A) Introduz uma conclusão do autor sobre a palavra “cicatrizes”, citada anteriormente.
- B) Apresenta um novo ponto de vista do autor sobre o mesmo tema.
- C) Inaugura um novo assunto que será discutido no decorrer do texto.
- D) Assinala a fala de um enunciador qualquer, com o propósito de ilustrar o que foi dito.
- E) Indica a citação de um pesquisador sobre a questão do envelhecimento.

Questão 09

A palavra PORTANTO, no último parágrafo, introduz uma ideia de:

- A) explicação.
- B) conclusão.
- C) oposição.
- D) alternância.
- E) adição.

Questão 10

Assinale a alternativa em que a forma verbal destacada expressa uma situação hipotética.

- A) “O que me surpreende é que MINTAM para menos.” (parágrafo 1).
- B) “É como se DISSESSEM que têm menos dinheiro do que têm de fato [...]” (parágrafo 1).
- C) “Li uma vez que na China é o contrário, e as pessoas sempre AUMENTAM a própria idade, [...]” (parágrafo 2).
- D) “Alguma coisa eles FAZEM certo, aparentemente.” (parágrafo 2).
- E) “Sorria, deixe as suas células MORREREM.” (parágrafo 3).

Questão 11

O pronome relativo tem o papel de ligar duas orações substituindo, na segunda oração, um termo anteriormente expresso na primeira. Assinale a alternativa em que a palavra QUE destacada exerce o papel de pronome relativo.

- A) “Sei QUE há gente que mente sobre a idade que tem, claro.” (parágrafo 1).
- B) “O que me surpreende é QUE mintam para menos.” (parágrafo 1).
- C) “É como se dissessem QUE têm menos dinheiro do que têm de fato, [...]” (parágrafo 1).
- D) “Li uma vez QUE na China é o contrário, [...]” (parágrafo 2).
- E) “[...] e o senhor vagamente fascista QUE vai à padaria de sandália e pijama.” (parágrafo 3).

Questão 12

No período “Que alguém queira passar por menos experiente do que é me parece inconcebível.”, o adjetivo EXPERIENTE está no grau:

- A) comparativo de igualdade.
- B) comparativo de inferioridade.
- C) comparativo de superioridade.
- D) superlativo relativo de inferioridade.
- E) superlativo relativo de superioridade.

Questão 13

No período “Entre contente para o seletto time dessas nobres e românticas figuras, o tiozão de calçada (grande amigo dos taxistas do bairro) e o senhor vagamente fascista que vai à padaria de sandália e pijama.”, o adjetivo que estabelece uma relação sintática diferente dos demais é:

- A) contente.
- B) nobres.
- C) seletto.
- D) românticas.
- E) fascista.

Questão 14

Assinale a alternativa onde se transcreveu uma palavra do texto que é acentuada pela mesma razão que a palavra PAÍS em “É como se dissessem que têm menos dinheiro do que têm de fato, ou mentissem que nunca saíram do país, ou que são virgens.”

- A) modéstia.
- B) saíram.
- C) alguém.
- D) ridícula.
- E) contrário.

Questão 15

No trecho “Devíamos mostrar nossas rugas como um soldado veterano mostrando cicatrizes.”, a palavra COMO estabelece uma relação semântica que traduz, no período, uma ideia de:

- A) conformidade.
- B) causa.
- C) comparação.
- D) consequência.
- E) condição.

Questão 16

Assinale a alternativa em que o termo transcrito do fragmento “Portanto, comemore os seus aniversários com gosto, e entre na meia-idade e na velhice como quem entra devagar numa banheira quente depois de um longo dia infernal.” (parágrafo 3) apresenta um valor circunstancial de modo.

- A) com gosto
- B) na meia-idade
- C) na velhice
- D) numa banheira quente
- E) depois de um longo dia infernal

Questão 17

Ao substituímos a palavra GENTE, no período “Sei que há gente que mente sobre a idade que tem [...]” (parágrafo 1), por PESSOAS, o verbo MENTIR, de acordo com as regras de concordância e mantendo o mesmo modo e tempo verbais, está corretamente flexionado na alternativa:

- A) mentira
- B) mentia
- C) mentem
- D) mintam
- E) mentiram

Questão 18

Qual, dentre as seguintes frases, está correta quanto às regras de regência da norma culta da língua, tal como o verbo IR em “[...] e o senhor vagamente fascista que vai à padaria de sandália e pijama.” (parágrafo 3)?

- A) Quando chegar na terceira idade, estarei livre para ser quem verdadeiramente eu sou.
- B) É de bom tom que os jovens obedeçam aos mais idosos.
- C) Prefiro envelhecer feliz do que morrer infeliz.
- D) Quem desdenha o idoso esquece do amanhã.
- E) Convém respeitar os mais velhos, porque nosso dia há de chegar.

Questão 19

Observe a grafia das palavras destacadas em “Se for verdade, diminuo agora mesmo meu DESPREZO por todo o continente ASIÁTICO.” Assinale a opção em que as palavras destacadas nas frases também devem ser registradas, respectivamente, com as letras Z e S.

- A) Muitos idosos apresentam-se aos outros com A__EDUME, porque são DESPRE__ADOS pela sociedade.
- B) Seu avô já é SUFI__IENTEMENTE idoso para você se INCOMPATÍBILI__AR com ele dessa forma!
- C) Não sejas INTRAN__IGENTE com os mais velhos: RECON__ILIA-TE!
- D) O jovem que se HARMONI__A com os mais velhos, obterá maior COMPREEN__ÃO dos valores da vida.
- E) Envelhecer é A__UMIR as próprias experiências e se REGO__IJAR com a vida.

Questão 20

O pensamento que melhor resume a ideia central do texto é:

- A) “Pouca sinceridade é uma coisa perigosa, e muita sinceridade é absolutamente fatal.” (Oscar Wilde)
- B) “As pessoas que falam muito mentem sempre, porque acabam esgotando seu estoque de verdades.” (Millôr Fernandes)
- C) “O amor pode morrer na verdade, a amizade na mentira.” (Abel Bonnard)
- D) “A infância é a idade das interrogações, a juventude a das afirmações, a velhice a das negações.” (Paolo Mantegazza)
- E) “Quando a velhice chegar, aceita-a, ama-a. Ela é abundante em prazeres se souberes amá-la.” (Sêneca)

RACIOCÍNIO LÓGICO

Questão 21

ALFA, BETA, CAPA, DELTA e ETA são as cinco equipes que disputam uma gincana escolar e, no primeiro julgamento, sabe-se que ALFA está em primeiro lugar, CAPA está em terceiro lugar, DELTA está à frente de BETA, ETA está imediatamente atrás de CAPA e BETA está em último lugar.

De acordo com as informações, é correto afirmar que:

- A) BETA está em segundo lugar.
- B) ETA está em terceiro lugar.
- C) ETA está em quinto lugar.
- D) DELTA está em quarto lugar.
- E) DELTA está em segundo lugar.

Questão 22

Partindo das premissas:

- Todo funcionário de apoio é eficiente.
- Todo funcionário de apoio possui Ensino Médio completo.
- Leonardo é eficiente.
- Daniele é professora.

Conclui-se que:

- A) Leonardo é funcionário de apoio.
- B) Daniele é eficiente.
- C) Leonardo trabalha com Daniele.
- D) Leonardo é professor.
- E) há pessoas com Ensino Médio completo que são eficientes.

Questão 23

Todos os acreanos são nortistas. Alguns acreanos moram em Porto Velho. Pode-se afirmar que:

- A) Todos os moradores de Porto Velho são acreanos.
- B) Todos os moradores de Porto Velho são nortistas.
- C) Todos os nortistas são acreanos.
- D) Alguns nortistas moram em Porto Velho.
- E) Nenhum morador de Porto Velho é acreano.

Questão 24

Considere que as sentenças abaixo são verdadeiras.

“Se temos nuvens carregadas, há chuva”.

“Se há chuva, o Sol não aparece”.

Conclui-se que a única sentença verdadeira é:

- A) Se não há nuvens carregadas, o Sol aparece.
- B) Se há chuva, então há nuvens carregadas.
- C) Se o Sol não aparece, então há chuva.
- D) Se não há chuva, não há nuvens carregadas.
- E) Se não há chuva, o Sol aparece.

Questão 25

André, Paulo e Leonardo têm, cada um, uma única profissão. Um deles é administrador, outro professor e o outro motorista. Sabe-se que:

- O professor não é Leonardo.
- O motorista não é Paulo.
- Leonardo não é administrador.
- André não é professor.

Baseando-se nessas informações, pode-se afirmar que:

- A) Leonardo é professor.
- B) Leonardo é motorista.
- C) Paulo é administrador.
- D) André é motorista.
- E) André é professor.

Questão 26

Depois de uma partida de futebol, Arthur, Bruno e César voltaram para casa de carona em carros de cores diferentes. Chegando em casa, eles perceberam que cada um havia esquecido algo em cada um dos carros. Sabiam que:

- Bruno não esqueceu a camisa nem a carteira.
- Arthur esqueceu algo no carro vermelho.
- Um deles esqueceu o tênis no carro branco e outro, a camisa no carro preto.

É correto afirmar que:

- A) Arthur esqueceu a camisa.
- B) Bruno esqueceu o tênis.
- C) Bruno esqueceu algo no carro preto.
- D) César esqueceu algo no carro branco.
- E) César esqueceu a carteira.

Questão 27

Os peixes preferidos de cinco amigos acreanos fazem parte das afirmações abaixo:

- Almir e Jonas não gostam de tucunaré.
- Mauro e Fabiano não gostam de tambaqui nem de pintado.
- Daniel não gosta de dourado nem de tilápia.
- Almir não gosta de tambaqui.
- Fabiano não gosta de tilápia.
- Daniel não gosta de tambaqui nem de pintado.

De acordo com essas condições e sabendo que cada um deles gosta de um único peixe, pode-se afirmar que:

- A) Almir gosta de pintado.
- B) Daniel gosta de dourado.
- C) Fabiano gosta de tucunaré.
- D) Jonas gosta de tilápia.
- E) Mauro gosta de tambaqui.

Questão 28

Numa feira popular foi feita uma pesquisa sobre a preferência de peixes regionais. Cada um dos entrevistados podia escolher de 0 a 3 tipos.

PEIXES REGIONAIS	NÚMERO DE PESQUISA
A	55
B	70
C	70
A e B	30
A e C	20
B e C	25
A, B e C	15
Nenhum	15

A = Tucunaré
B = Tambaqui
C = Dourado

O número de pessoas pesquisadas foi:

- A) 140
- B) 145
- C) 150
- D) 160
- E) 175

Questão 29

Se Rita ganha mais que Gabriela, então Helena e Fabíola ganham igual. Se Helena e Fabíola ganham igual, então Adriana ganha menos que Gabriela. Se Adriana ganha menos que Gabriela, então Rita ganha mais que Helena. Ora, Rita não ganha mais que Helena. Logo:

- A) Rita ganha mais que Gabriela, e Helena e Fabíola ganham igual.
- B) Rita não ganha mais que Fabíola, e Adriana ganha menos que Gabriela.
- C) Rita não ganha mais que Gabriela, e Helena e Fabíola não ganham igual.
- D) Rita ganha mais que Gabriela, e Adriana ganha menos que Helena.
- E) Rita e Adriana ganham menos que Gabriela.

Questão 30

Se Débora é nortista, então ela é determinada. Logo:

- A) Se Débora não é determinada, então ela não é nortista.
- B) Se Débora não é nortista, então ela é determinada.
- C) Se Débora é determinada, então ela é nortista.
- D) Se Débora é determinada, então ela não é nortista.
- E) Se Débora é nortista, então ela não é determinada.

Questão 31

Quatro amigos dividiram um bônus de R\$ 3.200,00 em partes proporcionais ao tempo de trabalho de cada um deles no setor, como mostra a tabela a seguir:

	TEMPO DE TRABALHO EM ANOS
Mateus	10
Daniel	5
Ângelo	3
Leonardo	2

O valor recebido por Ângelo foi:

- A) R\$ 320,00
- B) R\$ 480,00
- C) R\$ 600,00
- D) R\$ 640,00
- E) R\$ 720,00

Questão 32

As portas de uma casa de show são abertas e o número de clientes dobra a cada 30 minutos. Às 23 horas, a casa estava com sua lotação máxima esgotada.

O horário que essa casa de show teve ocupada a quarta parte da sua capacidade máxima é:

- A) 20 horas.
- B) 20 horas e 30 minutos.
- C) 21 horas.
- D) 21 horas e 30 minutos.
- E) 22 horas.

Questão 33

A tabela a seguir mostra uma pesquisa de opinião sobre dois produtos.

PRODUTO	PERCENTAGEM
A	60%
B	45%
A e B	10%
Nenhum dos dois	x%

Se 36 pesquisados NÃO optaram por nenhum dos dois produtos, o número total de pesquisados foi:

- A) 180
- B) 240
- C) 280
- D) 320
- E) 360

Questão 34

Três irmãs, Ângela, Betânia e Carol, possuem, cada qual, um único animal de estimação e uma única profissão. Considere as informações abaixo:

- Os animais de estimação são: gato, cachorro e periquito.
- Carol é dona do periquito.
- As profissões delas são: administradora, secretária e professora.
- A dona do gato é administradora.
- Ângela é secretária.

De acordo com as informações, pode-se afirmar que:

- A) Ângela é dona do gato.
- B) Ângela não é dona do cachorro.
- C) Betânia é dona do gato.
- D) Betânia é professora.
- E) Carol é administradora.

Questão 35

Todos os candidatos são brasileiros e todos os brasileiros são competitivos. Pode-se concluir que:

- A) Se Júlia é competitiva, então ela é brasileira.
- B) Se Jorge é competitivo, então ele é candidato.
- C) Se Paula é brasileira, então ela é candidata.
- D) Se Daniel não é candidato, então ele não é competitivo.
- E) Se Leonardo não é competitivo, então ele não é brasileiro.

Questão 36

Todo pescador gosta de pirarucu. Existem cozinheiros que gostam de pirarucu. Pedro é pescador e Lucas gosta de pirarucu. Pode-se afirmar que:

- A) Pedro gosta de pirarucu e Lucas é pescador.
- B) Pedro gosta de pirarucu e Lucas é cozinheiro.
- C) Pedro também é cozinheiro e Lucas é pescador.
- D) Pedro também é cozinheiro e Lucas pode não ser nem pescador nem cozinheiro.
- E) Pedro gosta de pirarucu e Lucas pode não ser nem cozinheiro nem pescador.

Questão 37

“Se alguém é acreano, então não foge à luta”. Assim sendo, pode-se concluir que:

- A) Se alguém não é acreano, então não foge à luta.
- B) Se alguém não é acreano, então foge à luta.
- C) Se alguém não foge à luta, então não é acreano.
- D) Se alguém não foge à luta, então é acreano.
- E) Se alguém foge à luta, então não é acreano.

Questão 38

Observe a sequência lógica a seguir: 11212312341234512. Os oito próximos algarismos dessa sequência são:

- A) 34512345
- B) 12345678
- C) 34567812
- D) 45678123
- E) 34561234

Questão 39

Observe o calendário a seguir:

OUTUBRO 2013						
D	S	T	Q	Q	S	S
		1	2	3	4	5
6	7	8	9	10	11	12
13	14	15	16	17	18	19
20	21	22	23	24	25	26
27	28	29	30	31		

Determine o menor número de pessoas de um grupo, para garantir que pelo menos dez delas tenham nascido em um mesmo dia do mês de outubro.

- A) 270
- B) 276
- C) 280
- D) 300
- E) 310

Questão 40

Observe a disposição que os números da sequência $S = \{9, 99, 999, 9999, \dots\}$ apresentam quando elevados ao quadrado.

$$9^2 = 81$$

$$99^2 = 9801$$

$$999^2 = 998001$$

$$9999^2 = 99980001$$

Assim sendo, a soma dos algarismos ímpares do número 9999999999^2 , é:

- A) 77
- B) 81
- C) 82
- D) 85
- E) 90

HISTÓRIA E GEOGRAFIA DO ACRE

Questão 41

No final do século XIX, o atual estado do Acre passou por momentos de muita instabilidade. Três países tinham interesse no território: Brasil, Bolívia e Peru. O embate entre os três países passou para o campo de batalha e gerou um conflito que durou aproximadamente quatro anos, que ficou conhecido como Revolução Acreana.

A questão da posse do Acre foi resolvida através de um tratado assinado entre o Brasil e a Bolívia. Foi chamado de Tratado de:

- A) Madri.
- B) Utrech.
- C) Badajós.
- D) Petrópolis.
- E) Bolivariano.

Questão 42

“Terra sem homens para homens sem terra”.

Foi com esse slogan que o governo militar instituiu, nos anos 1970, uma nova política de incentivo à ocupação da Amazônia. Empresários e colonos vindos do sul e sudeste passaram a comprar terras no Acre, interessados nos seringais. Mas o processo era fraudulento: não havia títulos de propriedade na maior parte daquelas terras. Com documentos falsos “grilados”, os novos compradores expulsaram a ferro e fogo os antigos seringueiros. Alguns líderes locais resistiram à expulsão e passaram a chamar a atenção das autoridades para o que estava acontecendo no Acre. Um desses líderes era:

- A) Manuel Banha.
- B) Chico Guinú.
- C) Sebastião do Iorque.
- D) Darcy Ferreira.
- E) Vítor Gaspar.

Questão 43

A rede hidrográfica é um importante meio de transporte no Acre, uma vez que a maioria dos núcleos urbanos se encontra às margens de rios. As bacias hidrográficas que compõem a rede hidrográfica do Estado do Acre são:

- A) Tarauacá e Iaco.
- B) Envira e Jurupari.
- C) Acre-Purus e Juruá.
- D) Jurupari e Muru.
- E) Juruá e Envira.

Questão 44

Em 1903, o Acre passou a fazer parte do Brasil e os brasileiros do Acre conquistaram o direito de se autodenominarem acreanos. A autonomia política do Acre tornava-se então a nova e necessária bandeira de luta do povo acreano. Na verdade, era uma aspiração muito simples: a transformação imediata do Território Federal do Acre em Estado autônomo da federação brasileira. Essa autonomia só veio no governo de:

- A) Jânio Quadros.
- B) Tancredo Neves.
- C) Castelo Branco.
- D) Juscelino Kubistchek.
- E) João Goulart.

Questão 45

O ano de 1998 tornou-se um importante marco na história política do Acre. Nas eleições daquele ano, graças a uma ampla coalizão de doze partidos das mais variadas orientações ideológicas, foi eleito um grupo de jovens políticos que reivindicava a herança política dos movimentos liderados por Chico Mendes. Com um forte apelo apoiado na promessa de revalorização da identidade e das referências culturais locais dos chamados “povos da floresta” esse grupo implantou uma política que passou a ser designada:

- A) Florestania.
- B) Expedição dos Poetas.
- C) Mèndiana.
- D) Batalha da Borracha.
- E) A Rede.

Questão 46

Mesmo após os tratados de Petrópolis e de Limites com o Peru, as fronteiras do Estado do Acre com os vizinhos brasileiros (Rondônia e Amazonas) ainda continuaram indefinidas e sendo motivo para disputas políticas. Em abril de 2008, o Supremo Tribunal Federal deu ganho de causa ao Estado do Acre contra o governo do Amazonas e estabeleceu que os limites do território acreano são aqueles estabelecidos pelo(a):

- A) Tratado de Badajós.
- B) Acordo acreano.
- C) Linha Cunha Gomes.
- D) Divisa amazônica.
- E) Tratado de Petrópolis.

Questão 47

As consequências da Ditadura Militar para o Acre, como para boa parte da Amazônia brasileira, foram muito profundas e dolorosas. O início da década de 1970 foi marcado por uma nova diretriz governamental para o “progresso econômico” da região. Sob o discurso de “integrar para não entregar” foi estimulada uma nova ocupação da Amazônia. No Acre, o resultado mais evidente dessa política desenvolvimentista foi a “invasão dos paulistas”, como eram chamados genericamente os novos imigrantes que vinham do sul do país em busca de terras fartas e baratas. Uma das consequências de todo esse processo foi:

- A) a mudança do eixo econômico acreano das cidades para os seringais.
- B) o aumento da migração das populações que perderam suas terras e empregos para as cidades.
- C) uma grave crise econômica causada pela destruição dos seringais.
- D) o aumento da dívida do estado com o governo federal.
- E) um grave conflito entre os paulistas recém-chegados e os índios expulsos de suas terras.

Questão 48

O Estado do Acre possui uma área de 152.589 quilômetros quadrados e equivalente a 1,79% do território nacional e está dividido em duas mesorregiões compostas pelos vales:

- A) de Sena Madureira e do Xapuri.
- B) de Tarauacá e do Juruá.
- C) da Brasiléia e do Purus.
- D) de Epitaciolândia e de Bujari.
- E) do Purus e do Juruá.

Questão 49

Nos anos de 1920, a sociedade acreana viveu então um dos períodos mais difíceis da sua história. Esses anos foram marcados pela completa decadência econômica provocada pela queda dos preços internacionais da borracha que ocorreu devido:

- A) às constantes invasões promovidas por governos sul-americanos interessados na borracha brasileira.
- B) à queda na extração da borracha brasileira em decorrência da devastação das florestas.
- C) aos conflitos ocorridos entre os governos boliviano e brasileiro.
- D) à concorrência da borracha produzida pelos ingleses na Malásia.
- E) à crise econômica, causada pela quebra da bolsa de Nova Iorque.

Questão 50

O estado do Acre e a parte ocidental do Amazonas retornaram ao antigo fuso horário em novembro de 2013, depois de uma longa polêmica que durou cinco anos. Segundo a lei, o estado do Acre volta a ter:

- A) duas horas a mais no período do horário de verão em relação à hora de Brasília.
- B) duas horas a menos em relação à hora de Brasília.
- C) uma hora a mais em relação à hora de Brasília.
- D) uma hora a menos no período do horário de verão em relação à hora de Brasília.
- E) três horas a mais em relação à hora de Brasília.

Questão 51

As microrregiões geográficas foram criadas pela Resolução da Presidência do IBGE nº 11, de junho de 1990. O Estado do Acre foi dividido geograficamente em cinco microrregiões:

- A) Brasiléia, Cruzeiro do Sul, Rio Branco, Sena Madureira e Tarauacá.
- B) Juruá, Vale do Acre, Brasiléia, Sena Madureira e Epitaciolândia.
- C) Cruzeiro do Sul, Rio Branco, Xapuri, Epitaciolândia e Tarauacá.
- D) Juruá, Jordão, Xapuri, Rio Branco e Cruzeiro do Sul.
- E) Brasiléia, Rio Branco, Xapuri, Sena Madureira e Tarauacá.

Questão 52

A região que forneceu o maior contingente de colonos migrantes para a ocupação da fronteira agrícola no Acre, durante os anos de 1970 e 1980, foi a:

- A) Nordeste.
- B) Sudeste.
- C) Centro-Oeste.
- D) Sul.
- E) Norte.

Questão 53

No início do século XX, o Acre era uma região disputada por empresas estrangeiras e seus representantes, trabalhadores brasileiros, peruanos, bolivianos, indígenas. Localizado no sudoeste da Amazônia, o território pertencente à Bolívia, em 1903 foi anexado ao Brasil, após período de conflagração. Em 1904, o Estado brasileiro, para garantir sua soberania, construiu a sua primeira capital:

- A) Juruá.
- B) Cruzeiro do Sul.
- C) Xapuri.
- D) Rio Branco.
- E) Sena Madureira.

Questão 54

A 14 de julho de 1899, data de comemoração do 110º aniversário da Revolução Francesa, nascia na localidade boliviana de Puerto Alonso o Estado Independente do Acre, organizado sob a forma republicana. Seu Presidente, Luiz Gálvez, é recebido com efusão por trabalhadores e patrões, todos dispostos a lutar contra o que consideravam “uma intromissão da Bolívia”. Muda o nome da localidade para Porto Acre; cria a Bandeira do novo Estado soberano; nomeia ministros; mobiliza uma valente milícia; baixa decretos importantes; envia despachos a todos os países da Europa e designa representantes diplomáticos.

(<http://www.ihp.org.br/docs/ia20031025.htm>).

A empreitada para destituir os bolivianos de Puerto Alonso, ficou conhecida como Revolução Acreana e teve como principal motivo:

- A) a queda na extração da borracha acreana devido à Primeira Guerra Mundial.
- B) os conflitos entre o governo brasileiro e boliviano gerado pela definição das fronteiras.
- C) a transferência do governo civil na região por parte dos bolivianos para o Bolivian Syndicate.
- D) a migração dos “invasores paulistas” para a região acreana em busca de terras.
- E) os conflitos entre os seringueiros bolivianos, peruanos e brasileiros pela posse da terra.

Questão 55

“O Brasil melhorou muito nos últimos 20 anos, o IDH melhorou 47%. No Acre, melhorou 61%, ou seja, mais que a média nacional. Ainda tem muito para fazer, mas o progresso e a tendência são muito favoráveis”.
<<http://g1.globo.com/ac/acre/noticia/2013/09/acre-apresenta-avanco-de-61-no-idh-aponta-pesquisa.html>>

O Índice de Desenvolvimento Humano (IDH) do Acre é de 0.751, posicionando-se na décima sétima posição no ranking brasileiro, em 2008. As cidades com melhor desempenho são:

- A) Rio Branco e Cruzeiro do Sul.
- B) Xapuri e Bujari.
- C) Sena Madureira e Porto Acre.
- D) Bujari e Rio Branco.
- E) Cruzeiro do Sul e Xapuri.

Questão 56

A incorporação do Acre ao Brasil deveu-se às populações do nordeste, que povoaram o território e o tornaram produtivo, repetindo proeza dos bandeirantes dos séculos XVI e XVII.

Essa ocupação da região acreana começou na segunda metade do século XIX, quando nordestinos:

- A) migraram para o norte devido aos constantes conflitos com cangaceiros.
- B) fugindo das secas correram para o Acre em busca da riqueza natural dos seringais.
- C) ocuparam a região devido às constantes enchentes que assolavam a região nordeste.
- D) migraram para a região, devido a questões políticas nordestinas.
- E) buscando terras para o plantio da castanha, migraram para o Acre.

Questão 57

A economia acreana repousa na exploração de recursos naturais. O mais importante é a borracha, produto no qual se baseou o povoamento da região. A extração da borracha se faz ao longo dos rios e a maior parte da produção estadual cabe à bacia do rio:

- A) Juruá.
- B) Abunã.
- C) Jurupari.
- D) Purus.
- E) Tarauacá.

Questão 58

O Estado do Acre implementou programas e projetos que visam à preservação da floresta e é considerado um dos estados amazônicos em que o foco do desenvolvimento está bastante atrelado a uma visão de conservação dos recursos naturais. Porém, o avanço do desmatamento ainda traz a perda da cobertura florestal. Se de um lado o estado criou várias unidades de conservação (de proteção integral e de uso sustentável) e tenha demarcado várias terras indígenas, de outro lado algumas atividades econômicas têm sido as maiores contribuintes ao aumento das taxas de desmatamento. Essas atividades são:

- A) a extração da borracha e da castanha.
- B) a pesca e a exploração de minério de ferro.
- C) a extração de madeiras nobres e a pecuária.
- D) o cultivo do milho e a extração de minérios.
- E) o cultivo de alimentos e a indústria da pesca.

Questão 59

Revolução Acreana é o nome dado à revolta da população que hoje ocupa o Estado do Acre contra a Bolívia, que detinha a soberania da área. O conflito tem início em 1889, quando o território é proclamado República do Acre tendo como presidente:

- A) José Plácido de Castro.
- B) Campos Sales.
- C) Ramalho Júnior.
- D) José Maria da Silva Paranhos Júnior.
- E) Luis Gálvez de Arias.

Questão 60

Trinta e cinco anos antes de eclodir a Revolução Acreana, no território que o Brasil reconhecia ser da Bolívia, o governo do império do Brasil assinara um tratado em 1867, com aquele país, no sentido de estabelecer áreas limítrofes em comum. Esse tratado que estabelecia os limites entre o Brasil e a Bolívia no período imperial denominou-se Tratado de:

- A) Madri.
- B) Ayacucho.
- C) Badajós.
- D) Tordesilhas.
- E) Petrópolis.

INFORMÁTICA BÁSICA

Questão 61

Os seguintes comandos são relacionados ao acesso e/ou controle do sistema operacional Linux, EXCETO:

- A) man.
- B) exit.
- C) passwd.
- D) login.
- E) logout.

Questão 62

Considerando que o formato adotado como padrão seja ODF, ao criar o arquivo “ementa concurso Acre” no BrOffice Impress, este será salvo com a extensão:

- A) ODB
- B) ODR
- C) ODP
- D) ODS
- E) ODT

Questão 63

No Linux, o comando para listar o conteúdo de um diretório é:

- A) kill.
- B) cd.
- C) ps.
- D) login.
- E) ls.

Questão 64

Sobre as ferramentas de elaboração de textos, planilhas e apresentações é correto afirmar que:

- A) elaborar gráficos no BrOffice somente é possível utilizando a ferramenta Impress.
- B) o BrOffice Calc diferencia-se do Microsoft Excel em razão do primeiro possuir recursos de acesso a bancos de dados.
- C) apresentações podem ser realizadas através do Microsoft Powerpoint e do BrOffice Impress.
- D) planilhas eletrônicas são ferramentas que visam à elaboração de textos eletrônicos.
- E) a ferramenta BrOffice Writer tem como principal função a construção de sites de Internet.



Questão 65

O aplicativo do BrOffice correspondente ao Microsoft Word é:

- A) BrOffice Draw.
- B) BrOffice Writer.
- C) BrOffice Calc.
- D) BrOffice Impress.
- E) BrOffice Base.

Questão 66

Sobre o BrOffice Calc, é INCORRETO afirmar:

- A) A combinação de teclas CTRL + P permite imprimir o documento.
- B) "Arial" representa um tipo de fonte.
- C) O recurso "Localizar" permite localizar um texto, caracteres, formatação de parágrafos ou caracteres especiais.
- D)  permite alterar a cor da fonte.
- E) O ícone  permite alinhar o texto de forma justificada.

Questão 67

Nos aplicativos Microsoft Office Excel e BrOffice Calc, a fórmula =SOMA(E3:E6) retornará a soma de:

- A) E3, E4 e E5
- B) E3 e E6
- C) E4 e E5
- D) E3, E4, E5 e E6
- E) E4, E5 e E6

Questão 68

Observe a barra de endereços do Windows Explorer:







A expressão "CONCURSO ACRE" representa:

- A) um comando de localização.
- B) atalho para área de trabalho.
- C) o nome de uma pasta.
- D) um site da Internet.
- E) um endereço eletrônico.

Questão 69

Sobre a imagem abaixo, exibida na barra de formatação do Microsoft Office Word 2007, pode-se afirmar que:



- A) o texto "Calibri (Corpo)" representa o formato da tela.
- B) o número 11 representa o tamanho da fonte.
- C) o ícone  permite sublinhar o texto.
- D) o ícone  permite aumentar ou diminuir o tamanho da fonte.
- E) o ícone  permite excluir o texto selecionado.

Questão 70

Observe a seguinte tabela, criada em um documento Microsoft Office Word 2007.






P	Q	R
S	T	U

Ao converter a tabela em texto, selecionando a opção “Separar texto com Ponto-e-vírgulas”, as informações serão exibidas no documento da seguinte forma:

- A) P; Q; R; S; T; U
- B) P; S; Q; T; R; U
- C) P; Q; R
- D) P; Q; R
S; T; U
- E) P; S
Q; T
R; U

Questão 71

No Windows Explorer, um arquivo associado ao aplicativo Microsoft Office Word é representado pela imagem:




- A) 
- B) 
- C) 
- D) 
- E) 

Questão 72

Observe a imagem parcial de uma planilha criada no Microsoft Office Excel 2007 e disponível em “Home Page Modelos no Microsoft Office Online”.

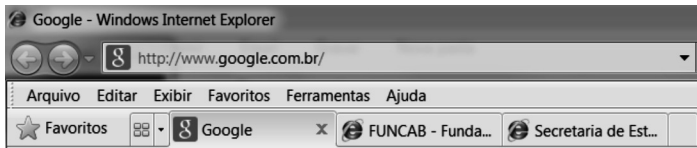
	A	B	C	D	E	F
1	Lista de Alunos					
2						
3			NOME DO ALUNO	EMAIL	TELEFONE RESIDENCIAL	TELEFONE CELULAR
4			Diego Andrade	andrade@exemplo.com	(021) 35550121	(021) 955501267
5			Fernanda Marques	marques@exemplo.com	(021) 35550122	(021) 955501279
6			Manuel Oliveira	oliveira@exemplo.com	(021) 35550124	(021) 955501288
7			Pedro Ruivo	ruivo@exemplo.com	(021) 35550125	(021) 955501299

É correto afirmar que:

- A) para excluir as linhas 5 e 6 deve-se pressionar a tecla DEL.
- B) a formatação do texto TELEFONE RESIDENCIAL (célula E5) pode ser obtida através da opção “Subscrito”.
- C) para aplicar a formatação da célula TELEFONE RESIDENCIAL na célula à sua direita pode-se utilizar o recurso .
- D) para centralizar horizontalmente as informações da coluna C, pode-se utilizar o recurso .
- E) para remover o sublinhado das informações da célula D4, pode-se utilizar o ícone .

Questão 73

Observe, a seguir, a imagem parcial de uma janela do Internet Explorer 8.



A área contendo <http://www.google.com.br/> é chamada de:

- A) Área de Pesquisa.
- B) Seção.
- C) Barra de Endereços.
- D) Guia.
- E) Barra de Ferramentas.

Questão 74

Sobre Mensagens Instantâneas, é correto afirmar.

- A) Somente são possíveis através de celulares.
- B) Aplicam-se somente a pessoas pertencentes a um mesmo grupo de colaboração.
- C) Garantem a confidencialidade na troca de informações.
- D) Podem também estar sujeitas a vírus e invasões.
- E) Acarretam aumento nos custos de manutenção de redes de voz e dados.

Questão 75

Sobre os aplicativos de webmail, é INCORRETO afirmar que:

- A) algumas das mensagens recebidas podem ser direcionadas para "lixo eletrônico".
- B) é possível que o nome de um dos destinatários não seja visualizado pelos demais.
- C) as mensagens podem ser organizadas utilizando-se pastas e categorias.
- D) uma vez recebida e armazenada na pasta de entrada, uma mensagem não pode mais ser apagada.
- E) arquivos podem ser anexados às mensagens.

Questão 76

Ao utilizar o Google para realizar pesquisas na Internet, é correto afirmar que:

- A) apenas as opções que coincidem exatamente com o texto pesquisado são sempre retornadas.
- B) o recurso utilizado por este aplicativo para destacar no resultado as palavras procuradas é o sublinhado vermelho.
- C) além de websites, imagens e mapas também podem ser exibidos como resultados de busca.
- D) são sempre exibidos 10 resultados por página, independentemente de configuração.
- E) o único navegador compatível com o buscador Google é o Google Chrome.

Questão 77

Suponha que você queira acessar o website da Secretaria de Estado de Educação e Esporte do Acre utilizando o Microsoft Internet Explorer. Nesse caso, todas as opções a seguir apresentam orientações corretas com EXCEÇÃO de:

- A) pode-se digitar diretamente o endereço do website na barra de endereços.
- B) o website em questão pode ser bloqueado através do lixo eletrônico.
- C) ferramentas de pesquisa podem ser utilizadas para localizar o endereço do website.
- D) pode-se pesquisar no Histórico, caso tal website tenha sido acessado anteriormente.
- E) pode-se utilizar o recurso Favoritos, caso tal website tenha sido previamente registrado como tal.

Questão 78

Os programas de antivírus visam à segurança do computador, protegendo-o contra diversos tipos de ameaças virtuais, como por exemplo:

- A) Backbone.
- B) Trojan.
- C) Encryption.
- D) Debug.
- E) Kernel.

Questão 79

Observe a imagem parcial da lista de arquivos exibida no Windows Explorer.



Sobre as funcionalidades do Windows Explorer associadas a arquivos, considerando a configuração padrão do mouse, é correto afirmar que:

- A) um clique com o botão esquerdo do mouse sobre um arquivo abre o menu de funções associadas a esse arquivo.
- B) um duplo-clique com o botão direito do mouse sobre um arquivo abre esse arquivo.
- C) um clique com o botão direito do mouse sobre um arquivo selecionado na lista (marcado) permite renomear esse arquivo.
- D) um clique simples com o botão direito do mouse sobre uma pasta lista os arquivos contidos nessa pasta.
- E) ao se pressionar a tecla ENTER sobre um arquivo selecionado na lista (marcado), esse arquivo é aberto.

Questão 80

Considere uma empresa em que os funcionários do Departamento Financeiro somente podem acessar o Sistema Contábil estando presentes no escritório dessa empresa. Esse é um caso clássico de:

- A) hot site.
- B) rede local.
- C) internet.
- D) cliente-servidor.
- E) home page.

REDAÇÃO

Com base na leitura dos textos motivadores seguintes e nos conhecimentos construídos ao longo de sua formação, redija TEXTO DISSERTATIVO com, no mínimo, 20 e, no máximo, 25 linhas, em modalidade e limites solicitados, em norma-padrão da língua portuguesa sobre o tema: A EDUCAÇÃO É O AGENTE ESSENCIAL À CIDADANIA.

Texto 1

Educação para a vida

Por Décio Cançado

[...]

Pais e professores não apenas devem ensinar a ler e a escrever, mas devem auxiliar a ouvir e a sentir. Depois disso, então, é chegada a hora do educando aprender a agir, a exteriorizar de uma maneira organizada e ética seus pensamentos e emoções, que já não serão conflituosos com o meio em que vivem, pois farão parte de sua própria maneira de ser, serão os frutos de seu poder de decisão, da sua vida, da vida em plenitude e harmonia para a qual foi educado.

(Disponível em <www.clicfolha.com.br>)

Texto 2

A formação de um povo

[...]

Aqui entra primariamente a educação, que venho comentando sem conseguir esgotar, assunto inexaurível na vida privada de todo cidadão e na existência geral de um povo. É preciso ter em mente que, para os líderes, sejam quais forem, esse deve ser um interesse primordial em sua atividade.

A mim me preocupa a redução do nível de formação e informação que nos oferecem. Escrevi muito sobre as cotas, com que, em lugar de melhorar a educação pela base, subindo o nível do precário ensino elementar, se reduz o nível do ensino superior, para que se adapte aos que lá entram mais por cota do que por mérito e preparo, em lugar de ser, como deveria, o inverso.

Agora, pelo que leio, parece que vão conseguir piorar ainda mais a situação, pois a meninada só precisa se alfabetizar no fim do 3º ano da escola elementar. Pergunto: o que estarão fazendo nos primeiros dois anos de escola? Brincando? Gazeteando? A escola vai fingir que está ensinando, preparando para a vida e a profissão? E os pais que se interessam, o que podem esperar de tal ensino?

Aos 8 anos, meninos e meninas já deveriam estar escrevendo direito e lendo bastante — claro que em escolas públicas de qualquer ponto do país onde os governos tivessem colocado professores bem pagos, seguros e com boa autoestima em escolas nas quais cada sala de aula tenha uma prateleira com livros doados pelos respectivos governos, municipal, estadual ou federal, interessados na formação do seu povo.

Qualquer coisa diferente disso é ilusão pura. Não resolve enviar centenas de jovens ao exterior ou trazer estudantes estrangeiros para cá, se a base primeira do ensino é ruim como a nossa, pois não adianta um telhado de luxo sobre paredes rachadas em casas construídas sobre areia movediça.

[...]

LUFT, Lya. *A formação de um povo*. Disponível em veja.abril.com.br. (Fragmento)

RASCUNHO