

CONCURSO PÚBLICO
24/03/2013

INSTRUÇÕES

1. Confira abaixo: seu nome, número de inscrição e cargo correspondente à sua inscrição. Assine no local indicado.
2. Verifique se os dados impressos no Cartão-Resposta e na Folha Definitiva da questão discursiva correspondem aos seus. Em caso de irregularidade, comunique-a imediatamente ao Fiscal.
3. Não serão permitidos: empréstimos de materiais; consultas e comunicação entre os candidatos; uso de livros, apontamentos, relógios, aparelhos eletrônicos e, em especial, aparelhos celulares, os quais deverão ser desligados e colocados no saco plástico fornecido pelo Fiscal. O não cumprimento dessas exigências ocasionará a exclusão do candidato deste Concurso Público.
4. Aguarde o Fiscal autorizar a abertura do Caderno de Prova. Após a autorização, confira a paginação antes de iniciar a Prova.
5. Este Caderno de Prova contém 40 (quarenta) questões objetivas, cada qual com apenas 1 (uma) alternativa correta e 1 questão discursiva (Redação). No Cartão-Resposta, preencha, com tinta preta, o retângulo correspondente à alternativa que julgar correta para cada questão.
6. No Cartão-Resposta, anulam a questão: marcar mais de 1 (uma) alternativa em uma mesma questão; rasurar; preencher além dos limites do retângulo destinado a cada marcação. Não haverá substituição do Cartão-Resposta por erro de preenchimento.
7. Na questão discursiva (Redação), transcreva a resposta para a Folha Definitiva de Resposta e não ultrapasse o espaço indicado para a questão. Não haverá substituição da mesma por erro de transcrição.
8. Não são permitidas perguntas ao Fiscal sobre as questões da prova.
9. A duração desta prova será de **5 (cinco) horas**, já incluído o tempo para preenchimento do Cartão-Resposta e da Folha Definitiva de Resposta.
10. Ao concluir a prova, permaneça em seu lugar e comunique ao Fiscal.
11. Aguarde autorização para devolver, em separado, o Caderno de Prova, o Cartão-Resposta e a Folha Definitiva de Resposta, devidamente assinados.

Transcreva abaixo as suas respostas, dobre na linha pontilhada e destaque cuidadosamente esta parte.

RESPOSTAS

01	02	03	04	05	06	07	08	09	10	11	12	13	14	15	16	17	18	19	20
21	22	23	24	25	26	27	28	29	30	31	32	33	34	35	36	37	38	39	40

O gabarito oficial provisório estará disponível no endereço eletrônico
www.cops.uel.br a partir das 17 horas do dia 25 de março de 2013.

Leia o texto, a seguir, e responda às questões de 1 a 10.

1 Agências que oferecem serviço eventual de faxineiras. Eletrodomésticos mais práticos e compactos. Co-
2 mida congelada e produtos de higiene mais eficientes e concentrados. Alta expressiva no número de
3 famílias que optam por diaristas. Vale tudo para compensar a escassez de empregadas domésticas men-
4 salistas no Brasil. Cerca de 500 mil mulheres, 10% do total, largaram a profissão entre 2009 e 2011,
5 segundo o Instituto Brasileiro de Geografia e Estatística (IBGE). As profissionais que se ocupavam dos afa-
6 zeres domésticos tiveram acesso à educação e optaram por se recolocar em postos de trabalho no setor
7 de comércio e serviços. E o mercado tem respondido com novos serviços e produtos para suprir os hábitos
8 das famílias.

9 De 2000 a 2012, cresceu três vezes e meia o custo de manter uma funcionária na residência, informa a
10 consultoria econômica LCA, com base na inflação oficial. Em 2012, o custo do serviço aumentou 12,8%,
11 quase o dobro da inflação. Para a economista Hildete Pereira de Melo, especializada no estudo do trabalho
12 doméstico, sem a figura da mulher contratada para cuidar da casa, as relações familiares tendem a ser
13 mais igualitárias. As estatísticas, porém, mostram que essa mudança caminha em ritmo lento. “Em alguns
14 lares, filhos e homens ganham mais responsabilidades. Mas, na maioria, é a mulher que fica sobrecarre-
15 gada”, afirma Alexandre Fraga, sociólogo do trabalho na Universidade Federal do Rio de Janeiro.

16 Mas há transformações em curso. Na casa do professor carioca Cosme da Cunha, de 36 anos, a esposa,
17 Marta, tem horários mais apertados e ele é quem dá conta da rotina doméstica e da filha Helena, de 3 anos.
18 Cunha dá banho e alimenta a menina, que depois passa o dia na escola. Os adultos cooperam na faxina
19 pesada de acordo com suas aptidões e tempo livre. “Escolhemos preservar nossa intimidade e segurar
20 as pontas sozinhos. O lado ruim é ficar mais cansado, mas fazemos tudo aproveitando a família reunida”,
21 diz. Para poupar tempo, Cunha apela para a comida congelada e investiu em um congelador avantajado.
22 Lava-louças, aspiradores de pó e até máquinas que passam roupa entram no esforço para cortar o tempo
23 gasto com tarefas domésticas. A expectativa da indústria é de alta de até 30% nas vendas de eletrodo-
24 mésticos nos próximos anos. Cresceu também a procura por produtos de limpeza menos agressivos para
25 quem vai manusear. “As donas de casa não investiam em tecnologia porque quem cuidava da limpeza era
26 a empregada. Agora, elas querem fugir das tarefas mais desagradáveis e estão dispostas a pagar mais
27 por isso”, afirma Maribel Suarez, professora do Centro de Estudos em Consumo da Coppead/UFRJ.

(Adaptado de: A CASA sem empregada, *ISTOÉ*. 9 jan. 2013, p.44-45.)

1 De acordo com o texto, assinale a alternativa correta.

- a) A referência à educação no texto serve para explicar sua independência em relação ao funcionamento das dinâmicas comerciais.
- b) A educação à qual as empregadas domésticas tiveram acesso desencadeou um processo ganancioso e mercantilista na constituição das famílias.
- c) A educação alterou a natureza das relações familiares ao possibilitar novas perspectivas profissionais para as donas de casa.
- d) A educação mais liberal dos homens é reconhecida como decisiva para consolidar a ascensão profissional das empregadas domésticas.
- e) A educação interferiu na relação entre as empregadas domésticas e seus horizontes de expectativas no universo do trabalho.

2 Quanto aos termos: “mulheres” (linha 04), “mulher” (linha 12), “mulher” (linha 14), “esposa” (linha 16) e “elas” (linha 26), assinale a alternativa correta.

- a) As “mulheres” citadas na linha 4 são donas de casa que abandonaram sua ocupação desestimuladas pela sobrecarga de trabalho.
- b) A “mulher” citada na linha 12 é uma funcionária que acentuava as diferenças entre a rotina de donas de casa com tempo livre e a de homens atribulados.
- c) A “mulher” citada na linha 14 é a pessoa que, no interior da família, é a mais penalizada com o afastamento das empregadas domésticas.
- d) A “esposa” citada na linha 16 é um exemplo de mulher que se exime de responsabilidades domésticas.
- e) O termo “elas” citado na linha 26 é uma retomada do novo modelo feminino que passou da condição de empregada doméstica à condição de patroa.

3 Sobre as possibilidades de substituição de termos sem prejuízo do sentido original, considere as afirmativas a seguir.

- I. “Escassez” (linha 3) pode ser substituído por “carência”.
- II. “Curso” (linha 16) pode ser substituído por “voga”.
- III. “Aptidões” (linha 19) pode ser substituído por “habilidades”.
- IV. “Avantajado” (linha 21) pode ser substituído por “volumoso”.

Assinale a alternativa correta.

- a) Somente as afirmativas I e II são corretas.
- b) Somente as afirmativas II e IV são corretas.
- c) Somente as afirmativas III e IV são corretas.
- d) Somente as afirmativas I, II e III são corretas.
- e) Somente as afirmativas I, III e IV são corretas.

4 Quanto ao segundo parágrafo, assinale a alternativa correta.

- a) O aumento de “responsabilidades” de filhos e homens em algumas famílias é um ponto de convergência entre a visão do sociólogo e a opinião da economista.
- b) O “custo do serviço” doméstico é compensado, segundo a economista, através do equilíbrio dos integrantes da família.
- c) As “relações familiares mais igualitárias” são comprovadas pelas estatísticas de cujos resultados o sociólogo discorda.
- d) Os resultados das “estatísticas” contrariam o argumento de que as famílias conseguem se adequar à elevação dos custos da manutenção da empregada doméstica.
- e) O “ritmo lento” da mudança corresponde ao fato de a saída das empregadas domésticas do mercado de trabalho ser menos expressiva do que o que se alardeia.

5 A palavra “cresceu” aparece duas vezes no texto: na linha 9 e na linha 24. Sobre essa palavra, assinale a alternativa correta.

- a) Na linha 9, a palavra está no singular por motivo facultativo, pois a flexão no plural seria possível para estabelecer a concordância com a expressão mais próxima: “três vezes e meia”.
- b) Na linha 9, a palavra está no singular para concordar com o sujeito, também no singular, posposto à forma verbal.
- c) Na linha 9, a palavra aparece no singular para concordar com “uma funcionária”, que também está no singular.
- d) Na linha 24, a palavra tem como complemento verbal a expressão “a procura por produtos de limpeza menos agressivos”.
- e) Na linha 24, a palavra está no singular porque sua concordância independe da existência de sujeito e de complemento verbal na oração.

6 Quanto ao termo “porém”, na linha 13, assinale a alternativa correta.

- a) Indica a oposição entre os termos “estatísticas” e “mudança”.
- b) Indica a oposição entre os ritmos da mudança referidos na frase.
- c) Pode ser deslocado, no interior da frase, para ficar entre “mostram” e o trecho “que essa mudança...”, sem prejuízo do sentido original.
- d) Seu deslocamento para o início da frase é possível, mas acarreta mudança substancial no sentido do conjunto da frase.
- e) Pode ser substituído por “portanto”, na mesma posição, sem necessidade de alterar a pontuação e sem prejuízo do sentido original.

7 Quanto ao uso do conectivo “mas”, que aparece três vezes no decorrer do texto (linhas 14, 16 e 20), assinale a alternativa correta.

- a) Na linha 14, o conectivo indica o disparate entre lares que aderem a novos arranjos e famílias que se mantêm apegadas a tradições de desigualdade.
- b) Na linha 14, o conectivo indica a relação entre o ganho de responsabilidades para filhos e homens e o efeito pouco significativo disso nos lares habitados por eles.
- c) Na linha 16, o conectivo indica as oposições entre mulheres sobrecarregadas com o trabalho doméstico e mulheres com tempo livre para o lazer.
- d) Na linha 20, o conectivo indica as contradições entre união e desunião dos integrantes da família.
- e) Na linha 20, o conectivo indica o contraste entre o desempenho das atividades domésticas e a satisfação de ver as incumbências concluídas.

8 Observe as frases atribuídas ao sociólogo Alexandre Fraga, reproduzidas entre as linhas 13 e 15: “Em alguns lares, filhos e homens ganham mais responsabilidades. Mas, na maioria, é a mulher que fica sobrecarregada”.

Assinale a alternativa correta sobre o efeito proporcionado pela seguinte mudança em sua estrutura: “Na maioria dos lares, é a mulher que fica sobrecarregada. Mas, em alguns, filhos e homens ganham mais responsabilidades.”

- a) O sentido e a ênfase se manteriam os mesmos em relação ao trecho original.
- b) Haveria substancial alteração de sentido e de ênfase em relação ao trecho original.
- c) Haveria brusca alteração de sentido e sutil alteração de ênfase em relação ao trecho original.
- d) Haveria alteração de ênfase em relação ao trecho original.
- e) Haveria inversão de sentido em relação ao trecho original.

9 A respeito da família de Cosme da Cunha, considere as afirmativas a seguir.

- I. A rotina doméstica de Cosme exemplifica trechos iniciais do texto, como a terceira e a quinta frases.
- II. Os hábitos dessa família ratificam a permanência de papéis tradicionais na vida doméstica das famílias brasileiras em geral.
- III. O destaque atribuído à vida doméstica atribulada de Marta reforça a tese da sobrecarga das mulheres apontada pelo sociólogo.
- IV. O investimento em tecnologia feito pela família reflete a adesão à resposta do mercado para a reconfiguração da vida doméstica.

Assinale a alternativa correta.

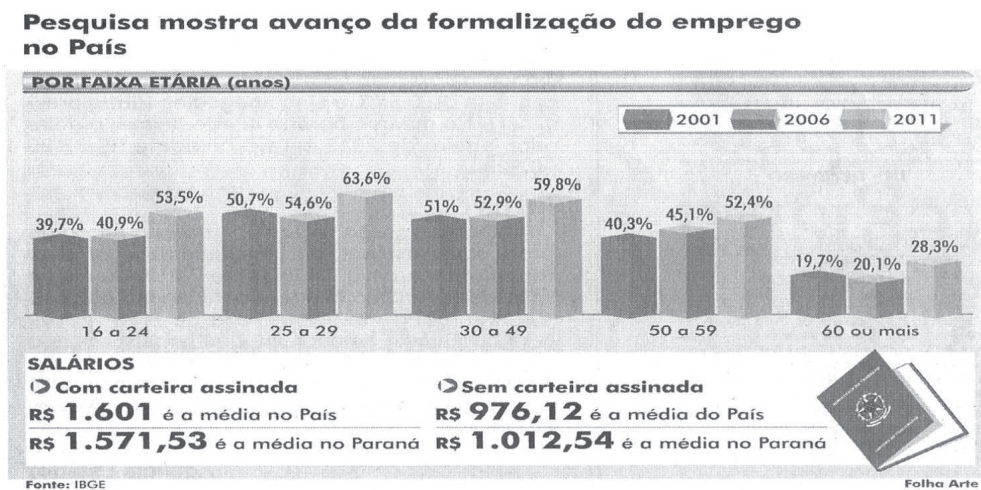
- a) Somente as afirmativas I e II são corretas.
- b) Somente as afirmativas I e IV são corretas.
- c) Somente as afirmativas III e IV são corretas.
- d) Somente as afirmativas I, II e III são corretas.
- e) Somente as afirmativas II, III e IV são corretas.

10 Sobre a frase dita por Cosme da Cunha: “Escolhemos preservar nossa intimidade e segurar as pontas sozinhos.”, assinale a alternativa correta.

- a) O uso da primeira pessoa do plural deve-se à necessidade de enfatizar ser ele um representante da nova condição masculina.
- b) A preservação da intimidade representa a justificativa para resguardar a condição econômica da família.
- c) A solidão do trabalho doméstico é minimizada na frase subsequente pela ideia de reunião familiar.
- d) A expressão “segurar as pontas” tem sentido conotativo, equivalente a “aguentar o rojão”.
- e) A frase contraria o argumento de que é difícil ajustar-se aos novos padrões da vida doméstica.

CONHECIMENTOS GERAIS

- 11** De acordo com a Lei de Responsabilidade Fiscal, Art. 17, considera-se obrigatória de caráter continuado a despesa corrente derivada de lei, medida provisória ou ato administrativo normativo que fixem para o ente a obrigação legal de sua execução por um período superior a
- a) 1 exercício.
 - b) 2 exercícios.
 - c) 3 exercícios.
 - d) 4 exercícios.
 - e) 5 exercícios.
- 12** A despesa total com pessoal, em cada período de apuração em cada estado membro da federação, não poderá exceder os percentuais da receita corrente líquida, em
- a) 20%
 - b) 30%
 - c) 40%
 - d) 50%
 - e) 60%
- 13** O processo e julgamento dos crimes previstos na Lei Federal nº 9.613/1998, que dispõe sobre os crimes de “lavagem” ou ocultação de bens, direitos e valores, quando praticados contra o sistema financeiro e a ordem econômico-financeira, ou em detrimento de bens, serviços ou interesses da União, ou de suas entidades autárquicas ou empresas públicas, são de competência
- a) do Conselho Nacional de Justiça.
 - b) dos juizados especiais cíveis.
 - c) da Justiça Militar.
 - d) da Justiça Federal.
 - e) estadual especializada.
- 14** Observe o gráfico, a seguir, sobre emprego no Brasil.



(Folha de Londrina, Folha Economia. 4 dez. 2012.)

De acordo com os dados do gráfico, assinale a alternativa correta.

- a) A atual crise econômica elevou a informalidade do emprego a partir de 2011.
- b) A informalidade tem aumentado entre os trabalhadores aposentados.
- c) A informalidade entre os idosos (60 anos ou mais) supera os 70%.
- d) A possibilidade de emprego formal diminui à medida que aumenta a faixa etária.
- e) Ao longo da década, a informalidade foi mais intensa na faixa dos 25 a 49 anos.

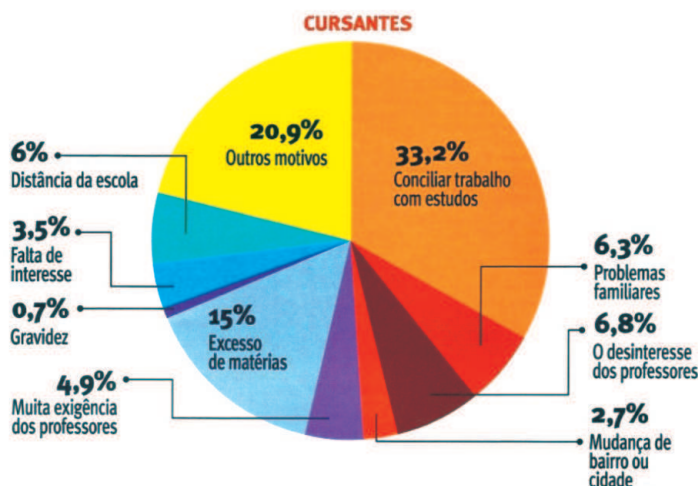
15 O recente processo de julgamento pelo Supremo Tribunal Federal (STF) do caso conhecido como “Mensalão” trouxe à exposição a interpretação que sugere a presença de uma distorção no equilíbrio e nas funções dos três poderes da estrutura estatal brasileira (Executivo, Legislativo e Judiciário). Essa distorção tem sido designada como “judicialização da política”.

Com base nos conhecimentos sobre o tema, assinale a alternativa que apresenta, corretamente, a que o termo “judicialização da política” se refere.

- a) À subordinação do Poder Legislativo à pressão da sociedade civil, exigindo justiça no caso conhecido como “Mensalão”.
- b) À presença na atual composição do Congresso Nacional de um número elevado de bacharéis em Direito, criando um desequilíbrio na representação corporativa no Legislativo.
- c) À influência da mídia sobre o Poder Judiciário, em especial sobre os ministros do Supremo Tribunal Federal (STF), comprometendo a isenção e a autonomia de suas decisões.
- d) À intromissão dos poderes Executivo e Legislativo no aparelho judiciário, visando influenciar suas decisões, por meio de nomeações, lobbies e pressão política.
- e) Ao recorrente apelo ao Poder Judiciário na resolução de problemas e na tomada de decisões que deveriam ser da competência dos Poderes Legislativo e Executivo, enfraquecendo a autonomia desses dois últimos.

16 Observe o gráfico, a seguir, referente à pesquisa realizada com alunos do Ensino Médio da rede pública de Minas Gerais.

Qual a maior dificuldade que você encontra/encontrou para continuar estudando:



(Caderno Especial Ensino Médio. Instituto Unibanco. São Paulo: Ed. Abril, 2010, p.7.)

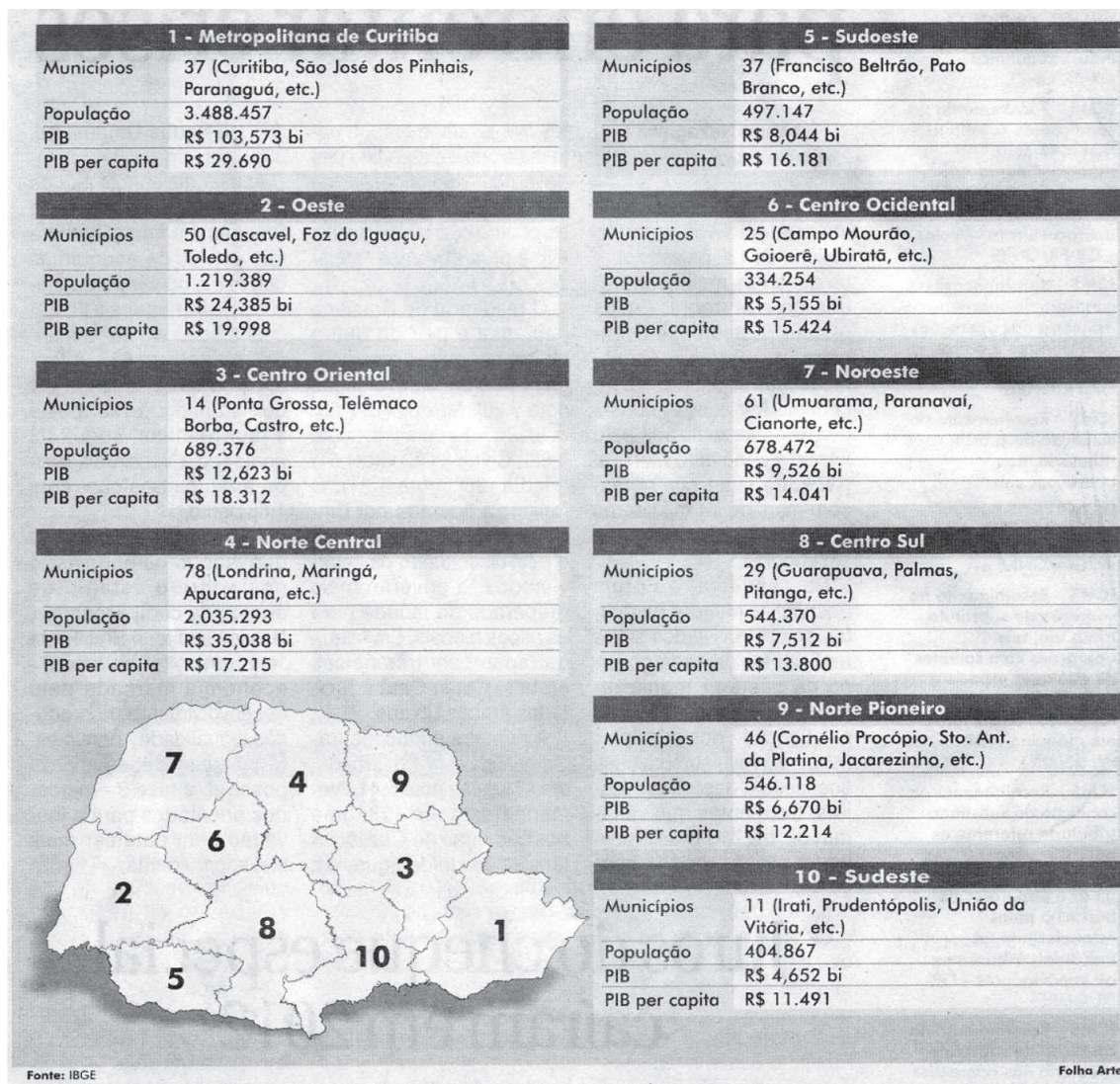
Com base no gráfico, considere as afirmativas a seguir.

- I. A maior parte do problema está no desinteresse de professores e alunos.
- II. A família é responsável direta pelo o sucesso do processo educativo.
- III. O emprego é um obstáculo para obtenção de melhores resultados no ciclo escolar.
- IV. A iniciação sexual e seus possíveis efeitos pouco impactam a trajetória escolar.

Assinale a alternativa correta.

- a) Somente as afirmativas I e II são corretas.
- b) Somente as afirmativas I e IV são corretas.
- c) Somente as afirmativas III e IV são corretas.
- d) Somente as afirmativas I, II e III são corretas.
- e) Somente as afirmativas II, III e IV são corretas.

17 Observe o gráfico, a seguir, sobre a economia nas mesorregiões do Paraná.



(Folha de Londrina, 9 jan. 2013. Folha economia.)

De acordo com os dados e conhecimentos sobre economia no Paraná, considere as afirmativas a seguir.

- I. A diferença do PIB *per capita* entre a mesorregião mais rica e a mais pobre do Estado é superior a cento e cinquenta por cento.
- II. O setor secundário continua a ser fundamental para melhor índice de PIB e PIB *per capita*.
- III. O PIB *per capita* nas mesorregiões é homogêneo, resultado das práticas de sustentabilidade adotadas pelo Governo Estadual.
- IV. A posição econômica do Noroeste é favorecida pela presença da Usina de Itaipu e os *royalties* recebidos pelas cidades da mesorregião.

Assinale a alternativa correta.

- a) Somente as afirmativas I e II são corretas.
- b) Somente as afirmativas I e IV são corretas.
- c) Somente as afirmativas III e IV são corretas.
- d) Somente as afirmativas I, II e III são corretas.
- e) Somente as afirmativas II, III e IV são corretas.

18 Leia o texto a seguir.

No final de junho de 2012, em Londrina, ocorreu evento organizado pela Secretaria de Estado do Trabalho, Emprego e Economia Solidária e pelo Conselho Estadual do Trabalho (CET), em parceria com a Organização Internacional do Trabalho no Brasil (OIT) e a Superintendência Regional do Ministério do Trabalho e Emprego. O objetivo do evento foi debater propostas para definir as prioridades e as estratégias de ação para a promoção do trabalho decente no Paraná.

(Adaptado de: *Trabalhadores, governo e empregadores debatem trabalho decente em Londrina*. Disponível em: <<http://www.sintra.comlondrina.com.br/noticias/destaque/4556>>. Acesso em: 2 fev. 2012.

Com base no texto e nos conhecimentos sobre trabalho decente, assinale a alternativa correta.

- a) Trata-se de iniciativa da OIT visando acabar com a exploração do trabalho assalariado.
- b) Orienta-se pelo princípio da abolição efetiva do trabalho infantil e eliminação do trabalho forçado.**
- c) Obriga os governos a reconhecerem os sindicatos e a garantirem negociações coletivas.
- d) Estabelece normas para a prática de atividades sem reconhecimento social, como a prostituição.
- e) Defende o respeito da jornada de 40 horas semanais para toda criança que tem um emprego formal.

19 O Art. 112 do Estatuto da Criança e do Adolescente (ECA) estabelece medidas aplicáveis em caso de prática de ato inflacionário. Sobre essas medidas, considere as afirmativas a seguir.

- I. Advertência.
- II. Obrigação de reparar o dano.
- III. Prestação de serviços à comunidade.
- IV. Prisão sem direito a fiança.

Assinale a alternativa correta.

- a) Somente as afirmativas I e II são corretas.
- b) Somente as afirmativas I e IV são corretas.
- c) Somente as afirmativas III e IV são corretas.
- d) Somente as afirmativas I, II e III são corretas.**
- e) Somente as afirmativas II, III e IV são corretas.

20 De acordo com o Estatuto da Criança e do Adolescente (ECA), em seu Art. 133, para a candidatura a membro do Conselho Tutelar, serão exigidos alguns requisitos. Sobre esses requisitos, considere as afirmativas a seguir.

- I. Residir no município.
- II. Idade superior a vinte e um anos.
- III. Ser pai ou mãe.
- IV. Ser brasileiro de origem.

Assinale a alternativa correta.

- a) Somente as afirmativas I e II são corretas.**
- b) Somente as afirmativas I e IV são corretas.
- c) Somente as afirmativas III e IV são corretas.
- d) Somente as afirmativas I, II e III são corretas.
- e) Somente as afirmativas II, III e IV são corretas.

21 De acordo com a teoria microeconômica convencional, também conhecida como teoria de preços neo-clássica, considere as afirmativas a seguir.

- I. Uma firma em monopólio natural tem como característica operar no trecho da curva de custo médio crescentes em relação ao seu nível de produção.
- II. A função de utilidade Cobb-Douglas representa preferências que implicam comportamento de demanda com elasticidade – preço da demanda decrescentes.
- III. A existência de um bem de Giffen ocorre quando um bem é inferior e a dimensão do efeito renda é maior do que a dimensão do efeito substituição.
- IV. O tipo de mercado conhecido como concorrência perfeita tem, como uma de suas características, a igualdade entre o preço do produto e o seu custo marginal.

Assinale a alternativa correta.

- a) Somente as afirmativas I e II são corretas.
- b) Somente as afirmativas I e IV são corretas.
- c) Somente as afirmativas III e IV são corretas.
- d) Somente as afirmativas I, II e III são corretas.
- e) Somente as afirmativas II, III e IV são corretas.

22 Dois instrumentos de política macroeconômica, frequentemente utilizados pelos governos, são a política monetária e a política fiscal.

Para uma economia fechada, assinale a alternativa correta.

- a) No modelo IS/LM, uma curva LM vertical implica que uma política fiscal será eficaz na determinação do nível de renda agregada.
- b) No modelo IS/LM, uma curva IS vertical implica que uma política monetária será eficaz na determinação do nível de renda agregada.
- c) No modelo keynesiano simplificado, a magnitude do multiplicador de gastos é inversamente relacionada com a propensão marginal a consumir.
- d) O modelo clássico baseado no funcionamento da lei de Say implica que políticas fiscais expansionistas são necessárias para estimular a demanda agregada.
- e) No modelo clássico, a teoria quantitativa da moeda implica que políticas monetárias expansionistas devem elevar a renda nominal da economia.

23 Na composição de um balanço patrimonial, devidamente encerrado, de forma analítica, podemos encontrar discriminadas diversas contas.

Assinale a alternativa que apresenta, corretamente, esses tipos de contas.

- a) Caixa, estoques, pró-labore.
- b) Caixa, fornecedores, salários.
- c) Bancos conta movimento, estoques, comissões sobre vendas.
- d) Caixa, bancos conta movimento, vendas de mercadorias.
- e) Fornecedores, bancos conta movimento, capital social.

24 Na elaboração da Demonstração do Resultado do Exercício (DRE) de uma empresa do ramo comercial, o Lucro Operacional Bruto será obtido por meio da

- a) dedução das vendas, abatimentos e impostos das vendas brutas de mercadorias.
- b) dedução das despesas com as vendas, financeiras e administrativas, da receita líquida das vendas de mercadorias.
- c) dedução dos custos das mercadorias vendidas da receita líquida das vendas de mercadorias.
- d) adição das receitas financeiras e recuperação de impostos, na receita líquida das vendas de mercadorias.
- e) adição do lucro bruto das vendas de mercadorias com o recebimento das contas de clientes.

- 25** Em uma análise econômico-financeira das demonstrações financeiras de uma empresa, podem-se encontrar índices que demonstram a liquidez e o endividamento da empresa. Uma empresa que apresenta um índice de liquidez corrente equivalente a 1,0 representa que seu endividamento
- a) de curto prazo ultrapassa em 100% seus recebíveis também de curto prazo.
 - b) de curto e longo prazo corresponde a 100% dos seus recebíveis de curto e longo prazo.
 - c) de curto prazo é exatamente o valor que a empresa possui de ativo circulante.
 - d) de curto prazo corresponde a 1% de seus recebíveis também de curto prazo.
 - e) geral é exatamente o valor que a empresa possui de realizáveis a curto e longo prazo.
- 26** Uma pessoa toma um empréstimo de R\$ 100.000,00 à taxa de juros simples de 2% a.m. Passado um determinado tempo, ela contrai um novo empréstimo de R\$ 150.000,00 à taxa de juros simples de 1% a.m., com o qual ela liquida o primeiro empréstimo. Com o dinheiro que sobra, compra um terreno. Após 15 meses do primeiro empréstimo tomado, ela liquida o segundo empréstimo e verifica que pagou, nos dois empréstimos, um total de R\$ 25.000,00 de juros. Assinale a alternativa que apresenta, corretamente, o valor (em reais) que sobrou na data do segundo empréstimo utilizado na compra do terreno.
- a) R\$ 35.000,00
 - b) R\$ 40.000,00
 - c) R\$ 45.000,00
 - d) R\$ 50.000,00
 - e) R\$ 55.000,00
- 27** Para um empréstimo de R\$ 10.000,00, com taxa de juros capitalizados mensalmente, foi pago ao final de 2 meses o montante de R\$ 12.100,00. Assinale a alternativa que apresenta, corretamente, a taxa de juros nominal anual aplicada a esse empréstimo.
- a) 120%
 - b) 126%
 - c) 210%
 - d) 214%
 - e) 252%
- 28** Para a produção de 2 toneladas de um determinado produto, são necessários 300 Kg de matéria-prima (MP), 200 horas-máquinas (HM) e 400 horas de mão de obra (HMO). Assim, para serem produzidas 3,5 toneladas do mesmo produto, serão necessárias
- a) 225 (MP), 150 (HM) e 300 (HMO).
 - b) 225 (MP), 350 (HM) e 300 (HMO).
 - c) 525 (MP), 150 (HM) e 700 (HMO).
 - d) 525 (MP), 350 (HM) e 700 (HMO).
 - e) 575 (MP), 300 (HM) e 500 (HMO).
- 29** Se, para produzir 100 toneladas de um produto, são utilizados R\$ 10.000,00 de custos fixos e R\$ 20.000,00 de custos variáveis, então, para produzir 300 toneladas, a empresa irá gastar o total de
- a) R\$ 30.000,00
 - b) R\$ 50.000,00
 - c) R\$ 60.000,00
 - d) R\$ 70.000,00
 - e) R\$ 90.000,00

30 Uma empresa apresenta em seu balanço patrimonial os valores a seguir.

Ativo Circulante	R\$ 80.000,00
Ativo Não Circulante	R\$ 120.000,00
Passivo Circulante	R\$ 70.000,00
Passivo Não Circulante	R\$ 40.000,00
Patrimônio Líquido	R\$ 90.000,00

Com base nesses dados, assinale a alternativa que apresenta, corretamente, o capital de giro dessa empresa.

- a) R\$ 10.000,00
- b) R\$ 80.000,00**
- c) R\$ 90.000,00
- d) R\$ 110.000,00
- e) R\$ 200.000,00

31 Considere os dados, a seguir, extraídos dos relatórios gerenciais de uma empresa.

Faturamento Total	R\$ 12.000,00
Despesas Fixas	R\$ 1.000,00
Despesas Variáveis	R\$ 3.000,00
Custos Fixos	R\$ 2.000,00
Custos Variáveis	R\$ 5.000,00
Capital Social	R\$ 50.000,00
Quantidade vendida	1.000 unidades

Assinale a alternativa que apresenta, corretamente, o valor do ponto de equilíbrio (em reais).

- a) R\$ 1.000,00
- b) R\$ 7.000,00
- c) R\$ 9.000,00**
- d) R\$ 11.000,00
- e) R\$ 12.000,00

Considere os demonstrativos, a seguir, e responda às questões de 32 a 34.

Balanço Patrimonial (em reais)			
Ativo		Passivo	
Ativo Circulante	40.000,00	Passivo Circulante	25.000,00
Caixa e equivalente	10.000,00		
Estoques	30.000,00		
Ativo Não Circulante	70.000,00	Passivo não Circulante	15.000,00
Realizável a Longo Prazo	10.000,00		
Imobilizado	20.000,00	Patrimônio Líquido	70.000,00
Total do Ativo	110.000,00	Total do Passivo + PL	110.000,00
Demonstração de Resultados (em reais)			
Receita Líquida			80.000,00
(-) Custos			(60.000,00)
Lucro Líquido			20.000,00

32 Considerando o indicador de capacidade de pagamento, a Liquidez Geral é

- a) 1,00
- b) 1,25**
- c) 1,60
- d) 2,50
- e) 2,75

33 O capital circulante líquido é

- a) R\$ 10.000,00
- b) R\$ 15.000,00
- c) R\$ 25.000,00
- d) R\$ 40.000,00
- e) R\$ 70.000,00

34 Para que o índice de liquidez corrente seja idêntico ao de liquidez seca, o valor dos estoques deveria ser:

- a) Zero
- b) R\$ 10.000,00
- c) R\$ 15.000,00
- d) R\$ 20.000,00
- e) R\$ 40.000,00

35 Criação, expansão ou aperfeiçoamento de ação governamental que acarrete aumento da despesa será acompanhado de estimativa do impacto orçamentário-financeiro no exercício em que deva entrar em vigor e nos

- a) 2 anos subsequentes.
- b) 3 anos subsequentes.
- c) 4 anos subsequentes.
- d) 5 anos subsequentes.
- e) 6 anos subsequentes.

36 Nos processos de licitação, poderá ser estabelecida margem de preferência para produtos manufaturados e para serviços nacionais que atendam a normas técnicas brasileiras. Tal margem será estabelecida com base em estudos revistos periodicamente. Quanto às premissas que, em prazo não superior a cinco anos, devem ser levadas em conta para o estabelecimento da margem de preferência, considere as afirmativas a seguir.

- I. Geração de emprego e renda.
- II. Efeito na arrecadação de tributos federais, estaduais e municipais.
- III. Desenvolvimento e inovação tecnológica realizados no País.
- IV. Contribuição para o aumento das exportações.

Assinale a alternativa correta.

- a) Somente as afirmativas I e II são corretas.
- b) Somente as afirmativas I e IV são corretas.
- c) Somente as afirmativas III e IV são corretas.
- d) Somente as afirmativas I, II e III são corretas.
- e) Somente as afirmativas II, III e IV são corretas.

37 A sociedade comercial, composta exclusivamente por pessoas físicas, em que se pressupõe uma afinidade entre os sócios e em que todos os sócios respondem de forma solidária e ilimitada, é denominada sociedade

- a) em comandita simples.
- b) ilimitada.
- c) por afinidade.
- d) plurima.
- e) em nome coletivo.

38 Recuperação de empresa judicial é aquela processada integralmente no âmbito do Poder Judiciário, por meio de uma ação judicial, e que tem objetivos definidos.
Quanto a esse objetivos, considere as afirmativas a seguir.

- I. Preservar o patrimônio do empresário dono da empresa, facilitando sua reinserção no mercado.
- II. Possibilitar a superação do estado de crise econômico-financeira do devedor.
- III. Promover a preservação da empresa e sua função social, bem como estimular a atividade econômica.
- IV. Manter a fonte produtora de riquezas, os empregos e os interesses dos credores.

Assinale a alternativa correta.

- a) Somente as afirmativas I e II são corretas.
- b) Somente as afirmativas I e IV são corretas.
- c) Somente as afirmativas III e IV são corretas.
- d) Somente as afirmativas I, II e III são corretas.
- e) Somente as afirmativas II, III e IV são corretas.

39 As agências de fomento podem empregar em suas atividades, além de recursos próprios, os provenientes de

- I. fundos e programas oficiais.
- II. orçamentos federal, estaduais e municipais.
- III. organismos e instituições financeiras nacionais e internacionais de desenvolvimento.
- IV. organizações empresariais nacionais interessadas no fomento de atividades empresariais.

Assinale a alternativa correta.

- a) Somente as afirmativas I e II são corretas.
- b) Somente as afirmativas I e IV são corretas.
- c) Somente as afirmativas III e IV são corretas.
- d) Somente as afirmativas I, II e III são corretas.
- e) Somente as afirmativas II, III e IV são corretas.

40 A Agência de Fomento do Paraná é constituída sob a forma de

- a) sociedade anônima de capital fechado.
- b) empresa pública.
- c) pessoa jurídica de direito público.
- d) autarquia estadual.
- e) fundação de caráter público.

