



MINISTÉRIO DA EDUCAÇÃO

FUNDAÇÃO UNIVERSIDADE FEDERAL DO ABC

REITORIA

CONCURSO PÚBLICO

010. PROVA OBJETIVA

ADMINISTRADOR

- ◆ Você recebeu sua folha de respostas e este caderno contendo 60 questões objetivas.
- ◆ Confira seu nome e número de inscrição impressos na capa deste caderno e na folha de respostas.
- ◆ Quando for permitido abrir o caderno, verifique se está completo ou se apresenta imperfeições. Caso haja algum problema, informe ao fiscal da sala.
- ◆ Leia cuidadosamente todas as questões e escolha a resposta que você considera correta.
- ◆ Marque, na folha de respostas, com caneta de tinta azul ou preta, a letra correspondente à alternativa que você escolheu.
- ◆ A duração da prova é de 3 horas e 30 minutos, já incluído o tempo para o preenchimento da folha de respostas.
- ◆ Só será permitida a saída definitiva da sala e do prédio após transcorridos 75% do tempo de duração da prova.
- ◆ Ao sair, você entregará ao fiscal a folha de respostas e este caderno, podendo levar apenas o rascunho de gabarito, localizado em sua carteira, para futura conferência.
- ◆ Até que você saia do prédio, todas as proibições e orientações continuam válidas.

AGUARDE A ORDEM DO FISCAL PARA ABRIR ESTE CADERNO DE QUESTÕES.

CONHECIMENTOS GERAIS

LÍNGUA PORTUGUESA

Leia o texto para responder às questões de números **01** a **06**.

Questão de igualdade

De Barack Obama a Woody Allen, passando pelo “black bloc”, todo mundo resolveu imprecisar contra a desigualdade. Há um interessante debate econômico sobre as repercussões sociais de diferenças crescentes entre a renda dos mais pobres e a dos mais ricos.

Para os teóricos mais à direita, a disparidade não chega a ser um problema. Desde que não haja miséria e os mais pobres tenham assegurada uma existência digna, a desigualdade funciona até como um motor da economia. É para comprar um carrão melhor do que o do vizinho que o sujeito se dispõe a trabalhar mais.

Economistas mais à esquerda, entretanto, afirmam que, quando a diferença entre a maior e a menor remuneração cresce demais, a mobilidade social fica emperrada, o que gera uma série de problemas. Sistemas que beneficiam apenas uma elite, além de fracassarem em seu compromisso democrático, carregam as sementes de sua própria destruição.

Nessa discussão, sou agnóstico e penso até que os dois lados podem estar certos. Mas há uma questão anterior, como coloca o filósofo Stephen Asma em “Against Fairness”.

Para Asma, nós, seres humanos, estamos biologicamente programados para favorecer os próximos. O amor é discriminatório, diz. Se mães não protegessem suas crias, mamíferos e aves seriam inviáveis. Esse pendor simplesmente não combina com as exigências republicanas que nos impomos, ocasionando paradoxos. Acertadamente, condenamos o juiz que contrata parentes para seu gabinete, mas também recriminamos o empresário de sucesso que deixa de empregar seu irmão necessitado.

Uma igualdade estrita exigiria que eu dê a meu filho o mesmo valor que atribuo ao filho de um desconhecido e que dispense ao mendigo o tratamento que concedo a um amigo. Para Asma, éticas consequencialistas, centradas na igualdade, têm algo de profundamente desumano.

(Helio Schwartzman. *Folha de S.Paulo*. 11.08.2013. Adaptado)

01. De acordo com o texto,

- (A) os governantes estão empenhados em evitar as repercussões sociais negativas provocadas pelo debate sobre a desigualdade social.
- (B) para os economistas, teóricos com postura política de esquerda são responsáveis pelo recente debate em torno da desigualdade.
- (C) a crescente discussão sobre a má distribuição de riquezas contribuiu para o surgimento de medidas concretas a fim de corrigir a desigualdade.
- (D) as consequências sociais da crescente diferença entre a renda dos mais ricos e a dos mais pobres têm sido intensamente discutidas.
- (E) economistas são unânimes em defender que a desigualdade é economicamente inviável, pelo fato de não possibilitar mobilidade social.

02. Segundo a opinião do autor, o fato de condenarmos o juiz que contrata parentes para seu gabinete, mas recriminarmos o empresário que deixa de empregar seu irmão necessitado se revela como uma

- (A) coerência.
- (B) virtude.
- (C) indecisão.
- (D) paridade.
- (E) contradição.

03. Segundo o pensamento do filósofo Stephen Asma, expresso no penúltimo parágrafo do texto, a propensão natural para favorecer os mais próximos

- (A) inexistente entre seres humanos.
- (B) inviabiliza a manutenção da vida.
- (C) é inerente aos seres humanos.
- (D) é uma imperfeição do instinto materno.
- (E) é o que distingue o homem das outras espécies.

04. O termo destacado na frase – É **para** comprar um carrão melhor do que o do vizinho que o sujeito se dispõe a trabalhar mais. –, no contexto, expressa

- (A) finalidade.
- (B) causa.
- (C) condição.
- (D) consequência.
- (E) conclusão.

05. Assinale a alternativa cujo termo em destaque expressa circunstância de posse.

- (A) **De** Barack Obama a Woody Allen, passando pelo “black bloc”, todo mundo resolveu imprecisar...
- (B) É para comprar um carrão melhor do que o **do** vizinho que o sujeito se dispõe a trabalhar mais.
- (C) ... a mobilidade social fica emperrada, o que gera uma série **de** problemas.
- (D) ... além **de** fracassarem em seu compromisso democrático, carregam as sementes de sua própria destruição.
- (E) ... recriminamos o empresário de sucesso que deixa **de** empregar seu irmão necessitado.

06. Assinale a alternativa em que a palavra ou expressão destacada está empregada, no contexto do texto, em sentido figurado.

- (A) Há um **interessante debate** econômico sobre as repercussões sociais. (1.º parágrafo)
- (B) Desde que não haja miséria e os mais pobres tenham assegurada uma **existência digna**... (2.º parágrafo)
- (C) ... a **desigualdade** funciona até como um motor da economia. (2.º parágrafo)
- (D) ... além de fracassarem em seu compromisso democrático, carregam **as sementes** de sua própria destruição. (3.º parágrafo)
- (E) Acertadamente, **condenamos** o juiz que contrata parentes para seu gabinete... (5.º parágrafo)

07. Assinale a alternativa correta quanto à concordância, de acordo com a norma-padrão da língua portuguesa.

- (A) A má distribuição de riquezas e a desigualdade social está no centro dos debates atuais.
- (B) Políticos, economistas e teóricos diverge em relação aos efeitos da desigualdade social.
- (C) A diferença entre a renda dos mais ricos e a dos mais pobres é um fenômeno crescente.
- (D) A má distribuição de riquezas tem sido muito criticado por alguns teóricos.
- (E) Os debates relacionado à distribuição de riquezas não são de exclusividade dos economistas.

08. Considere o seguinte trecho:

Sistemas que beneficiam apenas uma elite, além de fracassarem em seu compromisso democrático, carregam as sementes de sua própria destruição.

Assinale a alternativa em que o trecho está corretamente reescrito, no que diz respeito às regras de pontuação, de acordo com a norma-padrão da língua portuguesa.

- (A) Além de fracassarem em seu compromisso democrático, sistemas que beneficiam apenas uma elite, carregam as sementes de sua própria destruição.
- (B) Além de fracassarem em, seu compromisso democrático, sistemas que beneficiam apenas uma elite carregam as sementes, de sua própria destruição.
- (C) Sistemas que beneficiam apenas uma elite, carregam as sementes de sua própria destruição, além de fracassarem, em seu compromisso democrático.
- (D) Sistemas que beneficiam apenas uma elite, carregam as sementes de sua própria destruição, além de fracassarem em seu compromisso, democrático.
- (E) Sistemas que beneficiam apenas uma elite carregam as sementes de sua própria destruição, além de fracassarem em seu compromisso democrático.

Leia a tira para responder às questões de números 09 e 10.



(Disponível em: <http://revistaescola.abril.com.br>. Acesso em 21.08.2013)

09. A oração do primeiro quadrinho – ... se não houver mais perguntas... – está corretamente reescrita e sem alteração do sentido em:

- (A) ... mesmo que não hajam mais perguntas...
- (B) ... de modo que não houve mais perguntas...
- (C) ... caso não haja mais perguntas...
- (D) ... quando não houver mais perguntas...
- (E) ... ainda que não houverem mais perguntas...

10. Releia a fala do terceiro quadrinho da tira:

Eu me referi a perguntas sobre a matéria **que** estamos estudando.

Considerando as regras de regência, de acordo com a norma-padrão da língua portuguesa, o termo em destaque no trecho pode ser corretamente substituído por:

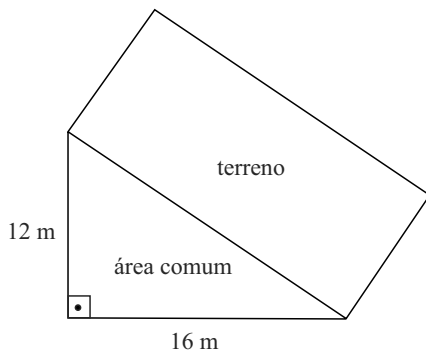
- (A) a qual.
- (B) da qual.
- (C) em cuja.
- (D) na qual.
- (E) pela qual.

11. Certa empresa da área de tecnologia da informação tem computadores com memória volátil (RAM) de 8 gigabytes. Sabendo-se que cada gigabyte corresponde a 2^{30} bytes, então a quantidade de bytes de RAM de cada computador é
- (A) 2^{31} .
 (B) 2^{32} .
 (C) 2^{33} .
 (D) 2^{38} .
 (E) 2^{90} .
12. O visor de LCD de certa calculadora está com defeito, de modo que alguns algarismos, marcados em cor escura na figura, não aparecem.

$$\begin{array}{r} 293 \blacksquare \\ \times 3 \\ \hline 8 \blacksquare 0 2 \end{array}$$

Supondo que os outros algarismos aparecem corretamente e de acordo com a operação aritmética indicada, a soma dos dois algarismos que não aparecem no visor é

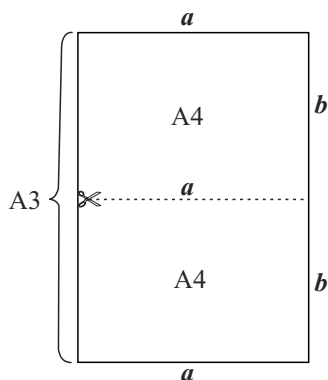
- (A) 12.
 (B) 13.
 (C) 14.
 (D) 15.
 (E) 16.
13. Um terreno retangular de um condomínio tem um dos lados que faz divisa inteiramente com uma área comum do loteamento, como mostra a figura. A área comum é um triângulo retângulo com as medidas dos catetos indicadas na figura.



Sabendo-se que a área do terreno retangular é 160 m^2 , o seu perímetro é

- (A) 40 m.
 (B) 56 m.
 (C) 72 m.
 (D) 80 m.
 (E) 96 m.

14. Em certa empresa de tecnologia da informação, os funcionários Abel, Beatriz e Carlos trabalham em horários variados. No dia 19.08.2013, Abel entrou às 08h00 e saiu 12 horas depois. No mesmo dia, Beatriz entrou às 14h30 e saiu 12 horas depois, e Carlos entrou às 17h40 e saiu às 23h00 do mesmo dia. Nesse dia, os três funcionários estiveram ao mesmo tempo na empresa por um período de
- (A) 50 minutos.
 (B) 1 hora e 15 minutos.
 (C) 1 hora e 40 minutos.
 (D) 2 horas.
 (E) 2 horas e 20 minutos.
15. Um jardineiro preencheu parcialmente, com água, 3 baldes com capacidade de 15 litros cada um. O primeiro balde foi preenchido com $\frac{2}{3}$ de sua capacidade, o segundo com $\frac{3}{5}$ da capacidade, e o terceiro, com um volume correspondente à média dos volumes dos outros dois baldes. A soma dos volumes de água nos três baldes, em litros, é
- (A) 27.
 (B) 27,5.
 (C) 28.
 (D) 28,5.
 (E) 29.
16. A figura sem escala definida representa uma folha de papel retangular tamanho A3 que, quando cortada ao meio, paralelamente a seu lado menor, gera 2 folhas de tamanho A4. O lado maior da folha A4 corresponde ao corte.



Uma propriedade interessante é que a razão entre as medidas do lado maior a e do lado menor b da folha A4 é igual à razão entre as medidas do lado maior e do lado menor da folha A3. Assim, sabendo que a medida b é 21 cm, a medida a é igual a

- (A) $10,5 \cdot \sqrt{2}$ cm.
 (B) 21 cm.
 (C) $21 \cdot \sqrt{2}$ cm.
 (D) 42 cm.
 (E) $42 \cdot \sqrt{2}$ cm.

17. Félix aplicou uma quantia de R\$ 7.000,00 com taxa de juro simples de 2% ao mês, durante 10 meses. O montante gerado correspondeu a 40% dos 10 meses de salário líquido que Félix recebeu nesse período. Portanto, o salário líquido mensal de Félix é
- (A) R\$ 1.200,00.
 (B) R\$ 1.400,00.
 (C) R\$ 1.800,00.
 (D) R\$ 2.100,00.
 (E) R\$ 2.400,00.

18. Um atleta está treinando corrida diariamente e montou a seguinte tabela, que mostra o percurso dia a dia.

Dia	Percurso (m)
1.º	4 500
2.º	4 700
3.º	5 000
4.º	4 800
5.º	-----

O objetivo do atleta é alcançar uma média diária, nesses 5 dias, de 5 km de percurso. Para alcançar essa meta, ele deverá percorrer, no 5.º dia,

- (A) 5 km.
 (B) 6 km.
 (C) 7 km.
 (D) 8 km.
 (E) 9 km.
19. Ana, Bento, Célia, Dario e Eva são cinco irmãos, não necessariamente nessa ordem de idades. Dario é mais velho que Célia, e esta é mais nova que Bento. Eva e Ana são ambas mais novas que Bento e mais velhas que Dario. Dentre todos os irmãos e irmãs, quem tem menos idade é
- (A) Ana.
 (B) Bento.
 (C) Célia.
 (D) Dario.
 (E) Eva.
20. O uso das lâmpadas domésticas comuns de filamento está sendo, aos poucos, descontinuado, com substancial economia de energia elétrica. Em certa residência, 10 lâmpadas de filamento, acesas em média 5 horas por dia, geravam um custo total de R\$ 0,15 por dia. Foram substituídas por 20 lâmpadas fluorescentes compactas, que agora ficam acesas em média 6 horas por dia. Cada lâmpada fluorescente consome apenas 25% do que consumia cada lâmpada de filamento, no mesmo tempo de uso. Portanto, o gasto diário devido a todas as novas lâmpadas passou a ser de
- (A) R\$ 0,15.
 (B) R\$ 0,14.
 (C) R\$ 0,12.
 (D) R\$ 0,10.
 (E) R\$ 0,09.

21. Nos termos da Lei n.º 8.112/90, ao entrar em exercício, o servidor nomeado para cargo de provimento efetivo ficará sujeito a estágio probatório, durante o qual a sua aptidão e capacidade serão objeto de avaliação para o desempenho do cargo, observados, entre outros, os seguintes fatores:
- (A) disciplina e subserviência.
 (B) ingerência e responsabilidade.
 (C) assiduidade e produtividade.
 (D) fidelidade e lealdade.
 (E) pontualidade e leniência.
22. Ao servidor público, cujo regime jurídico é regido pela Lei n.º 8.112/90, é proibido
- (A) atribuir fé a documentos públicos.
 (B) utilizar pessoal ou recursos materiais da repartição em serviços ou atividades particulares.
 (C) tratar com indiferença ou urbanidade as pessoas.
 (D) representar contra ilegalidade, omissão ou abuso de poder.
 (E) opor resistência, ainda que justificadamente, ao andamento de documento e processo ou execução de serviço.
23. Conforme o disposto na Lei n.º 8.666/93, a alienação de bens da Administração Pública, em regra,
- (A) é permitida, mas subordinada ao interesse público justificado e precedida de avaliação.
 (B) é vedada em qualquer hipótese, uma vez que os bens públicos não podem ser alienados.
 (C) é permitida, independentemente de licitação, obedecido o interesse da Administração.
 (D) dispensa a avaliação prévia quando se tratar de bens móveis.
 (E) quando de bens imóveis, dependerá de avaliação prévia e de licitação na modalidade de leilão.
24. Considerando o que estabelece a Lei n.º 8.666/93 a respeito dos contratos administrativos, é correto afirmar que
- (A) a única modalidade de garantia que pode ser aceita pela Administração Pública é a fiança-bancária.
 (B) não admitem a presença de cláusulas exorbitantes.
 (C) permite à Administração Pública, em alguns casos, rescindi-los, unilateralmente.
 (D) as cláusulas econômico-financeiras e monetárias podem ser alteradas sem prévia concordância do contratado.
 (E) o contratado não poderá manter preposto no local da obra ou serviço quando da execução do contrato.

25. Assinale a alternativa que está de acordo com a Lei de Acesso à Informação (Lei n.º 12.527/11).
- (A) Subordinam-se ao regime dessa Lei os órgãos públicos integrantes da administração direta, exceto as empresas públicas e as sociedades de economia mista.
- (B) Considera-se informação sigilosa aquela submetida à restrição de acesso público em razão de sua imprescindibilidade para a imagem da Administração Pública.
- (C) A negativa de acesso às informações objeto de pedido formulado aos órgãos públicos sujeitará o responsável à pena de prisão.
- (D) O serviço de busca e fornecimento da informação será cobrado diretamente do interessado, não podendo ser subsidiado pelo poder público.
- (E) Quando se tratar de acesso à informação contida em documento cuja manipulação possa prejudicar sua integridade, deverá ser oferecida a consulta de cópia, com certificação de que esta confere com o original.

NOÇÕES DE INFORMÁTICA

26. Considere a figura a seguir, extraída do Windows Explorer no MS-Windows 7, em sua configuração padrão.


Nome	Tamanho
Arquivos do Outlook	
Linha do Tempo 2011	136 KB
Linha do Tempo 2012	205 KB
Livros	1.648 KB
Mapa Político Brasil	567 KB

Assinale a alternativa que contém o nome de um arquivo do tipo apresentação do MS-PowerPoint 2010.

- (A) Arquivos do Outlook.
- (B) Linha do Tempo 2011.
- (C) Linha do Tempo 2012.
- (D) Livros.
- (E) Mapa Político Brasil.

27. Considere a planilha a seguir, extraída do MS-Excel 2010, em sua configuração padrão. O número da célula A1 está formatado na categoria moeda.

	A	B
1	R\$ 0,50	
2		

Assinale a alternativa que apresenta o valor dessa célula, após a aplicação do recurso de formatação associado ao ícone , encontrado no grupo “Número” da guia “Página Inicial”.

- (A) R\$ 0,05
- (B) R\$ 50
- (C) 0,50%
- (D) 5%
- (E) 50%

Nas questões de números 28 e 29, assinale a alternativa que preenche corretamente a lacuna do texto.

28. No MS-Word 2010, em sua configuração padrão, o usuário pode adicionar _____ a figuras e utilizá-las(os) na criação de índices de ilustrações.

- (A) marcadores
- (B) notas
- (C) anotações
- (D) legendas
- (E) comentários

29. O modo de exibição de apresentação _____ da guia “Exibição” do MS-PowerPoint 2010, em sua configuração padrão, permite editar as anotações do orador da forma como ficarão quando forem impressas.

- (A) Modo Exibição de Leitura
- (B) Anotações
- (C) Normal
- (D) Classificação de Slides
- (E) Slide Mestre

30. Para atualizar uma página Web exibida no Internet Explorer 8, o usuário pode utilizar a seguinte tecla de atalho:

- (A) F1
- (B) F4
- (C) F5
- (D) F7
- (E) F12

CONHECIMENTOS ESPECÍFICOS

31. A Administração Pública tem, pelo menos, dois sentidos: o sentido orgânico, que é representado pelo conjunto de órgãos, serviços e agentes do Estado e demais entidades públicas que asseguram, em nome da coletividade, a satisfação disciplinada, regular e contínua das necessidades coletivas, e o sentido _____ por meio do qual a Administração Pública pode ser definida como a atividade típica dos serviços e agentes administrativos.
- Assinale a alternativa que preenche corretamente a lacuna do texto.
- (A) conjuntural
 - (B) funcional
 - (C) estrutural
 - (D) físico
 - (E) complementar
32. Uma das funções da administração que se preocupa em diagnosticar o presente, examinar o futuro e traçar um plano de ação é a atribuição de
- (A) coordenação.
 - (B) organização.
 - (C) comando.
 - (D) planejamento.
 - (E) controle.
33. Um dos princípios de Henry Fayol que estabelece que um funcionário deve receber ordens de apenas um chefe, evitando a superposição de ordens, tem o nome de
- (A) Divisão do trabalho.
 - (B) Disciplina.
 - (C) Unidade de comando.
 - (D) Equidade.
 - (E) Espírito de equipe.
34. De acordo com a Lei Federal n.º 8.112/90, art. 9º, os cargos de confiança vagos têm a nomeação feita
- (A) em comissão.
 - (B) a título precário.
 - (C) em vinculação precária.
 - (D) em caráter efetivo.
 - (E) a título efetivo.
35. A Administração Pública vem evoluindo ao longo do tempo a partir de 3 modelos, sendo o mais atual o da Administração Pública Gerencial. A adoção desse novo modelo não pressupõe o abandono total dos dois modelos anteriores. De um deles, são conservados alguns dos seus princípios fundamentais, como a admissão segundo rígidos critérios de mérito, a existência de um sistema estruturado e universal de remuneração, as carreiras, a avaliação constante de desempenho, o treinamento sistemático.
- Esse modelo cujas características citadas são preservadas chama-se Administração Pública
- (A) Patrimonialista.
 - (B) Estratégica.
 - (C) Clientelista.
 - (D) Formal.
 - (E) Burocrática.
36. Com relação ao servidor em estágio probatório, é correto afirmar que
- (A) se não for aprovado, não poderá ser exonerado.
 - (B) será impedido de exercer quaisquer cargos de provimento em comissão ou funções de direção.
 - (C) se estável, e não aprovado, não poderá ser reconduzido ao cargo anteriormente ocupado.
 - (D) se estável, e não aprovado, será reconduzido ao cargo anteriormente ocupado.
 - (E) será impedido de exercer quaisquer cargos de chefia ou assessoramento no órgão ou em entidade de lotação.
37. O servidor cuja aposentadoria tenha sido voluntária poderá voltar à atividade, desde que
- (A) também seja inválido.
 - (B) seja para outro cargo que não aquele pelo qual se aposentou.
 - (C) seja do interesse da administração.
 - (D) tenha, no mínimo, 70 anos de idade.
 - (E) a aposentadoria não tenha ocorrido nos 5 anos anteriores à solicitação.
38. Remoção do servidor, de acordo com o art. 36, da Lei n.º 8.112/90, é
- (A) a investidura do servidor em cargo de atribuições e responsabilidades compatíveis com a limitação que tenha sofrido em sua capacidade física ou mental verificada em inspeção médica.
 - (B) o deslocamento do servidor, a pedido ou de ofício, no âmbito do mesmo quadro, com ou sem mudança de sede.
 - (C) o retorno do servidor estável ao cargo anteriormente ocupado.
 - (D) a recolocação do servidor estável no cargo anteriormente ocupado, ou no cargo resultante de sua transformação.
 - (E) o deslocamento de cargo de provimento efetivo, ocupado ou vago, no âmbito do quadro geral de pessoal, para outro órgão ou entidade do mesmo Poder.

39. Vencimento, de acordo com a Lei n.º 8.112/90, é
- (A) a remuneração do cargo efetivo.
 - (B) a remuneração do cargo efetivo, acrescida das vantagens pecuniárias permanentes estabelecidas em lei.
 - (C) correspondente a uma contraprestação ou retribuição por uma etapa de trabalho desempenhado pelo empregado, paga diretamente pelo empregador.
 - (D) a remuneração somada aos benefícios.
 - (E) a retribuição pecuniária pelo exercício de cargo público, com valor fixado em lei.
40. Quanto ao adicional noturno devido ao servidor público: “O serviço noturno, prestado em horário compreendido entre ____ (_____) _____ e 5 (cinco) horas do dia seguinte, terá o valor-hora acrescido de 25% (vinte e cinco por cento), computando-se cada hora como _____.” (Art. 75 da Lei Federal n.º 8.112/90).
- Assinale a alternativa que contém as expressões que preencham, correta e respectivamente, as lacunas.
- (A) 22 (vinte e duas) horas de um dia ... cinquenta e dois minutos e vinte segundos
 - (B) 22 (vinte e duas) horas de um dia ... cinquenta e dois minutos
 - (C) 20 (vinte) horas de um dia ... cinquenta e dois minutos e vinte segundos
 - (D) 22 (vinte e duas) horas de um dia ... cinquenta e dois minutos e trinta segundos
 - (E) 20 (vinte) horas de um dia ... cinquenta e dois minutos e trinta segundos
41. O art. 119, da Lei Federal n.º 8.112/90, diz que o servidor não poderá exercer mais de um cargo em comissão, nem ser remunerado pela participação em órgão de deliberação coletiva, exceto em se tratando de participação em
- (A) conselhos de administração e fiscal das empresas públicas e sociedades de economia mista.
 - (B) conselhos fiscais de empresas privadas fornecedoras de bens e serviços ao setor público.
 - (C) órgãos de deliberação vinculados aos sindicatos, fora de sua categoria.
 - (D) conselhos colegiados vinculados a coletivos sindicais.
 - (E) conselhos de subsidiárias e controladas, bem como quaisquer empresas ou entidades em que o setor público não detenha participação no capital social.
42. Quanto às penalidades que poderão ser aplicadas ao servidor, de acordo com a Lei n.º 8.112/90, a demissão é empregada quando
- (A) houver reincidência nas faltas já punidas com advertência.
 - (B) se recusar a submeter-se à inspeção médica.
 - (C) houver incontinência pública e conduta escandalosa, na repartição.
 - (D) mantiver sob sua chefia mediata parente de 3.º grau.
 - (E) descumprir ordens superiores, mesmo quando sejam manifestamente ilegais.
43. A aposentadoria será compulsória ao servidor que completar
- (A) 70 (setenta) anos de idade, se homem, e 65 (sessenta e cinco) anos de idade, se mulher.
 - (B) 70 (setenta) anos de idade e, no mínimo, 30 (trinta) anos de serviço.
 - (C) 75 (setenta e cinco) anos de idade.
 - (D) 70 (setenta) anos de idade.
 - (E) 65 (sessenta e cinco) anos de idade, se homem, e 60 (sessenta) anos de idade, se mulher.
44. A adequação das competências requeridas dos servidores aos objetivos das instituições, tendo como referência o plano plurianual, é uma das finalidades _____, instituída pelo Decreto n.º 5.707, de 2006.
- Assinale a alternativa que preenche corretamente a lacuna.
- (A) do Plano Plurianual de Desenvolvimento de Pessoal
 - (B) da Política Nacional de Desenvolvimento de Pessoal
 - (C) da Política de Desenvolvimento e Gestão das Competências dos Servidores
 - (D) do Plano Federal de Capacitação de Pessoal
 - (E) do Planejamento de Capacitação e Desenvolvimento dos Servidores
45. A coordenação pela Escola Nacional de Administração Pública – ENAP, especificada no artigo 3.º do Decreto n.º 5.707/2006, é direcionada a
- (A) eventos de educação continuada realizados apenas a distância.
 - (B) eventos voltados exclusivamente a cursos introdutórios ou de formação.
 - (C) proposta de criação de um polo de treinamento e capacitação a distância.
 - (D) centralização de eventos de treinamento que tenham por finalidade a capacitação, a curto prazo, dos servidores.
 - (E) construção de sistema de escolas de governo da União, que deverão sempre ser priorizadas na oferta dos cursos.
46. Gestão da capacitação orientada para o desenvolvimento do conjunto de conhecimentos, habilidades e atitudes necessárias ao desempenho das funções dos servidores, visando ao alcance dos objetivos da instituição, é a definição de
- (A) Gestão por competência.
 - (B) Eficiência para obtenção de resultados.
 - (C) Gestão por resultados.
 - (D) Eficácia no uso de recursos.
 - (E) Gestão do desempenho.

47. O método de avaliação de desempenho que consiste em um conjunto de frases descritivas (4 ou 5 frases em cada conjunto) que focalizam determinados aspectos do comportamento ou da função exercida pelo avaliado das quais ele deve escolher uma, ou no máximo duas, em cada conjunto, chama-se método

- (A) das escalas gráficas.
- (B) da escolha forçada.
- (C) dos incidentes críticos.
- (D) da pesquisa de campo.
- (E) das listas de verificação.

48. As formas tradicionais utilizadas na Avaliação de Desempenho têm, paulatinamente, cedido lugar a novas tendências para avaliar o desempenho dos funcionários. Em uma dessas novas tendências, recorre-se à avaliação a partir de diversos pontos de vista, vindos de pares, subordinados, chefes imediatos e mediatos, e mesmo fornecedores e clientes. Esse modelo de avaliação se tornou conhecido como avaliação

- (A) *Top-down*.
- (B) de resultados.
- (C) 360 graus.
- (D) *Bottom-up*.
- (E) de metas.

49. O diagnóstico que tem por objetivo a avaliação das condições de produção e de produtividade da organização, bem como dos aspectos de comportamento humano e relacionamento interpessoal, para dar início ao planejamento para superação dos gaps por meio da capacitação dos funcionários, é a fase chamada de

- (A) análise de demanda de mão de obra.
- (B) levantamento das necessidades de mão de obra.
- (C) análise da oferta de cursos no mercado.
- (D) diagnóstico da força de trabalho.
- (E) levantamento das necessidades de treinamento.

50. A Norma ISO 9000 (ABNT, 2005) define processo de forma bastante simples: “Um conjunto de _____ inter-relacionadas ou _____ que transformam _____ em _____.”

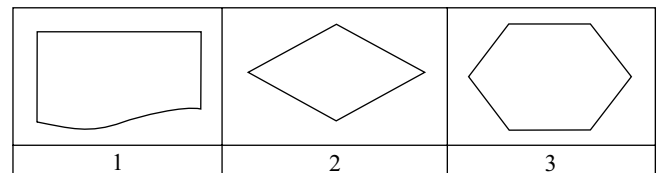
Assinale a alternativa que preenche, correta e respectivamente, as lacunas do texto.

- (A) funções ... misturadas ... matéria-prima ... produtos
- (B) atividades ... miscigenadas ... entradas ... produtos
- (C) funções ... interativas ... matéria-prima ... saídas
- (D) atividades ... interativas ... entradas ... saídas
- (E) funções ... misturadas ... entradas ... saídas

51. Os processos apresentam uma hierarquia, indo dos macro-processos até as tarefas ou operação. Nessa visão, macro-processo é

- (A) um conjunto de ações que ocorrem dentro do processo ou do subprocesso.
- (B) um pequeno conjunto de elementos, ou até mesmo um elemento, que compõe uma atividade.
- (C) um processo que geralmente envolve mais que uma função na estrutura, impactando nas demais funções da organização.
- (D) um conjunto de atividades sequenciais que fazem parte de um subprocesso mais abrangente.
- (E) um conjunto de atividades, não necessariamente conectadas, que fazem parte de um subprocesso.

52. Observe as três figuras a seguir. Elas são frequentemente utilizadas na elaboração de fluxogramas, essenciais no mapeamento de processos.



Assinale a alternativa que contém o nome correto das figuras, na ordem em que aparecem.

- (A) Documento; decisão; executante ou responsável.
- (B) Operação; decisão; conferência.
- (C) Documento; arquivo; executante ou responsável.
- (D) Arquivo; documento; executante ou responsável.
- (E) Documento; decisão; conferência.

53. Na elaboração do orçamento público são seguidos princípios que são divididos entre fundamentais e operacionais. Um dos princípios fundamentais é o da universalidade. Segundo esse princípio, o orçamento

- (A) deve ser uno, ou seja, cada ente federado deve ter apenas um orçamento.
- (B) deve conter todas as receitas e todas as despesas referentes aos poderes da União.
- (C) só adquire validade depois de publicado e que todos tenham conhecimento de seu conteúdo.
- (D) deve ser apresentado em linguagem clara e conhecida para que todos entendam o que dispõe.
- (E) deve ser elaborado por um período determinado de tempo, geralmente um ano.

54. De acordo com a Lei de Diretrizes Orçamentárias, o Orçamento deverá conter a discriminação da receita e da despesa de forma a evidenciar, além do programa de trabalho do governo, obedecidos os princípios de unidade, universalidade e anualidade, também
- (A) os ajustes fiscais.
 - (B) o orçamento da seguridade social.
 - (C) o orçamento de investimentos em empresas em que a União detenha maioria do capital.
 - (D) a política fiscal e creditícia do governo.
 - (E) a política econômico-financeira do governo.
55. A programação das ações a serem executadas, visando atingir as diretrizes, objetivos e metas estabelecidas no plano orçamentário plurianual, ou seja, o instrumento de operacionalização de curto prazo, é o (a)
- (A) Programa de Metas Orçamentárias – PMO.
 - (B) Plano Plurianual – PPA.
 - (C) Lei de Diretrizes Orçamentárias – LDO
 - (D) Lei Orçamentária Anual – LOA
 - (E) Anexo de Riscos Fiscais – ARF
56. O art. 19 da Lei Complementar n.º 101/2000 estabelece limites percentuais relativamente à receita corrente líquida (RCL) para a despesa total com pessoal, em cada período de apuração e em cada ente da Federação.
- Assinale a alternativa que apresenta, corretamente, os entes e respectivos percentuais.
- (A) União: 50% (cinquenta por cento); Estados: 60% (sessenta por cento); Municípios: 60% (sessenta por cento).
 - (B) União: 60% (sessenta por cento); Estados: 60% (sessenta por cento); Municípios: 60% (sessenta por cento).
 - (C) União: 60% (sessenta por cento); Estados: 60% (sessenta por cento); Municípios: 50% (cinquenta por cento).
 - (D) União: 50% (cinquenta por cento); Estados: 50% (cinquenta por cento); Municípios: 50% (cinquenta por cento).
 - (E) União: 60% (sessenta por cento); Estados: 50% (cinquenta por cento); Municípios: 40% (quarenta por cento).
57. A Lei de Responsabilidade Fiscal, em seu artigo 48, discrimina vários instrumentos que devem ser utilizados para a demonstração da transparência na gestão fiscal e que devem ser divulgados amplamente. Um desses instrumentos, em forma de relatório, que deve ser emitido ao final de cada quadrimestre e que será realizado pelos titulares dos Poderes e órgãos, tem o nome de
- (A) Demonstrativo da Execução das Despesas.
 - (B) Relatório de Gestão Fiscal.
 - (C) Demonstrativo da Despesa com Pessoal.
 - (D) Relatório do Tribunal de Contas.
 - (E) Relatório das Despesas Consolidadas Líquidas.
58. O conjunto de recursos, métodos e processos adotados pelos gestores do setor público, com vista a impedir o erro, a fraude e a ineficiência, é chamado de
- (A) Código de Ética.
 - (B) Responsabilidade Fiscal.
 - (C) Contabilidade Pública.
 - (D) Controle Interno.
 - (E) Controle Externo.
59. Os princípios básicos da legalidade, da impessoalidade, da moralidade, da igualdade, da publicidade, da probidade administrativa, da vinculação ao instrumento convocatório, do julgamento objetivo e dos que lhes são correlatos, são os princípios que norteiam a
- (A) Lei Federal n.º 8.112, de 11.12.90.
 - (B) Lei Complementar n.º 101, de 04.05.2000.
 - (C) Decreto n.º 5.707, de 23.02.2006.
 - (D) Lei n.º 10.520, de 17.07.2002.
 - (E) Lei de Licitações n.º 8.666, de 21.06.93.
60. O pregão, modalidade de licitação, é instituído pela Lei n.º 10.520, de 17.07.2002. Essa modalidade tem por objeto
- (A) a aquisição de bens, serviços e contratação de obras.
 - (B) alienações e locações.
 - (C) a aquisição de bens e serviços comuns.
 - (D) a contratação de obras e serviços.
 - (E) a execução de obras por empreitada.

