



# Concurso Público para Servidor Técnico - Administrativo **UFBA 2013**



## **35**

**TÉCNICO EM EQUIPAMENTO  
MÉDICO-ODONTOLÓGICO**

**Intermediário D**

# INSTRUÇÕES

Para a realização destas provas, você recebeu este Caderno de Questões e uma Folha de Respostas.

## 1. Caderno de Questões

- Verifique se este Caderno de Questões contém as seguintes provas:  
PORTUGUÊS — Questões de 01 a 15  
ADMINISTRAÇÃO PÚBLICA — Questões de 16 a 30  
INFORMÁTICA BÁSICA — Questões de 31 a 45  
CONHECIMENTOS ESPECÍFICOS — Questões de 46 a 85
- Qualquer irregularidade constatada neste Caderno de Questões deve ser imediatamente comunicada ao Fiscal de sala.
- Neste Caderno, você encontra apenas um tipo de questão: objetiva de proposição simples. Identifique a resposta correta, marcando na coluna correspondente da Folha de Respostas:

**V**, se a proposição é verdadeira;

**F**, se a proposição é falsa.

**ATENÇÃO:** Antes de fazer a marcação, avalie cuidadosamente sua resposta.

### LEMBRE-SE:

- A resposta correta vale 1 (um), isto é, você **ganha** 1 (um) ponto.
- A resposta errada vale – 0,75 (menos setenta e cinco centésimos), isto é, você **não ganha** o ponto da questão que errou e ainda **perde**, em cada resposta errada, 0,75 (setenta e cinco centésimos) dos pontos ganhos em outras questões que você acertou.
- A ausência de marcação e a marcação dupla ou inadequada valem 0 (zero). Você **não ganha nem perde nada**.

## 2. Folha de Respostas

- A Folha de Respostas é pré-identificada; confira os dados registrados no cabeçalho e assine-o com caneta esferográfica de tinta **PRETA**. Não ultrapasse o espaço reservado para esse fim.
- **NÃO AMASSE, NÃO DOBRE, NÃO SUJE, NÃO RASURE ESSA FOLHA DE RESPOSTAS.**
- A marcação da resposta deve ser feita preenchendo-se o espaço correspondente com caneta esferográfica de tinta **PRETA**. Não ultrapasse o espaço reservado para esse fim.

Exemplo de Marcação  
na folha de Respostas

01	<input type="checkbox"/>	F
02	<input checked="" type="checkbox"/>	V
03	<input checked="" type="checkbox"/>	V
04	<input type="checkbox"/>	F
05	<input checked="" type="checkbox"/>	V

- O tempo disponível para a realização das provas e o preenchimento da Folha de Respostas é de 4 (quatro) horas.
-

---

## PROVA DE PORTUGUÊS

### QUESTÕES de 01 a 15

#### INSTRUÇÃO:

Para cada questão, de **01** a **15**, marque na coluna correspondente da Folha de Respostas:

**V**, se a proposição é verdadeira;

**F**, se a proposição é falsa.

A resposta correta vale 1 (um ponto); a resposta errada vale -0,75 (*menos setenta e cinco centésimos*); a ausência de marcação e a marcação dupla ou inadequada valem 0 (zero).

### QUESTÕES de 01 a 11

#### TEXTO:

Faz anos, fui voar de asa-delta em Chattanooga. Como o vento não é domesticável, custou muito até que soprasse certo. Esperei longas horas no local de aterrissagem. Na manhã de sábado, chegou um americano pesadão, em uma caminhonete abarrotada de madeira. Depois de empilhar as tábuas no chão, tirou do estojo um teodolito e pôs-se a medir. Curioso, pensei, engenheiro que descarrega caminhão! Mas, em seguida, munido de uma escavadeira, furou quatro buracos. Virou o cimento e construiu quatro blocos, para servirem de alicerce do que prenunciava ser um quartinho. Desapareceu antes do fim da manhã.

5 – Como o cimento precisava secar, só voltou no dia seguinte. Com uma serra circular de mão, pôs-se então a cortar e a pregar as peças de 2 por 4 polegadas que compõem a estrutura da cabana. Alguns compensados foram içados, para fazer o telhado, logo coberto de telhas de asfalto. Em seguida, mais compensados para fechar as paredes. Quando pousei à tarde, a cabana estava pronta, e já desaparecera o engenheiro-pedreiro-carpinteiro. Um dia de trabalho: uma cabana pronta e benfeita.

10 – Recentemente, vi outra cabana sendo construída, desta vez no Brasil. Como era apenas para a duração de uma obra, era mais rústica. Foi também feita de peças estruturais de pinho e compensado hidráulico. Como os esteios foram fincados no chão, sem cimento, não foi necessário esperar até o dia seguinte. Na prática, levou o mesmo tempo que a americana. Vejam a grande diferença: a cabana brasileira foi feita por cinco operários!

15 – Quando economistas falam de produtividade, referem-se a uma relação entre o que se aplica na produção de alguma coisa e o que se obtém ao fim do processo. A produtividade da mão de obra reflete quantas horas de trabalho foram necessárias para produzir algo – no caso, uma cabana.

20 – Como o senhor americano produz o mesmo que cinco brasileiros, em tempo equivalente, nesse exemplo concreto, ele é cinco vezes mais produtivo do que nosso operário. A graça do exemplo é que, além de ser real, oferece uma situação rara, em que podemos comparar a feitura de duas cabanas iguais, em um processo produtivo

---

que depende pouco do restante da cadeia de produção.

30 – Quanto valerá cada cabana? Depende. Se as duas forem vendidas pelo mesmo preço, cada operário brasileiro ganhará um quinto do que o americano vai ganhar. Se os brasileiros ganharem o mesmo que o americano, a cabana custará cinco vezes mais.

35 – No primeiro caso, os operários brasileiros permanecem muito mais pobres. No segundo, o país deixa de ser competitivo pelos altos custos. No mundo real, ficamos pelo meio do caminho. O exemplo não mede a produtividade brasileira, pois é um caso isolado. Mas pesquisas rigorosamente conduzidas mostram o mesmo, uma gigantesca diferença de produtividade entre os dois países [...].

CASTRO, C. M. O quartinho das ferramentas. **Veja**. São Paulo: Abril, ed. 2331, ano 46, n. 30, 24 jul. 2013. p. 18.

### **Questão 01**

O texto objetiva fazer um paralelo entre a capacidade produtiva do trabalhador brasileiro e a do americano, mostrando a lentidão daquele.

### **Questão 02**

O texto apresenta um tipo de raciocínio que coloca duas realidades como objeto de reflexão e escolha de uma delas como mais eficiente.

### **Questão 03**

O autor do texto exemplifica o que seja produtividade ou improdutividade na empresa nacional.

### **Questão 04**

Na cadeia textual, o termo “cabana” é retomado várias vezes por meio de substituições lexicais.

### **Questão 05**

No primeiro período do texto, a forma verbal “Faz” está usada em lugar de *Fazem*, o que constitui um desvio da norma padrão.

### **Questão 06**

Em “Como o vento não é domesticável, custou muito até que soprasse certo.” (l. 1-2), o período é construído estabelecendo uma relação de causa entre orações.

### **Questão 07**

Os termos “um americano pesadão” (l. 3), “engenheiro que descarrega caminhão” (l. 5-6) e “engenheiro-pedreiro-carpinteiro” (l. 14) referem-se a diferentes personagens da narrativa.

### **Questão 08**

O período “Virou o cimento e construiu quatro blocos, para servirem de alicerce do que pronunciava ser um quartinho.” (l. 6-8) apresenta orações coordenadas e subordinadas.

### **Questão 09**

As formas verbais “cortar” (l. 10), “pregar” (l. 10) e “compõem” (l. 11) apresentam variações quanto à regência verbal.

## Questão 10

Em “Quando pousei à tarde, a cabana estava pronta, e já desaparecera o engenheiro-pedreiro-carpinteiro.” (l. 13-14), o uso da vírgula, nas duas ocorrências, separa termos oracionais com a mesma função no período.

## Questão 11

Os vocábulos “o”, em “o que se obtém” (l. 22) e “o” em “o mesmo que cinco brasileiros” (l. 25) pertencem à mesma classe gramatical.

## QUESTÕES de 12 a 15

TEXTO:

- O meu nome é Severino,  
não tenho outro de pia.  
Como há muitos Severinos,  
que é santo de romaria,  
5 – deram então de me chamar  
Severino de Maria;  
como há muitos Severinos  
com mães chamadas Maria,  
fiquei sendo o da Maria  
10 – do finado Zacarias.  
Mas isso ainda diz pouco:  
há muitos na freguesia,  
por causa de um coronel  
que se chamou Zacarias  
15 – e que foi o mais antigo  
senhor desta sesmaria.  
Como então dizer quem fala  
ora a Vossas Senhorias?  
Vejamos: é o Severino  
20 – da Maria do Zacarias,  
lá da serra da Costela,  
limites da Paraíba.  
Mas isso ainda diz pouco:  
se ao menos mais cinco havia  
25 – com nome de Severino  
filhos de tantas Marias  
mulheres de outros tantos,  
já finados, Zacarias,  
vivendo na mesma serra  
30 – magra e ossuda em que eu vivia.  
Somos muitos Severinos  
iguais em tudo na vida:
- na mesma cabeça grande  
que a custo é que se equilibra,  
35 – no mesmo ventre crescido  
sobre as mesmas pernas finas,  
e iguais também porque o sangue  
que usamos tem pouca tinta.  
E se somos Severinos  
40 – iguais em tudo na vida,  
morremos de morte igual,  
mesma morte severina:  
que é a morte de que se morre  
de velhice antes dos trinta,  
45 – de emboscada antes dos vinte,  
de fome um pouco por dia  
(de fraqueza e de doença  
é que a morte severina  
ataca em qualquer idade,  
50 – e até gente não nascida).  
Somos muitos Severinos  
iguais em tudo e na sina:  
a de abrandar estas pedras  
suando-se muito em cima,  
55 – a de tentar despertar  
terra sempre mais extinta,  
a de querer arrancar  
algum roçado da cinza.  
Mas, para que me conheçam  
60 – melhor Vossas Senhorias  
e melhor possam seguir  
a história de minha vida,  
passo a ser o Severino  
que em vossa presença emigra.

NETO, J. C. M. O retirante explica ao leitor quem é e a que vai. **Morte e Vida Severina e outros poemas em voz alta**. 4. ed. Rio de Janeiro: Sabiá, 1967. p. 73-75.

---

### **Questão 12**

O texto constitui um poema dramático em que a personagem Severino expõe, em primeira pessoa, sua vida e seu intuito.

### **Questão 13**

O narrador não só tenta se individualizar, como também compõe um microcosmo da região de onde provém, e suas falas são as de um coletivo que cumpre um destino comum.

### **Questão 14**

O texto transmite crítica a certas condições sociais de uma determinada região.

### **Questão 15**

A cena em tela é apresentada em forma de monólogo.

---

## PROVA DE ADMINISTRAÇÃO PÚBLICA

### QUESTÕES de 16 a 30

#### INSTRUÇÃO:

Para cada questão, de **16 a 30**, marque na coluna correspondente da Folha de Respostas:

**V**, se a proposição é verdadeira;

**F**, se a proposição é falsa.

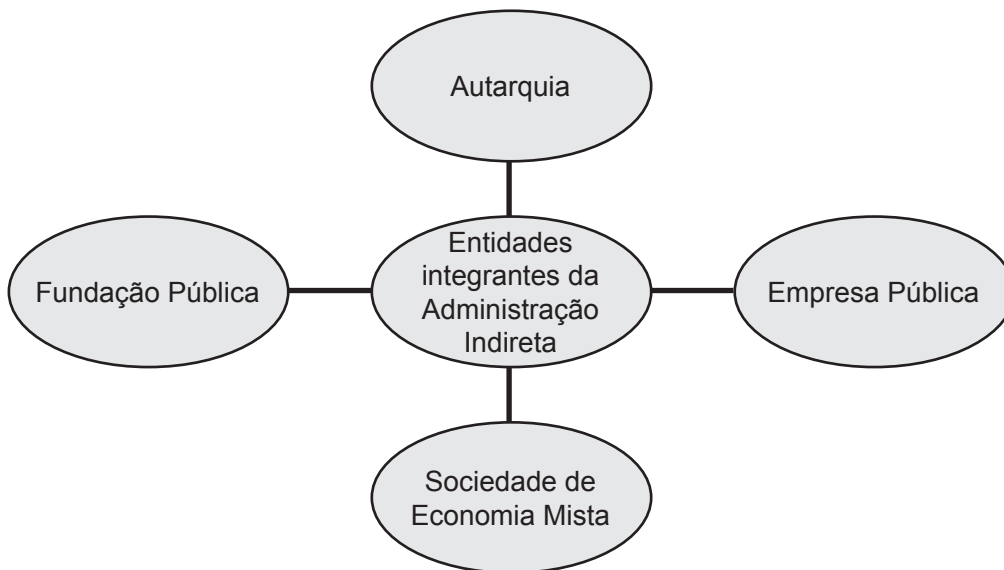
A resposta correta vale 1 (um ponto); a resposta errada vale -0,75 (*menos setenta e cinco centésimos*); a ausência de marcação e a marcação dupla ou inadequada valem 0 (zero).

#### Questão 16

O texto constitucional brasileiro adota a clássica tripartição de poderes, sendo que a solução de litígios é função precípua do Poder Legislativo.

### QUESTÕES 17 e 18

#### Tipos de entidades integrantes da Administração Indireta



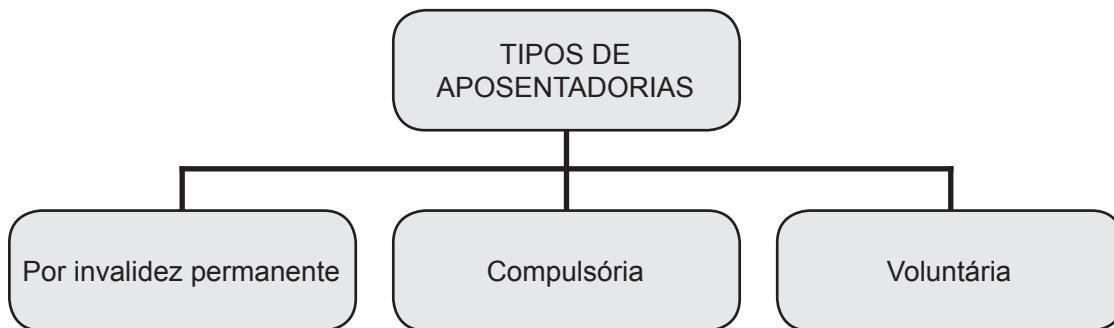
#### Questão 17

As empresas públicas são pessoas de direito privado, com capital exclusivamente público.

#### Questão 18

Os órgãos fiscalizadores das profissões (Conselhos Profissionais) são exemplos de fundações públicas.

## Questão 19



O servidor terá a sua aposentadoria compulsória quando apresentar moléstia profissional ou doença grave, contagiosa ou incurável, especificada em lei.

## QUESTÕES 20 e 21



## Questão 20

O servidor pode ser exonerado de ofício, quando não satisfeitas as condições do estágio probatório.

## Questão 21

A exoneração a pedido é aquela feita pelo chefe do setor no qual o servidor está lotado, em decorrência de insatisfações quanto ao desempenho do funcionário.

## Questão 22

O funcionário do setor de expedição, responsável pelo controle dos veículos do serviço público, ao observar que havia automóveis parados no pátio da repartição, resolveu buscar seu filho no colégio, porque o dia estava bastante chuvoso.

Essa atitude constitui um ato de improbidade administrativa, pois é vedado ao servidor utilizar o veículo do serviço público para atendimento de necessidades particulares.



### Questão 23

Haverá comprometimento ético contra o bem comum se o princípio da publicidade de qualquer ato administrativo for omitido, exceto em processos previamente declarados sigilosos.

### QUESTÕES 24 e 25

O Presidente da República, em 29 de janeiro de 1999, sancionou a Lei nº 9.784, que regula o processo administrativo no âmbito da Administração Pública Federal.

Com base nos conhecimentos sobre essa lei, é correto afirmar:

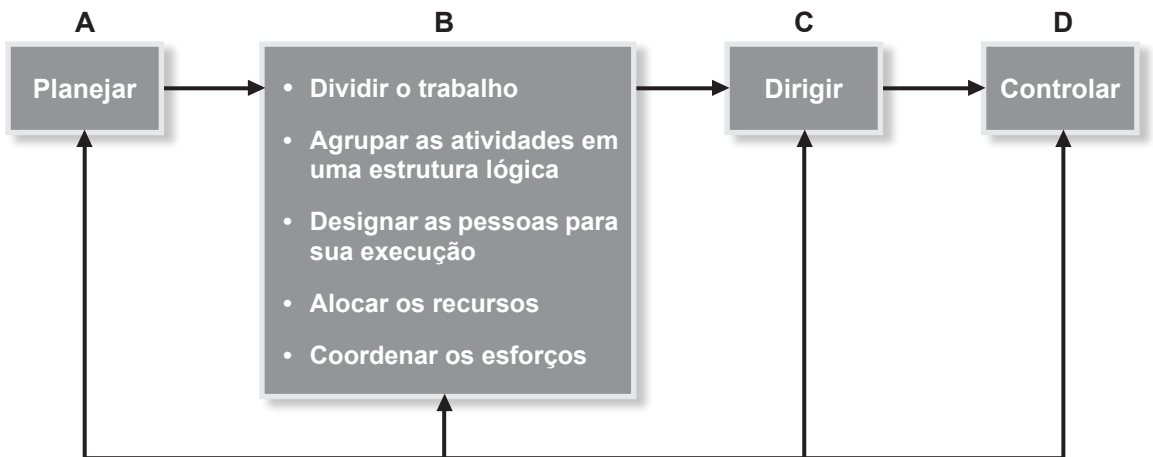
### Questão 24

A Lei nº 9.784 estabelece normas básicas sobre o processo administrativo no âmbito da Administração Direta, ressalvando-se que as instituições que integram a Administração Indireta devem criar seus próprios regulamentos.

### Questão 25

A referida lei pode ser aplicada em processos administrativos, buscando-se a promoção pessoal de agentes ou autoridades, quando estão no exercício de cargo de chefia ou direção.

### QUESTÕES de 26 a 28



### Questão 26

Dentro do processo administrativo, as tarefas relacionadas em B são específicas da função “Organizar”.

### Questão 27

As tarefas de conduzir os esforços para um propósito comum – comunicar, liderar e motivar as pessoas – são peculiares de A.

---

### **Questão 28**

A função **D** abrange a avaliação dos resultados obtidos na execução, em relação ao planejado, apurando-se os desvios e providenciando-se sua correção.

### **Questão 29**

No ato das concorrências para realização de obras, prestação de serviços ou aquisição de bens, o procedimento de abertura dos envelopes dos concorrentes objetiva a verificação da documentação, avaliando a habilitação dos pretendentes, na forma da Lei nº 8.666/99.

### **Questão 30**

Além dos diplomas de Graduação e Pós-Graduação, só é permitido à UFBA expedir certificados de conclusão de cursos de especialização, aperfeiçoamento, atualização e extensão.

## **F**onte da ilustração

### **Questões de 26 a 28**

CHIAVENATO, I. **Introdução à teoria geral da administração**. 2. ed. rev. atual. Rio de Janeiro: Campus, 2000. p. 131.

---

## PROVA DE INFORMÁTICA BÁSICA

### QUESTÕES de 31 a 45

#### INSTRUÇÃO:

Para cada questão, de **31** a **45**, marque na coluna correspondente da Folha de Respostas:

**V**, se a proposição é verdadeira;

**F**, se a proposição é falsa.

A resposta correta vale 1 (um ponto); a resposta errada vale -0,75 (*menos setenta e cinco centésimos*); a ausência de marcação e a marcação dupla ou inadequada valem 0 (zero).

#### Questão 31

A CPU é o componente da arquitetura de um microcomputador convencional que executa as operações contidas nos programas.

#### Questão 32

A memória RAM de um computador é volátil, ou seja, os dados armazenados nela são perdidos quando se desliga o computador.

#### Questão 33

**Boot** é um procedimento que é executado ao se ligar um computador, durante o qual é feita, entre outras atividades, a carga do sistema operacional.

#### Questão 34

O acesso a dados em discos rígidos é tipicamente muito mais rápido do que o acesso a dados em memória RAM de um computador. Por isso, discos rígidos possuem maior capacidade de armazenamento (em *bytes*).

#### Questão 35

Um teclado com conexão USB somente pode ser conectado em uma porta USB específica para teclados, enquanto que um *mouse* USB somente pode ser conectado em uma porta USB específica para *mouses*.

#### Questão 36

No *Microsoft Word*, em sistemas *Windows*, as seguintes combinações de teclas podem ser usadas para realizar as operações: Ctrl+C, para copiar um trecho de texto selecionado; Ctrl+X, para recortar um trecho de texto selecionado; e Ctrl+Z, para desfazer a última ação.

#### Questão 37

Em sistemas *Windows*, é possível digitar comandos do sistema operacional utilizando-se o *prompt de comandos*. Por exemplo, o comando **dir** pode ser utilizado para listar os arquivos e subdiretórios de um determinado diretório armazenado em uma unidade de disco rígido.

---

### Questão 38

O aplicativo para edição de textos *Notepad* (Bloco de Notas), existente em sistemas *Windows*, permite a gravação de textos no formato RTF.

### Questão 39

Em sistemas como o *Windows* é necessário executar o procedimento de remoção segura de um dispositivo USB, antes de desconectá-lo do computador, para que possíveis vírus presentes no computador não infectem arquivos armazenados no dispositivo.

### Questão 40

O *Gerenciador de Tarefas* é um programa disponível em sistemas *Windows*, que permite a um usuário, entre outras funções, forçar o término da execução de um programa.

### Questão 41

O campo BCC (também CC ou CCO) em uma mensagem de correio eletrônico é utilizado para se definir um destinatário que irá receber a mensagem com prioridade.

### Questão 42

Um dos formatos para armazenamento de textos no *Microsoft Word* é o RTF (*Rich Text Format*), criado para a troca de arquivos de texto entre diferentes sistemas.

### Questão 43

Memória cache é o nome que se dá ao conjunto de arquivos temporários armazenados em um computador por um navegador *web*, como o *Mozilla Firefox*, por exemplo.

### Questão 44

O *Mozilla Firefox* permite um modo de navegação chamado de navegação privativa, em que o histórico de navegação, entre outros dados, não é armazenado localmente no computador.

### Questão 45

*Spam* é o nome dado a um tipo específico de vírus de computador que infecta navegadores *web*.

---

## PROVA DE CONHECIMENTOS ESPECÍFICOS TÉCNICO EM EQUIPAMENTO MÉDICO-ODONTOLÓGICO

### QUESTÕES de 46 a 85

#### INSTRUÇÃO:

Para cada questão, de **46** a **85**, marque na coluna correspondente da Folha de Respostas:

**V**, se a proposição é verdadeira;  
**F**, se a proposição é falsa.

A resposta correta vale 1 (um ponto); a resposta errada vale -0,75 (*menos setenta e cinco centésimos*); a ausência de marcação e a marcação dupla ou inadequada valem 0 (zero).

#### Questão 46

Desfibriladores e cardioversores têm como princípio de funcionamento básico o armazenamento de energia elétrica em um capacitor, bem como a manutenção dessa condição de carga, além da descarga no paciente, quando determinado pelo operador.

#### Questão 47

Equipamentos de hemodiálise de um único paciente possuem três principais subsistemas: o dialisador, o sistema de fornecimento de dialisato e o circuito de sangue extracorpóreo.

#### Questão 48

A colocação dos eletrodos não interfere na obtenção do traçado durante a realização do ECG.

#### Questão 49

Para aplicações biomédicas, a radiação ultrassônica é gerada pela aplicação de um sinal elétrico a um dispositivo transdutor com características piezoelétricas, ou seja, que converte a energia elétrica em energia mecânica e vice-versa.

#### Questão 50

Anéis de borracha são vedadores usados em partes estáticas ou dinâmicas de máquinas ou equipamentos.

#### Questão 51

O acelerador linear, o aparelho para raio X, o aparelho de ressonância magnética, a bomba de cobalto e o mamógrafo são equipamentos que utilizam radiações ionizantes.

#### Questão 52

Sobre a ergonomia no consultório dentário, em atendimento a qualquer paciente, o trabalho deve ser realizado obrigatoriamente com um auxiliar.

---

### **Questão 53**

Os óleos lubrificantes minerais, para canetas de alta e baixa rotação utilizadas na prática odontológica, apresentam aditivos que reduzem o atrito das partes móveis.

### **Questão 54**

Nos aparelhos de ultrassom utilizados na prática odontológica, existe um sistema de piezoelectricidade que permite que o inserto realize movimentos precisos e lineares.

### **Questão 55**

O equipamento destinado a facilitar a mudança do estado físico do anestésico de líquido para vapor é conhecido como vaporizador.

### **Questão 56**

A frequência do bisturi elétrico, na modalidade coagulação, atinge valores de 200 a 300 KHz.

### **Questão 57**

Para o correto funcionamento de um cilindro de gás, deve-se instalar válvula redutora de pressão.

### **Questão 58**

Consiste em etapa fundamental de uma instalação elétrica realizar uma estimativa da potência instalada e da alimentação globais.

### **Questão 59**

Segundo a NBR, a linha cheia ( \_\_\_\_\_ ) indica um eletroduto embutido no piso.

### **Questão 60**

A tensão nominal, o tipo de sistema e a corrente a ser suprida são os fatores essenciais a serem considerados no dimensionamento dos condutores elétricos.

### **Questão 61**

A resistência do sistema de aterramento deve ficar abaixo de 10 ohms.

### **Questão 62**

Em um agrupamento de motores elétricos, a capacidade mínima do condutor deve ser igual ou maior que a soma da corrente de carga de todos eles.

### **Questão 63**

A vazão é o volume de fluidos que passa por uma secção num intervalo de tempo, definida como  $Q \text{ (vazão)} = V \text{ (volume)} \cdot T \text{ (tempo)}$ .

### **Questão 64**

No sistema de escoamentos, quando um tubo funciona com uma pressão menor que a atmosférica, pode ser chamado de conduto de sucção.

### **Questão 65**

Motor elétrico converte energia mecânica de rotação em energia elétrica.

---

### Questão 66

Dentre os elementos de um motor elétrico, encontram-se o estator e o rotor.

### Questão 67

No motor síncrono, o rotor é constituído por um ímã permanente ou por bobinas alimentadas através de uma corrente contínua mediante anéis coletores.

### Questão 68

Motores monofásicos normalmente têm potências menores que 5 CV e, no Brasil, normalmente apresentam 6 terminais acessíveis.

### Questão 69

Para inversão do sentido de rotação dos motores monofásicos com bobina de arraste, basta inverter a conexão do circuito auxiliar.


### Questão 70

A proteção curto-circuito em motores é necessária para evitar o risco de incêndio através de dispositivos, como fusíveis, disjuntores e conectores-disjuntores.

### Questão 71

A sobrecarga elétrica é o defeito mais frequente em máquinas e sua proteção é feita por relês térmicos ou eletrônicos contra sobrecorrentes menores de 4 In.

### Questão 72

O símbolo  representa um resistor num sistema elétrico.

### Questão 73

A união de máquinas pode ser móvel, com rebite ou permanente, com arruelas, porcas e parafusos.

### Questão 74

Utiliza-se o travamento como forma de fixação de máquinas em locais onde a peça irá trabalhar sob pressão.

### Questão 75

Mancais são suportes ou guias de apoio de motores.

### Questão 76

Dentre as vantagens do uso de rolamentos em relação a outros sistemas de transmissão, encontram-se menor atrito e aquecimento, baixa exigência de lubrificação e intercambialidade internacional.

### Questão 77

O dispositivo biela-manivela permite a transformação do movimento retilíneo em rotação.

---

### Questão 78

A junta de amianto é utilizada em vedações estáticas de produtos, como óleo, ar e água submetidos a baixas pressões.

### Questão 79

Nós ou pontos que convergem ligações no desenho de um circuito elétrico não precisam estar em destaque, já que essa é uma ocorrência usual em projetos.

### Questão 80



Esse símbolo, num projeto elétrico, indica um diodo de avalanche ou bidirecional.

### Questão 81

Manutenção preventiva (MP) é a intervenção prevista, preparada e programada, antes do provável aparecimento de uma falha.

### Questão 82

As imagens de Ressonância Magnética podem ser intensificadas ou melhoradas com o uso de contrastes especiais, como o gadolínio, que servem também para fornecer informações adicionais sobre os vasos sanguíneos.

### Questão 83

No que se refere à manutenção de aparelhos fotopolimerizadores, é necessária a verificação mensal da potência das lâmpadas, bem como a reposição antes da queima do filamento, caso ocorra alguma alteração em seu funcionamento.

### Questão 84

Para lubrificação prévia da caneta de alta rotação, é recomendável deixar em posição uma broca.

### Questão 85

O principal e mais atual método de esterilização do instrumental médico-odontológico é a radiação ultravioleta.







Pró-Reitoria de Desenvolvimento de Pessoas – PRODEP  
Pró-Reitoria de Graduação – PROGRAD  
Serviço de Seleção, Orientação e Avaliação - SSOA  
Rua Dr. Augusto Viana, 33 – Canela – Cep. 40110-060  
Salvador – Bahia – Brasil – Telefax (71) 3283-7820  
E-mail: [ssoa@ufba.br](mailto:ssoa@ufba.br) – Site: [www.concursos.ufba.br](http://www.concursos.ufba.br)

Direitos autorais reservados. Proibida a reprodução,  
ainda que parcial, sem autorização prévia da  
Universidade Federal da Bahia - UFBA