

COMPANHIA DE MELHORAMENTOS E DESENVOLVIMENTO
URBANO DE GUARAPARI

CODEG

**CONCURSO PÚBLICO
EDITAL N°.001/2013**



Técnico de Segurança Do Trabalho

TARDE



Organizadora:



CARGO: TÉCNICO DE SEGURANÇA DO TRABALHO**Texto****Campeonato do desperdício**

No campeonato do desperdício, somos campeões em várias modalidades. Algumas de que nos orgulhamos e outras de que nem tanto. Meu amigo Adamastor, antropólogo das horas vagas, não me deu as causas primeiras de nossa primazia, mas forneceu-me uma lista em que somos imbatíveis. Claro, das modalidades que “nem tanto”.

Vocês já ouviram falar em lixo rico? Somos os campeões. Nosso lixo faria a fatura de um Haiti. Com o que jogamos fora e que poderia ser aproveitado, poder-se-ia alimentar muito mais do que a população do Haiti. Há pesquisas do assunto e cálculos exatos que “nem tanto”. Somos um país pobre com mania de rico. E nosso lixo é mais rico do que o lixo dos países ricos. Meu falecido pai costumava dizer: rico raspa o queijo com as costas da faca; remediado corta uma casca bem fininha; pobre, contudo, arranca uma lasca imensa do queijo. Meu pai dizia, e tenho a impressão de que meu pai era um homem preconceituoso, mas em termos de manuseio dos alimentos nacionais, arrancamos uma lasca imensa do queijo, ah, sim, arrancamos.

Outra modalidade em que somos campeões absolutos, o desperdício do transporte. Ninguém no mundo consegue, tanto quanto nós, jogar grãos nas estradas. Não viajo pouco e me considero testemunha ocular. A Anhanguera, por exemplo, tem verdadeiras plantações de soja em suas margens. Quando pego uma traseira de caminhão e aquela chuva de grãos me assusta, penso rápido e fico calmo: faz parte da competição e temos de ser campeões.

Na construção civil o desperdício chega a ser escandaloso. Um dia o Adamastor, antropólogo das horas vagas, me veio com uma folha de jornal onde se liam estatísticas indecentes. Com o que se joga fora de material (do mais bruto ao mais sofisticado), o Brasil poderia construir todos os estádios que a FIFA exige e ainda poderia exportar cidades para o mundo.

Antigamente, este que vos atormenta, levava um litro lavado para trocar por outro cheio de leite. Você, caro leitor, talvez nem tenha notícia disso. Mas era assim. Agora, compra-se o leite e sua embalagem internamente aluminizada para jogá-la no lixo. Quanto de nosso petróleo vai para o lixo em forma de sacos plásticos? Vocês já ouviram falar que o petróleo é um recurso inesgotável? Claro que não! Mas sente algum remorso ao jogar os sacos trazidos do supermercado no lixo? Claro que não. Nossa cultura de mosaico tirou-nos a capacidade de ligar os fenômenos entre si.

E o que desperdiçamos de talentos, de esforço educacional? São advogados atendendo em balcão de Banco, engenheiros vendendo cachorro-quente nas avenidas de São Paulo, são gênios que se desperdiçam diariamente como se fossem recursos, eles também, inesgotáveis. No dia em que a gente precisar, vai lá e pega. No dia em que a gente precisar, pode não existir mais. Não importa, vivemos no melhor dos mundos, segundo a opinião do Adamastor, o gigante, plagiando um tal de Dr. Pangloss, que ironizava um tal de Leibniz.

(Disponível em: <http://www.cartacapital.com.br/cultura/campeonato-do-desperdicio/#todos-comentarios>. Acesso em: 18/05/2013.)

01
Assinale a alternativa que apresenta uma CONTRADIÇÃO utilizada pelo autor para fundamentar sua tese.

- A) O desperdício de recursos no Brasil e a pobreza no Haiti.
- B) O desperdício na construção civil e o desperdício de talentos.
- C) As plantações de soja e o desperdício no transporte de grãos.
- D) A carência socioeconômica do Brasil e o desperdício de recursos.
- E) O leite em garrafa reutilizável e o leite em embalagem descartável.

02
“Mas sente algum remorso ao jogar os sacos trazidos do supermercado no lixo?” (5º§). Assinale a alternativa a seguir que NÃO mantém o sentido original do fragmento anterior.

- A) Mas remorso algum sente os sacos trazidos do supermercado, ao jogar no lixo?
- B) Mas sente, ao jogar os sacos trazidos do supermercado no lixo, algum remorso?
- C) Mas, ao jogar no lixo os sacos trazidos do supermercado, algum remorso sente?
- D) Mas algum remorso sente, ao jogar no lixo, os sacos trazidos do supermercado?
- E) Mas, ao jogar os sacos trazidos do supermercado no lixo, sente algum remorso?

03

Analisando a oração *“No campeonato do desperdício, somos campeões em várias modalidades.”* (1º§), infere-se que as passagens a seguir foram utilizadas pelo autor para comprovar essa afirmativa, EXCETO:

- A) *“Com o que jogamos fora e que poderia ser aproveitado, poder-se-ia alimentar muito mais do que a população do Haiti.”* (2º§)
- B) *“Com o que se joga fora de material (...), o Brasil poderia construir todos os estádios que a FIFA exige e ainda poderia exportar cidades para o mundo.”* (4º§)
- C) *“Não importa, vivemos no melhor dos mundos, segundo a opinião do Adamastor, o gigante, plagiando um tal de Dr. Pangloss, que ironizava um tal de Leibniz.”* (6º§)
- D) *“Quando pego uma traseira de caminhão e aquela chuva de grãos me assusta, penso rápido e fico calmo: faz parte da competição e temos de ser campeões.”* (3º§)
- E) *“São advogados atendendo em balcão de Banco, engenheiros vendendo cachorro-quente nas avenidas de São Paulo, são gênios que se desperdiçam diariamente...”* (6º§)

04

A gradação consiste em expor ideias em ordem crescente ou decrescente em um texto. Diante do exposto, assinale a alternativa que apresenta uma gradação.

- A) *“Não viajo pouco e me considero testemunha ocular. A Anhanguera, por exemplo, tem verdadeiras plantações de soja em suas margens.”* (3º§)
- B) *“Na construção civil o desperdício chega a ser escandaloso. Um dia o Adamastor, (...) me veio com uma folha de jornal onde se liam estatísticas indecentes.”* (4º§)
- C) *“Meu amigo Adamastor, antropólogo das horas vagas, não me deu as causas primeiras de nossa primazia, mas forneceu-me uma lista em que somos imbatíveis.”* (1º§)
- D) *“Meu falecido pai costumava dizer: rico raspa o queijo com as costas da faca; remediado corta uma casca bem fininha; pobre, contudo, arranca uma lasca imensa do queijo.”* (2º§)
- E) *“Vocês já ouviram falar em lixo rico? Somos os campeões. Nosso lixo faria a fartura de um Haiti. Com o que jogamos fora e que poderia ser aproveitado, poder-se-ia alimentar muito mais...”* (2º§)

05

O autor lançou mão, ao longo do texto, de alguns questionamentos. Trata-se de um recurso argumentativo conhecido como pergunta retórica, utilizado para

- A) retificar a tese defendida.
- B) promover reflexões no leitor.
- C) aferir os conhecimentos do leitor.
- D) refutar os argumentos apresentados.
- E) possibilitar uma contra-argumentação.

06

A linguagem empregada nos textos nem sempre apresenta um único sentido, aquele veiculado pelo dicionário. Empregadas em alguns contextos, as palavras ganham novos sentidos, carregados de valores afetivos e sociais. Com base nessas informações, assinale a alternativa que apresenta um termo utilizado fora de seu sentido usual.

- A) *“Agora, compra-se o leite e sua embalagem internamente aluminizada para jogá-la no lixo.”* (5º§)
- B) *“Quando pego uma traseira de caminhão e aquela chuva de grãos me assusta, penso rápido...”* (3º§)
- C) *“Mas sente algum remorso ao jogar os sacos trazidos do supermercado no lixo? Claro que não.”* (5º§)
- D) *“Antigamente, este que vos atormenta, levava um litro lavado para trocar por outro cheio de leite.”* (5º§)
- E) *“No dia em que a gente precisar, vai lá e pega. No dia em que a gente precisar, pode não existir mais.”* (6º§)

07

De acordo com o texto, a expressão *“testemunha ocular”* (3º§) significa que alguém

- A) ocultou um fato.
- B) idealizou um fato.
- C) consumou um fato.
- D) presenciou um fato.
- E) questionou um fato.

08

Na passagem “... *este que vos atormenta*,...” (5º§), os pronomes “*este*” e “*vos*”, referem-se, respectivamente, ao

- A) autor e ao leitor. D) autor e ao antropólogo.
 B) leitor e ao autor. E) desperdício e às pessoas.
 C) lixo e às pessoas.

09

Considere as seguintes afirmativas:

- I. Em “*Com o que se joga fora de material (do mais bruto ao mais sofisticado), o Brasil poderia construir todos os estádios...*” (4º§), os parênteses foram utilizados para enfatizar o significado de um termo subsequente.
 II. Participou da constituição morfológica dos adjetivos “*imbatíveis*”, “*indecentes*” e “*inesgotáveis*” um prefixo de valor negativo.
 III. Em “... *pobre, contudo, arranca uma lasca imensa do queijo.*” (2º§), a palavra grifada pode ser substituída, sem alteração de sentido, por “portanto”.
 IV. Na passagem “... *poder-se-ia alimentar muito mais do que a população do Haiti.*” (2º§), ocorre um caso de mesóclise, uma vez que o verbo encontra-se flexionado no futuro do pretérito e o pronome fica intercalado ao verbo.

Estão corretas as afirmativas

- A) I, II, III e IV. D) II e IV, apenas.
 B) I e III, apenas. E) II, III e IV, apenas.
 C) I e IV, apenas.

10

Em “*Nosso lixo faria a fatura de um Haiti.*” (2º§), o emprego da forma verbal “*faria*” indica que a ação

- A) é anterior a uma outra ação realizada no passado.
 B) é uma possibilidade remota, uma ideia hipotética.
 C) teve início no passado e ainda continua no presente.
 D) ocorrerá num futuro próximo ao momento presente.
 E) ocorreu num passado recente com reflexos no futuro.

RACIOCÍNIO LÓGICO

11

A sequência $\sqrt{27}; (2x - 1)\sqrt{27}; 9\sqrt{27}$ forma uma progressão geométrica. O sexto termo desta progressão, tal que $x \in \mathbb{R}$, é

- A) $15\sqrt{27}$. B) $35\sqrt{27}$. C) $243\sqrt{27}$. D) 1200. E) 1205.

12

Ao ligar certo ventilador de teto, sua hélice começa a girar de tal forma que a cada décimo de segundo sua rotação aumenta em duas voltas até atingir a rotação máxima e constante. Sabendo-se que a rotação máxima da hélice é de 40 voltas por segundo, o número de voltas que terá completado em torno de seu eixo ao final de 10 segundos, é

- A) 320. B) 420. C) 540. D) 740. E) 960.

13

O número de arestas dos poliedros convexos A, com 4 vértices e 4 faces; B, com 8 vértices e 6 faces; e C, com 12 vértices e 8 faces, formam, nesta ordem, uma progressão aritmética de razão r. O valor de r, tal que $r \in \mathbb{R}$, é

- A) 2. B) 4. C) 6. D) 8. E) 10.

14

Em um determinado órgão público, 20% dos funcionários possuem nível fundamental, 50% possuem nível médio e 30% possuem nível superior. Sabe-se que neste órgão não existe cargo que exija nível superior e todos os funcionários investidos nos cargos de nível fundamental possuem, de fato, nível fundamental. Então, a probabilidade de se escolher, ao acaso, dentre os cargos de nível médio, um funcionário que tenha nível superior é

- A) 2/5. B) 3/8. C) 5/8. D) 2/10. E) 3/10.

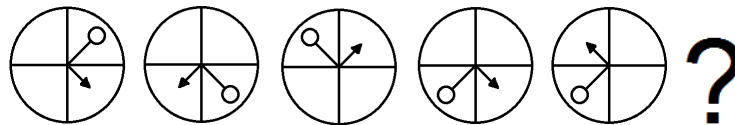
15
 Guarapari está para 731917199, assim como concurso está para 36533916 e prova está para 79641. Logo, aprovado está para
 A) 96853935. B) 17964146. C) 14841687. D) 28175257. E) 25422895.

16
 Seis amigos, dentre eles, Fábio e Ana, disputam um jogo de perguntas e respostas em que a pessoa que fará a pergunta e a que a responderá serão sorteadas mediante a retirada, sem reposição, de fichas numeradas de dentro de uma caixa. Ao participar do jogo, cada jogador recebe um número distinto. Assim, ao iniciar o jogo, a probabilidade de que Fábio seja sorteado para fazer a pergunta e Ana seja sorteada para respondê-la é
 A) 1/5. B) 1/6. C) 1/25. D) 1/30. E) 1/36.

17
 Em certo ano bissexto, o último dia do mês de janeiro foi no sábado, então, o dia da Independência do Brasil (7 de setembro), naquele ano, foi no(a)
 A) sábado. B) terça-feira. C) quarta-feira. D) quinta-feira. E) segunda-feira.

18
 Em certo período de sua vida, uma árvore iniciou um processo no qual após cada vez que o número de folhas triplicasse, caíam 351 folhas da árvore. Sabendo-se que, ao realizar esse processo 3 vezes, suas folhas caíram completamente. O número de folhas que a árvore tinha, ao iniciar esse processo, era
 A) 166. B) 169. C) 171. D) 175. E) 183.

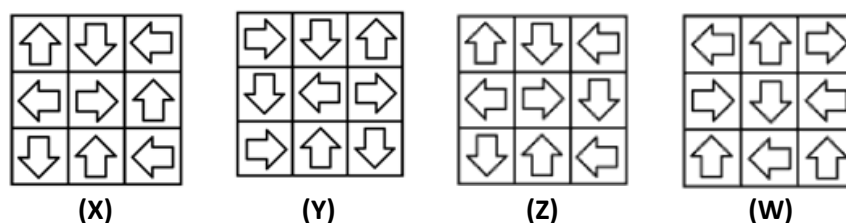
19
 Seja a sequência de figuras a seguir.



A figura que substitui corretamente a interrogação é



20
 Compare as figuras a seguir.



Diante do exposto, é correto afirmar que
 A) $X = W \neq Y = Z$. B) $X = Z \neq Y = W$. C) $X = Y \neq Z = W$. D) $X = Y = Z = W$. E) $X \neq Y \neq Z \neq W$.

CONHECIMENTOS GERAIS

Leia o texto para responder às questões de **21** a **24** que referenciam o tema tratado nesta reportagem.

A candidatura de José Graziano, que exerceu durante quatro anos o posto de diretor da FAO para a América Latina, foi impulsionada pelo governo de Luiz Inácio Lula da Silva e formalizada em janeiro pela atual presidente Dilma Rousseff. “A candidatura ganha destaque diante do êxito do Brasil no domínio agrícola em suas várias vertentes, na produção, na pesquisa e, sobretudo, no combate à fome, na promoção da segurança alimentar e do desenvolvimento com inclusão social”, indicou a nota do Executivo ao anunciar a candidatura.

(Portal UOL – 26/06/2011 – 11h37.)

21

Para qual organização internacional o brasileiro José Graziano da Silva foi eleito diretor-geral em meados de 2011, substituindo o senegalês Jacques Diouf?

- A) Organização Mundial de Saúde.
- B) Organização Mundial do Comércio.
- C) Fundo das Nações Unidas para a Infância.
- D) Organização das Nações Unidas para Agricultura e Alimentação.
- E) Organização das Nações Unidas para a Educação, a Ciência e a Cultura.

22

Qual o significativo programa social, implantado pelo governo Luiz Inácio Lula da Silva, que José Graziano da Silva está vinculado por ter coordenado sua implantação no Brasil?

- A) Fome Zero.
- B) Bolsa Família.
- C) Luz para todos.
- D) Brasil Carinhoso.
- E) Minha Casa, Minha Vida.

23

Integrante das Organizações das Nações Unidas (ONU), a organização presidida pelo brasileiro José Graziano da Silva, lidera os esforços internacionais para

- A) erradicação da fome e da insegurança alimentar no planeta.
- B) implementar a justiça social com a ampliação da oferta de trabalho.
- C) prestar assistência às vítimas de perseguição e violação dos direitos humanos.
- D) promover a conservação do meio ambiente e o uso eficiente de recursos sustentáveis.
- E) proteger os direitos humanos e promover a cidadania global e ampla em todo o planeta.

24

A organização presidida, atualmente, pelo brasileiro José Graziano da Silva, ex-ministro do Governo Luiz Inácio Lula da Silva, tem sua sede na cidade de

- A) Roma (Itália).
- B) Paris (França).
- C) Nova York (EUA).
- D) Bruxelas (Bélgica).
- E) Londres (Inglaterra).

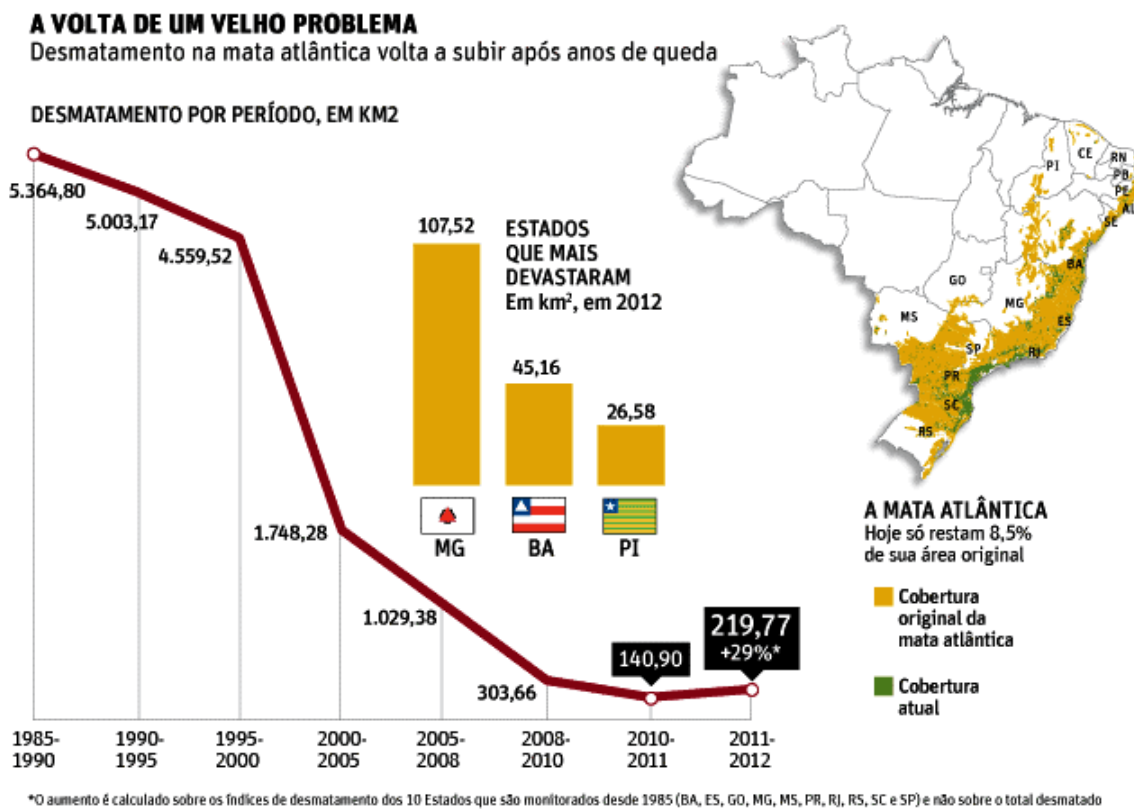
25

“Um momento que marcou história na economia mundial foi o rebaixamento da nota de crédito da potência econômica _____, em 5 de agosto de 2011, que passou de AAA, o chamado ‘triple A’, para AA+, segundo a agência de classificação de risco _____, devido à crescente dívida e do pesado déficit no orçamento do país.” Assinale a alternativa que completa correta e sequencialmente a afirmativa anterior.

- A) Rússia / Fitch Ratings
- B) Grã-Bretanha / Moody’s
- C) Japão / Dominion Bond Rating Service (DBRS)
- D) Espanha / Rating and Investment Information (R&I)
- E) Estados Unidos da América / Standard & Poor’s (S&P)

Leia o texto para responder às questões de 26 a 28 que tratam do tema apresentado nesta reportagem.

O desmatamento da Mata Atlântica, o bioma mais ameaçado do país, aumentou 29% no último ano em relação ao período entre 2010 e 2011 e é o maior desde 2008. A área desmatada foi de 23.548 hectares (235 km²), sendo 21.977 hectares de perda de florestas, 1.554 hectares de supressão de vegetação de restinga e 17 hectares de destruição de mangues. O dado é uma comparação dos dez Estados avaliados em todos os períodos (BA, ES, GO, MG, MS, PR, RJ, RS, SC e SP).



Os dados são do “Atlas dos Remanescentes Florestais da Mata Atlântica”, divulgado nesta terça-feira (4) pela Fundação SOS Mata Atlântica, em parceria com o Inpe (Instituto Nacional de Pesquisas Espaciais).

(Folha online – 04/06/2013 – 12h17.)

26

Enquanto o Espírito Santo e o Mato Grosso do Sul apresentaram redução de 93% e 92% do desmate, respectivamente, o Mapa confirma que continua na liderança do desmatamento, com aumento de 70% em relação ao período anterior, o estado de(o)

- A) São Paulo. B) Pernambuco. C) Minas Gerais. D) Rio de Janeiro. E) Santa Catarina.

27

Vivem na Mata Atlântica mais de 20 mil espécies de plantas, sendo 8 mil endêmicas e mais de 2 mil espécies de animais, entre pássaros, mamíferos, répteis, peixes etc. Sobre este importante bioma brasileiro, é correto afirmar que

- I. é um *Hotspot* mundial, ou seja, uma das áreas mais ricas em biodiversidade e mais ameaçadas do planeta.
- II. foi decretada Reserva da Biosfera pela Unesco e Patrimônio Nacional, na Constituição Federal de 1988.
- III. possui, aproximadamente, 50% de seu território preservado abrangendo 27 estados em todas as regiões.
- IV. teve seu desmatamento acentuado nos séculos seguintes ao descobrimento devido à exploração da borracha.

São afirmativas corretas sobre a população mundial apenas

- A) I e II. B) I e III. C) I e IV. D) II e III. E) III e IV.

28

Embora abranja grande extensão do território brasileiro, a Mata Atlântica possui maior concentração de vegetação na região

- A) Sul. B) Norte. C) Sudeste. D) Nordeste. E) Centro-Oeste.

29

Leia o trecho a seguir.

“A dura realidade das guerras, que apenas no século XX mataram 200 milhões de pessoas, não impede que as indústrias de armamentos busque tecnologias menos agressivas ao meio ambiente.”

(Revista IstoÉ. Edição 2270, 22/05/2013. p. 98.)

Sobre os conflitos bélicos ocorridos no século XX, assinale a afirmativa INCORRETA.

- A) A Guerra do Golfo eclodiu na década de 1990, após as tropas iraquianas invadirem o *Kuwait*.
- B) A Primeira Guerra Mundial terminou com o Tratado de Versalhes impondo uma série de punições aos países derrotados.
- C) A Segunda Guerra Mundial termina com a primeira grande experiência nuclear: a explosão de duas bombas atômicas no Japão.
- D) Ocorrida na década de 1980, a Guerra das Malvinas manteve a supremacia dos ingleses sobre os argentinos no arquipélago sul-americano.
- E) Terminada na década de 1920, a Guerra dos Cem Anos, envolvendo ingleses e franceses, deu início à Segunda Guerra Mundial com a entrada de várias nações no conflito.

30

O novo relatório da Comissão de Investigação da ONU sobre direitos humanos na Síria, divulgado em junho de 2013, afirma que a Organização tem motivos para acreditar no uso de armas químicas em confrontos no país nos últimos meses. Segundo o brasileiro Paulo Sérgio Pinheiro, que preside a Comissão Internacional de Inquérito, há denúncias recebidas sobre o uso de armas químicas pelos dois lados. A maioria se refere ao seu uso pelo governo. Sobre este conflito, é correto afirmar que

- A) teve início a partir da onda de revoltas denominada Primavera Árabe, que ocorreu em vários países de origem árabe.
- B) resulta do extenso conflito que o país trava com Israel pela retomada da Colina de Golã, perdida na Guerra dos Seis Dias.
- C) ocorre devido ao apoio aos EUA, exercido pela Síria, atraindo grupos terroristas para lutar contra o rei *Abdullah al-Hussein*.
- D) tem como causa a acirrada disputa religiosa e política impingida pelos grupos *Hamas* e *Fatah* pelo controle político do país.
- E) é o mais longo conflito interno do Oriente Médio, onde vários grupos étnicos se uniram para destituir o ditador *Hafez al-Assad*.

CONHECIMENTOS ESPECÍFICOS

31

O exame médico demissional, será obrigatoriamente realizado até a data da homologação, desde que o último exame médico ocupacional tenha sido realizado em determinado período estipulado por lei. Assinale-o.

- A) Noventa dias para as empresas de grau de risco 1 e 2, segundo o Quadro I da NR-4.
- B) Centro e trinta e cinco dias para as empresas de grau de risco 3 e 4, segundo o Quadro I da NR-4.
- C) As empresas enquadradas no grau de risco 1 ou 2, segundo o Quadro I da NR-4, poderão ampliar o prazo de dispensa da realização do exame demissional em até mais noventa dias, em decorrência de negociação coletiva, assistida por profissional indicado de comum acordo entre as partes ou por profissional do órgão regional competente em segurança e saúde no trabalho.
- D) As empresas enquadradas no grau de risco 3 ou 4, segundo o Quadro I da NR 4, poderão ampliar o prazo de dispensa da realização do exame demissional em até mais cento e trinta e cinco dias, em decorrência de negociação coletiva assistida por profissional indicado de comum acordo entre as partes ou por profissional do órgão regional competente em segurança e saúde no trabalho.
- E) Por determinação do Delegado Regional do Trabalho, com base em parecer técnico conclusivo da autoridade regional competente em matéria de segurança e saúde do trabalhador, ou em decorrência de negociação coletiva, as empresas poderão ser obrigadas a realizar o exame médico demissional independentemente da época de realização de qualquer outro exame, quando suas condições representarem potencial de risco grave aos trabalhadores.

32

O processo eleitoral da CIPA deverá ser realizado anualmente. São condições para a eleição, EXCETO:

- A) Voto secreto.
- B) Garantia de emprego até as eleições.
- C) Faculdade de eleição por meios eletrônicos.
- D) Realização da eleição no prazo mínimo de quinze dias antes do término do mandato da CIPA.
- E) Guarda, pelo empregador, de todos os documentos relativos à eleição, por um período mínimo de cinco anos.

33

São etapas fundamentais para a elaboração de um bom treinamento sobre prevenção de acidentes de trabalho:

- I. EPI's e EPC's da empresa.
- II. Histórico de acidentes na empresa.
- III. Riscos ocupacionais e seus agentes causadores.
- IV. Conhecimento da profissiografia dos participantes.

Estão corretas apenas as alternativas

- A) I e II.
- B) III e IV.
- C) I e IV.
- D) II e III.
- E) I, II, III e IV.

34

Os procedimentos de entrada em espaços confinados devem ser revistos mediante a ocorrência das seguintes circunstâncias, EXCETO:

- A) Antes da realização de testes e simulações.
- B) Acidente, incidente ou condição não prevista durante a entrada.
- C) Solicitação do SESMT ou da CIPA e identificação de condições de trabalho mais seguras.
- D) Qualquer mudança na atividade desenvolvida ou na configuração do espaço confinado.
- E) Entrada não autorizada num espaço confinado e identificação de riscos não descritos na Permissão de Entrada e Trabalho.

35

A utilização de EPI, no âmbito do programa de prevenção de riscos ambientais, deverá considerar as Normas Legais e Administrativas em vigor. Diante do exposto, analise.

- I. Seleção do EPI, considerando a eficiência necessária para o controle da exposição ao risco, independente do conforto oferecido.
- II. Programa de treinamento dos trabalhadores quanto à sua correta utilização e orientação sobre as limitações de proteção que o EPI oferece.
- III. Estabelecimento de normas ou procedimentos para promover o fornecimento, o uso, a guarda, a higienização, a conservação, a manutenção e a reposição do EPI, visando garantir as condições de proteção originalmente estabelecidas.
- IV. Caracterização das funções ou atividades dos trabalhadores, com a respectiva identificação dos EPI's utilizados para os riscos ambientais.

Estão corretas as alternativas

- A) I, II, III e IV.
- B) I e II, apenas.
- C) II e III, apenas.
- D) I, III e IV, apenas.
- E) II, III e IV, apenas.

36

No que tange à NR 35, o empregador deve realizar treinamentos periódicos e em determinadas situações. São situações preconizadas na norma, EXCETO:

- A) Mudança de empresa.
- B) Treinamentos anualmente.
- C) Evento que indique a necessidade de novo treinamento.
- D) Mudança nos procedimentos, condições ou operações de trabalho.
- E) Retorno de afastamento ao trabalho por período superior a noventa dias.

37

Marque V para as alternativas verdadeiras e F para as falsas. De acordo com a NR 32 e com possibilidade de exposição acidental aos agentes biológicos, deverão constar no Programa de Controle Médico de Saúde Ocupacional (PCMSO)

- () os procedimentos a serem adotados para diagnóstico, acompanhamento e prevenção da soroconversão e das doenças.
- () as medidas para descontaminação do local de trabalho e o tratamento médico de emergência para os trabalhadores.
- () a identificação dos responsáveis pela aplicação das medidas pertinentes e a relação dos estabelecimentos de saúde que podem prestar assistência aos trabalhadores.
- () as formas de remoção para atendimento dos trabalhadores e a relação dos estabelecimentos de assistência à saúde depositários de imunoglobulinas, vacinas, medicamentos necessários, materiais e insumos especiais.

A sequência está correta em

- A) V, V, V, F B) F, F, V, V C) F, V, V, F D) V, F, F, V E) V, V, V, V

38

A NR 35 estabelece os requisitos mínimos e as medidas de proteção para o trabalho em altura, envolvendo o planejamento, a organização e a execução, de forma a garantir a segurança e a saúde dos trabalhadores envolvidos direta ou indiretamente com esta atividade. Cabe aos trabalhadores, EXCETO:

- A) Colaborar com o empregador na implementação das disposições contidas nesta Norma.
- B) Zelar pela sua segurança e saúde e a de outras pessoas que possam ser afetadas por suas ações ou omissões no trabalho.
- C) Cumprir as disposições legais e regulamentares sobre trabalho em altura, inclusive os procedimentos expedidos pelo empregador.
- D) Assegurar a suspensão dos trabalhos em altura, quando verificar situação ou condição de risco não prevista, cuja eliminação ou neutralização imediata não seja possível.
- E) Interromper suas atividades exercendo o direito de recusa, sempre que constatarem evidências de riscos graves e iminentes para sua segurança e saúde ou a de outras pessoas, comunicando imediatamente o fato a seu superior hierárquico, que diligenciará as medidas cabíveis.

39

Acerca da estrutura da Administração Pública Municipal, nos termos da Lei Orgânica, são entidades dotadas de personalidade jurídica própria que compõem a administração indireta, EXCETO:

- A) Autarquias municipais.
- B) Empresas públicas municipais.
- C) Fundações públicas municipais.
- D) Órgãos e Secretarias municipais.
- E) Sociedades de Economia Mista municipais.

40

Nos termos da Lei Orgânica, de acordo com as normas pertinentes à Administração Pública, assinale a alternativa correta.

- A) É vedada a acumulação remunerada de cargos públicos, mesmo quando houver compatibilidade de horários.
- B) A administração pública obedecerá aos princípios legalidade, pessoalidade, moralidade, sigiliosidade e eficiência.
- C) A lei reservará percentual dos cargos e empregos públicos para as pessoas portadoras de deficiências e definirá os critérios de sua admissão.
- D) Os cargos públicos são acessíveis apenas aos brasileiros natos, já os empregos e funções públicas, são acessíveis aos brasileiros natos e naturalizados.
- E) Os cargos em comissão e as funções de confiança serão exercidos, exclusivamente, por servidores ocupantes de cargos da carreira técnica ou profissional, nos casos e condições previstas em lei.

INSTRUÇÕES

1. Material a ser utilizado: caneta esferográfica de tinta azul ou preta. Os objetos restantes devem ser colocados em local indicado pelo fiscal da sala, inclusive aparelho celular desligado e devidamente identificado.
2. Não é permitida, durante a realização das provas, a utilização de máquinas calculadoras e/ou similares, livros, anotações, impressos ou qualquer outro material de consulta, protetor auricular, lápis, borracha, corretivo. Especificamente, não é permitido que o candidato ingresse na sala de provas sem o devido recolhimento, com respectiva identificação, dos seguintes equipamentos: *bip*, telefone celular, agenda eletrônica, *notebook*, *palmtop*, *ipad*, *ipod*, *tablet*, *smartphones*, receptor, gravador, calculadora, máquina fotográfica, controle de alarme de carro, relógio digital etc.
3. Durante a prova, o candidato não deve levantar-se, comunicar-se com outros candidatos e nem fumar.
4. A duração da prova é de 03 (três) horas, já incluindo o tempo destinado à entrega do Caderno de Provas e à identificação – que será feita no decorrer da prova – e ao preenchimento do Cartão de Respostas (Gabarito).
5. Somente em caso de urgência pedir ao fiscal para ir ao sanitário, devendo no percurso permanecer absolutamente calado, podendo antes e depois da entrada sofrer revista através de detector de metais. Ao sair da sala no término da prova, o candidato não poderá utilizar o sanitário. Caso ocorra uma emergência, o fiscal deverá ser comunicado.
6. O Caderno de Provas consta de 40 (quarenta) questões de múltipla escolha. Leia-o atentamente.
7. **As questões das provas objetivas são do tipo múltipla escolha, com 05 (cinco) alternativas (A a E) e uma única resposta correta.**
8. Ao receber o material de realização das provas, o candidato deverá conferir atentamente se o Caderno de Provas corresponde ao cargo a que está concorrendo, bem como se os dados constantes no Cartão de Respostas (Gabarito) que lhe foi fornecido estão corretos. Caso os dados estejam incorretos, ou o material esteja incompleto ou tenha qualquer imperfeição, o candidato deverá informar tal ocorrência ao fiscal.
9. Os fiscais não estão autorizados a emitir opinião e prestar esclarecimentos sobre o conteúdo das provas. Cabe única e exclusivamente ao candidato interpretar e decidir.
10. O candidato poderá retirar-se do local de provas somente a partir dos 90 (noventa) minutos após o início de sua realização, contudo não poderá levar consigo o Caderno de Provas, sendo permitida essa conduta apenas no decurso dos últimos 30 (trinta) minutos anteriores ao horário previsto para o seu término.
11. Os 3 (três) últimos candidatos de cada sala somente poderão sair juntos. Caso o candidato insista em sair do local de aplicação das provas, deverá assinar um termo desistindo do Concurso Público e, caso se negue, deverá ser lavrado Termo de Ocorrência, testemunhado pelos 2 (dois) outros candidatos, pelo fiscal da sala e pelo coordenador da unidade.

RESULTADOS E RECURSOS

- As provas aplicadas, assim como os gabaritos preliminares das provas objetivas serão divulgados na *Internet*, no site www.consulplan.net, a partir das **16h00min do dia útil subsequente ao da realização da prova escrita**.
- O candidato que desejar interpor recursos contra os gabaritos oficiais preliminares das provas objetivas disporá de **02 (dois) dias úteis**, a contar do dia subsequente à divulgação, em requerimento próprio disponibilizado no *link* correlato ao Concurso Público no site www.consulplan.net.
- A interposição de recursos poderá ser feita **somente via Internet, através do Sistema Eletrônico de Interposição de Recursos**, com acesso pelo candidato ao fornecer dados referentes à sua inscrição apenas no prazo recursal, à **CONSULPLAN**, conforme disposições contidas no site www.consulplan.net, no *link* correspondente ao Concurso Público.