



GOVERNO DO ESTADO DE SÃO PAULO
INSTITUTO DE MEDICINA SOCIAL E DE CRIMINOLOGIA DE SÃO PAULO – IMESC

CONCURSO PÚBLICO

002. PROVA OBJETIVA

TÉCNICO DE ENFERMAGEM

- ◆ Você recebeu sua folha de respostas e este caderno contendo 50 questões objetivas.
- ◆ Confira seu nome e número de inscrição impressos na capa deste caderno e na folha de respostas.
- ◆ Quando for permitido abrir o caderno, verifique se está completo ou se apresenta imperfeições. Caso haja algum problema, informe ao fiscal da sala.
- ◆ Leia cuidadosamente todas as questões e escolha a resposta que você considera correta.
- ◆ Marque, na folha de respostas, com caneta de tinta azul ou preta, a letra correspondente à alternativa que você escolheu.
- ◆ A duração da prova é de 3 horas, já incluído o tempo para o preenchimento da folha de respostas.
- ◆ Só será permitida a saída definitiva da sala e do prédio após transcorridos 75% do tempo de duração da prova.
- ◆ Ao sair, você entregará ao fiscal a folha de respostas e este caderno, podendo levar apenas o rascunho de gabarito, localizado em sua carteira, para futura conferência.
- ◆ Até que você saia do prédio, todas as proibições e orientações continuam válidas.

AGUARDE A ORDEM DO FISCAL PARA ABRIR ESTE CADERNO DE QUESTÕES.

CONHECIMENTOS GERAIS

LÍNGUA PORTUGUESA

01. Leia a charge.



(www.chargeonline.com.br)

Na charge, está explícita a crítica a quem

- (A) fuma em ambiente doméstico.
- (B) cuida da saúde alheia.
- (C) descuida da limpeza pública.
- (D) administra a limpeza da cidade.
- (E) restringe o uso do cigarro.

Leia o texto para responder às questões de números 02 a 10.

Herança maldita

SÃO PAULO – O roteiro é manjado. O protesto, seja lá contra o que for, começa pacífico até que um grupo mascarado, como se atendesse a um comando único, toma a frente da marcha e começa a quebrar tudo o que surge pela frente.

“Chegaram os black blocs”, costuma-se ouvir entre os manifestantes, num tom que mistura medo e um certo glamour da violência.

O “black bloc”, na verdade, não é um movimento, e sim uma estratégia de protesto anarquista. Seus adeptos cobrem o rosto e se vestem de preto para dificultar a identificação e a fim de parecer uma massa única, criando uma aura revolucionária.

Esse método apareceu nos protestos antiglobalização no fim da década de 1990. Símbolos capitalistas são os alvos preferidos, mas a versão tupiniquim tem especial atração por semáforos, radares, cabines da PM e outros equipamentos públicos.

Por aqui, seus adeptos deram as caras nos primeiros atos pela redução da tarifa de ônibus, em São Paulo. De lá para cá, entretanto, muita coisa mudou. Os “black blocs”, especialmente paulistas e cariocas, crescem em progressão geométrica, estão sempre preparados para a guerra e já organizam as suas próprias manifestações.

Em “assembleia” assistida pela *Folha*, discutiram táticas para escapar da polícia, entre elas hospedar sites em servidores da Rússia ou de Taiwan, “impossíveis de derrubar”.

As “vozes das ruas” produziram conquistas inegáveis. A principal delas foi dar à classe política a sensação de estar sendo constantemente vigiada. Nesse balanço, porém, pode-se dizer que os “black blocs” são a herança maldita dos protestos.

(Alan Gripp, Herança maldita. *Folha de S.Paulo*, 01.08.2013. Adaptado)

02. Analisando os argumentos do autor, é correto afirmar que ele

- (A) promove o glamour da violência dos “black blocs”.
- (B) considera ilegítima a ação dos “black blocs”.
- (C) reconhece o papel dos “black blocs” para a democracia.
- (D) vê nos “black blocs” as verdadeiras vozes das ruas.
- (E) julga impossível combater as ações dos “black blocs”.

03. O autor mostra que a ação dos “black blocs” nas manifestações públicas

- (A) enfraquece a identidade do grupo.
- (B) carece de planejamento prévio.
- (C) acontece de forma inesperada.
- (D) ocorre de forma pacífica.
- (E) é um expediente já conhecido.

04. De acordo com o texto, o que diferencia os “black blocs” dos demais participantes de um protesto é

- (A) o medo da anarquia social.
- (B) o zelo pelo patrimônio público.
- (C) a simplicidade na sua comunicação.
- (D) a violência própria aos seus atos.
- (E) a promoção do sistema capitalista.

05. Sem que haja prejuízo de sentido ao texto, na passagem – ... *mas a versão tupiniquim tem especial atração por...* –, o termo em destaque pode ser substituído por

- (A) brasileira.
- (B) indígena.
- (C) simplificada.
- (D) internacional.
- (E) social.

06. O protesto começa pacífico até que um grupo mascarado, como se atendesse ____ uma ordem única, sai ____ frente na marcha e começa a quebrar tudo que aparece ____ frente.

As lacunas da frase devem ser preenchidas, correta e respectivamente, com:

- (A) à ... à ... a
- (B) a ... a ... à
- (C) à ... a ... à
- (D) a ... à ... à
- (E) à ... à ... à

07. Na frase – *A principal delas foi dar à classe política a sensação de estar sendo constantemente vigiada.* –, o advérbio em destaque expressa circunstância de

- (A) intensidade e, nesse contexto, é antônimo de *eventualmente*.
- (B) intensidade e, nesse contexto, é sinônimo de *plenamente*.
- (C) tempo e, nesse contexto, é antônimo de *raramente*.
- (D) tempo e, nesse contexto, é sinônimo de *obviamente*.
- (E) modo e, nesse contexto, é sinônimo de *diuturnamente*.

08. Quanto à colocação pronominal, está correta a alternativa:

- (A) Conheceram-se os primeiros “black blocs” no Brasil nos atos pela redução da tarifa de ônibus, em São Paulo.
- (B) Se ouve comumente entre os manifestantes: “Chegaram os ‘black blocs’”.
- (C) Os protestos com a presença dos “black blocs”, no Brasil, têm espalhado-se por diversas cidades.
- (D) Os “black blocs” já organizam-se para realizar as suas próprias manifestações.
- (E) Na versão tupiniquim, não tem-se nos símbolos capitalistas os alvos preferidos dos “black blocs”.

09. Nas passagens:

- ... **como** se atendesse a um comando único... (1.º parágrafo);
- ... e se vestem de preto **para** dificultar a identificação... (3.º parágrafo);
- De lá para cá, **entretanto**, muita coisa mudou. (5.º parágrafo);

as expressões em destaque estabelecem entre os enunciados, respectivamente, relações de

- (A) conformidade, causa e oposição.
- (B) conformidade, causa e conclusão.
- (C) causa, finalidade e explicação.
- (D) comparação, consequência e conclusão.
- (E) comparação, finalidade e oposição.

10. Assinale a alternativa correta quanto à pontuação.

- (A) Os “black blocs”, deram as caras por aqui nos primeiros atos pela redução da tarifa de ônibus, em São Paulo.
- (B) Os “black blocs” deram as caras, por aqui, nos primeiros atos pela redução da tarifa de ônibus, em São Paulo.
- (C) Os “black blocs” por aqui, deram as caras nos primeiros atos pela redução da tarifa de ônibus, em São Paulo.
- (D) Os “black blocs”, por aqui deram as caras nos primeiros atos pela redução da tarifa de ônibus, em São Paulo.
- (E) Os “black blocs” deram as caras, por aqui nos primeiros atos pela redução da tarifa de ônibus, em São Paulo.

11. Em determinada sala com um total de 24 pessoas presentes, 6 estavam em pé e as demais sentadas. Logo, é correto afirmar que a razão entre o número de pessoas sentadas e o número total de pessoas corresponde a

- (A) 60%.
- (B) 65%.
- (C) 70%.
- (D) 75%.
- (E) 80%.

12. Em um grupo de 10 pessoas, duas têm 20 anos, três têm 25 anos, quatro têm 30 anos e uma pessoa tem 40 anos. A média de idade desse grupo de pessoas, em anos, é

- (A) 27,5.
- (B) 28,75.
- (C) 57,5.
- (D) 58,75.
- (E) 137,5.

13. Uma pessoa dispunha de um valor, em reais, para comprar algumas unidades de um determinado produto. Se ela comprasse quatro unidades desse produto, ficaria devendo R\$ 11,20. Assim, ela resolveu comprar três unidades do produto e recebeu de troco R\$ 16,60. O valor de que essa pessoa dispunha, antes da compra, era

- (A) R\$ 250,00.
- (B) R\$ 200,00.
- (C) R\$ 150,00.
- (D) R\$ 100,00.
- (E) R\$ 50,00.

14. Considere que uma pessoa trabalhe de segunda a sexta, todos os dias, e que de dois em dois dias ela tenha que arquivar documentos do tipo A, que de três em três dias ela tenha que arquivar documentos do tipo B, e que de quatro em quatro dias ela tenha que arquivar documentos do tipo C. Se em uma mesma segunda-feira ela arquivou documentos dos tipos A, B e C e obedeceu rigorosamente, a partir desse dia, os períodos para o arquivamento desses documentos, então a próxima vez em que ela arquivou, no mesmo dia, documentos desses três tipos foi em uma

- (A) segunda-feira.
- (B) terça-feira.
- (C) quarta-feira.
- (D) quinta-feira.
- (E) sexta-feira.

15. Nove recipientes idênticos comportam um total de 28 litros de água. Para comportar 16 litros de água, será necessário, desses recipientes, o número mínimo de

- (A) 2.
- (B) 3.
- (C) 4.
- (D) 5.
- (E) 6.

16. Uma máquina do tipo X fabrica 12 unidades de um determinado produto em uma hora de funcionamento ininterrupto. Três máquinas idênticas, do tipo X, nas mesmas condições de funcionamento, fabricarão 21 unidades desse mesmo produto em

- (A) 15 minutos.
- (B) 20 minutos.
- (C) 25 minutos.
- (D) 30 minutos.
- (E) 35 minutos.

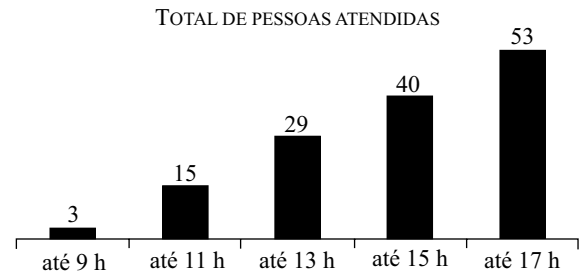
17. Um vendedor tem liberdade para vender um determinado produto ao preço que lhe convier, desde que cumpra uma exigência da empresa em que trabalha, que é a de vender, em cada dia, no mínimo, 3 unidades desse produto ao preço médio de R\$ 80,00 cada um. Se em um dia ele conseguir vender uma unidade desse produto a R\$ 100,00 e outra unidade a R\$ 70,00, para cumprir com a exigência, ele deverá vender a terceira unidade ao preço mínimo de

- (A) R\$ 50,00.
- (B) R\$ 60,00.
- (C) R\$ 70,00.
- (D) R\$ 80,00.
- (E) R\$ 90,00.

18. Pedro e João montaram uma sociedade com um capital total de R\$ 15.800,00. Sabendo-se que desse capital total a parte de João corresponde a um terço da parte de Pedro, pode-se afirmar que a parte correspondente a Pedro é de

- (A) R\$ 3.950,00.
- (B) R\$ 5.266,67.
- (C) R\$ 7.900,00.
- (D) R\$ 10.533,33.
- (E) R\$ 11.850,00.

19. O gráfico a seguir apresenta informações sobre o número total de pessoas atendidas em determinado dia, em um setor de uma repartição pública que atende ao público das 7 horas às 17 horas.



Com base nas informações contidas no gráfico, pode-se afirmar corretamente que nesse dia

- (A) o período em que foram atendidas menos pessoas foi o das 13 h até às 15 h.
- (B) o período em que foram atendidas mais pessoas foi o das 15 h até às 17 h.
- (C) o número total de pessoas atendidas foi 140.
- (D) até às 13 h foram atendidas mais da metade do total de pessoas atendidas.
- (E) antes das 9 h o número de funcionários atendendo era necessariamente pequeno.

20. Uma caixa d'água em formato de cubo, com medidas internas de 2 metros, comporta um volume máximo de água correspondente, em litros, a

- (A) 10 000.
- (B) 8 000.
- (C) 6 000.
- (D) 4 000.
- (E) 2 000.

21. Polícia investiga rota de carro que levou Amarildo

Policiais da Delegacia de Homicídios estão comparando as imagens do sistema de câmeras instalado na Rocinha e outros pontos do Rio com a rota do GPS do carro policial que transportou Amarildo de Souza.

(Folha de S.Paulo, 23.08.13)

O Amarildo de que fala o texto é

- (A) um ajudante de pedreiro morador da Rocinha que foi abordado pela Polícia Militar e desapareceu em seguida, sem que se saiba ao certo as circunstâncias em que ocorreu o seu desaparecimento.
- (B) uma criança moradora do Complexo do Alemão que desapareceu no contexto da visita do papa ao Brasil, em meio aos milhões de pessoas que tomaram as ruas do Rio de Janeiro.
- (C) um jovem carioca que teria sido baleado por matadores profissionais depois de denunciar os assassinatos de um casal de policiais, em um crime que também provocou a morte de duas senhoras e do filho do casal.
- (D) um importante traficante da Favela da Maré, que escapou do cerco feito pela Polícia Militar à comunidade em que vivia depois da instalação da UPP.
- (E) um jovem trabalhador que foi assassinado à luz do dia em pleno Morro dos Macacos por homens mascarados, possivelmente membros da tropa de elite das forças de segurança pública disfarçados.

22. Após mal-estar diplomático, Kerry marca visita ao Brasil

(UOL.com.br, 07.08.13. Adaptado)

A visita do secretário de Estado americano, John Kerry, ao País está relacionada

- (A) às duras críticas feitas pelos EUA à postura independente do Brasil na política externa pouco tempo antes da viagem.
- (B) ao profundo desconforto criado no Brasil pelas denúncias da espionagem que vem sendo realizada pelo governo americano.
- (C) à cobrança pública que os EUA fizeram ao Brasil devido ao polêmico ingresso da Venezuela no Mercosul.
- (D) ao impacto negativo que a fala agressiva do governo dos EUA, sobre Cuba e o bloqueio americano, teve no Brasil.
- (E) às discordâncias na relação entre os EUA e o Brasil devido à proposta de criação de uma área de livre comércio das Américas.

23. Stephen Fry pede boicote a Olimpíada russa

O ator e apresentador britânico Stephen Fry pediu um boicote à realização da Olimpíada de Inverno de 2014, que ocorre em Sochi, na Rússia.

(Folha de S.Paulo, 23.08.13)

Algumas figuras públicas têm defendido o boicote à Olimpíada de Sochi, na Rússia, devido ao fato de que o país

- (A) declarou apoio ao governo sírio, mesmo depois da possível utilização de armas químicas no conflito contra os separatistas.
- (B) incorporou à legislação a discriminação de negros e de imigrantes oriundos de outros países, como o sul da Europa.
- (C) começou a emitir enormes quantidades de gases que contribuem para o aquecimento global nas proximidades da região da Sibéria.
- (D) aprovou uma lei considerada homofóbica, e os homossexuais estão sendo vítimas de violência e perseguição sistemáticas.
- (E) tem impedido seguidas vezes os estudantes de se manifestarem nas ruas e de ocuparem as praças e parques públicos.

24. Dilma sanciona sem vetos lei que trata do atendimento às vítimas de violência sexual no SUS

(Globo.com, 01.08.13)

Os principais opositores da lei sancionada foram

- (A) os médicos, que teriam perdido espaço no atendimento às mulheres que sofreram violência sexual.
- (B) os educadores, que preferiam que o governo investisse em aulas e em ações de cuidado sexual e prevenção.
- (C) alguns setores da Igreja Católica e grupos evangélicos, que acusaram a lei de “legalizar o aborto”.
- (D) os psicólogos, que reconheceram na lei uma tentativa de reforçar o controle do Estado sobre as mulheres.
- (E) algumas organizações de direitos humanos, que defendiam um período de transição para a adaptação da rede pública.

25. *Exército do Egito depõe Mohammed Morsi e anuncia suspensão da Constituição*

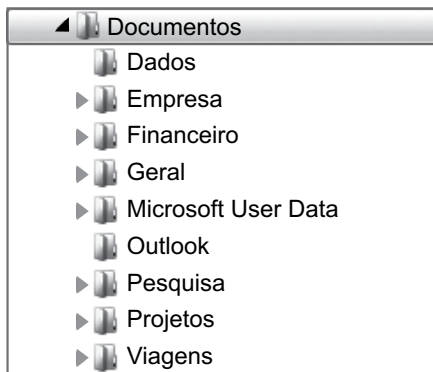
(Último Segundo, 03.07.13. Adaptado)

Uma das explicações para a queda de Mohammed Morsi do poder no Egito é a

- (A) hegemonia que a Irmandade Muçulmana e outros grupos islâmicos detinham, deixando de lado a pluralidade política e religiosa que tem força no país.
- (B) oposição veemente que o governo egípcio fazia às pretensões palestinas de constituir um Estado independente, provocando sérios atritos no mundo árabe.
- (C) sua tentativa de nacionalizar o Canal de Suez, expulsando as empresas estrangeiras e cobrando mais taxas e impostos para o tráfego de navios pelo canal.
- (D) sua política bastante conservadora e restritiva em relação ao turismo, considerado por muitos a principal atividade econômica do país.
- (E) sua ambição de tornar-se um líder regional nacionalista e anti-imperialista, o que provocou reações críticas de outros presidentes e líderes políticos da região.

NOÇÕES DE INFORMÁTICA

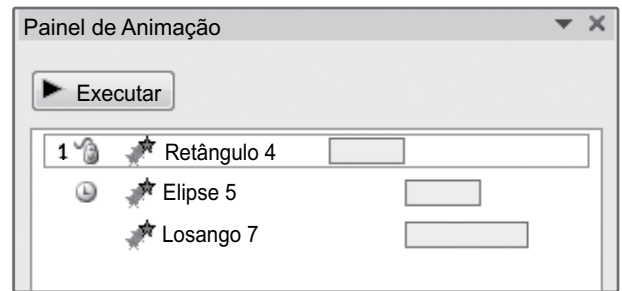
26. Observe a estrutura de arquivos extraída do Windows Explorer, em sua configuração padrão.



Assinale a alternativa que contém o nome de uma pasta que não possui subpastas.

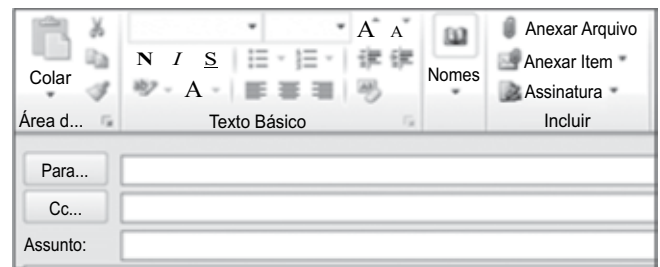
- (A) Documentos.
 - (B) Viagens.
 - (C) Outlook.
 - (D) Pesquisa.
 - (E) Projetos.
27. Qual opção de quebra de seção do MS-Word 2010, em sua configuração padrão, permite inserir uma quebra de seção e iniciar a nova seção na mesma página?
- (A) Próxima Página.
 - (B) Página Par.
 - (C) Página Ímpar.
 - (D) Quebra Automática de Texto.
 - (E) Contínuo.

28. Considere o painel de animação mostrado na figura a seguir, extraído do MS-PowerPoint 2010, em sua configuração padrão.



De acordo com a configuração apresentada, quando a animação associada ao "Losango 7" iniciará a execução?

- (A) Ao se clicar na apresentação.
 - (B) Ao se clicar duas vezes na apresentação.
 - (C) Com a animação anterior.
 - (D) Após a animação anterior.
 - (E) Ao se clicar no objeto.
29. Observe a figura a seguir, extraída do Microsoft Outlook 2010, em sua configuração padrão.



A opção que permite escolher um arquivo para ser enviado junto com a mensagem é:

- (A) Para...
 - (B) Anexar Arquivo
 - (C) Cc...
 - (D) Assunto:
 - (E) Nomes
30. Para imprimir uma página web no Internet Explorer 8, em sua configuração padrão, o usuário deve utilizar as teclas de atalho:
- (A) Ctrl+B
 - (B) Ctrl+W
 - (C) Ctrl+I
 - (D) Ctrl+P
 - (E) Ctrl+N

CONHECIMENTOS ESPECÍFICOS

31. Após a admissão do cliente na unidade de saúde, o atendimento realizado pelo enfermeiro incluiu a Sistematização da Assistência de Enfermagem (SAE). De acordo com a Resolução COFEN n.º 358/2009, entre as ações no âmbito da Lei do Exercício Profissional, na SAE, cabe ao técnico de enfermagem
- (A) efetuar o diagnóstico de enfermagem.
 - (B) executar as prescrições de enfermagem sob a supervisão do enfermeiro.
 - (C) avaliar os planos assistenciais de saúde.
 - (D) liderar a execução do processo de enfermagem.
 - (E) prescrever medicamentos previamente estabelecidos em programas de saúde.
32. Ao atender um paciente adulto febril, o técnico de enfermagem verifica que o médico prescreveu dipirona 2 mL por via oral, e o local dispõe de um frasco de dipirona gotas com 10 mL a 10%. A quantidade prescrita pelo médico equivale a
- (A) 10 gotas do frasco de dipirona a 10%.
 - (B) 20 gotas do frasco de dipirona a 10%.
 - (C) 30 gotas do frasco de dipirona a 10%.
 - (D) 40 gotas do frasco de dipirona a 10%.
 - (E) 50 gotas do frasco de dipirona a 10%.
33. Na administração de injeções por via intramuscular em pacientes adultos idosos, com pouca massa muscular, para minimizar a dor, a irritação local da pele e impedir a saída do medicamento, de acordo com o Conselho Regional de Enfermagem (COREN-SP), a técnica atualmente recomendada é chamada de
- (A) *Hochstetter*.
 - (B) modelo geométrico.
 - (C) método em Z (*Z-track*).
 - (D) hipodermólise.
 - (E) ventroglútea.
34. Durante a perícia, um homem idoso encontra-se em pé na fila de espera; refere cefaleia, hipertensão e cateterismo cardíaco realizado há 15 dias, cujo acesso foi em braço esquerdo. Dentre os procedimentos adequados para aferição da pressão arterial do cliente, o técnico de enfermagem deve
- (A) manter o cliente sentado ou deitado, com o braço direito à altura do coração e com a palma da mão voltada para cima.
 - (B) colocar o manguito do esfigmomanômetro sobre a fossa antecubital do braço esquerdo do cliente, observando a perfusão periférica.
 - (C) verificar a pressão arterial em braço esquerdo do cliente, mantendo-o abaixo da altura do coração, com a palma da mão voltada para baixo.
 - (D) posicionar o cliente deitado, com as pernas cruzadas, braço esquerdo apoiado na maca, com a palma da mão voltada para cima.
 - (E) verificar a largura do manguito do esfigmomanômetro, que deve corresponder à metade do tamanho do antebraço do cliente.
35. Para coletar amostra de sangue de uma paciente adulta que se encontra no período de janela imunológica para hepatite C, assertivamente o técnico de enfermagem aplica os princípios de biossegurança e utiliza equipamentos de proteção individual, em conformidade com as precauções
- (A) respiratórias.
 - (B) de contato.
 - (C) por gotículas.
 - (D) por aerossóis.
 - (E) padrão.
36. Mulher de 45 anos, vítima de abuso sexual, é encaminhada à perícia médica e, para o exame em região perineal, recomenda-se colocar a paciente na posição
- (A) Trendelenburg.
 - (B) semi-Fowler.
 - (C) litotômica.
 - (D) dorsal.
 - (E) Fowler.

37. Dentre as ações educativas ao usuário do serviço, quanto aos cuidados para a vida diária do indivíduo colostomizado, o técnico de enfermagem deve orientar
- (A) o uso de soluções como tintura de benjoim na pele ao redor do estoma, para facilitar a adesão da bolsa de colostomia.
 - (B) a troca diária da bolsa de colostomia, evitando infecção fúngica (candidíase) usualmente causada por umidade persistente na pele periestomal.
 - (C) a proibição de prática esportiva, por ocasionar o fechamento do estoma devido ao movimento excessivo do músculo abdominal.
 - (D) a proteção da bolsa de colostomia com saco plástico ao tomar banho, garantindo sua durabilidade e a integridade da pele ao redor do estoma.
 - (E) o uso de aspirina para controle de odor da ostomia, evitando a proliferação de bactérias anaeróbicas.
38. Na orientação à mãe doadora de leite materno, para garantia da qualidade do leite que será distribuído, as recomendações incluem
- (A) manter o frasco com o leite no congelador ou freezer, no prazo máximo de 15 dias.
 - (B) higienizar as mamas para a retirada do leite com solução alcoólica a 70%.
 - (C) limpar o frasco de plástico para armazenamento do leite com solução à base de glutaraldeído.
 - (D) armazenar o frasco com o leite na geladeira, mantendo a temperatura acima de 8 °C.
 - (E) esterilizar o frasco de vidro para armazenamento do leite, com hipoclorito de sódio a 5%.
39. De acordo com o Ministério da Saúde, após o atendimento de um cliente que apresentava a gripe *Influenza* H1N1, a limpeza e a desinfecção de superfícies devem ser feitas com
- (A) remoção de sujidades das pias e mesas, com solução de lactato de amônio.
 - (B) uso de detergente neutro seguido da aplicação de álcool a 70%.
 - (C) tratamento físico local de matéria orgânica visível e retirada com papel/tecido absorvente.
 - (D) pulverização da superfície com solução à base de hipoclorito de sódio a 0,02%.
 - (E) aspersão de pias e superfícies dos armários com glutaraldeído a 5%.
40. Na sala de espera, aguardando atendimento para avaliação, um indivíduo adulto de 55 anos apresenta rebaixamento do nível de consciência. Ao presenciar o ocorrido, o técnico de enfermagem associa as diretrizes da AHA/2010, iniciando as manobras para identificação da parada cardiorrespiratória e reanimação cardiopulmonar no suporte básico de vida, ao
- (A) remover o idoso para o pronto-socorro; na ambulância, preparar o material de intubação; puncionar o acesso venoso e, com uso da bolsa-válvula-máscara, fazer 02 ventilações de resgate.
 - (B) abrir as vias aéreas e efetuar 02 ventilações; chamar por ajuda; usar o desfibrilador; realizar 100 compressões torácicas e verificar o pulso em até 20 segundos.
 - (C) chamar por ajuda, verificar responsividade; abrir as vias aéreas e efetuar 02 ventilações; verificar o pulso; usar o desfibrilador e encaminhar ao hospital.
 - (D) verificar responsividade e respiração do idoso; chamar por ajuda; verificar pulso; efetuar 30 compressões torácicas; abrir as vias aéreas e fazer 02 ventilações.
 - (E) aplicar 15 compressões torácicas para 02 ventilações; puncionar o acesso venoso; fazer uso do desfibrilador e preparar o material de intubação.
41. Após o atendimento da parada cardiorrespiratória, o técnico de enfermagem precisa repor o que foi utilizado. E, dentre os medicamentos utilizados nesse procedimento, será preciso repor
- (A) benzodiazepina.
 - (B) adrenalina.
 - (C) hidroclorotiazida.
 - (D) fluoreto de sódio.
 - (E) atropina.
42. O técnico de enfermagem participa da equipe que aplicará uma pesquisa com seres humanos. De acordo com a Resolução 196/96, o princípio ético da autonomia é assegurado aos indivíduos e ou grupos participantes por meio do processo de
- (A) declaração de destinação e/ou uso do material coletado.
 - (B) descrição dos resultados a serem alcançados.
 - (C) identificação da fonte e dos materiais utilizados.
 - (D) explicitação quanto à propriedade das informações geradas.
 - (E) consentimento livre e esclarecido.

43. De acordo com o Ministério da Saúde, no atendimento a um adolescente de 13 anos de idade, com fratura de membro superior direito ocorrida em situação de trabalho, os profissionais de saúde devem
- (A) notificar a ocorrência ao Sistema Nacional de Notificação (SINAN) do Ministério da Saúde e ao Conselho Tutelar.
 - (B) verificar a legalidade da situação de trabalho, pois todos os adolescentes dessa faixa etária devem ter registro em carteira de trabalho.
 - (C) atentar para que o afastamento do trabalho não prejudique as necessidades socioeconômicas da família do adolescente.
 - (D) verificar o local de ocorrência do acidente, pois se a ocorrência se der durante o retorno para casa não se considera como acidente de trabalho.
 - (E) orientar a família no sentido de que os adolescentes dessa faixa etária devem trabalhar somente na condição de jovem aprendiz.
44. Após a perícia em uma gestante, as orientações quanto à proteção e prevenção de doenças transmissíveis, de acordo com a Secretaria de Estado da Saúde do Estado de São Paulo, incluem a indicação das seguintes vacinas:
- (A) dupla adulto, febre amarela e influenza.
 - (B) sarampo-caxumba-rubéola, hepatite B e febre amarela.
 - (C) dupla adulto, hepatite B e influenza.
 - (D) BCG, hepatite B e influenza.
 - (E) meningocócica C, hepatite B e dupla adulto.
45. No que se refere à contenção mecânica, de acordo com o Conselho Federal de Enfermagem (COFEN), é permitido(a)
- (A) o emprego de contenção mecânica com o propósito de disciplinar os pacientes.
 - (B) quando for o único meio disponível para prevenir dano imediato ou iminente ao paciente ou aos demais.
 - (C) a aplicação aos pacientes com histórico de agressividade, assim que chegarem ao serviço de saúde.
 - (D) a todo paciente sedado, para prevenir a ocorrência de eventos adversos.
 - (E) que a supervisão do procedimento seja privativa do técnico de enfermagem.
46. De acordo com Associação Paulista de Epidemiologia e Controle de Infecção Relacionada à Assistência à Saúde (APECIH), no processo de esterilização de materiais, verifica-se compatibilidade entre a embalagem e o método em
- (A) caixas metálicas perfuradas utilizadas em vapor sob pressão.
 - (B) papel crepado utilizado em calor seco.
 - (C) vidro refratário utilizado em radiação ionizante.
 - (D) tecido de algodão utilizado em óxido de etileno.
 - (E) papel alumínio utilizado em plasma de peróxido de hidrogênio.
47. O técnico de enfermagem se depara com indivíduo caído próximo a uma escada móvel em ambiente extra-hospitalar, e o indivíduo apresenta-se consciente, referindo dor em região cervical e formigamento em membros superiores e inferiores. Na chegada do serviço móvel de urgência, com a suspeita de lesão medular, o posicionamento adequado no transporte do indivíduo requer
- (A) instalar o colar cervical e sentá-lo na cadeira de rodas, encaminhando-o até a ambulância de suporte avançado.
 - (B) utilizar lençol ou toalha para transferência até a maca de transporte, mantendo-o em decúbito elevado.
 - (C) ficar de frente para esse indivíduo, e orientá-lo a colocar as mãos sobre o seu ombro para que ele possa ficar em posição ereta.
 - (D) auxiliar a equipe de resgate, acomodando-o na maca de transporte, sentando-o lentamente.
 - (E) colocar o colar cervical, efetuar mobilização em bloco e manter em posição dorsal, na prancha rígida.
48. Na realização de exame pericial em adolescente, verificou-se a existência de doença sexualmente transmissível. De acordo com a Resolução COFEN 311/2007, com relação ao sigilo profissional, entre as responsabilidades e deveres da equipe de enfermagem consta:
- (A) franquear o acesso a informações e documentos para pessoas que não estão diretamente envolvidas na prestação da assistência.
 - (B) divulgar aos pais do envolvido, independentemente de seu consentimento, de forma que possa ser autorizado o tratamento.
 - (C) em atividade multiprofissional, o fato sigiloso poderá ser revelado quando necessário à prestação da assistência.
 - (D) o profissional de enfermagem deverá divulgar às autoridades judiciais e sociedade civil o segredo ora omitido.
 - (E) divulgar ou fazer referência a casos, situações ou fatos de forma que os envolvidos possam ser identificados.

49. Algumas regras são importantes para a elaboração das anotações de enfermagem a serem registradas pelo técnico de enfermagem, dentre as quais:
- (A) conter dados legíveis, completos, claros, concisos, objetivos, pontuais e cronológicos.
 - (B) utilizar termos que expressem conotação de valor, como, por exemplo, bem, mal, muito, pouco.
 - (C) corrigir as rasuras com corretivos, deixar linhas em branco, mantendo espaços entre os parágrafos.
 - (D) incluir dados sobre exame físico do paciente e resultados de exames laboratoriais.
 - (E) indicar a data, hora e local ao final de cada registro.
50. Durante o período da amamentação, é possível evitar uma nova gravidez com a combinação entre a prolactina e progesterona com uso de
- (A) anéis medidores.
 - (B) filoquinona.
 - (C) dispositivo intrauterino.
 - (D) anticoncepcional injetável quinzenal.
 - (E) minipílula.

