



Março/2013

DEFENSORIA PÚBLICA DO ESTADO DO RIO GRANDE DO SUL

Concurso Público para provimento de cargos de **Técnico-Apoio Especializado- Transporte**

Nome do Candidato

Caderno de Prova 'U21', Tipo 001

Nº de Inscrição

MODELO

Nº do Caderno

MODELO1

Nº do Documento

0000000000000000

ASSINATURA DO CANDIDATO

00001-0001-0001

PROVA

Objetiva Redação

INSTRUÇÕES

- Verifique se este caderno:
 - corresponde a sua opção de cargo.
 - contém 60 questões, numeradas de 1 a 60.
 - contém a proposta e o espaço para rascunho da Redação.Caso contrário, reclame ao fiscal da sala um outro caderno.
Não serão aceitas reclamações posteriores.
- Para cada questão existe apenas UMA resposta certa.
- Você deve ler cuidadosamente cada uma das questões e escolher a resposta certa.
- Essa resposta deve ser marcada na FOLHA DE RESPOSTAS que você recebeu.

VOCÊ DEVE

- Procurar, na FOLHA DE RESPOSTAS, o número da questão que você está respondendo.
- Verificar no caderno de prova qual a letra (A,B,C,D,E) da resposta que você escolheu.
- Marcar essa letra na FOLHA DE RESPOSTAS, conforme o exemplo: (A) ● (C) (D) (E)
- Ler o que se pede na Prova de Redação e utilizar, se necessário, o espaço para rascunho.

ATENÇÃO

- Marque as respostas primeiro a lápis e depois cubra com caneta esferográfica de material transparente e tinta preta.
- Marque apenas uma letra para cada questão, mais de uma letra assinalada implicará anulação dessa questão.
- Responda a todas as questões.
- Não será permitida qualquer espécie de consulta, nem a utilização de livros, códigos, manuais, impressos ou quaisquer anotações.
- Em hipótese alguma o rascunho da Prova de Redação será corrigido.
- A duração da prova é de 4 horas e 30 minutos para responder a todas as questões objetivas, preencher a Folha de Respostas, fazer a Prova de Redação e transcrever na Folha de Respostas correspondente.
- Ao terminar a prova, entregue ao fiscal da sala todo o material recebido.
- Proibida a divulgação ou impressão parcial ou total da presente prova. Direitos Reservados.



PROVA OBJETIVA

Língua Portuguesa

Atenção: As questões de números 1 a 10 referem-se ao texto abaixo.

Segundo o escritor Victor Hugo (1802-85), a história da Europa acompanha o Reno. O rio marca a fronteira entre a Floresta Negra, na Alemanha, e a Alsácia, a menor região da França. De 1871 a 1945, a Alsácia mudou de nacionalidade cinco vezes, o que contribuiu fortemente para a formação do dialeto alsaciano, uma mistura de alemão com francês. As raízes da área, porém, remontam ao período dos romanos.

Estrasburgo, a bela capital da Alsácia, fica às margens do rio Reno. Resultado de duas culturas, Estrasburgo é ao mesmo tempo romana e pagã, francesa e católica, alemã e protestante. Sua primeira prova de existência data de 74 d.C.; posteriormente, a cidade recebeu o nome de Strateburgum, a "cidade dos caminhos". O lugar funcionava como uma espécie de posto avançado do exército romano, encarregado de evitar que os Teutões da Germânia invadissem a Gália (França). A influência germânica na cidade era tão forte que, já no começo do século V, a língua alemã predominava ali. Preocupado com a crescente adoção da religião protestante trazida pelos alemães, o rei da França – Luis XIV, o Rei Sol – resolveu intervir em 1661, determinando que a cidade passasse a ser totalmente francesa. Os vizinhos alemães sentiram-se incomodados, motivo para a guerra de 1671.

Em que pese a forte resistência dos franceses, a influência germânica impregnou a região. Entre si, os alsacianos adotam um dialeto de origem alemã. Além disso, é comum ouvir um alsaciano dizer que está indo para a França quando vai a Paris. Outra curiosidade diz respeito aos nomes dos alsacianos. A maioria adotou o nome próprio de origem francesa, mas possui sobrenome alemão.

Por tudo isso, a Alsácia possui hoje uma forte identidade cultural, às vezes francesa, às vezes alemã, o que torna a visita a essa belíssima região, arduamente reconstruída depois da destruição da II Guerra, uma experiência extremamente rica e curiosa.

(Adaptado de <http://gazetaweb.globo.com/gazetadealagoas>, com acréscimo de trecho de Dorling Kindersley. Estradas da França. Publifolha, 2011, p.30)

1. No texto,
- (A) expõem-se, primordialmente, características culturais, históricas e geográficas da região francesa da Alsácia.
 - (B) levantam-se hipóteses plausíveis sobre as razões que levaram os alemães a disputar a Segunda Guerra Mundial.
 - (C) apresentam-se motivos que levaram o escritor Victor Hugo a retratar o rio que corre ao longo da Alsácia.
 - (D) demonstra-se que há sérias disputas internas entre o centro financeiro, Paris, e a região menos desenvolvida da França, a Alsácia.
 - (E) discute-se o atual conflito do povo alsaciano, cuja forte identidade cultural germânica os impede de se integrarem totalmente à França.

2. ...Estrasburgo é ao mesmo tempo romana e pagã, francesa e católica, alemã e protestante.

Na frase acima, as vírgulas separam

- (A) três categorias distintas de adjetivos, enumerados aleatoriamente.
- (B) segmentos que se opõem e se restringem, enfatizando os conflitos religiosos de Estrasburgo.
- (C) pares de características que acentuam a diversidade de Estrasburgo.
- (D) características de Estrasburgo, enumeradas de acordo com sua relevância.
- (E) elementos organizados de modo hierárquico, do inferior ao superior.

3. Em que pese a forte resistência dos franceses, a influência germânica impregnou a região.

O segmento grifado na frase acima pode ser corretamente substituído por:

- (A) Embora.
- (B) Não obstante.
- (C) Todavia.
- (D) Enquanto.
- (E) Ainda que.

4. Substituindo-se o segmento grifado pelo que está entre parênteses, o verbo que poderá manter-se corretamente no **singular** está em:

- (A) ...a língua alemã predominava ali. (as línguas de origem germânica)
- (B) ...a Alsácia mudou de nacionalidade cinco vezes... (os habitantes da Alsácia)
- (C) Outra curiosidade diz respeito aos nomes dos alsacianos. (Outras curiosidades)
- (D) O lugar funcionava como uma espécie de posto avançado do exército romano... (Os vilarejos da região)
- (E) A maioria adotou o nome próprio de origem francesa... (A maior parte dos habitantes da Alsácia)

5. O rio marca a fronteira entre a Floresta Negra, na Alemanha, e a Alsácia, a menor região da França.

Transpondo-se a frase acima para a voz **passiva**, a forma verbal resultante será:

- (A) marcaram-se.
- (B) foi marcada.
- (C) eram marcadas.
- (D) são marcadas.
- (E) é marcada.

6. O lugar funcionava como uma espécie de posto avançado do exército romano ...

O verbo empregado nos mesmos tempo e modo que o grifado acima está em:

- (A) As raízes da área, porém, remontam ao período dos romanos.
- (B) A influência germânica na cidade era tão forte...
- (C) ...o que contribuiu fortemente para a formação do dialeto alsaciano...
- (D) Entre si, os alsacianos adotam um dialeto de origem alemã.
- (E) ...que os Teutões da Germânia invadissem a Gália (França).




<p>7. ... a história da Europa <u>acompanha</u> o Reno.</p> <p>O verbo que exige o mesmo tipo de complemento que o grifado acima está empregado em:</p> <p>(A) <i>As raízes da área [...] remontam ao período dos romanos.</i></p> <p>(B) <i>De 1871 a 1945, a Alsácia mudou de nacionalidade cinco vezes...</i></p> <p>(C) <i>Estrasburgo, a bela capital da Alsácia, fica às margens do rio Reno.</i></p> <p>(D) <i>...que os Teutões da Germânia invadissem a Gália (França).</i></p> <p>(E) <i>O lugar funcionava como uma espécie de posto avançado do exército romano ...</i></p>	<p>11. Vencida na guerra de 1871 contra o Império Alemão, a França <u>cedeu a Alsácia ao Império Alemão, retomando a Alsácia</u> pouco depois, ao final da I Guerra Mundial. A Alsácia permaneceu francesa até 1940, quando as forças do III Reich <u>reconquistaram a Alsácia</u>.</p> <p>Os segmentos grifados podem ser corretamente substituídos, na ordem dada, por:</p> <p>(A) <i>cedeu-lhe a Alsácia – a retomando – reconquistaram-lhe</i></p> <p>(B) <i>cedeu-no a Alsácia – retomando-lhe – reconquistaram-lhe</i></p> <p>(C) <i>o cedeu a Alsácia – retomando-na – a reconquistaram</i></p> <p>(D) <i>cedeu-lhe a Alsácia – retomando-a – reconquistaram-na</i></p> <p>(E) <i>cedeu-o a Alsácia – retomando-na – reconquistaram-a</i></p>
<p>8. <i>As raízes da área, porém, remontam ao período dos romanos.</i></p> <p>Respeitando-se a correção, a clareza e, em linhas gerais, o sentido original, a frase acima pode ser reescrita do seguinte modo:</p> <p>(A) <i>Contudo, as origens da região remontam à época dos romanos.</i></p> <p>(B) <i>Contudo, para chegar as origens da região recua-se a época dos romanos.</i></p> <p>(C) <i>A região, cuja origem, remonta contudo, até à época dos romanos.</i></p> <p>(D) <i>As origens da região, contudo, encontra-se na época dos romanos.</i></p> <p>(E) <i>Remonta-se, a época dos romanos, contudo, para chegar às origens da região.</i></p>	<p><u>Atenção:</u> As questões de números 12 a 14 referem-se ao texto abaixo.</p> <p><i>E melhor se poderia dizer dos poetas o que disse dos ventos Machado de Assis: "A dispersão não <u>lhes</u> tira a unidade, nem a inquietude a constância".</i></p> <p>(Mário Quintana. Caderno H. Disponível em: http://www.releituras.com/mquintana_caderno.asp)</p> <p>12. O texto se desenvolve com base em uma</p> <p>(A) <i>censura a Machado de Assis.</i></p> <p>(B) <i>comparação entre poetas e ventos.</i></p> <p>(C) <i>relação de temporalidade entre passado e presente.</i></p> <p>(D) <i>relação de causa e consequência.</i></p> <p>(E) <i>associação entre inquietude e constância.</i></p>
<p>9. <i>Preocupado com a crescente adoção da religião protestante trazida pelos alemães, o rei da França – Luis XIV, o Rei Sol – resolveu intervir em 1861 ...</i></p> <p>Os travessões acima isolam, no contexto,</p> <p>(A) <i>uma informação adicional.</i></p> <p>(B) <i>um resumo do que foi dito.</i></p> <p>(C) <i>uma ressalva.</i></p> <p>(D) <i>uma citação.</i></p> <p>(E) <i>um comentário enfático, que relativiza o que foi dito.</i></p>	<p>13. O pronome grifado refere-se, no contexto, a</p> <p>(A) <i>Machado de Assis.</i></p> <p>(B) <i>inquietude e constância.</i></p> <p>(C) <i>dispersão.</i></p> <p>(D) <i>ventos.</i></p> <p>(E) <i>unidade.</i></p>
<p>10. <i>O lugar funcionava como uma espécie de posto avançado do exército romano, <u>encarregado de evitar</u> que os Teutões da Germânia invadissem a Gália (França).</i></p> <p>Atente para as seguintes afirmações sobre a frase transcrita acima.</p> <p>I. Os parênteses isolam um esclarecimento relevante no contexto.</p> <p>II. Sem prejuízo para a correção, o segmento <i>os Teutões da Germânia</i> pode ser isolado por vírgulas.</p> <p>III. Respeitando-se a correção, o segmento grifado pode ser reescrito do seguinte modo: cuja função era a de evitar.</p> <p>Está correto o que se afirma APENAS em</p> <p>(A) <i>I.</i></p> <p>(B) <i>I e II.</i></p> <p>(C) <i>I e III.</i></p> <p>(D) <i>III.</i></p> <p>(E) <i>II e III.</i></p>	<p>14. Considerando-se o contexto, o termo <i>dispersão</i> pode adquirir o sentido de</p> <p>(A) <i>desaprovação.</i></p> <p>(B) <i>resignação.</i></p> <p>(C) <i>contemplação.</i></p> <p>(D) <i>submissão.</i></p> <p>(E) <i>desatenção.</i></p> <p>15. Um dos grandes poetas brasileiros, o escritor gaúcho Mário Quintana, na década de 1940, uma indicação para a Academia Brasileira de Letras, que, no entanto, nunca se, Sobre isso ele, com seu famigerado sarcasmo, o <i>Poeminha do Contra</i>.</p> <p>Preenchem corretamente as lacunas do texto acima, na ordem dada:</p> <p>(A) <i>recebia - concretizaria - compusera</i></p> <p>(B) <i>recebe - concretiza - compunha</i></p> <p>(C) <i>recebeu - concretizou - compôs</i></p> <p>(D) <i>recebeu - concretizava - compora</i></p> <p>(E) <i>recebera - concretizara - componha</i></p>

**Raciocínio Lógico-Matemático**

16. Em uma montadora, são pintados, a partir do início de um turno de produção, 68 carros a cada hora, de acordo com a seguinte sequência de cores: os 33 primeiros são pintados de prata, os 20 seguintes de preto, os próximos 8 de branco, os 5 seguintes de azul e os 2 últimos de vermelho. A cada hora de funcionamento, essa sequência se repete. Dessa forma, o 530º carro pintado em um turno de produção terá a cor
- (A) prata.
(B) preta.
(C) branca.
(D) azul.
(E) vermelha.

17. Considere um quadriculado 6×6 .



Na figura, foi destacado um quadrado cujos lados têm a seguinte característica: estão totalmente contidos em linhas que formam o quadriculado. O número total de quadrados cujos lados possuem essa mesma característica é igual a

- (A) 36.
(B) 41.
(C) 62.
(D) 77.
(E) 91.
18. Ao ser questionado por seus alunos sobre a justiça da avaliação final de seu curso, um professor fez a seguinte afirmação: "Não é verdade que todos os alunos que estudaram foram reprovados". Considerando verdadeira a afirmação do professor, pode-se concluir que, necessariamente,
- (A) pelo menos um aluno que estudou não foi reprovado.
(B) todos os alunos que estudaram não foram reprovados.
(C) pelo menos um aluno que não estudou foi reprovado.
(D) todos os alunos que não estudaram foram reprovados.
(E) somente alunos que não estudaram foram reprovados.
19. Para produzir 60% de uma encomenda, os oito funcionários de uma empresa gastaram um total de 63 horas. Como dois ficaram doentes, os outros seis funcionários terão de produzir sozinhos os 40% restantes da encomenda. Considerando que todos eles trabalham no mesmo ritmo e executam as mesmas tarefas, pode-se estimar que o restante da encomenda será produzido em
- (A) 42 horas.
(B) 56 horas.
(C) 60 horas.
(D) 70 horas.
(E) 84 horas.



20. Na 1ª fase de um campeonato, o percentual médio de acerto de um jogador de basquete nos lances livres foi de 80%. Até o final do terceiro quarto da primeira partida da 2ª fase, esse jogador acertou 10 dos 14 lances livres que executou, resultando em aproximadamente 71% de acerto. No último quarto, porém, o jogador se recuperou de modo que, ao final da partida, seu percentual de acerto de lances livres foi igual ao da 1ª fase. Sabendo que ele não errou lances livres no último quarto, pode-se concluir que, nesse período do jogo, ele executou e acertou exatamente
- (A) 6 lances livres.
 - (B) 7 lances livres.
 - (C) 5 lances livres.
 - (D) 9 lances livres.
 - (E) 8 lances livres.

Legislação Institucional

21. A função estabelecida constitucionalmente à Defensoria Pública consiste em
- (A) defender a ordem jurídica, o regime democrático e os interesses sociais e individuais indisponíveis.
 - (B) desempenhar as atividades de consultoria e assessoramento jurídico do Poder Executivo.
 - (C) promover a orientação jurídica e a defesa, em todos os graus, dos necessitados.
 - (D) fiscalizar as atividades desempenhadas pelo Poder Executivo e a implantação de políticas públicas essenciais.
 - (E) elaborar projetos de lei voltados à melhoria das condições de vida da população carente e à erradicação da pobreza.
-
22. O Defensor Público-Geral do Estado exerce a chefia institucional e
- (A) é nomeado pelo Governador do Estado dentre os cinco Defensores Públicos mais votados em eleição realizada através do voto secreto, plurinominal e facultativo dos membros da instituição.
 - (B) deve integrar a classe especial da carreira de Defensor Público e ter mais de 35 anos de idade.
 - (C) exerce, isoladamente, o poder normativo no âmbito da Defensoria Pública do Estado.
 - (D) preside o Conselho Superior, sem direito a voto.
 - (E) profere decisões nas sindicâncias e processos administrativos disciplinares promovidos pela Corregedoria-Geral da Defensoria Pública.
-
23. O Ouvidor-Geral da Defensoria Pública do Estado do Rio Grande do Sul
- (A) é escolhido pelo Conselho Superior da Defensoria Pública dentre Defensores Públicos de classe especial da carreira, para mandato de dois anos, permitida uma recondução.
 - (B) exerce cargo em regime de dedicação parcial e mediante mandato de dois anos, vedada a recondução.
 - (C) possui entre suas atribuições a propositura aos órgãos de administração superior da Defensoria Pública de medidas para o aperfeiçoamento dos serviços prestados.
 - (D) não pode ser integrante de carreira jurídica de Estado e de Governo e é nomeado pelo Governador do Estado para mandato de dois anos, vedada a recondução.
 - (E) integra, como membro nato, o Conselho Superior da Defensoria Pública, com direito a voz e a voto.



Atenção: As questões de números 24 a 28 referem-se à Lei Complementar Federal nº 80/94.

24. A Defensoria Pública do Estado, ao abrir concurso público e prover os cargos de suas carreiras e dos serviços auxiliares, está agindo em observância
- (A) aos princípios institucionais da unidade e indivisibilidade.
 - (B) à sua autonomia funcional e administrativa.
 - (C) à sua competência legislativa.
 - (D) aos princípios institucionais da unidade e inamovibilidade.
 - (E) ao princípio da máxima efetividade dos direitos fundamentais.

25. A assistência jurídica integral e gratuita prestada pela Defensoria Pública do Estado NÃO abrange
- (A) a atuação na esfera administrativa do Estado, em defesa dos interesses do assistido.
 - (B) a atuação, como regra, em matérias de competência da Justiça Federal.
 - (C) a tutela de interesses difusos e coletivos.
 - (D) a utilização de mecanismos alternativos de solução de conflitos, como a conciliação e a mediação.
 - (E) o atendimento interdisciplinar.

26. Em relação aos órgãos que integram a Defensoria Pública do Estado, é correto afirmar que
- (A) a Corregedoria-Geral e a Ouvidoria-Geral são órgãos auxiliares da Defensoria Pública do Estado.
 - (B) o Conselho Superior e os Núcleos Especializados da Defensoria Pública são órgãos de administração superior.
 - (C) o Corregedor-Geral, enquanto órgão da administração superior, substitui o Defensor Público-Geral nas suas férias, ausências e impedimentos.
 - (D) a Defensoria Pública-Geral e a Ouvidoria-Geral são órgãos de administração superior.
 - (E) a Subdefensoria Pública-Geral e a Corregedoria-Geral são órgãos de administração superior.

27. Em relação à Corregedoria-Geral da Defensoria Pública do Estado, é correto afirmar que
- (A) o Corregedor-Geral é nomeado pelo Governador do Estado, em razão da independência necessária para desempenhar suas funções de fiscalização e orientação.
 - (B) possui competência para decidir acerca da exoneração de membro ou servidor da Defensoria Pública do Estado.
 - (C) tem a atribuição de rever as decisões dos Defensores Públicos em caso de recusa de atuação, podendo designar outro Defensor para prosseguir no atendimento do assistido.
 - (D) possui a atribuição de baixar normas visando à regularidade e ao aperfeiçoamento das atividades da Defensoria Pública, resguardada a independência funcional de seus membros.
 - (E) deve encaminhar, à Ouvidoria-Geral da Defensoria Pública, cópia das representações recebidas contra membros e servidores da instituição.

28. A atuação da Defensoria Pública do Estado, por seus Núcleos ou Núcleos Especializados, deve dar prioridade
- (A) às cidades mais distantes da Capital e que não sejam sede de comarca do Poder Judiciário.
 - (B) à atuação em demandas coletivas.
 - (C) à atuação na esfera administrativa.
 - (D) às cidades com maior número de habitantes.
 - (E) às regiões com maiores índices de exclusão social e adensamento populacional.

29. O estágio probatório do servidor da Defensoria Pública do Estado do Rio Grande do Sul, nos termos da Lei Complementar Estadual nº 13.821/11, tem como característica
- (A) a duração pelo período de dois anos, durante o qual o servidor será submetido à avaliação psicológica e psiquiátrica.
 - (B) a não suspensão da contagem do período de estágio durante as licenças e afastamentos não previstos constitucionalmente.
 - (C) a submissão do servidor à avaliação especial de desempenho, como condição obrigatória para aquisição da estabilidade.
 - (D) a duração pelo período de três anos e a exigência, como condição para aquisição da estabilidade, apenas do não cometimento de falta funcional grave.
 - (E) a sua previsão tanto para os cargos de provimento efetivo, quanto para os cargos comissionados.

30. De acordo com a Lei Complementar Estadual nº 13.484/10, que regulamenta a composição do Conselho Superior da Defensoria Pública do Estado do Rio Grande do Sul, sua formação contempla
- (A) quatro membros natos, entre os quais o Defensor Público-Geral e o Corregedor-Geral.
 - (B) como membros eleitos, o Corregedor-Geral e o Ouvidor-Geral.
 - (C) a igualdade entre o número de membros natos e eleitos.
 - (D) quatro membros eleitos e cinco membros natos.
 - (E) seis membros natos, entre os quais o Defensor Público-Geral e o Corregedor-Geral.

**CONHECIMENTOS ESPECÍFICOS**

31. Quando veículos, transitando por fluxos que se cruzem, se aproximarem de local não sinalizado, terá preferência de passagem, no caso
- I. de apenas um fluxo ser proveniente de rodovia, aquele que estiver circulando por ela.
 - II. de rotatória, aquele que estiver circulando por ela.
 - III. dos fluxos serem provenientes de rodovias, o que vier pela esquerda do condutor.
- É correto o que consta em
- (A) I, apenas.
 - (B) I e II, apenas.
 - (C) III, apenas.
 - (D) II e III, apenas.
 - (E) I, II e III.
-
32. O condutor que queira executar uma manobra deverá certificar-se de que pode executá-la sem perigo para os demais usuários da via que o seguem, precedem ou vão cruzar com ele, considerando a sua
- (A) velocidade e o clima.
 - (B) posição e a carga do veículo.
 - (C) posição, sua direção e sua velocidade.
 - (D) direção e a carga do veículo.
 - (E) velocidade, sua direção e o tamanho do veículo.
-
33. O condutor de veículo só poderá fazer uso de buzina, desde que em toque breve, nas seguintes situações:
- I. para fazer as advertências necessárias a fim de evitar acidentes.
 - II. dentro das áreas urbanas, quando for conveniente advertir a um condutor que se tem o propósito de ultrapassá-lo.
 - III. fora das áreas urbanas, quando for conveniente advertir a um condutor que se tem o propósito de ultrapassá-lo.
- É correto o que consta APENAS em
- (A) I.
 - (B) II.
 - (C) I e II.
 - (D) III.
 - (E) I e III.
-
34. Para expedição do primeiro Certificado de Registro de Veículo, o órgão executivo de trânsito consultará o cadastro do RENAVAL e exigirá do proprietário:
- I. Nota fiscal fornecida pelo fabricante ou revendedor, ou documento equivalente expedido por autoridade competente.
 - II. Documento fornecido pelo Ministério das Relações Exteriores, quando se tratar de veículo importado por membro de missões diplomáticas, de repartições consulares de carreira, de representações de organismos internacionais e de seus integrantes.
 - III. Comprovante de quitação de débitos relativos a tributos, encargos e multas de trânsito vinculados ao veículo, independentemente da responsabilidade pelas infrações cometidas.
- É correto o que consta em
- (A) I, apenas.
 - (B) I e II, apenas.
 - (C) II, apenas.
 - (D) III, apenas.
 - (E) I, II e III.



35. No caso de transferência de propriedade, o proprietário antigo deverá encaminhar ao órgão executivo de trânsito do Estado uma cópia autenticada do comprovante de transferência de propriedade, devidamente assinada e datada, sob pena de ter que se responsabilizar solidariamente pelas penalidades impostas e suas reincidências até a data da comunicação, no prazo, em dias, igual a
- (A) 45.
 - (B) 10.
 - (C) 15.
 - (D) 30.
 - (E) 60.

36. Considere as sinalizações abaixo.



R-10



R-6c

Trata-se de placas de sinalização vertical de

- (A) regulamentação.
 - (B) identificação.
 - (C) advertência.
 - (D) indicação.
 - (E) serviços auxiliares.
37. Considere as placas de sinalização vertical abaixo.




A-42a



A-22

As placas correspondem, respectivamente, aos seguintes sinais de advertência:

- (A) Pista dividida; Passagem de nível com barreira.
 - (B) Fim de pista dupla; Depressão.
 - (C) Mão dupla adiante; Estreitamento de pista ao centro.
 - (D) Início de pista dupla; Ponte estreita.
 - (E) Sentido duplo; Pista irregular.
38. Considere o gesto do Agente da Autoridade de Trânsito, abaixo.



Esse gesto corresponde à ordem de

- (A) seguir.
- (B) diminuição de velocidade.
- (C) parada obrigatória para todos os veículos. Quando executadas em interseções, os veículos que já se encontrem nela não são obrigados a parar.
- (D) prosseguir com baixa velocidade.
- (E) parada para todos os veículos que venham de direções que cortem ortogonalmente a direção indicada pelo braço estendido, qualquer que seja o sentido de seu deslocamento.



39. Quando um agente da Autoridade de Trânsito emite dois silvos breves de apito em conjunto com seus gestos, significa:
- (A) Atenção.
 - (B) Siga.
 - (C) Pare.
 - (D) Diminua a velocidade.
 - (E) Acelere.
-
40. A sinalização horizontal é um subsistema da sinalização viária que se utiliza de linhas, marcações, símbolos e legendas, pintados ou apostos sobre o pavimento das vias. Esta sinalização se apresenta nas seguintes cores:
- (A) amarela, vermelha, branca e verde.
 - (B) amarela, vermelha, laranja e preta.
 - (C) vermelha, branca, laranja, preta e verde.
 - (D) vermelha, branca, azul, preta e laranja.
 - (E) amarela, vermelha, branca, azul e preta.
-
41. Em relação à sinalização, as placas educativas têm a função de educar os usuários da via quanto
- (A) ao seu comportamento adequado e seguro no trânsito.
 - (B) aos atrativos turísticos da via.
 - (C) às orientações de destino.
 - (D) às condições do trânsito.
 - (E) às localidades no trânsito.
-
42. Dirigir ameaçando os pedestres que estejam atravessando a via pública, ou os demais veículos, constitui infração
- (A) leve e penalidade de multa.
 - (B) média e penalidade de multa.
 - (C) grave e penalidade de multa e apreensão do veículo.
 - (D) gravíssima e penalidade de multa e suspensão do direito de dirigir.
 - (E) média e penalidade de multa e apreensão do veículo.
-
43. Promover, na via, competição esportiva, eventos organizados, exibição e demonstração de perícia em manobra de veículo, ou deles participar, como condutor, sem permissão da autoridade de trânsito com circunscrição sobre a via, são infrações que levam
- (A) ao recolhimento das placas do veículo e documentos.
 - (B) à retenção do veículo até que a irregularidade seja sanada.
 - (C) à remoção do veículo.
 - (D) à retenção do documento de habilitação.
 - (E) ao recolhimento do documento de habilitação e remoção do veículo.
-
44. Está sujeito à penalidade de multa e infração grave, o condutor de veículo que ultrapassar outro veículo
- I. pelo acostamento.
 - II. na faixa de pedestre.
 - III. em interseções e passagens de nível.
- Está correto o que consta em
- (A) I, II e III.
 - (B) I e II, apenas.
 - (C) II e III, apenas.
 - (D) II, apenas.
 - (E) I e III, apenas.



45. Considere as informações abaixo. Na coluna esquerda estão descritas algumas infrações de trânsito previstas no Código de Trânsito Brasileiro – C.T.B. Na coluna direita estão relacionadas as suas naturezas.

Infração de trânsito	Natureza da infração
I. Deixar de atualizar o cadastro de registro do veículo ou de habilitação do condutor.	1. Leve
II. Deixar o responsável de promover a baixa do registro de veículo irrecuperável ou definitivamente desmontado.	2. Grave
III. Fazer falsa declaração de domicílio para fins de registro, licenciamento ou habilitação.	3. Gravíssima

A correlação correta é

- (A) I-2; II-1; III-3.
(B) I-1; II-2; III-3.
(C) I-2; II-3; III-1.
(D) I-1; II-3; III-2.
(E) I-3; II-2; III-1.
-
46. Três motoristas cometem infração de trânsito por parar o veículo em inobservância ao preceito do Código de Trânsito Brasileiro – C.T.B., conforme a tabela abaixo.

Motorista	Infração - parar o veículo
1	afastado da guia da calçada (meio-fio) a mais de um metro.
2	na pista de rolamento das estradas, das rodovias, das vias de trânsito rápido e das demais vias dotadas de acostamento.
3	no passeio ou sobre faixa destinada a pedestres, nas ilhas, refúgios, canteiros centrais e divisores de pista de rolamento e marcas de canalização.

Uma infração média foi cometida

- (A) pelos motoristas 1 e 2, apenas.
(B) pelo motorista 1, apenas.
(C) pelos motoristas 2 e 3, apenas.
(D) pelo motorista 3, apenas.
(E) pelos motoristas 1, 2 e 3.
-
47. Na forma estabelecida pelo CONTRAN, o infrator terá que fazer o curso de reciclagem, quando
- (A) houver uma remoção de seu veículo.
(B) constatada uma infração grave em sua pontuação.
(C) vencido o prazo de renovação da licença para conduzir.
(D) suspenso do direito de dirigir.
(E) dirigir sem habilitação.
-
48. Um motorista está sujeito à medida administrativa de remoção do veículo quando
- (A) fizer uso do fecho de luz alta dos faróis em vias providas de iluminação pública.
(B) deixar de retirar todo e qualquer objeto que tenha sido utilizado para sinalização temporária da via, em desacordo com as normas fixadas pelo CONTRAN.
(C) usar indevidamente no veículo aparelho de alarme ou que produza sons e ruído que perturbem o sossego público, em desacordo com normas fixadas pelo CONTRAN.
(D) deixar de manter ligado, nas situações de atendimento de emergência, o sistema de iluminação vermelha intermitente dos veículos de polícia, de socorro de incêndio e salvamento, de fiscalização de trânsito e das ambulâncias, ainda que parados.
(E) conduzir o veículo com defeito no sistema de iluminação, de sinalização ou com lâmpadas queimadas.



49. Deixar de reduzir a velocidade do veículo de forma compatível com a segurança do trânsito é considerada infração gravíssima quando o condutor de um veículo
- I. se aproximar de passeatas, aglomerações, cortejos, préstitos e desfiles.
 - II. se aproximar da guia da calçada (meio-fio) ou acostamento.
 - III. estiver dirigindo sob chuva, neblina, cerração ou ventos fortes.
 - IV. estiver nas proximidades de escolas, hospitais, estações de embarque e desembarque de passageiros ou onde haja intensa movimentação de pedestres.

Está correto o que consta APENAS em

- (A) I e IV.
- (B) I, II e III.
- (C) III e IV.
- (D) I.
- (E) II e III.

50. A penalidade de multa, por não identificação do infrator na condução de veículo de propriedade de pessoa jurídica prevista no Código de Trânsito Brasileiro – C.T.B., será aplicada ao proprietário do veículo pela autoridade de trânsito com competência e circunscrição pela fiscalização da infração autuada que não teve o condutor identificado. O valor da penalidade de multa será obtido multiplicando-se o valor previsto para a multa originária

- (A) por dois.
- (B) por três.
- (C) pelo número de infrações iguais cometidas no período de doze meses.
- (D) pelo número de infrações cometidas no período de seis meses.
- (E) pelo número de infrações cometidas no período de doze meses.

51. Referente às medidas administrativas, o recolhimento do Certificado de Registro dar-se-á mediante recibo, além dos casos previstos no Código de Trânsito Brasileiro – C.T.B., quando:

- I. houver suspeita de inautenticidade ou adulteração.
- II. se, alienado o veículo, não for transferida sua propriedade no prazo de 30 (trinta) dias.
- III. se o prazo de licenciamento estiver vencido.

Está correto o que consta APENAS em

- (A) I e III.
- (B) I e II.
- (C) II e III.
- (D) II.
- (E) I.

52. Considere as informações da tabela abaixo. Na coluna esquerda estão descritas algumas infrações de trânsito previstas no Código de Trânsito Brasileiro – C.T.B. Na coluna direita estão relacionadas as suas medidas administrativas.



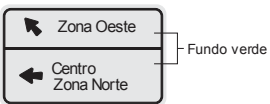
Infração de trânsito	Medida administrativa
I. Conduzir veículo sem os documentos de porte obrigatório referidos no C.T.B.	1. remoção do veículo.
II. Deixar de efetuar o registro de veículo no prazo de trinta dias, junto ao órgão executivo de trânsito, ocorridas as hipóteses previstas no artigo 123 do C.T.B.	2. retenção do veículo para regularização.
III. Falsificar ou adulterar documento de habilitação e de identificação do veículo.	3. retenção do veículo até a apresentação do documento.

A correlação correta é

- (A) I-3; II-2; III-1.
- (B) I-1; II-3; III-2.
- (C) I-2; II-1; III-3.
- (D) I-2; II-3; III-1.
- (E) I-3; II-1; III-2.



53. Considere as informações da tabela abaixo. Na coluna esquerda estão descritas algumas placas da sinalização de indicação previstas no Código de Trânsito Brasileiro – C.T.B. Na coluna direita estão relacionadas as denominações de seus grupos.

PLACAS DE SINALIZAÇÃO	GRUPO
I. 	1 - Orientação de Destino
II. 	2 - Serviços Auxiliares
III. 	3 - Identificação

A correlação correta é

- (A) I-3; II-2; III-1.
- (B) I-1; II-2; III-3.
- (C) I-2; II-1; III-3.
- (D) I-2; II-3; III-1.
- (E) I-1; II-3; III-2.

54. Com relação à classificação da sinalização horizontal, as marcas que separam e ordenam as correntes de tráfego, definindo a parte da pista destinada normalmente à circulação de veículos, a sua divisão em faixas, a separação de fluxos opostos, faixas de uso exclusivo, são as

- (A) de delimitação e controle de estacionamento e/ou parada.
- (B) transversais.
- (C) de canalização.
- (D) longitudinais.
- (E) de área de conflito.

55. A velocidade máxima permitida para a via será indicada por meio de sinalização, obedecidas suas características técnicas e as condições de trânsito. Na tabela abaixo, na coluna esquerda estão descritos os tipos de vias urbanas previstos no Código de Trânsito Brasileiro – C.T.B. Na coluna direita estão relacionadas as velocidades máximas, onde não existir sinalização regulamentadora.

Tipo de via urbana	Velocidade (em km/h)
I. via de trânsito rápido.	1. 40
II. via arterial.	2. 30
III. via coletora.	3. 80
IV. via local.	4. 60

A correlação correta é

- (A) I-4; II-1; III-3; IV-2.
- (B) I-1; II-4; III-2; IV-3.
- (C) I-3; II-4; III-1; IV-2.
- (D) I-2; II-3; III-1; IV-4.
- (E) I-3; II-2; III-4; IV-1.



56. Para habilitar-se na categoria C, o condutor deverá estar habilitado no mínimo há um ano na categoria B e não ter cometido nenhuma infração grave ou gravíssima, ou ser reincidente em infrações
- (A) leves ou médias, durante os últimos doze meses.
 - (B) médias, durante os últimos doze meses.
 - (C) leves ou médias, durante os últimos vinte e quatro meses.
 - (D) médias, durante os últimos seis meses.
 - (E) leves ou médias, durante os últimos seis meses.
-
57. O condutor manterá acesas as luzes de posição quando o veículo estiver
- (A) indicando a intenção de ultrapassar o veículo que segue à frente.
 - (B) circulando durante o dia nos túneis providos de iluminação pública.
 - (C) em situações de imobilização ou de emergência.
 - (D) circulando durante a noite em vias não iluminadas.
 - (E) à noite, parado para fins de embarque ou desembarque de passageiros e carga ou descarga de mercadorias.
-
58. Os condutores de motocicletas, motonetas e ciclomotores só poderão circular nas vias
- I. utilizando capacete de segurança, com viseira ou óculos protetores.
 - II. segurando o guidom com as duas mãos.
 - III. usando vestuário de proteção, de acordo com as especificações do CONTRAN.
- Está correto o que consta em
- (A) I, II e III.
 - (B) I, apenas.
 - (C) II e III, apenas.
 - (D) I e III, apenas.
 - (E) II, apenas.
-
59. A autoridade de trânsito, na esfera das competências estabelecidas no Código de Trânsito Brasileiro – C.T.B. e dentro de sua circunscrição, deverá aplicar, às infrações nele previstas, as seguintes penalidades: advertência por escrito; multa; suspensão do direito de dirigir; apreensão do veículo; cassação da Carteira Nacional de Habilitação; cassação da Permissão para Dirigir; e
- (A) recolhimento do Certificado de Licenciamento Anual.
 - (B) remoção do veículo.
 - (C) recolhimento da Permissão para Dirigir.
 - (D) recolhimento do Certificado de Registro.
 - (E) frequência obrigatória em curso de reciclagem.
-
60. Na área crítica de visão do condutor e em uma faixa periférica de 2,5 centímetros de largura das bordas externas do pára-brisa
- (A) não devem existir trincas e fraturas de configuração circular, e não podem ser recuperadas.
 - (B) não devem existir trincas superiores a 20 centímetros de comprimento.
 - (C) não devem existir trincas e fraturas de configuração circular superiores a 4 centímetros de diâmetro.
 - (D) são permitidos no máximo três danos.
 - (E) são permitidos no máximo dois danos.



PROVA DE REDAÇÃO

*O conforto, a higiene, sim... No entanto, um ranchinho de barro e sapé vai muito melhor com a paisagem.
Um ranchinho de barro e sapé parece brotado da terra, faz parte da natureza, não contradiz as árvores e o céu.
E é, também, tão humano ...*

(Mário Quintana, **Caderno H**)

A modernidade trouxe maior qualidade de vida às pessoas, porém há consequências negativas, decorrentes do crescimento desordenado das cidades.

Considerando o que está escrito acima, redija um texto dissertativo-argumentativo sobre o seguinte tema:

Os contrastes da urbanização

01	
02	
03	
04	
05	
06	
07	
08	
09	
10	
11	
12	
13	
14	
15	
16	
17	
18	
19	
20	
21	
22	
23	
24	
25	
26	
27	
28	
29	
30	