



PREFEITURA MUNICIPAL DE PONTES E LACERDA - MT

CONCURSO PÚBLICO N.º 01/2013

107 - TÉCNICO ADMINISTRATIVO EDUCACIONAL
TÉCNICO EM DESENVOLVIMENTO INFANTIL

INSTRUÇÕES - PROVA OBJETIVA

- Este caderno contém 40 questões, com 4 alternativas cada uma.
- Cada questão contém somente **UMA ALTERNATIVA CORRETA**.
- Com letra legível, preencha o campo abaixo com seu nome.
- Verifique se o cargo para o qual você se inscreveu é o mesmo deste caderno de questões.
- Caso este caderno esteja incompleto, tenha qualquer defeito ou não seja a prova para o cargo ao qual você se inscreveu, solicite ao Fiscal que providencie a substituição do caderno.
- Assine a **FOLHA DEFINITIVA DE RESPOSTAS** com caneta de tinta **AZUL** ou **PRETA**.
- A duração da prova é de 3h (três horas).
- O tempo mínimo de permanência na sala é de 1h (uma hora) após o início da prova.
- O caderno de questões não poderá ser levado pelo candidato.
- Se desejar, use o cartão afixado na carteira, como folha intermediária de respostas.

AGUARDE A ORDEM DO FISCAL PARA ABRIR ESTE CADERNO

Nome do candidato

Concursos

FAPERP

Questão 1

“E se quisesse Deus que este tão ilustre e tão numeroso auditório saísse hoje tão desenganado da pregação, como vem enganado com o pregador! Ouçamos o Evangelho, e ouçamo-lo todo, que todo é do caso que me levou e trouxe de tão longe.”

O trecho apresentado acima é o início do Sermão da Sexagésima. Texto em prosa sacra do período Barroco, proferido na Capela Real de Lisboa em 1655 pelo:

- a) Padre Antônio Maria.
- b) Padre Antônio Vieira.
- c) Padre Antônio Nogueira.
- d) Padre Antônio Aveiro.

Questão 2

Observe as afirmações abaixo e assinale a alternativa que contempla o nome do imposto a que elas se referem.

- I. É controlado pelo Governo por meio da Receita Federal.
 - II. Cada indivíduo ou corporação tem a obrigação de subtrair uma determinada porcentagem de seu rendimento médio ganho em um ano e pagar esta quantia ao governo.
 - III. A declaração deve ser elaborada obrigatoriamente com o uso de computador, utilizando o programa da Receita Federal.
- a) Imposto Predial e Territorial Urbano.
 - b) Imposto Sobre Serviços de Qualquer Natureza.
 - c) Imposto Sobre Operações Financeiras.
 - d) Imposto de Renda Pessoa Física ou Jurídica.

Questão 3

Ato de colher clandestinamente informações sigilosas de posse de um governo, entidade ou indivíduo sem a permissão do titular da informação. Trata-se de uma prática ilegal e punível por lei.

Pesa sobre os Estados Unidos (EUA) graves acusações deste ato contra várias nações do mundo, inclusive o Brasil. Assinale a alternativa que contempla o nome desse ato ilegal.

- a) Sabotagem.
- b) Amotinagem.
- c) Espionagem.
- d) Dumping.

Questão 4

Em 2013, uma grande cidade dos Estados Unidos da América, com dívidas de pelo menos US\$ 15 bilhões, pediu falência. Considerada um dos maiores polos da indústria de automóveis do mundo, teve uma grande queda no índice populacional, que caiu de dois milhões de pessoas (década de 1950) para 713 mil habitantes no ano da concordata. A indústria automobilística se recuperou, mas não impediu a falência de:

- a) Chicago.
- b) Miami.
- c) Detroit.
- d) Cleveland.

Questão 5

Segundo o Dicionário Aurélio, “Droga” tem as seguintes definições: “sf. 1. Qualquer substância ou ingrediente usado em farmácia, tinturaria, etc. 2. Medicamento. 3. Substância entorpecente, alucinógena, excitante, etc. 4. Coisa de pouco valor ou desagradável”.

Uma droga altamente viciante, que deteriora rapidamente o organismo do drogado, causando também perda de inteligência, alucinações, ansiedade, entre outras coisas, é a cocaína; um pó produzido a partir da folha de coca. O crack é a versão petrificada dessa droga. Há outras duas substâncias derivadas da pasta de coca, também com poderes destrutivos iguais ou maiores do que a cocaína e o crack, denominadas:

- a) Merla e Oxi.
- b) Barla e Ecstasy.
- c) Ecstasy e Anfetamina.
- d) Merla e LSD.

Questão 6

O Unicórnio, igualmente chamado de licórnio, é um ser mitológico, normalmente branco-puro quando é adulto, mas dourado em sua fase de potrinho, e prateado durante a adolescência. Ele vive geralmente nas florestas do norte da Europa, segundo as narrativas da mitologia. Qual é a outra característica marcante do Unicórnio?

- a) Um único olho na sua cabeça.
- b) Uma única orelha em sua cabeça.
- c) Um único chifre em sua cabeça.
- d) Uma única pata dianteira.

Questão 7

O Supremo Tribunal Federal (STF) é o órgão de maior instância do Poder Judiciário. É composto por 11 Ministros, que devem ser brasileiros natos, ter mais de 35 anos e menos de 65, além de ser reconhecido por seu notável saber jurídico e reputação ilibada, conforme previsto no artigo 101 da Constituição Federal (1988). A ele cabe precipuamente:

- a) a guarda da Câmara e do Senado Federal.
- b) a guarda da Constituição Federal.
- c) a guarda do Tesouro Nacional.
- d) a guarda da Comissão de Constituição e Justiça do Senado.

Questão 8

São considerados como crime organizado pelos governos, qualquer grupo de pessoas ou bando que atuam criminalmente obtendo lucro e poder. São denominados de comandos no Brasil, de máfia na Itália, de bravta na Rússia e de:

- a) Yakuza na Coréia do Norte.
- b) Yakuza na China.
- c) Yakuza na Coréia do Sul.
- d) Yakuza no Japão.

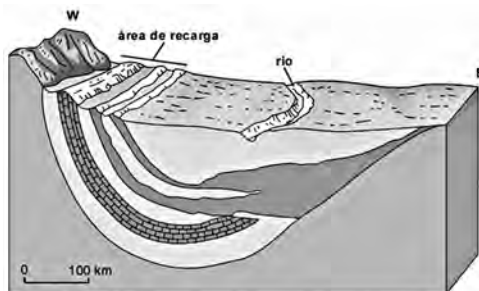
Questão 9

Que nome se dá a uma comunidade organizada politicamente, ocupando um território definido, normalmente sob Constituição e dirigida por um governo, também possuindo soberania reconhecida internamente e por outros países? As subdivisões políticas das repúblicas federativas também têm o mesmo nome.

- a) Estado.
- b) Comarca.
- c) Condado.
- d) Protetorado.

Questão 10

Segundo estudos recentes, 22,4% da água disponível no planeta está abaixo da superfície. Que nome se dá aos terrenos ou formações geológicas que armazenam águas subterrâneas?



- a) Aquepélagos.
- b) Aquedutos.
- c) Aquíferos.
- d) Aquários.

Leia o texto para responder às questões de 11 a 16.
Jornais da TV têm queda recorde de Ibope; a culpa é da internet? Opine

Ricardo Feltrin: 17/09/2013 14h29

Um possível efeito da overdose de informação e noticiário presentes na internet pode já ter causado a primeira vítima "oficial": o jornalismo na TV ou telejornalismo. Dados exclusivos obtidos pelo programa Ooops!, apontam que praticamente todos os principais telejornais da TV aberta brasileira amargam grandes perdas de ibope este ano, na comparação com o ano passado.

Os jornais até então considerados os mais "badalados" da TV brasileira, como o "Jornal Nacional", da Globo, chegou a perder 12% de Ibope este ano, até 31 de agosto. O cultuado "Jornal da Band" também não ficou livre da perda de 12%. O pior resultado ficou com o "RedeTV! News", que viu este ano quase metade de seu público desaparecer (41%; veja tabela abaixo).



Os dois principais telejornais do SBT também registraram queda, embora menores que os concorrentes. O "SBT Brasil" perdeu 3% de audiência e o "Jornal do SBT" caiu 6%.

Esse pode ser um dos motivos para que Silvio Santos tenha retomado a ideia de ressuscitar pela enésima vez um jornal no estilo "Aqui Agora", jornal popularesco que poderia concorrer diretamente com o "Cidade Alerta" (Record) e o "Brasil Urgente" (Band).

Cabe notar que em todo esse balanço, a única emissora que conseguiu crescer, ainda que pouquinho, na área de telejornais, foi a Record?

QUEM É LEGAL: Marcelo Adnet

Esta coluna se retrata da injustiça cometida contra esse talentoso artista e humorista. Ele sempre foi alvo de elogios por aqui quando estava na MTV, e o fato de ir para a Globo pode até "engessar" seu humor, mas não pode reduzir seu talento e criatividade. Se os projetos que fez até agora não fizeram muito sucesso, certamente não é por sua falta de talento, mas escolha errada do trabalho por parte da emissora.

QUEM IRRITA: *Anitta, Naldo e as novas estrelas da MPB (sic)*

Incrível o espaço que a péssima música tem nos programas de auditório em praticamente todas as emissoras. Letras medíocres, melodias paupérrimas e um rebolado insosso são a fórmula ideal para se fazer sucesso hoje em dia. Vão em frente, mas por favor, não me informem a respeito.

Ricardo Feltrin, 50, é colunista do UOL, onde apresenta o programa Oops! às terças, e também colunista do F5, site de entretenimento da Folha. Trabalhou por 21 anos no Grupo Folha, como repórter, editor e secretário de Redação, entre outros.

<<http://celebridades.uol.com.br/ooops/ultimas-noticias/2013/09/17/jornais-da-tv-tem-queda-recorde-de-ibope-a-culpa-e-da-internet-opine.htm>> acesso em 20/10/2013, 17h34, modificado.

Questão 11

O texto exibido é uma coluna de uma publicação online. Coluna é um texto autoral de opinião normalmente assinado; online se diz das publicações que têm como seu suporte de veiculação a internet, rede mundial de computadores. É comum em textos publicados na internet erros gramaticais, o que parece contraditório, uma vez que a correção em um texto nesse suporte é muito mais fácil que em um texto impresso, por exemplo. Sobre isso, assinale a alternativa incorreta.

- "Dados exclusivos obtidos pelo programa Oops!, apontam que praticamente todos os principais telejornais..." A vírgula depois da palavra "Oops!", ou a ausência de vírgula depois da palavra "exclusivos", está em desacordo com a gramática da Língua Portuguesa.
- "Os dois principais telejornais do SBT também registraram queda, embora menores que os concorrentes." A vírgula depois da palavra "queda" está empregada em desacordo com a Norma Culta da Língua Portuguesa.
- "Vão em frente, mas por favor, não me informem a respeito." A ausência de vírgula depois da palavra mas está em desacordo com a Norma Culta da Língua Portuguesa.
- "Cabe notar que em todo esse balanço, a única emissora que conseguiu crescer, ainda que pouquinho, na área de telejornais, foi a Record?" O ponto de interrogação está sendo usado equivocadamente de acordo com o sentido global do texto.

Questão 12

Sobre o texto, pode-se afirmar que:

- culpa a internet pela redução na audiência dos telejornais.
- não pode ser lido dado credibilidade justamente por se tratar de uma notícia da internet.
- discute as possíveis causas da queda de audiência dos telejornais apontando a internet como uma provável causa.
- não vê relação entre internet e queda de audiência de telejornais.

Questão 13

Sobre o título do texto, pode-se afirmar que:

- minimiza o problema enfrentado pelos telejornais.
- convida à participação o leitor, característica do suporte.
- não apresenta o assunto corretamente.
- não pode ser caracterizado como título por estar na internet.

Questão 14

No texto há o uso, em vários momentos, de expressões coloquiais. Assinale a alternativa que representa trecho do texto em que isso não acontece.

- "Os jornais até então considerados os mais "badalados" da TV brasileira..."
- "...os principais telejornais da TV aberta brasileira amargam grandes perdas de ibope este ano..."
- "...a única emissora que conseguiu crescer, ainda que pouquinho..."
- "Esta coluna se retrata da injustiça cometida contra esse talentoso artista e humorista."

Questão 15

Sobre o texto, é possível afirmar que:

- ironiza Naldo e Anitta como cantores de MPB.
- não apresenta a opinião do autor.
- por ser uma coluna, não apresenta partes desconectadas com o assunto principal.
- faz uma crítica direta ao humorista Marcelo Adnet.

Questão 16

Sobre tempos verbais, assinale a alternativa em que o verbo destacado está em desacordo com o tempo indicado.

- "Vão em frente, mas por favor, não me informem a respeito." Futuro do indicativo
- "o "Jornal Nacional", da Globo, chegou a perder..." – Pretérito perfeito do indicativo
- "Incrível o espaço que a péssima música tem nos programas de auditório..." – Presente do indicativo
- "Se os projetos que fez..." – Pretérito imperfeito do indicativo

Questão 17

Sobre a ocorrência de crase, assinale a alternativa em que sua presença ou ausência está empregada corretamente.

- a) Foi a Copacabana, queria conhecer a famosa praia.
- b) Saiu a francesa, não queria mais ser sabatinado daquela maneira.
- c) Fui à uma dentista amiga minha.
- d) Não fui a igreja ontem.

Questão 18

Quanto à concordância, assinale a alternativa que não está de acordo com a norma culta.

- a) O prêmio agradeu o atleta.
- b) A função desta ONG é assistirem aos menos necessitados.
- c) Ele visa o cargo de diretor.
- d) O atirador visava o alvo.

Leia a tirinha para responder às questões 19 e 20.



Questão 19

Pode-se afirmar sobre a tirinha que:

- a) há uma defesa do meio de comunicação “televisão” e sua programação.
- b) não há uma opinião clara sobre o meio de comunicação “televisão” e sua programação.
- c) há uma crítica do meio de comunicação “televisão” e sua programação.
- d) é ambígua a crítica ou defesa sobre o meio de comunicação “televisão” e sua programação.

Questão 20

Sobre o gatilho cômico (o que causa o humor) da tirinha, pode-se dizer que é construído principalmente:

- a) pela ambiguidade da interpretação da palavra “veículo”.
- b) por uma personagem ler e outra assistir TV.
- c) pela forma com que a TV prende a atenção da personagem que a assiste.
- d) pela discordância de ideia entre as personagens.

Questão 21

A expressão dada pelo produto $\frac{10}{3}\sqrt{0,27}$ é equivalente a:

- a) 1,70.
- b) 1,73.
- c) 2,70.
- d) 2,71.

Dado: $\sqrt{3} \cong 1,73$

Questão 22

Analise as afirmações a seguir para assinalar a alternativa verdadeira.

I. $\frac{(3^2)^3 \cdot 3^2}{(3^3)^2} = 9$.

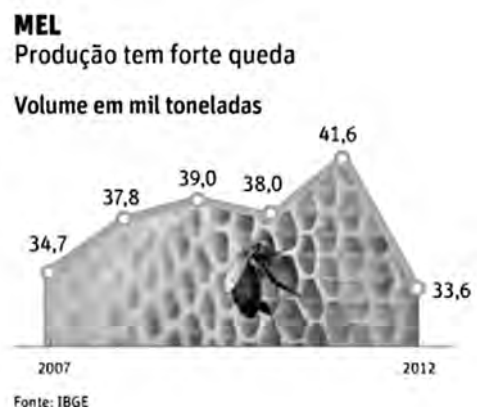
II. $3^5 + 3^3 = 3^8$.

III. $27^2 \cdot 27^3 = 3^{15}$.

- a) A afirmativa I, e apenas ela, está correta.
- b) A afirmativa II, e apenas ela, está correta.
- c) As afirmativas I e III, e apenas elas, estão corretas.
- d) Todas as afirmativas estão corretas.

Questão 23

De acordo com texto publicado pelo jornal Folha de São Paulo, em 12/10/2013, “as abelhas estão diminuindo ou entraram em greve, pois a produção de mel recuou para apenas 33,6 mil toneladas em 2012.” O gráfico a seguir, publicado pelo mesmo jornal, mostra o trabalho das abelhas, nos últimos seis anos. Analisando seus dados, pode-se afirmar que a produção média de mel, em mil toneladas, no período retratado, foi de:



- a) 29,76.
- b) 34,89.
- c) 37,45.
- d) 40,12.

Questão 24

Um avião militar transporta 300 soldados ou 60 contêineres com suprimentos. Se foram colocados num avião 25 desses contêineres, quantos soldados ainda poderão ser carregados?

- a) 175.
- b) 179.
- c) 180.
- d) 185.

Questão 25

A tabela a seguir mostra o consumo mensal médio de alguns aparelhos elétricos domésticos em quilowatts por hora (KW/h).

Aparelho	Consumo mensal médio (em KW/h)
aparelho de som	4,5
chuveiro elétrico	48
computador	12
ferro de passar roupa	15
geladeira	36
lâmpada fluorescente	3,85
televisão 20 polegadas	9
ventilador de teto	12

Uma família que tem em casa 1 aparelho de som, 2 chuveiros elétricos, 1 computador, 1 ferro de passar roupa, 1 geladeira, 10 lâmpadas fluorescentes, 2 aparelhos de televisão de 20 polegadas e 4 ventiladores de teto, atinge um consumo mensal de, aproximadamente:

- a) 198KW/h.
- b) 220KW/h.
- c) 232KW/h.
- d) 268KW/h.


Questão 26

Um solitário colecionador de orquídeas possui muitos vasos e, embora tenha muito apego às suas plantas, não pôde recusar um convite para trabalhar no exterior. Resolveu, então, presentear algumas instituições beneficentes de sua cidade com suas valiosas plantas. Para isso, estabeleceu um critério bem interessante: ordenou as instituições em ordem decrescente do número de pessoas atendidas e para a primeira instituição, isto é, para aquela que atende ao maior número de pessoas, destinou o maior número de vasos. Assim, a primeira instituição ficou com 390 vasos, a segunda, com 370, a terceira, com 350, e desse modo, sempre destinando 20 vasos a menos para cada instituição, conseguiu se desfazer das 4000 plantas de sua coleção. Quantas instituições foram contempladas com as plantas desse colecionador?

- a) 20.
- b) 30.
- c) 40.
- d) 50.

Leia o texto a seguir para responder às questões 27 e 28.

De acordo com texto publicado no jornal Folha de São Paulo, em 15/10/2013, no caderno Mercado, o Imea (Instituto Mato-grossense de Economia Agropecuária) divulgou previsão de safra de soja em Mato Grosso, principal produtor brasileiro, para o período 2013/2014: a área plantada será de 8,3 milhões de hectares, com safra prevista de 25,7 milhões de toneladas.



Questão 27

Comparada com a área plantada em 2010/2011, que foi de 6,4 milhões de hectares, pode-se afirmar que a previsão de aumento da área a ser plantada de soja, para 2013/2014, no estado do Mato Grosso, será da ordem de:

- a) 23%.
- b) 29,6%.
- c) 45,8%.
- d) 77%.

Questão 28

Sabendo que um hectare (1 ha) é uma medida que corresponde à área de um quadrado em que cada lado mede 100 metros, pode-se afirmar que, se a previsão do Imea se confirmar, a área plantada será equivalente, em metros quadrados, a:

- a) 83 milhões de m².
- b) 8,3 bilhões de m².
- c) 83 bilhões de m².
- d) 830 bilhões de m².

Questão 29

Números muito grandes ou muito pequenos podem ser escritos através de um produto da forma $a \cdot 10^n$, em que $1 \leq a < 10$ e n é um número inteiro. Essa representação é denominada notação científica. Por exemplo, a distância da Terra ao Sol, que é de aproximadamente 150.000.000km, na notação científica pode ser escrita de maneira abreviada, isto é, $1,5 \cdot 10^8$ km. Ainda com relação ao planeta Terra, no seu movimento em torno do Sol, sabe-se que ele descreve aproximadamente uma elipse. No ponto da sua órbita mais afastado do Sol (afélio) a Terra dista dele 152.100.000km, que na notação científica, expressa-se por:



- a) $1,521 \cdot 10^7$ km.
- b) $15,21 \cdot 10^7$ km.
- c) $1,521 \cdot 10^8$ km.
- d) $15,21 \cdot 10^8$ km.

Questão 30

Considere uma sequência dada por $a_n = 5n - 3$, em que $n \in \mathbb{N}$ e $n \geq 1$. Pode-se afirmar que a soma de seus 10 primeiros termos é igual a:

- a) 50.
- b) 150.
- c) 195.
- d) 245.

Questão 31

De acordo com o artigo 37 da Constituição Federal, a administração pública direta e indireta de qualquer dos Poderes da União, dos Estados, do Distrito Federal e dos Municípios obedecerá aos princípios de:

- a) legalidade, impessoalidade, moralidade, publicidade e eficiência.
- b) legalidade, pessoalidade, moralidade, publicidade e eficiência.
- c) legalidade, honestidade, moralidade, publicidade e eficiência.
- d) legalidade, ética, moralidade, impessoalidade e eficiência.

Questão 32

O Estatuto da Criança e do Adolescente, Lei n. 8069/90, estabelece em seu art. 4º que é dever da família, da comunidade, da sociedade em geral e do poder público assegurar, com absoluta prioridade, a efetivação dos direitos referentes à vida, à saúde, à alimentação, à educação, ao esporte, ao lazer, à profissionalização, à cultura, à dignidade, ao respeito, à liberdade e à convivência familiar e comunitária. Esta garantia de prioridade compreende:

- a) primazia de receber proteção e socorro em algumas circunstâncias emergenciais; precedência de atendimento nos serviços públicos ou de relevância pública; preferência na formulação e na execução das políticas sociais públicas; destinação privilegiada de recursos públicos nas áreas relacionadas com a proteção à infância e à juventude.
- b) primazia de receber proteção e socorro em quaisquer circunstâncias; precedência de atendimento nos serviços públicos ou de relevância pública; privilégios na formulação e na execução das políticas sociais públicas; destinação privilegiada de recursos públicos nas áreas relacionadas com a proteção à infância e à juventude.
- c) secundariedade em receber proteção e socorro; precedência de atendimento nos serviços públicos ou de relevância pública; preferência na formulação e na execução das políticas sociais públicas; destinação privilegiada de recursos públicos nas áreas relacionadas com a proteção à infância e à juventude.
- d) primazia de receber proteção e socorro em quaisquer circunstâncias; precedência de atendimento nos serviços públicos ou de relevância pública; preferência na formulação e na execução das políticas sociais públicas; destinação privilegiada de recursos públicos nas áreas relacionadas com a proteção à infância e à juventude.

Questão 33

O direito ao respeito consiste na inviolabilidade da integridade física, psíquica e moral da criança e do adolescente, abrangendo ainda (ECA, art.17):

- I. a preservação da imagem, da identidade, da autonomia.
- II. os valores, déias e crenças, os espaços e objetos pessoais.
- III. a diminuição da maioridade, da moralidade e do respeito.
- IV. o controle da violação, a punição e a ampliação da internação.

Assinale a alternativa verdadeira.

- a) Todas as afirmativas estão corretas.
- b) Apenas as afirmativas I e II estão corretas.
- c) Apenas as afirmativas III e IV estão corretas.
- d) Apenas as afirmativas I e IV estão corretas

Questão 34

O Estatuto da Criança e do Adolescente preconiza em seu artigo 208 as ações de responsabilidade por ofensa aos direitos assegurados à criança e ao adolescente, referentes ao não oferecimento ou oferta irregular:

- I. do ensino obrigatório.
- II. de atendimento educacional especializado aos portadores de deficiência.
- III. de atendimento em creche e pré-escola às crianças de zero a seis anos de idade.
- IV. de ensino noturno regular, adequado às condições do educando.
- V. de programas alternativos de oferta de material didático-escolar, transporte e assistência à saúde do educando do ensino fundamental.
- VI. de serviço de assistência ética e moral visando à proteção à família, à maternidade, à infância e à adolescência, bem como ao amparo às crianças e adolescentes que dele necessitem.

Assinale a alternativa verdadeira.

- a) Todas as afirmativas estão corretas.
- b) Apenas as afirmativas I, II, III e IV estão corretas.
- c) Apenas as afirmativas III, IV, V e VI estão corretas.
- d) Apenas as afirmativas I, III, V e VI estão corretas.

Questão 35

De acordo com o Estatuto do Servidor Público Municipal de Pontes e Lacerda, são deveres dos funcionários, exceto:

- a) exercer com zelo e dedicação as atribuições do cargo; ser leal às instituições a que servir.
- b) cumprir ordens superiores, exceto quando manifestamente ilegais; atender com presteza.
- c) levar ao conhecimento da autoridade superior as irregularidades de que tiver ciência em razão do cargo; zelar pela economia do material.
- d) manter conduta compatível com a moralidade administrativa; não representar contra ilegalidade ou abuso de poder.

Questão 36

Para suprir as necessidades dos pais que exercem atividades fora do lar ou que possuam impossibilidades reais de cuidar dos filhos, cabe ao Poder Público Executivo de Pontes e Lacerda:

- I. promover a instalação de Creches e Pré-escolas Municipais, ou outras modalidades de atendimento educacional; favorecer, através de incentivos fiscais e subvenções periódicas e sistemáticas, a instalação de Creches e Pré-Escolas particulares nas Empresas, nas Fundações e em Entidades Sociais, garantindo um espaço educacional às crianças de um a dez anos, em regime de semi-internato e externato.
- II. promover Convênios, tendo em vista a instalação de centros educacionais e promocionais nas Empresas, Fundações e Entidades Sociais, voltados ao desenvolvimento de atividades artísticas, esportivas e ocupacionais, para maiores de sete e menores de dezoito anos.
- III. promover a instalação de oficinas semiprofissionalizantes e profissionalizantes nas Empresas, Fundações e Entidades Sociais para adolescentes com idade entre quatorze e dezoito anos.
- IV. garantir o acesso das crianças e adolescentes ao Sistema Municipal de Saúde, assegurando-lhes o direito de frequência às aulas, e dando-lhes condições para permanecer na Rede de Ensino do Município.

Assinale a alternativa verdadeira.

- a) Todas as afirmativas estão corretas.
- b) Apenas as afirmativas I, II e III estão corretas.
- c) Apenas as afirmativas II, III e IV estão corretas.
- d) Apenas as afirmativas I, III e IV estão corretas.

Questão 37

Conforme a Lei Orgânica do Município de Pontes e Lacerda – MT, em seu artigo 6º, são símbolos do Município:

- a) a Bandeira, o Selo e o Hino.
- b) o Brasão, o Selo e a Bandeira.
- c) o Brasão, a Bandeira e o Hino.
- d) a Bandeira e o Hino.

Questão 38

De acordo com o Estatuto da Criança e do Adolescente, ECA, Art. 98, as medidas de proteção à criança e ao adolescente são aplicáveis sempre que os direitos reconhecidos nesta Lei forem ameaçados ou violados por:

- a) ação ou omissão da sociedade ou do Estado; por falta, omissão ou abuso dos pais ou responsável; em razão de sua conduta.
- b) punição acima das determinações legais; por ausência da maioria penal; em razão de prevaricação.
- c) seleção discriminatória do menor infrator; por ausência de provas legais; em razão de descumprimento de princípios norteadores.
- d) delegação de diligência do Estado; por falta, omissão ou abuso do poder policial; em razão de abandono da família substituta.

Questão 39

Segundo o art.37, da Constituição Federal, a administração pública direta e indireta de qualquer dos Poderes da União, dos Estados, do Distrito Federal e dos Municípios obedecerá, no preenchimento de seus cargos, empregos e funções públicas condições que serão acessíveis aos brasileiros que preencham os requisitos estabelecidos em lei, assim como aos estrangeiros, na forma da lei. Alguns destes requisitos são:

- a) o prazo de validade do concurso público será de até um ano, prorrogável uma vez, por igual período.
- b) durante o prazo prorrogável previsto no edital de convocação, aquele aprovado em concurso público de provas ou de provas e títulos será convocado com prioridade sobre novos concursados para assumir cargo, emprego ou cargo em comissão.
- c) a investidura em cargo ou emprego público depende de aprovação prévia em concurso público de provas ou de provas e títulos, de acordo com a natureza e a complexidade do cargo ou emprego, na forma prevista em lei, ressalvadas as nomeações para cargo em comissão declarado em lei de livre nomeação e exoneração.
- d) estrangeiros só poderão ingressar em concurso de provas e títulos quando houver permissão oficial de órgão competente para investidura no cargo.

Questão 40

A criança e o adolescente têm direito à educação, visando ao pleno desenvolvimento de sua pessoa, preparo para o exercício da cidadania e qualificação para o trabalho, assegurando-se-lhes:

- I. igualdade de condições para o acesso e permanência na escola.
- II. direito de ser respeitado por seus educadores.
- III. direito de contestar critérios avaliativos, podendo recorrer às instâncias escolares superiores.
- IV. direito de organização e participação em entidades estudantis.
- V. acesso à escola pública e gratuita mais próxima de sua residência.

Assinale a alternativa verdadeira.

- a) Todas as afirmativas estão corretas.
- b) Apenas as afirmativas I, II, III e IV estão corretas.
- c) Apenas as afirmativas II, III, IV e V estão corretas.
- d) Apenas as afirmativas I, II, III e IV estão corretas.

RASCUNHO

RASCUNHO

