

P.M. – Itajobi/SP
Concurso Público - 03/2013



CARGO:

Orientador Social

INSCRIÇÃO Nº: _____

ASSINATURA DO CANDIDATO:

Cargo: Orientador Social


Língua Portuguesa

Texto para as questões de 01 a 03



tironas.blogspot.com

01. Sobre as tirinhas acima, podemos afirmar que:
- Há problemas de coesão textual.
 - Ocorreu uma incoerência textual.
 - O verbo “ver”, usado no último quadrinho, está incorreto; deveria ser “vir”.
- a) Todas as afirmações estão corretas.
b) I e II estão corretas.
c) I e III estão corretas.
d) II e III estão corretas.
02. Ainda sobre a fala do terceiro quadrinho, é correto afirmar que:
- Ocorre uma incompatibilidade na forma de empregar os pronomes, justificada por ser comum na linguagem coloquial.
 - Nunca se deve misturar o tratamento de terceira pessoa gramatical (VOCÊ) com o de segunda pessoa (TE) em qualquer nível de linguagem.
 - Tanto faz usar a segunda ou a terceira pessoa, pois é perfeitamente compreensível e isso não determina o nível de linguagem.
 - Tanto o tratamento VOCÊ quanto o tratamento TE não causam incompatibilidade, pois trata-se ambos da segunda pessoa gramatical em qualquer nível de linguagem.
03. Na fala da personagem no primeiro quadrinho temos no período:
- Uma oração absoluta.
 - Uma oração subordinada adjetiva restritiva.
 - Uma oração subordinada substantiva subjetiva.
 - Uma oração subordinada substantiva predicativa.
04. A propaganda abaixo, que faz uma advertência ao ato de fumar indicada no cartaz, apresenta uma palavra escrita fora das normas ortográficas da língua portuguesa. Isso se deve por que:



- O autor do texto não conhece as regras de ortografia da Língua Portuguesa, por isso escreveu “célebro” em vez de “cérebro”.
- A escrita errada foi proposital, pois reafirma o contexto da propaganda que diz que o fumo prejudica o cérebro.
- Usou-se “célebro” na linguagem coloquial, porque o texto foi escrito para um público sem instrução formal.
- O autor do texto fuma demais e ficou com seu “célebro” prejudicado. Por isso escreveu dessa forma.

05. Indique a alternativa em que as palavras sublinhadas não estão empregadas no sentido conotativo:

- “Um milhão de vezes”
Prometi a mim mesmo
Minha vida mudar
Um milhão de vezes
Prometi a mim mesmo
E estou no mesmo lugar...” (Evaldo Gouveia e Jair Amorim).
- “Quería gritar setecentas mil vezes
Como são lindos, como são lindos os burgueses” (Caetano Veloso).
- “...essa lembrança dói mil vezes mais do que quando me penduraram de um jeito que fiquei azul de dor”. (Lygia Fagundes Telles).
- “Vem cá passarinho
E vamos brincar nós dois
Que não temos ninho.” (Millôr Fernandes).

Texto para as questões de 06 a 08

A casa materna

Há, desde a entrada, um sentimento de tempo na casa materna. As grades do portão tem uma velha ferrugem e o trinco se encontra num lugar que só a mão filial conhece. O jardim pequeno parece mais verde e úmido que os demais, com suas palmas, tinhorões e samambaias, que a mão filial, fiel a um gesto de infância, desfolha ao longo da haste.

É sempre quieta a casa materna, mesmo aos domingos, quando as mãos filiais se pousam sobre a mesa farta do almoço, repetindo uma antiga imagem. Há um tradicional silêncio em suas salas e um dorido repouso em suas poltronas. O assoalho encerado, sobre o qual ainda escorrega o fantasma da cachorrinha preta, guarda as mesmas manchas e o mesmo taco solto de outras primaveras. As coisas vivem como em preces, nos mesmos lugares onde as situaram as mãos maternas quando eram moças e lisas. Rostos irmãos se olham dos porta-retratos, a se amarem e compreenderem mudamente. O piano fechado, com uma longa tira de flanela sobre as teclas, repete ainda passadas valsas, de quando as mãos maternas careciam sonhar. (...)

Vinícius de Moraes

06. O excerto é predominantemente:
- Dissertativo.
 - Narrativo.
 - Descritivo.
 - Informativo.
07. Em: “Há um tradicional silêncio em suas salas e um dorido repouso em suas poltronas.”, a palavra em destaque só não pode ser substituída por:
- Dormido.
 - Dolente.
 - Dolorido.
 - Doloroso.
08. Leia com atenção as afirmativas abaixo:
- “Jardim” apresenta um encontro consonantal e um dígrafo.
 - Em “encontra” há três encontros consonantais.
 - Em “assoalho” existem dois dígrafos.
 - “Cachorrinha” apresenta mais letras do que fonemas.
- Estão corretas:
- I, II, III.
 - I, II, IV.

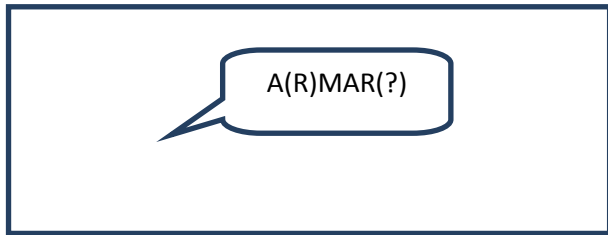
- c) I, III, IV.
d) II, III, IV.

09. “Encontrei-o à noitinha no salão, que servia de gabinete de trabalho, com a filha e três visitantes: João Nogueira, uma senhora de preto, alta, velha, magra, outra moça, loura e bonita. (...)” (Graciliano Ramos).

A expressão “à noitinha” tem o mesmo valor e função sintática em:

- a) Ele chegou **de mansinho** ao lado de Mariana.
b) Ninguém imaginava **o louquinho** que ele era.
c) Comprei uma **mesinha** de centro para minha sala.
d) Não adianta ter esperança: ele é **casadinho** da silva!

10. O texto abaixo, de Marcos Silva, brinca com a possibilidade de formação de palavra:



A melhor opção para interpretar a ideia do autor, pela forma que compôs o texto seria:

- a) Amar significa armar-se.
b) Uma escolha entre amar e armar, pois um exclui o outro.
c) Armar e amar estão sempre no mesmo contexto.
d) Ele não sabe fazer poesia.

11. Assinale a alternativa que contém desvio de concordância feito propositalmente para essa questão:

- a) “Adentrávamos com licenciosidade pelas terras italiana e suíça, regiões fronteiriças.” (Cecília Meireles).
b) “Claros cabelos e semblante que esvaecem Morno contorno e onda que enternecem” (Guilherme de Almeida).
c) “É proibido a entrada de pessoas estranhas. Por favor, não insista.” (Cartaz de um alojamento).
d) Há soldados armados, amados ou não. (Geraldo Vandré).

12. No trecho “Sorte sua viver numa cidade em que você adoraria passar férias” (Anúncio da Riotur), o verbo “viver” encontra-se com o mesmo sentido em:

- a) As crianças **vivem** pedindo para levá-las ao parque.
b) Eu não sei como João **vive** sempre tão cansado!
c) Eu **vivo** para você, meu amor!
d) Os Pereiras **vivem** agora em Santana do Parnaíba.

Matemática

13. Diga qual é o 1359º termo da P.A. $(-146, -143, -140, \dots)$.

- a) 3930.
b) 3929.
c) 3928.
d) 3927.

14. Calcule a soma dos 189 primeiros termos da P.A. $(-55, -51, -47, \dots)$.

- a) 121338.
b) -121338 .
c) 60669.
d) -60669 .

15. Determine o 09º termo da P.G. $(8, 16, 32, \dots)$.

- a) 2048.
b) 2049.
c) 2050.
d) 2051.

16. Qual é a soma dos 13 primeiros termos da P.G. $(-2, 4, -8, 16, \dots)$.

- a) 16386.
b) -16386 .
c) 5462.
d) -5462 .

O enunciado abaixo servirá para responder as questões de número 17, 18 e 19.

Para uma festa foram comprados 06 barris de Chopp de 50 litros cada um, por R\$ 286,00 cada um. Para evitar problemas os 06 barris foram abertos ao mesmo tempo. Ao final da festa descobriram que sobrou 18 litros de Chopp somando os 06 barris. Sendo assim responda:

17. Qual é a porcentagem de Chopp que foi consumido nessa festa?

- a) 5%
b) 6%
c) 95%
d) 94%

18. Qual seria o custo do Chopp que sobrou na festa?

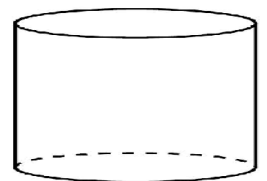
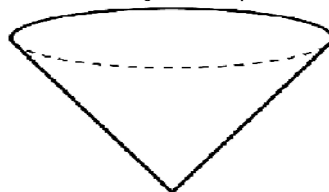
- a) R\$ 129,96.
b) R\$ 129,60.
c) R\$ 112,96.
d) R\$ 102,96.

19. Qual foi o custo de todo o chopp consumido durante a festa?

- a) R\$ 1613,04.
b) R\$ 1683,08.
c) R\$ 1716,00.
d) R\$ 1786,00.

A ilustração a seguir servirá para responder as questões de número 20, 21 e 22.

Esta ilustração representa dois reservatórios de água. O que tem o formato de cilindro tem 06 metros de altura e sua base tem 06 metros de diâmetro. O que tem formato de cone tem 07 metros de altura e sua base tem 09 metros de diâmetro. Tendo essas informações, responda:



20. Qual é a área total do reservatório que tem o formato de cilindro?

- a) 169,57 m²
b) 169,56 m²
c) 169,55 m²
d) 169,54 m²

21. Qual é o volume em litros do reservatório em formato de cone?

- a) 169560 litros.
b) 1695,60 litros.
c) 445095 litros.
d) 4450,95 litros.

22. Qual é o reservatório que tem a maior capacidade de água?

- a) O reservatório que tem o formato de cilindro.
b) O reservatório que tem o formato de cone.
c) Os dois reservatórios tem a mesma capacidade.
d) N.D.A.

23. O quádruplo do quadrado de um número é igual a doze vezes esse mesmo número menos nove. Qual (is) é (são) esse(s) número(s)?

- a) -1,5
- b) 1,5
- c) -1,5 e 1,5
- d) N.D.A.

24. Qual é o resultado da equação $5x - 3^{2^3} - \left(\frac{72}{12}\right)^3 = \frac{20}{4}x - 5x + \frac{4}{5} + \sqrt{\frac{3600}{8100}}$?

- a) Aproximadamente 190,123.
- b) Aproximadamente 189,133.
- c) Aproximadamente 188,143.
- d) Aproximadamente 187,153.

Conhecimentos Gerais

25. Lei nº 10.261, de 28 de outubro de 1968 (Estatuto dos Funcionários Públicos Cíveis do Estado), **Artigo 5º** diz que:

- a) Funcionário público, para os fins deste Estatuto, é a pessoa legalmente investida em cargo público.
- b) Cargo público é o conjunto de atribuições e responsabilidades cometidas a um funcionário.
- c) Os cargos públicos são isolados ou de carreira.
- d) Aos cargos públicos serão atribuídos valores determinados por referências numéricas, seguidas de letras em ordem alfabética, indicadoras de graus.

26. Lei nº 10.261, de 28 de outubro de 1968 (Estatuto dos Funcionários Públicos Cíveis do Estado), **Artigo 26º** diz que:

- a) O funcionário poderá ser transferido de um para outro cargo de provimento efetivo.
- b) As transferências serão feitas a pedido do funcionário ou "ex-officio", atendidos sempre a conveniência do serviço e os requisitos necessários ao provimento do cargo.
- c) A transferência será feita para cargo do mesmo padrão de vencimento ou de igual remuneração, ressalvados os casos de transferência a pedido, em que o vencimento ou a remuneração poderá ser inferior.
- d) A transferência por permuta se processará a requerimento de ambos os interessados e de acordo com o prescrito neste capítulo. Vide decreto nº 4.633, de 01/10/74.

27. Lei nº 10.261, de 28 de outubro de 1968 (Estatuto dos Funcionários Públicos Cíveis do Estado) - Aproveitamento é o reingresso no serviço público do funcionário em disponibilidade. Estamos falando de qual artigo?

- a) 35º.
- b) 36º.
- c) 37º.
- d) 38º.

28. Lei nº 10.261, de 28 de outubro de 1968 (Estatuto dos Funcionários Públicos Cíveis do Estado) - **Artigo 77º** - A apuração do tempo de serviço será feita em dias.

I - Serão computados os dias de efetivo exercício, do registro de frequência ou da folha de pagamento.

II - O número de dias será convertido em anos, considerados sempre estes como de 365 (trezentos e sessenta e cinco) dias.

III - Feita a conversão de que trata o parágrafo anterior, os dias restantes, até 182 (cento e oitenta e dois), não serão computados, arredondando - se para 01 (um) ano, na aposentadoria compulsória ou por invalidez, quando excederem esse número.

Está correto o que se afirma em:

- a) Apenas I.
- b) Apenas II.
- c) Apenas III.
- d) I, II e III.

29. Lei nº 10.261, de 28 de outubro de 1968 (Estatuto dos Funcionários Públicos Cíveis do Estado) - **Artigo 83º** diz que:

- a) Para efeito de aposentadoria será contado o tempo em que o funcionário esteve em disponibilidade.
- b) Não será computado, para nenhum efeito, o tempo de serviço gratuito.

c) É vedada a acumulação de tempo de serviço concorrente ou simultaneamente prestado, em dois ou mais cargos ou funções, à União, Estados, Municípios ou Autarquias em geral.

d) Em regime de acumulação é vedado contar tempo de um dos cargos para reconhecimento de direito ou vantagens no outro.

30. Itajobi está a uma altitude de _____ metros.

Assinale a alternativa que melhor preenche a lacuna.

- a) 452.
- b) 453.
- c) 454.
- d) 455.

31. Getúlio Vargas fechou o Congresso Nacional no ano de _____ e instalou o Estado Novo, governando de forma controladora e centralizadora.

Assinale a alternativa que melhor preenche a lacuna.

- a) 35.
- b) 36.
- c) 37.
- d) 38.

32. O que aconteceu durante a revolta da vacina?

I - Muitas pessoas se negavam a receber a visita dos agentes públicos que deviam aplicar a vacina, reagindo, muitas vezes, com violência.

II - Prédios públicos e lojas foram atacados e depredados.

III - Trilhos foram retirados e bondes (principal sistema de transporte da época) foram virados.

Está correto o que se afirma em:

- a) Apenas I.
- b) Apenas II.
- c) Apenas III.
- d) I, II e III.

33. Presidentes do período militar no Brasil:

I- CASTELO BRANCO (1964-1967)

II- COSTA E SILVA (1967-1969)

III- MEDICI (1969-1974)

Está correto o que se afirma em:

- a) Apenas I.
- b) Apenas II.
- c) Apenas III.
- d) I, II e III.

34. Em 22 de junho de 1884, _____ e sua mulher, oficializaram a doação de "quarto de légua em quadra" a Nossa Senhora Aparecida, para formação de um patrimônio em seu louvor, na fazenda Campo Alegre.

Qual das alternativas melhor preenche a lacuna?

- a) Fernando Peres Barbosa.
- b) Inácio Nantes da Costa.
- c) Miguel Proença Filho.
- d) Samuel Silva Santos.

35. O patrimônio iniciava próximo da confluência do córrego do _____ com Monjolinho, limitando-se a grosso modo, com os córregos da Cisterna e da Queixada, que hoje correm na periferia da cidade.

Qual das alternativas melhor preenche a lacuna acima?

- a) Papagaio.
- b) Periquito.
- c) Maritaca.
- d) Passarinho.

36. Em busca de alternativas para minimizar o aquecimento global, 162 países assinaram o Protocolo de Kyoto em:

- a) 1994.
- b) 1995.
- c) 1996.
- d) 1997.

37. Com relação ao projeto de redemocratização, podemos apontar que o governo Sarney alcançou uma expressiva vitória com a aprovação da Constituição de:

- a)** 1985.
- b)** 1986.
- c)** 1987.
- d)** 1988.

38. Nas eleições presidenciais de _____, Fernando Collor se filiou ao desconhecido Partido da Reconstrução Nacional (PRN) e criou uma chapa para concorrer ao cargo de presidente. Contrariando os prognósticos daquela disputa eleitoral, Fernando Collor venceu as eleições e se sagrou como o primeiro Presidente da República eleito pelo voto direto após o fim da ditadura militar.

Qual das alternativas melhor preenche a lacuna?

- a)** 1989.
- b)** 1990.
- c)** 1991.
- d)** 1992.

39. Entre _____ o governo brasileiro e os farrapos travaram violentos conflitos que desgastaram ambos os lados. Após negociações, as divergências políticas foram sanadas com a assinatura do Tratado de Ponche Verde.

Qual das alternativas melhor preenche a lacuna:

- a)** 1832 e 1842.
- b)** 1833 e 1843.
- c)** 1834 e 1844.
- d)** 1835 e 1845.

40. No governo Médici, observamos o auge da ação dos instrumentos de repressão e tortura instalados a partir de _____. Os famosos “porões da ditadura” ganhavam o aval do Estado para promover a tortura e o assassinato no interior de delegacias e presídios.

Qual das alternativas melhor preenche a lacuna acima?

- a)** 1967.
- b)** 1968.
- c)** 1969.
- d)** 1970.