

INTÉRPRETE DE LÍNGUA BRASILEIRA DE SINAIS - LIBRAS

Escreva seu nome e número de inscrição de forma legível nos locais indicados:

Nome do(a) Candidato(a)

Nº de inscrição

Este caderno de questões está assim constituído:

DISCIPLINAS	Nº QUESTÕES
Português	10
Matemática	10
Informática	05
Legislação, Conhecimentos Gerais e Específicos	15
Total de questões	40

INSTRUÇÕES:

- Confira devidamente o material (CARTÃO DE RESPOSTAS e CADERNO DE QUESTÕES); se houver falha, solicite a presença do fiscal.
- Confira seus dados no CARTÃO DE RESPOSTAS: NOME, Nº da INSCRIÇÃO e CARGO. ASSINE no espaço indicado na frente do cartão.
- O CARTÃO DE RESPOSTAS deverá ser preenchido a caneta esferográfica, azul ou preta, ponta grossa, sem rasuras e apenas uma **ÚNICA** alternativa poderá ser marcada em cada questão. Não amasse nem dobre o CARTÃO DE RESPOSTAS; evite usar borracha. É vedada a substituição do CARTÃO DE RESPOSTAS decorrente de erro cometido por candidato.
- Durante a prova, não é permitida a comunicação entre candidatos nem a utilização de máquina calculadora e/ou similares, livros, anotações, régua de cálculo, impressos ou qualquer outro material de consulta.
- Se o CARTÃO DE RESPOSTAS contiver maior número de alternativas e de questões, preencha apenas as correspondentes à sua prova; as demais ficam em branco.
- O tempo de duração da prova será de **até 3 horas**.
- Ao final dos trabalhos, **DEVOLVA** ao Fiscal da sala, juntamente com o CARTÃO DE RESPOSTAS devidamente preenchido e assinado, o CADERNO DE QUESTÕES, tendo em vista a obrigatoriedade de arquivo no Município.
- A parte destacável no final desta capa, que serve para copiar as suas respostas, somente poderá ser destacada no ato da entrega do material na mesa do fiscal.
- Os três últimos candidatos de cada sala de prova deverão permanecer no recinto, a fim de acompanhar os fiscais até a coordenação para o lacre dos envelopes, quando, então, poderão retirar-se do local simultaneamente, após concluído.
- Direitos autorais reservados à Objetiva Concursos Ltda. Proibida a reprodução, ainda que parcial, sem autorização prévia.

✂..... (dobre e destaque esta parte para copiar suas respostas).....

01	<input type="checkbox"/>	02	<input type="checkbox"/>	03	<input type="checkbox"/>	04	<input type="checkbox"/>	05	<input type="checkbox"/>	06	<input type="checkbox"/>	07	<input type="checkbox"/>	08	<input type="checkbox"/>	09	<input type="checkbox"/>	10	<input type="checkbox"/>
11	<input type="checkbox"/>	12	<input type="checkbox"/>	13	<input type="checkbox"/>	14	<input type="checkbox"/>	15	<input type="checkbox"/>	16	<input type="checkbox"/>	17	<input type="checkbox"/>	18	<input type="checkbox"/>	19	<input type="checkbox"/>	20	<input type="checkbox"/>
21	<input type="checkbox"/>	22	<input type="checkbox"/>	23	<input type="checkbox"/>	24	<input type="checkbox"/>	25	<input type="checkbox"/>	26	<input type="checkbox"/>	27	<input type="checkbox"/>	28	<input type="checkbox"/>	29	<input type="checkbox"/>	30	<input type="checkbox"/>
31	<input type="checkbox"/>	32	<input type="checkbox"/>	33	<input type="checkbox"/>	34	<input type="checkbox"/>	35	<input type="checkbox"/>	36	<input type="checkbox"/>	37	<input type="checkbox"/>	38	<input type="checkbox"/>	39	<input type="checkbox"/>	40	<input type="checkbox"/>

PORTUGUÊS

Caminhar diariamente é um ótimo exercício para deixar o corpo em forma, melhorar a saúde e retardar o envelhecimento. Entretanto, um novo estudo da Universidade de Illinois, nos Estados Unidos, mostra que esse efeito antienvhecimento do exercício pode ser possível também em relação ao cérebro, aumentando seus circuitos e reduzindo os riscos de problemas de memória e de atenção.

Na pesquisa, publicada na edição de setembro da revista *Frontiers in Aging Neuroscience*, os especialistas acompanharam, por um ano, 70 adultos com idades entre 60 e 80 anos. E notaram que aqueles que faziam caminhadas regularmente tiveram muitos benefícios, comparados aos sedentários, não apenas fisicamente, mas em relação a sua função cerebral.

“O grupo aeróbico apresentou melhorias na memória, na atenção e em diversos outros processos cognitivos”, explicou o pesquisador Arthur Kramer, um dos coordenadores do estudo. De acordo com os pesquisadores, _____ os idosos no grupo da caminhada _____ mais em forma, a atividade cerebral aumentava de forma similar à de alguém de 20 anos de idade.

<http://yahoo.minhavidacom.br/conteudo/11914> - adaptado

1) Assinalar a alternativa que preenche CORRETAMENTE, por ordem de aparecimento, as lacunas do texto:

- a) na medida que - ficava
- b) à medida que - ficavam
- c) na medida que - ficavam
- d) na medida em que - ficava

2) Quanto ao texto, assinalar a alternativa CORRETA:

- a) Caminhar retarda o envelhecimento e aumenta as funções cerebrais.
- b) Caminhar propicia uma vida melhor e traz a sensação de se ter 20 anos de idade.
- c) Somente os idosos devem caminhar diariamente, já que beneficia a saúde em todos os aspectos.
- d) Nos centros urbanos, deve-se ter precaução com as caminhadas devido à forte poluição.

3) Em “Entretanto, um novo estudo da Universidade de Illinois...”, o termo sublinhado pode ser substituído, sem prejuízo gramatical ou de significado, por:

- a) Porquanto.
- b) Com tudo.
- c) Não obstante.
- d) Por conseguinte.

4) No fragmento “... entre 60 e 80 anos...”, ao modificar-se o sublinhado por pronomes, assinalar a alternativa que NÃO infringe a gramática normativa:

- a) Eu e tu.
- b) Mim e ti.
- c) Ela e tu.
- d) Você e eu.

5) No fragmento “... não apenas fisicamente, mas em relação a sua função cerebral.”, ao modificar-se o sublinhado, assinalar a alternativa que deve conter o acento indicativo de crase:

- a) A qualquer função.
- b) A esta função.
- c) A outra função.
- d) A uma função.

6) Assinalar a alternativa cuja palavra NÃO flexiona em gênero da mesma forma que “leitor - leitora”:

- a) Apresentador.
- b) Ator.
- c) Cantor.
- d) Encantador.

7) Assinalar a alternativa na qual a palavra possui um ditongo seguido de hiato:

- a) Herói.
- b) Intuíto.
- c) Baía.
- d) Ceia.

8) Quanto à semântica, analisar os itens abaixo:

- I - As fragrâncias muito doces causam-me enjoo ao aspirá-las.
- II - Em fragrante, o criminoso foi pego pela polícia e, logo após, foi preso.

- a) Somente o item I está correto.
- b) Somente o item II está correto.
- c) Os itens I e II estão corretos.
- d) Os itens I e II estão incorretos.

9) A palavra “anoitecer” é formada pelo mesmo processo de:

- a) Empobrecer.
- b) Esquecer.
- c) Reescrever.
- d) Debater.

10) Ao corrigir-se a placa abaixo, segundo as regras da gramática normativa, ter-se-á:



- a) Sejam benvindos.
- b) Sejam bem-vindos.
- c) Sejem bem-vindos.
- d) Sejem benvindos.

MATEMÁTICA

11) Juliana comprou um *smartphone* em duas prestações. Sabendo-se que a primeira prestação correspondeu a $\frac{5}{8}$ do preço do aparelho, e que a segunda foi de R\$ 371,25, é CORRETO afirmar que o valor pago na primeira prestação foi de:

- a) R\$ 990,00
- b) R\$ 852,25
- c) R\$ 736,50
- d) R\$ 618,75

12) Um ciclista, a uma velocidade constante de 24km/h, percorre um trajeto em 3 horas. Quanto tempo seria necessário para fazer o mesmo trajeto se a velocidade fosse de 32km/h?

- a) 2 horas e 15 minutos.
- b) 2 horas e 20 minutos.
- c) 2 horas e 25 minutos.
- d) 2 horas e 30 minutos.

13) Em um hospital, obedece-se à proporção de 1 técnico em enfermagem para cada 5 pacientes. Dessa forma, quantos técnicos em enfermagem devem trabalhar para atender a 90 pacientes?

- a) 12
- b) 14
- c) 16
- d) 18

14) Sabendo-se que uma loja está com 20% de desconto nos artigos de inverno, a função que representa o valor a ser pago após esse desconto sobre o valor x desses artigos é:

- a) $f(x) = x - 20$
- b) $f(x) = -20x$
- c) $f(x) = 0,8x$
- d) $f(x) = 1,8x$

15) Márcia resolveu criar uma poupança para seu filho e começará depositando R\$ 15,00. A cada mês, ela aumentará em R\$ 15,00 o valor depositado. Após efetuar o décimo sexto depósito, quanto Márcia terá, ao todo, na poupança?

- a) R\$ 2.040,00
- b) R\$ 2.055,00
- c) R\$ 255,00
- d) R\$ 240,00

16) Felipe deseja realizar viagens entre Porto Alegre e São Pedro do Sul. Sabendo-se que quatro empresas de ônibus realizam o percurso entre essas cidades, de quantos modos diferentes Felipe pode viajar, considerando-se ida e volta, entre essas duas cidades?

- a) 7
- b) 16
- c) 10
- d) 12

17) Sabrina tem um salário de R\$ 4.500,00 e fez um empréstimo consignado que compromete 42% da sua renda. Qual é o valor da prestação?

- a) R\$ 1.650,00
- b) R\$ 1.770,00
- c) R\$ 1.910,00
- d) R\$ 1.890,00

18) O quadro abaixo apresenta as notas obtidas por um candidato nas 4 fases de um determinado concurso público:

Fases	Nota
1ª) Prova escrita	9,2
2ª) Prova de títulos	8,5
3ª) Avaliação física	7,8
4ª) Avaliação psicológica	8,9

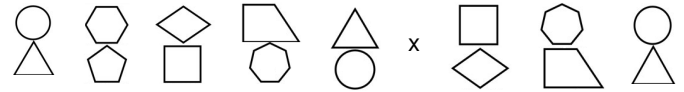
Com base nesse quadro, é CORRETO afirmar que a média aritmética das notas desse candidato é igual a:

- a) 8,7
- b) 9,1
- c) 8,6
- d) 9,2

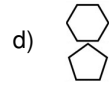
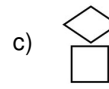
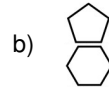
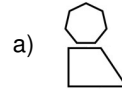
19) Se a diferença e a soma das idades de duas pessoas são, respectivamente, 26 e 72, o produto dessas idades é:

- a) 98
- b) 2.672
- c) 965
- d) 1.127

20) A sequência de figuras abaixo foi formada seguindo um determinado critério:



Seguindo o mesmo critério, qual figura deve ser colocada no lugar do x?



RASCUNHO

INFORMÁTICA

Atenção! Para responder às questões de Informática, a menos que seja explicitamente informado o contrário, considerar que os programas mencionados encontram-se na versão Português-BR e em sua configuração padrão de instalação, possuem licença de uso, o mouse está configurado para destros, um clique ou duplo clique correspondem ao botão esquerdo do mouse e teclar corresponde à operação de pressionar uma tecla e, rapidamente, liberá-la, acionando-a apenas uma vez. Dessa forma, as teclas de atalho, os menus, os submenus, as barras, os ícones e os demais itens que compõem os programas abordados nesta prova encontram-se na configuração padrão, conforme exposto anteriormente.

21) No Painel de Controle do Windows Seven, é possível fazer backup e restaurar arquivos e o sistema, monitorar a configuração e o status do backup mais recente, utilizando o item:

- a) Firewall do Windows.
- b) Barra de Tarefas e Menu Iniciar.
- c) Backup e Restauração.
- d) Ferramentas Administrativas.

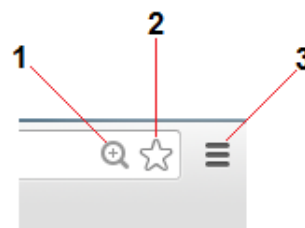
22) Ao selecionar a opção Todos os Programas no menu Iniciar do Windows Seven, é apresentada uma lista de programas e nesta a pasta Acessórios. Assinalar a alternativa que apresenta um aplicativo encontrado na pasta Acessórios:

- a) WordPad.
- b) Word.
- c) Outlook.
- d) Excel.

23) A caixa de diálogo Parágrafo, no Word 2007, permite que o usuário altere as seguintes configurações do texto, EXCETO:

- a) Espaçamento de caracteres.
- b) Paginação.
- c) Recuo do parágrafo.
- d) Espaçamento entre linhas.

24) A imagem abaixo representa o fragmento de uma janela de navegação do Google Chrome. A partir dessa informação, numerar a coluna de acordo com os números indicados na imagem e, após, assinalar a alternativa que apresenta a sequência CORRETA:



- () Menu do Google Chrome.
- () Ferramenta de Zoom da página.
- () Botão adicionar página aos Favoritos.

- a) 1 - 2 - 3.
- b) 3 - 1 - 2.
- c) 2 - 3 - 1.
- d) 2 - 1 - 3.

25) A ferramenta de zoom do Adobe Reader possibilita ao usuário ajustar o:

- I - Tamanho de exibição do documento na tela ao tamanho real de impressão.
- II - Conteúdo à página, de modo que seja possível visualizar uma página inteira do documento sem a necessidade de rolar as páginas para cima ou para baixo.
- III - Conteúdo do documento à largura da tela.

Está(ão) CORRETO(S):

- a) Somente o item I.
- b) Somente os itens I e II.
- c) Somente os itens I e III.
- d) Todos os itens.

LEGISLAÇÃO, CONHECIMENTOS GERAIS E ESPECÍFICOS

Atenção! Nas questões de legislação, serão consideradas as leis e suas alterações até a data do início das inscrições deste concurso.

Conhecimentos Gerais

26) É considerado um direito social do cidadão:

- a) Receber tratamento desumano ou degradante.
- b) Manter-se anônimo.
- c) Fundo de garantia por tempo de serviço.
- d) Liberdade de associação para fins ilícitos.

27) Para que os governos consigam promover o desenvolvimento sustentável, são necessárias algumas medidas. Sobre essas medidas, assinalar a alternativa CORRETA:

- a) Deixar de investir nas necessidades básicas, como em educação, saúde e moradia.
- b) Elaborar um sistema social garantindo emprego, segurança social, respeito a outras culturas e preservação do ambiente.
- c) Incentivar o crescimento populacional.
- d) Aumentar o uso das fontes de energia não renováveis, como, por exemplo, os combustíveis fósseis.

Legislação e Conhecimentos Específicos

28) Conforme a Constituição Federal, assinalar a alternativa que apresenta um dos fundamentos da República Federativa do Brasil:

- a) Dignidade da pessoa humana.
- b) Erradicação da pobreza e da marginalização.
- c) Solução pacífica dos conflitos.
- d) Liberdade de locomoção.

29) De acordo com a Lei Orgânica Municipal, o Governo Municipal é constituído pelos Poderes:

- a) Judiciário e Executivo, independentes entre si.
- b) Legislativo e Executivo, independentes entre si.
- c) Legislativo e Judiciário, harmônicos entre si.
- d) Executivo e Legislativo, dependentes entre si.

30) Conforme a Lei Municipal nº 313/90, contados da data da posse, o prazo para o servidor público entrar em exercício do cargo será de até:

- a) 30 dias.
- b) 20 dias.
- c) 15 dias.
- d) 10 dias.

31) Em conformidade com a Lei Municipal nº 313/90, poderá ser concedida aos servidores públicos licença, com remuneração:

- a) Para o serviço militar.
- b) Para concorrer a mandato eletivo.
- c) Para tratar de assuntos particulares.
- d) Por motivo de doença em pessoa da família, pelo período de até um mês.

32) Em conformidade com a Lei nº 8.069/90 - ECA, analisar a sentença abaixo:

A criança e o adolescente têm direito à informação, à cultura, ao lazer, aos esportes, às diversões, aos espetáculos e aos produtos e serviços que respeitem sua condição peculiar de pessoa em desenvolvimento (1ª parte). É dever somente dos pais e dos professores prevenir a ocorrência de ameaça ou de violação dos direitos da criança e do adolescente (2ª parte).

A sentença está:

- a) Totalmente correta.
- b) Correta somente em sua 1ª parte.
- c) Correta somente em sua 2ª parte.
- d) Totalmente incorreta.

33) Em conformidade com a Lei nº 9.394/96 - LDB, analisar os itens abaixo:

I - Essa Lei disciplina a educação escolar, que se desenvolve, predominantemente, por meio do ensino, em instituições próprias.

II - A educação escolar deverá vincular-se ao mundo do trabalho e à prática social.

- a) Os itens I e II estão corretos.
- b) Somente o item I está correto.
- c) Somente o item II está correto.
- d) Os itens I e II estão incorretos.

34) A Portaria nº 1.793/94 dispõe sobre a:

- a) Implementação do plano de metas Todos pela Educação.
- b) Política Nacional para a Integração da Pessoa Portadora de Deficiência.
- c) Necessidade de complementar os currículos de formação de docentes e outros profissionais que interagem com portadores de necessidades especiais.
- d) Criação do Conselho Nacional de Combate à Discriminação.

35) Em conformidade com o Aviso Circular nº 277/96, são sugestões para facilitar o acesso dos portadores de deficiência ao Ensino Superior, EXCETO:

- a) Colocação de Intérprete, no caso de Língua de Sinais, no processo de avaliação dos candidatos surdos.
- b) Instalação de bancas especiais, contendo, pelo menos, um especialista na área de deficiência do candidato.
- c) Utilização de textos ampliados, lupas ou outros recursos ópticos especiais para as pessoas com visão subnormal/reduzida.
- d) Criação de um mecanismo que identifique a deficiência da qual o candidato é portador, de forma que a universidade possa estabelecer critérios de comparação com os demais alunos.

36) De acordo com a Secretaria de Educação Especial, quanto à Língua Brasileira de Sinais, analisar os itens abaixo:

I - É uma língua muito complexa e apresenta todos os níveis de análises da linguística.

II - É uma língua natural usada pela comunidade surda brasileira.

- a) Os itens I e II estão corretos.
- b) Somente o item I está correto.
- c) Somente o item II está correto.
- d) Os itens I e II estão incorretos.

37) De acordo com a Secretaria de Educação Especial, na Língua Brasileira de Sinais, os sinais manuais são frequentemente acompanhados por expressões faciais que podem ser consideradas gramaticais. Tais expressões são chamadas de:

- a) Tipologias linguísticas.
- b) Sistemas da linguagem.
- c) Pontos abstratos.
- d) Marcações não manuais.

38) Conforme o documento “Que educação nós surdos queremos”, em relação à Língua Brasileira de Sinais, é CORRETO afirmar que:

- a) São línguas impostas às comunidades surdas, constituindo línguas complementares e com estrutura dependente das linguagens orais.
- b) Expressam sentidos ou significações que podem facilmente ser captados e decodificados pela audição.
- c) Tem regras gramaticais iguais às da Língua Portuguesa.
- d) Favorece os surdos no acesso a quaisquer tipos de conceito e conhecimento existentes na sociedade.

39) Em relação às ideias expressas por SKLIAR, analisar a sentença abaixo:

Os projetos chamados de educação bilíngue para surdos têm que se contentar simplesmente em definir formalmente a utilização de duas línguas na educação de surdos (1ª parte). A língua oral e a língua de sinais não constituem uma oposição, mas canais diferentes para a transmissão e a recepção da capacidade mental da linguagem (2ª parte).

A sentença está:

- a) Totalmente correta.
- b) Correta somente em sua 1ª parte.
- c) Correta somente em sua 2ª parte.
- d) Totalmente incorreta.

40) Segundo SKLIAR, os surdos criaram, desenvolveram e transmitiram, de geração em geração, uma língua, cuja modalidade de recepção e produção é:

- a) Multifuncional.
- b) Viso-gestual.
- c) Perceptivo-motora.
- d) Auditivo-oral.