

PROCESSO SELETIVO

Assistente Administrativo

Data: 18/08 /2013

Duração: 3 horas

Caro(a) Candidato(a), leia atentamente e siga as instruções abaixo.

01- A lista de presença deve, obrigatoriamente, ser assinada no recebimento do **Cartão de Respostas** e assinada novamente na sua entrega, na presença e nos locais indicados pelo fiscal da sala.

02- Você recebeu do fiscal o seguinte material:

a) Este **Caderno**, com 40 (quarenta) questões da Prova Objetiva, sem repetição ou falha, conforme distribuição abaixo:

Português	Raciocínio Lógico	Administração Pública	Informática
01 a 10	11 a 20	21 a 30	31 a 40

b) Um **Cartão de Respostas** destinado às respostas das questões objetivas formuladas nas provas.

03- Verifique se este material está em ordem e se o seu nome e número de inscrição conferem com os que aparecem no **Cartão de Respostas**. Caso contrário, notifique **imediatamente** o fiscal.

04- Após a conferência, o candidato deverá assinar no espaço próprio do **Cartão de Respostas**, com caneta esferográfica de tinta na cor **azul** ou **preta**.

05- No **Cartão de Respostas**, a marcação da alternativa correta deve ser feita cobrindo a letra e preenchendo todo o espaço interno do quadrado, com caneta esferográfica de tinta na cor **azul** ou **preta**, de forma contínua e densa.

Exemplo:

A	B	<input checked="" type="checkbox"/>	D	E
---	---	-------------------------------------	---	---

06- Para cada uma das questões objetivas, são apresentadas 5 (cinco) alternativas classificadas com as letras (A, B, C, D e E), mas só uma responde adequadamente à questão proposta. Você só deve assinalar **uma alternativa**. A marcação em mais de uma alternativa anula a questão, mesmo que uma das respostas esteja correta.

07- Será **eliminado** do Processo Seletivo o candidato que:

- Utilizar ou consultar cadernos, livros, notas de estudo, calculadoras, telefones celulares, pagers, walkmans, régua, esquadros, transferidores, compassos, MP3, Ipod, Ipad e quaisquer outros recursos analógicos.
- Ausentar-se da sala, a qualquer tempo, portando o **Cartão de Respostas**.

Observações: *Por motivo de segurança, o candidato só poderá retirar-se da sala após 1 (uma) hora a partir do início da prova.*

O candidato que optar por se retirar sem levar seu Caderno de Questões não poderá copiar sua marcação de respostas, em qualquer hipótese ou meio. O descumprimento dessa determinação será registrado em ata, acarretando a eliminação do candidato.

Somente decorridas 2 horas de prova, o candidato poderá retirar-se levando o seu Caderno de Questões.

08- Reserve os 30 (trinta) minutos finais para marcar seu **Cartão de Respostas**. Os rascunhos e as marcações assinaladas no **Caderno de Questões** não serão levados em conta.

PORTUGUÊS

Texto

CONSUMO É A PALAVRA DE ORDEM

Adriana Guarda, *Diário de Pernambuco*

Uma geração com dinheiro contado no bolso, mas com potencial crescente de consumo e grande influência nas compras de família. O público adolescente está na mira das empresas que tentam entender o comportamento desses jovens e nortear suas ações de *marketing*. Tamanho interesse se justifica pelo fato de quase um terço dos adolescentes com idade entre 12 e 17 anos já possuir cartão de crédito. Isso é uma das constatações do estudo realizado pelo Ibope Mídia.

01. No primeiro período do texto há presença da conjunção adversativa MAS, que opõe os seguintes termos:

- A) geração x família
- B) dinheiro x consumo
- C) contato x crescente
- D) bolso x compras
- E) potencial x influência

02. A alternativa em que a substituição do termo sublinhado por outro foi feita de forma errada é:

- A) potencial de consumo / potencial consumista
- B) compras de família / compras familiares
- C) mira das empresas / mira empresarial
- D) comportamento desses jovens / comportamento juvenil
- E) cartão de crédito / cartão creditado

03. As empresas que procuram entender o comportamento dos jovens são movidas pelo seguinte fator:

- A) interesse
- B) curiosidade
- C) afeto
- D) preconceito
- E) vaidade

04. "...quase um terço dos adolescentes com idade entre 12 e 17 anos já possuir cartão de crédito"; nessa frase, o termo *já* indica que se trata de um fato:

- A) surpreendente
- B) rotineiro
- C) comprovado
- D) curioso
- E) interessante

05. A expressão "com idade entre 12 e 17 anos" significa que os jovens possuem:

- A) de 12 até 17 anos
- B) de 12 até 16 anos
- C) de 13 até 17 anos
- D) de 13 até 16 anos
- E) de 11 até 18 anos

06. "Isso é uma das constatações do estudo realizado"; nesse segmento do texto, a forma do demonstrativo – ISSO – se justifica pelo fato de referir-se a:

- A) um fato acontecido há muito tempo.
- B) um termo anteriormente citado.
- C) um elemento textual próximo no contexto.
- D) um elemento distante no contexto
- E) uma afirmação a ser feita na progressão do texto.

07. "Uma geração com dinheiro contado no bolso"; a expressão "com dinheiro contado" significa que os jovens:

- A) não sabem perfeitamente quanto possuem no bolso.
- B) recebem muito dinheiro de mesada.
- C) economizam no dinheiro recebido dos pais.
- D) trazem pouco dinheiro consigo.
- E) usam dinheiro somente para o lazer.

08. "...mas com potencial crescente de consumo"; isso significa dizer que os jovens:

- A) gastam a cada dia mais
- B) são perdulários em seus gastos
- C) controlam suas economias
- D) consomem a cada dia menos
- E) têm poder econômico forte

09. "...e nortear suas ações de marketing"; isso significa que as empresas desejam:

- A) entender o comportamento dos jovens
- B) determinar como agir em suas campanhas
- C) influenciar nas compras dos jovens
- D) convencer os jovens a gastarem mais
- E) criticar o consumismo da nova geração

10. A palavra *marketing* está escrita em itálico, um tipo diferente de letra, por se tratar de:

- A) termo recentemente criado
- B) vocábulo desconhecido de todos
- C) palavra de origem estrangeira
- D) elemento muito importante do texto
- E) termo empregado em sentido irônico

RACIOCÍNIO LÓGICO

11. Um órgão de pesquisas que financia projetos de uma Universidade exigiu um aumento na produção de artigos científicos em 5% a cada ano. A Universidade fez um planejamento para cumprir essa exigência de 2013 a 2016. Se a Universidade seguir o planejado e em 2013 produzir 8000 artigos científicos, o número de artigos produzidos em 2016 será igual a:

- A) 8650
- B) 8746
- C) 8975
- D) 9154
- E) 9261

12. Para numerar todas as páginas de um livro, o algarismo 8 foi usado exatamente cem vezes. O número máximo de possibilidades de quantidade de páginas que este livro pode ter é:

- A) 2
- B) 4
- C) 6
- D) 8
- E) 10

13. Uma Universidade contratou 10 trabalhadores para fazer a reforma das salas de um determinado Instituto, e o trabalho durou 3 dias. Se a Universidade não contratasse 4 desses trabalhadores, o número necessário de dias para o término da reforma seria igual a:

- A) 4
- B) 5
- C) 6
- D) 7
- E) 8

14. A razão entre o número de alunos inscritos em um curso de administração e o número de alunos inscritos em um curso de contabilidade, nesta ordem, é $\frac{3}{5}$. Sabendo-se que o total de alunos nos dois cursos é igual a 96, o módulo da diferença entre o número de alunos do curso de administração e o número de alunos do curso de contabilidade corresponde a:

- A) 15
- B) 20
- C) 24
- D) 29
- E) 33

15. A afirmação “Se Alberto vai à manifestação na rua, então Beatriz não vai trabalhar” é logicamente equivalente a:

- A) Alberto vai à manifestação na rua e Beatriz não vai trabalhar
- B) Alberto não vai à manifestação na rua e Beatriz não vai trabalhar
- C) Alberto vai à manifestação na rua e Beatriz vai trabalhar
- D) Se Beatriz vai trabalhar, então Alberto não vai à manifestação na rua
- E) Se Alberto não vai à manifestação na rua, então Beatriz vai trabalhar

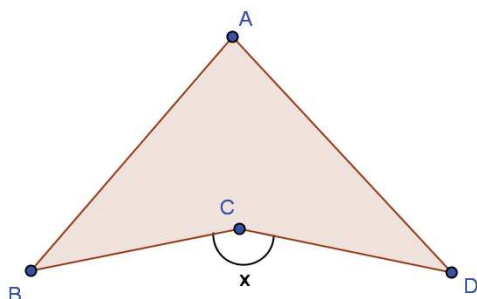
16. A sequência numérica (a, b, c, d) forma uma progressão geométrica (PG) de razão igual a 5. Para que a sequência numérica (a, c, x) seja uma PG, então o valor de x deve ser igual a:

- A) d
- B) 5d
- C) 10d
- D) 15d
- E) 20d

17. João resolveu fazer um cercado no seu quintal, no formato de um triângulo retângulo. A diferença entre as medidas dos catetos é igual a 1 metro. Sabendo-se que as medidas dos três lados desse triângulo formam uma progressão aritmética, a área do cercado triangular, em m², equivale a:

- A) 4
- B) 5
- C) 6
- D) 7
- E) 8

18. A figura abaixo representa o tecido utilizado na confecção de uma asa-delta:



Sabendo-se que os ângulos internos do polígono ABCD medem $\widehat{ABC} = 40^\circ$, $\widehat{BAD} = 80^\circ$ e $\widehat{ADB} = 40^\circ$, a medida do ângulo externo x corresponde a:

- A) 145°
- B) 150°
- C) 155°
- D) 160°
- E) 165°

19. Os casais Arnaldo e Beatriz, Carlos e Dilma e Eliana e Fabiano resolveram ir ao teatro juntos. Todos os casais devem sentar-se juntos, de tal forma que cada homem se sente ao lado de sua respectiva esposa nas seis cadeiras que tinham disponíveis na primeira fila do teatro. Com base nessas informações, o número de maneiras diferentes com que esses casais podem sentar-se é igual a:

- A) 48
- B) 50
- C) 56
- D) 60
- E) 65

20. João precisa abrir o cadeado do seu armário da sala dos professores. Este cadeado possui uma senha numérica de 4 algarismos. João sabe que o primeiro algarismo é maior que 4 e que o último é 5, mas não se lembra de mais nenhuma informação sobre sua senha. A probabilidade de João acertar a senha na primeira tentativa é igual a:

- A) 0,2%
- B) 0,3%
- C) 0,4%
- D) 0,5%
- E) 0,6%

ADMINISTRAÇÃO PÚBLICA

21. A modalidade de licitação entre quaisquer interessados que, na fase inicial de habilitação preliminar, comprovem possuir os requisitos mínimos de qualificação exigidos no edital para execução de seu objeto é:

- A) Convite
- B) Leilão
- C) Concorrência
- D) Pregão
- E) Tomada de preço

22. A situação que configura um dos casos em que o processo licitatório pode ser dispensável é quando:

- A) se der o restabelecimento da relação que as partes pactuaram inicialmente entre os encargos do contratado
- B) tiver a União que intervir no domínio econômico para regular preços ou normalizar o abastecimento
- C) houver modificação do projeto ou das especificações para melhor adequação técnica aos seus objetivos
- D) ocorrer a necessária troca da forma de pagamento, por imposição de circunstâncias supervenientes, mantido o valor inicial atualizado
- E) houver uma modificação necessária do regime de execução da obra ou serviço, bem como do modo de fornecimento

23. Em relação à aplicação de despesas de adiantamento, conforme a Lei Estadual nº 287/79, Artigo 1067, § 4º, o fornecimento de material e a execução de obra ou serviço serão atestados nos comprovantes da despesa por:

- A) autoridade ordenadora da despesa, com o visto da autoridade requisitante e responsável pelo adiantamento
- B) um servidor, além do responsável pelo adiantamento, e pela autoridade ordenadora da despesa.
- C) servidor responsável pelo adiantamento e por todas as autoridades envolvidas.
- D) três servidores, com o visto da autoridade ordenadora da despesa, e pela autoridade requisitante.
- E) dois servidores que não o responsável pelo adiantamento, com o visto da autoridade requisitante

24. “O documento timbrado de caráter informativo que, quando devidamente preenchido, é utilizado para emissão de despacho, informações, encaminhamento e/ou outros atos necessários à instituição dos processos, recebendo carimbo padrão para sua validação como parte integrante de um processo” é denominado:

- A) folha do processo
- B) emenda carmin
- C) folha de instrução
- D) fluxo de processo
- E) instrução processual

25. Para efeito da Lei nº 12.527/2011 (Acesso à Informação), conforme Capítulo III - DO PROCEDIMENTO DE ACESSO À INFORMAÇÃO, Seção II - Dos Recursos, Art. 15., no caso de indeferimento de acesso a informações ou às razões da negativa do acesso, poderá o interessado interpor recurso contra essa decisão no prazo de:

- A) 10 (dez) dias a contar da ciência.
- B) 30 (trinta) dias a contar da data do pedido.
- C) 15 (quinze) dias úteis a contar da ciência.
- D) 20 (vinte) dias a contar da data do pedido.
- E) 60 (sessenta) dias a contar da ciência.

26. A licitação entre quaisquer interessados para venda de bens móveis inseríveis para a administração ou de produtos legalmente apreendidos ou penhorados, diz respeito a modalidade:

- A) leilão
- B) pregão
- C) tomada de preço
- D) convite
- E) concurso

27. A concessão de serviços públicos, realizada na modalidade de comitê, requer um número mínimo de:

- A) dois licitantes
- B) quatro licitantes
- C) cinco licitantes
- D) três licitantes
- E) seis licitantes

28. Levando-se em consideração a Lei nº 287, de 04 de dezembro de 1979, Seção II – Das Subvenções e Auxílios, Art. 41, não poderão receber auxílios ou subvenções do Estado os serviços que tiverem a finalidade de promover:

- A) a cultura, inclusive física e desportiva, em qualquer modalidade ou grau
- B) o amparo ao menor, ao adolescente, ao adulto desajustado ou enfermo
- C) o ensino religioso de qualquer religião nas escolas
- D) o civismo e a educação política
- E) a defesa da saúde coletiva ou a assistência médico-social ou educacional

29. O procedimento de encerramento do volume de um processo deve ser realizado quando for alcançado o limite máximo do seguinte número de folhas:

- A) 100
- B) 200
- C) 250
- D) 300
- E) 150

30. Para efeito da Lei nº 12.527/2011 (Acesso à Informação), Art. 4º, considera-se “primariedade” a qualidade da informação quando:

- A) processada ou não para produção e transmissão de conhecimento em qualquer meio, suporte ou formato
- B) conhecida e utilizada por indivíduos, equipamentos ou sistemas autorizados
- C) produzida, expedida, recebida ou modificada por determinado indivíduo, equipamento ou sistema
- D) não modificada, inclusive quanto à origem, trânsito e destino
- E) coletada na fonte, com o máximo de detalhamento possível, sem modificações.

INFORMÁTICA

31. Atualmente, a conexão de impressoras multifuncionais a notebooks, ultrabooks e microcomputadores versão desktop, é feita por meio de um cabo que utiliza conectores específicos, cujas imagens são mostradas na figura a seguir:



Os conectores mostrados são dos tipos A e B, e são conhecidos pela seguinte sigla:

- A) HDMI
- B) USB
- C) PS/2
- D) AGP
- E) SVGA

32. Tem sido observado que é bastante comum um valor especificado para a capacidade máxima de armazenamento dos discos rígidos SATA que fazem parte da configuração de microcomputadores da linha Intel, comercializados atualmente. Esse valor é:

- A) 4 Mytes
- B) 8 GBytes
- C) 128 TBytes
- D) 500 GBytes
- E) 256 MBytes

33. No sistema operacional Windows 7 BR, pressionar a tecla Win-



dows, que corresponde a  no teclado, tem por significado:

- A) abrir a janela do gerenciador de arquivos do Windows 7 BR conhecido por Computador
- B) acionar a janela de configuração de vídeo, visando alterar a resolução em pixels
- C) classificar em ordem alfabética os ícones configurados na Área de Trabalho
- D) alternar o acesso entre programas em execução de forma concorrente
- E) abrir uma janela como consequência do acionamento do botão Iniciar

34. No software Writer do pacote BROffice 2.4, um atalho de teclado tem por significado selecionar todo o texto. Esse atalho é:

- A) Alt + T
- B) Ctrl + T
- C) Ctrl + S
- D) Ctrl + A
- E) Alt + A

35. No software Word 2010 BR, pressionar a tecla F1 tem por objetivo:

- A) inserir subscrito a uma seleção no texto
- B) verificar a ortografia e gramática do texto
- C) mostrar na tela a janela de Ajuda do Word
- D) diminuir tamanho da fonte aplicada a um texto
- E) aumentar nível de recuo de um parágrafo

36. A planilha abaixo foi criada no Excel 2010 BR.

	A	B	C	D	E
1	UEZO - 2013				
2					
3	Números:	32	52	92	42
4					
5				Soma =	?
6				Maior =	92






Na planilha foram adotados os procedimentos listados a seguir:

- Em E5 foi inserida a expressão =SOMA(B3:D3).
- Em E6 foi inserida uma expressão para determinar o maior número entre todos no intervalo de B3 a E3.

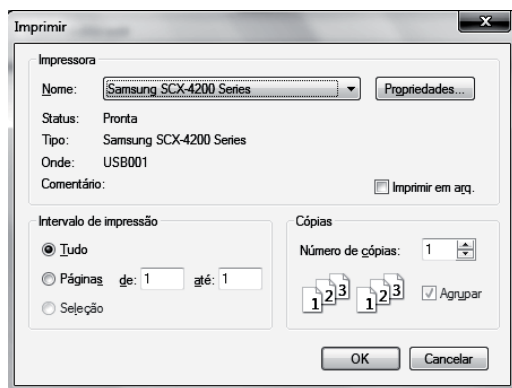
Nessas condições, o valor mostrado em E5 e a expressão inserida em E6 são, respectivamente:

- A) 176 e =MÁXIMO(B3:E3;1)
- B) 176 e =MAIOR(B3:E3;1)
- C) 176 e =MAIOR(B3:E3)
- D) 124 e =MÁXIMO(B3:E3)
- E) 124 e =MAIOR(B3:E3;1)

37. No software Powerpoint do pacote MSOffice 2010 BR, um ícone corresponde a um recurso que permite, em uma apresentação, incluir desenhos, filmes, sons ou fotos de catálogo para ilustrar um conceito específico. Esse ícone é:

- A)  Clip-Art
- B)  Formas
- C)  SmartArt
- D)  Imagem
- E)  WordArt

38. No browser Firefox Mozilla, a execução de um atalho de teclado faz com que seja mostrada uma janela, semelhante à figura abaixo, na tela do monitor de vídeo.



Por meio da janela, pode-se imprimir o conteúdo da página mostrada na tela. O atalho de teclado é:

- A) Ctrl + F8
- B) Alt + F8
- C) Ctrl + M
- D) Alt + P
- E) Ctrl + P

39. No que diz respeito às redes sociais, *Twitter* é um recurso estruturado com seguidores e seguidos, por meio do qual cada usuário pode escolher quem deseja seguir e por quem ser seguido, havendo a possibilidade do envio de mensagens em modo privado para outros perfis. Ele permite divulgar vídeos, fotos e direcionar o leitor a outras páginas da *web* por meio de *links*. Muito usado por empresas como ferramenta para campanhas publicitárias, esse recurso possibilita a criação de textos com tamanho máximo igual a:

- A) 140 caracteres
- B) 140 bits
- C) 256 caracteres
- D) 512 bits
- E) 512 caracteres

40. No contexto da segurança das informações, "backup" está associado à realização de cópias de segurança, por meio de determinados dispositivos, para garantir a integridade dos dados armazenados. São exemplos desses dispositivos:

- A) BLU-RAY e PLOTTER
- B) PLOTTER e PENDRIVE
- C) PENDRIVE e CD/RW
- D) CD/RW e SCANNER
- E) SCANNER e BLU-RAY