

Cargo: **Agente de Trânsito**

Língua Portuguesa

Leia a notícia:

OS PALAVRÓRIOS EM DILMÊS EXIGEM TRADUÇÃO SIMULTÂNEA, LEGENDAS E VERSÃO DUBLADA

Incompreensível em qualquer tema, o dilmês se torna impenetrável quando o assunto é economia. A confusão armada por Dilma Rousseff ao tentar explicar o que acha da inflação nada tem de surpreendente para os leitores da coluna. Como no discurso que inspirou o post republicado na seção *Vale Reprise*, o neurônio solitário fez o que sempre faz quando penetra nesse campo minado: não disse coisa com coisa.

A performance na África do Sul confirmou que a presidente não pode falar de improviso sem ter ao lado um craque em tradução simultânea. E os vídeos que registram o palavrório em dilmês exigem legendas em português. Caso a inovação pareça excessivamente constrangedora, a coluna sugere aos marqueteiros do Planalto o imediato lançamento da versão dublada.

28/03/2013 <http://veja.abril.com.br/blog/augusto-nunes/>

01. Sobre o texto acima e seus aspectos linguísticos e semânticos escreva (V) para verdadeiro ou (F) para falso:
- () A palavra dilmês é um neologismo.
 - () O título do texto apresenta claramente uma ironia.
 - () As palavras “performance” e “post” são estrangeirismos.
 - () A palavra “**impenetrável**” em “[...] o dilmês se torna impenetrável quando o assunto é economia.”, pode ser substituída por “**incompreensível**” sem causar prejuízo de sentido ao texto.
 - () As palavras **neurônio**, **solitário** e **simultânea** são acentuadas pela mesma regra.

Assinale a alternativa que indica a sequência correta de cima para baixo:

- A) V, V, F, F, F. B) F, F, V, V, V. C) V, V, V, V, V. D) F, F, F, F, F. E) F, V, F, V, F.

02. No texto abaixo, os parágrafos foram colocados, de propósito, fora de sua sequência normal. Numere os parênteses de 1 a 5, de acordo com a ordem em que os parágrafos devem aparecer para que o texto tenha sentido. Leia o texto a seguir e assinale a opção que dá sequência com coerência e coesão:

PENA DE MORTE NO BRASIL PARA CRIMES HEDIONDOS

- () No entanto, tenho conhecimentos em alguns casos de crimes hediondos em que foram feitas tentativas de recuperação ao criminoso, houve melhoras significativas, portanto, dar uma segunda chance, seria uma ação humana admirável.
- () Porém há opiniões contrárias a minha, que acreditam na pena de morte como única alternativa para crimes hediondos, valendo-se do pensamento “olho por olho, dente por dente”.
- () Na minha opinião, a pena de morte, não deve ser implantada no Brasil, é um critério de punição muito severo, é um poderio do qual homem nenhum deveria utilizar.
- () Enfim, não temos o poder de dar vida às pessoas, muito menos de tirá-la, por piores que sejam os crimes, eu acredito que no máximo a prisão perpétua, deveria ser a sentença de um acusado.
- () É indiscutível o pensamento “violência gera violência”, quem somos para colocarmos um fim na vida de um ser humano, por piores atrocidades que possam ter cometidos?

Fonte: <http://thunderms1.blogspot.com/>

Assinale a opção que dá sequência com coerência e coesão:

- A) 3 - 5 - 2 - 1 - 4. B) 4 - 3 - 2 - 1 - 5. C) 1 - 2 - 3 - 4 - 5. D) 5 - 4 - 3 - 2 - 1. E) 1 - 2 - 3 - 5 - 4.

Leia o fragmento abaixo e responda a questão 03:

“Uma faixa com os dizeres “Maricotinha, te amo” ou “Obrigado a santo Agapito pela graça alcançada”, estendida de poste a poste, de um lado a outro da rua, estimula que alguém pendure outras faixas apregoando “Vendem-se túmulos” ou “Jazigos abaixo do custo”, como já vi perto de cemitérios, penduradas de árvore a árvore”.

03. “Vendem-se túmulos” podemos afirmar que :

- I. A frase está na voz passiva, pois a partícula “se” é apassivadora.
- II. O sujeito “túmulos” sofre a ação verbal.
- III. Se a frase for reescrita na voz passiva sintética teremos: “Túmulos são vendidos”.
- IV. Em: “Precisa-se de túmulos”, a partícula é apassivadora, porém o verbo deve ficar no singular, pois sua regência assim exige.

Assinale a alternativa correta:

- A) Estão corretas somente as afirmativas II, III e IV.
- B) Estão corretas somente as afirmativas I, II e III.
- C) Estão corretas as afirmativas I, II, III e IV.
- D) Estão corretas somente as afirmativas III e IV.
- E) Está correta somente a afirmativa IV.

As questões de 04 a 07 são relacionadas ao artigo a seguir:

O ERRO DO SÉCULO

Faz dez anos que o colosso americano invadiu o Iraque governado por Saddam Hussein. O motivo apresentado ao mundo foi a existência de armas químicas, biológicas, nucleares de destruição em massa. O espantinho do apocalipse frequentou discursos importantes, inclusive o anual diante do Congresso dos Estados Unidos. Nessa encenação até Tony Blair queimou seu patrimônio político conquistado na década de 90 ao ratificar a farsa. Bush tentou obter aval das Nações Unidas para a sua guerra e não conseguiu; mesmo assim, foi adiante, montando força basicamente anglófona para sua empreitada.

As bravatas de Saddam cederam rapidamente diante dos mísseis que zuniam sobre Bagdá. Em Basra, mais perto do litoral, os ingleses fizeram o serviço com tropas terrestres. Em poucos dias as estátuas de Saddam eram derrubadas e os caos se espalhou com saques, vinganças de vítimas da ditadura, acertos de contas entre rivais políticos, violência de fundo religioso. O que era ruim ficou péssimo.

Confirmada a inexistência de arsenal letal, o discurso mudou e o motivo da guerra passou a ser a construção da democracia no Iraque. Não mais proteger o mundo, mas libertar os iraquianos do tirano cruel. Diga-se, a truculência de Saddam e seus filhos, especialmente Uday, atingia níveis de sadismo difíceis de imaginar, mas em essência semelhante à de outros déspotas que não foram derrubados pelo exército do império. Implantar democracia mediante o "prendo e arrevento quem não concordar comigo" é tolice que soa cômica, não fosse causa de tragédias. A democracia não é produto prêt-à-porter. É modo de convivência política que admite variações decorrentes da cultura de cada povo que a constrói por si.

As instituições norte-americanas, anestesiadas pelo terror do 11 de setembro de 2001, não conseguiram impedir a iniciativa belicosa de George Bush. Aliás, qualquer um que tentasse levantar argumento sensato padecia da acusação de antipatriotismo. A debilidade do sistema de freios e contrapesos formais e do conjunto das organizações da sociedade civil diante da maré de insanidade que levou à invasão do Iraque é caso para estudos acadêmicos. Quem sabe os estudiosos digam como evitar que a democracia caia nessas armadilhas.

Adeptos da teoria da conspiração recitam mantras sobre a intenção de assenhorear-se do petróleo. Quem gastou US\$ 1 bilhão por dia para manter as armas poderia ter comprado todo o óleo do planeta. O déficit fiscal norte-americano explodiu em razão dessa despesa e hoje contamina a economia mundial com o tsunami de dólares sem lastro que Obama emite para pagar despesas correntes.

A vendetta de Bush foi tão tola a ponto de servir à revanche do Irã, derrotado na guerra contra o Iraque nos anos 80. Ao derrubar o sunita Saddam, os Estados Unidos permitiram que os xiitas do Iraque se aliassem a seus pares iranianos, aumentando o peso do Irã no Oriente Médio, alterando as relações de poder da região e propiciando a sua entrada no clube nuclear. **Bush fez política com o fígado e os Estados Unidos arcarão muito tempo com o custo político, emocional e moral dessa guerra.**

www.gazetadopovo.com.br-25/03/2013 - Friedmann Wendpap

Em "O motivo apresentado ao mundo foi a existência de armas químicas, biológicas, nucleares de destruição em massa. O espantinho do apocalipse frequentou discursos importantes, inclusive o anual diante do Congresso dos Estados Unidos. Nessa encenação até Tony Blair queimou seu patrimônio político conquistado na década de 90 ao ratificar a farsa. Bush tentou obter aval das Nações Unidas para a sua guerra e não conseguiu; mesmo assim, foi adiante, montando força basicamente anglófona para sua empreitada."

04. Os termos sublinhados não alterariam o sentido do texto se fossem substituídos, respectivamente, por:

- A) Prejudicou – confirmar – apoiou.
- B) Explodiu – retificar – assinatura.
- C) Desacreditou – desfez - não apoiou.
- D) Aprovou – refutou - avaliou.
- E) Construiu – enjeitou – desabono.

05. Em " **Faz** dez anos que o colosso americano invadiu o Iraque governado por Saddam Hussein". O verbo **fazer** só NÃO pode ser substituído por :

- I. Fazem.
- II. Há.
- III. Há cerca de.

Assinale a alternativa correta:

- A) Está correta somente a afirmativa II.

- B) Está correta somente a afirmativa III.
C) Estão corretas somente as afirmativas II e III.
D) Está correta somente a afirmativa I.
E) Estão corretas somente as afirmativas I e II.
06. A expressão “ As bravatas de Saddam “ significa que:
A) Saddam tomava atitudes corajosas.
B) As atitudes de Saddam eram bravas.
C) As lutas de Saddam contra o governo americano não eram legítimas.
D) As mentiras de Saddam em relação às armas nucleares.
E) As ameaças de Saddam eram apenas fanfarrices .
07. Com relação ao parágrafo anterior, o último parágrafo, destacado abaixo, expressa uma:
“**Bush fez política com o fígado e os Estados Unidos arcarão muito tempo com o custo político, emocional e moral dessa guerra.**”
A) Justificativa.
B) Advertência.
C) Condição.
D) Oposição.
E) Contradição.

Matemática

08. Qual é o valor numérico da soma $5 + 10 + 15 + \dots + 75$?
A) 750.
B) 195.
C) 570.
D) 105.
E) 600.
09. O Sr. Juca gasta 420 kg de ração para alimentar suas 7 vacas durante 15 dias. Ao comprar mais 2 vacas, quantos quilos de ração ele irá gastar para alimentar seu rebanho durante 8 dias?
A) 274.
B) 362.
C) 500.
D) 288.
E) 540.
10. O valor da expressão $(0,4)^{-2} : 2^{-4}$ é igual a:
A) 256.
B) 1.
C) 100.
D) 16.
E) 4.
11. De quantas maneiras oito pessoas podem sentar-se num banco que tem apenas três lugares?
A) 24.
B) 336.
C) 21.
D) 249.
E) 320.
12. Numa progressão geométrica o quinto termo é cinco e o sétimo é vinte. Qual é o sexto termo dessa progressão geométrica?
A) 10.
B) 80.
C) 4.
D) 15.
E) 25.

13. Se $\log_a 5 = 0,70$ e $\log_a 3 = 0,30$ então o valor de $\log_a 15$ é:


- A) 1.
B) 100.
C) 21.
D) 15.
E) 8.

14. Numa caixa há sete bolas brancas e três bolas pretas. A probabilidade de se retirar, ao acaso, uma bola preta da caixa é:


- A) 20%
B) 52%
C) 10%
D) 42%
E) 30%

Conhecimentos Gerais, Desenvolvimento Intelectual e Psicológico

15. A montagem do diagrama abaixo resultará em um dos cubos apresentados nas opções de A) a E):



Assinale a opção que indica o cubo correto.



16. Apenas uma das afirmativas abaixo está correta. Indique qual:

- A) Kilimanjaro é a montanha mais alta da Ásia.
B) Politeísmo é a crença religiosa baseada em um único Deus.
C) Ambidestro é a pessoa que possui habilidades iguais nas duas mãos.
D) Moais é o nome dado aos monumentos encontrados na ilha de Capri na Itália.
E) Minotauros são lendários gigantes imortais com um olho só no meio da testa.

17. Marque V para verdadeiro e F para Falso:

- () Margareth Thatcher, ex primeira ministra britânica falecida recentemente, era conhecida como "A Dama de Ferro".
() O filme "ARGO" foi o vencedor como melhor filme do Oscar 2013.
() O Greenpeace é uma organização global cuja missão é proteger o meio ambiente, promover a paz e inspirar mudanças de atitudes que garantam um futuro mais verde e limpo para esta e para as futuras gerações.
() A Jornada Mundial da Juventude promovida pela Igreja Católica, acontecerá no Brasil, no mês de julho de 2013 e prevê a visita do novo Papa ao país.
() A Copa das Confederações da FIFA acontece no Brasil em junho de 2013.

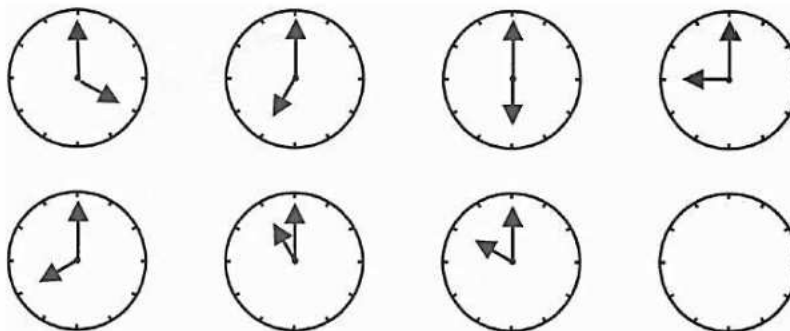
Assinale a alternativa que indica a sequência correta de cima para baixo:

- A) V, V, F, F, V. B) F, V, V, V, V. C) V, V, F, V, V D) V, V, V, V, V.. E) V, V, V, F, V.

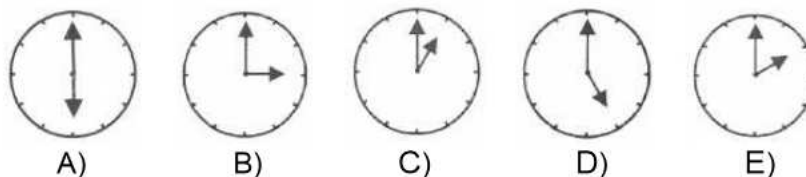
18. Cada costureira demora 3 horas para montar uma camisa. Pelas normas da empresa onde elas trabalham, cada camisa deve ser montada por uma única pessoa. O tempo necessário para que as dez costureiras montem as 48 camisas de uma encomenda é:

- A) 20 horas. B) 15 horas. C) 18 horas D) 5 horas. E) 16 horas.

19. Considerando a sequência lógica, que horas são no relógio em branco?



Assinale a opção correta:



20. Assinale a alternativa incorreta:

- A) A morte de Hugo Chávez, aos 58 anos, marca o fim de um período de quase 14 anos nos quais o ex-coronel esteve à frente da Venezuela e promoveu inúmeras transformações - defendidas por seus simpatizantes e criticadas pelos opositores.
- B) O anúncio de que uma criança havia sido curada do vírus do HIV foi comemorado como um avanço no tratamento de recém-nascidos infectados com a doença. A cura definitiva da AIDS, porém, ainda deve demorar a ser descoberta. Se os resultados forem confirmados, será o primeiro caso de cura "funcional" (quando o paciente apresenta remissão da doença após a suspensão dos medicamentos) de uma criança.
- C) A queda de um meteorito na Rússia e, no mesmo dia, a passagem de um asteroide próximo a órbita terrestre deixou o mundo em alerta para a possibilidade, mesmo que remota, de um desastre global. Os incidentes, apesar de semelhantes, não têm relação entre si, segundo especialistas.
- D) O cardeal argentino Francisco Mário Bergoglio foi eleito o novo Papa da Igreja Católica assumindo o nome de Francisco.
- E) A presidente Dilma Rousseff sancionou em 20 de dezembro de 2012 a lei que torna mais rígida a punição para motoristas que dirigem alcoolizados. A nova Lei Seca corrige uma brecha da anterior, permitindo que sejam utilizados outros meios, além do bafômetro, para comprovar a embriaguez ao volante.

Conhecimentos Específicos Relativos ao Cargo

21. Assinale a resposta correta: Você está conduzindo tranquilamente o seu veículo na cidade de Petrolina e ao chegar no cruzamento da Av: "Sou Esperto" com a Rua: "Sei Tudo" verifica que não há sinalização viária, fica atento, pois sabe que a preferência de passagem é:

- A) Do veículo de menor porte.
- B) Do veículo de maior porte.
- C) Do veículo que chegar mais rápido no cruzamento.
- D) Do veículo que vem da sua esquerda.
- E) Do veículo que vem da sua direita.

22. Marque com V a alternativa verdadeira e F a alternativa falsa:



Quanto à placa apresentada, podemos dizer que:

- () Indica "mão única".
- () É uma sinalização vertical.
- () É uma placa de regulamentação.
- () É uma placa de advertência.
- () Indica sentido de circulação da via.

Marque a alternativa que indica a sequência correta, de cima para baixo:

- A) V, F, F, V, F.
- B) V, V, V, F, V.
- C) F, V, F, F, V.
- D) F, F, V, V, F.
- E) F, F, F, V, F.

23. Marque com V a alternativa verdadeira e F a alternativa falsa: Quanto à SINALIZAÇÃO VIÁRIA, é CORRETO afirmar que:
- () Placas com as cores: fundo branco, símbolo preto, orla e tarja vermelhas, significam: "Sinalização Vertical de ADVERTÊNCIA".
 - () Placas com as cores: fundo amarelo e símbolo preto, significam: "Sinalização Vertical de REGULAMENTAÇÃO";
 - () A circulação de veículos sempre far-se-á pelo lado direito da via; admitindo-se, pelo lado esquerdo (mão inglesa), quando sinalizado.
 - () O Código de Trânsito Brasileiro prevê situações ou locais sem sinalização de trânsito e determina como proceder em tais situações;
 - () Havendo algum obstáculo que impeça a livre circulação de pessoas e veículos, tanto na via quanto na calçada, caso não possa ser retirado, não necessita de sinalização.

Marque a alternativa que indica a sequência correta, de cima para baixo:

- A) V, F, F, V, F. B) V, V, V, F, V. C) F, V, F, F, V. D) F, F, V, V, F. E) F, F, F, V, F.

24. Marque com V a alternativa verdadeira e F a alternativa falsa:



Quanto à placa apresentada, podemos dizer que:

- () É uma placa de regulamentação.
- () Indica "siga em frente".
- () Indica "mão única".
- () Indica "passagem obrigatória".

Assinale a alternativa que indica a sequência correta, de cima para baixo:

- A) V, F, F, V. B) V, V, F, F. C) F, V, F, F. D) F, V, V, V. E) F, F, F, V.

25. Marque com V a alternativa verdadeira e F a alternativa falsa:

- (.....) Ao aproximar-se de qualquer tipo de cruzamento, o condutor do veículo deve demonstrar prudência especial, transitando em velocidade moderada, de forma que possa deter seu veículo com segurança para dar passagem a pedestre e a veículos que tenham o direito de preferência.
- (.....) Mesmo que a indicação luminosa do semáforo lhe seja favorável, nenhum condutor pode entrar em uma interseção se houver possibilidade de ser obrigado a imobilizar o veículo na área do cruzamento, obstruindo ou impedindo a passagem do trânsito transversal.
- (.....) Sempre que for necessária a imobilização temporária de um veículo no leito viário, em situação de emergência, deverá ser providenciada a imediata sinalização de advertência, na forma estabelecida pelo CONTRAN.

Assinale a alternativa que indica a sequência correta, de cima para baixo:

- A) V, F, F. B) V, F, V. C) V, V, F. D) V, V, V. E) F, F, F.

26. É correto afirmar que DIREÇÃO DEFENSIVA é:

- A) Responsável pela grande maioria dos acidentes e que o fator humano está presente; porém, não há que se exigir ações preventivas e responsabilidade dos condutores e pedestres.
- B) Um conhecimento técnico, com o intuito de fazer com que o condutor conduza o seu veículo sempre com atenção e possa prever o que fazer com antecedência e tomar as decisões certas para evitar acidentes.
- C) O simples conhecimento técnico é suficiente para tornar o trânsito seguro, pois o que vale é conhecer somente da sinalização e da mecânica do veículo.
- D) Uma forma de dirigir, que não permite ao condutor do veículo reconhecer antecipadamente as situações de perigo.
- E) Toda ocorrência trágica, que quando previsível é inevitável.

27. Assinale abaixo a resposta INCORRETA, considerando o seguinte texto do Código de Trânsito Brasileiro:

A velocidade máxima permitida para a via será indicada por meio de sinalização, obedecidas suas características técnicas e as condições de trânsito. Porém, onde não existir sinalização regulamentadora, nas vias urbanas, a velocidade máxima será de:

- A) Oitenta quilômetros por hora, nas vias de trânsito rápido.
- B) Sessenta quilômetros por hora, nas vias arteriais.
- C) Quarenta quilômetros por hora, nas vias coletoras.
- D) Trinta quilômetros por hora, nas vias locais.
- E) Cinquenta quilômetros por hora, nas vias centrais.

28. Quanto ao EMBARQUE OU DESEMBARQUE, analise as afirmativas:

- I. Quando proibido o estacionamento na via, a parada deverá restringir-se ao tempo indispensável para embarque ou desembarque de passageiros, desde que não interrompa ou perturbe o fluxo de veículos ou a locomoção de pedestres.
- II. O embarque e o desembarque devem ocorrer sempre do lado da calçada, inclusive para o condutor.
- III. O condutor e os passageiros não deverão abrir a porta do veículo, deixá-la aberta ou descer do veículo sem antes se certificarem de que isso não constitui perigo para eles e para outros usuários da via.

Assinale a alternativa CORRETA:

- A) Somente a afirmativa I está correta.
- B) Somente a afirmativa III está correta.
- C) Somente as afirmativas I e III estão corretas.
- D) Somente a afirmativa II está correta.
- E) Somente as afirmativas II e III estão corretas.

29. Quanto ao CICLISTA e BICICLETA, marque com V a alternativa verdadeira e F a alternativa falsa:

- () O ciclista desmontado e empurrando a bicicleta, equipara-se ao pedestre em direitos e deveres.
- () Nas vias urbanas e nas rurais de pista dupla, a circulação de bicicletas deverá ocorrer, quando não houver ciclovia, ciclofaixa, ou acostamento, ou quando não for possível a utilização destes, nos bordos da pista de rolamento, no mesmo sentido de circulação regulamentado para a via, com preferência sobre os veículos automotores.
- () A autoridade de trânsito, com circunscrição sobre a via, poderá autorizar a circulação de bicicletas no sentido contrário ao fluxo dos veículos automotores, desde que dotado o trecho com ciclofaixa.
- () Desde que autorizado e devidamente sinalizado pelo órgão ou entidade com circunscrição sobre a via, será permitida a circulação de bicicletas, nos passeios.

Assinale a alternativa que indica a sequência correta, de cima para baixo:

- A) V, V, F, V. B) F, V, F, F. C) V, F, V, F. D) V, V, V, V. E) F, F, F, F.

30. Quanto às PENALIDADES, marque com V a alternativa verdadeira e F a alternativa falsa:

- () A imposição da penalidade não será comunicada aos órgãos ou entidades executivos de trânsito responsáveis pelo licenciamento do veículo e habilitação do condutor.
- () A penalidade de suspensão do direito de dirigir será aplicada, nos casos previstos no Código de Trânsito Brasileiro, pelo prazo mínimo de um mês até o máximo de um ano e, no caso de reincidência no período de doze meses, pelo prazo mínimo de seis meses até o máximo de dois anos, segundo critérios estabelecidos pelo CONTRAN.
- () A autoridade de trânsito, na esfera das competências estabelecidas no Código de Trânsito Brasileiro e dentro de sua circunscrição, deverá aplicar, às infrações nele previstas, as seguintes penalidades: advertência por escrito; multa; suspensão do direito de dirigir; apreensão do veículo; cassação da Carteira Nacional de Habilitação; cassação da Permissão para Dirigir; frequência obrigatória em curso de reciclagem.
- () Não havendo identificação do infrator e sendo o veículo de propriedade de pessoa jurídica, será lavrada nova multa ao proprietário do veículo, mantida a originada pela infração, cujo valor é o da multa multiplicada pelo número de infrações iguais, cometidas no período de doze meses.

Assinale a alternativa que indica a sequência correta, de cima para baixo:

- A) V, F, F, F. B) F, V, V, V. C) V, F, F, F. D) F, F, F, V. E) V, V, V, V

31. Quanto aos PEDESTRES, assinale a alternativa INCORRETA:

- A) Nas vias rurais, quando não houver acostamento ou quando não for possível a utilização dele, a circulação de pedestres, na pista de rolamento, será feita com prioridade sobre os veículos, pelos bordos da pista, em fila única, em sentido contrário ao deslocamento de veículos, exceto em locais proibidos pela sinalização e nas situações em que a segurança ficar comprometida.
- B) Os pedestres que estiverem atravessando a via sobre as faixas delimitadas para esse fim terão prioridade de passagem, exceto nos locais com sinalização semafórica, onde deverão ser respeitadas as disposições do Código de Trânsito Brasileiro.
- C) Nos locais em que houver sinalização semafórica de controle de passagem será dada preferência aos pedestres que não tenham concluído a travessia, mesmo em caso de mudança do semáforo liberando a passagem dos veículos.
- D) Dirigir ameaçando os pedestres que estejam atravessando a via pública, ou os demais veículos, constitui infração gravíssima.
- E) Estacionar sobre faixa destinada à pedestre constitui infração leve.

32. Considerando as afirmações abaixo, preencha as alternativas com Verdadeiro (V) ou Falso (F):

- () Desde que autorizado e devidamente sinalizado pelo órgão ou entidade com circunscrição sobre a via, será permitida a circulação de bicicletas nos passeios.

- () O ciclista desmontado e empurrando a bicicleta equipara-se ao pedestre em direitos e deveres.
- () Nas vias urbanas e nas rurais de pista dupla, a circulação de bicicletas deverá ocorrer, quando não houver ciclovia, ciclofaixa, ou acostamento, ou quando não for possível a utilização destes, nos bordos da pista de rolamento, no mesmo sentido de circulação regulamentado para a via, com preferência sobre os veículos automotores.
- () O condutor que deixar de reduzir a velocidade do veículo de forma compatível com a segurança do trânsito, ao ultrapassar ciclista, comete infração grave.
- () Durante a manobra de mudança de direção, o condutor deverá ceder passagem aos pedestres e ciclistas, aos veículos que transitem em sentido contrário pela pista da via da qual vai sair, respeitadas as normas de preferência de passagem.

Assinale a alternativa que indica a sequência correta, de cima para baixo:

- A) F, F, V, F, F. B) F, V, F, F, F. C) V, V, V, V, V. D) F, F, F, F, F. E) V, V, F, V, F.

33. Assinale a alternativa INCORRETA:

- A) O condutor de veículo que entrar ou sair de fila de veículos estacionados sem dar preferência de passagem a pedestres e a outros veículos, não comete infração.
- B) É assegurada ao pedestre a utilização dos passeios ou passagens apropriadas das vias urbanas e dos acostamentos das vias rurais para circulação, podendo a autoridade competente permitir a utilização de parte da calçada para outros fins, desde que não seja prejudicial ao fluxo de pedestres.
- C) O condutor de veículo, que dirigir ameaçando os pedestres que estejam atravessando a via pública, ou os demais veículos, comete infração gravíssima.
- D) O condutor de veículo que deixar de dar preferência de passagem a pedestre que se encontre na faixa a ele destinada ou que não tenha concluído a travessia, mesmo que ocorra sinal verde para o veículo, comete infração gravíssima.
- E) Os veículos de maior porte serão sempre responsáveis pela segurança dos menores, os motorizados pelos não motorizados e, juntos, pela incolumidade dos pedestres.

34. Quando da travessia da pista de rolamento, o pedestre:

- I. Não tomará precauções de segurança, e não há necessidade de levar em conta, a visibilidade, a distância e a velocidade dos veículos.
- II. Utilizará as faixas ou passagens a ele destinadas sempre que estas existirem numa distância de até cinqüenta metros dele.
- III. Onde não houver faixa ou passagem, o cruzamento da via deverá ser feito em sentido perpendicular ao de seu eixo.
- IV. Nas interseções e em suas proximidades, onde não existam faixas de travessia, os pedestres não devem atravessar a via na continuação da calçada.
- V. Uma vez iniciada a travessia de uma pista, os pedestres não deverão aumentar o seu percurso, demorar-se ou parar sobre ela sem necessidade.

Assinale a alternativa correta:

- A) Apenas a afirmativa IV está incorreta.
- B) Apenas a afirmativa III está incorreta.
- C) Apenas as afirmativas I e IV estão incorretas.
- D) Apenas as afirmativas II, III e IV estão corretas.
- E) Apenas as afirmativas I e V estão corretas.

35. Quanto aos CUIDADOS COM O VEÍCULO, analise as afirmativas abaixo:

- I – Ter seu veículo imobilizado, na via, por falta de combustível cabe remoção do veículo e constitui infração de natureza média.
- II – Pneus murchos têm sua vida útil diminuída, prejudicam a estabilidade, aumentam o consumo de combustível e reduzem a aderência em piso com água.
- III – O pneu deverá ter sulcos de, no mínimo, 1,6 milímetros de profundidade.
- IV – Vibrações do volante indicam possíveis problemas com o balanceamento das rodas.
- V – O veículo puxando para um dos lados indica um possível problema com a calibragem dos pneus ou com o alinhamento da direção.

Assinale a alternativa CORRETA:

- A) Somente as afirmativas I, II e IV estão corretas.
- B) Somente as afirmativas III, IV e V estão corretas.
- C) Somente as afirmativas I, II, IV e V estão corretas.
- D) Todas as afirmativas estão corretas.
- E) Todas as afirmativas estão incorretas.

36. Sobre CINTO DE SEGURANÇA é CORRETO afirmar que:

- A) É uma infração grave deixar o condutor ou o passageiro de usar o cinto de segurança.

- B) Os passageiros do banco traseiro não são obrigados a usá-lo.
C) Somente crianças acima de 07 (sete) anos podem utilizar o banco dianteiro e com o uso do cinto de segurança.
D) O proprietário do veículo, quando na direção do mesmo, tem a faculdade de usar o cinto de segurança, pois tem o direito de decidir o que é correto para si.
E) Cinto de segurança não é um equipamento obrigatório do veículo.
37. (Art. 87 do Código de Trânsito Brasileiro). Os sinais de trânsito classificam-se em:
A) Verticais; horizontais; dispositivos de sinalização auxiliar; luminosos; sonoros; gestos do agente de trânsito e do condutor.
B) Verticais; horizontais; sonoros; gestos do agente de trânsito e do condutor.
C) Gestos do agente de trânsito.
D) Verticais; horizontais; gestos do agente de trânsito.
E) Verticais e horizontais.

38. Relacione as colunas, identificando a natureza da infração:

(.....) Deixar o condutor de prestar socorro à vítima de acidente de trânsito quando solicitado pela autoridade e seus agentes.

(.....) Deixar o condutor envolvido em acidente com vítima de prestar ou providenciar socorro à vítima, podendo fazê-lo.

(.....) Deixar o condutor envolvido em acidente com vítima, de adotar providências, podendo fazê-lo, no sentido de evitar perigo para o trânsito no local.

(.....) Deixar o condutor, envolvido em acidente sem vítima, de adotar providências para remover o veículo do local, quando necessária tal medida para assegurar a segurança e a fluidez do trânsito.

(1) GRAVÍSSIMA

(2) GRAVE

(3) MÉDIA

Marque a questão cuja resposta tenha a sequência correta, de cima para baixo:

- A) 2 – 3 – 2 – 1. B) 3 – 2 – 1 – 1. C) 2 – 1 – 3 – 1. D) 1 – 3 – 3 – 2. E) 2 – 1 – 1 – 3

39. Assinale a alternativa incorreta:

- A) Os passageiros de motocicletas, motonetas e ciclomotores só poderão ser transportados em carro lateral acoplado aos veículos ou em assento suplementar atrás do condutor.
B) Os passageiros de motocicletas, motonetas e ciclomotores só poderão ser transportados utilizando capacete de segurança.
C) Os condutores e passageiros de motocicletas, motonetas e ciclomotores poderão ser transportados usando qualquer vestuário.
D) Os condutores de motocicletas, motonetas e ciclomotores só poderão circular nas vias utilizando capacete de segurança, com viseira ou óculos protetores.
E) Os condutores de motocicletas, motonetas e ciclomotores só poderão circular nas vias segurando o guidom com as duas mãos.

40. Assinale a alternativa incorreta:

- A) Infração de natureza gravíssima é punida com multa do valor correspondente a 180 (cento e oitenta) UFIR.
B) A cada infração cometida, de natureza grave, serão computados sete pontos.
C) As infrações punidas com multa classificam-se em gravíssima, grave, média e leve.
D) A suspensão do direito de dirigir será aplicada sempre que o infrator atingir a contagem de vinte pontos.
E) Quando o infrator cometer, simultaneamente, duas ou mais infrações, ser-lhe-ão aplicadas, cumulativamente, as respectivas penalidades.