



PREFEITURA MUNICIPAL DE FORQUILHA - CE CONCURSO PÚBLICO – EDITAL 001/2013

AGENTE ADMINISTRATIVO

NOME DO CANDIDATO: _____

RG: _____ ÓRGÃO EXPEDIDOR: _____

Nº DE INSCRIÇÃO

--	--	--	--	--	--

ASSINATURA: _____

LEIA COM ATENÇÃO E SIGA RIGOROSAMENTE ESTAS INSTRUÇÕES:

1. Este caderno está contendo 60 (sessenta) questões de múltipla escolha, numeradas de 01 a 60.
2. Cada uma das questões apresenta um enunciado seguido de 5 (cinco) alternativas, das quais somente uma é a correta. Assinale-a.
3. Examine se a prova está completa, com a sequência numérica das questões, se há falhas ou imperfeições gráficas que causem dúvidas. Qualquer reclamação deverá ser feita durante os 20 minutos iniciais. Após esse tempo, qualquer reclamação será desconsiderada.
4. Depois de decorrido 2 (duas) horas do início da prova, será distribuído o Cartão-Resposta, o qual será o único documento válido para a correção da prova. Ao recebê-lo, verifique se o seu nome e número de inscrição estão corretos. Reclame imediatamente se houver discrepância.
5. O cartão-resposta não pode ser dobrado, amassado, rasurado ou manchado. Exceto sua assinatura e inscrição, nada deve ser escrito ou registrado fora dos locais destinados às respostas. Tenha muita atenção ao marcar seu cartão-resposta, pois não haverá substituição por erro do candidato. Marque sua resposta pintando completamente o espaço correspondente à alternativa de sua opção.

Ex.: A B C D E
6. A leitora de marcas não registrará as respostas em que houver falta de nitidez, uso de corretivo, marcação a lápis ou marcação de mais de uma letra. Não serão computadas questões não assinaladas.
7. Durante a prova, é proibido o intercâmbio e o empréstimo de material de qualquer natureza entre os candidatos. A tentativa de fraude, a indisciplina e o desrespeito às autoridades encarregadas dos trabalhos são faltas que implicarão na desclassificação do candidato(a).
8. Qualquer forma de comunicação entre candidatos implicará na eliminação de ambos do certame.
9. Não será permitido ao candidato, durante a realização das provas, portar: armas; aparelhos eletrônicos de qualquer natureza; bolsas; livros; jornais ou impressos em geral; bonés, chapéus, lenço de cabelo, bandanas etc.
10. É vedado o uso de telefone celular ou de qualquer outro meio de comunicação. O candidato que for flagrado portando aparelho celular, durante o período de realização da prova, ou, ainda, aquele candidato cujo aparelho celular tocar será sumariamente eliminado do certame.
11. Em caso de dúvida, durante a prova, levante o braço para solicitar atendimento da fiscalização. Jamais pergunte em voz alta.
12. O Candidato que permanecer na sala de provas, por mais de 3h45min, poderá levar consigo a cópia do gabarito, em formulário específico, fornecido pela **ORGANIZADORA**.
13. Ao terminar a resolução da prova, entregue-a ao fiscal de sala juntamente com o **Cartão-Resposta** (devidamente assinado). Não esqueça, também, de **assinar a folha de frequência**.
14. As provas terão duração de 4 horas. Turno da Manhã com início às 08h00min e término às 12h00min e Turno da Tarde com início às 14h00min e término às 18h00min. Entretanto, o candidato só poderá ausentar-se da sala, depois de decorridas duas horas do início das provas.
15. Os **Gabaritos Preliminares das Provas Objetivas** serão divulgados 72 (setenta e duas) horas após a realização das mesmas.

CONHECIMENTOS GERAIS

O texto I a seguir refere-se às questões de 1 a 5.

TEXTO I

Seleção Brasileira Tetracampeã da Copa das Confederações.

Foi um domingo histórico para o futebol brasileiro. A Seleção que coleciona o maior número de títulos mundiais jogou de forma impecável e dominou a Espanha do começo ao fim. Sob os gritos de olé, o Brasil fez três a zero e voltou a encantar o torcedor que apoiou com paixão.

Foi mais fácil do que a gente esperava. A confiança era grande.

A Seleção Brasileira fez uma grande final contra a Espanha, no Maracanã, e conquistou a Copa das Confederações pela quarta vez.

Quando ela lentamente apareceu, no início da noite, o mundo se perguntava: Quem seria capaz de conquistá-la?

“Nos sonhos, a gente sonha. Sonhamos uma coisa que para muitos era impossível, e nada é impossível”, declara Neymar.

O que parecia impossível se dissolveu nos primeiros instantes de jogo.

É um novo Brasil. Que não está deitado em berço esplêndido. Um a zero logo no início.

Uma vitória incontestável. Brasil tetracampeão da Copa das Confederações.

Está começando o mês de julho, mas já dá para desejar um Feliz 2014. O ano novo já começou.

(extraído do site portalterra.com)

1. Ao ler o texto I pode-se inferir que:

- A seleção brasileira é a melhor do mundo.
- A seleção espanhola é superior à nossa.
- A seleção brasileira nunca deixou de encantar os torcedores.
- Os torcedores sempre acreditaram na seleção brasileira.
- A seleção brasileira é melhor apenas que a da Espanha.

2. Quanto ao tipo de texto, pode-se dizer que o texto I é:

- Predominantemente descritivo.
- Narrativo com passagens descritivas.
- Dissertativo.
- Totalmente descritivo.
- Totalmente narrativo.

3. Da oração “que não está deitado em berço esplêndido” infere-se que:

- Tudo está muito bem no Brasil.
- O Brasil sempre esteve muito bem.
- O Brasil não está numa das suas melhores fases.
- O povo brasileiro dorme tranquilo.
- O Brasil nasceu em berço de ouro.

4. No período “A seleção que coleciona o maior número de títulos mundiais jogou de forma impecável”, a oração sublinhada é:

- Subordinada adjetiva explicativa.
- Subordinada substantiva predicativa.
- Subordinada adjetiva restritiva.
- Subordinada substantiva objetiva direta.
- Coordenada sindética explicativa.

5. Na oração “A confiança era grande”, o termo em destaque tem a função sintática de:

- Objeto direto.
- Complemento nominal.
- Agente da passiva
- Sujeito.
- Predicativo do sujeito.

6. Considere o fragmento de texto:

“**Pode-se ir além, e avançar que a mistura de gente (...) não é apenas fundamental para a economia e saudável para a democracia**”. (Roberto Pompeu de Toledo)

Neste trecho o verbo em destaque foi usado como:

- Intransitivo, porque não é acompanhado de qualquer complemento.
- Transitivo direto, porque é acompanhado de objeto direto.
- De ligação, porque estabelece a união do sujeito com seu predicativo.
- Transitivo indireto, porque é acompanhado de objeto indireto.
- Transitivo direto e indireto, porque é acompanhado de objeto direto e indireto.

7. Compare os dois períodos a seguir:

- Meu amigo ainda não sabe se ganhou na loteria.
- Meu amigo ainda não sabe que ganhou na loteria.

Marque a opção CORRETA.

- Os dois períodos têm o mesmo sentido.
- Nos dois períodos, as orações “se ganhou na loteria” e “que ganhou na loteria” têm a mesma classificação: substantiva objetiva indireta.
- As palavras “que” e “se” são, ambas, pronomes relativos.
- As palavras “que” e “se” são, ambas, conjunções integrantes.
- O período 2 indica uma possibilidade.

8. No período: “Os operários fizeram todo o trabalho, e não receberam pagamento”, a conjunção e pode ser substituída, sem prejuízo de sentido, por:

- Nem.
- Contudo.
- Logo.
- Mesmo.
- Que.

9. De um artigo a respeito do Uruguai, publicado na internet, extraiu-se o seguinte trecho:

“Pelo menos desde a década de 60 do século passado, o Uruguai se converteu em um país de emigração. A partida para o estrangeiro é uma característica estrutural do país que já não depende de ciclos econômicos. Inclusive em períodos de bonança econômica e queda do desemprego, os uruguaios continuam a deixar o país.”

(Jorge Barreiro, Os uruguaios vão se extinguir?)

Considere o segundo período desse trecho e marque a opção CORRETA.

- O antecedente do pronome relativo destacado é estrangeiro.
- A oração iniciada pelo pronome em destaque explica o sentido do antecedente.

- c) Uma vírgula acrescentada depois da palavra país não mudaria em nada a informação geral expressa no segundo período.
- d) A oração iniciada pelo pronome em destaque restringe o sentido do antecedente.
- e) O termo em destaque é uma conjunção integrante.

10. Segundo o dicionário Aurélio, círculo vicioso é a “demonstração ou definição de A por meio de B, que por sua vez, só se pode demonstrar por meio de A”. Ex. O ponto da Moda vende mais porque é mais barato ou é mais barato porque vende mais? Entre as opções a seguir, NÃO tem-se círculo vicioso em:

- a) Quanto mais poder tem o coronel, mais miserável seu povo, e quanto mais miserável o povo, mais poder tem o coronel.
- b) Você não ousa porque a situação está difícil, e porque a situação está difícil, você não age com ousadia.
- c) Fugimos do perigo porque sentimos medo e, porque sentimos medo fugimos do perigo.
- d) É preciso arrumar um novo amor para sentir-se jovem e para arrumar um novo amor é preciso sentir-se jovem.
- e) Tostines vende mais porque é fresquinho ou é fresquinho porque vende mais?

11. Sobre o grau dos substantivos, indique a opção que traz o CORRETO aumentativo das palavras bala, dente e mão.

- a) Balaço, dentão e manápula.
- b) Balázio, dente grande e manzorra.
- c) Balaço, dentilhão e mão grande.
- d) Bala grande, dentilhão e manzorra.
- e) Balázio, denticulo e mãozorra.

Considere o texto II a seguir para responder as questões de 12 a 14.

TEXTO II

Peregrinos católicos estão usando a tecnologia durante a vigília na praia de Copacabana, no Rio de Janeiro, na noite deste sábado (27), durante a Jornada Mundial da Juventude. Eles usam whatsapp e SMS para localizar amigos em redes sociais para divulgar o que o Papa Francisco está falando na jornada, além de enviar fotos para familiares.

A irmã Maria Isabel Santana, 43 anos, disse que está usando SMS para falar com amigos da mesma comunidade, que vieram neste sábado e ainda não a encontraram. "Estamos em 14 pessoas desde quinta-feira, mas um outro grupo já chegou e não consegue me achar. Estou mandando mensagem para avisar onde estou, passando pontos de referência".

(disponível em notícias r7.com.R7)

12. Ao ler o texto II, pode-se afirmar que a ideia central do texto é:

- a) A visita do Papa ao Brasil.
- b) A peregrinação dos católicos.
- c) O uso da tecnologia.
- d) O uso de whatsapp e SMS.
- e) A vigília na praia de Copacabana.

13. "Estamos em 14 pessoas desde quinta-feira, mas um outro grupo já chegou e não consegue me achar. Estou mandando mensagem para avisar onde estou, passando pontos de referência".

Nesse trecho, as aspas foram usadas com a finalidade de.

- a) Indicar uma citação.
- b) Indicar a fala de alguém.
- c) Dar ênfase ao período.
- d) Reforçar uma ideia.
- e) Destacar uma mensagem.

14. Em "... ainda não a encontraram".

Analisando sintaticamente o termo grifado, pode-se dizer que ele é:

- a) Sujeito simples, pois substitui o pronome ela.
- b) Complemento nominal.
- c) Sujeito do verbo encontrar.
- d) Adjunto adnominal.
- e) Objeto direto, pois completa o sentido do verbo encontrar.

15. Indique a opção INCORRETA quanto à concordância nominal.

- a) Nas férias, passei tranquilos semanas e dias na praia.
- b) Uma e outra língua neolatinas são semelhantes à língua portuguesa.
- c) Honramos o escudo e a bandeira brasileiros.
- d) Pesquiso as culturas grega e latina.
- e) Tenho estudado muito as literaturas brasileiras e portuguesas.

16. Quanto tempo, aproximadamente, o capital R\$ 8.000,00 produz R\$ 3.600,00 de juros simples com um taxa anual de 15%?

- a) 1 ano.
- b) 3 anos.
- c) 5 anos.
- d) 7 anos.
- e) 8 anos.

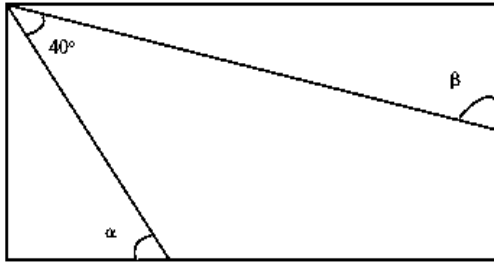
17. Um caminhoneiro fez um percurso em 5 dias, viajando 6 horas por dia com a velocidade média de 70 km/h. Se quiser repetir o percurso em 4 dias, viajando 7 horas por dia, a velocidade média deverá ser de:

- a) 49 km/h.
- b) 67 km/h.
- c) 70 Km/h.
- d) 75 km/h.
- e) 80 km/h.

18. Uma fábrica de bombons produziu 6.000 bombons de chocolate e 4.000 bombons de doce de leite, sendo todos colocados em um único recipiente. Retirando-se do recipiente um desses bombons, qual a probabilidade de que ele seja de chocolate?

- a) 30%
- b) 50%
- c) 60%
- d) 80%
- e) 100%

19. No retângulo abaixo, qual é o valor, em graus, de $\alpha + \beta$?



- a) 90°
- b) 120°
- c) 360°
- d) 180°
- e) 130°

20. Determine o 8º termo da P.G. (1, 2, 4,...).

Marque a opção CORRETA:

- a) 8
- b) 40
- c) 80
- d) 128
- e) 256

21. Considerando $A = a^3 - 2a^2 + 3$ e $B = a^3 - 2a^2 - a + 5$, temos que $A - B$ é igual a:

- a) $-a + 8$
- b) $3a^3$
- c) $-4a^2 - a + 8$
- d) $2a^3 - 4a^2 - a + 8$
- e) $a - 2$

22. Seis impressoras em 7 horas de trabalho imprimem 3.000 exemplares de um livro. Se duas das impressoras quebrarem, quanto tempo irá demorar a impressão de 4 500 exemplares?

- a) 15h 45 min
- b) 10h 30 min
- c) 12h
- d) 15h
- e) 8h 30min

23. Simplifique a expressão a seguir:

$$\frac{a^2 + a}{b^2 + b} \cdot \frac{a^2 - a}{b^2 - b} \cdot \frac{b^2 - 1}{a^2 - 1}$$

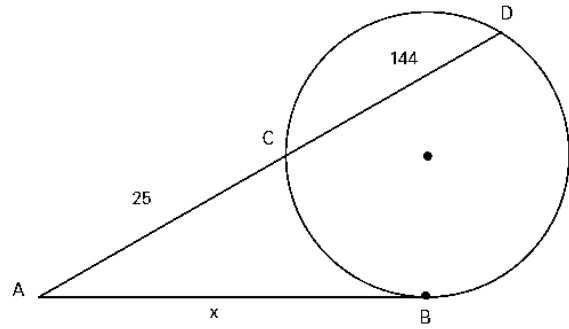
Marque a opção CORRETA.

- a) b^2
- b) $a^3 + b^2$
- c) $2a^2 + b^3$
- d) $\frac{a^2}{b^2}$
- e) $\frac{a^3}{b^3}$

24. A soma do dobro de um número natural com o seu quadrado é 48. Qual é esse número?

- a) 2
- b) 4
- c) 6
- d) 8
- e) 10

25. Na figura, AB é tangente à circunferência. Qual é o valor de x?



- a) 40
- b) 77
- c) 65
- d) 25
- e) 144

26. O valor de: $\log_{\frac{1}{2}} 32 + \log 0,001 - \log_{0,1} 10\sqrt{10}$ é:

- a) $-13/2$
- b) $-22/3$
- c) $-19/2$
- d) -19
- e) -13

27. O valor de "a" para que a igualdade matricial seja verdadeira é:

$$\begin{bmatrix} 2 & 1 \\ 1 & 1 \end{bmatrix} \begin{bmatrix} 1 & -1 \\ -1 & a \end{bmatrix} = \begin{bmatrix} 1 & 0 \\ 0 & 1 \end{bmatrix}$$

- a) 0
- b) 1
- c) 2
- d) 3
- e) 4

28. Numa festa, a razão entre o número de moças e o de rapazes é $13/12$. A porcentagem de rapazes na festa é:

- a) 40%
- b) 44%
- c) 45%
- d) 48%
- e) 46%

29. Na equação do 2º grau $4x^2 + px + 1 = 0$, a soma dos inversos das raízes é -5 . O valor de p é:

- a) -1
- b) 0
- c) 2
- d) 5
- e) 7

30. O valor mínimo da função $f(x) = |x-1| + |x-2| + |x-3|$, é:

- a) $1/2$
- b) 2
- c) 3
- d) 1
- e) $3/2$

31. Sobre o município de FORQUILHA é INCORRETO afirmar:

- Possui o açude Público Forquilha, de propriedade do DNOCS.
- Possui uma área de aproximadamente 516,88 km²
- De acordo com o Censo Democrático de 2010, a população de Forquilha é de aproximadamente 21.786 habitantes.
- Foi realizado o plebiscito em 1985 quando o povo se posicionou favorável à criação do município de Forquilha.
- A base da economia do município é agricultura, comércio, pecuária e piscicultura.

32. Quem foi o primeiro prefeito de Forquilha?

- Raimundo Azevedo Prado.
- Francisco José Frota Prado.
- José Antônio Dias Carneiro.
- Edmundo Rodrigues Junior.
- Francisco de Lira Pessoa.

HINO DO MUNICÍPIO DE FORQUILHA

**Ó Forquilha tu és a esperança
Que teus filhos irão semear
No teu seio em que jorra a bonança
De águas limpas para terra regar...**

33. A letra do hino de Forquilha foi feito por:

- Pe. Jairo Linhares Ponte.
- Abelardo Cavalcante de Vasconcelos.
- Pe. Jairo Linhares Ponte e Prof. Francisco Eduardo Mesquita Cavalcante.
- Pe. Gonçalo de Pinho Gomes.
- Abelardo Cavalcante de Vasconcelos e Pe. Jairo Linhares Ponte.

34. O Padroeiro de Forquilha é:

- São Pedro.
- Santo Antônio.
- Santo Agostinho.
- São Francisco de Assis.
- São Benedito.

35. Supremo conclui julgamento do mensalão após quatro meses e meio, 25 foram condenados, 12 absolvidos e um será julgado na 1ª instância. Sobre o maior esquema de corrupção já vivenciado no Brasil, Marque a opção CORRETA.

- Tinha Marcos Valério, como mandante intelectual do repasse de verbas públicas a parlamentares por meio de empreiteiras.
- Comprava votos no Congresso Nacional durante os primeiros anos do governo do ex-presidente Luiz Inácio Lula da Silva.
- Os parlamentares desviavam dinheiro público em acordos firmados com o Banco Rural.
- Afetou a Câmara dos Deputados com suborno na aprovação de projetos do governo na gestão do então Presidente Lula.
- Culminou com a perda de mandatos de parlamentares que se reelegeram contrariando o Projeto Ficha Limpa

36. Leia e reflita sobre os textos a seguir:

TEXTO 1

“O número de homicídios em Fortaleza **cresceu 14%** de abril para maio, segundo dados divulgados pela Secretaria da Segurança Pública e Defesa Social (SSPDS) nesta segunda-feira (08). Em maio, o número de assassinatos foi de 156.

Durante os cinco meses deste ano, pelo menos **818 pessoas foram assassinadas** na capital cearense. Em média, Fortaleza tem **5 homicídios por dia**, segundo o relatório da Secretaria de Segurança. Os bairros mais violentos em maio foram Mondubim (9), Cristo Redentor (8), Granja Lisboa (8), Siqueira (7) e Jangurussu (7).”

“No total, **1.675 pessoas foram assassinadas em 2013.**”

(site: www.tribunadoceara.com.br, publicado em 08/07/2013)

TEXTO 2



Fazendo a relação de ambos os textos, marque a opção CORRETA.

- O texto 1 difere do texto 2.
- O texto 2 não estabelece relação com o texto 1.
- O texto 2 confirma o texto 1 satirizando-o.
- Os dois textos se contradizem pelo contexto.
- O texto 1 é consequência do texto 2.

37. Em julho deste ano, realizou-se no Brasil, na cidade do Rio de Janeiro, a Jornada Mundial da Juventude (JMJ), um evento internacional, que reúne jovens de todo o Mundo. Esse evento foi criado pelo Papa:

- Bento XVI.
- Paulo VI.
- Francisco.
- João Paulo II.
- João Paulo I.

38. O americano Edward Snowden, procurado pelo governo dos EUA por ter divulgado segredos sobre os sistemas de monitoramento de telecomunicações do governo, obteve asilo provisório, após quarenta dias em uma área de trânsito no aeroporto de:

- Londres.
- Moscou.
- Nova York.

- d) Lisboa.
e) Paris.

39. As tartarugas-verdes - espécie marinha em perigo - estão ingerindo cada vez mais detritos humanos que podem ser letais. Essa é a conclusão de um estudo australiano publicado no periódico "ConservationBiology". A pesquisa revisou toda a literatura científica sobre a ingestão de lixo humano no oceano por tartarugas marinhas desde 1985. A análise mostrou que há registro da ingestão de detritos em seis das sete espécies de tartarugas marinhas do mundo. Todas as seis são listadas como espécies vulneráveis ou em perigo. "Descobrimos que, para as tartarugas verdes marinhas, a probabilidade de ingestão de detritos quase dobrou nos últimos 25 anos", disse o pesquisador QamarSchuyler, da Universidade de Queensland, que liderou o estudo. A pesquisa analisou 37 estudos publicados de 1985 a 2012 que reportou informações coletadas desde 1900 até 2011. Resultados mostram que tartarugas em quase todas as regiões ingerem detritos. "Nossos resultados mostram claramente que a ingestão de detritos por tartarugas marinhas é um fenômeno global de magnitude crescente", diz o estudo. Dentre o lixo produzido pelo homem e lançado ao mar destaca-se pelo poder letal e de difícil decomposição:

- a) O plástico que é produzido em grande escala.
b) O vidro hoje dominante no setor de armazenagem com conservantes.
c) O alumínio usado predominantemente na indústria de bebidas.
d) Os dejetos humanos lançados ao mar pelas redes de esgoto.
e) Os produtos químicos usados, produzidos pelas indústrias de fertilizantes.

40. Segundo o Programa Mais Médicos do Governo Federal, que trata sobre o processo de 'Importação' de médicos estrangeiros, marque (V) para as afirmativas VERDADEIRAS e (F) para as FALSAS.

- () Os médicos estrangeiros serão destinados a locais carentes desse tipo de mão de obra.
() Estes médicos serão destinados a todas as cidades brasileiras.
() Será cobrado desses profissionais a realização do Revalida, prova de revalidação do diploma obrigatória para quem se formou fora do país.
() Conselho Federal de Medicina (CFM), alegou que não há falta de profissionais no Brasil, mas estes são mal distribuídos pelas regiões do território nacional.

Marque a opção que apresenta a sequência CORRETA.

- a) F – V – F – V.
b) V – F – F – F.
c) F – V – F – F.
d) V – F – V – V.
e) V – F – F – V.

CONHECIMENTOS ESPECIFICOS

41. Marque a opção que corresponde a forma de comunicação externa dirigida a pessoa (física ou jurídica) estranha à administração pública, utilizada para fazer solicitações, convites, externar agradecimentos, ou transmitir informações.

- a) Requerimento.
b) Ofício.
c) Protocolo.
d) Comunicação interna.
e) Carta.

42. Analise as afirmativas a seguir, sobre as funções do protocolo, assinalando (V) para VERDADEIRAS e (F) para FALSAS.

- () Receber a correspondência.
() Separar a correspondência oficial da particular.
() Separar a correspondência oficial de caráter ostensivo da de caráter sigiloso.
() Encaminhar a correspondência sigilosa aos destinatários.
() Colocar o carimbo do protocolo – o número e a data (canto superior direito do documento).

Marque a opção que apresenta a sequência CORRETA.

- a) V – F – V – F – V.
b) V – F – V – V – F.
c) V – V – V – F – F.
d) V – V – F – F – V.
e) V – V – V – V – V.

43. Sobre a distribuição de correspondência é da competência do Agente Administrativo:

- a) Divulgar os assuntos que interessam ao coletivo da Instituição.
b) Guardá-la em lugar seguro, até que os destinatários a solicitem.
c) Aguardar o tempo mais tranquilo do final de cada expediente.
d) Encaminhá-la o mais rapidamente possível aos devidos setores.
e) Ler previamente a correspondência local, a fim de facilitar a sua distribuição.

44. Sobre Documentação analise as afirmativas abaixo:

- I. Relatório: descrição fundamentada e minuciosa de fatos ou de atividades realizadas por uma determinada pessoa ou grupo.
II. Aviso: tipo de comunicação (quase sempre curta), que se destina a tornar conhecidas informações gerais de caráter transitório.
III. Parecer: declaração, feita com base em análises de outro documento, com fins de se comprovar a existência de algo.
IV. Certidão: documento técnico, que se destina à apreciação de um assunto ou de alguma atividade realizada por um indivíduo ou grupo.
V. Procuração: documento pelo qual se confere a uma outra pessoa o poder para efetuar algum ato como se essa pessoa fosse o próprio mandante.

Marque a opção que apresenta a(s) afirmativa(s) CORRETA(S).

- a) IV – V.
- b) III – IV.
- c) II – III – IV.
- d) I – IV – V.
- e) I – II – V.

45. O Art. 3º da Lei 8.666/93 elenca os princípios constitucionais que devem ser observados nas Licitações públicas. Marque a única opção que não corresponde a um princípio da licitação.

- a) Legalidade.
- b) Publicidade.
- c) Vinculação ao instrumento convocatório.
- d) Moralidade.
- e) Pessoalidade.

46. São características dos Contratos administrativos, EXCETO:

- a) Finalidade pública.
- b) Natureza de contrato de adesão.
- c) Possui natureza "intuitu personae".
- d) Ausência de cláusulas exorbitantes.
- e) Consensual e, em regra, oneroso e comutativo.

47. Marque a opção CORRETA, a mutabilidade do contrato administrativo é:

- a) Característica que permite a administração pública a alteração unilateral e limitada do contrato.
- b) Prerrogativa inerente a qualquer das partes, desde que vise ao restabelecimento do equilíbrio econômico-financeiro.
- c) Faculdade atribuída as partes para, nos casos de fato da administração imprevisível, possibilitar a alteração unilateral do contrato.
- d) Passível de ser invocada pelo particular contratado, nos casos de álea empresarial que resulte no desequilíbrio econômico-financeiro do contrato.
- e) Dever da administração pública de rescindir unilateralmente o contrato nos casos de álea econômica, fato da administração ou força maior.

48. Analise a afirmativa a seguir e marque a opção correspondente a CORRETA modalidade licitatória: "modalidade de licitação entre quaisquer interessados para a venda de bens móveis inservíveis para a administração (...)".

- a) Concorrência.
- b) Leilão.
- c) Concurso.
- d) Tomada de preço.
- e) Convite.

49. Analise a afirmativa a seguir e marque a opção correspondente a CORRETA modalidade licitatória: "É a modalidade de licitação entre quaisquer interessados para escolha de trabalho técnico, científico ou artístico, mediante a instituição de prêmios ou remuneração aos vencedores, conforme critérios constantes de edital publicado na imprensa oficial com antecedência mínima de 45 (quarenta e cinco) dias".

- a) Concorrência.
- b) Leilão.
- c) Concurso.
- d) Tomada de preço.

- e) Convite.

50. Analise as afirmativas a seguir e marque (V) para as VERDADEIRAS e (F) para as FALSAS.

() Os Servidores Públicos Estatutários, são aqueles cuja relação jurídica de trabalho é disciplinada por diplomas legais específicos, denominados de estatutos. Nos estatutos estão inscritas todas as regras que incidem sobre a relação jurídica, razão por que nelas se enumeram os direitos e deveres dos servidores e do Estado. Esta categoria ainda admite uma subdivisão: a dos servidores públicos sujeitos ao estatuto geral da pessoa federativa correspondente, e a dos servidores sujeitos a estatutos especiais.

() Os Servidores Públicos Trabalhistas, são assim qualificados porque as regras disciplinadoras de sua relação de trabalho são as constantes da Consolidação das Leis do Trabalho. Seu regime básico, portanto, é o mesmo que se aplica à relação de emprego no campo privado, com as exceções, é lógico, pertinentes à posição especial de uma das partes – O Poder Público.

() Os Servidores Públicos Temporários, se configuram como um agrupamento excepcional dentro da categoria geral dos servidores públicos. A previsão dessa categoria especial de servidores esta contemplada no art. 37, IX, da CF, que admite a sua contratação por tempo determinado para atender a necessidade temporária de excepcional interesse público.

Assinale a opção que apresenta a sequencia CORRETA:

- a) V – F – F.
- b) V – F – V.
- c) V – V – V.
- d) F – F – F.
- e) F – V – F.

51. Marque a opção CORRETA. No Microsoft Word, para digitar o símbolo de metros quadrados (m²) devemos utilizar qual propriedade?

- a) Subscrito.
- b) Itálico.
- c) Tachado.
- d) Sublinhado.
- e) Sobrescrito.

52. Analisando o ícone abaixo do Microsoft Word, marque a opção que apresenta CORRETAMENTE a sua função.




- a) Verificar Ortografia.
- b) Indexar Palavras.
- c) Verificar Ortografia e Gramática.
- d) Inserir Nota de Rodapé.
- e) Contar palavras.

53. Nos documentos do Microsoft Word, o tipo, o tamanho, o estilo e os efeitos aplicáveis nas fontes dos caracteres podem ser modificados por meio do menu:

- a) Modificar.
- b) Ferramentas.
- c) Configurar.
- d) Formatar.
- e) Editar.

54. Analisando o ícone abaixo do Microsoft Excel, marque a opção que apresenta CORRETAMENTE a sua função:



- a) Expandir a célula da planilha.
- b) Inserir uma Figura.
- c) Inserir um gráfico.
- d) Quebrar automaticamente a linha.
- e) Centralizar o conteúdo da célula de acordo com a região selecionada ou mesclar células.

55. Veja a tabela do Microsoft Excel 2007, abaixo:

	A	B	C	D
1	Mês	Alimentação	Combustível	
2	Janeiro	R\$ 216,00	R\$ 84,00	
3	Fevereiro	R\$ 145,00	R\$ 398,00	=SOMA(B2:C3)

O resultado da célula D3, segundo a fórmula nela inserida é:

- a) R\$ 182,00.
- b) R\$ 284,00.
- c) R\$ 614,00.
- d) R\$ 843,00.
- e) Resultado inválido.

56. O Agente Administrativo, para ser proativo no atendimento ao público deve observar a necessidade de:

- a) Ser cordial e tentar tirar vantagem.
- b) Ser parcial e contraditório.
- c) Dar atenção a seu interlocutor.
- d) Falar demasiadamente para ser entendido.
- e) Demonstrar rigor e impaciência.

57. Para um bom atendimento ao público analise as afirmativas a seguir, colocando (V) para as VERDADEIRAS e (F) para as FALSAS:

- () Saber quais serão suas atribuições e prazos para entrega de tarefas.
- () Desconhecer o estatuto dos servidores do município.
- () Conhecer o local onde trabalha: seções, arquivos, materiais, chefes e respectivos nomes, funções, demais funcionários localizando-os pela função, nome, seção.
- () Respeitar relações hierárquicas e funcionais.
- () Conhecer e saber os números de telefones e ramais somente do departamento onde trabalha.

Marque a opção que apresenta sequência CORRETA:

- a) V – F – V – V – V.
- b) F – F – V – V – F.
- c) V – F – F – V – V.
- d) V – F – V – V – F.
- e) V – F – V – F – F.

58. O Código de Ética Profissional tem como função precípua:

- a) Prescrever as punições.
- b) Prescrever a conduta.
- c) Definir as transgressões.

- d) Preservar a moralidade e a conduta ética dos profissionais.
- e) Assegurar as normas jurídicas em função de preceitos morais.

59. Analise as afirmativas acerca dos deveres fundamentais do servidor público, e marque (V) para as VERDADEIRAS e (F) para as FALSAS. Deve:

- () Desempenhar, a tempo, as atribuições do cargo, função ou emprego público de que seja titular.
- () Exercer suas atribuições com rapidez, perfeição e rendimento, pondo fim ou procurando prioritariamente resolver situações procrastinatórias, principalmente diante de filas ou de qualquer outra espécie de atraso na prestação dos serviços pelo setor em que exerça suas atribuições, com o fim de evitar dano moral ao usuário.
- () Ser probo, reto, leal e justo, demonstrando toda a integridade do seu caráter, escolhendo sempre, quando estiver diante de duas opções, a melhor e a mais vantajosa para o bem comum.
- () Fazer o uso do cargo ou função, facilidades, amizades, tempo, posição e influências, para obter qualquer favorecimento, para si ou para outrem.
- () Prejudicar deliberadamente a reputação de outros servidores ou de cidadãos que deles dependam.

Assinale a opção que apresenta a sequência CORRETA:

- a) F – V – V – V – F.
- b) V – F – V – F – V.
- c) V – V – F – F – V.
- d) V – V – V – F – F.
- e) F – F – F – V – V.

60. “Conjunto de regras morais de conduta que o indivíduo deve observar em sua atividade no sentido de valorizar a profissão e bem servir aos que dela dependem”.

Marque a opção CORRETA, que apresenta o termo dessa definição:

- a) Gestão empresarial.
- b) Procedimento operacional padrão.
- c) Ética profissional.
- d) Conselho profissional.
- e) Conselho dos servidores públicos.