

CONCURSO PÚBLICO

**023. PROVA OBJETIVA**

FISCAL

- ◆ Você recebeu sua folha de respostas e este caderno contendo 60 questões objetivas.
- ◆ Confira seu nome e número de inscrição impressos na capa deste caderno e na folha de respostas.
- ◆ Quando for permitido abrir o caderno, verifique se está completo ou se apresenta imperfeições. Caso haja algum problema, informe ao fiscal da sala.
- ◆ Leia cuidadosamente todas as questões e escolha a resposta que você considera correta.
- ◆ Marque, na folha de respostas, com caneta de tinta azul ou preta, a letra correspondente à alternativa que você escolheu.
- ◆ A duração da prova é de 3 horas e 30 minutos, já incluído o tempo para o preenchimento da folha de respostas.
- ◆ Só será permitida a saída definitiva da sala e do prédio após transcorridos 75% do tempo de duração da prova.
- ◆ Deverão permanecer em cada uma das salas de prova os 3 últimos candidatos, até que o último deles entregue sua prova, assinando termo respectivo.
- ◆ Ao sair, você entregará ao fiscal a folha de respostas e este caderno, podendo levar apenas o rascunho de gabarito, localizado em sua carteira, para futura conferência.
- ◆ Até que você saia do prédio, todas as proibições e orientações continuam válidas.

AGUARDE A ORDEM DO FISCAL PARA ABRIR ESTE CADERNO DE QUESTÕES.

## CONHECIMENTOS GERAIS

### LÍNGUA PORTUGUESA

Leia o texto para responder às questões de números 01 a 09.

#### *Refrigerantes açucarados*

A obesidade é a maior das ameaças à saúde do século 21. O tecido adiposo acumulado em excesso gera um processo inflamatório crônico que, somado aos hormônios e aos mediadores químicos produzidos e liberados no organismo da pessoa obesa, aumenta o risco de doenças cardiovasculares, metabólicas, pulmonares e de diversos tipos de câncer.

No Brasil, metade da população adulta está acima da faixa de peso saudável. Nos Estados Unidos, esse número ultrapassa 70%: cerca de 30% estão com excesso de peso, 30% são obesos e 10% sofrem de obesidade grave. A continuarmos no mesmo ritmo, é provável que nos próximos dez ou vinte anos estejamos na situação deles.

A característica mais assustadora dessa **epidemia** é o número crescente de crianças e adolescentes obesos, consequência do acesso ilimitado a alimentos de alta densidade energética e da vida em frente da TV e dos computadores.

O impacto dessa nova realidade será tão abrangente, que a próxima geração provavelmente terá vida mais curta do que a atual, previsão demográfica que os avanços da medicina não conseguirão reverter. Os custos da assistência médica aos portadores das doenças crônicas associadas à obesidade arruinarão as finanças dos sistemas de saúde de países como o nosso.

O consumo de refrigerantes e sucos açucarados é uma das maiores fontes de calorias ingeridas por crianças e adolescentes. Um levantamento mostrou que os adolescentes americanos consomem em média 357 calorias diárias dessa fonte. É possível que os nossos não fiquem para trás.

Recentemente, um grupo de pesquisadores da Universidade de Amsterdã distribuiu refrigerantes com e sem açúcar para 641 crianças de 5 a 12 anos. As bebidas vinham sem nenhuma indicação no rótulo que permitisse à criança identificar se continham açúcar ou adoçante artificial. Depois de 18 meses, os que recebiam os refrigerantes com açúcar pesavam em média 1,02 kg a mais, apresentavam maior relação cintura/altura e maior quantidade de gordura no corpo. **Isso** mostra que as recomendações do Ministério da Saúde para que crianças e adultos evitem refrigerantes e sucos açucarados, além de aumentar os níveis de atividade física, devem ser levadas à sério.

(Drauzio Varella, [www1.folha.uol.com.br](http://www1.folha.uol.com.br), 15.12.2012. Adaptado)

01. No primeiro parágrafo, o autor apresenta a obesidade como

- (A) uma doença causada por processos inflamatórios crônicos.
- (B) uma condição relacionada ao desenvolvimento de várias doenças.
- (C) tão perigosa quanto as doenças cardiovasculares e até o câncer.
- (D) resultante do consumo de alimentos com alterações químicas.
- (E) uma enfermidade crônica, que não tem cura, assim como o câncer.

02. O termo **epidemia**, em destaque no terceiro parágrafo, é usado para se referir à obesidade como

- (A) um hábito difícil de ser alterado.
- (B) um problema que já foi solucionado.
- (C) um defeito hereditário, próprio de algumas etnias.
- (D) um mal que se alastra rapidamente.
- (E) uma doença que dispensa tratamento.

03. Ao afirmar que “o número crescente de crianças e adolescentes obesos” é consequência “da vida em frente da TV e dos computadores”, o autor destaca como uma das causas da obesidade

- (A) o comportamento sedentário, ou seja, a escassez de atividades físicas.
- (B) a exposição a programas que têm modelos obesos como ideal de saúde.
- (C) o estresse gerado pela ausência de horas dedicadas ao entretenimento.
- (D) a preferência por alimentos com boa aparência e baixo valor calórico.
- (E) a má qualidade dos programas sobre alimentação produzidos pela TV.

04. Um dos possíveis resultados do aumento do número de obesos no Brasil será, segundo o autor,

- (A) a alta dos preços de alimentos saudáveis.
- (B) a maior oferta de médicos especialistas em obesidade.
- (C) a redução da expectativa de vida da população.
- (D) o corte de gastos com a saúde pública.
- (E) o crescimento desordenado da população.

05. A partir de seu estudo, os pesquisadores da Universidade de Amsterdã concluíram que

- (A) a ingestão de refrigerantes é a principal causa da obesidade infantil.
- (B) o consumo de açúcar e o ganho de peso estão relacionados.
- (C) os aditivos químicos dos refrigerantes levam à obesidade.
- (D) os refrigerantes açucarados contêm gordura em sua composição.
- (E) o uso de adoçantes estimula o consumo de alimentos menos gordurosos.

06. Com as formas verbais destacadas na frase do segundo parágrafo – A **continuarmos** no mesmo ritmo, é provável que nos próximos dez ou vinte anos **estejamos** na situação deles. – o autor inclui o leitor em sua argumentação e supõe que esse leitor seja um

- (A) adolescente.
- (B) médico.
- (C) obeso.
- (D) americano.
- (E) brasileiro.

07. Na frase – **A** continuarmos no mesmo ritmo, é provável que nos próximos dez ou vinte anos estejamos na situação deles. – o termo em destaque expressa uma
- (A) concessão e equivale a **Embora**.  
 (B) conformidade e equivale a **Segundo**.  
 (C) condição e equivale a **Se**.  
 (D) contradição e equivale a **Entretanto**.  
 (E) finalidade e equivale a **Para**.
08. O termo **Isso**, em destaque no último parágrafo, refere-se
- (A) ao grupo de pesquisadores da Universidade de Amsterdã que distribuiu refrigerantes com e sem açúcar para crianças de até 12 anos.  
 (B) aos refrigerantes com e sem açúcar que foram servidos a 641 crianças de 5 a 12 anos.  
 (C) ao fato de as crianças não saberem distinguir as bebidas com açúcar daquelas com adoçante artificial.  
 (D) ao resultado do estudo feito pelos pesquisadores da Universidade de Amsterdã.  
 (E) à quantidade excessiva de refrigerantes que as crianças consumiram ao longo da pesquisa.
09. O autor expressa sua opinião de forma categórica na frase:
- (A) A obesidade é a maior das ameaças à saúde do século 21.  
 (B) Nos Estados Unidos, esse número ultrapassa 70%: cerca de 30% estão com excesso de peso, 30% são obesos e 10% sofrem de obesidade grave.  
 (C) Um levantamento mostrou que os adolescentes americanos consomem em média 357 calorias diárias dessa fonte.  
 (D) Recentemente, um grupo de pesquisadores da Universidade de Amsterdã distribuiu refrigerantes com e sem açúcar para 641 crianças de 5 a 12 anos.  
 (E) As bebidas vinham sem nenhuma indicação no rótulo que permitisse à criança identificar se continham açúcar ou adoçante artificial.
10. Seguindo a norma-padrão da língua portuguesa, a frase – Um levantamento mostrou que os adolescentes americanos consomem em média 357 calorias diárias dessa fonte. – recebe o acréscimo correto das vírgulas em:
- (A) Um levantamento mostrou, que os adolescentes americanos consomem em média 357 calorias, diárias dessa fonte.  
 (B) Um levantamento mostrou que, os adolescentes americanos consomem, em média 357 calorias diárias dessa fonte.  
 (C) Um levantamento mostrou que os adolescentes americanos consomem, em média, 357 calorias diárias dessa fonte.  
 (D) Um levantamento, mostrou que os adolescentes americanos, consomem em média 357 calorias diárias dessa fonte.  
 (E) Um levantamento mostrou que os adolescentes americanos, consomem em média 357 calorias diárias, dessa fonte.

11. Duzentas pessoas inscreveram-se em um curso sobre hotelaria. Da região Norte, inscreveram-se 48 pessoas; da região Centro-Oeste, 88; e, da região Sul, 64 pessoas. Para a realização de uma atividade prática, a organização do curso decidiu montar grupos com esses inscritos de modo que os grupos tivessem o mesmo número de pessoas e também cada grupo tivesse pessoas somente de uma mesma região. Como cada grupo terá um instrutor, o menor número de instrutores que devem ser contratados para essa atividade prática é
- (A) 8.  
 (B) 12.  
 (C) 21.  
 (D) 25.  
 (E) 32.
12. Os chamados de suporte feitos no mês de setembro por três dos quatro departamentos de uma empresa estão registrados na tabela seguinte.

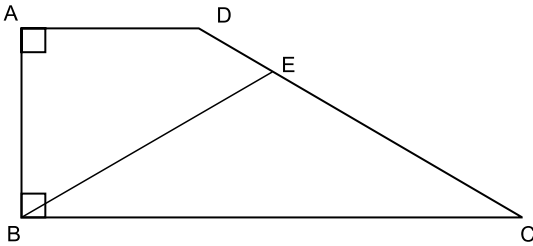
| DEPARTAMENTO | NÚMERO DE CHAMADOS |
|--------------|--------------------|
| Finanças     | 13                 |
| Jurídico     | 12                 |
| RH           | 38                 |

Sabendo-se que nesse mês a média de chamados de suporte foi de 23 por departamento, o número de chamados do departamento comercial supera o número de chamados do departamento de finanças em

- (A) 14.  
 (B) 15.  
 (C) 16.  
 (D) 17.  
 (E) 18.

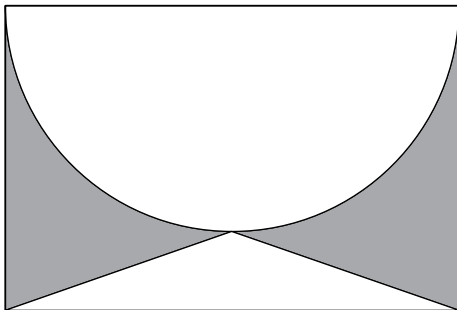
13. Um automóvel, que estava com o tanque de combustível vazio, foi abastecido com 40 litros de gasolina e 10 litros de álcool puro. A gasolina contém 25% de álcool puro e 75% de gasolina pura, e, após abastecido, o combustível dentro do tanque é consumido proporcionalmente às quantidades de álcool puro e gasolina pura. A quantidade de gasolina pura, em litros, que sobra no tanque após o automóvel consumir 30 litros de combustível é
- (A) 10.  
(B) 12.  
(C) 14.  
(D) 16.  
(E) 18.
14. Em um boleto de pagamento, consta uma instrução indicando a cobrança de 0,2% de juro simples por dia de atraso sobre o valor do boleto. O número de dias em atraso, de um boleto no valor R\$ 700,00, que terá de pagar R\$ 102,20 de juros, é
- (A) 47.  
(B) 59.  
(C) 61.  
(D) 67.  
(E) 73.
15. Os alunos do último ano de uma escola ou têm 16 anos ou têm 17 anos de idade. Semana passada, a razão entre o número de alunos de 16 anos e o número de alunos de 17 anos, nessa ordem, era  $\frac{4}{5}$ . Esta semana, Verônica e Mayara completaram 17 anos e nenhum outro aluno aniversariou. Assim, a nova razão, na mesma ordem, passou a ser  $\frac{5}{7}$ . O número de alunos do último ano dessa escola é
- (A) 42.  
(B) 52.  
(C) 62.  
(D) 72.  
(E) 82.

16. O trapézio retângulo ABCD tem área  $72 \text{ cm}^2$ , altura  $6 \text{ cm}$  e base menor de medida  $6 \text{ cm}$ . O triângulo isósceles BCE, com  $\overline{BE} \cong \overline{EC}$ , tem área  $45 \text{ cm}^2$ .



O comprimento do segmento BE, em cm, vale

- (A)  $\sqrt{106}$ .  
 (B)  $\sqrt{112}$ .  
 (C)  $\sqrt{118}$ .  
 (D)  $\sqrt{124}$ .  
 (E)  $\sqrt{130}$ .
17. O retângulo da figura tem lados de medidas  $6 \text{ cm}$  e  $4 \text{ cm}$ . A semicircunferência tem como diâmetro um lado de  $6 \text{ cm}$  do retângulo. O triângulo é isósceles e tem vértices nas extremidades de um dos lados do retângulo e sobre a circunferência, conforme a figura.



A área da região sombreada, em  $\text{cm}^2$ , vale

- (A)  $21 - 4,5\pi$ .  
 (B)  $5 + 1,5\pi$ .  
 (C)  $22 - 5,5\pi$ .  
 (D)  $6 + 0,5\pi$ .  
 (E)  $24 - 6,5\pi$ .

18. Uma equipe de instalação de internet e televisão a cabo consegue fazer 5 instalações por dia em casas que solicitam apenas a televisão, e 3 instalações por dia em casas que solicitam internet e televisão. Para otimizar o material a ser levado em um mesmo dia, essa equipe ou faz a instalação apenas de televisão ou faz a instalação dos dois produtos. Se essa equipe fez 50 instalações em 14 dias, o número de dias em que a equipe realizou instalação de televisão e internet supera o número de dias em que instalou apenas televisão em

- (A) 4.
- (B) 6.
- (C) 8.
- (D) 10.
- (E) 12.

19. Duas amigas, ao resolverem uma mesma equação do segundo grau, chegaram a resultados diferentes. Juliana obteve 3 e  $-4$ , enquanto Bárbara obteve 1 e 2. Ao consultarem a professora, descobriram que Juliana tinha utilizado um valor errado para o coeficiente do termo de primeiro grau, enquanto Bárbara usou um valor errado para o termo independente. A solução da equação, como foi proposta pela professora, tem como resultado duas raízes

- (A) naturais.
- (B) inteiras e negativas.
- (C) racionais não inteiras.
- (D) irracionais.
- (E) complexas.

20. Gabriel ganhou uma caixa com 20 barras de chocolate caseiro, todas de mesmo tamanho, e decidiu que iria comer apenas  $\frac{1}{3}$  de cada barra, guardando os demais  $\frac{2}{3}$ . Após consumir, dessa maneira, as 20 barras, Gabriel fez novas barras de chocolate, com os pedaços restantes, de modo que tivessem o mesmo tamanho que as barras originais. Gabriel consumiu cada nova barra da mesma forma, comendo  $\frac{1}{3}$  e guardando  $\frac{2}{3}$ . Gabriel continuou nesse processo até que, com os pedaços guardados, não pôde fazer uma barra inteira, isto é, uma barra com o mesmo tamanho das barras originais. Nesse processo, o número de vezes que Gabriel começou a comer uma barra de chocolate foi

- (A) 50.
- (B) 52.
- (C) 54.
- (D) 56.
- (E) 58.

21. A Casa Branca parabenizou os iranianos pela eleição presidencial, mas disse que o governo de Teerã criou um ambiente intimidatório que limitou a liberdade de expressão. (...)

Neste sábado, o candidato moderado Hasan Rowhani venceu as eleições presidenciais do Irã, informou o ministro do Interior, Mostafa Mohammad Najjar. Em comunicado à imprensa, o ministro disse que Rowhani obteve mais de 50% dos mais de 36 milhões de votos na eleição que aconteceu na sexta-feira.

(<http://www.estadao.com.br>. 15.06.2013)

A vitória desse candidato e as medidas iniciais de seu governo indicaram

- (A) o fortalecimento da repressão aos opositores políticos.
- (B) a intensificação do programa nuclear do Irã para uso militar.
- (C) o aumento das tensões com Israel, o maior inimigo do país.
- (D) a tentativa de normalizar as relações do Irã com o Ocidente.
- (E) a anulação das leis islâmicas em defesa do pluralismo religioso.

22. Leia os trechos de reportagens.

O ex-prestador de serviços da Agência Nacional de Segurança (NSA, sigla em inglês) Edward Snowden deixou a zona de trânsito do aeroporto de Moscou e entrou na Rússia depois que as autoridades do país garantiram a ele asilo temporário por um ano, disse seu advogado nesta quinta-feira.

Os EUA exigiam que a Rússia extraditasse Snowden para que ele enfrentasse as acusações na Justiça, mas o presidente Vladimir Putin descartou o pedido.

(<http://ultimosegundo.ig.com.br>. 01.08.2013. Adaptado)

O soldado Bradley Manning (...) foi sentenciado a 35 anos de prisão (...). Ele também sofrerá uma dispensa desonrosa do exército, de acordo com a juíza do caso, a coronel Denise Lind.

(...) classifica a pena como uma “vitória estratégica”, uma vez que o soldado poderá pleitear liberdade condicional em menos de nove anos.

(<http://g1.globo.com>. 21.08.2013. Adaptado)

Esses norte-americanos foram, respectivamente, acusado e sentenciado

- (A) pela difusão de dados falsos às forças militares da Otan no ataque à Líbia e por maus-tratos aos prisioneiros na base americana de Guantánamo.
- (B) pelo compartilhamento de códigos de segurança do Pentágono nas redes sociais e pela responsabilidade por abusos cometidos na Guerra do Iraque.
- (C) por contraespionagem para favorecer o programa nuclear do Irã e pela divulgação de informações sigilosas sobre a morte de Osama Bin Laden.
- (D) pelo planejamento da invasão ao site da agência espacial norte-americana e pelo fornecimento de armas químicas aos rebeldes da Primavera Árabe.
- (E) pela revelação do monitoramento norte-americano de telefones e internet e pelo vazamento de documentos confidenciais para o site *WikiLeaks*.

23. Na última semana, as investigações do Conselho Administrativo de Defesa Econômica (Cade) e do Ministério Público mostraram a abrangência nacional do cartel na área de (...). A trama, concluíram as apurações, reproduziu em diversas regiões do país a sistemática observada em São Paulo, de conluio nas licitações, combinação de preços superfaturados e subcontratação de empresas derrotadas. (...)

O governo federal pagou entre 2004 e 2013 mais de R\$ 460 milhões para as empresas Siemens, Alstom e CAF, três das 19 empresas suspeitas de envolvimento no propinoduto paulista.

(*Istoé*, 21.08.2013)

Esse esquema atinge a área de

- (A) infraestrutura portuária.
- (B) transporte sobre trilhos.
- (C) aparelhamento de hospitais.
- (D) administração de aeroportos.
- (E) construção de moradias populares.

24. O ministro das Relações Exteriores Antonio Patriota deixou o posto (...). O substituto é Luís Alberto Figueiredo Machado, que ocupava o cargo de representante do Brasil na ONU.

A saída de Antonio Patriota foi selada no início da noite desta segunda-feira (26) no Palácio do Planalto. Em nota, a Presidência informou que Dilma Rousseff aceitou o pedido de demissão do ministro e indicou o embaixador Luiz Alberto Figueiredo, representante do Brasil junto às Nações Unidas em Nova York, para ser o novo ministro das Relações Exteriores.

(<http://g1.globo.com>. 27.08.2013)

A demissão do ministro ocorreu após o constrangimento diplomático com a Bolívia, causado

- (A) pela expropriação de empresas brasileiras na Bolívia, nacionalizadas pelo presidente Evo Morales.
- (B) pelo pedido, feito pelo Brasil, de exclusão da Bolívia como membro-associado do Mercosul.
- (C) pela violação do espaço aéreo brasileiro por aviões bolivianos de combate ao narcotráfico.
- (D) pelo rompimento, pelo Brasil, do acordo bilateral de intercâmbio de tecnologia de produção de gás.
- (E) pela transferência, para o Brasil, de um senador opositor refugiado na embaixada brasileira.

25. A presidente Dilma Rousseff cancelou a viagem oficial que faria aos EUA, em outubro (...). A Casa Branca disse que Obama “entende e lamenta” as preocupações e está disposto a trabalhar para resolver essa fonte de tensão.

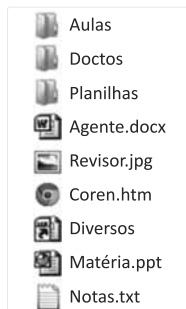
(O Estado de S.Paulo, 18.09.2013)

Essa “fonte de tensão” refere-se

- (A) à adoção de tarifas protecionistas nos EUA, que prejudicarão as exportações brasileiras de etanol, soja e suco de laranja.
- (B) ao veto do governo norte-americano à indicação do Brasil como membro permanente do Conselho de Segurança da ONU.
- (C) à falta de explicação oficial do governo norte-americano para a espionagem feita contra a presidente brasileira e a Petrobras.
- (D) ao impedimento arbitrário da entrada de alguns cidadãos brasileiros nos EUA, alegando-se razões de segurança nacional.
- (E) à violação de acordos comerciais por parte dos norte-americanos, que restringiram a entrada de produtos oriundos do Mercosul.

### NOÇÕES DE INFORMÁTICA

26. Observe a lista de arquivos gerenciados pelo MS-Windows 7, em sua configuração original, exibidos na figura:



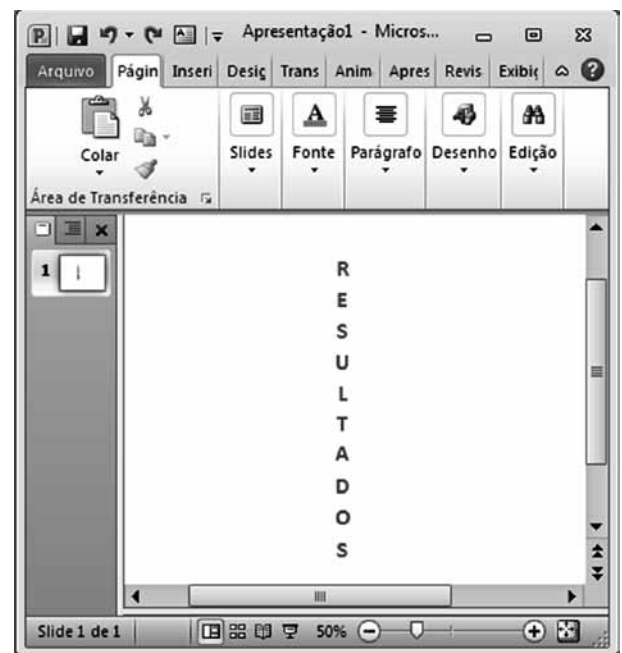
Assinale a alternativa que contém o arquivo que, por padrão, o MS-Windows 7 sugere que seja armazenado na biblioteca de imagens.

- (A) Aulas.
- (B) Agente.docx.
- (C) Matéria.ppt.
- (D) Revisor.jpg.
- (E) Notas.txt.

27. No MS-Word 2010, em sua configuração original, o estilo Normal utiliza o seguinte espaçamento entre linhas:

- (A) Simples.
- (B) 1,5 linhas.
- (C) Duplo.
- (D) Exatamente.
- (E) Múltiplos.

28. Considere o texto inserido em um *slide* do MS-PowerPoint 2010, na sua configuração padrão:



Assinale a alternativa que identifica corretamente a opção de direção que foi aplicada no texto.

- (A) Horizontal.
- (B) Empilhado.
- (C) Girar todo o texto em 90°.
- (D) Girar todo o texto em 270°.
- (E) Vertical.

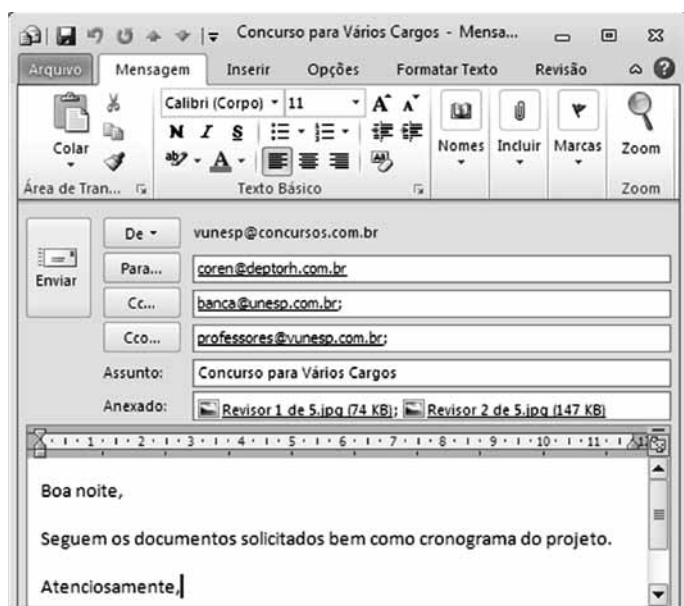


29. Considere o conteúdo das células da planilha do MS-Excel 2010, em sua configuração original:

|   | A          | B          | C | D | E |
|---|------------|------------|---|---|---|
| 1 | R\$ 80,00  | R\$ 240,00 |   |   |   |
| 2 | R\$ 600,00 | R\$ 670,00 |   |   |   |
| 3 | R\$ 680,00 |            |   |   |   |
| 4 |            |            |   |   |   |

Ao copiar a fórmula da célula A3 para a célula B3, teremos o seguinte resultado nessa célula:

- (A) R\$ 455,00.  
(B) R\$ 680,00.  
(C) R\$ 840,00.  
(D) R\$ 910,00.  
(E) R\$ 1.590,00.
30. Considere o e-mail preparado no MS-Outlook 2010, na sua instalação padrão:



Assinale a alternativa que contém o tipo de formatação encontrado no grupo Formatar, da guia de opções Formatar Texto, aplicado na mensagem.

- (A) Texto sem Formatação.  
(B) Rich Text.  
(C) WordPad.  
(D) NotePad.  
(E) HTML.

## CONHECIMENTOS ESPECÍFICOS

31. De acordo com a Lei n.º 5.905/73, que dispõe sobre a criação dos Conselhos Federal e Regionais de Enfermagem,
- (A) é competência do Conselho Federal de Enfermagem deliberar sobre inscrição no Conselho e seu cancelamento.  
(B) o conselheiro que faltar por três reuniões consecutivas ou alternadas junto ao Conselho Federal perderá o mandato.  
(C) ao eleitor que deixar de votar nas eleições para os membros dos Conselhos Regionais será aplicada, pelo respectivo Conselho, multa correspondente ao valor de três anuidades.  
(D) o mandato dos membros dos Conselhos Regionais terá duração de quatro anos, sem direito à reeleição.  
(E) a renda dos Conselhos Regionais de Enfermagem é constituída, entre outras fontes, de três quartos da arrecadação das multas aplicadas.
32. A Lei n.º 7.498/86, que dispõe sobre a regulamentação do exercício da enfermagem, e o Decreto n.º 94.406/87, que a regulamenta, especificam que a identificação das distócias obstétricas e a tomada de providências até a chegada do médico incumbem
- (A) ao enfermeiro generalista.  
(B) ao enfermeiro de saúde pública.  
(C) à obstetritz ou enfermeira obstétrica.  
(D) ao técnico de enfermagem, quando capacitado para tal.  
(E) à parteira.
33. A enfermeira de uma maternidade, localizada em uma pequena cidade do interior paulista, realizou consulta ao Conselho Regional de Enfermagem sobre como proceder frente à solicitação para atuar como auxiliar de cirurgia em cesarianas previamente agendadas, em função do afastamento de um dos plantonistas médicos por motivo de licença para casamento.
- Com base na Resolução COFEN n.º 280/2003, a enfermeira deve ser informada de que
- (A) a consulta deve ser dirigida à Comissão de Ética de Enfermagem da instituição, que, após análise da situação, poderá deliberar favoravelmente à atuação da solicitante como auxiliar de cirurgia.  
(B) a qualquer profissional de enfermagem é vedado atuar como auxiliar de cirurgia, exceto em situações de iminente e grave risco de vida, condição esta não aplicável em situações previsíveis e rotineiras.  
(C) em procedimentos obstétricos, está autorizada a atuação da enfermeira obstétrica ou obstetritz na função de auxiliar de cirurgia.  
(D) em virtude de carência de recursos humanos na área, a instituição deve requerer autorização ao Conselho Regional de Enfermagem indicando a enfermeira que deverá assumir a função de auxiliar de cirurgia em caso de urgência.  
(E) independentemente da função assumida, é vedado a qualquer profissional de enfermagem a participação, em qualquer situação, em ato cirúrgico.

34. Na cidade X existe um hospital de cirurgia plástica com capacidade para trinta leitos. Cumprindo a Resolução COFEN n.º 139/1992, que institui a obrigatoriedade de comunicação, por escrito, de todos os dados de identificação do pessoal de enfermagem, inicialmente a entidade comunicou por escrito ao respectivo Conselho Regional de Enfermagem todos os dados de identificação do seu pessoal de enfermagem. Posteriormente, a cada ano, essa entidade deve informar também, além da admissão de pessoal de enfermagem,
- (A) as mudanças de categoria profissional, as demissões do pessoal de enfermagem, quando por justa causa, e os acidentes de trabalho ocorridos devido a ato inseguro.
  - (B) as mudanças de nome em função de casamento, os profissionais de enfermagem que compõem a Comissão de Ética em Pesquisa e a progressão na carreira conforme o plano de cargos da instituição.
  - (C) os afastamentos da profissão e suas causas, mudança de nome e a realização de cursos de aperfeiçoamento ou especialização.
  - (D) as mudanças de categoria profissional, a realização de cursos de especialização e os profissionais de enfermagem que compõem a Comissão de Controle da Infecção Hospitalar – CCIH.
  - (E) as mudanças de nome, a progressão na carreira conforme o plano de cargos da instituição e os profissionais de enfermagem que compõem a Comissão de Ética em Pesquisa.

Para responder às questões de números 35 e 36, considere o estabelecido na Resolução COFEN n.º 172/1994, que normatiza a criação de Comissão de Ética de Enfermagem nas instituições de saúde, e a Decisão COREN-SP/DIR/01/2011, que normatiza a criação, a organização, o funcionamento e a eleição das Comissões de Ética de Enfermagem no Estado de São Paulo.

35. Analise as afirmações a seguir e classifique cada uma delas como (V) verdadeira ou (F) falsa.
- ( ) O cargo de presidente da Comissão de Ética de Enfermagem somente poderá ser preenchido por enfermeiro.
  - ( ) O tempo de mandato da Comissão de Ética de Enfermagem será de dois anos, sendo admitidas duas reeleições.
  - ( ) Os atos da Comissão de Ética de Enfermagem relativos à sindicância deverão ser sigilosos, sendo possível o aproveitamento de fatos ocorridos para fins educativos e de orientação, desde que preservadas as informações de identificação dos envolvidos e as circunstâncias especiais do caso que possam sugerir sua autoria.
  - ( ) A sindicância somente poderá ser instaurada mediante denúncia por escrito, devidamente identificada e fundamentada.

Assinale a alternativa que apresenta a classificação correta, de cima para baixo.

- (A) V, F, V, F.
- (B) V, V, F, F.
- (C) F, F, V, V.
- (D) V, V, V, V.
- (E) F, F, F, F.

36. As Comissões de Ética de Enfermagem devem ser dimensionadas com base no
- (A) número de leitos da instituição.
  - (B) tipo de especialidade atendida.
  - (C) número de profissionais de enfermagem que compõem o quadro de funcionários.
  - (D) número médio de horas de enfermagem por leito nas 24 hoas.
  - (E) número de enfermeiros que trabalham na instituição.

Para responder às questões de números 37 e 38, considere o relato a seguir.

Em visita a uma empresa, a fiscal do COREN-SP verificou que no ambulatório médico atuava uma atendente de enfermagem. Foi informada de que a funcionária trabalhava na empresa havia vinte e nove anos, estando prestes a se aposentar. Além disso, a empresa informou que, por orientação recebida, a atendente de enfermagem tinha sua atuação autorizada pelo órgão de fiscalização do exercício da enfermagem, recebendo o número de autorização XYZ.

37. Considerando o disposto na Lei n.º 8.967/1994, que altera a redação do parágrafo único do art. 23 da lei n.º 7.498/1986, que dispõe sobre a regulamentação do exercício da Enfermagem, e a Resolução COFEN n.º 186/1995, que dispõe sobre a definição e especificação das atividades elementares de Enfermagem executadas pelo pessoal sem formação específica, essa funcionária deve executar apenas atividades elementares de enfermagem, tais como:
- (A) dispensar medicamentos da farmácia da empresa, mediante receita; verificar a temperatura axilar; auxiliar nas rotinas administrativas do setor.
  - (B) preparar macas e cadeiras de rodas; receber e conferir os prontuários e distribuí-los nos consultórios e preparar mesas de exames.
  - (C) receber, conferir e guardar roupa recebida da lavanderia; oferecer medicação via oral, prescrita pelo médico; dispensar medicamentos da farmácia da empresa, mediante receita.
  - (D) zelar pela manutenção do setor, informando ao responsável os problemas existentes; verificar a temperatura axilar; receber e conferir os prontuários e distribuí-los nos consultórios.
  - (E) agendar consultas, tratamentos e exames, orientando os trabalhadores sobre o preparo necessário, quando couber; dispensar medicamentos da farmácia da empresa, mediante receita; oferecer medicação via oral, prescrita pelo médico.

38. É correto afirmar que, nas situações em que a Resolução COFEN n.º 191/1996, que dispõe sobre a forma de anotação e o uso do número de inscrição ou da autorização, pelo pessoal de Enfermagem, determina a aposição do número de inscrição ou autorização, a funcionária deve fazê-lo na seguinte forma:

- (A) COREN-SP-XYZ-AT
- (B) AT-COREN-SP-XYZ/AUT
- (C) AUT/AT-COREN-SP-XYZ
- (D) AUT/COREN-SP-XYZ
- (E) COREN-SP/AUT-XYZ

39. A equipe de cirurgia bucomaxilofacial é responsável por um paciente internado, submetido a um procedimento na face, que se encontra em plena recuperação sem apresentar queixas ou anormalidades. Durante o plantão, a enfermeira recebe um telefonema do odontólogo da equipe que determina a aplicação no paciente de um medicamento, de rotina, por via intramuscular. Conforme a Resolução COFEN n.º 225/2000, que dispõe sobre o cumprimento de prescrição medicamentosa/terapêutica à distância, essa enfermeira deve

- (A) informar ao odontólogo a impossibilidade de executar a prescrição, pois, de acordo com a legislação vigente, a prescrição medicamentosa/terapêutica é de competência exclusiva do médico.
- (B) solicitar ao profissional que providencie o envio da prescrição via *e-mail*, executando-a somente após o seu recebimento.
- (C) informar ao odontólogo que é vedado ao profissional de enfermagem executar prescrições medicamentosas de rotina por telefone, dada a impossibilidade de constar a assinatura de quem prescreve.
- (D) executar a prescrição e, a seguir, registrar, detalhadamente, no prontuário do paciente a data e a hora, bem como as condições em que ocorreram a prescrição e a administração do medicamento.
- (E) informar ao odontólogo que as prescrições medicamentosas/terapêuticas à distância só podem ser executadas se realizadas pelo médico responsável pela equipe, devidamente autorizado pela instituição.

40. No âmbito da equipe de enfermagem, a classificação de risco e priorização da assistência em Serviços de Urgência e Emergência é atribuição

- (A) de qualquer um dos profissionais de enfermagem que integram a equipe de socorristas.
- (B) do técnico ou auxiliar de enfermagem, se capacitados para tal, sob supervisão do enfermeiro.
- (C) do enfermeiro.
- (D) do enfermeiro e do técnico de enfermagem.
- (E) do técnico de enfermagem, sob supervisão do enfermeiro.

41. Assinale a alternativa correta no que diz respeito ao Código de Ética dos Profissionais de Enfermagem.

- (A) A aplicação de penalidades é de alçada exclusiva dos Conselhos Regionais de Enfermagem, ouvido, quando necessário, o Conselho Federal de Enfermagem.
- (B) Considera-se Infração Ética a inobservância das normas dos Conselhos Federal e Regionais de Enfermagem.
- (C) Em função de executarem apenas atividades elementares de enfermagem, o Código de Ética dos Profissionais de Enfermagem não se aplica aos atendentes de enfermagem.
- (D) A Declaração Universal dos Direitos do Homem e normas nacionais e internacionais sobre pesquisa com seres humanos serviram de referência para a elaboração do referido Código.
- (E) Constitui infração disciplinar a inobservância às disposições do Código de Ética dos Profissionais de Enfermagem.

42. Leia as informações contidas nas duas colunas apresentadas a seguir e relacione o tipo de penalidade a seu correto significado, de acordo com a Resolução COFEN n.º 311/2007, que aprova a reformulação do Código de Ética dos Profissionais de Enfermagem.

| PENALIDADE                              | SIGNIFICADO   |
|---|---|
| I. Cassação do exercício profissional   | a. Perda do direito ao exercício da enfermagem.   |
| II. Advertência verbal                  | b. Proibição do exercício profissional por um período de até 29 dias.   |
| III. Censura                            | c. Admoestação ao infrator, em caráter reservado, que será registrada em seu Prontuário, na presença de duas testemunhas.                   |
| IV. Suspensão do exercício profissional | d. Repreensão que será divulgada nas publicações oficiais dos Conselhos Federal e Regional de Enfermagem e em jornais de grande circulação. |

Assinale a alternativa que contém a relação correta.

- (A) I-a; II-c; III-d; IV-b.
- (B) I-b; II-d; III-c; IV-a.
- (C) I-a; II-d; III-c; IV-b.
- (D) I-b; II-c; III-a; IV-d.
- (E) I-a; II-b; III-c; IV-d.

43. Todos os profissionais de enfermagem têm assegurado no Código de Ética dos Profissionais de Enfermagem o direito de

- (A) suspender suas atividades individual ou coletivamente quando a instituição pública ou privada para qual trabalhem não ofereça condições dignas para o exercício profissional.
- (B) decidir, de acordo com sua consciência, participar de prática destinada à eutanásia se este for desejo do paciente, explicitado por escrito.
- (C) facilitar o acesso a informações e documentos dos usuários dos serviços, a pessoas interessadas.
- (D) utilizar, na íntegra, casos, situações e fatos ocorridos para fins de educação e orientação.
- (E) fazer constar seu nome como autor ou coautor de obra técnico-científica exclusivamente em função da pesquisa ter sido realizada em instituição sob sua responsabilidade.

44. No âmbito da equipe de enfermagem cabe, privativamente, ao enfermeiro
- (A) integrar a equipe de saúde.
  - (B) efetuar o controle de pacientes e de comunicantes em doenças transmissíveis.
  - (C) coletar material para colpocitologia oncótica pelo método de Papanicolaou.
  - (D) orientar o paciente/usuário para exames e tratamentos.
  - (E) prestar cuidados de enfermagem a recém-nascidos prematuros.

Para responder às questões de números 45 a 47, considere o disposto na Resolução COFEN n.º 374/2011, que normatiza o funcionamento do Sistema de Fiscalização do Exercício Profissional, e seus anexos.

45. Leia a notícia a seguir.

*Homem recebe alimento na veia no lugar de medicação*

Um aposentado de 83 anos que está internado em um hospital particular de Alfenas (MG) recebeu alimento pelo cateter na veia, no lugar de medicação. O erro fez com que ele fosse transferido às pressas para a Unidade de Terapia Intensiva (UTI), onde segue internado.

O hospital confirmou nessa semana o erro, registrado na sexta-feira (8), e atribuiu a uma técnica em enfermagem. O caso é apurado em sindicância interna e por meio de inquérito da Polícia Civil. O paciente, José Luiz Pereira, estava internado para tratar uma pneumonia e, segundo parentes, recuperava-se bem.

Em entrevista a uma emissora de televisão, o diretor clínico do hospital, Paulo Celso Bastos Bernardes, confirmou o erro que agravou o estado do idoso. “O hospital admite que houve uma falha humana e nós abrimos uma sindicância para apurar o que de fato aconteceu”, afirmou. A família do aposentado mora em Machado (MG) e procurou a polícia assim que soube do erro. Os envolvidos estão sendo ouvidos e inquérito a respeito já foi aberto.

*René Moreira*

(Disponível em [noticias.uol.com](http://noticias.uol.com). 13.03.2013. Adaptado)

Ao tomar conhecimento dessa ocorrência pela imprensa, o Conselho Regional de Enfermagem (COREN) considerou que os fatos descritos tipificavam infração às normas éticas e legais da enfermagem. Assim sendo, esse órgão fiscalizador deve, como primeira medida,

- (A) convocar, para prestarem depoimento, a profissional de enfermagem envolvida e o responsável técnico pelo serviço de enfermagem do hospital onde ocorreu o fato.
- (B) elaborar denúncia ao Ministério Público e solicitar à Polícia Civil cópia do Boletim de Ocorrência (BO) e dos documentos comprobatórios da existência de erro de enfermagem.
- (C) determinar a abertura de sindicância, ex-officio, por ato do seu presidente.
- (D) aguardar a formalização da denúncia pelo Ministério Público para abertura de sindicância.
- (E) aguardar a formalização da representação por parte do hospital envolvido para a apuração dos fatos.

46. Durante fiscalização em uma unidade de saúde, o fiscal constatou que no plantão noturno acadêmicos de enfermagem exerciam atividades de enfermagem sem a supervisão do enfermeiro. Frente a essa situação, o fiscal deve

- (A) esclarecer à instituição que a atuação de acadêmicos de enfermagem no período noturno só estará autorizada se acompanhados por profissional de saúde, de nível superior.
- (B) suspender imediatamente as atividades de enfermagem por meio do auto de infração.
- (C) notificar a Comissão de Ética de Enfermagem da instituição para a tomada de medidas cabíveis.
- (D) emitir auto de infração e providenciar Boletim de Ocorrência (BO) junto à Polícia Civil.
- (E) suspender as atividades de enfermagem e notificar a Comissão de Ética de Enfermagem para abertura de diligência.

47. Realizar inspeções do exercício profissional na circunscrição do Conselho Regional, de acordo com o planejamento previamente elaborado, é uma atribuição do

- (A) auxiliar de fiscalização.
- (B) fiscal.
- (C) conselheiro.
- (D) coordenador do departamento de fiscalização.
- (E) chefe do departamento de fiscalização.

48. De acordo com o disposto na Resolução COFEN n.º 438/2012, em relação ao trabalho em sobreaviso do enfermeiro assistencial, é correto afirmar que é

- (A) vedado, em qualquer circunstância.
- (B) permitido para a obstetrix ou enfermeira obstétrica que atuem em maternidade, se autorizado previamente pelo Conselho Regional de Enfermagem.
- (C) permitido aos domingos e feriados para enfermeiros que atuem em centro cirúrgico.
- (D) permitido, caso instituído para cobertura de eventuais faltas de profissionais na escala de serviço.
- (E) permitido, caso instituído para o trabalho em unidade de internação de transplante de órgãos, se autorizado previamente pelo Conselho Regional de Enfermagem.

49. Com base no disposto na Resolução COFEN n.º 429/2012, que dispõe sobre o registro das ações profissionais no prontuário do paciente, e em outros documentos próprios da enfermagem, independentemente do meio de suporte – tradicional ou eletrônico – e na Decisão COREN-SP-DIR/01/2000, que normatiza no Estado de São Paulo os princípios gerais para ações que constituem a Documentação de Enfermagem, analise as afirmações a seguir e classifique cada uma delas como (V) verdadeira ou (F) falsa.

- ( ) Os diagnósticos de enfermagem, bem como as intervenções de enfermagem realizadas e os resultados obtidos em função destes, devem ser registrados no prontuário do paciente/usuário.
- ( ) Independentemente do uso de assinatura digital dos profissionais, quando a instituição ou serviço de saúde utiliza sistema eletrônico, deve ser feita a impressão dos documentos de enfermagem, que deverão conter a identificação profissional e assinatura de quem realizou a anotação.
- ( ) O registro de enfermagem deve fazer parte do prontuário do cliente ou paciente e servir como fonte de dados para processo administrativo, legal, de ensino e pesquisa.
- ( ) Com a finalidade de evitar rasuras, as anotações no prontuário do paciente/cliente podem ser feitas, provisoriamente, a lápis, devendo ao final da jornada de trabalho serem passadas à tinta, assinadas e receberem o carimbo com os dados de quem as executou.

Assinale a alternativa que apresenta a classificação correta, de cima para baixo.

- (A) V, V, V, V.
- (B) F, F, V, V.
- (C) V, V, F, V.
- (D) V, F, V, F.
- (E) F, F, F, F.

Para responder às questões de números 50 e 51, considere o relato a seguir e o determinado na Resolução COFEN n.º 293/2004, que fixa e estabelece parâmetros para o dimensionamento do quadro de profissionais de enfermagem nas unidades assistenciais das instituições de saúde.

Após reforma e ampliação, um hospital geral irá inaugurar duas alas novas. De acordo com o sistema de classificação de pacientes (SCP), a Ala X se classifica como de assistência intermediária e a Ala Y como semi-intensiva. Na ala X, serão internados pacientes idosos portadores de doenças crônicas, que deverão permanecer, via de regra, desacompanhados. A Ala Y, com quinze leitos, receberá pacientes adultos que necessitam de maiores cuidados.

50. Para efeito de cálculo, ao dimensionar o quadro de profissionais de enfermagem o responsável técnico deverá considerar, para os novos setores, como horas de enfermagem, por leito, nas 24 horas:

- (A) Ala X = 3,8 horas de enfermagem; Ala Y = 8,6 horas de enfermagem.
- (B) Ala X = 4,3 horas de enfermagem; Ala Y = 6,1 horas de enfermagem.
- (C) Ala X = 5,6 horas de enfermagem; Ala Y = 9,9 horas de enfermagem.
- (D) Ala X = 6,1 horas de enfermagem; Ala Y = 9,4 horas de enfermagem.
- (E) Ala X = 9,9 horas de enfermagem; Ala Y = 17,9 horas de enfermagem.

51. Na Ala Y, a proporção de enfermeiros entre os profissionais de enfermagem que irão assistir aos pacientes deverá ser de

- (A) 33 a 37%.
- (B) 42 a 46%.
- (C) 46 a 52%.
- (D) 52 a 56%.
- (E) no mínimo 70%.

Para responder às questões de números **52** e **53**, considere o disposto na Resolução COFEN n.º 302/2005, que normatiza a anotação da Responsabilidade Técnica de Enfermeiro(a), em virtude de chefia de Serviço de Enfermagem nos estabelecimentos.

**52.** Após sua emissão, a Certidão de Responsabilidade Técnica (CRT) deverá ser renovada a cada

- (A) 6 meses.
- (B) 12 meses.
- (C) 24 meses.
- (D) 36 meses.
- (E) 60 meses.

**53.** A Enfermeira Responsável Técnica de um estabelecimento de ensino onde são ministrados os cursos de formação de Auxiliar e Técnico de Enfermagem procurou o Conselho Regional de Enfermagem buscando orientação sobre como proceder devido a seu afastamento por licença maternidade, previsto para dali a duas semanas. Frente a essa situação, o responsável por seu atendimento no Conselho deverá orientá-la

- (A) a informar seu afastamento ao COREN, para o procedimento de sua substituição.
- (B) que, por se tratar de um estabelecimento de ensino, está dispensada de informar seu afastamento temporário ao COREN.
- (C) a solicitar o cancelamento da sua Certidão de Responsabilidade Técnica (CRT) e recolher a taxa pertinente.
- (D) a autorizar, por escrito, a atuação do seu substituto como Responsável Técnico da Enfermagem durante seu afastamento.
- (E) a encaminhar ao COREN carta de solicitação de transferência de Responsabilidade Técnica no período de afastamento, contendo os dados pessoais do seu substituto.

Para responder às questões de números **54** e **55**, considere o apresentado na Resolução COFEN n.º 358/2009, que dispõe sobre a Sistematização da Assistência de Enfermagem e a implementação do Processo de Enfermagem em ambientes públicos ou privados.

**54.** Analise as afirmações a seguir e classifique cada uma delas como (V) verdadeira ou (F) falsa.

- ( ) O Processo de Enfermagem deve ser realizado de modo deliberado e sistemático em todos ambientes, sejam eles públicos ou privados, onde ocorre o cuidado profissional de enfermagem.
- ( ) A Consulta de Enfermagem realizada nos ambulatórios, domicílios e escolas, entre outros serviços, corresponde ao Processo de Enfermagem.
- ( ) O processo de Enfermagem deve estar baseado num suporte teórico que oriente a coleta de dados, o estabelecimento dos diagnósticos de enfermagem e o planejamento das ações/intervenções de enfermagem, além de fornecer a base para a avaliação dos resultados de enfermagem alcançados.
- ( ) O Técnico e o Auxiliar de Enfermagem participam da execução do Processo de Enfermagem.

Assinale a alternativa que apresenta a classificação correta, de cima para baixo.

- (A) V, F, V, F.
- (B) F, V, V, V.
- (C) F, V, F, F.
- (D) V, V, V, V.
- (E) V, V, V, F.

**55.** O Processo de Enfermagem compreende cinco etapas inter-relacionadas em que a determinação dos resultados que se pretende alcançar e das ações ou intervenções de enfermagem que serão realizadas caracterizam a fase de

- (A) diagnóstico de enfermagem.
- (B) coleta de dados de enfermagem.
- (C) avaliação de enfermagem.
- (D) implementação.
- (E) planejamento de enfermagem.

56. Leia atentamente as informações contidas nas duas colunas a seguir e relacione a legislação ao assunto por ela tratado.

| LEGISLAÇÃO                        | ASSUNTO   |
|-----------------------------------|---|
| I. Resolução COFEN n.º 306/2006   | a. Fixa as competências e atribuições do enfermeiro na área de hemoterapia.                                 |
| II. Resolução COFEN n.º 195/1997  | b. Dispõe sobre a solicitação de exames de rotina e complementares pelo enfermeiro.                         |
| III. Resolução COFEN n.º 210/1998 | c. Dispõe sobre a atuação dos profissionais de enfermagem que trabalham com quimioterápico antineoplásicos. |

Assinale a alternativa que contém relação correta.

- (A) I-c; II-b; III-a.  
(B) I-b; II-a; III-c.  
(C) I-a; II-c; III-b.  
(D) I-a; II-b; III-c.  
(E) I-b; II-c; III-a.
57. De acordo com a Resolução COFEN n.º 293/2004, que fixa e estabelece parâmetros para o dimensionamento do quadro de profissionais de enfermagem nas unidades assistenciais das instituições de saúde, é correto afirmar que
- (A) os dados referentes à presença de crianças menores de seis anos atendidas na unidade devem ser utilizados como um dos subsídios para a composição do quadro de enfermagem de unidades assistenciais.  
(B) o responsável técnico de enfermagem deve dispor, no mínimo, de 5 a 15% do quadro geral de profissionais de enfermagem para cobertura de situações relacionadas à rotatividade de pessoal e participação em atividades de educação continuada.  
(C) quando o quadro de profissionais de enfermagem da unidade de internação for composto por 50% ou mais de pessoas com idade superior a cinquenta anos, o índice de segurança técnica (IST) deve ser acrescido de 10%.  
(D) o número de atendentes de enfermagem não deve ultrapassar 5% do total de profissionais que compõe o quadro de pessoal de enfermagem.  
(E) o dimensionamento do quadro de enfermagem depende do tipo de jornada e carga horária acordada para esses profissionais.

58. Considerando o disposto na Resolução COFEN n.º 281/2003, que dispõe sobre a repetição/cumprimento da prescrição medicamentosa por profissional da área de saúde, analise as afirmações a seguir, sobre a repetição de prescrição medicamentosa, e classifique cada uma delas como (V) verdadeira ou (F) falsa.

- ( ) Após 24 horas da prescrição medicamentosa efetivada, o profissional da área da saúde responsável poderá autorizar o enfermeiro a transcrevê-la uma vez, com validade por 12 horas.  
( ) Ultrapassado o prazo de 24 horas da realização de prescrição medicamentosa, o não comparecimento do profissional responsável para renová-la implicará denúncia do profissional de enfermagem ao responsável técnico da instituição ou plantonista, relatando detalhadamente o ocorrido, devendo ser encaminhada cópia do relatório ao COREN.  
( ) Não é permitido ao profissional de enfermagem acatar ordem verbal para repetição de prescrição medicamentosa.

Assinale a alternativa que apresenta a classificação correta, de cima para baixo.

- (A) F, V, F.  
(B) F, V, V.  
(C) V, V, V.  
(D) F, F, V.  
(E) F, F, F.
59. Em São Paulo, a Lei Estadual n.º 10.241/99, que dispõe sobre os direitos dos usuários dos serviços de saúde e das ações de saúde, estabelece que o acesso do usuário ao seu prontuário médico
- (A) deve ser autorizado pelo médico responsável.  
(B) é restrito aos tratamentos ambulatoriais.  
(C) deve ser autorizado previamente pela família.  
(D) é permitido após autorização da instituição.  
(E) pode ser solicitado quando assim o usuário desejar.
60. No Sistema Único de Saúde (SUS), promover a articulação com os órgãos educacionais e de fiscalização do exercício profissional, bem como entidades representativas de formação de recursos humanos na área de saúde, é competência
- (A) da direção nacional.  
(B) da direção estadual.  
(C) da direção municipal.  
(D) do Conselho Gestor Municipal.  
(E) do Conselho Estadual de Saúde.

