



PREFEITURA DA ESTÂNCIA HIDROMINERAL DE POÁ

PROCESSO SELETIVO

015. PROVA OBJETIVA

ENFERMEIRO

- ◆ Você recebeu sua folha de respostas e este caderno contendo 60 questões objetivas.
- ◆ Confira seu nome e número de inscrição impressos na capa deste caderno e na folha de respostas.
- ◆ Quando for permitido abrir o caderno, verifique se está completo ou se apresenta imperfeições. Caso haja algum problema, informe ao fiscal da sala.
- ◆ Leia cuidadosamente todas as questões e escolha a resposta que você considera correta.
- ◆ Marque, na folha de respostas, com caneta de tinta azul ou preta, a letra correspondente à alternativa que você escolheu.
- ◆ A duração da prova é de 3 horas e 30 minutos, já incluído o tempo para o preenchimento da folha de respostas.
- ◆ Só será permitida a saída definitiva da sala e do prédio após transcorridos 75% do tempo de duração da prova.
- ◆ Deverão permanecer em cada uma das salas de prova os 3 últimos candidatos, até que o último deles entregue sua prova, assinando termo respectivo.
- ◆ Ao sair, você entregará ao fiscal a folha de respostas e este caderno, podendo levar apenas o rascunho de gabarito, localizado em sua carteira, para futura conferência.
- ◆ Até que você saia do prédio, todas as proibições e orientações continuam válidas.

AGUARDE A ORDEM DO FISCAL PARA ABRIR ESTE CADERNO DE QUESTÕES.

CONHECIMENTOS GERAIS

LÍNGUA PORTUGUESA

Leia o texto de Contardo Calligaris, para responder às questões de números **01** a **06**.

Somos muitos ou somos poucos?

Na sexta passada, imobilizado na av. Nove de Julho enquanto se aproximava a hora da sessão de cinema para a qual tinha adquirido meu ingresso, eu pensava que, decididamente, somos muitos. Em compensação, sozinho, à noite, numa fazenda na região do Urucuia, em Minas Gerais, ou numa ilha de Angra, já me aconteceu de pensar que somos muito poucos.

No fim de semana, li o novo livro de Dan Brown, “Inferno”. O tema da vez é o crescimento demográfico. O vilão da história acha que o mundo tem um único problema sério: a humanidade está crescendo de tal forma que, em breve, sua subsistência se tornará impossível. Todas as inquietações ecológicas (a perspectiva da falta de água potável ou de alimentos, o aquecimento global etc.) seriam, segundo ele, consequências do crescimento enlouquecido de nossa espécie – fadada a desaparecer por seu próprio sucesso.

Quantos humanos nasceram na Terra desde a aparição do homem? Há estimativas para todos os gostos. Segundo uma delas, mencionada no livro, foram 9 bilhões desde o começo, e 7 desses 9 estão vivos hoje.

É certo que o crescimento populacional se acelerou de uma maneira bizarra. Éramos 1 bilhão em 1804, levamos 150 anos para chegarmos a 3 bilhões (nos anos 60), e passamos dos 7 bilhões em 2011. Em 2050 poderíamos ser 10 bilhões.

Enquanto Dan Brown me convencia de que somos muitos, a “Veja” de sábado passado publicou uma matéria de capa sobre as mulheres que decidem não ter filhos. A revista anunciava: “o número de famílias brasileiras sem filhos cresce três vezes mais do que o daquelas com crianças”.

Em geral, quanto mais um povo se desenvolve cultural e economicamente (ou seja, quanto mais um povo se parece com o Ocidente moderno e desenvolvido), tanto menor é o número médio de filhos por família.

Para que a espécie não encolha, é preciso que, em média, haja 2,1 filhos para cada dois adultos – ou seja, se todos casarem, nove em dez casais devem ter dois filhos e um deve ter três. Uma boa metade da população da Terra (incluindo o Brasil) não está fazendo o necessário para repor seus mortos.

Temporariamente, haverá (já está havendo) deslocamento de populações dos lugares menos modernizados e mais pobres (onde a população ainda cresce) para os lugares mais ricos, onde ela diminui. Mas, e depois disso, se todos se “modernizarem”?

Em conclusão, quem tem razão, “Veja” ou Dan Brown? Vamos desaparecer porque estamos crescendo demais? Ou vamos desaparecer por extinção, como os pandas, que deixaram de se reproduzir como deveriam? Não sei.

(Folha de S.Paulo, 30.05.2013. Adaptado)

01. Em seu texto, Contardo Calligaris

- (A) defende a ideia de que todos os problemas que inquietam os ecologistas, atualmente, são consequência do crescimento populacional desordenado.
- (B) contrasta os pontos de vista de “Veja” e de Dan Brown, no livro “Inferno”, acerca do modo como a humanidade poderá desaparecer da Terra.
- (C) demonstra que existe um consenso a respeito do número de pessoas que nasceram desde o surgimento do homem na Terra.
- (D) comenta que não há dúvidas de que os seres humanos serão extintos em virtude da falta de água potável e da escassez de alimentos.
- (E) discute as razões que levaram o número médio de filhos por família a cair vertiginosamente nos países mais pobres nos últimos anos.

02. A leitura do texto permite concluir que, na opinião do autor,

- (A) a percepção da quantidade de pessoas na Terra é relativa, variando com o momento e o lugar em que se considere o assunto.
- (B) o desenvolvimento cultural e econômico das sociedades não tem relação com o crescimento demográfico.
- (C) a população humana, ao longo dos séculos, vem se multiplicando em um ritmo equilibrado, que não acarreta dúvidas acerca da maneira como ela desaparecerá da Terra.
- (D) a redução da taxa de natalidade no Brasil foi responsável pelo crescimento econômico e cultural do país.
- (E) a população da Terra se manterá equilibrada na condição de que as comunidades se comprometam a ter, no máximo, dois filhos por casal.

03. No trecho do primeiro parágrafo – ... já me aconteceu de pensar que somos **muito** poucos. –, o termo **muito** é um advérbio e expressa ideia de intensidade, assim como o termo destacado em:

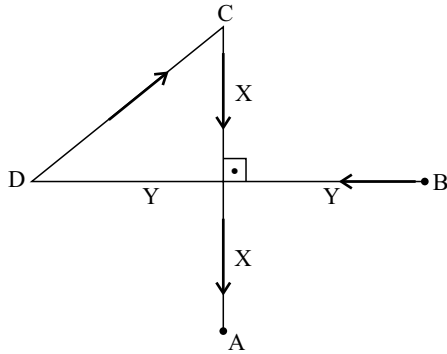
- (A) Sempre há **muito** carro na av. Nove de Julho, por isso aconselhamos usar uma rota alternativa.
- (B) Gosto de sair cedo de casa, pois tenho **muitos** clientes para atender e não posso me atrasar.
- (C) “O código da Vinci”, livro de Dan Brown, fez **muita** gente interessar-se pela obra de Leonardo Da Vinci.
- (D) O novo livro de Dan Brown trata de um tema **muito** interessante: o crescimento demográfico.
- (E) O vilão de “Inferno” acredita que somos **muitos** seres humanos dividindo os recursos da Terra.

04. Na frase do quarto parágrafo – É certo que o crescimento populacional se acelerou de uma maneira **bizarra**. –, o termo em destaque significa
- (A) paulatina.
 - (B) despreziosa.
 - (C) hesitante.
 - (D) incomum.
 - (E) providente.
05. Releia o penúltimo parágrafo:
- Temporariamente, haverá (já está havendo) deslocamento de populações dos lugares menos modernizados e mais pobres (onde a população ainda cresce) para os lugares mais ricos, onde ela diminui. Mas, e depois disso, se todos se “modernizarem”?
- Ao empregar a expressão “**modernizarem**” – entre aspas –, o autor relaciona o sentido de modernizar à ideia de
- (A) inquietações ecológicas.
 - (B) escassez de recursos naturais.
 - (C) redução da população.
 - (D) retrocesso econômico.
 - (E) revolução política.
06. No trecho do último parágrafo – Ou vamos desaparecer **por** extinção, **como** os pandas, que deixaram de se reproduzir **como** deveriam? –, os termos destacados estabelecem, respectivamente, relações de
- (A) finalidade, modo e alternância.
 - (B) consequência, proporção e condição.
 - (C) causa, comparação e modo.
 - (D) condição, finalidade e conformidade.
 - (E) explicação, consequência e comparação.
07. Assinale a alternativa em que a vírgula está empregada corretamente, seguindo a norma-padrão da língua portuguesa.
- (A) O autor, em seu artigo, faz referência a um livro de Dan Brown e a uma matéria da “Veja”.
 - (B) O autor faz em seu artigo, referência a um livro, de Dan Brown, e a uma matéria da “Veja”.
 - (C) Em seu artigo, o autor faz, referência a um livro de Dan Brown, e a uma matéria da “Veja”.
 - (D) O autor faz referência em seu artigo, a um livro de Dan Brown, e a uma matéria da “Veja”.
 - (E) O autor faz, referência a um livro de Dan Brown, e a uma matéria da “Veja”, em seu artigo.
08. A regência da forma verbal destacada segue a norma-padrão da língua portuguesa em:
- (A) O título do livro de que Calligaris **aludiu** no artigo é “Inferno”.
 - (B) Em seu livro, Dan Brown procura **persuadir-nos** de que somos muitos.
 - (C) O vilão da história **argumentou** de que logo a subsistência será impossível.
 - (D) A “Veja” **insinua** de que o número de brasileiros está decrescendo.
 - (E) Calligaris **supõe** de que os humanos desaparecerão de alguma forma.
09. Assinale a alternativa em que a concordância segue a norma-padrão da língua portuguesa.
- (A) A perspectiva da falta de alimentos deixam os ecologistas preocupados.
 - (B) É possível que já tenha nascido mais de nove bilhões de seres humanos.
 - (C) Conforme algumas previsões, deverão haver dez bilhões de pessoas em 2050.
 - (D) As discussões sobre o crescimento demográfico têm se tornado cada vez mais relevante.
 - (E) Segundo a revista “Veja”, um número considerável de brasileiras abriu mão de ter filhos.
10. Assinale a alternativa em que o acento indicativo de crase está empregado corretamente.
- (A) Calligaris se reporta à duas fontes bibliográficas: uma ficcional e outra jornalística.
 - (B) Aparentemente, o livro de Dan Brown parece propenso à levantar polêmica.
 - (C) O autor se volta à uma discussão instigante sobre crescimento demográfico.
 - (D) A escassez generalizada de água potável é uma questão que interessa à todos.
 - (E) É necessário traçar estratégias concretas que levem à preservação da humanidade.

11. Pedro respondeu corretamente à metade do número total de questões de certa prova. Sabe-se que o número de questões que ele errou foi igual a $\frac{3}{4}$ do número de questões que acertou, e que deixou sem resposta duas questões, por falta de tempo. Suponha que ele tivesse respondido de forma correta essas duas questões. Nesse caso, do número total de questões dessa prova, ele teria acertado
- (A) $\frac{3}{5}$
- (B) $\frac{5}{8}$
- (C) $\frac{3}{4}$
- (D) $\frac{4}{5}$
- (E) $\frac{5}{6}$
12. Por causa do Natal, o faturamento do mês de dezembro de certa loja teve um aumento de 25% em relação à média dos demais meses de 2012. Sabendo que a média aritmética dos faturamentos mensais dessa loja durante todo o ano de 2012 foi igual a 1,225 milhão, pode-se afirmar que o faturamento do mês de dezembro foi, em milhão de reais, igual a
- (A) 1,25.
- (B) 1,30.
- (C) 1,40.
- (D) 1,45.
- (E) 1,50.
13. Jonas comprou dois terrenos de formato retangular, cujas áreas somam 720 m^2 . Sabe-se que ambos têm medidas de largura iguais, e que as medidas de comprimento do 1.º e do 2.º terrenos são iguais ao dobro e ao triplo da medida da largura, respectivamente. Nesse caso, é correto afirmar que o perímetro do terreno de maior área é igual, em metros, a
- (A) 96.
- (B) 100.
- (C) 106.
- (D) 110.
- (E) 112.

14. Denise e Beatriz são vendedoras de uma loja e ganham comissão sobre as vendas que efetuam. Sabe-se que, juntas, receberam R\$ 1.908,00 de comissão em junho. Se Denise tivesse recebido R\$ 216,00 a menos, ela teria recebido a metade do que recebeu Beatriz. Nesse mês, o valor da comissão recebida por Beatriz superou o valor de Denise em
- (A) R\$ 320,00.
 - (B) R\$ 348,00.
 - (C) R\$ 440,00.
 - (D) R\$ 448,00.
 - (E) R\$ 580,00.
15. Os investimentos em nova fábrica elevaram a capacidade de produção de certo produto em 40%, adicionando 1,2 milhão de unidades à capacidade instalada anteriormente. Segundo previsões feitas para 2014, se a produção ocupar 90% da nova capacidade instalada, o número de unidades produzidas superará a demanda prevista em 200 000 unidades. Nessas condições, é correto afirmar que a demanda desse produto prevista para 2014 é, em milhões de unidades, igual a
- (A) 3,58.
 - (B) 3,40.
 - (C) 3,25.
 - (D) 2,75.
 - (E) 2,50.
16. Uma torneira com defeito pinga, de maneira uniforme e constante, 5 gotas a cada 30 segundos. Às 8 horas e 30 minutos, um recipiente de formato cúbico, inicialmente vazio, foi colocado para recolher a água proveniente desse vazamento. Às 11 horas e 50 minutos, esse recipiente estava completamente cheio. Se cada gota tem, em média, 0,5 mL, então a medida da aresta interna desse recipiente é, em centímetros, igual a
- (A) 8.
 - (B) 9.
 - (C) 10.
 - (D) 12.
 - (E) 15.
17. Uma encomenda com x unidades de certa peça foi transportada ao cliente em 2 dias, com 5 viagens diárias, utilizando a capacidade máxima de carga do veículo usado para o transporte. O número de dias necessários para transportar integralmente, nas mesmas condições, outra encomenda com $2x$ unidades das mesmas peças, fazendo 4 viagens diárias, é
- (A) 3,5.
 - (B) 4.
 - (C) 4,5.
 - (D) 5.
 - (E) 5,5.

18. Na figura, os pontos A, B, C e D mostram a localização das casas de André, Bruno, Carlos e Daniel, e as distâncias, em linha reta, entre elas. Sabendo que as distâncias, pelos trajetos indicados pelas setas, entre as casas de Daniel e a de Carlos, e a de Carlos e a de André, são iguais a 500 m e 600 m, respectivamente, pode-se concluir que a distância entre a casa de Bruno e a de Daniel é, em metros, igual a



- (A) 1000.
 (B) 900.
 (C) 800.
 (D) 700.
 (E) 600.
19. Para fazer toalhas de mesa para uma festa junina, certa escola comprou uma faixa retangular de tecido cuja medida da largura é igual a $\frac{2}{5}$ da medida do comprimento. Essa faixa deverá ser totalmente recortada em pedaços quadrados iguais e de maior área possível, sem deixar restos. Sabendo que o perímetro da faixa de tecido comprada é igual a 2100 cm, pode-se afirmar que o número de toalhas obtidas foi igual a
- (A) 15.
 (B) 13.
 (C) 12.
 (D) 10.
 (E) 9.
20. Sabendo que a razão entre o volume do cubo A e o volume do cubo B, nessa ordem, é $\frac{8}{27}$, e que a soma das medidas de todas as arestas do cubo B é igual a 18 cm, pode-se afirmar que a soma das medidas de todas as arestas do cubo A é, em centímetros, igual a
- (A) 16.
 (B) 15.
 (C) 14.
 (D) 13.
 (E) 12.

21. Segundo a Fundação Sistema Estadual de Análise de Dados – SEADE, o Índice Paulista de Responsabilidade Social – Dimensão Longevidade, no município de Poá, em 2008, foi igual a 67 e, em 2010, a 64. Em relação à Longevidade, o índice utiliza, atualmente, como um de seus indicadores, o coeficiente de mortalidade infantil que corresponde (para o município, durante os anos referidos)

- (A) à probabilidade de sobrevivência após o nascimento.
- (B) à relação entre o número de óbitos de menores de 1 ano e o número total de óbitos da população.
- (C) à relação entre o número de óbitos de menores de 1 ano e o número de nascidos vivos.
- (D) à relação entre o número de óbitos de menores de 1 mês e o número de nascidos vivos.
- (E) à relação entre nascidos vivos e natimortos.

22. Considere as seguintes medidas:

- alimentação adequada;
- imunização;
- fisioterapia.

Elas são classificadas, respectivamente, como prevenção

- (A) primária, primária e terciária.
- (B) primária, secundária e terciária.
- (C) secundária, primária e terciária.
- (D) terciária, secundária e secundária.
- (E) primária, primária e secundária.

23. O Ministério da Saúde considera como forma prioritária para reorganização da Atenção Básica no Brasil

- (A) a consolidação da estratégia saúde da família.
- (B) a ampliação do número de unidades básicas de saúde.
- (C) a criação de redes matriciais de serviços de baixa, média e alta complexidade.
- (D) a abertura do direito ao exercício da medicina para médicos de outros países.
- (E) o fortalecimento do papel dos gestores municipais de saúde.

24. A Lei Orgânica do Município de Poá estabelece que

- (A) a assistência à saúde é vedada à iniciativa privada, exceto quando expressamente autorizada pelas autoridades municipais competentes.
- (B) quando for do interesse da coletividade é permitida a destinação de recursos públicos para auxílios ou subvenções às instituições privadas com fins lucrativos.
- (C) caberá à rede pública, pelo seu corpo clínico, prestar o atendimento médico para a prática de aborto em casos excludentes de antijuridicidade previstos na legislação penal, respeitando-se as convicções éticas, religiosas e individuais.
- (D) deverá ser assegurado acesso à educação e à informação dos métodos adequados à regulamentação da fertilidade, independentemente das opções individuais.
- (E) compete ao SUS participar da formulação da política, mas não da execução das ações de saneamento básico.

25. Considerando-se as doenças e acidentes relacionados ao trabalho, são de notificação compulsória, no Sinan,

- (A) todos os acidentes de trabalho.
- (B) quaisquer acidentes de trabalho ocorridos em trabalhadoras gestantes.
- (C) as perdas auditivas induzidas pelo ruído, apenas quando exigirem afastamento do trabalho.
- (D) as asma ocupacionais.
- (E) todas as pneumoconioses.

NOCÕES DE INFORMÁTICA

26. Por padrão, o MS-Windows 7, em sua configuração original, armazena um arquivo de extensão JPG, GIF, PNG ou BMP na biblioteca

- (A) Programas.
- (B) Vídeos.
- (C) Músicas.
- (D) Documentos.
- (E) Imagens.

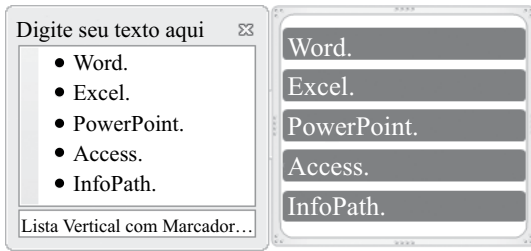
27. Observe a lista com marcadores construída no MS-Word 2010, na sua instalação padrão, exibida na figura I:

Figura I

- ✓ Word.
- ✓ Excel.
- ✓ PowerPoint.
- ✓ Access.
- ✓ InfoPath.

Note que a lista da figura I sofreu alteração, conforme se verifica na figura II:

Figura II



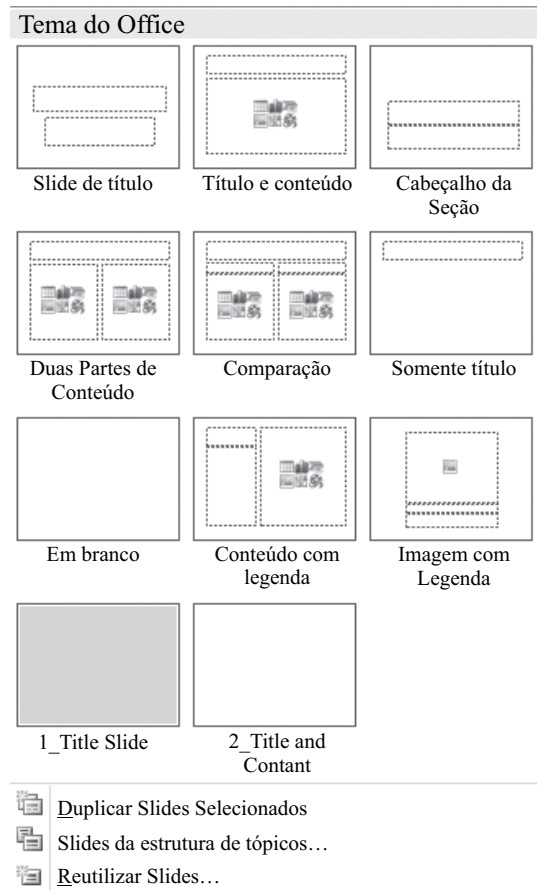
Assinale a alternativa que contém a opção da guia Inserir utilizada para formatar a lista da figura I e deixá-la mais atraente, conforme visualizado na figura II.

- (A) SmartArt.
- (B) WordArt.
- (C) Clip-Art.
- (D) Formas.
- (E) Tabela.

28. Assinale a alternativa correta para a fórmula $=5+3^2*2+8/4-MÉDIA(7;5)$, digitada em uma planilha do MS-Excel 2010, na sua configuração padrão.

- (A) 154
- (B) 124
- (C) 82
- (D) 21,5
- (E) 19

29. Observe o painel do MS-PowerPoint 2010, em sua configuração original, apresentado na figura:



Para se chegar neste painel é necessário utilizar a seguinte opção da guia Página Inicial:

- (A) Estilos de Plano de Fundo ▼
- (B) Organizar ▼
- (C) Novo Slide ▼
- (D) Layout ▼
- (E) Efeitos ▼

30. No Internet Explorer 9, para salvar a página da Web em Favoritos basta pressionar a tecla

- (A) Alt.
- (B) Alt + F.
- (C) Ctrl + F5.
- (D) Ctrl + D.
- (E) Ctrl + J.

CONHECIMENTOS ESPECÍFICOS

31. Considere o contido no Código de Ética dos Profissionais de Enfermagem, e assinale a alternativa correta.

- (A) Em qualquer situação, é vedado aos profissionais de enfermagem participar ou colaborar em prática destinada a interromper a gestação.
- (B) A penalidade de suspensão, aplicada ao profissional que comete infração ética e disciplinar, consiste na perda definitiva do direito ao exercício da enfermagem.
- (C) Na condição de supervisor de unidade, em que foi desenvolvido um estudo científico, o enfermeiro tem o direito de solicitar que seu nome conste como coautor de obra técnico-científica resultante dessa pesquisa.
- (D) O profissional de enfermagem tem o direito de recusar-se a desenvolver atividades profissionais na falta de material ou equipamentos de proteção individual e coletiva previstos em legislação específica.
- (E) Considera-se infração disciplinar a ação, omissão ou conivência que implique em desobediência e/ou inobservância ao Código de Ética dos Profissionais de Enfermagem.

32. Observe o quadro e relacione as drogas e as reações adversas de modo a tornar verdadeira a associação.

DROGA		REAÇÕES ADVERSAS	
a.	Salbutamol	I.	Ressecamento nasal, alteração do paladar e tremores.
b.	Haloperidol	II.	Hipersalivação, hiperpirexia e anemia.
c.	Diazepam	III.	Incontinência, dependência física e psíquica.

Assinale a alternativa correta.

- (A) a – III, b – II, c – I.
- (B) a – II, b – III, c – I.
- (C) a – I, b – II, c – III.
- (D) a – II, b – I, c – III.
- (E) a – I, b – III, c – II.

33. São exemplos de drogas incompatíveis com a diluição em soro fisiológico a

- (A) anfotericina B e a fenitoína sódica.
- (B) penicilina G potássica e o sulfato de magnésio a 10%.
- (C) vancomicina e a heparina sódica.
- (D) dipirona e a dopamina.
- (E) aminofilina e o aciclovir sódico.

34. Considere as afirmações a seguir sobre alguns dos cuidados que devem compreender a assistência de enfermagem a um paciente que apresenta reação transfusional, e classifique cada uma delas como verdadeira (V) ou falsa (F).

- () Após interromper a infusão do sangue, o acesso venoso deve ser mantido com solução de Ringer lactato.
- () A bolsa de sangue e o equipo utilizados, juntamente com a identificação do paciente, devem ser enviados para cultura.
- () O banco de sangue deve ser notificado sobre a ocorrência de reação transfusional.

Assinale a alternativa que apresenta a classificação correta, de cima para baixo.

- (A) V, V, V.
- (B) F, V, V.
- (C) F, V, F.
- (D) V, F, F.
- (E) F, F, F.

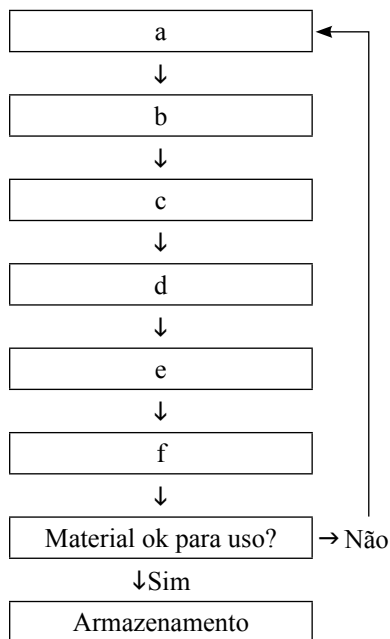
35. No que diz respeito à Sistematização da Assistência de Enfermagem – SAE, é correto afirmar:

- (A) o processo de enfermagem organiza-se em quatro etapas inter-relacionadas: coleta de dados, avaliação de enfermagem, diagnóstico de enfermagem e prescrição de enfermagem.
- (B) ocorrendo a prestação de cuidados profissionais de enfermagem, a implementação da SAE é obrigatória nos serviços públicos e facultativa nos serviços privados.
- (C) a fase de avaliação de enfermagem corresponde a coleta de dados e realização do exame físico do paciente/cliente.
- (D) o técnico de enfermagem participa da SAE, entre outras formas, realizando, na ausência do enfermeiro, a prescrição de enfermagem para o indivíduo sadio.
- (E) em locais como ambulatórios e escolas, o Processo de Saúde em Enfermagem corresponde à Consulta de Enfermagem.

36. Utilizando as etapas apresentadas a seguir, preencha corretamente o fluxograma para esterilização de materiais por meio de autoclavagem.

ETAPAS DO PROCESSO DE ESTERILIZAÇÃO			
I.	Arrumar os cestos	IV.	Embalagem e rotulação
II.	Verificar: ausência de umidade e teste de controle de qualidade	V.	Lavar rigorosamente
III.	Autoclavagem	VI.	Inspeção e secagem

Fluxograma de esterilização física - AUTOCLAVAÇÃO



Selecione a alternativa correta.

- (A) a – V; b – VI; c – IV, d – I; e – II; f – III.
 (B) a – V; b – II; c – I; d – III; e – IV; f – VI.
 (C) a – I; b – V; c – VI; d – IV; e – III; f – II.
 (D) a – V; b – VI; c – IV; d – I; e – III; f – II.
 (E) a – II; b – V; c – IV; d – III; e – VI; f – I.
37. De acordo com a Portaria MS n.º 2.616/98, que regulamenta as ações de controle de infecção hospitalar no país,
- (A) um dos membros executores da Comissão de Controle de Infecção Hospitalar (CCIH) deve ser, preferencialmente, um enfermeiro com carga horária diária de 6 (seis) horas, no mínimo.
 (B) a CCIH deve ser composta por profissionais da área de saúde, de níveis superior e médio, formalmente designados pelo responsável da instituição.
 (C) o presidente ou coordenador da CCIH será qualquer um dos seus membros, eleito em escrutínio secreto pelos profissionais que compõem a comissão.
 (D) a CCIH dos hospitais com número de leitos igual ou inferior a 70 (setenta) deve ser composta por membros consultores representantes do serviço de enfermagem e da administração, no mínimo.
 (E) a classificação das cirurgias por potencial de contaminação da incisão cirúrgica deve ser feita ao final do ato cirúrgico, pelo enfermeiro responsável pela sala cirúrgica.

38. A Portaria MS n.º 2.616/98 define como infecção hospitalar aquela

- (A) que se manifesta durante a internação, independentemente de sua etiologia.
 (B) adquirida após a admissão do paciente e que se manifesta durante a internação ou após a alta, quando puder ser relacionada com a internação ou procedimentos hospitalares.
 (C) que, em recém-nascido, a aquisição por via transplacentária é conhecida ou foi comprovada e que tornou-se evidente após o nascimento.
 (D) constatada no ato de admissão do paciente, desde que não relacionada com internação anterior no mesmo hospital.
 (E) que está associada com complicação ou extensão da infecção já presente na admissão.

39. Entre outros fatores, constituem causas de diarreia em pacientes submetidos à nutrição enteral a

- (A) estase gástrica e a presença de refluxo gastroesofágico.
 (B) dieta muito fria e a desidratação.
 (C) infusão rápida da dieta e a má absorção da gordura.
 (D) localização da sonda no jejuno e hiper-hidratação.
 (E) intolerância à lactose e a administração em *bolus*.

40. Utilizando o quadro a seguir, relacione os diagnósticos de enfermagem estabelecidos pelo enfermeiro para um paciente em tratamento quimioterápico, a prescrição de enfermagem realizada e a justificativa para o cuidado.

DIAGNÓSTICO DE ENFERMAGEM		PRESCRIÇÃO DE ENFERMAGEM		JUSTIFICATIVA	
a.	Mucosa oral alterada: estomatite.	I.	Explorar o impacto potencial da perda de cabelos sobre a autoimagem, relações pessoais e sexualidade.	α.	Facilita o enfrentamento.
b.	Integridade tissular prejudicada: alopecia.	II.	Evitar colutórios comerciais.	β.	Reduz as sensações de paladar desagradáveis.
c.	Nutrição alterada, menor que as demandas corporais, relacionada com náuseas e vômitos.	III.	Incentivar a higiene oral frequente.	γ.	O conteúdo do produto secará os tecidos da região e potencializará a ruptura.

A relação correta é:

- (A) a – III – α; b – II – β; c – I – γ.
 (B) a – II – γ; b – I – α; c – III – β.
 (C) a – III – α; b – I – β; c – II – γ.
 (D) a – I – γ; b – III – α; c – II – β.
 (E) a – II – γ; b – I – β; c – III – α.

41. Para realizar, de modo seguro, o transporte de um paciente com dreno de tórax em uso de sistema de drenagem com selo d'água, é necessário
- manter o sistema de drenagem clampeado durante o transporte.
 - manter o sistema de drenagem abaixo do nível do tórax.
 - desconectar o sistema de drenagem do paciente após o clampeamento e proteção do dreno com gaze.
 - manter o sistema de drenagem, clampeado ou não, acima do nível do tórax.
 - clampear o dreno e substituir temporariamente o sistema de drenagem em uso por um a vácuo.
42. Salvo contraindicação, após recuperação da anestesia, um paciente submetido à colecistectomia deve ser mantido em
- decúbito dorsal horizontal.
 - decúbito lateral direito.
 - posição de Sims.
 - posição de Fowler.
 - posição de Trendelenburg.
43. Na assistência de enfermagem pós-operatória a pacientes submetidas à histerectomia vaginal, a enfermeira deve estar atenta ao aparecimento de complicações potenciais exemplificadas por
- hematoma e linfedema dos pés.
 - hemorragia e dores fantasma.
 - Síndrome de Raynaud e linfedema de membros inferiores.
 - trombose venosa profunda e incontinência urinária.
 - neurite periférica e tromboflebite.
44. A orientação para a realização dos exercícios de Kegel está recomendada para pacientes com
- constipação.
 - refluxo gastroesofágico.
 - insuficiência vascular periférica.
 - endometriose.
 - incontinência urinária.
45. Para a avaliação neurológica de uma vítima de queda da escada, a enfermeira aplicou a Escala de Coma de Glasgow, que é feita com base nos indicadores de
- avaliação pupilar, tônus muscular e melhor resposta verbal.
 - abertura ocular, padrão respiratório e força muscular.
 - movimentos oculares, reflexo corneopalpebral e tônus muscular.
 - avaliação pupilar, padrão respiratório e força muscular.
 - abertura ocular, melhor resposta verbal e melhor resposta motora.
46. No atendimento de primeiros socorros à vítima de queimadura por substância química, a irrigação da área afetada com soro fisiológico está contraindicada quando o agente causador é
- soda cáustica em pó.
 - fogo.
 - choque elétrico.
 - gelo seco.
 - metal líquido.
47. F.A., 52 anos, masculino, internado com diagnóstico de dor precordial a esclarecer, solicitou o auxílio da enfermagem, pois não se sentia bem. Atendido prontamente, ao chegar ao local a enfermeira encontrou o paciente inconsciente e em parada cardiorrespiratória (PCR). De acordo com as Diretrizes da *American Heart Association (AHA)* 2010, a enfermeira deve, imediatamente,
- fazer a hiperextensão da cabeça do paciente, fazer duas respirações utilizando ambú e, a seguir, 15 compressões torácicas, até sua recuperação ou chegada da equipe.
 - solicitar o desfibrilador (DEA) e iniciar o processo de reanimação com 30 compressões torácicas seguidas de duas respirações até a chegada do equipamento.
 - iniciar os procedimentos de ressuscitação cardiopulmonar com uma ventilação seguida de 30 compressões torácicas.
 - orientar o preparo do material para intubação orotraqueal e das drogas vasoativas utilizadas em PCR, solicitar o médico, posicionar o paciente e iniciar os procedimentos de reanimação.
 - solicitar o desfibrilador, puncionar e manter veia periférica, e iniciar os procedimentos de reanimação com 15 compressões torácicas seguidas de duas respirações.
48. Frente a um indivíduo que apresenta entre outros sinais e sintomas: pele avermelhada, com prurido ou queimação; edema de face e língua; respiração ruidosa e difícil devido ao edema das cordas vocais; hipotensão, palidez e tontura, o enfermeiro socorrista deve suspeitar que se trata de um caso de choque
- hipovolêmico.
 - psicogênico.
 - anafilático.
 - neurogênico.
 - cardiogênico.
49. Grande parte dos crimes sexuais ocorre durante a idade reprodutiva da mulher. Quando houve ejaculação vaginal durante o ato de violência, o Ministério da Saúde recomenda o uso de anticoncepção de emergência para as mulheres
- cujo ato tenha ocorrido até décimo dia após o início da última menstruação, independentemente de fazerem uso ou não de método anticoncepcional.
 - com vida sexual ativa, desde que relatem não estar fazendo uso de qualquer método anticoncepcional.
 - e adolescentes expostas à gravidez, por meio de contato certo ou duvidoso com sêmen, após a menarca e antes da menopausa, independentemente do período do ciclo menstrual.
 - em que o ato violento tenha ocorrido no segundo período do ciclo menstrual, independentemente de fazerem uso ou não de método anticoncepcional no momento.
 - independentemente de faixa etária, considerando-se também elegível a pré-adolescente que já apresente os primeiros sinais de amadurecimento sexual.

50. Considere as afirmações a seguir sobre as ações de Vigilância Epidemiológica, e classifique cada uma delas como verdadeira (V) ou falsa (F).
- () Na ausência de um núcleo de epidemiologia na instituição, compete às Comissões de Controle de Infecção Hospitalar (CCIH) notificar, ao organismo de gestão do SUS, os casos diagnosticados ou suspeitos de doenças de notificação compulsória atendidos em qualquer dos serviços ou unidades do hospital.
- () Devido ao caráter endêmico da doença, é facultativo o registro no Sistema de Informação de Agravos de Notificação – Sinan, dos casos de esquistossomose, em todo território nacional.
- () A busca ativa de casos de uma doença tem como propósito identificar casos adicionais, secundários ou não, ainda não notificados ou aqueles oligossintomáticos que não buscaram atenção médica, e tem por finalidade o tratamento adequado desses casos; determinar a magnitude e extensão do evento e ampliar o espectro das medidas de controle.
- A sequência correta, de cima para baixo, é:
- (A) F, F, F.
 (B) V, V, V.
 (C) F, V, F.
 (D) V, F, F.
 (E) V, F, V.
51. Constitui contraindicação à imunização com vacinas de bactérias atenuadas ou vírus atenuados, entre outros fatores,
- (A) estar em tratamento com quimioterápico antineoplásico.
 (B) apresentar história de tratamento progressivo para tuberculose.
 (C) desnutrição.
 (D) ser portador de *diabetes mellitus*, com glicemia de jejum igual ou superior a 240 mg/dL.
 (E) fazer uso tópico, há mais de dez dias, de produtos à base de corticoide.
52. Após confirmação de caso de rubéola em uma escola, visando ao bloqueio da transmissão da doença, a enfermeira da Unidade de Saúde da Família organizou uma visita à instituição para imunizar os contatos. Para a perfeita conservação, as vacinas deverão ser acondicionadas em caixas térmicas e mantidas em temperatura de
- (A) $-20\text{ }^{\circ}\text{C}$ a $0\text{ }^{\circ}\text{C}$.
 (B) $-2\text{ }^{\circ}\text{C}$ a $+4\text{ }^{\circ}\text{C}$.
 (C) $0\text{ }^{\circ}\text{C}$ a $+8\text{ }^{\circ}\text{C}$.
 (D) $+2\text{ }^{\circ}\text{C}$ a $+8\text{ }^{\circ}\text{C}$.
 (E) $+4\text{ }^{\circ}\text{C}$ a $+10\text{ }^{\circ}\text{C}$.
53. A.A., 26 anos, sexo feminino, compareceu à unidade de saúde apresentando mordedura de cachorro na coxa direita. Ao ser questionada informou que o animal, que se apresentava saudável, pertencia ao vizinho que a acompanhava. Após avaliação da vítima, a enfermeira procedeu à lavagem e cuidado da ferida. Por se tratar de área de raiva controlada, no que diz respeito à prevenção da doença, deve-se
- (A) dispensar a usuária para casa orientando-a sobre os cuidados com o curativo da lesão.
 (B) orientar sobre a necessidade de observar o animal por dez dias, e, caso este venha a adoecer ou sumir, procurar imediatamente o serviço de saúde para iniciar o tratamento profilático da raiva.
 (C) solicitar carteira de vacinação do animal, e, caso este não seja imunizado contra a raiva ou a vacina esteja em atraso, aplicar uma dose da vacina antirrábica em A.A.
 (D) iniciar o esquema de três doses com a vacina antirrábica *Fuenzalida & Palácios*, aplicando a primeira dose imediatamente e agendando a segunda e terceira doses com intervalos de dez dias entre as aplicações.
 (E) iniciar o esquema de cinco doses com a vacina antirrábica de cultivo celular ou embrião de pato, agendando as demais para o 3.º, 7.º, 14.º e 28.º dias após a primeira dose.
54. Numa unidade de saúde da família (USF), a equipe decidiu aproveitar o dia de campanha de vacina para aferir pressão arterial e o peso dos usuários. Ao avaliar N.D., 46 anos, masculino, a enfermeira obteve PA= 128 mmHg X 80 mmHg, peso = 80000 g e altura = 170 cm. Assinale a alternativa que apresenta, respectivamente, o índice de massa corporal (IMC) do usuário e o seu significado.
- (A) $\text{IMC}=21,3\text{ kg/m}^2$; desnutrição.
 (B) $\text{IMC}=21,3\text{ kg/m}^2$; adequado.
 (C) $\text{IMC}=27,7\text{ kg/m}^2$; adequado.
 (D) $\text{IMC}=27,7\text{ kg/m}^2$; sobrepeso.
 (E) $\text{IMC}=37,6\text{ kg/m}^2$; sobrepeso.
55. Em 20 de junho de 2013, P.A., 27 anos, D.U.M = 05.05.2013, compareceu à unidade de saúde da família (USF), para consulta de enfermagem, com queixa de atraso menstrual. Mostrava-se muito ansiosa, porque já havia tido um aborto. A enfermeira que a atendeu realizou o teste para gravidez que deu positivo. Nessa oportunidade, ao calcular a idade gestacional (IG) e a data provável de parto (DPP), a enfermeira obteve
- (A) $\text{IG} = 5^{6/7}$ semanas e $\text{DPP} = 20.02.2014$.
 (B) $\text{IG} = 6$ semanas e $\text{DPP} = 12.02.2014$.
 (C) $\text{IG} = 6^{1/7}$ semanas e $\text{DPP} = 05.02.2014$.
 (D) $\text{IG} = 6^{4/7}$ semanas e $\text{DPP} = 12.02.2014$.
 (E) $\text{IG} = 7$ semanas e $\text{DPP} = 20.02.2014$.

56. Assinale a alternativa correta no que diz respeito à hanseníase.
- (A) A gravidez e o aleitamento contraindicam o tratamento poliquimioterápico (PQT) para a doença.
 - (B) O paciente de hanseníase deverá ser agendado para a tomada da dose supervisionada a cada sete dias.
 - (C) Entre os principais sinais e sintomas da doença pode ser citada a diminuição ou queda de pelos, localizada ou difusa, especialmente em sombrancelhas.
 - (D) Deve ser considerado como contato intradomiciliar toda e qualquer pessoa que resida ou tenha residido com o doente de hanseníase nos últimos seis meses.
 - (E) Os pacientes que não comparecerem à dose supervisionada por mais de 60 dias deverão ser visitados em seus domicílios para pesquisar e intervir nas possíveis causas de falta e orientá-los.
57. De acordo com a lista de Notificação Compulsória Imediata (LCNI), que integra a Portaria MS n.º 104/2011, devem ser notificados, em todo território nacional, os casos suspeitos ou confirmados de
- (A) doença de Chagas crônica, botulismo e gripe.
 - (B) sarampo, hepatite por exposição a agente químico e febre tifoide.
 - (C) rubéola, dengue e varicela.
 - (D) raiva humana, síndrome de rubéola congênita e cólera.
 - (E) hepatites virais, malária e febre amarela.
58. Em abril, a imprensa noticiou o seguinte:
- Desde o início da semana pacientes da rede pública têm esperado até 12 horas em filas de espera nas unidades como o Mário Gatti. Na segunda-feira (15), um paciente que chegou às 9h43 foi atendido às 19h. Há 24 dias, o Laboratório Municipal não faz exames não emergenciais por causa da falta de funcionários. Antes da paralisação, eram 18 mil testes por dia.
- A Secretaria de Saúde informou que apenas exames de urina e fezes não estão sendo coletados nos postos, mas funcionários de seis unidades disseram que exames de sangue não estão sendo coletados.
- A Secretaria não informou um prazo para que a situação seja resolvida. No dia 3 de abril, o prazo para que todos os testes voltassem a ser realizados era de uma semana, o que não foi cumprido.
- (UOL notícias. Adaptado)
- A situação apresentada fere o princípio ético e doutrinário do SUS denominado
- (A) regionalização.
 - (B) hierarquização.
 - (C) equidade.
 - (D) controle social.
 - (E) integralidade.
59. De acordo com a Lei Estadual n.º 10.241/99, que dispõe sobre os direitos dos usuários dos serviços e das ações de saúde no Estado de São Paulo, é correto afirmar:
- (A) o usuário tem como direito consentir ou recusar, de forma livre, voluntária e esclarecida, com adequada informação, procedimentos diagnósticos ou terapêuticos a serem nele realizados.
 - (B) o uso de códigos para a identificação do usuário se constitui em medida eficaz para a proteção de sua individualidade e privacidade.
 - (C) a critério da família, a equipe de saúde deverá informar ao usuário parcial ou integralmente sobre seu diagnóstico, tratamento e prognóstico.
 - (D) o usuário matriculado e em atendimento no serviço público de saúde autoriza, compulsoriamente, o acesso a seus dados pessoais desde que a finalidade seja o seu uso em pesquisa científica.
 - (E) quando se tratar de criança, considerando a necessidade de autorização para execução de tratamentos e exames, somente a mãe ou o pai poderá acompanhá-la integralmente durante o período de internação.
60. Considere as afirmações a seguir sobre aspectos da supervisão em enfermagem, e classifique cada uma delas como verdadeira (V) ou falsa (F).
- () Entre outras atividades, o supervisor desenvolve, junto aos funcionários, atividades diversificadas, tais como a promoção da integração do pessoal de enfermagem e manutenção de estratégias para sua motivação.
 - () Uma política de trabalho, centralizada, autoritária e trefista, que não estimula a participação dos funcionários dificulta a supervisão.
 - () A recusa no atendimento a solicitações de férias, folgas e transferências, a ausência de autonomia e o despreparo do elemento supervisor são exemplos de situações geradoras de tensão no ambiente de trabalho.
 - () Uma supervisão eficaz resulta, entre outras condições, na manutenção de um nível elevado na qualidade da assistência de enfermagem e na satisfação do cliente, dos familiares e dos funcionários.
- A sequência correta, de cima para baixo, é:
- (A) V, V, V, V.
 - (B) V, F, V, F.
 - (C) V, V, V, F.
 - (D) F, V, V, F.
 - (E) F, V, F, F.

