



ACADEMIA DE POLÍCIA
“DR. CORIOLANO NOGUEIRA COBRA”
Secretaria de Concursos Públicos



Concurso Público

001. PROVA PREAMBULAR

ATENDENTE DE NECROTÉRIO POLICIAL

- Você recebeu sua folha de respostas e este caderno contendo 80 questões objetivas.
- Confira seu nome e número de inscrição impressos na capa deste caderno e na folha de respostas.
- Quando for permitido abrir o caderno, verifique se está completo ou se apresenta imperfeições. Caso haja algum problema, informe ao fiscal da sala.
- Leia cuidadosamente todas as questões e escolha a resposta que você considera correta.
- Marque, na folha de respostas, com caneta de tinta azul ou preta, a letra correspondente à alternativa que você escolheu.
- A duração da prova é de 4 horas, já incluído o tempo para o preenchimento da folha de respostas.
- Só será permitida a saída definitiva da sala e do prédio após transcorridas 3 horas do início da prova.
- Deverão permanecer em cada uma das salas de prova os 3 últimos candidatos, até que o último deles entregue sua prova, assinando termo respectivo.
- Ao sair, você entregará ao fiscal a folha de respostas e este caderno, podendo levar apenas o rascunho de gabarito, localizado em sua carteira, para futura conferência.
- Até que você saia do prédio, todas as proibições e orientações continuam válidas.

AGUARDE A ORDEM DO FISCAL PARA ABRIR ESTE CADERNO DE QUESTÕES.

LÍNGUA PORTUGUESA

Leia o texto I – canção popular (cantiga de roda) e o texto II, de informação – *Dique de Tororó/ Salvador(BA)*, para responder às questões de números **01** e **02**.

TEXTO I

Fui no Tororó beber água não achei
Achei bela morena
Que no Tororó deixei
Aproveita minha gente
Que uma noite não é nada
Se não dormir agora
Dormirá de madrugada.

TEXTO II



(Revista *Época*, Educação Especial. 18 de março de 2013)

01. A partir da leitura dos textos, é correto afirmar:

- (A) Atualmente, os peixes morrem devido a uma transformação química que ocorre com o esgoto despejado nas águas do dique.
- (B) Fósforo, nitrogênio e coliformes fecais existem no dique de Tororó desde a época que serviu de inspiração para a cantiga.
- (C) Hoje, todo o esgoto que é despejado no dique passa por tratamento especial.
- (D) Graças ao trabalho de remoção de resíduos do fundo do dique, hoje sua água é limpa e potável.
- (E) A água que serviu de inspiração para a canção popular tinha, na época, a mesma qualidade que tem hoje.

- 02.** No contexto em que está empregada, a frase do texto II – É mencionado em antigas cantigas de roda como fonte de água potável – deixa claro que o dique, antigamente,
- (A) foi local onde se cantavam muitas cantigas.
 - (B) era cenário de muitas brincadeiras de roda.
 - (C) era um lago de água boa para beber.
 - (D) produzia água boa e era vendida à população.
 - (E) possuía uma fonte com muitos peixes.

Leia o texto a seguir para responder às questões de números **03** a **06**.

O trabalho na agricultura é considerado desgastante, mal remunerado, socialmente desprestigiado e executado apenas por pessoas que não têm qualificação para serviços melhores. Diante da desvalorização desse trabalho, os pais desejam outras ocupações laborais para os filhos. Sonham com um trabalho mais valorizado, mais limpo, mais leve e mais bem remunerado, nas cidades, que pode ser proporcionado por meio da escolarização.

Todavia, os trabalhadores infantis estão envolvidos numa teia de relações contraditórias. Premidos pela necessidade, a sua incorporação nas atividades remuneradas na agricultura é a possibilidade concreta de ajuda à família, considerando a escassez de mercado de trabalho local. Porém, essa ocupação impede o bom desempenho nos estudos e inviabiliza o sonho de superação da precariedade.

(http://www.proec.ufg.br/revista_ufg/agro/K16_infantil.html. Acessado em 28.03.2013. Adaptado)

03. A frase – ... os trabalhadores infantis estão envolvidos numa teia de relações contraditórias. – no contexto em que está inserida, significa que os trabalhadores infantis

- (A) têm, na agricultura, a oportunidade de conseguir trabalho mais valorizado e melhores salários, mas, mesmo assim, não se firmam no campo.
- (B) terão melhores condições de trabalho nas cidades se estudarem, mas, necessitando trabalhar na agricultura para ajudar suas famílias, o estudo não é bem aproveitado.
- (C) querem estudar, mas seus pais proíbem, pois precisam de seus salários para compor a renda familiar.
- (D) desejam trabalhar nas cidades, mas seus pais não permitem que se afastem deles, pois ainda são muito pequenos, e têm medo de que algo de ruim possa acontecer a eles.
- (E) trabalham voluntariamente na agricultura para ficar perto dos pais, embora haja muito mercado de trabalho nas cidades.

04. De acordo com o texto, o trabalho na agricultura é encarado como algo

- (A) sedutor.
- (B) dispendioso.
- (C) qualificado.
- (D) importante.
- (E) desacreditado.

05. Na frase – **Porém**, essa ocupação impede o bom desempenho nos estudos... – a palavra em destaque tem o mesmo sentido que

- (A) Portanto.
- (B) Por isso.
- (C) Mas também.
- (D) Todavia.
- (E) Embora.

06. Na frase – ... essa ocupação impede o bom desempenho nos estudos e **inviabiliza** o sonho de superação da precariedade. – a palavra em destaque pode ser substituída, sem alteração de sentido, por

- (A) torna impossível.
- (B) proporciona.
- (C) incentiva.
- (D) passa a produzir.
- (E) alimenta.

07. Assinale a alternativa que completa, correta e respectivamente, as lacunas do texto.

Desde muito cedo, eles aprendem, por meio de experiências diversas, que _____ discriminação em relação _____ aparência física, principalmente quando o objetivo é escolher candidatos para os melhores postos de trabalho _____ na cidade.

- (A) há ... a ... existentes
- (B) existe ... a ... existentes
- (C) há ... a ... existente
- (D) têm ... à ... existente
- (E) há ... à ... existentes

Leia a tirinha para responder às questões de números 08 e 09.

MALVADOS ANDRÉ DAHMER



(Malvados André Dahmer – Folha de S.Paulo, 26 de março de 2013)

08. O humor da tirinha decorre

- (A) do duplo sentido que tem o verbo abrir.
- (B) da crença desmedida na educação dos jovens.
- (C) da preferência da educação à moto.
- (D) da exigência da educação no motociclismo.
- (E) do gosto dos jovens pelas motos.

09. Considerando a substituição da expressão em destaque por um pronome e as normas da colocação pronominal, a oração – ... que abrem a cabeça ... – equivale, na norma-padrão da língua, a:

- (A) que abrem-a.
- (B) que abrem-na.
- (C) que a abrem.
- (D) que lhe abrem.
- (E) que abrem-lhe.

Para responder às questões de números 10 e 11, leia trecho do discurso proferido por Martin Luther King, em 28.08.1963, em Washington, EUA.

“Eu tenho um sonho que um dia esta nação se levantará e viverá o verdadeiro significado de sua crença – nós celebraremos estas verdades e elas serão claras para todos, que os homens são criados iguais.

Eu **tenho** um sonho que um dia, nas colinas vermelhas da Geórgia, os filhos dos descendentes de escravos e os filhos dos descendentes dos donos de escravos **poderão** se sentar junto à mesa da fraternidade.”

(pt.wikiquote.org/wiki/Martin-Luther-King-Junior – Acessado em 28.03.2013. Adaptado)

10. Com o trecho – “Eu tenho um sonho que um dia, nas colinas vermelhas da Geórgia, os filhos dos descendentes de escravos e os filhos dos descendentes dos donos de escravos poderão se sentar junto à mesa da fraternidade.” – Martin Luther King quis expressar, com relação aos homens, seu desejo de

- (A) invencibilidade.
- (B) igualdade.
- (C) distinção.
- (D) rivalidade.
- (E) eternidade.

11. As formas verbais em destaque, no texto, indicam ações que acontecem, respectivamente, nos tempos

- (A) passado e presente.
- (B) futuro e passado.
- (C) passado e futuro.
- (D) presente e futuro.
- (E) presente e passado.

Leia a tirinha para responder às questões de números 12 e 13.



(10 anos com Mafalda. Martins Fontes. São Paulo, 2011)

12. É correto afirmar que o menino Manolito
- (A) gosta dos métodos visuais da escola.
 - (B) teima em ir à escola e fica irritado.
 - (C) impõe sua vontade à mãe.
 - (D) convence a mãe a levar a sério sua decisão.
 - (E) muda de ideia quando vê o chinelo.

13. Nas frases – **Não** vou mais à escola!... – e – **Hoje** estão na moda os métodos audiovisuais. – as palavras em destaque expressam, correta e respectivamente, circunstâncias de
- (A) dúvida e modo.
 - (B) dúvida e tempo.
 - (C) modo e afirmação.
 - (D) negação e lugar.
 - (E) negação e tempo.

Leia o texto para responder às questões de números 14 e 15.

_____ cadeias para prender todos os bandidos do Brasil. O que no passado era dito em tom de zombaria, hoje é mais um dado alarmante sobre a precariedade do sistema prisional do país. O último levantamento da Secretaria Nacional de Segurança mostra que _____ apenas três vagas para quatro condenados. Se todos os mandados de prisão expedidos pela Justiça _____ cumpridos, o número saltaria para 653 mil.

(<http://revistaepoca.globo.com/Revista/Epoca>. Acessado em 22.03.2013. Adaptado)

14. Assinale a alternativa que contém as palavras que completam, correta e respectivamente, as lacunas do texto.
- (A) Faltam ... existem ... fossem
 - (B) Falta ... existem ... fossem
 - (C) Faltam ... existe ... fosse
 - (D) Falta ... existe ... fossem
 - (E) Falta ... existe ... fosse

15. Assinale a alternativa em que o numeral corresponde, corretamente, à sua forma escrita.

- (A) 48.º candidato – quadragésimo oito candidato.
- (B) Século XIV – Século dezesseis.
- (C) 653.000 mandados de prisão – seiscentos e cinquenta e três mil mandados de prisão.
- (D) Mulher deu à luz 5 bebês. – Mulher deu à luz quintos.
- (E) $\frac{1}{3}$ do salário – o triplo do salário.

Leia o texto a seguir para responder às questões de números 16 a 18.

Praia Limpa

Tecnologia alemã chega para ajudar a combater a poluição nas praias brasileiras
Beach Tech 2000 ideal para praias do tamanho de São Conrado, no Rio de Janeiro

A sujeira nas praias brasileiras é um problema que parece sem solução. Mesmo com as campanhas de conscientização feitas pelas prefeituras, a maioria das praias continua recebendo diariamente todo o tipo de detrito deixado por turistas. Sem contar os recentes acidentes com vazamentos de óleo, como o que ocorreu na Baía de Guanabara.

O recolhimento do lixo é feito em algumas praias por garis, o que, além de demorado e caro, é ineficiente, pois atinge apenas a superfície, deixando para trás enormes quantidades de detritos “escondidos” na areia. Esses detritos enterrados vão contaminando continuamente a areia, causando várias doenças. Além dos aspectos ambientais e de saúde, praias limpas atraem mais turistas, mais empregos e mais renda para a cidade.

Empresa alemã traz para o Brasil os equipamentos *Beach Tech*, os únicos realmente capazes de limpar a areia com rapidez, baixo custo e confiabilidade. São capazes de limpar de 3.600 m² (mais que um campo de futebol) a 30.000 m² (mais que toda a área ocupada pelo Maracanã) de praia por hora, atingindo qualquer substância a até 20 cm de profundidade. Com apenas uma pessoa operando, os equipamentos *Beach Tech* deixam a areia plana e limpa.

Voltados principalmente à limpeza noturna, para que a praia esteja limpa pela manhã, os equipamentos operam com baixo nível de ruído.

(<http://cidadesdaobrasil.com.br>. Acessado em 15.01.2013. Adaptado)

16. Considerando as informações do texto, é correto afirmar que os equipamentos *Beach Tech*
- (A) fazem a limpeza de toda a área dos campos de futebol.
 - (B) têm a mesma qualidade que o trabalho dos garis.
 - (C) são econômicos e atraem a atenção dos turistas.
 - (D) completam o trabalho eficiente dos garis, mas são barulhentos.
 - (E) fazem a limpeza além da superfície e de forma rápida.

17. De acordo com o texto,
- (A) os turistas já se conscientizaram de que não devem deixar lixo nas praias.
 - (B) o trabalho de coleta de lixo por garis, apesar de ser caro, é eficiente.
 - (C) o acúmulo de detritos contribuiu para o depósito de óleo nas praias.
 - (D) uma das vantagens dos equipamentos é a economia da mão de obra.
 - (E) os equipamentos superam o trabalho dos garis, encobrindo dejetos na areia.
18. Na primeira frase do texto – A sujeira nas praias brasileiras é um problema que parece **sem** solução. – a preposição em destaque estabelece, entre as palavras, relação de
- (A) ausência.
 - (B) meio.
 - (C) direção.
 - (D) causa.
 - (E) finalidade.

Leia o texto para responder às questões de números 19 e 20.

Programa de limpeza no Rio multará pedestre que sujar a rua

Carolina Farias

Do UOL, no Rio 11.04.2013

A Comlurb (Companhia de Limpeza Urbana) do Rio quer fazer “pegar” o Programa Lixo Zero, que a partir de julho vai multar quem usar as ruas e calçadas como lixeiras – pode ser um simples papel de bala ou até entulhos. O programa existe desde 2001.

Segundo o presidente da Comlurb, Vinícius Roriz, serão 500 agentes, cada um acompanhado de um Guarda Municipal e um PM (Polícia Militar). A multa será emitida no flagrante, já que os agentes vão usar palmtops para emitir o documento de penalidade.

O cidadão flagrado deve fornecer seu documento para que o agente dê a multa e, em caso de negativa, será encaminhado para o ato ser lavrado na delegacia.

O objetivo da Comlurb, explica Roriz, é diminuir os gastos com a limpeza das ruas.

(<http://noticias.uol.com.br/cotidiano/ultimas-noticias/2013/04/11/programa-de-limpeza>. Acessado em 11.04.2013)

19. Com a expressão – A Comlurb [...] quer fazer “pegar” o Programa ... (1.º parágrafo) –, a autora do texto quer dizer que a Companhia de Limpeza
- (A) obrigará as pessoas a pegarem os papéis de bala das calçadas e a colocarem-nos nas lixeiras.
 - (B) dará o prazo até julho para que as ruas tenham lixeiras.
 - (C) espera a adesão de todos os cidadãos do Rio à campanha da limpeza das ruas.
 - (D) multará quem não colocar as lixeiras nas calçadas.
 - (E) vai destinar agentes para coletar o lixo das ruas e calçadas do Rio.

20. Assinale a alternativa em que a frase – A multa será emitida no flagrante, já que os agentes vão usar palmtops para emitir o documento de penalidade. – está corretamente reescrita quanto às regras de pontuação da norma-padrão da língua.
- (A) Será emitida, no flagrante a multa, já que os agentes vão usar palmtops para emitir o documento de penalidade.
 - (B) Já que os agentes vão usar palmtops para emitir o documento de penalidade, a multa será emitida no flagrante.
 - (C) Já que para emitir o documento, de penalidade a multa, os agentes vão usar palmtops, ela será emitida no flagrante.
 - (D) Para emitir o documento de penalidade, os agentes, vão usar palmtops e a multa será emitida no flagrante.
 - (E) Para emitir a multa, os agentes vão usar palmtops, e o documento de penalidade, será emitido no flagrante.

21. Assinale a alternativa que completa, correta e respectivamente, as lacunas do texto.

Em Santarém, alunos da área rural usam lancha para irem _____ escola.

_____ 7h15 da manhã de sexta-feira, uma lancha escolar sai do porto de Picães, na comunidade de Arapixuna, em Santarém (_____ 699 km de Belém). Nos próximos 45 minutos, a lancha recolherá 14 crianças rumo _____ aulas na escola municipal de ensino fundamental Nossa Senhora de Nazaré.

(Cristiane Capuchinho, do UOL em Santarém(PA), 18.04.2013. <http://educacao.uol.com.br/noticias/2013>. Acessado em 18.04.2013. Adaptado)

- (A) à ... Às ... à ... as
 - (B) à ... As ... a ... às
 - (C) à ... Às ... a ... às
 - (D) a ... Às ... a ... às
 - (E) a ... As ... à ... as
22. Considerando as regras de regência nominal e verbal, assinale a alternativa que completa, correta e respectivamente, as lacunas da frase, de acordo com a norma-padrão da língua.
- A lancha _____ os alunos necessitam para irem até a escola tem capacidade _____ recolher mais de 14 crianças.
- (A) que ... com
 - (B) a que ... a
 - (C) por que ... para
 - (D) de que ... de
 - (E) para que ... em

23. Assinale a alternativa que completa, correta e respectivamente, as lacunas do texto, de acordo com as regras de concordância da norma-padrão da língua.

Os experimentos humanos nazistas _____ uma série de experiências científicas realizadas em uma grande quantidade de seres _____ que estavam detidos nos campos de concentração do regime nazista durante a Segunda Guerra Mundial.

Os presos foram _____ a participar.

Experiências com filhos gêmeos, em campos de concentração, foram criadas para mostrar as semelhanças e diferenças na genética de gêmeos, bem como para ver se o corpo humano pode ser manipulado.

(<http://pt.wikipedia.org/wiki/Experimentos-humanos-nazistas>. Adaptado. Acessado em 27.03.2013)

- (A) foram ... humanos ... obrigados
- (B) foram ... humano ... obrigado
- (C) foi ... humano ... obrigado
- (D) foram ... humanos ... obrigado
- (E) foi... humanos ... obrigado

24. Observe a figura e leia os versos para responder à questão.



“Aqui plantei minha vida,
Nos esquadros
E soleira das portas.
Ancoradouro e barco,
Minha casa.”

Myriam Fraga

(Revista *Caras*. Edição 1010. Ano 20, n.º 11, 15.03.2013)

A ideia central do poema está corretamente expressa na alternativa:

- (A) A casa representa um porto seguro para as pessoas.
- (B) Muitas pessoas não saem de suas casas.
- (C) Muitas casas são construídas próximo ao porto.
- (D) Todas as casas têm esquadros e soleiras.
- (E) Alguns barcos funcionam como casas.

25. Seres vivos que não apresentam envoltório nuclear (ou carioteca), com material genético disperso no citoplasma, e considerados os mais simples na escala evolutiva, são

- (A) as plantas.
- (B) as bactérias.
- (C) os animais.
- (D) os fungos.
- (E) os protozoários.

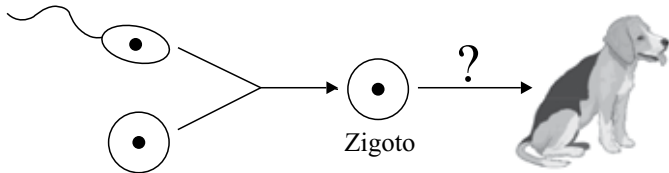
26. O lobo-guará é um animal encontrado no cerrado brasileiro e tem hábito alimentar onívoro, ou seja, ingere alimentos de origem vegetal e animal, como, por exemplo, uma goiaba ou um tatu. Supondo uma teia alimentar em que o lobo-guará tenha ingerido uma goiaba e também um tatu e este tenha comido insetos herbívoros, é correto afirmar que o lobo-guará

- (A) ocupou o nível trófico decompositor quando consumiu o tatu e, consumidor primário, quando consumiu a goiaba.
- (B) obteve mais energia quando consumiu o tatu do que quando consumiu a goiaba.
- (C) ocupou o nível trófico consumidor primário quando consumiu a goiaba e, terciário, quando consumiu o tatu.
- (D) ocupou o nível trófico consumidor primário quando consumiu a goiaba e, secundário, quando consumiu o tatu.
- (E) obteve mais energia do que quaisquer seres vivos existentes nessa teia.

27. O elemento nitrogênio está presente no ar atmosférico, na forma de gás, e todos os seres vivos dependem dele para sobreviver. Entretanto, não existem animais ou plantas que consigam capturar esse elemento do ar. Isso só é garantido pela ação

- (A) das bactérias que realizam a fixação do nitrogênio do ar.
- (B) das algas unicelulares que fixam esse gás por meio da fermentação.
- (C) dos vírus que absorvem o gás do ar e geram proteínas.
- (D) dos protozoários que fazem a combustão desse gás.
- (E) dos fungos que utilizam esse gás na fotossíntese.

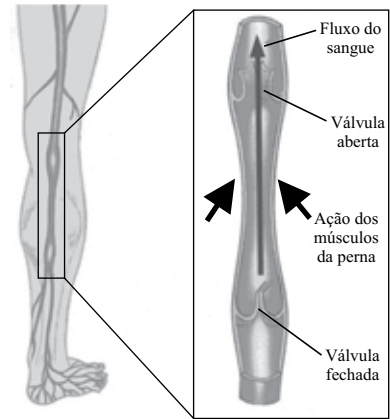
28. Analise a figura.



De acordo com a figura, as divisões celulares representadas pelo ponto de interrogação, que permitem a formação do novo indivíduo, são

- (A) prófases.
 - (B) interfases.
 - (C) citocineses.
 - (D) meioses.
 - (E) mitoses.
29. As minhocas e sanguessugas são animais pertencentes ao Filo dos Anelídeos. As características comuns encontradas nesses animais são
- (A) presença de boca e ausência de ânus.
 - (B) corpo segmentado e pele fina.
 - (C) patas articuladas e asas.
 - (D) presença de antenas e olhos.
 - (E) presença de exoesqueleto e dentes.
30. Os fungos são seres vivos que podem ser encontrados em todos os ambientes. Entre os benefícios e prejuízos que eles podem trazer ao homem estão como exemplos, respectivamente,
- (A) sintetizar celulose e poluir o ar.
 - (B) atuar na decomposição e causar a gripe.
 - (C) produzir gás oxigênio e decompor alimentos.
 - (D) servir como alimento e causar micoses.
 - (E) fazer a fotossíntese e danificar as unhas.

31. Analise o esquema a seguir.



(César, Sezar e Bedaque. *Ciências Entendendo a Natureza* (O ser humano no ambiente). Editora Saraiva, 2010)

As válvulas (ou valvas) existentes no interior dos vasos sanguíneos são importantes para que a circulação ocorra normalmente. Elas estão presentes no interior dos vasos chamados

- (A) veias, e impedem o refluxo sanguíneo.
 - (B) artérias, e impedem o refluxo sanguíneo.
 - (C) artérias, e impulsionam o sangue para frente.
 - (D) capilares, e aumentam a pressão sanguínea.
 - (E) veias, e aumentam a velocidade do sangue.
32. Os órgãos dos sentidos são fundamentais para a sobrevivência, pois captam as mudanças do ambiente. Assim, quando o estímulo físico atinge uma membrana que transmite vibrações para os ossículos (martelo, bigorna e estribo), e estes transmitem informações para outras estruturas mais internas, possibilitam que uma pessoa consiga
- (A) sentir um objeto quente na pele.
 - (B) identificar um sabor.
 - (C) ouvir algum ruído.
 - (D) enxergar algum objeto.
 - (E) sentir um aroma.

33. Existem alguns planos de secção do corpo humano. Entre eles, o plano sagital mediano que divide o corpo humano nas seguintes partes:
- (A) anterior e posterior.
 - (B) direita e esquerda.
 - (C) ventral e dorsal.
 - (D) superior e inferior.
 - (E) cefálica e caudal.
34. Os dois sistemas que controlam e integram as atividades e funções no corpo humano são:
- (A) nervoso e endócrino.
 - (B) reprodutor e urinário.
 - (C) digestório e imunológico.
 - (D) respiratório e cardiovascular.
 - (E) muscular e esquelético.
35. Uma pessoa diabética apresenta várias alterações no corpo; dentre elas, é correto citar a
- (A) produção reduzida de urina.
 - (B) produção elevada de insulina.
 - (C) presença de glicose na urina após jejum de 8 horas.
 - (D) necessidade de beber pouca água durante o dia todo.
 - (E) hipoglicemia constante.
36. A utilização correta do preservativo durante a relação sexual pode prevenir doenças, tais como
- (A) gonorreia, aids e sífilis.
 - (B) tétano, herpes e difteria.
 - (C) cólera, caxumba e sífilis.
 - (D) herpes, HPV e catapora.
 - (E) aids, botulismo e meningite.

NOÇÕES DE DIREITO

CONSTITUIÇÃO FEDERAL E DIREITOS HUMANOS

37. A República Federativa do Brasil, formada pela união indissolúvel dos Estados e Municípios e do Distrito Federal, constituiu-se em Estado Democrático de Direito e tem como fundamentos os que estão elencados no artigo 1.º da Constituição Federal. Dentre os referidos fundamentos, é correto citar a
- (A) independência nacional e a não intervenção.
 - (B) construção de uma sociedade livre, justa e solidária e a garantia do desenvolvimento nacional.
 - (C) igualdade entre os Estados e o repúdio ao terrorismo e ao racismo.
 - (D) autodeterminação dos povos e a solução pacífica dos conflitos.
 - (E) soberania e os valores sociais do trabalho e da livre iniciativa.
38. Assegura a Constituição Federal
- (A) que não será admitida ação privada nos crimes de ação pública, ainda que esta não seja intentada no prazo legal.
 - (B) a possibilidade de extradição de brasileiro nato, em caso de comprovado envolvimento em tráfico ilícito de entorpecentes.
 - (C) que não será concedida extradição de estrangeiro por crime político ou de opinião.
 - (D) que ninguém será considerado culpado até a sentença penal condenatória de primeiro grau.
 - (E) a adoção de pena de trabalhos forçados, nos casos que especifica.
39. A Constituição Federal determina, de forma expressa, que a administração pública direta e indireta de qualquer dos Poderes da União, dos Estados, do Distrito Federal e dos Municípios obedecerá aos princípios da legalidade, impessoalidade, publicidade, eficiência e
- (A) continuidade.
 - (B) razoabilidade.
 - (C) proporcionalidade.
 - (D) moralidade.
 - (E) especialidade.
40. Segundo determina a Constituição Federal, os tratados e convenções internacionais sobre direitos humanos que forem aprovados, em cada Casa do Congresso Nacional, em dois turnos, por três quintos dos votos dos respectivos membros, serão equivalentes às
- (A) medidas provisórias.
 - (B) emendas constitucionais.
 - (C) leis complementares.
 - (D) leis ordinárias.
 - (E) leis delegadas.

Leia o texto a seguir para responder às questões de números 41 e 42.

“A”, querendo causar a morte de “B”, descarrega contra este sua arma de fogo, atingindo-o por seis disparos. “B”, socorrido por populares e levado ao pronto-socorro, é submetido à cirurgia de emergência e sobrevive.

41. Diante do exposto, “A” poderá responder pelo crime de
- homicídio culposo tentado, pois “B” somente não morreu por circunstâncias alheias à vontade de “A”.
 - lesão corporal dolosa, uma vez que “B”, apesar de ser atingido, não morreu.
 - lesão corporal dolosa e homicídio doloso tentado, pois “B” somente não morreu por circunstâncias alheias à vontade de “A”.
 - homicídio doloso consumado, pois “B” somente não morreu por circunstâncias alheias à vontade de “A”.
 - homicídio doloso tentado, pois “B” somente não morreu por circunstâncias alheias à vontade de “A”.
42. Das alternativas a seguir, assinale a correta, acrescentando ao texto dado a seguinte informação: ao perceber que “A” estava atirando em sua direção, “B”, mesmo lesionado pelos disparos, sacou de sua arma e repeliu a agressão, atingindo mortalmente o agressor.
- “B” não praticou crime, pois agiu em legítima defesa.
 - “B” praticou homicídio culposo, em razão de estar no estrito cumprimento do dever legal.
 - “B” praticou homicídio culposo, em razão de estar em legítima defesa.
 - “B” não praticou crime, pois agiu no exercício regular de direito.
 - “B” não praticou crime, pois agiu no estrito cumprimento do dever legal.
43. Servidor Público que exige dinheiro de cidadão para fornecer documento que teria, por disposição expressa de lei, que entregar gratuitamente por ato de ofício comete o crime de
- prevaricação.
 - peculato.
 - corrupção passiva.
 - conculção.
 - excesso de exação.
44. Dentre os seguintes crimes contra o respeito aos mortos, aquele que possui pena de reclusão é:
- perturbar cerimônia funerária.
 - violar sepultura.
 - vilipendiar cadáver.
 - perturbar enterro.
 - impedir cerimônia funerária.

45. De acordo com o disposto na Lei n.º 9.434/97, a retirada *post mortem* de tecidos, órgãos ou partes do corpo humano destinados a transplante ou tratamento
- não dependerá de autorização da família quando se tratar de pessoa maior de idade, desde que em vida tenha revelado a um médico a intenção de fazer a doação.
 - não poderá ser feita quando se tratar de pessoa juridicamente incapaz, mesmo que haja autorização dos pais.
 - depende de declaração de vontade feita em vida pelo doador, registrada em sua Carteira de Identidade.
 - é vedada quando se tratar de pessoas não identificadas.
 - deverá ser precedida de diagnóstico de morte encefálica, constatada por, pelo menos, um médico participante da equipe de remoção e transplante.
46. Conforme o disposto na Lei Orgânica da Polícia do Estado de São Paulo, se um servidor público pedir ou aceitar empréstimo de dinheiro ou valor de pessoas que tratem de interesses na repartição pública, ficará sujeito à pena de
- suspensão.
 - demissão a bem do serviço público.
 - jubilação.
 - exoneração.
 - repreensão.
47. Conforme as regras jurídicas estabelecidas na Lei n.º 12.037/09, o civilmente identificado não será submetido à identificação criminal, exceto, entre outras situações,
- quando o indiciado portar documentos de identidade distintos, com informações conflitantes entre si.
 - no caso de o Delegado de Polícia, a seu livre arbítrio, entender que, em razão da gravidade do crime cometido pelo indiciado, seja conveniente a sua identificação criminal.
 - se o indiciado estiver portando a Carteira de Trabalho, sem registro de emprego, como seu único documento de identificação.
 - se houver prisão em flagrante e o escrivão entender conveniente a identificação criminal para instruir o auto de prisão, independentemente de o preso possuir identificação civil.
 - se a pessoa não estiver portando a sua Carteira de identidade (R.G.), que é o único documento legalmente apto a comprovar a identificação civil.
48. A Lei n.º 12.527/2011 regulamenta o direito constitucional de acesso à informação. Nesse sentido, submetem-se ao regime dessa Lei diferentes órgãos e pessoas jurídicas. No entanto, não se sujeita(m) aos ditames dessa Lei:
- Ministério Público.
 - corretoras de valores.
 - autarquias.
 - sociedades de economia mista.
 - Poder Judiciário.

NOÇÕES DE CRIMINOLOGIA

49. Para a Criminologia, o crime pode ser considerado como
- (A) uma relação jurídica de conteúdo individual e coletivo.
 - (B) um pecado praticado por quem escolheu o mal.
 - (C) um fato típico e antijurídico.
 - (D) um desvio de conduta que atenta contra a moral e os bons costumes.
 - (E) um problema social e comunitário.
50. Assinale a alternativa que aponta o ente que exerce ou fomenta, concomitantemente, os controles formal e informal sobre a vida em sociedade.
- (A) Poder Judiciário.
 - (B) Família.
 - (C) Policiamento Comunitário.
 - (D) Clubes de Serviço.
 - (E) Forças Armadas.
51. No tocante aos fatores desencadeantes da criminalidade, é correto afirmar que
- (A) o crescimento populacional desordenado de determinada localidade provoca o aumento de índices criminais.
 - (B) a educação e o ensino não são fatores que inibem o cometimento de delitos.
 - (C) as autoridades públicas podem exercer controle sobre os meios de comunicação de massa, por meio de censura, a fim de assegurar o exercício pleno da liberdade de imprensa.
 - (D) o desemprego disfarçado ou o subemprego podem apresentar-se sob forma de atividades como “homens-placa”, mas que não é o caso dos vendedores ambulantes nos semáforos.
 - (E) não existe tratamento discriminatório das mulheres em relação aos homens por parte dos órgãos públicos, tais como polícia e sistema penitenciário.
52. Quanto aos fatores impulsionadores do delito, assinale a alternativa correta.
- (A) Pesquisas demonstram que a penúria econômica é a causa principal da criminalidade denominada de “colarinho branco”.
 - (B) Não há relação direta ou indireta entre o cometimento de pequenos furtos, também denominado microcriminalidade, e o fato de seus autores pertencerem às classes sociais mais baixas.
 - (C) A desagregação familiar, por si só, deve ser considerada como fator determinante do comportamento criminoso de um indivíduo.
 - (D) De acordo com as estatísticas oficiais, as mulheres cometem mais crimes que os homens.
 - (E) Não há constatação de conexão entre o fenômeno delitivo e a religião; os crimes cometidos em nome da religião são atribuíveis ao fanatismo religioso, porém não ao culto ou à crença em si.
53. Entende-se por vitimização terciária
- (A) o sofrimento causado pela posterior perseguição da vítima pelo autor do crime.
 - (B) os prejuízos causados pelo crime praticado contra a vítima.
 - (C) aquela oriunda dos familiares e do círculo de relações sociais da vítima, que a segregam, excluem e até humilham, em virtude do crime por ela sofrido.
 - (D) o sofrimento causado pelos órgãos públicos encarregados da persecução criminal.
 - (E) aquela denominada “terceirização da vitimização”, isto é, advinda de terceiros, estranhos ao círculo de familiares e amigos da vítima.
54. O afeiçoamento da vítima em relação ao criminoso sequestrador, interagindo com ele pelo próprio instinto de sobrevivência, é chamado, pela Criminologia, de
- (A) complexo de Asperger.
 - (B) síndrome de Tourette.
 - (C) síndrome de Burnout.
 - (D) complexo de inferioridade.
 - (E) síndrome de Estocolmo.

55. Para a Vitimologia, a vítima agressora, simuladora ou imaginária também é conhecida por
- (A) vítima inocente.
 (B) vítima menos culpada que o criminoso.
 (C) vítima tão culpada quanto o criminoso.
 (D) pseudovítima ou vítima totalmente culpada.
 (E) vítima ideal.
56. Entende-se que a prevenção criminal terciária
- (A) é o trabalho de conscientização social, que ataca a inclinação à prática criminosa em sua origem.
 (B) é a modalidade exclusivamente voltada à figura do encarcerado, pois visa sua reintegração familiar e social.
 (C) constitui uma das formas de participação popular na gestão pública.
 (D) representa os métodos e mecanismos profiláticos de combate às causas da criminalidade.
 (E) é o aparato de repressão criminal, de modo a desestimular futuras práticas delitivas.
57. Para a Criminologia, a prevenção geral positiva, como uma finalidade da pena, é
- (A) uma espécie de neutralização do autor do delito, por meio de sua segregação carcerária.
 (B) também chamada de integradora, pois tem por objetivo a formação e o fortalecimento da consciência social, mediante o estímulo ao culto dos valores mais caros à comunidade.
 (C) uma espécie de neutralização do autor do delito, por meio de medidas que o desestimulem a novas práticas delitivas.
 (D) também chamada de prevenção por intimidação, pois tem por objetivo desestimular o cidadão da prática de delitos, por meio de aplicação de pena ao infrator da lei.
 (E) uma espécie de consequência jurídica pelo comportamento inclinado às infrações penais.
58. Constituem medidas diretas de prevenção do delito, dentre outras:
- (A) o planejamento familiar e a alfabetização de adultos.
 (B) os programas de incentivo à qualificação profissional.
 (C) a campanha de prevenção de doenças e o incentivo à frequência a cultos religiosos.
 (D) os programas de construção de moradias populares.
 (E) as políticas públicas de desestímulo ao jogo de azar, à prostituição e ao consumo de drogas ilícitas.

59. Em um concurso público, a razão entre o número de candidatos com o ensino médio completo e o número de candidatos com apenas o ensino fundamental completo era de 1,5. Sabendo-se que nesse concurso havia inscritos 12 000 candidatos com o ensino médio completo, o número de candidatos inscritos com apenas o ensino fundamental completo era
- (A) 8 000.
 (B) 18 000.
 (C) 11 000.
 (D) 15 000.
 (E) 9 000.
60. A tabela apresenta informações sobre o número de prisões efetuadas por divisões da Polícia Civil do Estado de São Paulo, no ano de 2010.

PRISÕES EFETUADAS EM 2010	
Divisão de Investigações sobre Crimes Contra o Patrimônio	583
Divisão de Investigações sobre Roubo e Furto de Veículos e Cargas	487
Divisão de Investigações Gerais	95
Divisão Antissequestro	23
Total	1 188

(Anuário 2010 do DEIC – Departamento de Investigações sobre Crime Organizado)

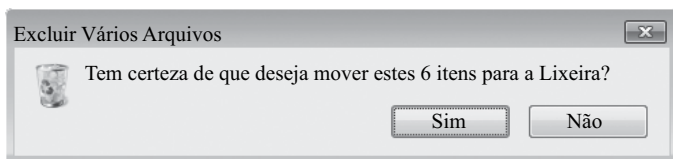
Com base nas informações da tabela, é possível afirmar, corretamente, que a razão entre o número de prisões efetuadas pela Divisão de Investigações sobre Crimes Contra o Patrimônio e o número total de prisões, efetuadas em 2010 pela Polícia Civil de São Paulo, pode ser representada pela fração

- (A) $\frac{113}{267}$.
 (B) $\frac{104}{213}$.
 (C) $\frac{79}{151}$.
 (D) $\frac{53}{108}$.
 (E) $\frac{37}{69}$.

61. Em 2011, o preço de um produto foi reajustado em 5%. No ano seguinte, o preço desse mesmo produto foi reajustado em 4%. Considerando-se apenas esses dois reajustes, é correto afirmar que, comparado ao preço que tinha o produto imediatamente antes do reajuste de 2011, o preço desse produto sofreu um aumento de
- (A) 9,15%.
(B) 9,2%.
(C) 9,1%.
(D) 9,05%.
(E) 9,0%.
62. O preço normal de um produto, em determinada loja, é R\$ 40,00. Em um dia de promoção, o gerente dessa loja resolveu conceder um desconto de R\$ 2,40 nesse produto. Assim, é correto afirmar que o desconto concedido no preço do produto correspondeu a uma porcentagem, sobre o seu preço original, de
- (A) 7%.
(B) 9%.
(C) 8%.
(D) 6%.
(E) 5%.
63. Três quartos de litro de um determinado produto custam R\$ 21,39. Comprando-se um litro e meio desse mesmo produto, pagar-se-á um total de
- (A) R\$ 40,27.
(B) R\$ 41,53.
(C) R\$ 42,78.
(D) R\$ 44,39.
(E) R\$ 43,94.
64. Cinco profissionais precisam trabalhar 4 horas seguidas para executar uma determinada tarefa. Se triplicarmos o número de profissionais para a execução dessa mesma tarefa, então é verdade que o tempo mínimo necessário, em horas, para a sua execução, supondo-se que as condições de trabalho sejam preservadas e que todos os profissionais tenham a mesma capacidade de trabalho, será de uma hora e
- (A) 45 minutos.
(B) 33 minutos.
(C) 20 minutos.
(D) 50 minutos.
(E) 57 minutos.
65. Dois irmãos, um com 25 anos e outro com 15, dividirão uma herança no valor total de R\$ 100.000,00, de forma diretamente proporcional à idade de cada um. Logo, a diferença entre o valor recebido pelo irmão mais velho e o valor recebido pelo irmão mais novo, nessa ordem, é
- (A) R\$ 24.000,00.
(B) R\$ 23.000,00.
(C) R\$ 26.000,00.
(D) R\$ 22.000,00.
(E) R\$ 25.000,00.
66. Sobre cinco amigos que participaram de um concurso, sabe-se que a pontuação de Maurício foi maior que a de Clóvis, que a pontuação de Antônio foi menor que a de Heitor e maior que a de Eliseu, e que Clóvis fez mais pontos que Heitor. O amigo que teve a terceira melhor pontuação foi
- (A) Maurício.
(B) Heitor.
(C) Antônio.
(D) Clóvis.
(E) Eliseu.
67. Em um determinado departamento, trabalham 60 servidores públicos e todos eles têm ensino superior completo. Sabe-se que 15 desses servidores têm dois diplomas: um conferindo o título de Tecnólogo e outro conferindo o título de Bacharel. Sabe-se, também, que 10 servidores não possuem diplomas com esses dois tipos de título e que, no total, 35 servidores são Bacharéis. É verdade que, nesse departamento, o número de servidores públicos que são apenas Tecnólogos é
- (A) 18.
(B) 16.
(C) 14.
(D) 15.
(E) 17.
68. A figura a seguir representa a disposição de três armários com cadeados de cores diferentes: um da cor amarela, outro da cor verde e outro da cor vermelha, não necessariamente na ordem da representação.
- | | | |
|---|---|---|
| 1 | 2 | 3 |
|---|---|---|
- Sabe-se que o armário 2 é de Isabel, que o cadeado do armário de Manuela é da cor amarela e que o armário de Rosana tem número menor que o armário com cadeado da cor vermelha. Assim, a ordem correta das cores dos cadeados dos armários 1, 2 e 3 é, respectivamente,
- (A) amarela, verde e vermelha.
(B) amarela, vermelha e verde.
(C) verde, amarela e vermelha.
(D) verde, vermelha e amarela.
(E) vermelha, verde e amarela.

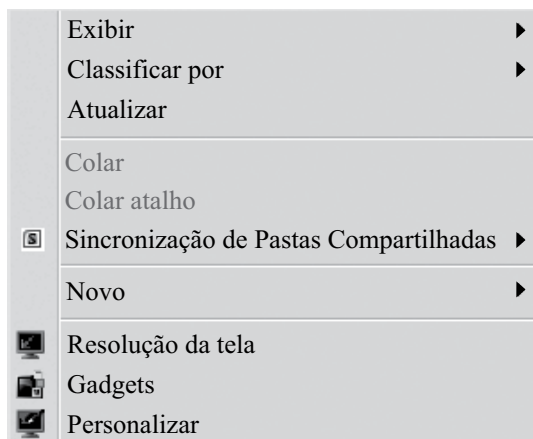
NOÇÕES DE INFORMÁTICA

69. A imagem a seguir, retirada do MS-Windows 7, em sua configuração padrão, exibe uma mensagem indicando a opção de envio de arquivos para a Lixeira, após um usuário selecionar alguns arquivos para exclusão e apertar a tecla DEL (DELETE).



O atalho que poderia ser utilizado pelo usuário, caso ele quisesse excluir os arquivos diretamente, sem a opção de envio para Lixeira, é:

- (A) SHIFT + DEL
 - (B) ALT + DEL
 - (C) CTRL + DEL
 - (D) DEL + DEL
 - (E) INS + DEL
70. Observe a imagem a seguir, obtida por meio de um clique com o botão direito do *mouse* (configurado para destros) na área de trabalho do MS-Windows 7, em sua configuração padrão.



Assinale a alternativa que contém o item correto no menu de contexto exibido na imagem, que permite configurar o MS-Windows 7 para uso de dois monitores simultaneamente.

- (A) Gadgets.
- (B) Exibir.
- (C) Resolução da tela.
- (D) Atualizar.
- (E) Novo.

71. Observe as imagens a seguir, contendo ícones de atalhos do MS-Windows 7, em sua configuração padrão.



Assinale a alternativa que identifica corretamente apenas os aplicativos acessórios exibidos nas imagens.

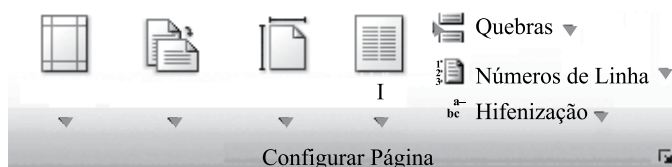
- (A) Windows Media Center e Paint.
 - (B) Windows Media Player e Windows Media Center.
 - (C) Bloco de Notas e Windows Media Player.
 - (D) Bloco de Notas e Notas Autoadesivas.
 - (E) Notas Autoadesivas e Wordpad.
72. A imagem a seguir exibe as letras utilizadas como atalhos para guias do MS-Word 2010, em sua configuração padrão.



Assinale a alternativa que contém a tecla utilizada para exibir as letras indicadas.

- (A) CTRL
- (B) F5
- (C) F1
- (D) ALT
- (E) PtrScr

Considere a figura a seguir, retirada do MS-Word 2010, em sua configuração padrão, para responder às questões de números 73 e 74.



73. Assinale a alternativa que contém o nome da guia a que pertence o grupo exibido na figura.
- (A) Layout da Página.
 - (B) Exibição.
 - (C) Revisão.
 - (D) Referências.
 - (E) Inserir.
74. Assinale a alternativa que apresenta o nome do ícone indicado, na figura, pelo número I.
- (A) Orientação.
 - (B) Formatar.
 - (C) Margens.
 - (D) Tamanho.
 - (E) Colunas.

75. Assinale a alternativa que contém a tecla de atalho correta utilizada para formatar em negrito uma célula selecionada no MS-Excel 2010, em sua configuração padrão.

- (A) ALT + B
- (B) ALT + N
- (C) CTRL + N
- (D) CTRL + S
- (E) CTRL + B

Observe a planilha a seguir, que está sendo editada no MS-Excel 2010, em sua configuração padrão, e responda às questões de números 76 e 77.

	A	B	C	D
1	4	2	1	
2	1	2	3	
3	4	2	2	
4				

76. A fórmula que preenche corretamente a célula D2, formatada com duas casas decimais, para que o resultado exibido seja igual a 2,00, é:

- (A) =SOMA(A2;C1)
- (B) =MÉDIA(A3:C3)
- (C) =MÉDIA(A2:C3)
- (D) =SOMA(A1:C1)
- (E) =A1-C2

77. Assinale a alternativa que contém o resultado da célula B4, ao ser preenchida com a fórmula =MAIOR(A2:C3;2)

- (A) 2
- (B) 0
- (C) 4
- (D) 1
- (E) 3

78. Um atendente de necrotério quer que todos os seus *e-mails*, redigidos no MS-Outlook 2010, em sua configuração padrão, contenham, após o texto das mensagens, um trecho comum, indicando nome, cargo e instituição, conforme o trecho a seguir, destacado em negrito.

Prezado Beltrano,

Venho por meio desta...

Atenciosamente,

Fulano de Tal.

Fulano de Tal

Atendente de Necrotério

Polícia Civil do Estado de São Paulo

Assinale a alternativa que contém o nome correto do recurso que deve ser utilizado pelo atendente, para que seus *e-mails*, automaticamente, contenham o trecho destacado em negrito.

- (A) Assinatura.
- (B) Anexo.
- (C) Certificado Digital.
- (D) Assunto padrão.
- (E) Cópia Oculta.

79. A imagem a seguir contém ícones de programas do tipo



Assinale a alternativa que preenche corretamente a lacuna da frase.

- (A) Google
- (B) Programas Acessórios do MS-Windows 7
- (C) Leitor de *e-mail*
- (D) Navegador de Internet
- (E) Gerenciador de Banco de Dados

80. Observe o trecho da imagem a seguir, retirada de uma página de busca realizada na internet por meio do Google.

Pesquisas relacionadas a **policia civil sp**

[concurso policia civil sp](#)

[investigador policia civil sp](#)

[sindicato dos investigadores policia civil sp](#)

[vunesp](#)

[policia federal](#)

[policia militar sp](#)

[policia civil sp concurso 2012](#)

[policia civil sp antecedentes criminais](#)

Gooooooooooogle >

1 2 3 4 5 6 7 8 9 10 **Mais**

[Pesquisa avançada](#) [Ajuda da Pesquisa](#) [Enviar feedback](#) [Google.com](#)

[Página inicial do Google](#) [Soluções de publicidade](#) [Soluções empresariais](#)
[Privacidade e Termos](#) [Sobre o Google](#)

Assinale a alternativa correta.

- (A) O número 7, na imagem, indica o sétimo resultado da busca realizada.
- (B) O número 8, na imagem, indica a oitava página de resultados.
- (C) Google.com é um aplicativo incluído no MS-Windows 7.
- (D) Google.com é um aplicativo que não está incluído no MS-Windows 7, mas pode ser instalado no MS-Windows 7 por meio do Windows Update.
- (E) A palavra vunesp, na imagem, é o primeiro resultado da busca realizada por: policia civil sp.

