



Leia o texto abaixo para responder as questões de nº 01 à 02

Mais de 40% dos jogadores do país admitem beber toda semana.

Uma pesquisa produzida pelo **UOL Esporte** junto a 105 jogadores de grandes clubes do país confrontou a classe com perguntas polêmicas sobre comportamento fora dos gramados. Em uma das respostas, 42% dos entrevistados afirmaram que bebem pelo menos uma vez por semana.

Em condição de anonimato nas respostas, 39% afirmaram que bebem entre uma e duas vezes por semana. Outros 3% admitiram que consomem álcool mais de três vezes por semana.

Dos entrevistados, 24% não quiseram responder a pergunta e outros 34% afirmaram que não consomem bebidas alcoólicas.(...)

<http://esporte.uol.com.br/futebol/ultimas-noticias/2013/05/06/majoria-dos-jogadores-do-pais-admite-beber-toda-a-semana.htm> em 06/05/2013

QUESTÃO 01

De acordo com o texto acima, podemos afirmar que:

- a) A maioria dos jogadores não quiseram responder a pergunta.
- b) Mais da metade dos entrevistados bebem todos os dias.
- c) A maioria dos jogadores bebem pelo menos uma vez por semana.
- d) Todos os entrevistados fazem uso de bebidas alcoólicas.

QUESTÃO 02

Na frase: “Dos entrevistados, 24% **não** quiseram responder a pergunta.”, a palavra destacada pode ser classificada como:

- a) Advérbio de negação.
- b) Advérbio de tempo.
- c) Advérbio de intensidade.
- d) Locução adverbial de negação.

QUESTÃO 03

Observe as seguintes orações:

- I) Deixe-**as** dormir.
- II) Deixaram tudo para **mim** fazer.
- III) Fizeram-**nos** esperar.

IV) Mandaram-**me** entrar.

Quanto à colocação dos pronomes em destaque podemos afirmar que:

- a) As orações dos quatro itens apresentam colocação pronominal correta.
- b) Apenas orações I, II e III estão corretas.
- c) As orações dos quatro itens apresentam colocação pronominal incorreta.
- d) Apenas as orações I, III e IV estão corretas.

QUESTÃO 04

Lendo atentamente as orações dos períodos a seguir, indique a única alternativa que apresenta erro quanto à pontuação:

- a) “Findas as lições, espaçou as visitas, sumiu-se afinal.” (Graciliano Ramos)
- b) “Dentro do navio homens e mulheres conversavam.” (Jorge Amado)
- c) “Mas padre Anselmo, era assim mesmo: amigo dos pobres.” (João Bezerra)
- d) “-Aonde? Perguntou Dona Plácida.” (Machado de Assis)

QUESTÃO 05

Na frase: “Meu sonho sempre foi visitar a **cidade-luz**.” A expressão em destaque trata-se de uma:

- a) Paráfrase.
- b) Ideia central.
- c) Síntese.
- d) Perífrase.

QUESTÃO 06

Assinale a alternativa que apresenta oração com sujeito indeterminado.

- a) Ela tem boa educação.
- b) Atropelaram uma senhora na esquina.
- c) Eu viajarei amanhã.
- d) O operário feriu-se durante o trabalho.

QUESTÃO 07

Examinando a grafia das seguintes palavras:

- I) Discussão
- II) Excesso
- III) Antessala
- IV) Ojeriza

Podemos afirmar que:

- a) Todas as palavras estão corretas.
- b) Apenas as palavras I, II e IV estão corretas.
- c) Todas as palavras estão incorretas.
- d) Apenas a palavra IV está incorreta.



QUESTÃO 08

Nas frases: “ **A** Argentina é o segundo maior país da América do sul.” “ A renúncia do papa Bento **XVI** foi anunciada na manhã do dia 11 de fevereiro de 2013.” “ O conclave de 2013 elegeu **seu** sucessor, Francisco.” As palavras destacadas classificam-se respectivamente como:

- a) Artigo definido/ numeral / pronome possessivo
- b) Artigo indefinido/ numeral/ pronome demonstrativo
- c) Numeral / numeral / pronome possessivo
- d) Artigo definido / numeral / pronome demonstrativo

QUESTÃO 09

Assinale a opção que apresenta a regência verbal incorreta:

- a) Os camponeses aspiram a uma vida mais confortável.
- b) Ao assinar o contrato, o empresário visou, apenas, ao lucro pretendido.
- c) O rapaz presenciou o trabalho dos agricultores.
- d) O ladrão agrediu-lhe sem necessidade.

QUESTÃO 10

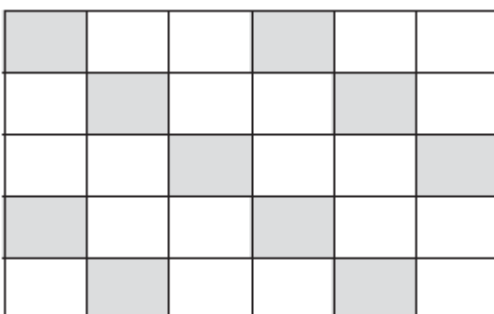
Assinale a opção que completa corretamente as lacunas da frase:

Este meu amigo.....vai.....-se para ter direito ao título de eleitor.

- a) Estrangeiro / naturalizar.
- b) Estrangeiro / naturalisar.
- c) Estrangeiro / naturalizar.
- d) Estrangeiro / naturalisar

QUESTÃO 11

A porção pintada da figura abaixo corresponde a que fração da figura total?



- a) 1/3
- b) 10

- c) 3/10
- d) 2/3

QUESTÃO 12

Qual a solução para a seguinte expressão aritmética:

$$\left[\frac{16}{5} - \frac{2}{3} \times \left(\frac{3}{2} + 3 \right) \right] \times \frac{1}{3}$$

- a) 1
- b) 1/15
- c) 1/25
- d) 1/35

QUESTÃO 13

As águas ocupam três quartos de toda superfície terrestre, em termos de volume de água isso corresponde a aproximadamente $1,4 \times 10^{18}$ litros de água. No entanto, apenas $4,2 \times 10^{16}$ litros deste valor corresponde à água doce. Sabendo que nosso planeta possui cerca de 7 bilhões de habitantes segundo dados da divisão de estudos da população da ONU. Qual seria o volume de água doce por habitante do nosso planeta?

- a) 6×10^6 l/hab
- b) 5×10^{18} l/hab
- c) 2×10^{16} l/hab
- d) $0,2 \times 10^9$ l/hab

QUESTÃO 14

Um passageiro embarcou em um ônibus na cidade A às 14h 32 min 18s, esse ônibus saiu da rodoviária desta cidade às 14h 55min 40s e chegou na rodoviária da cidade B às 19h 27min 15s, do mesmo dia. Quanto tempo o passageiro permaneceu no interior do ônibus?

- a) 05h 54min 09s
- b) 04h 05min 57s
- c) 05h 05min 09s
- d) 04h 54min 57s

QUESTÃO 15

Qual é a forma decimal de se escrever a seguinte medida $3 \text{ km} + 38 \text{ cm}$, exprimindo-a em metros.

- a) 3038,00
- b) 3003,80
- c) 3380,00
- d) 3000,38



QUESTÃO 16

Ao comprar um eletrodoméstico em uma loja que estava dando 20% de desconto, o cliente ganhou um desconto de R\$500,00. Qual era o preço do eletrodoméstico e quanto foi pago por ele respectivamente.

- a) R\$2.720,00 e R\$2.240,00
- b) R\$1.900,00 e R\$1.400,00
- c) R\$2.500,00 e R\$2.000,00
- d) R\$3.500,00 e R\$3.000,00

QUESTÃO 17

Todo mês vem descontado na folha de pagamento de um trabalhador o valor de 280,00 reais. Sabendo que o salário bruto deste trabalhador é de R\$1.400,00, este desconto equivale a quantos por cento do salário do trabalhador?

- a) 5%
- b) 20%
- c) 2%
- d) 25%

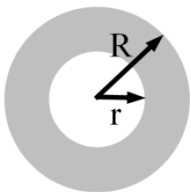
QUESTÃO 18

Ao abastecer um automóvel, o seu dono pagou em trinta litros de um combustível R\$ 90,00, quanto custará se o automóvel for abastecido com setenta litros do mesmo combustível?

- a) 210,00 reais
- b) 200,00 reais
- c) 95,00 reais
- d) 150,00 reais

QUESTÃO 19

Qual a área da coroa (destacada em cinza), sabendo que $R = 6\text{ m}$ e $r = 2\text{ m}$? Por simplificação adote $\pi = 3$.



- a) 8 m^2
- b) 96 m^2
- c) 4 m^2
- d) 40 m^2

QUESTÃO 20

Qual será a medida da capacidade, em litros, de um latão de gasolina, de forma de paralelepípedo retângulo com 2 m de comprimento, 3 m de largura e 1,5 m de altura. Dado que $1\text{ m}^3 = 1000\text{ l}$.

- a) 9 l
- b) 9 m^3
- c) 9000 l
- d) 9000 m^3

QUESTÃO 21

Para garantir uma efetiva conduta ética no âmbito dos departamentos da administração pública, é necessário:

- a) Estabelecer um rígido código de ética a ser imposto a todos os membros da organização, sob pena de severas punições.
- b) Oferecer um manual de ética para cada empregado, a fim de que eles possam notificar os superiores sobre possíveis deslizos e erros praticados pelos colegas.
- c) Desenvolver um clima organizacional no qual a reflexão ética possa ser exercida.
- d) Criar forte estrutura hierárquica, pois só com clara definição de poder no departamento é que pode haver ética.

QUESTÃO 22

A cidadania exige ações do cidadão. Os acontecimentos não dependem apenas do governo. Dependem das atitudes de cada um. Não podemos deixar de reconhecer a responsabilidade que temos pelo nosso destino. O uso do poder de influenciar nos acontecimentos da sociedade é exercido, principalmente, pela exigência:

- a) Das Administrações Públicas
- b) Das leis.
- c) Dos Prefeitos.
- d) Dos desfavorecidos.

QUESTÃO 23

São atitudes positivas para uma boa relação humana no trabalho todas abaixo, exceto:

- a) Quando estiver participando de discussões em grupo, defina bem o sentido das palavras para evitar duplo sentido e mal-entendidos.



- b) Não procure as causas da sua antipatia, afim de vencê-las! Isso poderá não contaminar seu ambiente de trabalho.
- c) Seja prestativo na medida certa para não ser mal interpretado.
- d) Dê atenção com quem fala com você. Evite interromper a palavra; espere sua vez.

QUESTÃO 24

Para evitar acidentes em decorrência de levantamento e transporte manual de cargas pesadas, os mesmos devem ser evitados, devendo ser realizados por equipamentos mecânicos. Se isto não for possível, várias pessoas devem trabalhar juntas, sendo importante que todas utilizem os métodos corretos de levantamento.

O levantamento de peso deve ser realizado com:

- a) O auxílio das pernas.
- b) O auxílio das costas.
- c) O auxílio das mãos.
- d) O auxílio dos pés.

QUESTÃO 25

Sobre os direitos individuais e coletivos, assinale a alternativa correta:

- a) É violável o sigilo da correspondência e das comunicações telegráficas, de dados e das comunicações telefônicas, salvo, no último caso, por ordem judicial, nas hipóteses e na forma que a lei estabelecer para fins de investigação criminal ou instrução processual.
- b) É restrito o exercício de qualquer trabalho, ofício ou profissão, atendidas as qualificações profissionais que a lei estabelecer.
- c) É livre a locomoção no território nacional em tempo de paz, podendo qualquer pessoa, nos termos da lei, nele entrar, permanecer ou dele sair com seus bens.
- d) É restrito a manifestação do pensamento, sendo livre o anonimato.

QUESTÃO 26

Defronte a um acidente com vítima, antes de providenciar sua remoção é essencial que seja executada as seguintes ações:

- I- Realizar o Controle de hemorragias e respiração
- II- Imobilizar todos os pontos suspeitos de fraturas.

III- Promova e/ou descontrola o estado de choque.

IV-Providencie uma maca.

- a) I e II apenas são verdadeiras.
- b) II e IV apenas são verdadeiras.
- c) III e IV apenas são verdadeiras.
- d) I, II e IV apenas são verdadeiras

QUESTÃO 27

O governo decidiu garantir a redução na conta de luz, cujo prazo de validade da MP terminou na última segunda-feira 03/06. Na manhã de quarta-feira dia 29 de maio, a ministra Gleisi Hoffmann, da Casa Civil, disse que o governo tem a solução para manter o desconto: um decreto e uma Medida Provisória que já está tramitando no Congresso. Essa atitude do governo foi em decorrência de:

- a) O Senado não ter votado a Medida Provisória.
- b) O ministro de Minas e Energia ser exonerado do cargo sob suspeita de corrupção ativa
- c) A presidenta Dilma não ter tido força política suficiente para negociar com as empresas fornecedoras e geradoras de energia.
- d) Recesso dos deputados em virtude do Feriado de 3º de maio.

QUESTÃO 28

Quando escolhemos um nome a um arquivo no Windows não podemos utilizar o caractere:

- a) \$ (Cifrão)
- b) % (Porcentagem)
- c) + (Adição)
- d) ? (Interrogação)











QUESTÃO 29

Em uma planilha do Excel, considere os valores de células A1 = 1000 e B1 = 50%, assinale a alternativa onde o resultado da fórmula será 25.

- a) =1+A1*B1/24
- b) =A1*B1/24+1
- c) =A1*B1/19+1
- d) =A1*B1/(19+1)

QUESTÃO 30

Observando a imagem a seguir, assinale a alternativa correta:

Nome ^	Data de modificação	Tipo	Tamanho
 Documento 01.txt	11/05/2013 14:43	Documento de Texto	0 KB
 Documento 02.txt	11/05/2013 14:43	Documento de Texto	0 KB
 Documento 03.txt	11/05/2013 14:43	Documento de Texto	0 KB
 Documento 04.txt	11/05/2013 14:43	Documento de Texto	0 KB
 Documento 05.txt	11/05/2013 14:43	Documento de Texto	0 KB
 Documento 06.txt	11/05/2013 14:43	Documento de Texto	0 KB
 Documento 07.txt	11/05/2013 14:43	Documento de Texto	0 KB
 Documento 08.txt	11/05/2013 14:43	Documento de Texto	0 KB
 Documento 09.txt	11/05/2013 14:43	Documento de Texto	0 KB
 Documento 10.txt	11/05/2013 14:43	Documento de Texto	0 KB

- Para selecionar arquivos em sequência no Windows Explorer como exibe a imagem, se faz necessário utilizar a tecla CTRL + Botão Esquerdo do Mouse.
- Para selecionar arquivos em sequência no Windows Explorer como exibe a imagem, se faz necessário utilizar a tecla CTRL + Botão Direito do Mouse.
- Para selecionar arquivos em sequência no Windows Explorer como exibe a imagem, se faz necessário utilizar a tecla ALT + Botão Esquerdo do Mouse.
- Para selecionar arquivos em sequência no Windows Explorer como exibe a imagem, se faz necessário utilizar a tecla Shift + Botão Esquerdo do Mouse.

QUESTÃO 31

No Excel, qual tecla de atalho poderá ser utilizada para realizar a substituição de informações em uma planilha?

- CTRL + F
- CTRL + X
- CTRL + A
- CTRL + L

QUESTÃO 32

No Word, o ícone abaixo é conhecido como:



- Listagem.
- Numeração.
- Lista de vários níveis.
- Recuo de nível.

QUESTÃO 33

No que concerne o art. 3º da lei Federal 9394/96, os itens abaixo são considerados:

- Igualdade de condições para o acesso e permanência na escola;
- Liberdade de aprender, ensinar, pesquisar e divulgar a cultura, o pensamento, a arte e o saber;
- Pluralismo de ideias e de concepções pedagógicas;
- Respeito à liberdade e apreço à tolerância;

- Metas da educação.
- Princípios da educação.
- Diretrizes da educação.
- Garantias da educação.

QUESTÃO 34

Segundo o Art. 30 da lei Federal 9394/96 a educação infantil será oferecida em:

- creches, ou entidades equivalentes, para crianças de até 6 meses de idade;



- b) creches, ou entidades equivalentes, para crianças de até 1 ano de idade;
- c) creches, ou entidades equivalentes, para crianças de até dois anos de idade;
- d) creches, ou entidades equivalentes, para crianças de até três anos de idade;

QUESTÃO 35

De acordo com o Art. 4º da lei Federal 8069/90 é dever da família, da comunidade, da sociedade em geral e do poder público assegurar, com absoluta prioridade, a efetivação dos direitos referentes à vida, à saúde, à alimentação, à educação, ao esporte, ao lazer, à profissionalização, à cultura, à dignidade, ao respeito, à liberdade e à convivência familiar e comunitária.

Parágrafo único. A garantia de prioridade compreende, exceto:

- a) Primazia de receber proteção e socorro em quaisquer circunstâncias.
- b) Precedência de atendimento nos serviços públicos ou de relevância privada.
- c) Preferência na formulação e na execução das políticas sociais públicas,
- d) Destinação privilegiada de recursos públicos nas áreas relacionadas com a proteção à infância e à juventude.

QUESTÃO 36

A educação básica, nos níveis fundamental e médio, será organizada de acordo com a carga horária mínima anual de:

- a) De duzentas horas, distribuídas por um mínimo de duzentos dias de efetivo trabalho escolar, excluído o tempo reservado aos exames finais, quando houver.
- b) De quatrocentas horas, distribuídas por um mínimo de duzentos dias de efetivo trabalho escolar, excluído o tempo reservado aos exames finais, quando houver.
- c) De seiscentas horas, distribuídas por um mínimo de duzentos dias de efetivo trabalho escolar, excluído o tempo reservado aos exames finais, quando houver.
- d) De oitocentas horas, distribuídas por um mínimo de duzentos dias de efetivo trabalho escolar, excluído o tempo reservado aos exames finais, quando houver.

QUESTÃO 37

É dever dos pais ou responsáveis efetuar a matrícula das crianças na educação básica a partir dos:

- a) 4 (quatro) anos de idade.
- b) 5 (cinco) anos de idade.
- c) 6 (seis) anos de idade.
- d) 7 (sete) anos de idade.

QUESTÃO 38

Há três tipos de expedientes que se diferenciam antes pela finalidade do que pela forma: o *ofício*, o *aviso* e o *memorando*. Com o fito de uniformizá-los, pode-se adotar uma diagramação única, que siga o que chamamos de *padrão ofício*. O *aviso*, o *ofício* e o *memorando* devem conter as seguintes partes, exceto:

- a) Tipo e número do expediente, seguido da sigla do órgão que o expede.
- b) Local e data em que foi assinado, por extenso, com alinhamento centralizado.
- c) Assunto: resumo do teor do documento.
- d) Destinatário: o nome e o cargo da pessoa a quem é dirigida a comunicação. No caso do ofício deve ser incluído também o *endereço*.

QUESTÃO 39

Quando se trata de planejar a organização de um arquivo ou fichário, os elementos constantes de um documento a considerar são:

I- Nome (do remetente do destinatário ou da pessoa a quem se refere o documento);

II- Local;

III- Número;

IV-Data,

V- Assunto.

- a) I apenas é correta.
- b) I, II e V apenas é correta.
- c) III, e IV apenas é correta.
- d) I, II, III, IV e V são corretas.

QUESTÃO 40

Assinale a alternativa incorreta de acordo com o atendimento ao público prestado pelo Servidor Público:



PREFEITURA DO MUNICÍPIO DE INDAIATUBA – SP
CONCURSO PÚBLICO DE PROVAS Nº 01 /2013
PROVA OBJETIVA – CARGO: 2.06 – ASSISTENTE DE ADMINISTRAÇÃO E SERVIÇOS
PÚBLICOS – (ANTIGO OFICIAL DE ESCOLA)



- a) Deixar o servidor público qualquer pessoa à espera de solução que compete ao setor em que exerça suas funções, permitindo a formação de longas filas, ou qualquer outra espécie de atraso na prestação do serviço, não caracteriza apenas atitude contra a ética ou ato de desumanidade, mas principalmente grave dano moral aos usuários dos serviços públicos.
- b) A cortesia, a boa vontade, o cuidado e o tempo dedicados ao serviço público caracterizam o esforço pela disciplina. Tratar mal uma pessoa que paga seus tributos direta ou indiretamente significa causar-lhe dano moral.
- c) O trabalho desenvolvido pelo servidor público perante a comunidade deve ser entendido como acréscimo ao seu próprio bem-estar, já que, como cidadão, integrante da sociedade, o êxito desse trabalho pode ser considerado como seu maior patrimônio.
- d) Toda pessoa tem direito à verdade. Contudo, o servidor pode omiti-la, ainda que contrária aos interesses da própria pessoa interessada ou da Administração Pública.