



PREFEITURA MUNICIPAL DE PONTA GROSSA

Secretaria Municipal de Educação

Avenida Visconde de Taunay, 950 – Ronda – Ponta Grossa – Paraná – CEP: 84.051-900 – Telefone: (042) 3901-7076

CADERNO DE PROVA

NÚMERO DA INSCRIÇÃO _____

PROVA
Língua Portuguesa Matemática Conhecimentos Gerais

INSTRUÇÕES

- Verifique se este caderno contém 40 questões, numeradas de 1 a 40. Caso contrário, reclame ao fiscal da sala um novo caderno. Não serão aceitas reclamações posteriores.
- Para cada questão existe apenas **UMA** resposta certa.
- Leia cuidadosamente cada uma das questões e escolher a resposta certa.
- Essa resposta deve ser marcada na FOLHA DE RESPOSTAS que você receberá.

VOCÊ DEVE:

- procurar, na FOLHA DE RESPOSTAS, o número da questão que você está respondendo.
- verificar no caderno de prova qual a letra (A,B,C,D,) da resposta que você escolheu.
- marcar essa letra na FOLHA DE RESPOSTAS, conforme o exemplo:



- Marcar as respostas primeiro a lápis e depois cubra com caneta esferográfica de tinta preta ou azul.
- Marcar apenas uma letra para cada questão, mais de uma letra assinalada implicará anulação dessa questão.
- Responder a todas as questões e preencher a folha de respostas em 4 horas.
- Devolver este caderno de prova ao aplicador, juntamente com sua Folha de Respostas.
- Permanecer em sala no mínimo duas horas após o início da prova.

NÃO É PERMITIDO:

- uso do celular: deverá ser retirada a bateria em frente ao aplicador, caso seja verificado o uso o candidato terá sua prova anulada.
- o uso de bolsa, estojos, óculos etc
- nenhuma outra forma de identificação do candidato além do número de inscrição.
- qualquer espécie de consulta, nem o uso de máquina calculadora.
- a divulgação ou impressão parcial ou total da presente prova direitos reservados.

OBS: os três últimos candidatos a entregar a prova deverão permanecer na sala para lacrar e assinar os envelopes de provas e de fichas de respostas junto aos aplicadores



LÍNGUA PORTUGUESA

O texto a seguir é referência para as questões 01 a 03

PAI NÃO ENTENDE NADA

- Um biquíni novo?
- É, pai.
- Você comprou um no ano passado!
- Não serve mais, pai. Eu cresci.
- Como não serve? No ano passado você tinha 14 anos, este ano tem 15. Não cresceu tanto assim.
- Não serve, pai.
- Está bem, está bem. Toma o dinheiro. Compre um biquíni maior.
- Maior não, pai. Menor.
Aquele pai, também, não entendia nada
(*Veríssimo, Luís Fernando in Comédia da Vida Privada*)

01 - No texto acima, verifica-se:

- (A) uma conversa entre três pessoas.
- (B) um diálogo entre filha e mãe.
- (C) uma conversa entre pai e filha.
- (D) uma conversa entre irmãos.

02 - “Aquele pai, **também**, não entendia nada.” - A palavra destacada indica:

- (A) Que aquele pai era o único que não gostava de biquíni.
- (B) Que aquele pai era grosseiro.
- (C) Que os pais têm dificuldade em compreender o que os filhos pensam.
- (D) Que o pai nunca deixava nada.

03 - Assinale a parte do texto que **NÃO** faz parte da conversa entre os personagens.

- (A) __ É, pai.
- (B) __ Não serve pai.
- (C) Aquele pai, também, não entende nada.
- (D) Toma o dinheiro. Compre um biquíni maior.

04 - Valmir estava lendo um livro e encontrou uma palavra que não conhecia. Onde ele deveria procurar o significado?

- (A) Atlas
- (B) Dicionário
- (C) Enciclopédia
- (D) Lista telefônica

05- Qual é o antônimo de feliz?

- (A) assustado
- (B) alegre
- (C) triste
- (D) felicidade

O texto a seguir é base para as questões 06 à 08:

A raposa e as uvas

Uma raposa passou por baixo de uma parreira carregada de uvas. Ficou logo com muita vontade de apanhar as uvas para comer.

Deu muitos saltos, tentou subir na parreira, mas não conseguiu.

Depois de muito tentar foi-se embora, dizendo:

__ Eu nem estou ligando para as uvas. Elas estão verdes mesmo...

Ruth Rocha. Fábulas de Esopo, São Paulo, FTD, 1992.

06 – “Depois de muito tentar foi-se embora, dizendo:”

Na frase acima, a parte grifada refere-se:

- (A) as uvas
- (B) a parreira
- (C) Ruth Rocha
- (D) a raposa

07 - Quem é a autora do texto:

- (A) A raposa
- (B) São Paulo
- (C) Ruth Rocha
- (D) FTD

08 - A raposa desistiu das uvas porque:

- (A) Realmente achou que as uvas estavam verdes.
- (B) Não conseguiu alcançá-las.
- (C) Já estava entardecendo.
- (D) Estava com preguiça.

09 - “Água mole em pedra dura, tanto bate até que fura” O dito popular acima **NÃO** significa:

- (A) insistência
- (B) persistência
- (C) preguiça
- (D) perseverança

10 - Indique abaixo o **substantivo masculino**:

- (A) alface
- (B) guaraná
- (C) cal
- (D) omelete



PREFEITURA MUNICIPAL DE PONTA GROSSA

Secretaria Municipal de Educação

Avenida Visconde de Taunay, 950 – Ronda – Ponta Grossa – Paraná – CEP: 84.051-900 – Telefone: (042) 3901-7076

11 - Marque a alternativa na qual as palavras estão grafadas corretamente.

- (A) cachoeira – passeio – cidadão
- (B) compromisso – ansia – impreção
- (C) cosinha – cebola – tigela
- (D) bacia – assadeira – vasoura

12 - Em quais alternativas abaixo, as letras **J** e **G** estão corretamente empregadas.

- (A) jibóia, ajiota, ferrugem
- (B) vagem, engessar, pajé
- (C) traje, agente, vagem
- (D) ageitar, vertigem, agenda

13 - Qual é a abreviatura correta para **Senhora**?

- (A) S.
- (B) Sr.
- (C) Sr^a.
- (D) S^a.

O texto a seguir é referência para as questões 14 e 15:

O bicho
Vi ontem um bicho
Na imundície do pátio,
Catando comida entre os detritos.

Quando achava alguma coisa,
Não examinava nem cheirava:
Engolia com voracidade.

O bicho não era um cão,
Não era um gato,
Não era um rato.

O bicho, meu Deus, era um homem.

(Manuel Bandeira)

14 - O poema convida o leitor a refletir sobre:

- (A) Os hábitos alimentares dos animais.
- (B) A situação degradante a que a miséria pode conduzir o ser humano.
- (C) A importância de trabalhar hábitos de higiene na escola.
- (D) A necessidade de conscientização da população para preservar o meio ambiente.

15 - A segunda estrofe do poema sugere que o “bicho”:

- (A) sentia nojo dos detritos.
- (B) enxergava com dificuldade.
- (C) estava faminto.
- (D) estava cansa

MATEMÁTICA

16 - Em um cofre, havia 85 moedas de R\$ 0,05, quarenta e oito moedas de R\$ 0,10, dezessete de R\$ 0,25, treze de R\$ 0,50 e 11 de R\$ 1,00. Qual a quantia total que havia nesse cofre?

- (A) R\$ 31,80
- (B) R\$ 30,80
- (C) R\$ 30,81
- (D) R\$ 31,81

17 - Em um supermercado, o quilo do arroz custa R\$ 1,85, do feijão R\$ 4,15 e da farinha R\$ 2,35. Uma pessoa comprou 5Kg de arroz, 2Kg de feijão e 1Kg de farinha, pagando a conta com uma cédula de R\$ 50,00. Quanto ela recebeu de troco?

- (A) R\$ 30,10
- (B) R\$ 31,00
- (C) R\$ 31,10
- (D) R\$ 30,00

18 - Para produzir merenda escolar para 3.520 alunos são necessários 528 Kg de carne de frango. No mês de dezembro, a quantidade de alunos reduzirá para 1.000 alunos. Quantos quilos de carne de frango serão necessários para produzir a mesma merenda escolar no mês de dezembro?

- (A) 180Kg
- (B) 170Kg
- (C) 160Kg
- (D) 150Kg

19 - Numa escola havia um estoque de 10.000 potes de iogurte. A tabela mostra o movimento de entrada e saída de iogurte na semana seguinte à contagem desse estoque. Quantos potes de iogurte terá o estoque no fim dessa semana?

NÚMERO DE POTES DE IOGURTE			
Dia	da	Entrada	Saída
	semana		
Segunda-feira		-----	827
Terça-feira		-----	3.400
Quarta-feira		986	5.863
Quinta-feira		-----	1.433
Sexta-feira		3.591	2.874



PREFEITURA MUNICIPAL DE PONTA GROSSA

Secretaria Municipal de Educação

Avenida Visconde de Taunay, 950 – Ronda – Ponta Grossa – Paraná – CEP: 84.051-900 – Telefone: (042) 3901-7076

- (A) 180 potes de iogurte
- (B) 181 potes de iogurte
- (C) 182 potes de iogurte
- (D) 183 potes de iogurte

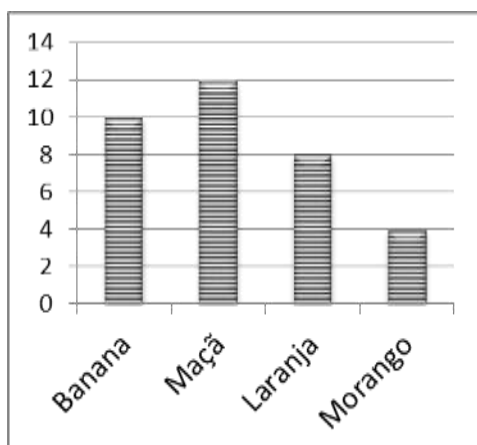
20 - Quantas caixas, com capacidade para 24 garrafas, são necessárias para guardar 3.408 garrafas?

- (A) 124 caixas
- (B) 142 caixas
- (C) 134 caixas
- (D) 154 caixas

21 - Sandra comprou um aparelho de som por R\$ 955,00. Deu R\$ 145,00 de entrada e o restante pagará em 6 prestações mensais iguais. Qual será o valor de cada prestação?

- (A) R\$ 153,00
- (B) R\$ 145,00
- (C) R\$ 135,00
- (D) R\$ 125,00

22 - A merendeira da escola perguntou aos alunos do 3º ano do 1º ciclo qual era sua fruta preferida. Todos os alunos responderam indicando uma fruta apenas. O resultado dessa consulta poder ser visto no gráfico a seguir.



Observando o gráfico, podemos afirmar que:

- I) Dez alunos preferem banana.
- II) Oito alunos preferem laranja.
- III) A metade da turma prefere maçã.
- IV) Nessa classe há um total de 34 alunos.

- (A) I e III estão corretas.
- (B) Apenas a afirmação III está incorreta.
- (C) Todas as afirmações estão corretas.
- (D) Nenhuma das afirmações estão corretas.

22 - Uma prova de matemática contém 30 questões. Um aluno acertou 7/10 das questões. Quantas questões esse aluno errou?

- (A) 12
- (B) 31
- (C) 28
- (D) 21

23 - Aqui está a receita do bolo de Joelma.

Bolo de Chocolate

½ colher (sopa) de margarina

¼ quilo de açúcar

2 ovos

½ quilo de farinha

1 ½ copo médio de leite

3 ½ colheres (sopa) de chocolate

1 colher (sobremesa) de fermento em pó

Que quantidade de farinha, e de açúcar, respectivamente, será necessária para fazer três bolos de chocolate com a receita de Joelma?

- (A) 1 ½Kg e ¾Kg
- (B) 3/4Kg e 1Kg
- (C) 6Kg e 4Kg
- (D) 4Kg e 6Kg

24 - Marina, ao comprar uma blusa de R\$17,00, enganou-se e deu ao vendedor uma nota de R\$10,00 e outra de R\$50,00. O vendedor, distraído, deu o troco como se Marina lhe tivesse dado duas notas de R\$10,00. Qual foi o prejuízo de marina?

- (A) R\$13,00
- (B) R\$37,00
- (C) R\$40,00
- (D) R\$50,00

25 - No início do ano, uma geladeira custava R\$980,00. Este mês, a mesma geladeira teve um aumento de 15%. Quanto passou a custar essa geladeira?

- (A) R\$1.127,00
- (B) R\$1.125,00
- (C) R\$1.078,00
- (D) R\$1.107,00

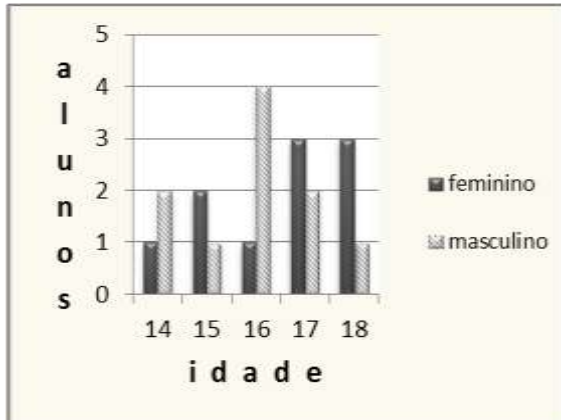


PREFEITURA MUNICIPAL DE PONTA GROSSA

Secretaria Municipal de Educação

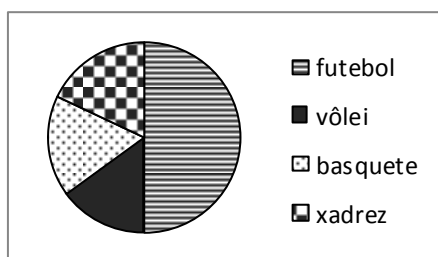
Avenida Visconde de Taunay, 950 – Ronda – Ponta Grossa – Paraná – CEP: 84.051-900 – Telefone: (042) 3901-7076

- 26 - Num curso de culinária, a distribuição das idades dos alunos, segundo o sexo, é dada pelo gráfico seguinte.



Com base nos dados do gráfico, pode-se afirmar que:

- (A) O número de mulheres com, no máximo, 16 anos é maior que o número de homens nesse mesmo intervalo de idades.
(B) O número total de alunos é 19.
(C) O número de homens é igual ao número de mulheres.
(D) O número de homens com idade maior que 15 anos é maior que o número de mulheres nesse mesmo intervalo de idades.
- 27 - Em uma escola com 800 alunos, realizou-se uma pesquisa sobre o esporte preferido dos estudantes. Os resultados estão representados na figura abaixo:



- Observando a figura, é correto dizer que:
- (A) O futebol foi escolhido por 400 alunos.
(B) O basquete foi escolhido por 210 alunos.
(C) O vôlei foi escolhido por 120 alunos.
(D) O xadrez foi escolhido por 90 alunos.
- 28 - É no Carnaval que os catadores de lata lucram. Em cinco dias de festa, eles arrecadam cerca de 50% da média de latas coletadas por mês. Segundo a prefeitura da cidade do Rio de

Janeiro, 80 catadores cooperativados fizeram a coleta seletiva no sambódromo e no Terreirão do Samba nos cinco dias de festividades carnavalescas, coletando cerca de 400.000 latinhas de alumínio. As empresas de reciclagem, este ano, pagaram, em média, R\$ 2,50, por quilograma de lata de alumínio.

(Adaptado de <http://www.folha.uol.com.br/folha/cotidiano> e <http://www.reciclaeis.com.br/noticias>)

Se a massa de cada lata de alumínio é de 14,5 gramas, pode-se afirmar que cada catador recebeu aproximadamente:

- (A) R\$ 18,12
(B) R\$ 86,20
(C) R\$ 181,25
(D) R\$ 862,07

- 29 - Joana e três amigas moram juntas em um apartamento e dividem igualmente as despesas mensais. Veja as despesas que elas tiveram em janeiro:



Quanto reais aproximadamente, cada uma teve de pagar por essas despesas?

- (A) R\$344,19
(B) R\$354,36
(C) R\$300,00
(D) R\$350,00

CONHECIMENTOS GERAIS

31- O Papa Bento XVI que renunciou ao cargo de Papa assumiu essa função após a morte de :

- (A) Pio XII
(B) São Pedro
(C) João XXIII
(D) João Paulo II



PREFEITURA MUNICIPAL DE PONTA GROSSA

Secretaria Municipal de Educação

Avenida Visconde de Taunay, 950 – Ronda – Ponta Grossa – Paraná – CEP: 84.051-900 – Telefone: (042) 3901-7076

32 - O atual governador do estado do Paraná é

- (A) Luís Inácio Lula da Silva
- (B) Joaquim Barbosa
- (C) Aliel Machado
- (D) Beto Richa

33 - Ponto turístico paranaense que recentemente recebeu o título de uma das Sete Maravilhas da Natureza:

- (A) Parque Estadual de Vila Velha
- (B) Represa do Alagados
- (C) Cataratas do Iguaçu
- (D) Rio São Jorge

34 - Ponta Grossa, a Princesa dos Campos, está localizada;

- (A) 1º Planalto
- (B) 2º Planalto
- (C) 3º Planalto
- (D) 1º e 2º Planalto

35 – Ponta Grossa faz limite com alguns municípios. Identifique a alternativa que contém apenas os **limites** de Ponta Grossa:

- (A) Castro, Carambeí, Palmeira
- (B) Curitiba, Castro, Campo Largo
- (C) São João do Triunfo, Tibagi, Curitiba
- (D) Piraí do Sul, Castro, Carambeí

36 - Os primeiros grupos humanos que ocuparam a região dos Campos Gerais foram:

- (A) fazendeiros paulistas
- (B) índios tupi-guarani
- (C) tropeiros
- (D) escravos

37 - O Caminho do Viamão, muito utilizado nos séculos XVIII e XIX era:

- (A) a ligação entre Ponta Grossa e Curitiba feito através da estrada de ferro.
- (B) a ligação entre Ponta Grossa e Castro feito através de estrada de ferro.

(C) a ligação entre o extremo sul do país com São Paulo, por onde transitavam tropas de bovinos e muares.

(D) a ligação rodoviária entre Ponta Grossa e Curitiba.

38 - O casal de pombos presentes na bandeira de Ponta Grossa faz referência a uma lenda que explica:

- (A) a localização do Cemitério Municipal.
- (B) o local onde foi construída a primeira Cadeia Pública.
- (C) a escolha do local onde seria construída a igreja matriz, que tornou-se a Catedral de Sant'Ana.
- (D) o local que foi escolhido para a construção da estação ferroviária.

39 - Edificação religiosa, de grande valor histórico, construída no século XVIII, que assinala a presença jesuítica nos Campos Gerais e que atendia aos tropeiros e aos fazendeiros moradores das fazendas vizinhas. Hoje faz parte do Patrimônio Cultural do Paraná:

- (A) Casa de Telha
- (B) Catedral de Sant'Ana.
- (C) Capela Santa Bárbara
- (D) Cemitério São José

40 - Quanto a origem do nome de Ponta Grossa é correto afirmar que:

- (A) o nome é de origem tupi-guarani e já era usado pelos indígenas mesmo antes dos primeiros fazendeiros aqui chegarem.
- (B) é de origem geográfica e faz referência a uma colina coberta por um capão de mato, a qual os tropeiros ao se aproximarem de seus arredores referiam-se ao "Capão da Ponta Grossa".
- (C) deveu-se a grande quantidade de pontas de lanças indígenas encontradas na região.
- (D) surgiu por Ordem do Império quando da elevação a categoria de Freguesia.