

MUNICÍPIO DE BARRA VELHA SANTA CATARINA

CONCURSO PÚBLICO
EDITAL N° 001/2012



Instrutor de Artes

MANHÃ

Organizadora:



CARGO: INSTRUTOR DE ARTES

Texto

O combate à biopirataria

João Paulo Capobianco
Biólogo

Recente reportagem publicada pelo Jornal do Brasil abordou o tema da biopirataria, assunto de altíssima relevância para a conservação ambiental no país.

A rede de tráfico ilegal de animais silvestres se constitui numa das mais graves e rentáveis ilegalidades praticadas no mundo, só perdendo em arrecadação para os tráficos de armas e drogas. Seu impacto sobre a fauna brasileira é extremamente significativo, responsável por ameaça direta à nossa diversidade biológica através do extermínio de espécies. O caso da ararinha azul, que ficou famoso em todo o mundo devido à luta desenvolvida para recuperar a população nativa representada por apenas um único exemplar que sobrevivia no sertão baiano, na região de Curaçá, é apenas um exemplo entre muitos.

A luta por melhores condições de gestão e ação no combate ao tráfico ilegal de animais e plantas tem sido um dos desafios recentes da agenda ambiental brasileira. O Ministério do Meio Ambiente e o seu Ibama, bem como outros órgãos de governo, em especial a Polícia Federal, vêm se esforçando, com a participação da sociedade, para aperfeiçoar ações e definir políticas capazes de produzir resultados permanentes, e não somente ações pontuais que dão visibilidade, mas têm pouca efetividade a médio e longo prazos.

Estão sendo implementados sistemas de controle informatizados para gestão do uso da fauna, especialmente de criadouros de animais silvestres e zoológicos. Isto permitirá o controle de procedência e a identificação de possíveis irregularidades. O Ibama criou em 2003 uma divisão específica para fiscalização aeroportuária. O sistema já funciona em Manaus.

Outros destaques importantes foram o incremento da ação integrada com a Polícia Federal, através do repasse de informações e recursos financeiros, da participação em ações conjuntas e do início de atividades de repressão ao comércio através da *Internet*, que se vem consolidando como um canal de facilitação dessa grave contravenção. Além das ações no âmbito da competência direta do ministério, desenvolve-se o apoio a iniciativas conjuntas com a sociedade civil, através de convênios para atividades de conscientização e educação ambiental.

No que se refere ao aprimoramento da legislação brasileira, corretamente citada como insuficiente na reportagem do JB, o Ministério do Meio Ambiente acompanha a tramitação do projeto de lei que altera a Lei de Crimes Ambientais, com o objetivo de inserir tipos penais qualificados para enquadrar quem pratica o comércio ilegal de animais silvestres. Anteprojeto de lei de acesso ao patrimônio genético a ser brevemente enviado ao Congresso Nacional prevê a inclusão de sanções penais para situações que se configurem como biopirataria.

Cabe destacar que entre as causas do tráfico de animais há componentes culturais e sociais que devem ser considerados, para adoção de estratégias e abordagens adequadas, que não podem estar exclusiva e amplamente centradas nas ações de fiscalização ostensiva.

Algumas das dificuldades institucionais são históricas e precisam ser superadas com firmeza e determinação. Não operamos sob condições ideais nem pretendemos encobrir debilidades, mas procurar superá-las a partir de uma postura pró-ativa que busca institucionalizar e fortalecer a gestão ambiental de forma progressiva e participativa.

(Disponível em: <http://pib.socioambiental.org/c/noticias?id=37143>)

01

Assinale a alternativa que contém uma passagem do texto que apresenta uma das maiores consequências da biopirataria para o Brasil.

- A) “Recente reportagem publicada pelo Jornal do Brasil abordou o tema da biopirataria, assunto de altíssima relevância para a conservação ambiental no país.” (1º§)
- B) “A rede de tráfico ilegal de animais silvestres se constitui numa das mais graves e rentáveis ilegalidades praticadas no mundo, só perdendo em arrecadação para os tráficos de armas e drogas.” (2º§)
- C) “Seu impacto sobre a fauna brasileira é extremamente significativo, responsável por ameaça direta à nossa diversidade biológica através do extermínio de espécies.” (2º§)
- D) “A luta por melhores condições de gestão e ação no combate ao tráfico ilegal de animais e plantas tem sido um dos desafios recentes da agenda ambiental brasileira.” (3º§)
- E) “Cabe destacar que entre as causas do tráfico de animais há componentes culturais e sociais que devem ser considerados, para adoção de estratégias e abordagens adequadas...” (7º§)

02

O texto tem como principal finalidade comunicativa

- A) apresentar o conceito de biopirataria e suas características.
- B) informar as principais ações do governo no combate à biopirataria.
- C) criticar as mais recentes ações governamentais em prol da biopirataria.
- D) descrever as estratégias utilizadas pelos traficantes de plantas e animais.
- E) mostrar como surgiu esta nova modalidade de crime ambiental: a biopirataria.

03

Sobre o texto, analise.

- I. No título do texto, o uso do acento grave é facultativo, ou seja, pode-se escrever “O combate à biopirataria” ou “O combate a biopirataria”. Ambas as formas estão de acordo com a linguagem padrão escrita.
- II. No trecho “Cabe destacar que entre as causas do tráfico de animais há componentes culturais e sociais que devem ser considerados...” (7º§), a correção gramatical se manteria se a forma verbal “há” fosse substituída pela forma verbal “existem”.
- III. Na passagem “Anteprojeto de lei de acesso ao patrimônio genético a ser brevemente enviado ao Congresso Nacional prevê a inclusão de sanções penais...” (6º§), o termo “ao” em sua segunda ocorrência, poderia ser substituído, sem alteração de sentido, pelo termo “pelo”.
- IV. O 1º parágrafo do texto poderia ser reescrito da seguinte forma sem alterar seu sentido original: “O Jornal do Brasil recentemente publicou uma reportagem em que abordou o tema da biopirataria, assunto de extrema importância para a preservação ambiental no Brasil.”

Estão INCORRETAS apenas as afirmativas

- A) I, II
- B) I, III
- C) III, IV
- D) I, II, IV
- E) I, II, III, IV

04

No trecho “Outros destaques importantes foram o incremento da ação integrada com a Polícia Federal, através do repasse de informações e recursos financeiros, da participação em ações conjuntas e do início de atividades de repressão ao comércio através da *Internet*, que se vem consolidando como um canal de facilitação dessa grave contravenção.” (5º§), as palavras destacadas significam, no texto, respectivamente

- A) fracasso, refreamento, infração
- B) aumento, proibição, transgressão
- C) equilíbrio, liberação, respeito
- D) crescimento, violação, obediência
- E) retrocesso, embate, regularidade

05

Os termos lbama (4º§) e ararinha (2º§) são formados, respectivamente, pelos processos de

- A) sigloneização e derivação sufixal.
- B) derivação regressiva e onomatopeia.
- C) derivação prefixal e abreviação.
- D) derivação parassintética e derivação imprópria.
- E) composição por justaposição e hibridismo.

06

No fragmento “Algumas das dificuldades institucionais são históricas e precisam ser superadas com firmeza e determinação. Não operamos sob condições ideais nem pretendemos encobrir debilidades, mas procurar superá-las a partir de uma postura...” (8º§), o pronome “las” se refere ao termo

- A) históricas.
- B) condições.
- C) superadas.
- D) debilidades.
- E) dificuldades.

07

Na passagem “... definir políticas capazes de produzir resultados permanentes, e não somente ações pontuais que dão visibilidade, mas têm pouca efetividade a médio e longo prazos.” (3º§), a palavra “mas” só NÃO pode ser substituída, sem alteração de sentido, pelo termo

- A) porém.
- B) todavia.
- C) contudo.
- D) portanto.
- E) entretanto.

08

“Outros destaques importantes foram o incremento da ação integrada com a Polícia Federal, através do repasse de informações e recursos financeiros, da participação em ações conjuntas e do início de atividades de repressão ao comércio através da *Internet*, que se vem consolidando como um canal de facilitação dessa grave contravenção.” (5º§) No trecho destacado, a forma verbal “vem” mantém relação de concordância com a expressão

- A) repasse de informações.
- B) outros destaques importantes.
- C) participação em ações conjuntas.
- D) incremento da ação integrada com a Polícia Federal.
- E) início de atividades de repressão ao comércio através da *internet*.

Observe a imagem a seguir.



(http://www.puc-rio.br/vestibular/repositorio/provas/2006-2/bio_geo_hist_obj_info.html)

09

A imagem confirma qual afirmativa transcrita presente no texto “O combate à biopirataria”?

- A) “A rede de tráfico ilegal de animais silvestres se constitui numa das mais graves e rentáveis ilegalidades praticadas no mundo, só perdendo em arrecadação para os tráficos de armas e drogas. Seu impacto sobre a fauna brasileira é extremamente significativo, responsável por ameaça direta à nossa diversidade biológica através do extermínio de espécies.” (2º§)
- B) “A luta por melhores condições de gestão e ação no combate ao tráfico ilegal de animais e plantas tem sido um dos desafios recentes da agenda ambiental brasileira. O Ministério do Meio Ambiente e o seu Ibama, bem como outros órgãos de governo, em especial a Polícia Federal, vêm se esforçando, com a participação da sociedade, para aperfeiçoar ações e definir políticas capazes de produzir resultados permanentes...” (3º§)
- C) “Estão sendo implementados sistemas de controle informatizados para gestão do uso da fauna, especialmente de criadouros de animais silvestres e zoológicos. Isto permitirá o controle de procedência e a identificação de possíveis irregularidades.” (4º§)
- D) “Cabe destacar que entre as causas do tráfico de animais há componentes culturais e sociais que devem ser considerados, para adoção de estratégias e abordagens adequadas, que não podem estar exclusiva e amplamente centradas nas ações de fiscalização ostensiva.” (7º§)
- E) “Algumas das dificuldades institucionais são históricas e precisam ser superadas com firmeza e determinação. Não operamos sob condições ideais nem pretendemos encobrir debilidades, mas procurar superá-las a partir de uma postura pró-ativa que busca institucionalizar e fortalecer a gestão ambiental de forma progressiva e participativa.” (8º§)

10

A partir da leitura comparativa do texto “O combate à biopirataria” e a imagem apresentada anteriormente, é correto afirmar que ambos

- A) utilizam a linguagem não-verbal.
- B) apresentam argumentos divergentes.
- C) pertencem ao mesmo gênero textual.
- D) expõem pontos de vista conflitantes.
- E) revelam aspectos temáticos em comum.

RACIOCÍNIO LÓGICO













11
 Uma palavra em que todas as letras são distintas apresenta 5.040 anagramas. Se uma das sílabas dessa palavra possui 3 letras, então as demais sílabas totalizam

A) 5 letras. B) 4 letras. C) 6 letras. D) 7 letras. E) 8 letras.






12
 Numa caixa encontram-se pregos e parafusos, totalizando 62 unidades. Considere que o dobro do número de pregos mais a metade do número de parafusos é igual a 64. Pode-se concluir que na caixa encontram-se

A) 18 parafusos a mais que pregos. D) mais de 25 pregos.
 B) 12 pregos a mais que parafusos. E) menos de 38 parafusos.
 C) um número ímpar de pregos.

13
 Observe a sequência de figuras.

				= 3.285
				= 8.546
				= 5.328

Na representação da metade do número 5.296 pelos símbolos anteriores, qual NÃO será utilizado?

- A)  B)  C)  D)  E) 

14
 Sobre uma mesa encontram-se 3 objetos: uma caixa, uma esfera e uma placa. Esses objetos são constituídos de materiais e cores diferentes. Considere que

- ou a esfera é de madeira ou a caixa não é de metal;
- o objeto de isopor é vermelho e o objeto de metal não é azul;
- nem a placa é de isopor, nem a esfera é de madeira;
- a esfera não é amarela e a caixa é azul.

Os objetos de isopor, metal e madeira são, respectivamente,

- A) placa, caixa, esfera. D) caixa, placa, esfera.
 B) placa, esfera, caixa. E) esfera, caixa, placa.
 C) esfera, placa, caixa.

15
 Num recipiente de 0,3 kg com capacidade para 2 litros foi colocado um líquido que ocupou 3/5 de sua capacidade. Se o conjunto líquido mais recipiente totaliza 1,32 kg, então a densidade do líquido é

A) 0,85 kg/litro. B) 0,80 kg/litro. C) 0,95 kg/litro. D) 0,90 kg/litro. E) 0,75 kg/litro.

16
 Num grupo de 38 pessoas, 21 têm 1,75 m de altura ou menos, e n pessoas têm 1,70 m ou mais. Se o número de pessoas que têm mais 1,70 m e menos de 1,75 m é igual a 9, então o valor de n é

A) 23. B) 24. C) 25. D) 26. E) 27.

17
 A soma de 4 números consecutivos é igual a 4.002. O menor desses números

A) é par e um de seus algarismos é 9. D) tem 3 algarismos iguais.
 B) tem apenas dois algarismos iguais. E) tem três algarismos diferentes.
 C) é ímpar e um de seus algarismos é 8.

18

Marcelo pratica natação 3 vezes na semana, somente nas segundas, quintas e sábados. Num certo mês de 30 dias, ele praticou natação nos dias 14 e 18. No mês posterior ao citado, Marcelo praticou natação no dia

- A) 1º. B) 11. C) 19. D) 24. E) 29.

19

No lançamento simultâneo de 1 dado e 3 moedas de valores diferentes, qual a probabilidade de se obter um número maior que 4 e pelo menos 2 caras?

- A) 1/6 B) 1/5 C) 1/8 D) 1/3 E) 1/4

20

O triplo de um número somado com a metade de seu antecessor é igual a 178. A soma dos algarismos do número considerado é

- A) 7. B) 9. C) 5. D) 8. E) 6.

CONHECIMENTOS ESPECÍFICOS

21

A música é uma das formas de arte que toca profundamente pessoas de todas as idades e culturas. Em referência à mitologia grega da Antiguidade Clássica, a palavra música deriva de arte

- A) das mulheres. B) dos elfos. C) das ninfas. D) das musas. E) dos gregos.

22

O estético em arte diz respeito, dentre outros aspectos, a

- A) compreensão sensível-cognitiva do objeto artístico. D) entender e executar certo tipo de arte.
B) compreender técnicas artísticas e executar. E) reproduzir um objeto artístico.
C) conhecer os estilos artísticos.

23

Os pintores franceses, *Georges Seurat* e *Paul Signac*, elaboraram um método que consistia em dar minúsculas pinceladas, umas bem próximas das outras, usando sempre as cores puras. O efeito da pintura é notado quando olhado à distância. Esta técnica denomina-se

- A) composição. B) grafismo. C) grafite. D) monotipia. E) pontilhismo.

24

A obra em que o artista tem a preocupação de representar as formas de modo que o observador, ao apreciar a obra, possa identificar o que está sendo representado, denomina-se

- A) abstrata. B) alusiva. C) ativa. D) estilizada. E) figurativa.

25

O homem da Pré-história deixou marcas de sua existência através das pinturas executadas no interior de cavernas e grutas. Estas pinturas são chamadas de pinturas

- A) de cavernas. B) neolíticas. C) paleolíticas. D) pré-históricas. E) rupestres.

26

Van Gogh pintou o quadro “Os Girassóis” onde a cor predominante é o amarelo. Considerando a sensação transmitida pelas cores, é correto afirmar que o quadro “Os Girassóis” é pintado com cores

- A) amenas. B) fortes. C) frias. D) quentes. E) resumidas.

27

Técnica em que uma massa com pigmentos de diversas cores é dissolvida em água e a pintura é feita com o auxílio de pincel. É muito usada nos projetos arquitetônicos e nos modelos feitos pelos estilistas. Esta tinta denomina-se

- A) aquarela. B) acrílica. C) aguada. D) óleo. E) pastel.

28

O artista plástico transforma materiais diversos em novas formas, dando significado a elas através da pintura, escultura, cerâmica, desenho, arquitetura, entre outras. Estas são manifestações da seguinte linguagem artística.

- A) Dança. B) Música. C) Teatro. D) Visual. E) Casual.

29

Relacione corretamente a manifestação cultural ao seu estado de origem.

1. Carimbo. () Bahia.
2. Fandango. () Minas Gerais.
3. Frevo. () Pará.
4. Maculelê. () Pernambuco.
5. Mineiro-pau. () São Paulo.

A sequência está correta em

- A) 1, 3, 4, 5, 2 B) 1, 2, 4, 3, 5 C) 2, 4, 3, 1, 5 D) 4, 5, 1, 3, 2 E) 4, 5, 2, 1, 3

30

Vinícius de Moraes, Tom Jobim e João Gilberto são compositores e intérpretes que participaram do movimento musical que surgiu na década de 1950, em meio à classe média brasileira. Nas canções melodiosas, acompanhadas pelo violão, predomina o tom da conversa cotidiana, do lamento bom e do humor. Este movimento musical denomina-se

- A) Bossa Nova. B) Chorinho. C) Jovem Guarda. D) Pontilhado. E) Tropicalismo.

CONHECIMENTOS GERAIS

Leia o texto e responda as questões de 31 a 33.

Operários da Usina de Belo Monte, em Altamira (PA), iniciaram nesta segunda-feira (23) uma paralisação por melhores condições de trabalho. O ato é pacífico. A categoria fechou o principal acesso aos cinco canteiros de obras da usina, no km 27 da Rodovia Transamazônica. O estado de greve dos trabalhadores começou na última quinta-feira. Eles querem aumento do valor da cesta básica, que hoje é de R\$ 95, e a diminuição do intervalo entre os períodos de folga. Hoje, os trabalhadores têm direito a sair para ver a família de seis em seis meses.

(<http://g1.globo.com/pa/para/noticia/2012/04/trabalhadores-param-atividades-nos-canteiros-de-belo-monte.html>)

31

Em que importante via fluvial está sendo construída a Usina de Belo Monte?

- A) Amazonas. B) Araguaia. C) Negro. D) Solimões. E) Xingu.

32

Após sua conclusão e ativação, a Usina de Belo Monte será a terceira maior do mundo e segunda maior da América, ficando no continente atrás apenas da usina hidroelétrica de

- A) *Churchill Falls* (Canadá). D) Itaipu (Brasil e Paraguai).
B) *Grand Coulee* (EUA). E) *La Grande 2* (Canadá).
C) *Guri* (Venezuela).

33

Dois grandes nomes do cinema internacional, diretor e atriz *hollywoodianos*, estiveram no Brasil, para se manifestarem contra a construção desta usina. São eles

- A) *Christopher Nolan* e *Cameron Dias*. D) *Steven Spielberg* e *Maryl Streep*.
B) *James Cameron* e *Sigourney Weaver*. E) *Woody Allen* e *Diane Keaton*.
C) *Martin Scorsese* e *Reese Witherspoon*.

34

Atualmente suspensos, dois projetos de lei norte-americanos popularmente conhecidos como “Sopa” e “Pipa” (abreviação de seus nomes) causaram polêmica e repercussão internacional, provocando protestos de ativistas e contra-ataque de corporações gigantes, como *Google* e *Wikipedia*. É correto afirmar que as propostas

- A) ampliam os instrumentos e ações legais, para que os detentores de direitos autorais e intelectuais possam combater o tráfico de propriedade protegida e artigos falsificados na Internet.
- B) criminalizam o aborto em todos os casos de forma a impedir inclusive que mulheres vítimas de estupro possam fazer uso desta prática, abrindo exceção apenas nos casos de fetos anencefálicos.
- C) descriminalizam o uso da maconha, que passa a ser utilizada principalmente como medicamento no tratamento contra o câncer, podendo ser comercializada em farmácias norte-americanas.
- D) fortalecem a proteção do mercado interno norte-americano, criando novos subsídios aos produtos ou serviços locais, contrariando os tratados e regulamentações da Organização Mundial do Comércio.
- E) proíbem o uso da Internet em locais públicos e/ou coletivos, restringindo seu acesso a estabelecimentos privativos que possuem mecanismos de controle adequados ou de forma particular e residencial.

35

O final do século XX foi marcado por mudanças significativas na geopolítica mundial, a saber

- A) crescimento acelerado da China, tornando-se a segunda mais rica nação do planeta.
- B) transformação da Comunidade Econômica Europeia em União Europeia.
- C) fim da Guerra Fria com a extinção da União Soviética – URSS.
- D) predomínio do capitalismo com a supremacia de uma única superpotência: EUA.
- E) unificação da Alemanha, com extermínio do regime comunista na região oriental.

36

O Supremo Tribunal Federal se manifestou nos últimos anos sobre diversos assuntos controversos, realizando julgamentos que se tornaram históricos por tratarem de temas que, geralmente envolvem toda a sociedade.

Sobre o STF é correto afirmar que

- I. abriu ação contra 40 suspeitos em envolvimento num esquema de corrupção que ficou conhecido como mensalão, julgando culpados grandes caciques do PT, como José Dirceu e José Genuíno.
- II. liberou a utilização de células-tronco embrionárias “inviáveis ou congelados há mais de três anos” em pesquisas no Brasil.
- III. classificou a Marcha da Maconha como uma manifestação legal e garantida pelo direito de livre expressão do pensamento.
- IV. decidiu pela extradição do ex-ativista de esquerda *Cesare Battisti* para a Itália, contrariando a decisão do presidente Luiz Inácio Lula da Silva.

Estão corretas apenas as afirmativas

- A) I, II
- B) III, IV
- C) II, III
- D) I, II, IV
- E) II, III, IV

37

Sobre as resoluções do Supremo Tribunal Federal, marque V para as afirmativas verdadeiras e F para as falsas.

Foram decisões do STF que despertaram polêmica e chamaram a atenção da opinião pública

- () decidiu que não é mais crime o aborto de fetos anencefálicos no Brasil.
- () determinou o julgamento de agentes do Estado acusados de tortura no período militar.
- () reconheceu a ilegalidade da reserva Raposa Serra do Sol, garantindo-a aos fazendeiros.
- () suspendeu a Lei de Imprensa e a exigência de diploma para o exercício do jornalismo.

A sequência está correta em

- A) F, F, V, V
- B) F, V, V, F
- C) V, F, V, F
- D) V, V, F, F
- E) V, F, F, V

38

O oceano que ocupa maior área em quilômetros quadrados no planeta é

- A) Antártico.
- B) Ártico.
- C) Atlântico.
- D) Índico.
- E) Pacífico.

39

Sobre os principais candidatos à presidência da França para as eleições de 2012, é correto afirmar que



(<http://oglobo.globo.com/infograficos/eleicaoofranca/>)

- I. *Marine Le Pen* teve votação surpreendente no primeiro turno, ficando em terceiro lugar com um forte discurso de combate à imigração ilegal.
- II. *François Holland*, líder no primeiro turno de votação, comprometeu-se em retirar as tropas francesas do Afeganistão ainda este ano, se eleito.
- III. atual presidente da França, *Nicolas Sarkozy*, foi vencedor nos dois turnos com a defesa da regulamentação da imigração na França.
- IV. *Jean-Luc Mélenchon*, candidato apoiado pelo ex-diretor do FMI *Dominique Strauss-Kahn*, era favorito e foi prejudicado pelo escândalo envolvendo seu principal apoiador.

Estão corretas apenas as afirmativas

A) I, II

B) III, IV

C) II, III

D) I, II, IV

E) II, III, IV

40

Com cerca de dez anos de existência, a moeda Euro ainda não foi adotada por todos os países membros da União Europeia, entre eles

A) Alemanha e Espanha.

D) Itália e Grécia.

B) Bélgica e França.

E) Reino Unido e Dinamarca.

C) Holanda e Portugal.

INSTRUÇÕES

1. Material a ser utilizado: caneta esferográfica azul ou preta. Os objetos restantes devem ser colocados em local indicado pelo fiscal da sala, inclusive aparelho celular desligado e devidamente identificado com etiqueta.
2. Não é permitido consulta, utilização de livros, códigos, dicionários, apontamentos, apostilas, calculadoras e etc. Não é permitido ao candidato ingressar na sala de provas sem a respectiva identificação e o devido recolhimento de telefone celular, bip e outros aparelhos eletrônicos.
3. Durante a prova, o candidato não deve levantar-se, comunicar-se com outros candidatos e nem fumar.
4. A duração da prova é de 03 (três) horas, já incluindo o tempo destinado à entrega do Caderno de Provas e à identificação – que será feita no decorrer da prova – e ao preenchimento do Cartão de Respostas (Gabarito).
5. Somente em caso de urgência pedir ao fiscal para ir ao sanitário, devendo no percurso permanecer absolutamente calado, podendo antes e depois da entrada sofrer revista através de detector de metais. Ao sair da sala no término da prova, o candidato não poderá utilizar o sanitário. Caso ocorra uma emergência, o fiscal deverá ser comunicado.
6. O Caderno de Provas consta de 40 (quarenta) questões de múltipla escolha, exceto para os cargos de nível fundamental completo e incompleto em que os Cadernos de Provas constam de 30 (trinta) questões. Leia-o atentamente.
7. **As questões das provas objetivas são do tipo múltipla escolha, com 05 (cinco) opções (A a E) e uma única resposta correta.**
8. Ao receber o material de realização das provas, o candidato deverá conferir atentamente se o Caderno de Provas corresponde ao cargo a que está concorrendo, bem como se os dados constantes no Cartão de Respostas (Gabarito) que lhe foi fornecido, estão corretos. Caso os dados estejam incorretos, ou o material esteja incompleto ou tenha qualquer imperfeição, o candidato deverá informar tal ocorrência ao fiscal.
9. Os fiscais não estão autorizados a emitir opinião e prestar esclarecimentos sobre o conteúdo das provas. Cabe única e exclusivamente ao candidato interpretar e decidir.
10. O candidato poderá retirar-se do local de provas somente a partir dos 90 (noventa) minutos após o início de sua realização, contudo não poderá levar consigo o Caderno de Provas, somente sendo permitida essa conduta apenas no decurso dos últimos 30 (trinta) minutos anteriores ao horário previsto para o seu término.
11. Os 3 (três) últimos candidatos de cada sala somente poderão sair juntos. Caso o candidato insista em sair do local de aplicação da prova, deverá assinar um termo desistindo do Concurso Público e, caso se negue, deverá ser lavrado o Termo de Ocorrência, testemunhado pelos 2 (dois) outros candidatos, pelo fiscal da sala e pelo coordenador da unidade.

RESULTADOS E RECURSOS

- Os gabaritos oficiais preliminares das provas escritas objetivas de múltipla escolha serão divulgados na Internet, no site **www.consulplan.net**, a partir da 00h00min do dia subsequente ao da realização da provas.

- Os recursos deverão ser apresentados, conforme determinado no **item 8 do Edital de Concurso Público nº. 001/2012**, sendo observados os seguintes aspectos:

- a) O candidato que desejar interpor recursos contra os gabaritos oficiais preliminares das provas objetivas disporá de **02 (dois) dias úteis**, a partir do dia subsequente ao da divulgação, em requerimento próprio disponibilizado no *link* correlato ao Concurso Público no *site* **www.consulplan.net**.
- b) A interposição de recursos poderá ser feita **somente via Internet, através do Sistema Eletrônico de Interposição de Recursos**, com acesso pelo candidato com o fornecimento de dados referentes à sua inscrição, apenas no prazo recursal, à **CONSULPLAN**, conforme disposições contidas no site **www.consulplan.net**, no *link* correspondente ao Concurso Público.