

MUNICÍPIO DE BARRA VELHA SANTA CATARINA

CONCURSO PÚBLICO
EDITAL N° 001/2012



Equipe Setorial Técnica
Motorista de Ônibus

TARDE

Organizadora:



CARGO: EQUIPE SETORIAL TÉCNICA – MOTORISTA DE ÔNIBUS

Texto

Algumas palavras

As palavras andam apanhando muito, até mesmo na mão de quem devia saber o respeito que merecem. É como se fosse uma cabala contra a comunicação: o significado das palavras é depreciado, desprezado, trocado, ignorado.

A sério, não é conspiração: falta um esforço deliberado e organizado, devidamente identificado. Por outro lado, há sentido na paranoia: se fosse de propósito, a sabotagem do idioma – que tem seus beneficiários – não seria mais eficiente.

Em algumas áreas, o vocabulário é mínimo, e isso sobrecarrega certas palavras, forçadas a fazer o seu trabalho e o de outras. Diversas morrem de exaustão. Em outros campos, desprezam-se palavras que dão o seu recado com eficiente simplicidade e encantadora sonoridade. São trocadas por exibicionistas peruas polissilábicas, supostamente inteligentes.

(Luis Garcia)

01

De acordo com as ideias do texto, marque V para as afirmativas verdadeiras e F para as falsas.

- () Muitas palavras morrem de exaustão.
- () Certas palavras são forçadas a fazer o trabalho de outras.
- () O significado das palavras é organizado e convencional.

A sequência está correta em

- A) F, F, V
- B) V, F, V
- C) V, V, F
- D) F, V, F
- E) V, V, V

02

Infere-se do texto que

- I. algumas palavras foram perdendo seu sentido original e outras foram criadas desnecessariamente.
- II. a palavra “cabala” significa “conspiração, maquinações.”
- III. nos dias de hoje há mau uso do vocabulário.

Está(ão) correta(s) apenas a(s) afirmativa(s)

- A) I, II, III
- B) II, III
- C) I
- D) II
- E) I, III

03

Em “... não é conspiração: falta um esforço deliberado e organizado, devidamente identificado.”, os dois pontos (:) foram utilizados para

- A) denotar surpresa.
- B) realçar termos deslocados.
- C) marcar uma pequena pausa.
- D) indicar diálogo.
- E) anunciar esclarecimento.

04

De acordo com o texto, o significado das palavras é, EXCETO:

- A) Desprezado.
- B) Depreciado.
- C) Ignorado.
- D) Trocado.
- E) Deliberado.

05

A palavra “eficiente”, no 3º parágrafo do texto, significa

- A) eficaz; ativo.
- B) alegre; divertido.
- C) compacto; reduzido.
- D) desinteressado.
- E) evidente.

06

Em relação à classe de palavras, assinale a alternativa INCORRETA.

- A) “São trocadas por exibicionistas peruas...” (preposição)
- B) “As palavras andam apanhando...” (artigo)
- C) “... não seria mais eficiente.” (verbo)
- D) “É como se fosse uma cabala...” (substantivo)
- E) “... se fosse de propósito...” (adjetivo)

07

“São trocadas por exibicionistas peruas polissilábicas, supostamente inteligentes.” A palavra destacada denota ideia de

- A) intensidade. B) modo. C) tempo. D) negação. E) lugar.

08

As frases transcritas do texto apresentam o mesmo tempo verbal, EXCETO:

- A) “A sério, não é conspiração...” D) “É como se fosse uma cabala...”
 B) “... e isso sobrecarrega certas palavras...” E) “Diversas morrem de exaustão.”
 C) “As palavras andam...”

09

A palavra “apanhando” apresenta

- A) ditongo. B) tritongo. C) hiato. D) dígrafo. E) encontro vocálico.

10

A palavra “mínimo” é acentuada pelo mesmo motivo que a seguinte palavra

- A) há. B) vocabulário. C) é. D) propósito. E) até.

RACIOCÍNIO LÓGICO

11

Cristiane ganhou 3 caixas de bombons e consumiu 4 bombons diariamente. Se sobraram 5 bombons em cada uma das caixas depois de 3 semanas, então o número de bombons contido em cada uma das caixas é

- A) 39. B) 33. C) 42. D) 45. E) 28.

12

Eliminando todos os pares de letras consecutivas do alfabeto na sequência, obtém-se o nome de um(a)

F G V I P Q N S T H O Y Z

- A) cidade. B) bebida. C) animal. D) fruta. E) profissão.

13

Os números de vários documentos foram codificados de forma que cada algarismo de 1 a 9 foi substituído por uma letra do alfabeto, conforme indicado na tabela. Observe.

1	2	3	4	5	6	7	8	9
B	C	D	F	G	H	J	K	L

Considere que para o algarismo zero foi escolhido uma vogal qualquer. Qual das sequências representa um documento formado por algarismos distintos, sendo 3 pares e 2 ímpares?

- A) D H L A G B) H F C U L C) L D G B O D) H D K E B E) C J K L D

14

Num ano bissexto, Diana viajou nos meses pares que terminaram em dia ímpar e nos meses ímpares que terminaram em dia par. Em quantos meses do ano Diana não viajou?

- A) 3 B) 4 C) 5 D) 6 E) 7

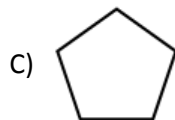
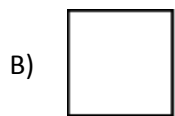
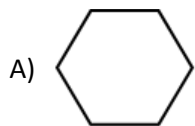
15

Num final de semana choveu na sexta-feira, no sábado e no domingo. Considere que as chuvas tiveram a mesma intensidade e que: na sexta-feira, a chuva começou às 8 horas e 37 minutos e terminou às 9 horas e 13 minutos; no sábado, começou a chover às 13 horas e 51 minutos e terminou às 14 horas e 26 minutos; e no domingo choveu das 21 horas e 42 minutos às 22 horas e 17 minutos. É correto afirmar que

- A) choveu mais no sábado do que no domingo. D) choveu mais no sábado do que na sexta-feira.
 B) sexta-feira foi o dia mais chuvoso. E) domingo foi o dia mais chuvoso.
 C) as chuvas tiveram as mesmas durações nos 3 dias.

16

Qual das figuras NÃO pertence ao grupo?



17

O centésimo terceiro dia de um ano ímpar caiu numa quarta-feira. Em que dia desse ano aconteceu o Natal?

- A) Domingo. B) Terça-feira. C) Sexta-feira. D) Quarta-feira. E) Sábado.

18

O triplo de um número foi somado com o dobro de seu antecessor, e o resultado obtido foi o número 23. O número considerado é

- A) 5. B) 7. C) 9. D) 6. E) 8.

19

Os dois menores ângulos internos de um triângulo medem 30° e 40° . O triângulo em questão é

- A) retângulo. B) isósceles. C) equilátero. D) obtusângulo. E) acutângulo.

20

Seja a sequência C 3; F 6; I 9; L 12; ? ?

As interrogações nessa sequência são corretamente substituídas por

- A) P 18 B) M 16 C) O 15 D) N 14 E) Q 17

CONHECIMENTOS GERAIS

21

“Trata-se de um modo de fazer arte ligado às ideias católicas da contra-reforma, nascido na Itália, característico na pintura e na literatura.” *(Fischer, Luis Augusto. Literatura brasileira – modo de usar. Porto Alegre: L & PM, 2007. p. 120)*

A afirmativa anterior se refere ao movimento artístico Barroco. É característica da literatura barroca

- A) ter por base os relatos para o leitor europeu ou a catequese.
 B) o cultivo da arte antítese, da contradição.
 C) a valorização do individualismo.
 D) o afastamento da realidade, refinamento.
 E) a grande experimentação na busca de uma nova identidade nacional.

22

“Conferiu dignidade às coisas mais triviais, prestigiou a forma simples, a vida do presente. Definiu a importância das culturas nacionais e mudou totalmente a noção do que era ser artista: até então, artista era um sujeito hábil em repetir determinados padrões já assentados na tradição [...], a partir de então, artista é o que inventa.” *(Fischer, Luis Augusto. Literatura brasileira – modo de usar. Porto Alegre: L & PM, 2007. p. 134-135)*

A afirmativa anterior caracteriza o movimento literário denominado

- A) Renascimento. B) Barroco. C) Realismo. D) Romantismo. E) Modernismo.

23

“O SMS é constituído a partir de protocolos telefônicos padronizados dentro do sistema global para comunicações móveis.”

(Revista Como Funciona. Ano 01 – nº 05. São Paulo: Editora On line. pág. 43)

O SMS é uma tecnologia

- A) aplicada em celulares para o serviço de mensagens curtas.
- B) que torna ilimitado o número de caracteres a serem usados em dispositivos móveis.
- C) que possibilita a localização geográfica.
- D) aplicada em aparelhos eletrônicos para aceleração da velocidade da Internet.
- E) desenvolvida para a comunicação militar com restrições para o uso civil.

24

“Nos anos 1970, militares americanos encarregaram o cientista *Ivan Getting* e o professor *Bradford Parkinson* de criar o primeiro GPS, a fim de que seus mísseis pudessem ter maior precisão.”

(Revista Como Funciona. Ano 01 – nº 05. São Paulo: Editora On line. pág. 19)

Sobre *Global Positioning System* (Sistema de Posicionamento Global) – GPS, é correto afirmar que

- I. É um sistema de localização de qualquer objeto na superfície da terra através de sinais de rádio distribuídos por torres interligadas.
- II. É um sistema de localização e orientação em qualquer parte da superfície do planeta.
- III. Funciona a partir de receptores que recebem sinais de satélites.

Está(ão) correta(s) apenas a(s) afirmativa(s)

- A) I
- B) II
- C) III
- D) I, II
- E) II, III

25

Atualmente, as fontes de energia são uma das principais preocupações dos países. Os combustíveis fósseis em meio a tantas críticas têm sido substituídos por outras fontes. Muitos países têm optado por matrizes energéticas mais dinâmicas. Nesse sentido, muitos investimentos são voltados para o desenvolvimento das fontes eólicas. Por fonte de energia eólica entende-se que

- A) é uma forma de usar a radiação solar diretamente para a produção de energia.
- B) é derivada da força do vento.
- C) a força das ondas do mar é utilizada para a produção de energia.
- D) é a energia produzida pelo calor do interior da terra.
- E) é derivada do calor da queima de biomassa.

26

“A história é vital para a formação da cidadania porque nos mostra que, para compreender o que está acontecendo no presente é preciso entender quais foram os caminhos percorridos pela sociedade brasileira; se não parece que tudo começou quando tomamos consciência das nossas vidas.”

(Documentário: A história do Brasil por Boris Fausto – Império. TV Escola. 2002)

São eventos do processo histórico brasileiro, EXCETO:

- A) Guerra do Contestado.
- B) Revolta de Felipe dos Santos.
- C) Conjuração Mineira.
- D) Guerra dos sete anos.
- E) Movimento dos caras-pintadas.

27

Observe a charge.

Sobre a história da política brasileira, identifique o período refletido na charge.

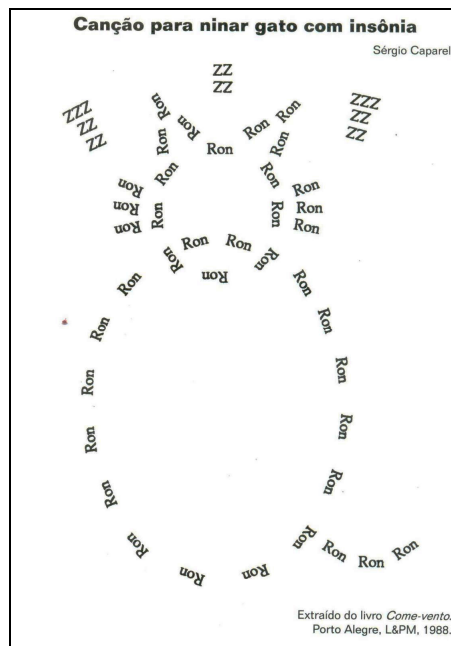
- A) Período democrático de 1950.
- B) Estado Novo.
- C) Primeira República.
- D) Ditadura Militar.
- E) Redemocratização no final da década de 1980.



(Cotrim, Gilberto. História Global – Brasil e Geral. 8 ed. São Paulo: Saraiva, 2005. p. 564)

28

Observe a imagem.



(<http://portaldoprofessor.mec.gov.br/fichaTecnicaAula.html?aula=10460>)

A imagem contém uma representação

- A) da arte modernista.
- B) da arte expressionista.
- C) Surrealista.
- D) da poesia concreta.
- E) do zoroastrismo.

29

Analise as notícias.

- I. Com o Código Florestal nas costas e de olho na Rio +20 no mês que vem, os ministérios do meio ambiente e da casa civil caminham sobre o fio da navalha: estão orientados a derrubar artigos que possam causar desgastes ao país na conferência ambiental. Mas, ao mesmo tempo precisam evitar confronto aberto com ruralistas que provoquem retaliações ao governo no congresso. *(Jornal Estado de Minas. nº 25.655. 02/05/2012. p. 02)*
- II. Com queda de 14% do Produto Interno Bruto (PIB) acumulada desde 2008, os gregos têm pago uma fatura pesada pelo ajuste econômico imposto pelos seus credores. *(Jornal Estado de Minas. nº 25.655. 02/05/2012. p. 11)*

É correto afirmar que

- A) as duas notícias tratam diretamente sobre temas econômicos.
- B) a primeira notícia é de nível internacional, e a segunda nacional.
- C) a primeira notícia tem um caráter econômico, e a segunda político.
- D) as duas notícias refletem realidades latino-americanas.
- E) as notícias possuem, respectivamente, caráter político e econômico.

30

É sabido que o poder no Estado brasileiro é dividido em: executivo, legislativo e judiciário. Sobre o poder legislativo é correto afirmar que

- A) é de sua responsabilidade a implementação, ou execução das leis.
- B) esse poder em um país presidencialista compete ao presidente.
- C) é de sua competência criar leis que regulam o Estado.
- D) possui a capacidade de julgar de acordo com as leis criadas.
- E) possui todos os poderes concentrados sob sua autoridade.

INSTRUÇÕES

1. Material a ser utilizado: caneta esferográfica azul ou preta. Os objetos restantes devem ser colocados em local indicado pelo fiscal da sala, inclusive aparelho celular desligado e devidamente identificado com etiqueta.
2. Não é permitido consulta, utilização de livros, códigos, dicionários, apontamentos, apostilas, calculadoras e etc. Não é permitido ao candidato ingressar na sala de provas sem a respectiva identificação e o devido recolhimento de telefone celular, bip e outros aparelhos eletrônicos.
3. Durante a prova, o candidato não deve levantar-se, comunicar-se com outros candidatos e nem fumar.
4. A duração da prova é de 03 (três) horas, já incluindo o tempo destinado à entrega do Caderno de Provas e à identificação – que será feita no decorrer da prova – e ao preenchimento do Cartão de Respostas (Gabarito).
5. Somente em caso de urgência pedir ao fiscal para ir ao sanitário, devendo no percurso permanecer absolutamente calado, podendo antes e depois da entrada sofrer revista através de detector de metais. Ao sair da sala no término da prova, o candidato não poderá utilizar o sanitário. Caso ocorra uma emergência, o fiscal deverá ser comunicado.
6. O Caderno de Provas consta de 40 (quarenta) questões de múltipla escolha, exceto para os cargos de nível fundamental completo e incompleto em que os Cadernos de Provas constam de 30 (trinta) questões. Leia-o atentamente.
7. **As questões das provas objetivas são do tipo múltipla escolha, com 05 (cinco) opções (A a E) e uma única resposta correta.**
8. Ao receber o material de realização das provas, o candidato deverá conferir atentamente se o Caderno de Provas corresponde ao cargo a que está concorrendo, bem como se os dados constantes no Cartão de Respostas (Gabarito) que lhe foi fornecido, estão corretos. Caso os dados estejam incorretos, ou o material esteja incompleto ou tenha qualquer imperfeição, o candidato deverá informar tal ocorrência ao fiscal.
9. Os fiscais não estão autorizados a emitir opinião e prestar esclarecimentos sobre o conteúdo das provas. Cabe única e exclusivamente ao candidato interpretar e decidir.
10. O candidato poderá retirar-se do local de provas somente a partir dos 90 (noventa) minutos após o início de sua realização, contudo não poderá levar consigo o Caderno de Provas, somente sendo permitida essa conduta apenas no decurso dos últimos 30 (trinta) minutos anteriores ao horário previsto para o seu término.
11. Os 3 (três) últimos candidatos de cada sala somente poderão sair juntos. Caso o candidato insista em sair do local de aplicação da prova, deverá assinar um termo desistindo do Concurso Público e, caso se negue, deverá ser lavrado o Termo de Ocorrência, testemunhado pelos 2 (dois) outros candidatos, pelo fiscal da sala e pelo coordenador da unidade.

RESULTADOS E RECURSOS

- Os gabaritos oficiais preliminares das provas escritas objetivas de múltipla escolha serão divulgados na Internet, no site **www.consulplan.net**, a partir da 00h00min do dia subsequente ao da realização da provas.

- Os recursos deverão ser apresentados, conforme determinado no **item 8 do Edital de Concurso Público nº. 001/2012**, sendo observados os seguintes aspectos:

- a) O candidato que desejar interpor recursos contra os gabaritos oficiais preliminares das provas objetivas disporá de **02 (dois) dias úteis**, a partir do dia subsequente ao da divulgação, em requerimento próprio disponibilizado no *link* correlato ao Concurso Público no site **www.consulplan.net**.
- b) A interposição de recursos poderá ser feita **somente via Internet, através do Sistema Eletrônico de Interposição de Recursos**, com acesso pelo candidato com o fornecimento de dados referentes à sua inscrição, apenas no prazo recursal, à **CONSULPLAN**, conforme disposições contidas no site **www.consulplan.net**, no *link* correspondente ao Concurso Público.