

MUNICÍPIO DE BARRA VELHA SANTA CATARINA

CONCURSO PÚBLICO
EDITAL N° 001/2012



Equipe Setorial Técnica
Administrativa – Vigia

TARDE

Organizadora:



CARGO: EQUIPE SETORIAL TÉCNICA ADMINISTRATIVA – VIGIA

Texto

Algumas palavras

As palavras andam apanhando muito, até mesmo na mão de quem devia saber o respeito que merecem. É como se fosse uma cabala contra a comunicação: o significado das palavras é depreciado, desprezado, trocado, ignorado.

A sério, não é conspiração: falta um esforço deliberado e organizado, devidamente identificado. Por outro lado, há sentido na paranoia: se fosse de propósito, a sabotagem do idioma – que tem seus beneficiários – não seria mais eficiente.

Em algumas áreas, o vocabulário é mínimo, e isso sobrecarrega certas palavras, forçadas a fazer o seu trabalho e o de outras. Diversas morrem de exaustão. Em outros campos, desprezam-se palavras que dão o seu recado com eficiente simplicidade e encantadora sonoridade. São trocadas por exibicionistas peruas polissilábicas, supostamente inteligentes.

(Luis Garcia)

01

De acordo com as ideias do texto, marque **V** para as afirmativas verdadeiras e **F** para as falsas.

- () Muitas palavras morrem de exaustão.
() Certas palavras são forçadas a fazer o trabalho de outras.
() O significado das palavras é organizado e convencional.

A sequência está correta em

- A) F, F, V B) V, F, V C) V, V, F D) F, V, F E) V, V, V

02

Infere-se do texto que

- I. algumas palavras foram perdendo seu sentido original e outras foram criadas desnecessariamente.
II. a palavra “cabala” significa “conspiração, maquinações.”
III. nos dias de hoje há mau uso do vocabulário.

Está(ão) correta(s) apenas a(s) afirmativa(s)

- A) I, II, III B) II, III C) I D) II E) I, III

03

Em “... não é conspiração: falta um esforço deliberado e organizado, devidamente identificado.”, os dois pontos (:) foram utilizados para

- A) denotar surpresa. D) indicar diálogo.
B) realçar termos deslocados. E) anunciar esclarecimento.
C) marcar uma pequena pausa.

04

De acordo com o texto, o significado das palavras é, EXCETO:

- A) Desprezado. B) Depreciado. C) Ignorado. D) Trocado. E) Deliberado.

05

A palavra “eficiente”, no 3º parágrafo do texto, significa

- A) eficaz; ativo. D) desinteressado.
B) alegre; divertido. E) evidente.
C) compacto; reduzido.

06

Em relação à classe de palavras, assinale a alternativa INCORRETA.

- A) “São trocadas por exibicionistas peruas...” (preposição) D) “É como se fosse uma cabala...” (substantivo)
B) “As palavras andam apanhando...” (artigo) E) “... se fosse de propósito...” (adjetivo)
C) “... não seria mais eficiente.” (verbo)

07

“São trocadas por exibicionistas peruas polissilábicas, supostamente inteligentes.” A palavra destacada denota ideia de

- A) intensidade. B) modo. C) tempo. D) negação. E) lugar.

08

As frases transcritas do texto apresentam o mesmo tempo verbal, EXCETO:

- A) “A sério, não é conspiração...” D) “É como se fosse uma cabala...”
 B) “... e isso sobrecarrega certas palavras...” E) “Diversas morrem de exaustão.”
 C) “As palavras andam...”

09

A palavra “apanhando” apresenta

- A) ditongo. B) tritongo. C) hiato. D) dígrafo. E) encontro vocálico.

10

A palavra “mínimo” é acentuada pelo mesmo motivo que a seguinte palavra

- A) há. B) vocabulário. C) é. D) propósito. E) até.

RACIOCÍNIO LÓGICO

11

Cristiane ganhou 3 caixas de bombons e consumiu 4 bombons diariamente. Se sobraram 5 bombons em cada uma das caixas depois de 3 semanas, então o número de bombons contido em cada uma das caixas é

- A) 39. B) 33. C) 42. D) 45. E) 28.

12

Eliminando todos os pares de letras consecutivas do alfabeto na sequência, obtém-se o nome de um(a)

F G V I P Q N S T H O Y Z

- A) cidade. B) bebida. C) animal. D) fruta. E) profissão.

13

Os números de vários documentos foram codificados de forma que cada algarismo de 1 a 9 foi substituído por uma letra do alfabeto, conforme indicado na tabela. Observe.

1	2	3	4	5	6	7	8	9
B	C	D	F	G	H	J	K	L

Considere que para o algarismo zero foi escolhido uma vogal qualquer. Qual das sequências representa um documento formado por algarismos distintos, sendo 3 pares e 2 ímpares?

- A) D H L A G B) H F C U L C) L D G B O D) H D K E B E) C J K L D

14

Num ano bissexto, Diana viajou nos meses pares que terminaram em dia ímpar e nos meses ímpares que terminaram em dia par. Em quantos meses do ano Diana não viajou?

- A) 3 B) 4 C) 5 D) 6 E) 7

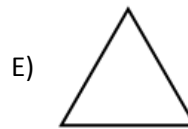
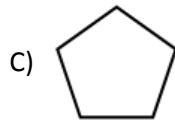
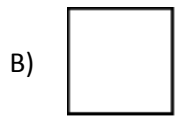
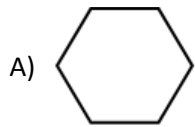
15

Num final de semana choveu na sexta-feira, no sábado e no domingo. Considere que as chuvas tiveram a mesma intensidade e que: na sexta-feira, a chuva começou às 8 horas e 37 minutos e terminou às 9 horas e 13 minutos; no sábado, começou a chover às 13 horas e 51 minutos e terminou às 14 horas e 26 minutos; e no domingo choveu das 21 horas e 42 minutos às 22 horas e 17 minutos. É correto afirmar que

- A) choveu mais no sábado do que no domingo. D) choveu mais no sábado do que na sexta-feira.
 B) sexta-feira foi o dia mais chuvoso. E) domingo foi o dia mais chuvoso.
 C) as chuvas tiveram as mesmas durações nos 3 dias.

16

Qual das figuras NÃO pertence ao grupo?



17

O centésimo terceiro dia de um ano ímpar caiu numa quarta-feira. Em que dia desse ano aconteceu o Natal?

- A) Domingo. B) Terça-feira. C) Sexta-feira. D) Quarta-feira. E) Sábado.

18

O triplo de um número foi somado com o dobro de seu antecessor, e o resultado obtido foi o número 23. O número considerado é

- A) 5. B) 7. C) 9. D) 6. E) 8.

19

Os dois menores ângulos internos de um triângulo medem 30° e 40° . O triângulo em questão é

- A) retângulo. B) isósceles. C) equilátero. D) obtusângulo. E) acutângulo.

20

Seja a sequência C 3; F 6; I 9; L 12; ? ?

As interrogações nessa sequência são corretamente substituídas por

- A) P 18 B) M 16 C) O 15 D) N 14 E) Q 17

CONHECIMENTOS GERAIS

21

“Trata-se de um modo de fazer arte ligado às ideias católicas da contra-reforma, nascido na Itália, característico na pintura e na literatura.” *(Fischer, Luis Augusto. Literatura brasileira – modo de usar. Porto Alegre: L & PM, 2007. p. 120)*

A afirmativa anterior se refere ao movimento artístico Barroco. É característica da literatura barroca

- A) ter por base os relatos para o leitor europeu ou a catequese.
 B) o cultivo da arte antítese, da contradição.
 C) a valorização do individualismo.
 D) o afastamento da realidade, refinamento.
 E) a grande experimentação na busca de uma nova identidade nacional.

22

“Conferiu dignidade às coisas mais triviais, prestigiou a forma simples, a vida do presente. Definiu a importância das culturas nacionais e mudou totalmente a noção do que era ser artista: até então, artista era um sujeito hábil em repetir determinados padrões já assentados na tradição [...], a partir de então, artista é o que inventa.” *(Fischer, Luis Augusto. Literatura brasileira – modo de usar. Porto Alegre: L & PM, 2007. p. 134-135)*

A afirmativa anterior caracteriza o movimento literário denominado

- A) Renascimento. B) Barroco. C) Realismo. D) Romantismo. E) Modernismo.

23

“O SMS é constituído a partir de protocolos telefônicos padronizados dentro do sistema global para comunicações móveis.”

(Revista Como Funciona. Ano 01 – nº 05. São Paulo: Editora On line. pág. 43)

O SMS é uma tecnologia

- A) aplicada em celulares para o serviço de mensagens curtas.
- B) que torna ilimitado o número de caracteres a serem usados em dispositivos móveis.
- C) que possibilita a localização geográfica.
- D) aplicada em aparelhos eletrônicos para aceleração da velocidade da Internet.
- E) desenvolvida para a comunicação militar com restrições para o uso civil.

24

“Nos anos 1970, militares americanos encarregaram o cientista *Ivan Getting* e o professor *Bradford Parkinson* de criar o primeiro GPS, a fim de que seus mísseis pudessem ter maior precisão.”

(Revista Como Funciona. Ano 01 – nº 05. São Paulo: Editora On line. pág. 19)

Sobre *Global Positioning System* (Sistema de Posicionamento Global) – GPS, é correto afirmar que

- I. É um sistema de localização de qualquer objeto na superfície da terra através de sinais de rádio distribuídos por torres interligadas.
- II. É um sistema de localização e orientação em qualquer parte da superfície do planeta.
- III. Funciona a partir de receptores que recebem sinais de satélites.

Está(ão) correta(s) apenas a(s) afirmativa(s)

- A) I
- B) II
- C) III
- D) I, II
- E) II, III

25

Atualmente, as fontes de energia são uma das principais preocupações dos países. Os combustíveis fósseis em meio a tantas críticas têm sido substituídos por outras fontes. Muitos países têm optado por matrizes energéticas mais dinâmicas. Nesse sentido, muitos investimentos são voltados para o desenvolvimento das fontes eólicas. Por fonte de energia eólica entende-se que

- A) é uma forma de usar a radiação solar diretamente para a produção de energia.
- B) é derivada da força do vento.
- C) a força das ondas do mar é utilizada para a produção de energia.
- D) é a energia produzida pelo calor do interior da terra.
- E) é derivada do calor da queima de biomassa.

26

“A história é vital para a formação da cidadania porque nos mostra que, para compreender o que está acontecendo no presente é preciso entender quais foram os caminhos percorridos pela sociedade brasileira; se não parece que tudo começou quando tomamos consciência das nossas vidas.”

(Documentário: A história do Brasil por Boris Fausto – Império. TV Escola. 2002)

São eventos do processo histórico brasileiro, EXCETO:

- A) Guerra do Contestado.
- B) Revolta de Felipe dos Santos.
- C) Conjuração Mineira.
- D) Guerra dos sete anos.
- E) Movimento dos caras-pintadas.

27

Observe a charge.

Sobre a história da política brasileira, identifique o período refletido na charge.

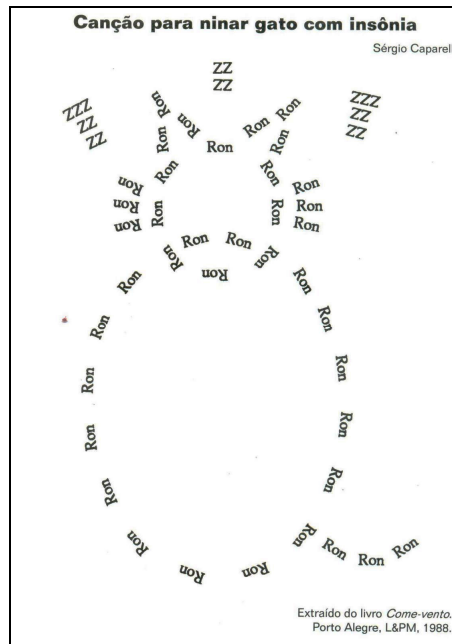
- A) Período democrático de 1950.
- B) Estado Novo.
- C) Primeira República.
- D) Ditadura Militar.
- E) Redemocratização no final da década de 1980.



(Cotrim, Gilberto. História Global – Brasil e Geral. 8 ed. São Paulo: Saraiva, 2005. p. 564)

28

Observe a imagem.



(<http://portaldoprofessor.mec.gov.br/fichaTecnicaAula.html?aula=10460>)

A imagem contém uma representação

- A) da arte modernista.
- B) da arte expressionista.
- C) Surrealista.
- D) da poesia concreta.
- E) do zoroastrismo.

29

Analise as notícias.

- I. Com o Código Florestal nas costas e de olho na Rio +20 no mês que vem, os ministérios do meio ambiente e da casa civil caminham sobre o fio da navalha: estão orientados a derrubar artigos que possam causar desgastes ao país na conferência ambiental. Mas, ao mesmo tempo precisam evitar confronto aberto com ruralistas que provoquem retaliações ao governo no congresso. *(Jornal Estado de Minas. nº 25.655. 02/05/2012. p. 02)*
- II. Com queda de 14% do Produto Interno Bruto (PIB) acumulada desde 2008, os gregos têm pago uma fatura pesada pelo ajuste econômico imposto pelos seus credores. *(Jornal Estado de Minas. nº 25.655. 02/05/2012. p. 11)*

É correto afirmar que

- A) as duas notícias tratam diretamente sobre temas econômicos.
- B) a primeira notícia é de nível internacional, e a segunda nacional.
- C) a primeira notícia tem um caráter econômico, e a segunda político.
- D) as duas notícias refletem realidades latino-americanas.
- E) as notícias possuem, respectivamente, caráter político e econômico.

30

É sabido que o poder no Estado brasileiro é dividido em: executivo, legislativo e judiciário. Sobre o poder legislativo é correto afirmar que

- A) é de sua responsabilidade a implementação, ou execução das leis.
- B) esse poder em um país presidencialista compete ao presidente.
- C) é de sua competência criar leis que regulam o Estado.
- D) possui a capacidade de julgar de acordo com as leis criadas.
- E) possui todos os poderes concentrados sob sua autoridade.

INSTRUÇÕES

1. Material a ser utilizado: caneta esferográfica azul ou preta. Os objetos restantes devem ser colocados em local indicado pelo fiscal da sala, inclusive aparelho celular desligado e devidamente identificado com etiqueta.
2. Não é permitido consulta, utilização de livros, códigos, dicionários, apontamentos, apostilas, calculadoras e etc. Não é permitido ao candidato ingressar na sala de provas sem a respectiva identificação e o devido recolhimento de telefone celular, bip e outros aparelhos eletrônicos.
3. Durante a prova, o candidato não deve levantar-se, comunicar-se com outros candidatos e nem fumar.
4. A duração da prova é de 03 (três) horas, já incluindo o tempo destinado à entrega do Caderno de Provas e à identificação – que será feita no decorrer da prova – e ao preenchimento do Cartão de Respostas (Gabarito).
5. Somente em caso de urgência pedir ao fiscal para ir ao sanitário, devendo no percurso permanecer absolutamente calado, podendo antes e depois da entrada sofrer revista através de detector de metais. Ao sair da sala no término da prova, o candidato não poderá utilizar o sanitário. Caso ocorra uma emergência, o fiscal deverá ser comunicado.
6. O Caderno de Provas consta de 40 (quarenta) questões de múltipla escolha, exceto para os cargos de nível fundamental completo e incompleto em que os Cadernos de Provas constam de 30 (trinta) questões. Leia-o atentamente.
7. **As questões das provas objetivas são do tipo múltipla escolha, com 05 (cinco) opções (A a E) e uma única resposta correta.**
8. Ao receber o material de realização das provas, o candidato deverá conferir atentamente se o Caderno de Provas corresponde ao cargo a que está concorrendo, bem como se os dados constantes no Cartão de Respostas (Gabarito) que lhe foi fornecido, estão corretos. Caso os dados estejam incorretos, ou o material esteja incompleto ou tenha qualquer imperfeição, o candidato deverá informar tal ocorrência ao fiscal.
9. Os fiscais não estão autorizados a emitir opinião e prestar esclarecimentos sobre o conteúdo das provas. Cabe única e exclusivamente ao candidato interpretar e decidir.
10. O candidato poderá retirar-se do local de provas somente a partir dos 90 (noventa) minutos após o início de sua realização, contudo não poderá levar consigo o Caderno de Provas, somente sendo permitida essa conduta apenas no decurso dos últimos 30 (trinta) minutos anteriores ao horário previsto para o seu término.
11. Os 3 (três) últimos candidatos de cada sala somente poderão sair juntos. Caso o candidato insista em sair do local de aplicação da prova, deverá assinar um termo desistindo do Concurso Público e, caso se negue, deverá ser lavrado o Termo de Ocorrência, testemunhado pelos 2 (dois) outros candidatos, pelo fiscal da sala e pelo coordenador da unidade.

RESULTADOS E RECURSOS

- Os gabaritos oficiais preliminares das provas escritas objetivas de múltipla escolha serão divulgados na Internet, no site **www.consulplan.net**, a partir da 00h00min do dia subsequente ao da realização da provas.

- Os recursos deverão ser apresentados, conforme determinado no **item 8 do Edital de Concurso Público nº. 001/2012**, sendo observados os seguintes aspectos:

- a) O candidato que desejar interpor recursos contra os gabaritos oficiais preliminares das provas objetivas disporá de **02 (dois) dias úteis**, a partir do dia subsequente ao da divulgação, em requerimento próprio disponibilizado no *link* correlato ao Concurso Público no site **www.consulplan.net**.
- b) A interposição de recursos poderá ser feita **somente via Internet, através do Sistema Eletrônico de Interposição de Recursos**, com acesso pelo candidato com o fornecimento de dados referentes à sua inscrição, apenas no prazo recursal, à **CONSULPLAN**, conforme disposições contidas no site **www.consulplan.net**, no *link* correspondente ao Concurso Público.