



PREFEITURA MUNICIPAL DE PIRIPIRI

Concurso Público para o Provimento do cargo de

PROFESSOR DE CIÊNCIAS

LEIA AS INSTRUÇÕES:

- 1) Você deve receber do fiscal o material abaixo:
 - a) Este caderno com 40 (quarenta) questões objetivas;
 - b) Um **CARTÃO-RESPOSTA** destinado às respostas objetivas da prova;
- 2) Verifique se este material está completo e se seus dados pessoais conferem com aqueles constantes do CARTÃO-RESPOSTA.
- 3) O candidato só poderá entregar sua prova após 01 (uma) hora do início da mesma.
- 4) O tempo de duração da prova é de 03 (três) horas ininterruptas.
- 5) O candidato não poderá sair com o seu caderno de questões.
- 6) As Provas Objetivas e os gabaritos serão divulgados no segundo dia útil após a realização das mesmas, no endereço eletrônico www.institutoludus.com.br a partir das 18:00h;
- 7) Quando terminar sua prova **ASSINE A LISTA DE PRESENÇA**, entregue ao Fiscal o **Caderno de Questões e sua Folha de Resposta contendo sua assinatura**.
- 8) **Será excluído do certame:**
 - a) Se utilizar, durante a realização da prova, de máquinas ou relógios com a função de calculadora, bem como de rádios gravadores, de "headphones", de telefones celulares ou de fontes de consulta de qualquer espécie;
 - b) For surpreendido em conversa com outros candidatos;
 - c) Se ausentar da sala de realização da prova, levando consigo o Caderno de Questões e, ou, o Cartão-Resposta;
 - d) Deixar de assinar o Cartão-Resposta;
 - e) Perturbar, de qualquer forma o curso de realização da prova.
 - f) Rubricar, abreviar o pré-nome ou o nome, ou assinar com letra de forma o cartão resposta.
 - g) Pintar a parte superior do cartão resposta (inscrição e cargo).
 - 9) Tenha muito cuidado com o CARTÃO-RESPOSTA, para não dobrar, amassar ou manchar, pois este é personalizado e em hipótese alguma poderá ser substituído.
- 10) Para cada uma das questões são apresentadas cinco alternativas classificadas com as letras (A), (B), (C), (D) e (E); somente uma responde adequadamente ao quesito proposto. Você deve assinalar apenas uma alternativa para cada questão: a marcação em mais de uma alternativa anula a questão, mesmo que uma das respostas esteja correta; também serão nulas as marcações rasuradas.

No CARTÃO-RESPOSTA, a marcação das letras correspondentes às respostas de sua opção, deve ser feita com o preenchimento de todo o espaço do campo reservado para tal fim, conforme modelo ex:

- 11) Os fiscais não estão autorizados a emitir opinião nem a prestar esclarecimentos sobre as questões e conteúdo das provas. Cabe única e exclusivamente ao candidato interpretar e decidir a este respeito.
- 12) Por motivo de segurança não será permitido ao candidato fazer uso de qualquer tipo de anotações que não seja o rascunho parte integrante desta Prova que será destacado na hora da entrega pelo fiscal de sala. Caso o candidato seja surpreendido com qualquer outro tipo de anotações em documentos que não seja o previsto acima, será eliminado do certame.

.....
FOLHA DE ANOTAÇÃO DO GABARITO: ATENÇÃO: Esta parte somente deverá ser destacada pelo fiscal da sala, após o término da prova.

01	02	03	04	05	06	07	08	09	10	11	12	13	14	15	16	17	18	19	20
21	22	23	24	25	26	27	28	29	30	31	32	33	34	35	36	37	38	39	40



EM BRANCO

--	--	--	--	--	--

INSCRIÇÃO:

ASSINATURA: _____

Com base no fragmento do texto *Solidariedade*, de Ferreira Gullar, responda às questões 01 e 02.

SOLIDARIEDADE (fragmento)

Certa tarde, a mãe lhe pediu que fosse à rua fazer algumas compras para o jantar. Na esquina adiante, Décio vê caído na calçada um homem que ele, dias atrás, levava até o pronto-socorro do hospital Moncorvo Filho, ali perto: bêbado, ele sangrava com a testa quebrada. Agora, estava ali outra vez, de porre, o esparadrapo na testa. Décio aproximou-se, ajudou-o a se erguer e o aconselhou a ir para casa. O homem, que mal se mantinha em pé, apoiou-se no ombro de Décio. – Onde mora? – perguntou ele ao bêbado. – Ali. – Vou levar você lá – disse Décio, agarrando o homem de modo a poder conduzi-lo. Mal atravessaram a rua, o homem quis entrar no boteco em frente. Décio cedeu, ele pediu duas cachaças, sendo que uma era para o Décio, que não bebe nem chope. – Vai beber, compadre, ou não é meu amigo! Que remédio! Décio deu uma bicada na cachaça ordinária, cuspiu, esperou que o outro engolisse a sua dose e o arrastou para fora do botequim, depois de pagar a bebida com o dinheiro das compras, que, de seu, não tinha um tostão no bolso.

Para encurtar a conversa, chegaram na casa assobradada e velha onde morava o bêbado. Subiu com ele por uma escada íngreme como o Monte Santo, num esforço sobre-humano para evitar que seu protegido rolasse escada abaixo. Ao final da subida, deparou com um cômodo todo dividido

Por tabiques, lençóis estendidos e folhas de jornal, constituindo os diversos “quartos” onde moravam os hóspedes. Mas, no momento, quase todos em cuecas ou nus da cintura pra cima, formavam rodas de jogo: baralho, dama ou dominó. E o bêbado entendeu de apresentar o Décio a todos os presentes, interrompendo-lhes a jogatina. Era repellido com palavrões. Décio, constrangido, pedia desculpas pelo outro. Até que, não se sabe ao certo por quê, a casa foi invadida por policiais armados que levaram todo mundo em cana, inclusive Décio, que não pôde explicar o que fazia naquele antro de marginais.

(FERREIRA, Gullar. *Melhores crônicas*. Seleção Augusto Sérgio Bastos. São Paulo: Global, 2004. p.34-35).

1. Décio decidiu conduzir o bêbado até onde ele morava, porque o bêbado:

- a) era um velho conhecido da família.
- b) encontrava-se gravemente enfermo, com uma ferida aberta na testa.
- c) estava cambaleante e se apoiou no ombro de Décio.
- d) insistiu em apresentá-lo aos familiares.
- e) queria beber cachaça na companhia do amigo.

2. No final da crônica, somos informados que Décio foi preso por não poder explicar o que fazia num antro de marginais. Diante desse desfecho, podemos concluir que o gesto de solidariedade de Décio teve um efeito:

- a) complicador
- b) libertador
- c) amedrontador
- d) pacificador
- e) apaziguador

3. São sinônimos de *botequim*, **EXCETO**:

- a) bodega
- b) boteco
- c) bar
- d) biroasca
- e) bordel

4. Em “evitar que seu protegido rolasse escada abaixo”, a oração destacada classifica-se como uma oração subordinada substantiva:

- a) apositiva
- b) completiva nominal
- c) objetiva indireta
- d) objetiva direta
- e) subjetiva

5. Assinale o item em que **TODAS** as palavras são acentuadas devido à mesma regra de acentuação gráfica.

- a) Décio, caído, remédio.
- b) Décio, remédio, ordinária.
- c) bêbado, íngreme, dominó.
- d) vê, atrás, lençóis.
- e) pôde, cômodo, hóspede.

6. Em “**Agora**, estava **ali** outra vez”, a que classe de palavra pertencem os termos destacados?

- a) conjunção
- b) advérbio
- c) preposição
- d) interjeição
- e) palavra denotativa

7. Em “**Mal** atravessaram a rua, o homem quis entrar no boteco em frente”, o termo destacado é classificado como:

- a) advérbio de causa
- b) advérbio de lugar
- c) locução adjetiva
- d) conjunção subordinativa temporal
- e) conjunção subordinativa final

8. Assinale o item em que **TODAS** as palavras estão grafadas corretamente:

- a) abaixo, embaixada, encaixotar, caixão.
- b) puxar, repuxo, pixação, linchamento.
- c) bucho, bruxo, bruchular, luxo.
- d) deichar, queixo, eixo, enxada.
- e) mecher, mexilhão, mexicano, ameixa.

9. Assinale o item cuja regência verbal **NÃO** obedece à norma culta da língua.

- a) Conduziu-o ao pronto-socorro do hospital Moncorvo Filho.
- b) O bêbado morava em uma casa assobradada e velha.
- c) Décio foi ao boteco a pedido do bêbado.
- d) Décio deparou com um cômodo todo dividido por tabiques.
- e) Décio preferiu ajudar o bêbado do que fazer as compras da mãe.

10. Observe as frases:

- I. São oito horas.
- II. Faltam apenas alguns dias para o Natal.
- III. Fazem cinco meses que estou de regime.

Está (estão) correta(s) quanto ao emprego da concordância verbal:

- a) apenas I
- b) I e II
- c) I e III
- d) II e III
- e) I, II e III

FUNDAMENTOS DA EDUCAÇÃO

11. O inciso I, do artigo 14 da LDB 9394/ 96 aborda sobre a elaboração do projeto pedagógico:

Marque **V** para (verdadeiro) e **F** para (falso), nas seguintes afirmativas:

- () o projeto político pedagógico expressa às perspectivas e as formas de organização do processo educativo na escola.
- () é a ação organizada e prospectiva que articula as práticas pedagógicas das escolas.
- () documento que expressa todos os conteúdos, metodologias e avaliações que serão trabalhados no ano escolar.
- () constitui-se num referencial de procedimentos, atividades, organização administrativa e pedagógica da escola.
- () documento que detalha a prática pedagógica em sala de aula.

A sequência **CORRETA** é:

- a) V, V, V, V, F
- b) F, F, F, F, V
- c) F, V, F, V, F
- d) V, V, F, F, F
- e) V, V, F, V, F

12. Marque a alternativa que apresenta princípios do projeto político pedagógico:

- a) qualidade, participação e objetivo.

- b) qualidade, autonomia e igualdade.
- c) autonomia, objetivo e participação.
- d) igualdade, qualidade e objetivo.
- e) igualdade, autonomia e objetivo.

13. Mediante o planejamento, o homem organiza e disciplina a sua conduta, tornando-se capaz de desempenhar atividades cada vez mais complexas. De acordo com este enfoque, é **CORRETO** afirmar que as etapas do planejamento envolvem:

- a) preparação, execução e aperfeiçoamento.
- b) preparação, execução e orientação
- c) execução, orientação e aperfeiçoamento.
- d) execução, aperfeiçoamento e desempenho.
- e) nenhuma das alternativas.

14. Para Gil (2000), o professor ao elaborar seu plano de ensino, deve utilizar critérios para seleção dos conteúdos de ensino. Sendo eles:

- a) flexibilidade, adequação ao nível dos alunos.
- b) ordenação, flexibilidade e adequação ao nível cognitivo dos alunos.
- c) ordenação, flexibilidade de acordo com a necessidade dos alunos.
- d) flexibilidade, adaptação e ordenação.
- e) adequação com o nível dos alunos, flexibilidade, significação referente às experiências pessoais dos alunos.

15. Para facilitar a aprendizagem dos alunos o professor deve se valer de estratégias, ou seja, dos meios disponíveis tendo em vista a consecução dos seus objetivos. Ao decidir pela aplicação de determinadas estratégias deverá o professor:

- a) certificar-se da adequação de suas estratégias ao conteúdo e ao livro didático.
- b) somente preocupar-se com a adequação aos conteúdos.
- c) adequar as suas estratégias ao aluno e aos objetivos que pretende alcançar.
- d) preocupar-se apenas com os objetivos que pretende alcançar.
- e) diversificar estratégias de acordo com seu interesse pessoal.

16. Luckesi (1994) classifica as tendências pedagógicas associando teoricamente as opções do professor em relação às finalidades sociais da escola. A classificação a que se refere o autor é:

- a) pedagogia tecnicista e a libertadora cognitivista.
- b) pedagogia tecnicista e a pedagogia liberal.
- c) pedagogia liberal e a libertadora cognitivista.
- d) pedagogia progressista e pedagogia tradicional.
- e) pedagogia liberal e a pedagogia progressista.

17. Na concepção de Libâneo (2002), ao tratar do tema democratização do ensino, expressa "é a preparação de

crianças e jovens para a participação ativa na vida social". De acordo com esta afirmativa, o item **CORRETO** é:

- a) a educação escolar socializa o saber e desenvolve as capacidades cognitivas e operativas do aluno para conquista dos direitos de cidadania.
- b) somente o professor promove o desenvolvimento das capacidades intelectuais do aluno.
- c) o poder público e a escola são os únicos responsáveis pelo processo educativo do aluno.
- d) a ação docente limita-se a transmissão de conhecimentos e dispensa o envolvimento com as questões sociais.
- e) ao realizar suas tarefas básicas, a escola e os professores cumprem seu papel educacional.

18. "A inclusão escolar não se restringe à inserção de alunos com necessidades educacionais especiais nas escolas regulares". (Maria Teresa Mantoan, 2003). Para promover uma inclusão real a escola precisa:

- a) organizar classes especiais e planos de ensino adaptados a cada situação do aluno.
- b) manter as mesmas estratégias disponíveis na escola.
- c) evitar a interferência da família nas atividades escolares.
- d) liberar os professores no desenvolvimento de sua programação.
- e) flexibilizar os critérios de admissão e de permanência do aluno na escola.

19. O conhecimento sobre a teoria de Piaget e Vigotsky é importante porque:

- a) ajuda apenas o professor na seleção dos conteúdos de ensino, tendo por base o meio social da criança.
- b) somente se aplica no trabalho com a educação infantil, por facilitar o reconhecimento do que a criança é capaz de fazer.
- c) permite ao professor verificar o potencial do aluno para desenvolver o seu planejamento.
- d) facilita as discussões e reflexões teóricas sobre o papel da escola.
- e) auxilia o professor na definição de sua prática escolar e na compreensão do cotidiano na sala de aula.

20. O ser humano passa por várias etapas durante o seu desenvolvimento. Marque **V** (verdadeiro) e **F** (falso) nas afirmativas abaixo, para as características correspondentes a cada etapa.

- () durante a infância a criança não tem forma humana definida, continua a crescer aceleradamente.
- () em geral na infância predomina o egocentrismo em que os interesses giram em torno de seu mundo e do próprio corpo.
- () a adolescência é um período de transformações, onde o sujeito descobre-se mental, existencialmente e possui idéias próprias.
- () na idade adulta o sujeito faz descobertas do mundo, planeja a vida e estrutura a personalidade.

() a vida adulta caracteriza-se por apresentar responsabilidade social, estabilidade e ritmo de produção.

A sequência **CORRETA** é:

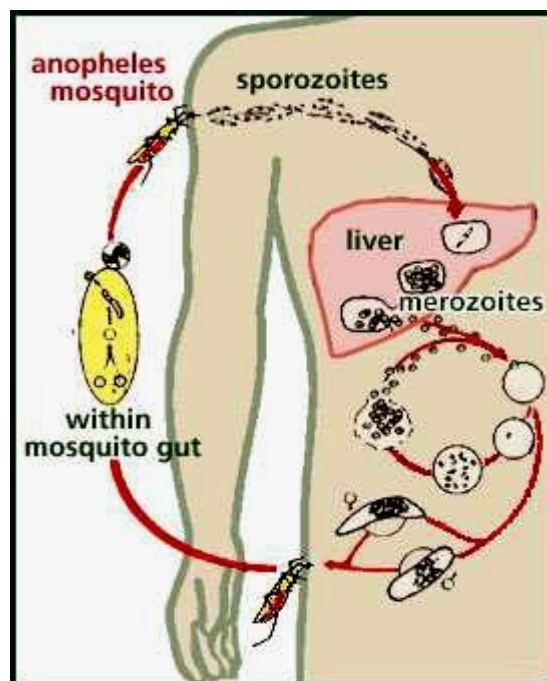
- a) F, V, F, V, F.
- b) V, F, V, V, F.
- c) V, V, F, V, F.
- d) F, V, V, F, V.
- e) F, F, F, V, V.

CONHECIMENTOS ESPECÍFICOS

21. É comum escutarmos falar de uma doença conhecida como diabetes. Vários transtornos são identificados nos pacientes portadores como dificuldade de circulação sanguínea, de cicatrização, má irrigação da retina dentre vários outros problemas. Que hormônio está relacionado à diabetes insípida, ou falsa:

- a) Insulina
- b) ADH
- c) Tiroxina
- d) Adrenalina
- e) Paratormônio

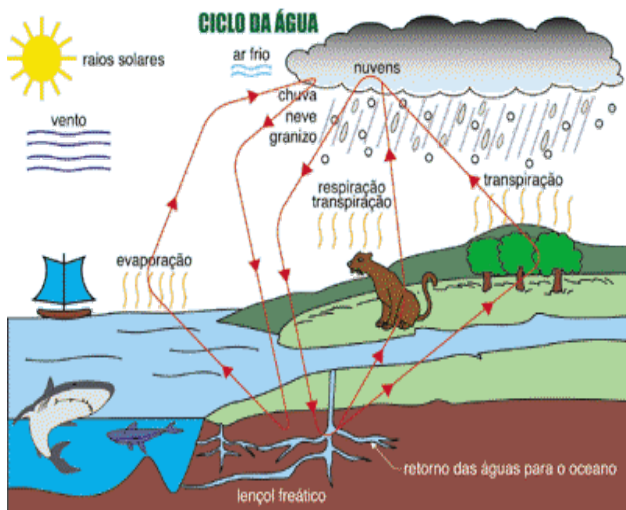
22. Observe o ciclo do parasita abaixo.



Após a análise é correto afirmar:

- a) O parasita é monogenético, pois o único gênero é Plasmodium.
- b) O agente etiológico pertence ao filo Zoomastigofora.
- c) A forma infectante do parasita é o gametócito.
- d) A reprodução sexuada ocorre no interior do mosquito Anófeles.
- e) O homem é o hospedeiro definitivo.

23. A figura a seguir ilustra o ciclo da água na natureza, ressaltando a importância para os seres vivos.

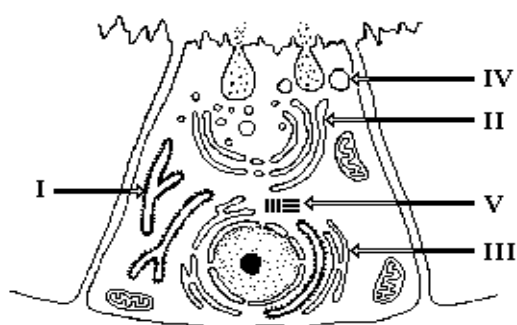


(acesso em 09/07/2011 às 10:00 h; disponível em www2.uol.com.br)

Com base no ciclo apresentado na figura acima entenda-se que:

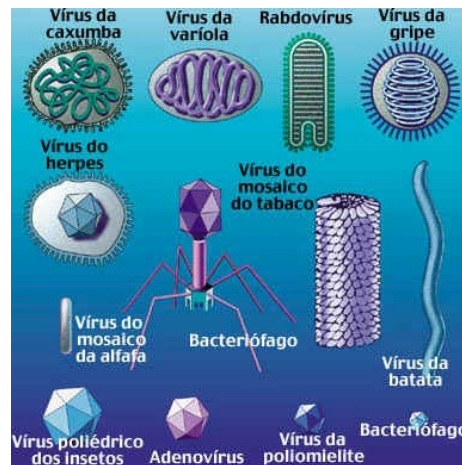
- A transpiração ocorre somente nos animais.
- Os seres vivos participam passivamente do ciclo.
- O maior percentual de evaporação ocorre no meio terrestre.
- Toda água precipitada sofre percolação formando o lençol freático.
- A água presente sob a forma líquida na superfície da terra evapora para a atmosfera.

24. A figura a seguir representa uma célula. É correto afirmar:



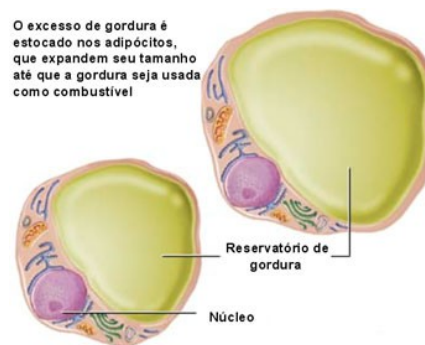
- A estrutura I é o retículo agranular.
- A organela V é responsável pela respiração celular.
- A estrutura III além de transportar substâncias, sintetiza proteínas e carboidratos.
- O acrossomo (região anterior) do espermatozóide é uma diferenciação do II.
- O organóide IV responde pela síntese protéica.

25. Dentre as características em destaque, não podemos atribuir aos vírus:



- Parasitas intracelulares obrigatórios.
- Não se enquadram na teoria celular.
- Possuidores de material genético.
- Desprovidos de um conjunto genômico.
- Além de reproduzir pode evoluir.

26. Observe a célula abaixo e considere as afirmações.



- O tecido formado por essas células é de natureza conjuntiva.
- O tecido é rico em substância intercelular.
- Uma de suas funções é evitar choques mecânicos.

É correto afirmar:

- Todas são corretas
- Todas são incorretas
- Somente I e II corretas
- Somente I e III corretas
- Somente II e III corretas

27. Para um relacionamento sexual seguro é necessário esclarecimento sobre os riscos de doenças que podem surgir quando as medidas preventivas são menosprezadas. Na seqüência foram listadas algumas doenças, onde uma delas é causada por um vírus, o qual a cada dia se alastra no meio dos jovens, inclusive na nossa cidade: Teresina. A doença é:

- Sífilis
- Cancro mole
- Gonorréia
- Linfogranuloma venéreo
- Condiloma acuminado

28. O número de elétrons na camada de valência de um átomo que apresenta número de massa igual a 40 e 23 partículas neutras é:

- a) 2
- b) 3
- c) 5
- d) 6
- e) 7

29. A equação horária dos espaços, durante os primeiros 6 segundos, de um ciclista que se move ao longo de uma pista reta é dada por $x = 4t + t^2$, com x medido em metros e t em segundos.

Qual a sua velocidade escalar no instante $t = 6,0$ s, expressa em Km/h?

- a) 16 Km/h
- b) 32 Km/h
- c) 57,6 Km/h
- d) 74,8 Km/h
- e) 84,6 Km/h

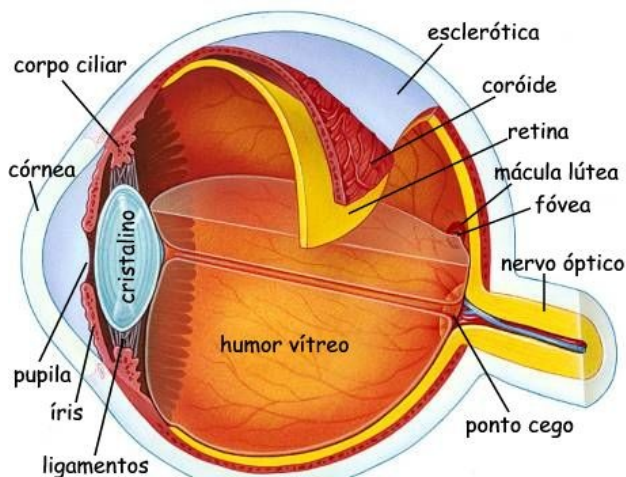
30. Considere as seguintes proposições:

- I. Não existe sistema polifásico formado de vários gases ou vapores.
- II. A água é uma mistura de hidrogênio e oxigênio.
- III. Todo sistema homogêneo é uma mistura homogênea.
- IV. Existe sistema com uma fase formado por vários sólidos.

São verdadeiras as afirmações:

- a) I, II e III.
- b) I e II apenas.
- c) I, II, III e IV
- d) I e IV apenas.
- e) II e III apenas.

31. Comparando o olho humano com uma máquina fotográfica, o papel do filme da máquina seria executado pelo (a):



- a) Cristalino.
- b) Humor vítreo.
- c) Retina.
- d) Íris
- e) Esclerótica

32. De acordo com a teia alimentar aponte o correto:



- a) O ortóptero pertence ao 1º nível trófico
- b) As aves pertencem ao 3º nível trófico
- c) Há três consumidores primários
- d) A quantidade de energia aumenta à medida que se aproxima da serpente
- e) A águia participa de mais de um nível trófico

33. A Família dos Halogênios, conhecida também como _____, é uma das mais conhecidas famílias da Tabela Periódica, os elementos que a compõe são: Flúor (F), Cloro (Cl), Bromo (Br), Iodo (I), Astatato (At). Talvez a popularidade desta família esteja relacionada com a de seus integrantes, o Flúor merece destaque por ser o elemento mais eletronegativo da Tabela Periódica. Além de ser conhecido em um contexto químico também se faz presente em nosso cotidiano. Uma visita ao dentista comprova esta afirmação: aquele gelzinho que tem como objetivo proteger os dentes contra cáries, é sim uma forma do elemento Flúor. O Cloro por sua vez, não fica para trás, se tornou popular em nosso dia a dia. A começar pela água que tomamos, esta é purificada nas ETA's (Estações de tratamento de água) graças a este componente da Família dos Halogênios. Quanto ao Iodo, assim como o Cloro, usado como bactericida. Possui relevada importância no organismo humano, sua carência na alimentação dá origem a problemas de Tireoide. Agora você já sabe por que nosso sal de cozinha é iodado, o elemento foi acrescentado a este tempero com o intuito de prevenir doenças como o Bócio. O Bromo é usado em medicamentos e reações orgânicas e seu vizinho, o

Astato, se revela o “patinho feio da turma dos Halogênios”. Em virtude de ser pouco conhecido (foi considerado o elemento mais raro do mundo), não possui nenhuma aplicação constatada.

A Família em destaque na tabela periódica é representada por:

- a) 1A
- b) 2A
- c) 3A
- d) 6A
- e) 7A

34. Observe as propriedades a seguir:

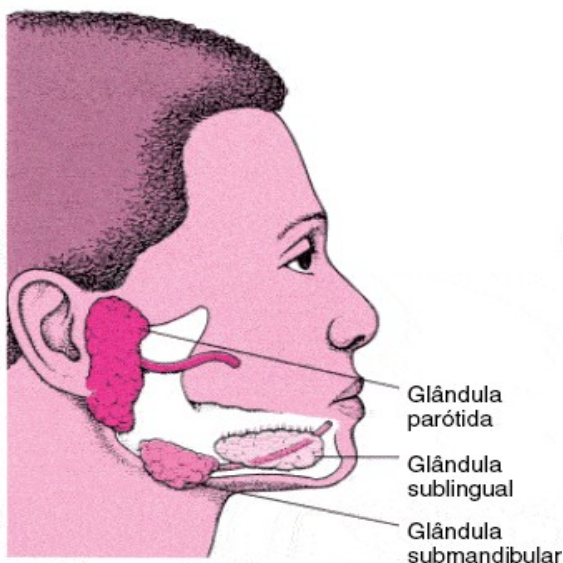
- Têm um sabor azedo (como exemplos: o vinagre deve o seu sabor ao ácido acético, e o limão ao ácido cítrico)
- Causam mudanças de cor nos corantes vegetais (por exemplo: alteram a cor da tintura azul de tornesol, de azul para vermelho).
- Reagem com certos metais (como o zinco, o magnésio e o ferro) produzindo hidrogênio gasoso.
- Reagem com carbonatos e bicarbonatos, para produzir dióxido de carbono gasoso.

Tais propriedades pertencem aos (as):

- a) Óxidos
- b) Sais
- c) Ácidos
- d) Bases
- e) Carboidratos

35. Observando o órgão da figura e marque o que for correto:

Localização das Principais Glândulas Salivares



a) O pH propiciado por essas glândulas é considerado baixo.

- b) A inflamação da parótida leva a um quadro clínico conhecido por bócio.
- c) A enzima presente no suco salivar inicia a quebra do substrato proteína.
- d) A solubilidade dos nutrientes é fundamental na detecção dos sabores pelas papilas gustativas.
- e) As três glândulas em destaque eliminam os produtos no interior da boca, portanto, são consideradas endócrinas.

36. A Câmara de Vereadores de Piripiri, na próxima legislatura, que se inicia em 2013 (eleição em outubro de 2012) terá, no máximo, quantos vereadores?

- a) 9
- b) 10
- c) 11
- d) 13
- e) 15

37. Pelos dados do IBGE e do TSE, mais de(1)..... da população de Piripiri é formada de eleitores. Assim, o município de Piripiri, em 2011, tem, aproximadamente,(2)..... eleitores.

As lacunas (1) e (2) são preenchidas, correta e respectivamente, pelos dados dispostos na alternativa:

- a) 65% – 41.000
- b) 55% – 34.000
- c) 63% – 39.000
- d) 68% – 42.000
- e) 58% – 35.000

38. Leia atentamente o texto seguinte:

“As condições climáticas do município de Piripiri (com altitude da sede a ... (1).... acima do nível do mar), apresentam temperaturas(2)....., com clima quente tropical. A precipitação pluviométrica média anual é definida no Regime Equatorial Marítimo, com isoietas anuais em(3)....., cerca de 5 a 6 meses como os mais chuvosos e período restante do ano de estação seca. O trimestre mais úmido é o formado pelos meses de(4).....”.

(Apud Ministério de Minas e Energia, CPRM, Projeto Cadastro de Fontes de Abastecimento por Água Subterrânea, Diagnóstico do Município de Piripiri, 2004. p.3. Modificado)

Observe que no texto foram retirados termos referentes a elementos geográficos do Município de Piripiri. Assinale, dentre as alternativas seguintes, aquela que indica corretamente os termos retirados do texto.

- a) (1): 160m – (2): mínimas de 20°C e máximas 38°C – (3): entre 1.200 a 1.800mm – (4): janeiro, fevereiro e março.
- b) (1): 60m – (2): mínimas de 26°C e máximas 38°C – (3): entre 800 a 1.600mm – (4): fevereiro, março, abril.
- c) (1): 200m – (2): mínimas de 26°C e máximas 38°C – (3): entre 800 a 1.600mm – (4): janeiro, fevereiro, março.

- d) (1): 250m – (2): mínimas de 26°C e máximas 38°C – (3): entre 600 a 1.000mm – (4): fevereiro, março, abril.
e) (1): 250m – (2): mínimas de 20°C e máximas 40°C – (3): entre 600 a 1.200mm – (4): fevereiro, março, abril.

39. Ele nasceu onde hoje é o “Bairro da Estação”, na cidade de Piripiri. Produziu literatura bastante para memorização de seu nome no cenário cultural do Estado do Piauí. Fundador da APL (Academia Piauiense de Letras). Foi jornalista andarilho, repentista e tribuno ardoroso. Possuía um prelo portátil e em qualquer parte onde estivesse editava seu jornal *A Jornada*, periódico ambulante que manteve por vários anos, sendo ele sozinho, e ao mesmo tempo, redator, revisor e tipógrafo. Redigia, compunha, executava clichês de madeira para ilustrar o jornal e, afinal, o imprimia. Também foi exímio desenhista, pintor, xilógrafo e escultor. O texto acima se reporta a:

- a) Aurélio Dantas
- b) João Freitas Filho (Lolô Freitas)
- c) José Newton de Freitas
- d) Baurélio Mangabeira
- e) Elias de Oliveira.

40. Observe a foto seguinte:



A foto acima, colhida no portal www.vejapiripiri.com (link *historiando*), retrata Rua de Piripiri em algum ano da década de 1940.

Nesta década, anos 40 do século passado, um fato marcante para o Município de Piripiri foi:

- a) a conclusão das obras do açude Caldeirão, construído para barrar as águas do Rio Caldeirão, um afluente do Rio dos Matos.
- b) a pavimentação da BR-343, entre Piripiri e Teresina.
- c) A grande seca, a maior do século XX na região de Piripiri.
- d) A construção da atual Igreja de Nossa Senhora dos Remédios, considerada “o principal cartão postal de Piripiri”, localizada no centro da cidade.
- e) todas as alternativas anteriores são INCORRETAS.

