



# PREFEITURA MUNICIPAL DE PIRIPIRI

## Concurso Público para o Provimento do cargo de



### MONITOR

#### LEIA AS INSTRUÇÕES:

- 1) Você deve receber do fiscal o material abaixo:
  - a) Este caderno com 40 (quarenta) questões objetivas;
  - b) Um **CARTÃO-RESPOSTA** destinado às respostas objetivas da prova;
- 2) Verifique se este material está completo e se seus dados pessoais conferem com aqueles constantes do CARTÃO-RESPOSTA.
- 3) O candidato só poderá entregar sua prova após 01 (uma) hora do início da mesma.
- 4) O tempo de duração da prova é de 03 (três) horas ininterruptas.
- 5) O candidato não poderá sair com o seu caderno de questões.
- 6) As Provas Objetivas e os gabaritos serão divulgados no segundo dia útil após a realização das mesmas, no endereço eletrônico [www.institutoludus.com.br](http://www.institutoludus.com.br) a partir das 18:00h;
- 7) Quando terminar sua prova **ASSINE A LISTA DE PRESENÇA**, entregue ao Fiscal o **Caderno de Questões e sua Folha de Resposta contendo sua assinatura**.
- 8) **Será excluído do certame:**
  - a) Se utilizar, durante a realização da prova, de máquinas ou relógios com a função de calculadora, bem como de rádios gravadores, de "headphones", de telefones celulares ou de fontes de consulta de qualquer espécie;
  - b) For surpreendido em conversa com outros candidatos;
  - c) Se ausentar da sala de realização da prova, levando consigo o Caderno de Questões e, ou, o Cartão-Resposta;
  - d) Deixar de assinar o Cartão-Resposta;
  - e) Perturbar, de qualquer forma o curso de realização da prova.
  - f) Rubricar, abreviar o pré-nome ou o nome, ou assinar com letra de forma o cartão resposta.
  - g) Pintar a parte superior do cartão resposta (inscrição e cargo).
- 9) Tenha muito cuidado com o CARTÃO-RESPOSTA, para não dobrar, amassar ou manchar, pois este é personalizado e em hipótese alguma poderá ser substituído.
- 10) Para cada uma das questões são apresentadas cinco alternativas classificadas com as letras (A), (B), (C), (D) e (E); somente uma responde adequadamente ao quesito proposto. Você deve assinalar apenas uma alternativa para cada questão: a marcação em mais de uma alternativa anula a questão, mesmo que uma das respostas esteja correta; também serão nulas as marcações rasuradas.
- 11) No CARTÃO-RESPOSTA, a marcação das letras correspondentes às respostas de sua opção, deve ser feita com o preenchimento de todo o espaço do campo reservado para tal fim, conforme modelo ex:
- 12) Os fiscais não estão autorizados a emitir opinião nem a prestar esclarecimentos sobre as questões e conteúdo das provas. Cabe única e exclusivamente ao candidato interpretar e decidir a este respeito.
- 13) Por motivo de segurança não será permitido ao candidato fazer uso de qualquer tipo de anotações que não seja o rascunho parte integrante desta Prova que será destacado na hora da entrega pelo fiscal de sala. Caso o candidato seja surpreendido com qualquer outro tipo de anotações em documentos que não seja o previsto acima, será eliminado do certame.

FOLHA DE ANOTAÇÃO DO GABARITO: ATENÇÃO: Esta parte somente deverá ser destacada pelo fiscal da sala, após o término da prova.

01	02	03	04	05	06	07	08	09	10	11	12	13	14	15	16	17	18	19	20
21	22	23	24	25	26	27	28	29	30	31	32	33	34	35	36	37	38	39	40

# EM BRANCO

INSCRIÇÃO:

--	--	--	--	--	--

ASSINATURA:

---

## LÍNGUA PORTUGUESA

01. Analise o texto seguinte:

*O deputado federal Astrobaldo Ferreira recebeu ontem o prefeito Atarxérxes Coriolano em visita de cortesia, onde conversaram sobre as emendas destinadas a Teresina...* (Texto transcrito do jornal Meio Norte, modificado)

Tendo o texto acima como referência, analise as assertivas seguintes:

I. Pelo que estabelece a norma culta da Língua Portuguesa, o termo em destaque está posto incorretamente, visto que o correto seria o emprego do vocábulo **aonde**.

II. Pelo que estabelece a norma culta da Língua Portuguesa, o termo em destaque está posto corretamente.

III. O termo em destaque, posto corretamente, é um advérbio de lugar.

IV. No texto se observa uma expressão que pode ser entendida como um pleonasma vicioso.

Assinale

- a) se todas as assertivas são incorretas.
- b) se apenas uma das assertivas é correta.
- c) se apenas duas das assertivas são corretas.
- d) se apenas três das assertivas são corretas.
- e) se todas as assertivas são corretas.

Leia atentamente o texto seguinte, transcrito de jornal de Teresina(PI). Com fundamento no texto, responda às duas questões seguintes

### Projeto Inovador

O deputado [redacted] anunciou ontem na Assembleia a preparação de um indicativo de projeto de lei que pretende apresentar nas próximas horas, para apreciação da Casa, proibindo a exigência de depósito financeiro, a título de calção, em hospitais da rede pública e privada, para atendimento de pacientes, como acontece atualmente. A ideia do parlamentar

*O deputado (.....) anunciou ontem na Assembleia [Legislativa do Estado do Piauí] a preparação de um indicativo de projeto de lei que pretende apresentar nas próximas horas, para apreciação da Casa, proibindo a exigência de depósito financeiro, a título de calção, em hospitais da rede pública e privada, para atendimentos de pacientes, como acontece atualmente. A ideia do parlamentar.....*

02. Pelo que está posto no texto, analise as seguintes proposições:

I. A linguagem utilizada indica a predominância da função conotativa ou informativa.

II. O texto informa que, no Piauí, hospitais públicos exigem depósito financeiro antecipado para a internação de pacientes.

III. O termo **Casa**, no texto, poderia ser grafado com a inicial minúscula, **c**, pois o vocábulo nomeia um substantivo comum.

IV. No texto, o vocábulo *parlamentar* tem a acepção de *adjetivo de dois gêneros*.

V. O vocábulo *Assembleia*, no texto, tem sua acepção definida por derivação, por metonímia.

Assinale

- a) se todas as assertivas acima estão corretas
- b) se, dentre as assertivas acima, apenas uma é correta.
- c) se, dentre as assertivas acima, apenas duas são corretas.
- d) se, dentre as assertivas acima, apenas três são corretas.
- e) se, dentre as assertivas acima, apenas quatro são corretas.

03. No que tange ao vocábulo **calção**, utilizado no texto

- a) apresenta-se como um cacófono.
- b) indica uma soma, em dinheiro, a ser depositada antecipadamente por paciente ao ser internado em um hospital.
- c) indica uma ambiguidade
- d) materializa um vício de linguagem denominado barbarismo.
- e) é uma palavra primitiva.

04. No que tange aos processos de formação de palavras, relacione as duas colunas seguintes, **A** (indicando processos de formação dessas palavras) e **B** (com algumas palavras).

Coluna A	Coluna B
1. derivação imprópria	( ) refazer
2. derivação parassintética	( ) âncora
3. aglutinação	( ) o fumar
4. primitiva	( ) repatriar
5. justaposição	( ) girassol
6. derivação prefixal	( ) petróleo

De cima para baixo, a sequência correta é:

- a) 6 – 1 – 4 – 2 – 5 – 3
- b) 6 – 4 – 1 – 2 – 3 – 5
- c) 5 – 4 – 3 – 2 – 6 – 1
- d) 6 – 4 – 1 – 2 – 5 – 3
- e) 6 – 4 – 2 – 3 – 5 – 1

05. Leia atentamente o texto seguinte, recortado de jornal de Teresina(PI), de 01 de novembro de 2011.

## Candidato

O ex-prefeito de União, Gustavo Medeiros, que segue no DEM, deverá mesmo ser candidato em 2012.

Embora ainda não seja certo, há grandes chances de ele contar com o apoio do governador Wilson Martins.

Com fundamento no texto colado, analise as seguintes assertivas

I. O texto, *explicitamente*, informa que o Sr. Gustavo Medeiros deverá ser, em 2012, candidato a prefeito de União.

II. Pelo que informa o texto, o Sr. Gustavo Medeiros, ex-prefeito de União, jamais mudou de partido político.

III. Se o texto foi escrito atendendo as regras da nossa Gramática Normativa, o texto, informa, implicitamente, que o Sr. Gustavo Medeiros é o único ex-prefeito de União.

IV. Sem prejuízo das normas gramaticais, o vocábulo “há” pode ser substituído pelo vocábulo “existe”.

Assinale

- a) se, dentre as assertivas acima, apenas uma é correta.
- b) se, dentre as assertivas acima, apenas duas são corretas.
- c) se, dentre as assertivas acima, apenas três são corretas.
- d) se, dentre as assertivas acima, todas são corretas.
- e) se nenhuma das assertivas acima é correta.

**06.** Na Língua Portuguesa nem sempre há correspondência entre sons e letras. Assim, uma mesma letra, dependendo da sua colocação em determinada palavra, pode representar sons distintos. Dentre as alternativas seguintes, indique aquela na qual a letra em destaque representa esse fenômeno:

- a) e**X**perimento – e**X**aminar – tó**X**ico
- b) **S**ábia – Sabiá – Sabia
- c) desfa**Z**er – tra**Z**er – Zelar
- d) e**X**terno – en**X**ame – me**X**er
- e) ca**S**a – abu**S**o – trân**S**ito

**07.** Analise as sentenças seguintes, adaptadas do “Diário Irrefletido”, de Millôr Fernandes.

I. “Este País está dividido entre os cinicamente corruptos e os que não conseguem resistir à tentação”. Eis o porque de tantos desmandos.

II. Observo que “não há canalhas nos cemitérios”. Ao meu ver, a morte não extingue a canalhice.

III. Sempre que ouço alguém dizer que fulano comeu “o pão que o diabo amassou”, tal expressão me soa incompreensível, pois em nenhum lugar da Bíblia ou da História se diz que o Diabo era padeiro.

IV. Justiça pode ser definida como “sistema de leis legalizando a injustiça”. Não sei porque esta insensatez.

Assinale:

- a) se somente uma das assertivas acima apresenta erro de grafia.
- b) se apenas duas das assertivas acima apresentam erros de grafia.
- c) se apenas três das assertivas acima apresentam erros de grafia.
- d) se todas as assertivas acima apresentam erros de grafia.
- e) se todas as assertivas acima **não** apresentam erros de grafia.

**08.** Ao lado de cada oração posta a seguir, é associado o provável *sujeito* desta.

I. Orlando Silva e Antônio Palocci foram “faxinados” pela presidente Dilma. – sujeito composto.

II. São onze horas – sujeito indeterminado.

III. Nada o atrapalha – sujeito simples

IV. Falaram por ele os covardes – sujeito simples

V. Vai fazer dois anos que Pedro e a filha viajaram – oração sem sujeito e oração com sujeito composto.

VI. Quantos vereadores chegaram? – sujeito composto.

Assinale

- a) se apenas uma associação acima é incorreta.
- b) se apenas duas das seis associações postas acima são incorretas.
- c) se apenas três das seis associações postas acima são incorretas.
- d) se apenas quatro das seis associações postas acima são incorretas.
- e) se apenas cinco das seis associações postas acima são incorretas.

**09.** Aponte a alternativa que, segundo a norma culta, apresenta equívoco de concordância.

- a) A revista Caras custa caro.
- b) Joana Machado é teimosa mesmo (Adriano, jogador do Corinthians)
- c) Aquele jogador do Corisabbá, time de futebol de Floriano(PI), recebeu o calção e a chuteira novos.
- d) É necessário certeza.
- e) Ele pediu emprestado cem reais.

**10.** Na oração “Os dois deram um abraço amigo ao filho” observa-se a figura de linguagem denominada

- a) litotes.
- b) catacrese.
- c) sinestesia.
- d) hipálage.
- e) metonímia

## MATEMÁTICA

**11.** Uma sala tem 6 metros de largura por 5 metros de comprimento e deve ser revestida de placas quadradas de borracha com meio metro de lado. A quantidade de placas necessárias é:

- a) 30
- b) 45
- c) 60
- d) 90
- e) 120

**12.** Dois sócios abriram uma empresa. O primeiro deles entrou com R\$ 1.500,00 e o segundo, com R\$ 4.500,00. Após certo tempo, o lucro de R\$ 3.000,00 foi dividido proporcionalmente entre os dois. Neste caso o sócio que investiu mais dinheiro recebeu, em Reais:

- a) 750
- b) 1250
- c) 1750
- d) 2000
- e) 2250

**13.** Dois números estão na razão de 2 para 3. Acrescentando 2 a cada um deles, as somas estão na razão de 3 para 5. Então, o produto dos dois números é:

- a) 90
- b) 96
- c) 180
- d) 72
- e) -124

**14.** Mário diz a Carlos: Dê-me um dentre os seus pôsteres e eu terei tantos quantos lhe sobrarão. Carlos responde: É melhor você me dar um dos seus pôsteres e assim eu ficarei com o dobro dos que lhe restarão.

O número de pôsteres que Mário e Carlos tinham inicialmente é:

- a) 2 e 3
- b) 3 e 5
- c) 5 e 7
- d) 7 e 9
- e) 1 e 3

**15.** A soma de dois números é 400. Dividindo-se o maior por 36 e o menor por 28 obtemos o mesmo quociente e resto zero. Então qual é a raiz quadrada do maior?

- a) 225

- b) 125
- c) 25
- d) 15
- e) 5

**16.** Uma máquina é composta por 40 peças entre eixos, engrenagens e parafusos. Sabe-se que o número de parafusos mais o dobro do número de eixos é igual a 35; e a quinta parte do número de parafusos mais o número de eixos é igual ao número de engrenagens. A quantidade de parafusos é:

- a) 5
- b) 10
- c) 15
- d) 20
- e) 25

**17.** Um grupo de pescadores alugou um bote por 240 reais. Antes da pescaria, dois novos pescadores se juntaram ao grupo, o que reduziu em 4 reais o custo por pessoa. Assim, a quantidade de pescadores que participaram da viagem foi:

- a) 10
- b) 12
- c) 14
- d) 16
- e) 18

**18.** João vai sempre à biblioteca um dia e outro não. Já Maria frequenta menos, pois vai um dia e dois não. Os dois estiveram lá no dia 1º de novembro. O próximo encontro se deu no dia:

- a) 6
- b) 7
- c) 12
- d) 21

e) 30

19. A aresta de determinado cubo mede 2cm. Dobrando-se esta medida o volume do cubo aumentará:

- a) 2 vezes
- b) 4 vezes
- c) 8 vezes
- d) 16 vezes
- e) 64 vezes

20. As raízes de uma função quadrática são 2 e - 3. A expressão que melhor representa esta função é:

- a)  $x^2 + 2x - 3 = 0$
- b)  $x^2 + x - 3 = 0$
- c)  $x^2 + x - 6 = 0$
- d)  $x^2 + 2x - 6 = 0$
- e)  $x^2 + 2x + 3 = 0$

### CONHECIMENTOS ESPECÍFICOS

21. Operando o MS-Word, dentre as alternativas seguintes, indique aquela que, para ser realizada, **NÃO** necessita obrigatoriamente selecionar um texto.

- a) quando se deseja inserir uma figura;
- b) quando da formatação de determinado parágrafo;
- c) quando se deseja deletar parte de um texto;
- d) quando se deseja modificar a fonte;
- e) quando se deseja mover uma frase em determinado texto.

22. Constituem deveres fundamentais inerentes à função do Servidor Público, **EXCETO**:

- a) Exercer suas atribuições com rapidez, perfeição e rendimento.
- b) Ser probo, reto, leal e justo.
- c) Estar atento para atender melhor às pessoas do mais alto escalão da administração pública.
- d) Ter consciência de que seu trabalho é regido por princípios éticos.
- e) Ter respeito à hierarquia.

23. Em relação à atividade de Recreação, podemos citar:

- I. Liderar para que todos participem das atividades lúdicas.
- II. Propiciar a integração dos grupos.
- III. Arbitrar quando for necessário.

IV. Responsabilizar pela integridade física do grupo.

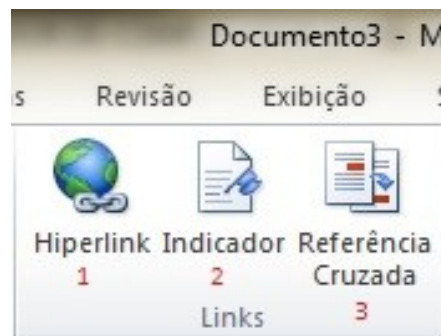
Estão corretas as afirmativas:

- a) I e II
- b) II e III
- c) I, II e III
- d) II, III e IV
- e) I, II, III e IV

24. Em relação a acidentes o Monitor deve ter iniciativa de:

- a) Manter o equilíbrio emocional frente a qualquer situação de emergência.
- b) Demonstrar iniciativa para acionar serviços como: emergência da própria escola, corpo de bombeiros ou polícia.
- c) Operar em tempo mínimo os equipamentos como, alarme de segurança e similares.
- d) Proceder em relação aos primeiros socorros.
- e) Todas as alternativas anteriores completam o enunciado.

25. A barra de ferramentas do MS-WORD possui vários comandos e dentre eles existe o grupo chamado LINKS. De acordo com a figura abaixo, que mostra três comandos numerados de 1 a 3, analise as assertivas a seguir:



- I – O comando Hiperlink (1) tem a função de criar um link para uma página da Web;
- II – O comando Hiperlink (1) tem a função de criar um link para uma imagem, um endereço de e-mail ou um programa;
- III – O comando Indicador (2) tem a função de criar um indicador para atribuir um site para um e-mail desejado;
- IV – O comando Referência Cruzada (3) tem a função de referir-se a itens como títulos, ilustrações e tabelas, inserindo uma referência cruzada.

Assinale a alternativa correta:

- a) se, dentre as assertivas seguintes, uma é incorreta e três são corretas.
- b) se, dentre as assertivas seguintes, duas são incorretas e duas são corretas.
- c) se, dentre as assertivas seguintes, três são incorretas e uma é correta.
- d) se todas são corretas;
- e) se todas são incorretas.

26. Sobre a escala hierárquica da escola, cabe ao Monitor observar:

- a) As diretrizes educacionais da direção da unidade escolar.
- b) As orientações pedagógicas da equipe de supervisão.
- c) O controle do trabalho emanado dos Professores.
- d) A hierarquia específica de cada unidade onde exercerá sua função.
- e) Todas as alternativas anteriores estão corretas.

27. Das assertivas abaixo assinale a que **NÃO** coincide com o tema – Escola Inclusiva:

- a) É a escola que abre espaço para todas as crianças, abrangendo aqueles com necessidades especiais.
- b) Esta discussão faz parte de uma tendência internacional atual.
- c) É uma instituição especializada em crianças com necessidades educativas especiais.
- d) É uma escola onde a pedagogia está centrada na criança, respeitando suas diferenças.
- e) É uma escola que através do diálogo e da não discriminação, contribui para a abertura das oportunidades educativas.

28. Considerando as atribuições do cargo de Monitor, assinale a alternativa correta:

- a) Executar atividades diárias de recreação com crianças e trabalhos educacionais nas diversas áreas.
- b) Acompanhar as crianças em passeios, visitas e festividades sociais.
- c) Observar a saúde e o bem-estar das crianças levando-as quando necessário para atendimento médico.
- d) Orientar os pais ou responsáveis sobre a higiene infantil.
- e) Todas as alternativas anteriores estão corretas.

29. Com base no Estatuto da Criança e do Adolescente, assinale a alternativa **INCORRETA** em relação às entidades de atendimento, destinados a crianças e adolescentes em regime de:

- a) Orientação e apoio sócio-familiar.
- b) Apoio sócio-educativo em meio aberto.
- d) Semi-liberdade..
- c) Liberdade assistida.
- e) Abrigo.

30. Com base na Lei de Diretrizes e Bases da Educação – LDB, especificamente sobre como as escolas poderão se organizar, assinale a alternativa **INCORRETA**:

- a) em séries anuais.
- b) em períodos semestrais.
- c) em séries trimestrais.
- d) em regime de alternância.

e) em ciclos, considerando a idade.

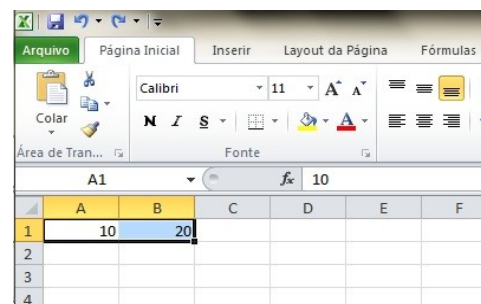
31. O desenvolvimento da identidade e da autonomia dos alunos está ligado de forma muito estreita:

- a) A aferir as diferenças.
- b) Aos laços da afetividade.
- c) À realidade ocupacional.
- d) Aos processos de socialização.
- e) Ao enriquecimento de cada um, de forma individualizada.

32. Assinale a alternativa **INCORRETA** sobre Plano de Aula:

- a) Os planos de aula devem ser diferentes de um período letivo para o outro.
- b) Os planos de aulas devem ser elaborados após o início das aulas, para que o professor possa compreender a necessidade de cada aluno.
- c) Um plano de aula se constrói, se executa e se aperfeiçoa tendo em vista dois pontos fundamentais: 1 – o formalismo da estrutura do plano. 2 – a criatividade para a sequência ao desenvolvimento de valores.
- d) O plano de aula deverá ser preparado integralmente, com uma visão de conjunto, bem como, com o suficiente grau de detalhamento das atividades e objetivos específicos.
- e) O plano de aula é documento importantíssimo na organização do ensino aprendizagem.

33. Utilizando o Excel; se as células A1 e B1 estiverem preenchidas com os valores 10 e 20, respectivamente; selecionando as células A1 e B1, conforme a figura abaixo; depois arrastando a alça da área selecionada até à célula E1; quais serão os valores para as células de A1 a E1, da esquerda para direita?



- a) 10, 20, 10, 20 e 10
- b) 10, 20, 20, 20 e 20
- c) 10, 20, 30, 40 e 50
- d) 10, 20, 40, 80 e 160
- e) 10, 10, 10, 10 e 10

34. Conforme estabelece o Art. 53, do ECA, “A criança e o adolescente têm direito à educação, visando ao pleno desenvolvimento de sua pessoa, preparo para o exercício da

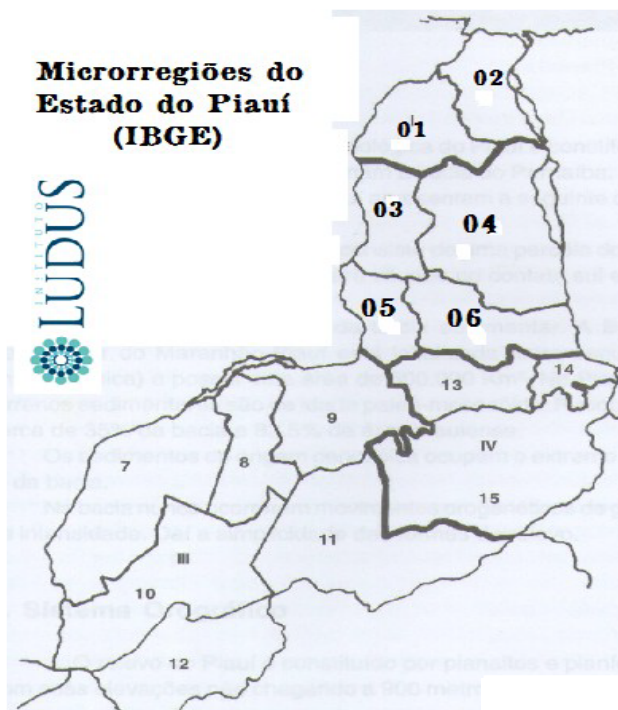
cidadania e qualificação para o trabalho, assegurando-se-lhes, **EXCETO**”:

- a) Acesso à escola pública e gratuita próxima de sua residência;
- b) Direito de ser respeitado por seus educadores;
- c) Ensino fundamental, obrigatório e gratuito, inclusive para os que a ele não tiveram acesso pedagógico, bem como participar da definição das propostas educacionais.
- d) Direito de contestar critérios avaliativos, podendo recorrer às instancias escolares superiores;
- e) Igualdade de condições para o acesso e permanência na escola;

**35.** Quais os fatores que podem incidir favoravelmente na evolução da comunicação e da linguagem:

- a) natural e genéticos
- b) natural e social
- c) social e psicológico
- d) social e orgânico
- e) orgânicos e psicológicos

**36.** Observe o mapa ilustrativo seguinte, constando as áreas compreendidas pelas microrregiões do Estado do Piauí.



O Município de Piri-piri está cravado na microrregião indicada pelo número:

- a) 3
- b) 4
- c) 1
- d) 5
- e) 6

**37.** Pelo que estabelece o IBGE, o Estado do Piauí é dividido em microrregiões e mesorregiões. O Município de Piri-piri está cravado na mesorregião

- a) de Campo Maior
- b) de Teresina
- c) do Baixo Parnaíba Piauiense
- d) do Centro-Norte Piauiense
- e) do Norte Piauiense.

**38.** Assinale a alternativa correta

- a) Piri-piri se situa a Leste de Miguel Alves e a Nordeste de Morro do Chapéu
- b) Piri-piri se situa a Leste de Miguel Alves a Sudeste de Esperantina
- c) Piri-piri se situa a Leste de Boa Hora a Noroeste de Batalha.
- d) Piri-piri se situa a Oeste de Brasileira e a Sudeste de Esperantina.
- e) Piri-piri se situa a Leste de Cabeceiras e ao Norte de Piracuruca.

**39.** Piri-piri: “Cidade piauiense banhada pelo .....(1)....., a situada a 157km ao Norte da capital.

Suas origens vêm das terras encravadas no local denominado “... (2) ....”, sesmaria doada a Antônio Fernandes de Macedo em 1777. (...)

O marco inicial de seu povoamento remonta ao ano de 1844, quando o Padre Francisco Domingos de Freitas e Silva ali construiu uma casa para residir e doou parte de suas terras para erguer uma capela destinada a .....(3).....

(Apud Geografia e História do Piauí, de Joselina Lima Pereira Rodrigues. 4.ª edição. 2007. P. 285)

O texto acima indica três lacunas numeradas. Assinale, dentre as alternativas seguintes, aquela que contém, na ordem, as três expressões que preenchem, corretamente, as lacunas 1, 2 e 3.

- a) rio dos Grossos – Fazendinha – Nossa Senhora Aparecida



- b) rio dos Matos – Fazendinha – Nossa Senhora dos Remédios.
- c) rio dos Matos –Pequizeiro – Nossa Senhora Aparecida.
- d) rio dos Matos – Botica – Nossa Senhora dos Remédios.
- e) rio Santo Antônio – Bocaina – Nossa Senhora dos Remédios.

**40.** O *bioma* dominante no Município de Piripiri é

- a) Caatinga
- b) É zona de transição Cerrado/Caatinga
- c) Cerrado
- d) É zona de transição Caatinga/Cerrado
- e) Região dos cocais.

