

INSTITUTO MACHADO DE ASSIS

Seriedade, compromisso e competência

CARGO

TRATORISTA



1- Material a ser utilizado: caneta esferográfica azul ou preta. Os objetos restantes devem ser colocados em local indicado pelo fiscal da sala, inclusive aparelho celular devidamente cadastrado e etiquetado junto ao fiscal de sala.


2- Ao terminar a conferência do caderno de provas, caso o mesmo esteja incompleto ou tenha qualquer defeito, o (a) candidato (a) deverá solicitar ao fiscal de sala que o substitua, não cabendo reclamação neste sentido após, decorridos 15 minutos da entrega do mesmo. Inclusive devendo o candidato verificar se o cargo em que se inscreveu encontra-se devidamente identificado no caderno de provas.

3- Deve-se marcar no GABARITO/CARTÃO DE RESPOSTAS apenas uma opção em cada questão, com caneta azul ou preta, SEM RASURAS, SEM AMASSÁ-LO, SEM PERFURÁ-LO, caso contrário, a questão será anulada.

4- A duração da prova é de 03 (TRÊS) horas, já incluído o tempo destinado à identificação - que será feita no decorrer da prova – e ao preenchimento do CARTÃO DE RESPOSTAS (GABARITO).

NOME DO CANDIDATO:

Nº DE INSCRIÇÃO:



CONCURSO PÚBLICO

MANHÃ

**NÍVEL
FUNDAMENTAL**

MAIS INFORMAÇÕES:

- Internet: www.institutomachadodeassis.com.br
- Telefone: 0(86) 9986-7981



INSTITUTO MACHADO DE ASSIS - IMA

CONCURSO PÚBLICO DA PREFEITURA MUNICIPAL DE CAMPO ALEGRE DO FIDALGO-PI

01	02	03	04	05	06	07	08	09	10	11	12	13	14	15	16	17	18	19	20
21	22	23	24	25	26	27	28	29	30	31	32	33	34	35	36	37	38	39	40

FOLHA DE ANOTAÇÃO DO GABARITO - ATENÇÃO: Esta parte somente deverá ser destacada pelo fiscal da sala, após o término da prova



LÍNGUA PORTUGUESA

QUESTÕES DE 1 A 10

INSTRUÇÃO:

Para responder a essas questões, assinale APENAS UMA ÚNICA alternativa correta e marque o número correspondente na Folha de Respostas.

Leia esta certidão de nascimento para responder às questões de 1 a 6.



República Federativa do Brasil
REGISTRO CIVIL

Paulo Rezende
Oficial do Registro Civil

Livro A-207 Folha 012Q Termo 076812

CERTIDÃO DE NASCIMENTO

CERTIFICO que, do livro, folha e termo citados de ASSENTO DE NASCIMENTOS, deste ofício, consta que, foi lavrado hoje o assento de nascimento de

CECÍLIA MENDES

do sexo feminino, nascida no dia nove de agosto de dois mil e quatro (09/08/2004), às oito horas e quarenta e cinco minutos (08:45h), na Maternidade Santa Clara, nesta capital.

Filha de **Roberto Mendes**

e de **Carolina Prado Mendes**

ele natural de Belo Horizonte/MG, empresário, nascido em 15/03/1975, portador do RG nº 26.158.964-32; ela natural de São Paulo/SP, do lar, nascida em 18/05/1976, portadora do RG nº 59.623.987-99 residentes e domiciliados à Av. Iguçu, 552, Água Verde, nesta cidade.

São avós paternos: **Haroldo Mendes**

e **Carolina Melo Mendes**

e avós maternos: **Fernando Castro Prado**

e **Elizabete Prado**

Foi declarante: o pai.

Dispensadas as testemunhas, pela apresentação da declaração nº 12597463 de nascido vivo do Ministério da Saúde.

Observação: Termo lavrado nesta data. Primeira via expedida.

O referido é verdade e dou fé.

Curitiba, 09 de Agosto de 2004.



Patrícia Martins
Escrevente



1. Leia os significados das seguintes palavras usadas na certidão de nascimento. Depois, assinale a afirmativa correta:

lavar: 1. sulcar a terra com arado, cultivar; 2. registrar por escrito, escrever, redigir.	assento: 1. objeto ou lugar onde alguém se senta; 2. tampo de cadeira, banco; 3. termo ou ato oficial.
---	---

Na certidão de nascimento, a palavra

- A) **Lavrado** foi usada com o significado 1.
- B) **Assento** foi usada com o significado 2.
- C) **Lavrado** e a palavra **assento** foram usadas com o significado 2.
- D) **Lavrado** foi usada com o significado 2; e a palavra **assento**, com o significado 3.
- E) **Lavrado** não tem significado no quadro acima

2. A certidão de nascimento lida é de Cecília Mendes. Observando os dados numéricos que oficializam o nascimento dessa criança, é incorreto afirmar que:

- A) Até a data em que Cecília nasceu, o cartório já havia preenchido completamente 206 livros de registro de nascimentos;
- B) Cecília faz aniversário em 9 de agosto;
- C) Cecília nasceu no período da noite;
- D) Na data em que Cecília nasceu, a mãe dela tinha 28 anos;
- E) Nenhuma das alternativas está correta

3. Analisando os nomes dos pais e avós de Cecília, é correto afirmar que:

- A) O sobrenome de Cecília veio da avó materna e do avô paterno.
- B) O nome de solteira da mãe de Cecília era Carolina Prado Mendes.
- C) Caso Cecília também usasse o sobrenome dos avós maternos, seu nome completo seria Cecília Prado Mendes.
- D) O sobrenome Mendes veio da mãe de Cecília.
- E) O nome do pai de Cecília era composto por mais de três sobrenomes.

4. Releia os seguintes trechos da certidão, observando as palavras em destaque:

I. Certifico que, do livro, folha e termo citados de ASSENTO DE NASCIMENTOS, deste ofício, consta que foi lavrado **hoje** o assento de nascimento de CECÍLIA MENDES.

II. ... nascida no dia nove de agosto de dois mil e quatro (09/08/2004), às oito horas e quarenta e cinco minutos (08:45h), na Maternidade Santa Clara, **nesta** capital.

III. ... residentes e domiciliados à Av. Iguazu, 552, Água Verde, **nesta** cidade.

IV. Observação: Termo lavrado **nesta** data. Primeira via expedida.

Assinale a alternativa incorreta:

- A) No trecho I, a palavra em destaque se refere ao dia 09 de agosto de 2004.
- B) No trecho II, a palavra em destaque se refere à cidade de São Paulo.
- C) No trecho III, a palavra em destaque se refere à cidade de Curitiba.
- D) No trecho IV, a palavra em destaque se refere ao dia 09 de agosto de 2004.
- E) No trecho I a palavra em destaque se refere à maternidade.



5. Considerando as palavras que indicam os locais de nascimento de Cecília e de sua família, assinale a afirmativa correta:
- A) Cecília é curitibana
 - B) A mãe de Cecília é mineira.
 - C) O pai de Cecília é pernambucano.
 - D) Cecília e seus pais são paranaenses.
 - E) Os avós paternos de Cecília são paulista
6. O nascimento especificado no registro foi de **Cecília**, esta palavra é um substantivo classificado como:
- A) Comum
 - B) Próprio
 - C) Coletivo
 - D) Composto
 - E) Derivado
7. Assinale a alternativa em que há um dígrafo.
- A) Assento
 - B) Ofício
 - C) Feminino
 - D) Maternidade
 - E) Empresário
8. Em que alternativa há um encontro vocálico?
- A) Saúde
 - B) Filha
 - C) Lavrado
 - D) Nascimento
 - E) Domiciliado
9. Assinale a alternativa em que todas as palavras tenham encontro consonantal.
- A) Livro – lavrado – quatro – primeira
 - B) Clara – empresário – domiciliados
 - C) Natural – portador – pela – foi
 - D) Expedida – declaração – avós
 - E) Capital – horas – hoje – agosto
10. O nascimento é registrado em um **livro**. Se desta última palavra formarmos a palavra **livraria** podemos classificar esta última como um substantivo:
- A) Primitivo
 - B) Próprio
 - C) Composto
 - D) Derivado
 - E) Coletivo



CONHECIMENTOS ESPECÍFICOS

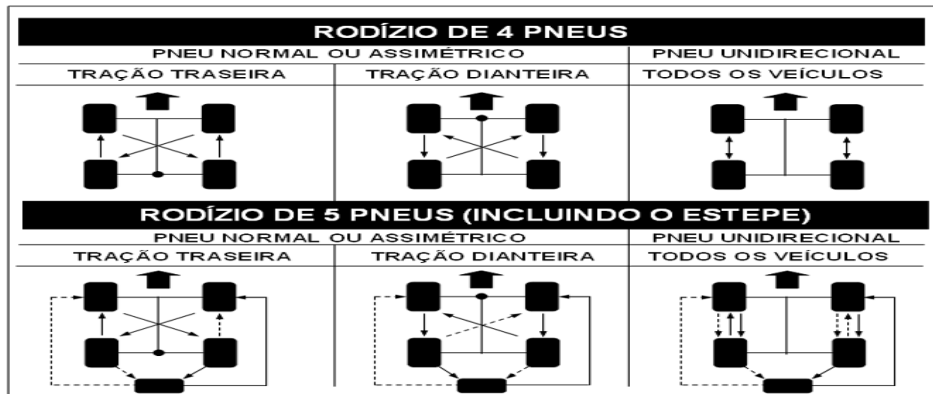
QUESTÕES DE 11 A 30

11. De acordo com o novo código de Trânsito Brasileiro, no que se refere às regras gerais para circulação de veículos Assinale a alternativa **INCORRETA**. Os usuários ou condutor das vias terrestres devem:
- A) Abster-se de todo ato que possa constituir perigo ou obstáculo para o trânsito de veículos, de pessoas ou de animais, ou ainda causar danos a propriedades públicas ou privadas;
 - B) Abster-se de obstruir o trânsito ou torná-lo perigoso, atirando, depositando ou abandonando na via objetos ou substâncias, ou nela criando qualquer outro obstáculo.
 - C) Antes de colocar o veículo em circulação nas vias públicas, verificar a existência e as boas condições de funcionamento dos equipamentos de uso obrigatório, bem como assegurar-se da existência de combustível suficiente para chegar ao local de destino.
 - D) A todo o momento, ter domínio de seu veículo, dirigindo-o com atenção e cuidados indispensáveis à segurança do trânsito.
 - E) Sempre que estiver atrasado ou com pressa de chegar a algum lugar, trafegar de forma perigosa, pois não há nada que o impeça no código de trânsito brasileiro.
12. O trator é também um veículo e o seu condutor está sujeito a se envolver em acidentes, como também se deparar a qualquer momento com um, portanto ao socorrer corretamente uma vítima de acidente deve-se levar em consideração em primeiro lugar:
- A) Uma lesão cerebral
 - B) Uma possível parada cardíaca
 - C) A obstrução das vias aéreas
 - D) Uma possível amputação de um órgão
 - E) Vários sangramentos
13. Assinale a alternativa **INCORRETA** para a seguinte situação: Onde não existir sinalização regulamentadora, a velocidade máxima nas vias urbanas será de:
- A) Oitenta quilômetros por hora, nas vias de trânsito rápido;
 - B) 80 quilômetros por hora nas vias locais sem movimento
 - C) Sessenta quilômetros por hora, nas vias arteriais;
 - D) Quarenta quilômetros por hora, nas vias coletoras;
 - E) Trinta quilômetros por hora, nas vias locais;



14. Observe a figura abaixo sobre a troca e rodízio de rodas e analise os itens abaixo:

Esquemas de Rodízio Recomendados



**Linhas sólidas: trocas recomendadas;
Linhas tracejadas: trocas alternativas**

- I. O rodízio de pneus é um recurso para equalizar o desgaste dos pneus e fazer com que os mesmos durem mais.
- II. O rodízio existe porque os pneus do carro não se desgastam uniformemente. Os da frente costumam ter vida útil menor que os de trás, pois são submetidos a maiores esforços, provocados pelo sistema de direção e também de tração, que é dianteira na grande maioria dos automóveis. Então, em determinado ponto, troca-se os componentes de eixo, para equilibrar a vida útil.
- III. Muitos fabricantes de pneus recomendam o rodízio a cada 10 mil quilômetros. Esse prazo vale como parâmetro, mas não deve necessariamente ser seguido à risca, pois o desgaste pode sofrer variações em função do tipo de condução e das características relativas às vias pelas quais o automóvel circula. Assim sendo, é indispensável fazer inspeções visuais para conferir o estado dos pneus e constatar se já é hora de adotar o procedimento.
- IV. O esquema acima, válido para veículos de tração dianteira, mostra como fazer o rodízio em carros equipados com pneus normais e unidirecionais. Esses últimos só podem rodar em um sentido e são comuns apenas em modelos de maior desempenho. Se o seu veículo tiver tração traseira, a ação é diferente: os pneus posteriores devem ser levados para frente em linha reta, enquanto os anteriores vão para trás de forma cruzada. Se a tração for integral, basta mudar os componentes de lugar fazendo um "X".

Após análise dos itens acima se pode concluir que estão corretas somente em:

- A) I, II e III
- B) III e IV
- C) I e III
- D) I, II, III e IV
- E) II, III e IV

15. De acordo com o novo Código de Trânsito Brasileiro em seu art. 87. Os sinais de trânsito classificam-se em, **EXCETO**:

- A) Pontuais e mecânicos
- B) Verticais e horizontais;
- C) Dispositivos de sinalização auxiliar;
- D) Luminosos e sonoros;
- E) Gestos do agente de trânsito e do condutor.



16. As placas abaixo representam, respectivamente:



- A) Dê a Preferência - Mão Dupla - Conserve-se à Direita.
- B) Passagem Obrigatória - Siga em Frente ou à Esquerda - Siga em Frente ou à Direita
- C) Veículos Lentos. Use Faixa da Direita - Sentido Obrigatório - Passagem Obrigatória
- D) Siga em Frente ou à Esquerda - parada nos dois sentidos - vire à direita
- E) Proibido Ultrapassar pela direita - Dê preferência - ônibus circulando a direita

17. A velocidade máxima permitida para a via será indicada por meio de sinalização, obedecidas as suas características técnicas e as condições de trânsito. Onde não existir sinalização regulamentadora, a velocidade máxima nas vias rurais será de:

- A) Nas rodovias: cento e dez quilômetros por hora para automóveis e camionetas;
- B) Nas rodovias noventa quilômetros por hora, para ônibus e micro-ônibus;
- C) Nas rodovias oitenta quilômetros por hora, para os demais veículos;
- D) Nas estradas, sessenta quilômetros por hora.
- E) Nas estradas, com pouco movimento, oitenta quilômetros por hora.

18. O Certificado de Licenciamento Anual será expedido ao veículo licenciado, vinculado ao Certificado de Registro, no modelo e especificações estabelecidos pelo:

- A) CETRAN
- B) DNIT
- C) CIRETRAN
- D) CONTRANDIFE
- E) CONTRAN

19. Primeiros Socorros são procedimentos, cuidados imediatos e imprescindíveis, que precisam ser prestados as vítimas de acidentes, antes da chegada do atendimento médico. O atendimento imediato, a presteza e atuação correta do socorrista, podem ser vitais para a vítima e até evitar consequência graves. Sobre isso assinale a alternativa INCORRETA.

- A) Cuide de sua segurança - O veículo deve estar posicionado em um local seguro e somente desembarcar pessoas que tenham condições de ajudar.
- B) Não peça ajuda – procure agir sozinho, principalmente na remoção ou movimentação de veículos ou objetos pesados, outras pessoas podem atrapalhar.
- C) Sinalize e isole o local do acidente - Use triângulo, galhos de árvores ou outros objetos que devem ser colocados a uma distância segura do local.
- D) Não tome nenhuma atitude antes de examinar - observe bem o acidente para melhor se informar e saber o que fazer, além de prestar melhores esclarecimentos ao atendimento médico.
- E) Se estiver escuro não use fósforos ou qualquer objeto inflamável - No caso de vazamento de gases pode provocar incêndios.



20. Esta é uma placa de advertência. Ao encontrá-la você entende que:



- A) Estreitamento de Pista à Esquerda
- B) Pista Estreita
- C) Estreitamento de Pista à Direita
- D) Início de Pista Dupla
- E) Mão Dupla Adiante

21. Manutenção Preventiva é aquela realizada antes do veículo quebrar, ou apresentar um defeito, pois os sistemas e peças vitais são verificados, trocados ou reparados antes que quebrem. Coloque V(verdadeiro) e F(Falso), em seguida assinale a alternativa correta com a sequência de cima para baixo.

- () As pastilhas e lonas de freio devem ser verificadas a cada 10.000 km para evitar que o seu total desgaste cause danos aos discos e tambores aumentando os custos de manutenção. Proporcionando maior segurança aos ocupantes do veículo.
 - () O fluido de freio deve ser trocado uma vez ao ano.
 - () A contaminação por umidade pode fazer com que o fluido entre em ebulição nos casos em que o freio é mais solicitado e sofre aquecimento (descida de serra) criando bolhas de ar e diminuindo a eficiência dos freios.
 - () A contaminação ao fluido causa problemas de corrosão e vazamentos em seus componentes, aumentando os custos de reparos.
- A) V – F – V – F
 - B) F – F – V – V
 - C) V – V – F – F
 - D) V – V – V – V
 - E) F – F – F – F

22. Dirigir veículo sem possuir Carteira Nacional de Habilitação ou Permissão para Dirigir o condutor:

- A) Cometeu uma infração gravíssima e a penalidade será: multa multiplicada por três e ainda terá seu veículo apreendido.
- B) Cometeu uma infração grave e a penalidade será: multa e remoção de seu veículo.
- C) Cometeu uma infração média e a penalidade será apenas a apreensão do veículo.
- D) Cometeu uma infração gravíssima e a penalidade será advertência pelo diretor do DETRAN.
- E) Cometeu uma infração grave e a penalidade será: multa multiplicada por três e ainda terá seu veículo apreendido.

23. Se o motorista dirigir com a validade da Carteira Nacional de Habilitação vencida há mais de trinta dias comete uma infração:

- A) Leve
- B) Média
- C) Grave
- D) Gravíssima
- E) Levíssima



24. Os veículos destinados a socorro de incêndio e salvamento, os de polícia, os de fiscalização e operação de trânsito e as ambulâncias, além de prioridade de trânsito, gozam de livre circulação, estacionamento e parada, quando em serviço de urgência e devidamente identificados por dispositivos regulamentares de alarme sonoro e iluminação vermelha intermitente, observadas as seguintes disposições, **EXCETO**:
- A) Quando os dispositivos estiverem acionados, indicando a proximidade dos veículos, todos os condutores deverão deixar livre a passagem pela faixa da esquerda, indo para a direita da via e parando, se necessário;
 - B) Os pedestres, ao ouvir o alarme sonoro, deverão aguardar no passeio, só atravessando a via quando o veículo já tiver passado pelo local;
 - C) O uso de dispositivos de alarme sonoro e de iluminação vermelha intermitente só poderá ocorrer quando da efetiva prestação de serviço de urgência;
 - D) A prioridade de passagem na via e no cruzamento deverá se dar com velocidade reduzida e com os devidos cuidados de segurança, obedecidas as demais normas do Código de trânsito.
 - E) Os veículos prestadores de serviços de utilidade pública, quando em atendimento na via, gozam em igualdade de condições com os outros veículos em parada e estacionamento no local da prestação de serviço, mesmo que devidamente sinalizados e identificados na forma estabelecida pelo CONTRAN;
25. A segurança na direção de um veículo depende:
- A) Da categoria da CNH
 - B) Do comportamento adequado do condutor
 - C) Da marca do veículo
 - D) Do licenciamento do veículo
 - E) Dos pedestres
26. O condutor que ultrapassar outro veículo pelo acostamento, comete uma infração:
- A) Leve B) Média C) Grave D) Gravíssima E) Levíssima
27. Em caso de acidente em que a vítima apresenta fratura fechada você deve fazer, **EXCETO**:
- A) Cobrir a área lesada com pano ou algodão
 - B) Imobilizar o membro com talas ou apoios adequados
 - C) Movimentar ao máximo a vítima isso é indispensável
 - D) Fixar as talas com ataduras ou tiras de pano, de maneira firme, mas sem apertar.
 - E) Remover o acidentado para o hospital mais próximo.
28. A figura abaixo indica a troca de óleo no motor de um veículo. Coloque V(Verdadeiro) e F(Falso), a seguir assinale a alternativa com a sequência correta de cima para baixo.





- () a função do lubrificante é aumentar o atrito entre as peças móveis dentro do motor e assegurar o bom funcionamento.
- () O fluido deve manter suas características de lubrificação sob as mais diversas condições, sejam climáticas ou formas de uso.
- () Com o passar do tempo, o óleo do motor tende a aumentar sua viscosidade - característica principal no lubrificante -, encarregada de fazer com que o óleo permaneça por mais tempo revestindo as peças que estão em contato dentro do motor.
- () Muitas pessoas têm o hábito de só completar o óleo quando este está abaixo do limite, sendo que o mais adequado é fazer a troca completa do lubrificante.
- () Se não for substituído, o óleo fica mais sujo que o normal, já que além de lubrificar ele também tem a função de eliminar determinados resíduos da combustão – queima do combustível - e isso compromete a viscosidade.
- () O correto é fazer as trocas dentro dos limites de quilometragem estabelecidos para cada tipo de óleo.
- A) F – V – F – F – V – F
- B) V – F – F – F – F – V
- C) V – V – F – V – V – V
- D) F – V – F – V – V – V
- E) F – F – F – F – F – V

29. Todo condutor, antes de mudar de direção deverá:

- A) Buzinar bastante
- B) Piscar os faróis
- C) Acender os faróis altos
- D) Dirigir-se para a direita
- E) Ligar os dispositivos indicadores de direção

30. Encontrando as placas abaixo segundo o código de trânsito, quais são as placas de serviços auxiliares?




I.



II.



III.



IV



V

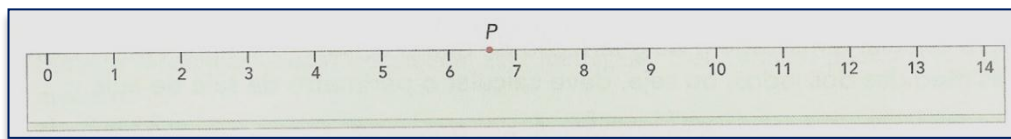
- A) I
- B) II
- C) III
- D) IV
- E) V



MATEMÁTICA

QUESTÕES DE 31 A 35

31. Em uma régua graduada, como mostra a figura abaixo, o ponto P pode representar que valor?



- A) 5,8 cm B) 6,6 cm C) 7,4 cm D) 8,2 cm E) 2,6 cm

32. A mãe de Rodrigo deseja comprar pratinhos descartáveis que vem embalado por dúzia. Quantas embalagens serão necessárias, se ela precisar comprar um pratinho para cada um dos 108 convidados?

- A) 6 embalagens C) 10 embalagens E) 8 embalagens
 B) 9 embalagens D) 7 embalagens


33. A Escola Municipal Torquato Neto fez um bazar e arrecadou R\$ 2.210,00. Esse valor será usado para reformar o piso de 17 salas com o mesmo tamanho. Quanto será gasto na reforma de cada sala?

- A) R\$ 110 B) R\$ 120 C) R\$ 130 D) R\$ 140 E) R\$ 150

34. Álvaro é 15 anos mais velho, que sua amiga Alice. Somando as idades dos dois, resulta em 85 anos. Quantos anos tem cada um?

- A) Álvaro tem 50 anos e Alice tem 15 anos
 B) Álvaro tem 40 anos e Alice 25 anos
 C) Álvaro tem 70 anos e Alice 25 anos
 D) Álvaro tem 45 anos e Alice 20 anos
 E) Álvaro tem 60 anos e Alice 35

35. Observe o cheque abaixo nele está expresso o valor a ser pago em algarismos como se escreve por extenso essa quantia?



- A) Trinta mil quinhentos e oitenta centavos
 B) Trinta e cinco mil quinhentos e oitenta centavos
 C) Três mil quinhentos e vinte oito reais
 D) Três mil quinhentos e vinte reais e oitenta centavos.
 E) Três milhões quinhentos e vinte reais e oitenta centavos

**CONHECIMENTOS LOCAIS / GERAL ATUALIDADE QUESTÕES DE 36 A 40**

36. Depois de ficar detida pelo serviço de imigração de um país da Europa, Dionísia Rosa da Silva voltou ao Brasil e desembarcou no Aeroporto de Guarulhos. Esse foi o estopim para que o Brasil anunciasse que finalmente passará a adotar a reciprocidade com este país e que terá regras mais rígidas para a entrada deles no Brasil. São as mesmas exigidas dos brasileiros: comprovantes para reservas de hotéis, passagens de ida e volta e provar que têm recursos para se manter no Brasil pelo período da estada. O país em questão é:

- A) Inglaterra
- B) Alemanha
- C) Espanha
- D) França
- E) Irlanda

37. Recentemente uma notícia na economia chamou atenção da população brasileira com consequência dessa medida econômica alguns especialistas acreditam que vai gerar as características abaixo:

- I. Vai estimular o endividamento
- II. O cliente vai procurar pelo banco que oferece crédito mais barato
- III. O cliente vai migrar a dívida para o banco que tenha melhores condições.

Pelas características acima a notícia anunciada foi a seguinte

- A) Perdão de dívidas
- B) Reduções de juros pelos bancos
- C) Aumento de salários em 50%
- D) Descapitalização do patrimônio bancário
- E) Retenção da Caderneta de poupança

38. Leia o seguinte trecho de uma entrevista do diretor da ONG SOS Mata Atlântica, Mauro Mantovani.

Ele disse que aprovação é uma "tragédia anunciada" com impacto muito negativo às vésperas da Conferência das Nações Unidas sobre Desenvolvimento Sustentável, a Rio+20. "Hoje 80% das terras estão nas mãos de menos de 20% dos proprietários rurais. São esses que querem anistia e fazer um cadastro irreal em prefeituras para continuar ocupando terras de forma irregular e tendo financiamento público".

A aprovação a que ele se refere aconteceu na Câmara dos Deputados em Brasília. Os deputados Federais aprovaram:

- A) Uma nova Lei de Educação
- B) O novo Código de Trânsito
- C) O Código Florestal
- D) A redução dos juros Bancários
- E) A Regulamentação da Copa

39. Quanto aos aspectos econômicos Campo Alegre do Fidalgo se destaca pela produção na agricultura de:

- A) Fumo - milho
- B) Café - soja
- C) Milho – mandioca
- D) Laranja – mandioca
- E) Arroz – soja

40. A cidade de Campo Alegre do Fidalgo está situada na região Sudeste Piauiense, especificamente na:

- A) Microrregião do Alto-Médio Canindé.
- B) Microrregião do Alto Médio Gurgueia
- C) Microrregião do Alto Parnaíba Piauiense
- D) Microrregião de Bertolândia
- E) Microrregião das Chapadas do Extremo Sul Piauiense