



PREFEITURA MUNICIPAL DE PIRIPIRI

Concurso Público para o Provimento do cargo de



MOTORISTA

LEIA AS INSTRUÇÕES:

- 1) Você deve receber do fiscal o material abaixo:
 - a) Este caderno com 40 (quarenta) questões objetivas;
 - b) Um **CARTÃO-RESPOSTA** destinado às respostas objetivas da prova;
- 2) Verifique se este material está completo e se seus dados pessoais conferem com aqueles constantes do CARTÃO-RESPOSTA.
- 3) O candidato só poderá entregar sua prova após 01 (uma) hora do início da mesma.
- 4) O tempo de duração da prova é de 03 (três) horas ininterruptas.
- 5) O candidato não poderá sair com o seu caderno de questões.
- 6) As Provas Objetivas e os gabaritos serão divulgados no segundo dia útil após a realização das mesmas, no endereço eletrônico www.institutoludus.com.br a partir das 18:00h;
- 7) Quando terminar sua prova **ASSINE A LISTA DE PRESENÇA**, entregue ao Fiscal o **Caderno de Questões e sua Folha de Resposta contendo sua assinatura**.
- 8) **Será excluído do certame:**
 - a) Se utilizar, durante a realização da prova, de máquinas ou relógios com a função de calculadora, bem como de rádios gravadores, de "headphones", de telefones celulares ou de fontes de consulta de qualquer espécie;
 - b) For surpreendido em conversa com outros candidatos;
 - c) Se ausentar da sala de realização da prova, levando consigo o Caderno de Questões e, ou, o Cartão-Resposta;
 - d) Deixar de assinar o Cartão-Resposta;
 - e) Perturbar, de qualquer forma o curso de realização da prova.
 - f) Rubricar, abreviar o pré-nome ou o nome, ou assinar com letra de forma o cartão resposta.
 - g) Pintar a parte superior do cartão resposta (inscrição e cargo).
- 9) Tenha muito cuidado com o CARTÃO-RESPOSTA, para não dobrar, amassar ou manchar, pois este é personalizado e em hipótese alguma poderá ser substituído.
- 10) Para cada uma das questões são apresentadas cinco alternativas classificadas com as letras (A), (B), (C), (D) e (E); somente uma responde adequadamente ao quesito proposto. Você deve assinalar apenas uma alternativa para cada questão: a marcação em mais de uma alternativa anula a questão, mesmo que uma das respostas esteja correta; também serão nulas as marcações rasuradas.
- 11) No CARTÃO-RESPOSTA, a marcação das letras correspondentes às respostas de sua opção, deve ser feita com o preenchimento de todo o espaço do campo reservado para tal fim, conforme modelo ex:
- 12) Os fiscais não estão autorizados a emitir opinião nem a prestar esclarecimentos sobre as questões e conteúdo das provas. Cabe única e exclusivamente ao candidato interpretar e decidir a este respeito.
- 13) Por motivo de segurança não será permitido ao candidato fazer uso de qualquer tipo de anotações que não seja o rascunho parte integrante desta Prova que será destacado na hora da entrega pelo fiscal de sala. Caso o candidato seja surpreendido com qualquer outro tipo de anotações em documentos que não seja o previsto acima, será eliminado do certame.

FOLHA DE ANOTAÇÃO DO GABARITO: ATENÇÃO: Esta parte somente deverá ser destacada pelo fiscal da sala, após o término da prova.

01	02	03	04	05	06	07	08	09	10	11	12	13	14	15	16	17	18	19	20
21	22	23	24	25	26	27	28	29	30	31	32	33	34	35	36	37	38	39	40

EM BRANCO

INSCRIÇÃO:

--	--	--	--	--	--

ASSINATURA:

LÍNGUA PORTUGUESA

Leia o seguinte texto:

O aumento no número de acidentes de trânsito



- 40 mil e 610
- Esse foi o número de brasileiros que perderam a vida em acidentes de trânsito em 2010.
- Em 2009, haviam sido 37 mil 594 vítimas fatais.
- Ou seja, nesse período o total de mortes em acidentes subiu 24 por cento.
- A maior parte das ocorrências foi registrada na região Norte (53%), seguida do Nordeste (48%), Centro-Oeste (22%), sul (17%) e Sudeste (10%).
- Em nível mundial, estamos atrás apenas da Índia, China, EUA e Rússia.
- Perguntar-se-á: - qual a “contribuição” do Piauí para essa estatística?

(Portal www.cidadeverde.com. Novembro/2011)

Com base no texto acima, responda às três questões seguintes.

1. Da leitura do texto, observa-se, no terceiro parágrafo, existência de uma expressão muito comum no jornalismo nacional, mas que, à luz da norma culta, é:

- a) um pleonasma vicioso
- b) um barbarismo
- c) um solecismo
- d) uma impropriedade textual
- e) uma ambiguidade

2. No todo, o texto:

- a) Informa que o Brasil não é o campeão mundial em acidentes fatais no trânsito.
- b) Apresenta coerência narrativa
- c) Informa qual o número de mortes no trânsito Estado do Piauí.
- d) Informa, explicitamente, o crescimento absoluto e em porcentagem do número de mortes no Brasil, entre 2009 e 2010.
- e) Apresenta, segundo a norma culta, a grafia de uma das regiões geográficas do Brasil grafada de forma equivocada.

3. No texto, há vocábulos proparoxítonos. O número de vocábulos proparoxítonos, distintos, encontrados no texto é igual a:

- a) 2
- b) 3
- c) 4
- d) 5
- e) 6

4. Assinale a alternativa na qual há palavra(s) grafada(s) **INCORRETAMENTE**.

- a) paraquedas – quatorze – cético – aterrizar
- b) aterrissar – gérmen – enfarto – cociente
- c) omoplata – hipócrita – cataclismo – adivinhar
- d) arriar – desaperebido – experto – paço
- e) jiló – exceção – fascínora – beneficente

5. A pessoa quando se **casa** procura logo uma boa **casa** para morar.

As classes gramáticas das palavras em destaque, na ordem, são:

- a) verbo e substantivo, respectivamente
- b) substantivo e substantivo, respectivamente
- c) substantivo e advérbio, respectivamente.
- d) verbo e adjetivo, respectivamente.
- e) substantivo e pronome, respectivamente.

6. Dentre as frases seguintes, indique aquela que **NÃO** atende às normas da concordância nominal:

- a) Segue anexas às revistas o recibo.
- b) Era velho o carro e a buzina
- c) Eram novos o jumento e a cangalha
- d) Ele anotou correto as mensagens
- e) A melancia custou caro, mas o vendedor falou que era barata.

07. Assinale, dentre as alternativas seguintes, aquela em que todos os vocábulos **NÃO** apresentam erros de acentuação.

- a) reféns – joquei – jesuita – Iguazu
- b) chinês – cafeína – fuzil – idolatra
- c) sótão – ítem – modelo – viúvo
- d) burguês – Paissandú – cardíaco – equilíbrio
- e) mandi – cajui – pequi – bacuri

08. Na frase “Nazaré das Farinhas é uma cidade distante de Piri-piri, mas, mesmo longe, precisaremos ir até lá”, os dois vocábulos grifados são:

- a) parônimos
- b) complementares
- c) sinônimos

- d) conclusivos
- e) homônimos

09. Considerando que, nas alternativas seguintes, associado a cada palavra há um vocábulo ou uma expressão sinônimo, indique a alternativa correta.

- a) censo = juízo // empossar = formar poças
- b) taxa = tributo // incerto = duvidoso
- c) experto = inteligente // esperto = perito
- d) discriminar = distinguir // imergir = vir à tona
- e) emigrar = entrar (no País) // dispensa = cômodo

10. Em coluna social da revista *Caras*, lê-se:

Com exceção de Maria, todos os participantes do BBB 11 compareceram à festa junina, na Ilha de Caras.

A expressão “com exceção de”, sem alteração de sentido, pode ser substituída por:

- a) apenas
- b) mesmo sem
- c) não obstante
- d) menos
- e) até sem

MATEMÁTICA

11. Anastácia comprou três dúzias de ovos para fazer quatro bolos e distribuiu estes ovos igualmente para cada bolo. A quantidade de ovos em cada bolo é:

- a) Três
- b) Seis
- c) Nove
- d) Doze
- e) Trinta e seis

12. Manoel comprou uma calça por R\$ 53,00 e uma camiseta por R\$ 21,00. Para pagar a compra, deu ao caixa da loja R\$ 80,00. Assim, Manoel recebeu de troco:

- a) R\$ 27,00
- b) R\$ 18,00
- c) R\$ 9,00
- d) R\$ 6,00
- e) R\$ 4,00

13. Tenho de pagar duas dívidas, uma de R\$ 75,80 e outra de R\$ 92,70. Tenho em mãos R\$ 150,00. Faltam-me ainda:

- a) R\$ 2,50
- b) R\$ 4,50
- c) R\$ 8,50
- d) R\$ 12,50
- e) R\$ 18,50

14. Um pipoqueiro fez 450 sacos de pipocas doces e 580 sacos de pipocas salgadas. Vendeu 336 sacos de pipocas doces e 265 sacos de pipocas salgadas. A quantidade de sacos de pipoca que sobraram foi de:

- a)114
- b)315
- c)429
- d)694
- e)765

15. Para assistir a uma partida de futebol, os torcedores foram classificados por idade conforme a tabela:

Idade	Homens	Mulheres
Menor que 20 anos	9.375	3.426
Entre 20 a 35 anos	12.680	4.500
Maior que 35 anos	5.032	769

O número de torcedores (homens e mulheres) com 20 ou mais anos de idade era:

- a)17 118
- b)17 712
- c)18 481
- d)22 981
- e)23 750

16. Um aparelho de televisão está sendo vendido em três pagamentos iguais de 130 reais. Márcia comprou esse aparelho em prestações. Caso Márcia tivesse comprado o aparelho à vista, teria gasto apenas 340 reais. O desconto que ela teria obtido, em reais, seria de:

- a)30
- b)40
- c)50
- d)60
- e)70

17. Pedro comprou certa quantidade de figurinhas. Marcela comprou um quarto da quantidade que Pedro comprou.

Juntos, eles compraram 20 figurinhas. Neste caso, Pedro comprou:

- a)4 figurinhas
- b)5 figurinhas
- c)10 figurinhas
- d)12 figurinhas
- e)16 figurinhas

18. Felipe gosta muito de brincar de adivinhações. Ele tem um álbum com um milhar, sete centenas, três dezenas e oito unidades de adivinhações. Sua irmã Fernanda tem a metade das dele. Para que os dois juntos somem três mil adivinhações, faltam-lhes:

- a) 393 adivinhações
- b) 696 adivinhações
- c) 869 adivinhações
- d) 933 adivinhações
- e) 1023 adivinhações

19. A área de um determinado quadrado mede 16cm^2 . Dobrando-se a medida do lado desse quadrado, sua nova área, em cm^2 , será:

- a) 8
- b) 24
- c) 32
- d) 64
- e) 128

20. Um espetáculo tem início às 19h e 36min. Dura exatamente 1h e 49min. O término deste espetáculo será às:

- a) 20h e 25min
- b) 20h e 45min
- c) 20h e 65min
- d) 21h e 15min
- e) 21h e 25min

CONHECIMENTOS ESPECÍFICOS

21. As pessoas, em geral, não têm a noção exata do significado do impacto de uma colisão no trânsito. Saiba que, segundo as leis da Física, colidir com um poste, ou com um objeto fixo semelhante, a 80 quilômetros por hora, é o mesmo que cair de um prédio de(1)..... andares. (Apostila sobre Direção defensiva. DENATRAM. 2005. p. 18)

A lacuna no texto acima é corretamente preenchida pelo número indicado na alternativa:

- a) 5
- b) 6
- c) 7
- d) 8
- e) 9

22. Analise as seguintes assertivas (proposições). Segundo o Manual de Direção Defensiva do DENATRAN (Departamento Nacional de Trânsito)

I. Direção Defensiva é a forma de dirigir, que permite a você reconhecer antecipadamente as situações de perigo e prever o que pode acontecer com você, com seus acompanhantes, com o seu veículo e com os outros usuários da via.

II. A função dos sulcos [dos pneus] é permitir o escoamento de água para garantir perfeita aderência ao piso e a segurança, em caso de piso molhado.

III. Ao dirigir apóie bem o corpo no assento e no encosto do banco, o mais próximo possível de um ângulo de 90 graus.

IV. Ao dirigir, segure o volante com as duas mãos, como os ponteiros do relógio na posição de 9 horas e 15 minutos. Assim você enxerga melhor o painel, acessa melhor os comandos do veículo e, nos veículos com *air bag*, não impede o seu funcionamento.

V. Em um cruzamento no qual não existe qualquer tipo de sinalização indicando a preferência, neste caso, a preferência de passagem é do veículo que se aproxima do cruzamento pela direita.

Assinale:

- a) se todas as assertivas acima são corretas.
- b) se, dentre as assertivas acima, uma é incorreta e quatro são corretas.
- c) se, dentre as assertivas acima, duas são incorretas e três são corretas.
- d) se, dentre as assertivas acima, três são incorretas e duas são corretas.
- e) se, dentre as assertivas acima, quatro são incorretas e uma é correta.

23. Trafegando nas ruas de Teresina, capital do Estado do Piauí, você observa que, no fluxo ou avenida que você trafega, um agente da autoridade de trânsito sinaliza conforme o sinal indicado na figura ao lado. O significado deste sinal é:



- a) Ordem de parada obrigatória para todos os veículos, sem exceção. exceto quando executada em intersecções, pois, neste caso, os veículos que já se encontrem nela não são obrigados a parar.
- b) Ordem de parada obrigatória para todos os veículos que venham de direções que cortem perpendicularmente a

direção indicada pelo braço estendido, qualquer que seja o sentido de seu deslocamento.

- c) Ordem de diminuição da velocidade.
- d) Ordem para que o condutor se desvie para a esquerda (do condutor).
- e) sinalização ordenando parada obrigatória, exceto, quando executada em intersecções, para os veículos que já se encontrem nela e não são obrigados a parar.

24. Observe a figura seguinte, conforme o Anexo II do CTB (Resolução 160 do CONTRAN), indicativa da grande maioria das placas de *sinalização de advertência*. Na tabela seguinte são postas, na coluna I, os elementos desta placa de sinalização e, na coluna II, se encontra em aberto as características destes elementos.



Coluna I	Coluna II: Características (cor)
Fundo	(1)
Símbolo	(2)
Orla interna	(3)
Orla externa	(4)
Legenda	(5)

Na ordem, de 1 para 5, as cores de cada elemento são aquelas relacionadas na alternativa:

- a) amarela – preta – preta – branca – preta
- b) branca – preta – vermelha – branca – preta
- c) amarela – preta – preta – amarela – preta
- d) amarela – preta – vermelha – branca – preta
- e) branca – preta – vermelha – branca – preta

25. Segundo a Anexo II do CTB (Resolução 160/CONTRAN), a sinalização horizontal se apresenta em(1)..... cores, sendo a cor(2)..... utilizada nas pinturas de símbolos de pessoas portadoras de deficiência física, em áreas especiais de estacionamento ou de parada para embarque e desembarque.

Na ordem, de 1 para 2, as lacunas acima são preenchidas corretamente pelos termos dispostos na alternativa:

- a) quatro – azul
- b) quatro – vermelha
- c) cinco – amarela
- d) cinco – azul
- e) cinco – branca

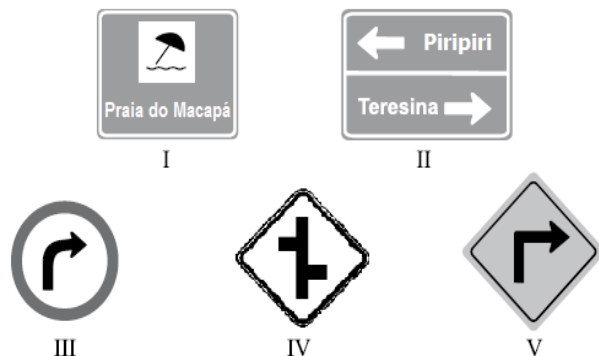
26. Observe a figura seguinte:



O veículo automotor representado na figura acima trafega entre Piripiri e Piracuruca, na BR-343/PI, em segmento em perfeitas condições de tráfego. Esse veículo trafega, neste momento, fora de região urbana e em local sem sinalização indicando redução ou limite de velocidade. Nesta situação, segundo as normas brasileiras, a velocidade máxima permitida é de

- a) 80km/h
- b) 90km/h
- c) 100km/h
- d) 110km/h
- e) 120km/h

27. Observe a figura seguinte, representativa de alguns sinais de trânsito.



Dentre as figuras acima, uma indica ou representa sinalização de regulamentação, a qual, a ser desrespeitada, implica infração de trânsito. Assinale:

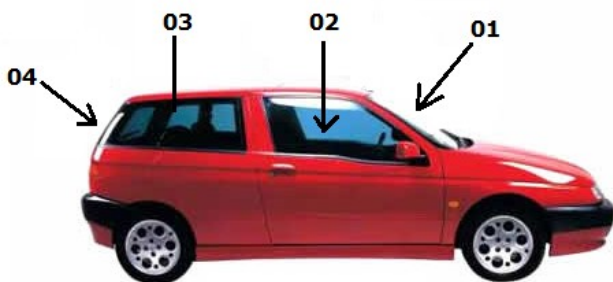
- a) se for I
- b) se for II
- c) se for III
- d) se for IV
- e) se for V

28. Em Piripiri, você trafega por uma Avenida, nas proximidades do Morro da Saudade, quando, em você observa uma “barreira”, em que agentes de trânsito fazem uma blitz. Uma dessas autoridades emite, na sua direção,

um sinal de apito na forma de “três silvos breves”. Tal sinal de apito ordena que você:

- a) siga
- b) pare
- c) diminua a velocidade
- d) acenda a lanterna
- e) nenhuma das alternativas acima

29. Observe a figura seguinte, representando um veículo no qual serão colocadas películas nas suas áreas envidraçadas, no caso indicadas pelos números 01(parabrisa, de vidro colorido), 02 (vidros laterais dianteiros), 03 (vidros laterais traseiros) e 04(vidro traseiro).



Pelo que estabelece a norma nacional, a transmissão luminosa para cada uma das áreas assinaladas na figura não poderá ser inferior a

- a) na área 01 – 70%; na área 02 – 70%; na área 03 – 28% e na área 04 – 70%
- b) na área 01 – 70%; na área 02 – 70%; na área 03 – 28% e na área 04 – 28%
- c) na área 01 – 75%; na área 02 – 70%; na área 03 – 28% e na área 04 – 28%
- d) na área 01 – 75%; na área 02 – 75%; na área 03 – 28% e na área 04 – 28%
- e) na área 01 – 75%; na área 02 – 70%; na área 03 – 28% e na área 04 – 70%

30. Para que um motorista, devidamente habilitado, possa, em uma rodovia federal, conduzir um veículo automotor da espécie motor-casa, cujo peso é de 5.800 kg e que tem lotação de 8 lugares, excluído o do motorista, ele

- a) somente poderá conduzir tal veículo automotor se for habilitado com CNH **C** em diante.
- b) somente poderá conduzir tal veículo automotor se for habilitado com CNH **D** em diante.
- c) somente poderá conduzir tal veículo automotor se for habilitado com CNH **E**
- d) somente poderá conduzir tal veículo automotor se for detentor de CNH **C** em diante e ser investido de Permissão Especial para Dirigir (PPD) tal veículo.
- e) ele poderá conduzir tal veículo automotor se for habilitado com CNH **B** em diante.

31. Observe a figura seguinte, representando um pneu “careca”.

Observa-se que os sulcos do pneu, em alguns pontos, estão muito aquém do permitido, fato que compromete a segurança do usuário.

De forma a ser garantida segurança do usuário, a profundidade mínima dos sulcos de um pneu deve ser de:



- a) 2,0mm
- b) 1,8mm
- c) 1,6mm
- d) 1,4mm
- e) 1,2mm

32. Em Piripiri, na Zona Urbana, o estafeta Zé do Amaral Pereira Goes, pilotando seu automóvel popular seminovo (2010), saiu de casa para ir a uma festa. Como estava atrasado, imprimiu velocidade além da regulamentada pelas normas de trânsito, pois tinha pressa de chegar à festa, onde ficara de encontrar sua belíssima namorada, que chegara de Piracuruca.

Trafegando de casa para o local da festa, em uma via urbana local, sem sinalização de limite de velocidade, foi apanhado por uma blitz da “Lei Seca”. Ao deparar com a blitz, levou um susto, freou bruscamente e, após deslizar os pneus no pavimento, parou. As autoridades constataram (e ele concordou) que o estafeta desenvolvia, no local, uma velocidade de 45km/h. Neste caso, além do susto, ele

- a) cometeu uma infração grave, penalizada com multa e, consequentemente, registro de 5 (cinco) pontos na CNH.
- b) cometeu uma infração grave, penalizada com multa e, consequentemente, registro de 7 (sete) pontos na CNH.
- c) cometeu uma infração gravíssima, penalizada com multa, suspensão imediata do direito de dirigir e a apreensão da CNH.
- d) cometeu uma infração média, penalizada com multa e, consequentemente, registro de 4 (quatro) pontos na CNH
- e) cometeu uma infração leve, penalizada com multa e, consequentemente, registro de 3 (três) pontos na CNH.

33. Analise as seguintes assertivas (proposições)

- I. O Conselho Nacional de Trânsito tem na sua composição um representante do Ministério da Ciência e Tecnologia.
- II. O Conselho Nacional de Trânsito tem na sua composição um representante do Ministério das Cidades.
- III. É vedado, em zona urbana de determinado Município, a uma ambulância, mesmo prestando socorro, usar o dispositivo de alarme sonoro em horário que ultrapasse o permitido pela “Lei do Silêncio” estabelecida naquele Município.

IV. Mediante proposta do CONTRAN, no âmbito da denominada “Educação para o Trânsito”, cabe ao Ministério das Cidades estabelecer campanha nacional esclarecendo condutas a serem seguidas nos primeiros socorros em caso de acidente de trânsito.

V. Conforme o que estabelece o Código Nacional de Trânsito, o DER/PI – Departamento Estadual de Estradas e Rodagem do Estado do Piauí é órgão que compõe o Sistema Nacional de Trânsito (SNT).

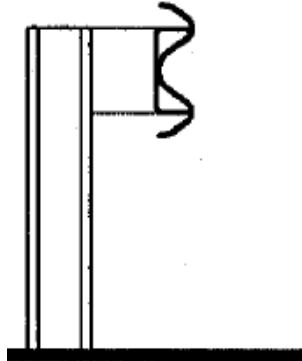
VI. O CONTRAN recomenda que toda peça publicitária destinada à divulgação ou promoção, nos meios de comunicação social, de produto oriundo da indústria automobilística ou afim, inclua mensagem educativa de trânsito a ser conjuntamente veiculada.

VII. Segundo o Código Nacional de Trânsito, tanto motoneta quanto triciclo e carro-de-mão são classificados como veículos de carga.

Assinale:

- a) se, dentre as proposições acima, apenas uma é correta.
- b) se, dentre as proposições acima, apenas duas são corretas.
- c) se, dentre as proposições acima, apenas três são corretas.
- d) se, dentre as proposições acima, apenas quatro são corretas.
- e) se, dentre as proposições acima, apenas cinco são corretas.

34. Observe a figura ao lado, a qual consta no Anexo II, do CTB. A figura representa um dispositivo:



- a) de canalização.
- b) de contenção e bloqueio
- c) de uso temporário.
- d) delimitador
- e) para fluxo veicular

35. Assinale a alternativa que, segundo o CTB, é **INCORRETA**.

- a) para conduzir veículo motorizado de três rodas, o condutor deve ser habilitado com Carteira Nacional de Habilitação (CNH) categoria **A**.
- b) Constitui infração de trânsito gravíssima, com penalidade de multa [3(três) vezes] dirigir veículo com validade da Carteira Nacional de Habilitação vencida.
- c) Para habilitar-se a conduzir veículos de transportes de escolares, o candidato deverá, dentre outros requisitos, ser maior de vinte e um anos, não ter cometido nenhuma

infração grave ou gravíssima ou ser reincidente em infrações médias durante os últimos doze meses e estar habilitado há dois anos na categoria **B**, ou no mínimo há um ano na categoria **C**, quando pretender habilitar-se na categoria **D**.

d) A CNH categoria **C** habilita condutor a conduzir veículo motorizado utilizado em transporte de carga, cujo peso bruto total exceda a três mil e quinhentos quilogramas, sendo que, para habilitar-se na categoria C, o condutor deverá estar habilitado no mínimo há um ano na categoria B e não ter cometido nenhuma infração grave ou gravíssima, ou ser reincidente em infrações médias, durante os últimos doze meses.

e) Constitui infração média, com penalidade prevista de multa, ultrapassar pela direita, salvo quando o veículo da frente estiver colocado na faixa apropriada e der sinal de que vai entrar à esquerda.

36. O Município de Piri-piri(PI) tem sua origem ligada à Igreja Católica, pois “foi por volta de 1.855 que o Padre Francisco Domingos de Freitas e Silva dividiu suas terras em pequenos lotes, oferecendo-os às pessoas que quisessem residir na localidade, nascendo, assim, a futura cidade” de Piri-piri. A religiosidade, até a presente data, é um traço do município, que tem por padroeira:

- a) Nossa Senhora das Dores
- b) Nossa Senhora dos Remédios
- c) Nossa Senhora do Carmo
- d) Nossa Senhora da Graça
- e) Nossa Senhora do Amparo

37. Segundo o IBGE, a população de Piri-piri é próxima de (.....1.....) habitantes, ocupando uma área próxima de (....2....)km². As duas lacunas são preenchidas, corretamente, pelos dados postos, na ordem, na alternativa:

- a) 70.000 – 1.200,00
- b) 65.000 – 1.800,00
- c) 59.000 – 1.300,00
- d) 61.000 – 1.400,00
- e) 58.000 – 1.500,00

38. Indique, dentre as alternativas seguintes, a cultura (lavoura) permanente de maior representatividade econômica para o Município de Piri-piri (PI).

- a) laranja
- b) banana
- c) castanha de caju
- d) manga
- e) côco-da-baía.

39. Dentre as lavouras temporárias, indique a alternativa que aponta aquela de maior representatividade econômica para o Município de Piri-piri.

- a) feijão
- b) mandioca

- c) milho
- d) cana-de-açúcar
- e) melancia.

40. Indique, dentre as alternativas seguintes, aquela que relaciona município piauiense que **NÃO** está cravado na mesma microrregião geográfica na qual se encontra o Município de Piripiri(PI).

- a) Capitão de Campos
- b) Porto
- c) Madeiro
- d) Matias Olímpio
- e) Joca Marques.

