

# INSTITUTO MACHADO DE ASSIS

Seriedade, compromisso e competência

## CARGO

### MOTORISTA “B”



## INSTRUÇÕES

**1-** Material a ser utilizado: caneta esferográfica azul ou preta. Os objetos restantes devem ser colocados em local indicado pelo fiscal da sala, inclusive aparelho celular devidamente cadastrado e etiquetado junto ao fiscal de sala.

**2-** Ao terminar a conferência do caderno de provas, caso o mesmo esteja incompleto ou tenha qualquer defeito, o (a) candidato (a) deverá solicitar ao fiscal de sala que o substitua, não cabendo reclamação neste sentido após, decorridos 15 minutos da entrega do mesmo. Inclusive devendo o candidato verificar se o cargo em que se inscreveu encontra-se devidamente identificado no caderno de provas.

**3-** Deve-se marcar no GABARITO/CARTÃO DE RESPOSTAS apenas uma opção em cada questão, com caneta azul ou preta, SEM RASURAS, SEM AMASSÁ-LO, SEM PERFURÁ-LO, caso contrário, a questão será anulada.

**4-** A duração da prova é de 03 (TRÊS) horas, já incluído o tempo destinado à identificação - que será feita no decorrer da prova – e ao preenchimento do CARTÃO DE RESPOSTAS (GABARITO).

NOME DO CANDIDATO:

\_\_\_\_\_

Nº DE INSCRIÇÃO:



CONCURSO PÚBLICO

# MANHÃ

NÍVEL  
FUNDAMENTAL

### MAIS INFORMAÇÕES:

- Internet: [www.institutomachadodeassis.com.br](http://www.institutomachadodeassis.com.br)
- Telefone: 0(86) 9986-7981



INSTITUTO MACHADO DE ASSIS - IMA CONCURSO PÚBLICO DA PREFEITURA MUNICIPAL DE MORRO DO CHAPÉU-PI

01	02	03	04	05	06	07	08	09	10	11	12	13	14	15	16	17	18	19	20	
21	22	23	24	25	26	27	28	29	30	31	32	33	34	35	36	37	38	39	40	

FOLHA DE ANOTAÇÃO DO GABARITO - ATENÇÃO: Esta parte somente deverá ser destacada pelo fiscal da sala, após o término da prova



## LÍNGUA PORTUGUESA

## QUESTÕES DE 1 A 10

## INSTRUÇÃO:

Para responder a essas questões, assinale APENAS UMA ÚNICA alternativa correta e marque o número correspondente na Folha de Respostas.

## PEDRO MALASARTES E A SOPA DE PEDRA

Um dia, Pedro Malasartes vinha pela estrada com fome e chegou a uma casa onde morava uma velha muito pão-dura.

– Sou um pobre viajante faminto e cansado. Venho andando de muito longe, há três anos, três meses, três semanas, três dias, três noites, três horas...

– Pare com isso e diga logo o que quer – interrompeu a mulher.

– É que estou com fome. Será que a senhora podia me ajudar?

– Não tem nada de comer nesta casa – foi logo dizendo a velha.

Ele olhou em volta, viu um curral cheio de vacas, um galinheiro cheio de galinhas, umas gaiolas cheias de coelhos, um chiqueiro cheio de porcos. E mais uma horta muito bem cuidada, um pomar com árvores carregadinhas de frutas, um milharal viçoso, uma roça de mandioca.

– Não, a senhora entendeu mal. Eu não preciso de comida, não. Só queria era uma panela emprestada e um pouco d'água. Se a senhora me deixar usar seu fogão, eu já estou satisfeito. Porque aqui no chão tem muita pedra, e isso me basta. Eu faço uma sopa de pedra maravilhosa e nunca preciso de mais nada, já fico de barriga cheia.

Desse jeito, ela não tinha como negar. Então deixou. Meio de má vontade, mas deixou. Só repetiu:

– Sopa de pedra?

– É... – disse ele, se abaixando para pegar uma pedra no chão. – Com esta pedra aqui eu faço a sopa mais deliciosa do mundo. O importante é lavar bem, esfregar bem esfregadinho e deixar a pedra bem limpa antes de botar na panela.

E Malasartes então tratou de lavar bem a pedra, como disse. Em seguida, encheu a panela com água, pôs a pedra dentro e botou tudo no fogo. Quando a água começou a ferver, ele provou e disse:

– É... Até que não está ruim... Só não vai ficar boa mesmo, de verdade, porque não tem sal.

– Não seja por isso – disse a velha. – Eu tenho e lhe dou uma pitada.

– Ótimo. Com um pouquinho de cebola e alho, fica melhor ainda.

– Não seja por isso – disse ela. – Eu lhe arrumo.

– E um temperinho verde, da horta, será que não tem? Dá um gostinho especial na sopa...

– Vá lá, não é por isso que essa sua sopa vai ficar sem gosto.

Foi pegar tudo o que Pedro Malasartes pediu e voltou depressa para o lado dele. Estava louca para aprender a fazer aquela sopa. Podia ser mesmo uma sorte receber aquele viajante em casa. Se ele lhe ensinasse a se alimentar só com uma sopa feita de pedra e água, com certeza ia economizar muito daí por diante.

Mas não pôde ficar muito tempo na beira do fogão, observando. Porque logo que Pedro jogou os ingredientes na panela e deu uma mexida, ele tornou a provar e fez uma cara de quem estava em dúvida.

– O que foi? – perguntou a mulher.

– Não sei bem. Parece que falta alguma coisa nesse caldo. Talvez um pedacinho de carne ou de linguiça...

– Não seja por isso – respondeu ela. – Se é uma sopa tão maravilhosa e tão econômica assim, não vai ser por um pedacinho de carne que vamos perder essa maravilha.



Foi lá dentro e voltou com um pedaço de carne, outro de paio e uma lingüiça. Malasartes jogou tudo dentro da panela. Deixou cozinhar mais um pouquinho e então respirou fundo:

– Está começando a ficar cheirosa, não acha?

– É mesmo, concordou a velha, interessada.

– O problema é que vai ficar meio sem graça assim branquela, sem cor. O gosto está bom, mas fica sempre melhor quando a gente tem um pouco de colorido para enfeitar. Um pedaço de abóbora, umas folhas de couve, de repolho, uma cenourinha, uma batatinha... Mas isso não é mesmo muito importante, a senhora não acha? É só aparência...

A mulher, louca para aprender bem a fazer aquela sopa preciosa, foi dizendo:

– Não seja por isso. Vou ali na horta buscar.

Voltou carregada de tudo o que ele pediu e mais um nabo, dois maxixes, uma batata-doce, um chuchu, uma espiga de milho. Até uma banana-da-terra. A essa altura, ela já não se limitava a ficar olhando. Tratava de ajudar mesmo, para andar depressa e também para ela ter certeza de que não estava perdendo nenhuma etapa da preparação daquele prato tão maravilhoso e econômico. Por isso, foi logo lavando todas as verduras para tirar a terra e limpar bem, descascou o que era de descascar, e foi passando para Pedro, que cortava e jogava na panela.

E o fogo, ó, ia esquentando. E a água, ó, ia fervendo. E a sopa, ó, ia borbulhando.

Os dois esperavam, sentindo aquele cheiro ótimo. De vez em quando, Malasartes provava. E suspirava:

– Hum! Está ficando gostosa...

– Está mesmo um cheiro delicioso – concordava a velha.

Daí a pouco, ele provou de novo e concluiu:

– Pronto! Agora está perfeita! Uma delícia. É só tomar.

A velha trouxe dois pratos fundos, e ele serviu. Ela ficou olhando, para ver o que ele fazia com a pedra, mas Pedro deixou a pedra na panela.

– E a pedra? – perguntou.

– A gente joga fora.

– Joga fora?

– É... Ou então lava bem e guarda para fazer outra sopa no dia em que for preciso enganar outro bobo.

Uns dizem que ela ficou tão furiosa que jogou a panela em cima dele, com sopa quente, pedra e tudo.

Outros dizem que ela deu uma gargalhada, viu que tinha merecido, mas tratou de tomar a sopa e guardar a pedra.

Pode escolher o fim. E fica sendo assim.

MACHADO, Ana Maria. *Histórias à brasileira: Pedro Malasartes e outras.*

#### QUESTÃO 01

O texto acima tem a função de:

- a) Dar informações
- b) Ensinar uma receita de sopa
- c) Contar uma história
- d) Convencer o leitor a aderir a uma ideia.

**QUESTÃO 02**

O assunto desse texto é bem claro e evidente: é a sopa de pedra feita por Pedro Malasartes. Assinale o tema desenvolvido por meio dessa história.

- a) Ignorância X cultura
- b) Avareza X generosidade
- c) Verdade X cultura
- d) Astúcia X ingenuidade

**QUESTÃO 03**

Qual a intenção do personagem Pedro Malasartes ao usar os adjetivos pobre, faminto e cansado para se descrever?

- a) Criar um vínculo de identificação com a dona da casa
- b) Dar receitas de comidas para a dona da casa apenas
- c) Tornar-se simpático, alegre e agradável aos olhos da dona da casa
- d) Apelar para a sensibilidade da dona da casa

**QUESTÃO 04**

Assinale a alternativa que contém as características que podem ser atribuídas aos personagens Pedro Malasartes e a dona da casa de acordo com o texto:

- a) Pedro Malasartes: astuto, traiçoeiro, cruel; dona da casa: gentil, bondosa, generosa.
- b) Pedro Malasartes: ingênuo, faminto, cansado; dona da casa: esperta, pão-dura, ríspida.
- c) Pedro Malasartes: esperto, faminto, manipulador; dona da casa: ingênua, pão-dura, ríspida.
- d) Pedro Malasartes: astuto, cruel, cansado; dona da casa: esperta, mesquinha, gentil.

**QUESTÃO 05**

De acordo com o perfil psicológico da dona da casa, qual dentre as alternativas abaixo explica o motivo pelo qual ela foi ficando cada vez mais solícita durante o preparo da sopa

- a) Por estar faminta também foi ficando interessada no homem que preparava a sopa
- b) Sendo uma mulher ingênua, teve piedade do homem faminto;
- c) Tinha interesse em aprender aquele prato que lhe parecia tão econômico;
- d) Pretendia acelerar o processo de cozimento para se livrar, o mais rápido possível, do viajante;

**QUESTÃO 06**

Marque a alternativa em que todas as palavras contêm dígrafo

- a) Galinheiro - senhora - velha – curral
- b) Três – estou – venho – faminto
- c) Morava - vinha – casa – galinhas
- d) Cheio – interrompeu – comer – vacas

**QUESTÃO 07**

Em qual alternativa **NÃO** há encontro consonantal?

- a) Pedro
- b) Cebola
- c) Estrada
- d) Pobre

**QUESTÃO 08**

Em que alternativa encontra-se uma palavra **PROPÁROXÍTONA**?

- a) Semanas
- b) Chiqueiro
- c) Árvores
- d) Batatinha

**QUESTÃO 09**

Na seguinte frase “Sou um viajante faminto e cansado.” A palavra **VIAJANTE** é:

- a) Artigo
- b) Advérbio
- c) Substantivo
- d) Pronome

**QUESTÃO 10**

Com relação à frase da questão anterior as palavras **FAMINTO** e **CANSADO** são:

- a) Adjetivo
- b) Substantivo
- c) Pronome
- d) Artigo



## MATEMÁTICA

## QUESTÕES DE 11 A 20

## QUESTÃO 11

Ana Maria se divertiu bastante neste carnaval e em todos os momentos tirou bastantes fotos, a mesma pretende guardar 114 fotografias em um álbum que comporta 6 fotos por página. Quantas páginas serão necessárias para colocar todas as fotos?

- a) 20
- b) 15
- c) 19
- d) 10

## QUESTÃO 12

Observe:

**15      32      49      66...**

Qual o próximo número da sequência?

- a) 83
- b) 82
- c) 80
- d) 75

## QUESTÃO 13

Quanto deve ser adicionado a 258 para obter 715?

- a) 457
- b) 237
- c) 127
- d) 537

## QUESTÃO 14

De qual número se deve subtrair 12 unidades para que a diferença seja 9?

- a) 11
- b) 15
- c) 21
- d) 25



## QUESTÃO 15

Marina brincando com seu irmão sobre as operações matemática fez-lhe a exposição de um problema que está no quadro abaixo:

**Pensei em um número e a ele adicionei 20. Do resultado subtraí 10 e encontrei 60. Em que número pensei?**

- a) 80
- b) 40
- c) 50
- d) 100

## QUESTÃO 16

Juliete pagou uma despesa de R\$ 464,00 com 5 notas de R\$100,00. Porém o caixa pediu-lhe a quantia adicional de R\$ 14,00, para facilitar o troco. De quanto será o troco de Juliete se ela atender ao pedido?

- a) R\$ 20,00
- b) R\$ 100,00
- c) R\$ 30,00
- d) R\$ 50,00

## QUESTÃO 17

Joana foi às compras, e com o troco comprou 47 balas para dividir entre suas três crianças, chegando em casa ela deu o mesmo número de balas para cada uma. No entanto ela percebeu que sobraram duas balas. Quantas balas ela deu a cada criança?

- a) 10
- b) 12
- c) 15
- d) 17

## QUESTÃO 18

Qual o número que substitui o símbolo na seguinte operação?  $120: ☆ = 5$

- a) 20
- b) 24
- c) 32
- d) 15



## QUESTÃO 19

Quatro cadernos custam R\$ 36,00. Quanto custa sete cadernos iguais a estes?

- a) R\$ 45,00
- b) R\$ 63,00
- c) R\$ 75,00
- d) R\$ 84,00

## QUESTÃO 20

Observe esta operação:  $95 - ☆ = 66$ . Que número deve ser colocado em substituição do símbolo?

- a) 12
- b) 15
- c) 30
- d) 29

## RASCUNHO



## CONHECIMENTOS ESPECÍFICOS

## QUESTÕES DE 21 A 40

## QUESTÃO 21

A Cassação da Carteira Nacional de Habilitação é um procedimento que:

- a) Depende da decisão pessoal da autoridade de trânsito.
- b) O agente da autoridade de trânsito pode tomar desde que comunique com antecedência a autoridade policial local.
- c) Só pode ser tomada pelo agente da autoridade de trânsito, quando o condutor se envolver em acidente com vítimas.
- d) Deve ser adotada apenas pela autoridade de trânsito, conforme estabelecido no Código de Trânsito Brasileiro.

## QUESTÃO 22

Os sinais de trânsito são usados para orientar, advertir e disciplinar a circulação dos elementos do trânsito ao longo das vias. Assinale a alternativa em que todos são classificados como sinalização de trânsito.

- a) Sinalização canalizado – sinalização horizontal – dispositivos auxiliares – sinalização semafórica - sinalização de acidentes – gestos - sinais de libras
- b) Sinalização industrial – sinalização aquática – dispositivos de mãos – sinalização semafórica - sinalização de obras – gestos - sinais sonoros
- c) Sinalização vertical – sinalização horizontal – dispositivos auxiliares – sinalização semafórica - sinalização de obras – gestos - sinais sonoros
- d) Sinalização virtual – sinalização escolar – dispositivos auxiliares – sinalização semafórica - sinalização de obras – gestos - sinais sonoros

## QUESTÃO 23

Juliana é motorista e certo dia estacionou próximo a um hidrante de incêndio. Ela será punida com:

- a) Multa apenas
- b) Apreensão do veículo e multa
- c) Remoção do veículo e multa
- d) Apreensão da Carteira Nacional de Habilitação

## QUESTÃO 24


Ao socorrer corretamente uma vítima de acidente, deve-se levar em consideração em primeiro lugar:

- a) A obstrução das vias aéreas
- b) Uma possível parada cardíaca
- c) O sangramento dos ferimentos
- d) Uma possível fratura de ossos



QUESTÃO 25

Como todo motorista deve saber as placas abaixo são tipos de sinalização de trânsito. Analise as placas seguintes e assinale a alternativa CORRETA



- a) Em I são placas educativas.
- b) Em II são placas de regulamentação
- c) Em III são placas educativas.
- d) Em IV são placas de sinalização de obras

QUESTÃO 26

Os veículos automotivos são responsáveis pela liberação de vários gases como monóxido de carbono (CO) e dióxido de carbono (CO<sub>2</sub>) etc. Os gases emitidos pelos veículos são perigosos para a saúde do homem porque podem:

- a) Provocar a destruição das córneas dos olhos por seu efeito corrosivo.
- b) Agravar moléstias respiratórias como asma e bronquite.
- c) Causar distúrbios gastrointestinais graves.
- d) Provocar aumento da temperatura do corpo.

QUESTÃO 27





Quem for pego no teste do bafômetro com concentração de álcool superior a 2 dg/l de sangue ou 0,1 mg/l de ar expelido do pulmão:

- a) Tem que pagar multa de R\$ 957,70 e perde o direito de dirigir por 12 meses.
- b) Tem apenas que pagar multa
- c) Perde o direito de dirigir apenas por dois meses
- d) Tem apenas o veículo apreendido



## QUESTÃO 28

Qual das placas abaixo **NÃO** permite parada?

- a)  c) 
- b)  d) 

## QUESTÃO 29

Hipoteticamente você está dirigindo seu veículo e encontra esta placa



você entende que ela alerta para:

- a) Uma passarela para pedestre  
b) Pedestre atravessando a via  
c) Escolares atravessando em faixa própria  
d) Idosos circulando na via

## QUESTÃO 30

José ao passar por uma fiscalização dirigindo seu veículo com a validade da Carteira Nacional de Habilitação vencida há mais de trinta dias ele será penalizado com:

- a) Advertência oral do agente da autoridade de trânsito, apenas.  
b) Multa, recolhimento da Carteira Nacional de Habilitação e retenção do veículo até apresentação de condutor habilitado.  
c) Multa, apenas.  
d) Recolhimento da Carteira Nacional de Habilitação, apenas.

## QUESTÃO 31

Segundo o artigo 136 do Código de Trânsito Brasileiro, quanto aos veículos especialmente destinados à condução coletiva de escolares, podemos afirmar que:

- a) A inspeção semestral é apenas para veículos particulares.  
b) A pintura horizontal de cor amarela destina-se a veículos do poder público.  
c) O veículo deve possuir no máximo oito lugares, exceto o do motorista.  
d) O equipamento registrador instantâneo inalterável de velocidade e tempo é de uso obrigatório.




## QUESTÃO 32

Recentemente o carro que transportava a ministra da presidência foi flagrado estacionado em um local para deficiente, o que caracteriza que o condutor não pode estacionar no lugar que desejar, portanto sendo um local permitido, um automóvel pode estacionar:

- a) Somente a partir de 10(dez) metros das esquinas.
- b) De acordo com o espaço existente.
- c) Somente a partir de 3(três) metros das esquinas.
- d) A mais de 5(cinco) metros do bordo de alinhamento da via transversal.

## QUESTÃO 33

Analise a figura abaixo:



Pode-se observar que o condutor do veículo parou na faixa de pedestre na mudança de sinal. Ele terá computado no pontuário de sua carteira de Habilitação:

- a) Três pontos.
- b) Quatro pontos.
- c) Cinco pontos.
- d) Seis pontos

## QUESTÃO 34

Os principais indicadores de que a direção precisa ser revisada é:

- I. O volante “puxa” para um dos lados e fica difícil manter o veículo andando em linha reta.
- II. Os pneus dianteiros apresentam desgaste irregular
- III. O volante trepida ou apresenta folga excessiva
- IV. Ao manobrar, acionando o volante, a direção emite ruídos estranhos

Pode-se dizer que estão corretas somente em:

- a) I e II
- b) II e III
- c) I, II, III e IV
- d) II e IV



## QUESTÃO 35

Luis que é motorista envolveu-se em um acidente e atropelou uma pessoa que veio a falecer em consequência do acidente agravante é que Luis estava embriagado. O que ocorrerá com ele?

- a) Perderá apenas o direito de dirigir por doze meses.
- b) Será julgado por homicídio doloso e pode pegar pena entre 6 a 20 anos.
- c) Será cassada a Carteira Nacional de Habilitação.
- d) Serão computados sete pontos em sua Carteira Nacional de Habilitação

## QUESTÃO 36

A estrutura do motor deve ser suficientemente rígida para poder suportar as elevadas pressões a que estão sujeitos ao mancais do virabrequim e as demais peças internas. Por isso observando a imagem abaixo assinale a alternativa que indica o nome correta dessa peça:



- a) Suspensão
- b) Cambio
- c) Embreagem
- d) Direção

## QUESTÃO 37

Os freios do veículo formam um sistema complexo, que serve para reduzir a velocidade ou fazer o veículo parar completamente, através do acionamento do pedal do freio. Os freios são itens de segurança, portanto é dever do condutor:

- I. Identificar o reservatório do fluido de freios, mantendo-o no nível.
- II. Fazer revisões para verificar o estado das lonas, pastilhas, discos e demais componentes.
- III. Saber que o fluido precisa ser drenado e substituído periodicamente
- IV. Manter o freio de estacionamento ou freio de mão em bom estado de funcionamento
- V. Conhecer e praticar técnicas para poupar o sistema de freios, aumentando a vida útil dos seus componentes.

Estão corretas somente em:

- a) I e II
- b) I, II, III, IV e V
- c) II, III e IV



d) IV e V

**QUESTÃO 38**

Luis foi pego no teste do bafômetro e tinha concentração de álcool superior a 6 dg/l de sangue ou 0,3 mg/l de ar expelido do pulmão, portanto a punição de Luis é:

- a) Remoção do veículo apenas
- b) Cassação da Carteira Nacional de Habilitação apenas
- c) Multa, suspensão ou proibição do direito de dirigir e detenção de seis meses a três anos.
- d) Terá o veículo apreendido

**QUESTÃO 39**

A figura abaixo indica qual peça do carro?

- a) O Amortecedor
- b) A caixa de direção
- c) Bomba de água
- d) Bronzina



**QUESTÃO 40**

As *Medidas Administrativas* são ações imediatas que podem ser aplicadas no local pelo agente de trânsito. Associe a 2ª coluna de acordo com a 1ª em seguida marque a alternativa com a sequência correta de cima para baixo.

- |   |   |
|---|---|
| (1) Retenção do veículo                 | ( ) quando houver suspeita de adulteração ou inautenticidade do documento   |
| (2) Remoção do veículo                  | ( ) Quando a irregularidade pode ser sanada no local da infração.   |
| (3) Recolhimento da CNH ou PPD          | ( ) quando estacionado de forma irregular sem a presença do condutor.   |
| (4) Recolhimento do licenciamento anual | ( ) Em caso de acidente: quando solicitado por agente de trânsito; sob suspeita de estar alcoolizado  |
| (5) Teste de alcoolemia ou perícia      | ( ) quando houver suspeita de adulteração ou inautenticidade do documento: com o prazo de validade vencido; no caso da retenção de veículo, quando não for possível sanar a irregularidade no local |

- a) 3 – 1 – 2 – 5 – 4
- b) 4 – 5 – 1 – 2 – 3
- c) 5 – 4 – 1 – 3 – 2
- d) 2 – 3 – 5 – 4 – 1