

**PORTUGUÊS**

Andando há 40 anos por este país, catando dinheiro para levar pra casa, eu aprendi a acreditar. Acreditar na terra, no homem, na chuva, na benção, na semente, no fruto, no coração, na mente... na inteligência. Aprendi, com o meu povo, que quando uma coisa está muito séria, o melhor que se faz é brincar com ela. E, naquelas tardes terríveis, sozinho num quarto de hotel, esperando a hora do show, eu comecei a desenhar o país dos meus sonhos. Um país onde cada lavrador tenha um par de bois para puxar seu arado e que de tarde, ao voltar para casa, encontre um par de filhos o esperando e à noite quando for dormir, tenha um par de pernas para amar; no país dos meus sonhos, todo pobre vai comer, todo hospital terá remédios, todo aluno terá colégio, todo professor ganhará um salário decente e todo policial apenas prenderá os bandidos, em vez de os ajudar a matar e a roubar; no país dos meus sonhos todo cego vai ver, todo surdo vai ouvir e todo mudo vai ver e ouvir coisas tão lindas que nem será preciso dizer nada; no país dos meus sonhos a integração do homem com a natureza será tanta que eu chego a imaginar uma árvore dizendo a um homem: "Você me tratou tão bem, foi tão legal comigo, que eu gostaria de me transformar na mesa da sua casa, nas cadeiras onde sua família sentará, no berço do seu filho". No país dos meus sonhos, o homem branco, afinal, vai descobrir que o coração do negro é do tamanho do seu e o sangue da mesma cor. O país dos meus sonhos um dia será verdade. E ele será tão feliz que nem vai precisar de mim para fazer rir um pouco. Não faz mal. Eu perco o emprego, mas não perco o meu sonho. Boa noite.

CHICO ANYSIO.

<http://sitenotadez.net/cronicas/>

1) O termo destacado abaixo possui valor de um sintagma que se encontra na alternativa:

"*todo mudo vai ver e ouvir coisas tão lindas que nem será preciso dizer nada.*"

- A) O dinheiro que está em cima do móvel é meu;
- B) Esta é a casa a que fiz referência;
- C) Gosto da mulher que tu és;
- D) Os candidatos cujas provas foram entregues podem sair;
- E) O desejo de quanto quero ser aprovado não é muito.

2) A relação sintática, em destaque, no fragmento abaixo é a mesma da alternativa:

"Eu perco o emprego, mas não perco o meu sonho."

A) Quando uma coisa está muito séria, o melhor é brincar com ela;

B) Todo professor ganhará um salário decente e todo policial apenas prenderá os bandidos;  
 C) Eu chego a imaginar uma árvore dizendo a um homem: "Você me tratou tão bem, foi tão legal comigo;"

D) Ele será tão feliz que nem vai precisar de mim;  
 E) Andando há 40 anos por este país, catando dinheiro para levar pra casa, eu aprendi a acreditar.

3) O fragmento destacado abaixo possui diretrizes sintáticas de:

"No país dos meus sonhos a integração do homem com a natureza será tanta que eu chego a imaginar uma árvore dizendo a um homem."

- A) Um complemento nominal;
- B) Uma oração consecutiva;
- C) Uma oração causal;
- D) Uma oração comparativa;
- E) Um complemento verbal.

4) A alternativa **CORRETA** quanto à gramática normativa se encontra na alternativa:

- A) A coerência gramatical permanece a mesma se for acrescida a palavra "atrás" em: "*Andando há 40 anos atrás*" assim como ocorrem em: "eu nasci há 10 mil anos atrás";
- B) As vírgulas em "*no homem, na chuva, na benção, na semente, no fruto, no coração, na mente*" são empregadas pela mesma regra do fragmento "*E, naquelas tardes terríveis, sozinho num quarto de hotel*";
- C) Ao substituir a palavra onde em "*Um país onde*" por "*aonde*" o enunciado permanece em conjuntura com a gramática normativa;
- D) O verbo "haver" empregado no primeiro período, possui mesma função do verbo em: "Há vários alunos aqui";
- E) O sujeito do aprender em "Aprendi, com o meu povo" é classificado como elíptico.

5) Depreende-se da charge abaixo:



- I. A expressão **da poupança** completa o nome rendimento, sendo classificado como complemento nominal.
- II. "À taxa Selic" possui características de um complemento verbal, conjunturado ao verbo de forma indireta.
- III. A omissão do acento grave deixa o enunciado com as diretrizes gramaticais.

Está **CORRETA** a alternativa:

- A) II;  
B) I e II;  
C) III;  
D) I e III;  
E) I.

6) Assinale a alternativa que melhor completa os espaços em branco do fragmento.

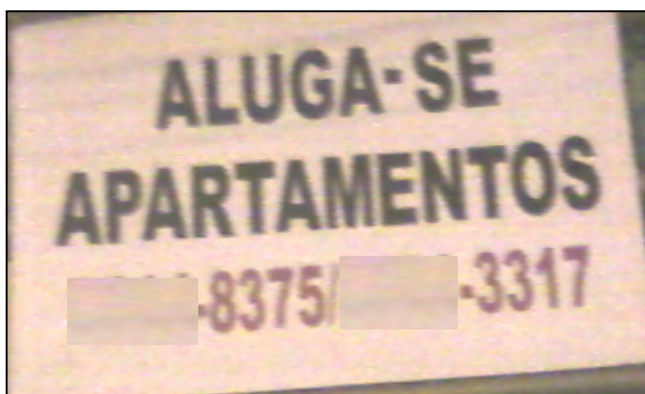
" A ..... é um ..... que atinge a boa parte dos brasileiros. Dessa forma, as comidas devem ser ..... para que este problema seja controlado e a ..... de sal esteja ..... controle."

- A) Hiper-tensão – mal – insossa – taxa – sob;  
B) Hipertensão – mau – insoça – taxa – sobre;  
C) Hipertensão – mal – insossa – taxa – sob;  
D) Hipertensão – mau – inçoça – tacha – sobre;  
E) Ipertensão – mal – inçoça – tacha – sob.

7) A alternativa em que **NÃO** foi obedecida às regras de concordância é:

- A) Fui eu quem falou sobre o seu caso;  
B) Devem haver mais pessoas com cursos de nível superior no futuro;  
C) 80% da população brasileira assistiu ao final dos campeonatos regionais;  
D) A multidão de fanáticos torcedores aplaudiram seus times;  
E) As provas terminarão ao meio dia e meia hora.

8) Observe as placas a seguir:



- I. As partículas "se" presente nos enunciados possuem mesmas classificações gramaticais.
- II. Há incoerência gramatical nos dois enunciados, haja vista que, os verbos de ambas as placas devem estar no plural.
- III. Há incoerência gramatical apenas na placa I, haja vista que a partícula "se" apassiva o sujeito e na placa II indetermina o sujeito.
- IV. O sujeito da primeira placa é "apartamentos". E o sujeito da segunda placa é "profissionais".

Está **CORRETA** a alternativa:

- A) I e IV;  
B) II e IV;  
C) III;  
D) I e III;  
E) I e II.

9) A alternativa que preenche **CORRETAMENTE** o enunciado abaixo se encontra:

- I. Com os olhos fixos no rei o servo falou: ..... irá ao Brasil.
- II. Logo a notícia se espalhou e chegou distorcida ao Brasil, onde se comentava que o príncipe visitaria esta Terra, onde falavam que ..... chegaria em breve.
- III. É sabido que em breve o Papa visitará o Brasil. Ao mencionar o nome do sacerdote indiretamente, deve-se dizer .....

- A) Sua majestade - Sua alteza – Vossa santidade;  
B) Vossa majestade - Sua alteza – Vossa santidade;  
C) Vossa majestade - Vossa alteza – Vossa onipotência;  
D) Vossa majestade – Sua alteza – Sua santidade;  
E) Sua majestade – Vossa alteza – Vossa santidade.

10) Transpondo o enunciado abaixo para o plural obtem-se:



**FAMOSOS**

## Ex-guarda-costas mantém polêmicas sobre Michael Jackson

*Matt Fiddes, antigo funcionário, disse a um jornal que o astro quis matar Randy, um dos seus irmãos, em 2005*

Leia também:

- Carolina Dieckmann está abatida com fotos nuas
- Ex-Morena da Laje será capa da 'Playboy'
- Grávida, Grazi publica foto de barrigão pintado

- A) Ex-guardas-costas mantém polêmicas sobre Michael Jackson;
- B) Os ex-guardas-costas mantêm polêmicas sobre Michael Jackson;
- C) Ex-guarda-costas mantêm polêmicas sobre Michael Jackson;
- D) Os ex-guarda-costas mantêm polêmicas sobre Michael Jackson;
- E) Ex-guarda-costas mantêm polêmicas sobre Michael Jackson.

## CONHECIMENTOS GERAIS

11) Na lei Orgânica são expostas no Art. 18 as obrigações dos Vereadores do Município de Serra Talhada (PE). Sobre este assunto analise as proposições abaixo:

- I. Dar posse ao Prefeito e ao Vice-Prefeito, conhecer de sua renúncia e afastá-los, definitivamente, do exercício do cargo, nos termos desta Lei.
- II. Conceder licença, para afastamento, ao Prefeito, ao Vice-Prefeito e aos Vereadores.
- III. Votar moção de censura pública ou mérito aos Secretários Municipais, representantes do poder público, e aos demais cidadãos em relação ao desempenho de suas funções.
- IV. Autorizar o Prefeito a ausentar-se do Município por mais de 15 (quinze) dias consecutivos.
- V. Autorizar a referendo e convocar plebiscito, exceto os casos previstos nesta Lei.

- A) Estão corretas apenas a I, II e III;
- B) Estão corretas apenas a II e IV;
- C) Estão corretas apenas a III, IV e V;
- D) Todas as alternativas estão corretas;
- E) Todas as alternativas estão incorretas.

12) As ações do Governo Municipal na Educação de Serra Talhada receberam o reconhecimento \_\_\_\_\_, a Medalha \_\_\_\_\_.

O Cerimonial de entrega da premiação aconteceu no Centro de Convenções em Olinda - PE, no dia 28 de abril de 2012. A secretaria Municipal de Educação esteve representada pelo Sr. Joaquim Alves da Silva, que assume a Pasta da Diretoria de Planejamento.

- A) Do Instituto Tiradentes de Minas Gerais; Instituição nota 10;
- B) Do Ministério da Educação e Cultura; Instituição nota 10;
- C) Do ENEAD; Jovens Talentos;
- D) Do Ministério da Educação e Cultura; Amigos da Escola;
- E) Do Instituto Tiradentes de Minas Gerais; Presidente Tancredo Neves - Mérito Educação.

13) Sobre os ilustres nomes que comandaram o Município de Serra Talhada (PE), alguns se destacam, começando as jornadas políticas com o Barão do Pajeú em 1892, até os dias de hoje. Qual desses senhores abaixo citados obtiveram o mandato maior:

- A) Hildo Pereira de Menezes;
- B) Sebastião Andrade Oliveira;
- C) José Ferdinando Feitosa;
- D) Augusto César E. de Carvalho;
- E) N.D.A.

14) Serra Talhada (PE) é bastante conhecida como a Capital do Xaxado, mas também por ter grandes personagens históricos talhadenses. Sobre estes nativos de Serra Talhada é **INCORRETO** afirmar:

- I. Agamenom Magalhães - Ministro da Justiça e do Trabalho no Governo Vargas, Interventor e depois Governador de Pernambuco, considerado um dos grandes "estadista" da política nacional.
- II. Solidônio Leite - Instrumentista, considerado um dos maiores do mundo.
- III. Moacir Santos - Filósofo.
- IV. Arnoud Rodrigues - Ator, escritor, humorista, compositor e cantor.
- V. Virgolino Ferreira da Silva (Lampião) - Figura emblemática que trafega entre o bem e o mal. Considerado o rei do Cangaço, Lampião "reinou" nos sertões de 1922 até 1938 quando foi morto numa emboscada em Sergipe. Considerado herói por alguns e bandido por outros, escreveu uma das principais páginas da história do Nordeste e do Brasil.

- A) Estão corretas apenas a I, II e III;
- B) Estão corretas apenas a II e III;
- C) Estão corretas apenas a I, IV e V;
- D) Estão corretas apenas a III, IV e V;
- E) Todas as alternativas estão corretas.

15) As melhores Secretarias Municipais de Educação do Brasil foram homenageadas durante o Congresso Nacional da Educação Pública Municipal, em Santa Catarina. A educação de Serra Talhada (PE) está incluída entre as cem e recebe o 10º Prêmio Educa

Brasil, na pessoa do secretário Israel Silveira. A Secretaria de Educação de Serra Talhada (SEST) obteve tal premiação devido a:

- A) O trabalho de inclusão e melhoria da qualidade do ensino e a política de valorização dos professores;
- B) Melhor estrutura física e equivalente aproveitamento do corpo docente da mesma;
- C) Mais alto percentual de capacitação profissional no programa de treinamento de mídias digitais;
- D) Terceira colocação nas Olimpíadas Nacionais de Ciências Exatas e suas Tecnologias;
- E) Segundo lugar Nacional no ENEM, nas escolas públicas.

16) Antonio Palocci anunciou a saída da casa civil e foi o primeiro ministro do governo da presidente Dilma Rousseff a deixar o cargo. O ex-chefe da Casa Civil anunciou sua saída no dia 7 de junho de 2011, quando foram divulgadas denúncias de que seu patrimônio aumentou 20 vezes em quatro anos, entre 2006 e 2010. Depois da renúncia de Palocci, quem assumiu seu lugar:

- A) Paulo Bernardo;
- B) Gleisi Hoffman;
- C) Moreira Franco;
- D) Helena Chagas;
- E) Celso Amorim.

17) O primeiro 7 de Setembro, Dia da Independência, da presidente Dilma Rousseff foi marcado por protestos em Brasília. Esta manifestação ocorreu a partir de mobilizações das pessoas nas redes sociais. Sobre esta manifestação é **CORRETO** afirmar:

- A) Foi uma Marcha a favor da Independência das mulheres e contra o machismo;
- B) Foi denominada Marcha Contra a Corrupção;
- C) Foi uma movimentação contra a homofobia;
- D) Foi organizado por jovens, contra as drogas;
- E) Foi uma manifestação em combate ao câncer de mama.

18) Começou tímida na Tunísia, ainda no final de 2010. Logo uma onda varreu o Oriente Médio e o norte da África. A revolta pelo fim dos regimes autoritários tomou conta de países. Sobre essas revoltas conhecidas como Primavera Árabe, responda: Qual ditador foi derrubado pelo povo primeiro:

- A) Hosni Mubarak;
- B) Muamar Kadafi;
- C) Zine El Abidine Bem Ali;
- D) Abdullah Saleh;
- E) Rei Hamed.

19) Sobre as atuações do IPHAN em Pernambuco, analise as proposições abaixo:

I. No município de Jaboatão dos Guararapes, executou-se obra de preservação na Igreja Nossa Senhora dos Prazeres.

II. Na cidade de Goiana, foi restaurada a Igreja Nossa Senhora do Amparo, após trabalho emergencial.

III. Com a participação dos monges carmelitas na contratação de mão-de-obra, a cobertura e as esquadrias da nave do Convento de Santo Alberto foram restauradas.

IV. Em Igarassu, a Igreja de São Cosme e São Damião teve sua rede elétrica refeita, ganhando nova iluminação, obras de recuperação do piso e da cobertura, com recursos e supervisão do IPHAN.

V. Em Olinda a igreja abacial do Mosteiro São Bento teve seus elementos artísticos restaurados, sobretudo o altar-mor; em operação que durou sete meses, envolvendo 30 profissionais.

Estão **CORRETAS** as afirmações:

- A) Apenas I, III e V;
- B) Apenas II, IV e V;
- C) Apenas III, IV e V;
- D) Apenas I e II;
- E) I, II, III, IV e V.

20) União para promover os estados do Nordeste no país e no exterior. Essa foi a tônica do discurso do secretário de Turismo de Pernambuco, Silvio Costa Filho, na apresentação, no Recife (PE), sobre os preparativos dos estados nordestinos para a Copa de 2014. A platéia é composta por empresários brasileiros e estrangeiros que participam do Encontro Internacional de Investimentos Imobiliários e Turísticos do Nordeste Brasileiro.

Qual das alternativas abaixo é uma cidade do Nordeste brasileiro que **NÃO** sediará a Copa do Mundo de 2014:

- A) Salvador;
- B) Recife;
- C) Natal;
- D) Ceará;
- E) Maceió.

## CONHECIMENTOS ESPECÍFICOS

21) A predominância de figuras femininas, com a cabeça surgindo com o prolongamento do pescoço, seios volumosos, ventre saltado e grandes nádegas, demonstradas na Mulher de Willendorf, também conhecida como Vénus de Willendorf (figura 01), são características de que período da história da arte:





**Figura 01**  
**Mulher de Willendorf**

- A) Paleolítico;
- B) Neolítico;
- C) Renascentismo;
- D) Barroco;
- E) Romantismo.

22) A solidez e durabilidade, o sentimento de eternidade e aspecto misterioso e impenetrável, são características da arquitetura:

- A) Romana;
- B) Egípcia;
- C) Grega;
- D) Paleocristã;
- E) Islâmica.

23) Em topografia, a operação no terreno, que nos fornece os dados necessários à representação, em um plano horizontal do relevo da superfície terrestre objeto de levantamento, é denominado de:

- A) Planimetria;
- B) Estadimetria;
- C) Levantamento planimétrico por irradiação;
- D) Rumo;
- E) Altimetria.

24) Na topografia, a operação de verificação (confirmação) das distâncias verticais obtidas no nivelamento é conhecida como

- A) Nivelamento trigonométrico;
- B) Nivelamento geométrico;
- C) Nivelamento de correção;
- D) Contra-nivelamento;
- E) Pós-nivelamento.

25) De acordo com a NBR 6492 (Representação de projetos de arquitetura), o carimbo inferior direito das folhas de desenho deve ser reservado ao carimbo destinado à legenda de titulação e numeração dos

desenhos. Deve constar na legenda, no mínimo as seguintes informações **EXCETO**:

- A) Título do desenho;
- B) Identificação da empresa e do profissional responsável pelo projeto, do cliente, nome do projeto ou do empreendimento;
- C) Indicação sequencial do projeto (números ou letras);
- D) Escalas, data, autoria do desenho e do projeto e indicação de revisão;
- E) Desenho de referência.

26) A NBR 12284 fixa critérios mínimos para a permanência de trabalhadores nos canteiros de obras (alojados ou não). Para tanto, a norma prevê que as instalações sanitárias deverão obedecer os seguintes requisitos, **EXCETO**:

- A) Ser construídas na ocasião da instalação do próprio canteiro de obras;
- B) Não se ligar diretamente nem estar adjacentes aos locais destinados às refeições;
- C) Ter pé direito mínimo de 2,70m;
- D) Ter ventilação natural através de aberturas para o exterior, com área mínima de 50% da área de iluminação;
- E) Ter cobertura resistente também ao fogo e que preserve o conforto térmico interior das edificações e as proteja completamente das intempéries.

27) A NBR 5681 fixa condições mínimas para o controle tecnológico da execução de aterros em obras de edificação. Conforme a norma, o controle tecnológico é obrigatório na execução de aterros com volumes superiores a:

- A) 90m<sup>3</sup>;
- B) 100m<sup>3</sup>;
- C) 900m<sup>3</sup>;
- D) 1000m<sup>3</sup>;
- E) 1200m<sup>3</sup>.

28) Nos sistemas prediais de esgoto sanitário, o conjunto de tubulações e dispositivos onde têm acesso gases provenientes do coletor público ou dos dispositivos de tratamento é denominado de:

- A) Instalação primária de esgoto;
- B) Barrilete;
- C) Caixa de passagem;
- D) Coletor predial;
- E) Ramal de esgoto.

29) Sobre os ramais de descarga e esgoto (NBR 8160), verifique as inferências:

I. Todos os trechos horizontais previstos no sistema de coleta e transporte de esgoto sanitário devem possibilitar o escoamento dos efluentes por gravidade, devendo, para isso, apresentar uma declividade vari-

ável.

II. As mudanças de direção nos trechos horizontais devem ser feitas com peças com ângulo central igual ou inferior a 90°.

III. É vedada a ligação de ramal de descarga ou ramal de esgoto, através de inspeção existente em joelho ou curva, ao ramal de descarga de bacia sanitária.

IV. Os ramais de descarga e de esgoto devem permitir fácil acesso para desobstrução e limpeza.

Estão **CORRETOS** os itens:

- A) I e II;
- B) I e III;
- C) III e IV;
- D) I, III e IV;
- E) II, III e IV.

30) De acordo com a ABNT (Associação Brasileira de Normas Técnicas), a iluminância de interiores deve ser medida no campo de trabalho. Quando este não for definido, entende-se como tal o nível referente a um plano horizontal de quantos metros do piso:

- A) 0,30m;
- B) 0,50m;
- C) 0,75m;
- D) 0,80m;
- E) 0,85m.

31) Com base nos símbolos elétricos adotados pela NBR 5444, o desenho (Figura 02) abaixo representa:



**Figura 02 – Símbolo elétrico**

- A) Refletor;
- B) Lâmpada de sinalização;
- C) Ponto de luz de emergência na parede com alimentação independente;
- D) Exaustor;
- E) Minuteria.

32) Em instalações prediais de água fria, o refluxo de água usada, proveniente de um reservatório, aparelho sanitário ou de qualquer outro recipiente, para o interior de uma tubulação, devido à sua pressão ser inferior à atmosférica é denominado de:

- A) Retrossifonagem;
- B) Separação atmosférica;
- C) Conexão cruzada;

- D) Instalação elevatória;
- E) Fluxo indutivo.

33) De acordo com a NBR 5732 (Cimento Portland comum) o cimento de classe 25 deverá ter limite inferior de resistência à compressão aos 28 dias de idade de quantos MPa:

- A) 18;
- B) 20;
- C) 25;
- D) 35;
- E) 40.

34) A NBR 4693 fixa as condições exigíveis para o emprego de cores na identificação de tubulações para a canalização de fluidos e material fragmentado ou condutores elétricos, com a finalidade de facilitar a identificação e evitar acidentes. Com base na norma, as tubulações de produtos inflamáveis e combustíveis de alta viscosidade deverão ser pintados na cor:

- A) Cinza escuro;
- B) Alaranjado-segurança;
- C) Amarelo-segurança;
- D) Azul-segurança;
- E) Preto.

35) As normas regulamentadoras para saídas de emergência em edifícios prevêem que os acessos das edificações devem satisfazer às seguintes condições:

- I. Permitir o escoamento fácil de todos os ocupantes do prédio.
- II. Permanecer desobstruídos em todos os pavimentos.
- III. Ter pé-direito mínimo de 2,50m, com exceção de obstáculos representados por vigas, vergas de portas, e outros, cuja altura mínima livre deve ser de 2,50m.
- IV. Ser sinalizados e iluminados com indicação clara do sentido da entrada,

Estão **CORRETOS** os itens:

- A) I e II;
- B) II e IV;
- C) III e IV;
- D) I, II e III;
- E) I, II e IV;

36) Em instalações prediais de águas pluviais, o prolongamento vertical da calha, cuja função é evitar o transbordamento é denominado de:

- A) Calha beiral;
- B) Bordo livre;
- C) Água-furtada;
- D) Calha de platibanda;

E) Perímetro molhado.

37) Nos projetos de acessibilidade a edificações, mobiliário, espaço e equipamento urbano (NBR 9050). Os textos contendo orientações, instruções de uso de áreas, objetos ou equipamentos, regulamentos e normas de conduta e utilização, deverão obedecer os critério relacionados abaixo **EXCETO**:

- A) Deverão conter as mesmas informações escritas em Braille;
- B) Deverão conter apenas uma oração – uma sentença completa, com sujeito, verbo e predicado, nesta ordem;
- C) Deverão estar na forma ativa e não passiva, como também na forma afirmativa e não negativa;
- D) Deverão estar escritos na sequência das ações, enfatizando a maneira correta de se realizar uma tarefa;
- E) Deverão ser escritos em caixa alta.

38) Ainda sobre acessibilidade, a NBR 9050 recomenda que os corrimãos de escadas e rampas sejam sinalizados em Braille, através de anel com textura contrastante com a superfície do corrimão (Figura 03), instalado antes da extremidade a uma distância de:

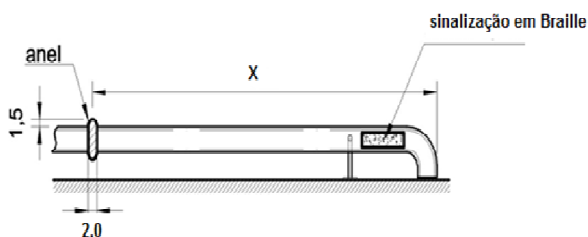


Figura 03 – Sinalização tátil de corrimão.

- A) 1,00m;
- B) 1,50m;
- C) 2,00m;
- D) 2,10m;
- E) 2,20m.

39) Com base nos símbolos gráficos adotados pela ABNT (Associação Brasileira de Normas Técnicas) para Proteção contra incêndio, o símbolo abaixo (Figura 04) representa:




Figura 04 – Símbolo gráfico – proteção contra incêndio.

- A) Dispositivo de alarme de incêndio;
- B) Dispositivo de ventilação natural;
- C) Reservatório;
- D) Dispositivo de pressurização;
- E) Detector pontual.

40) Nas Portas e vedadores corta-fogo (NBR 11711) a fim de evitar o extravasamento de água e líquidos inflamáveis de um compartimento para outro, é recomendável que a soleira seja mais alta quantos milímetros do que o piso mais alto:

- A) 120mm;
- B) 100mm;
- C) 80mm;
- D) 50mm;
- E) 30mm.