

Língua Portuguesa

TEXTO 1

Economia criativa – os desafios de Pernambuco

Se quiser manter sua vocação para o protagonismo nesta nova economia, o estado precisa apostar na inovação.

[...] A nossa economia sempre foi criativa, adaptou-se e adapta-se aos percalços socioeconômicos do mundo globalizado. Resta-nos o desafio da inovação. A economia criativa que queremos é aquela que muda a nossa vida e que nos permite deixar de legado tudo de mais e de melhor do que recebemos. Há muito não conseguimos pensar diferente.

Não há mais espaço inovador para os segmentos econômicos da economia tradicional que compartilhamos. Chegou o tempo da nova cultura empresarial do design, da moda, da gastronomia, do artesanato, da arquitetura do urbanismo, das mídias, dos jogos. É chegada a hora da valorização da cultura do homem, da cultura da sociedade. É tempo de se valorizarem os empreendedores humanísticos, aqueles que produzem e vendem comportamentos, sensações e sentimentos, em vez de produzirem apenas coisas.

Precisamos nos adaptar a este novo Pernambuco, o Pernambuco de Suape, da refinaria, da petroquímica, do polo automotivo, do polo farmacológico, elementos estruturadores para o novo Pernambuco. O Pernambuco dos homens e das mulheres de Pernambuco, e não apenas o Pernambuco das coisas de Pernambuco.

Para isso, precisamos ser inovadores em outros sentidos. Precisamos novas políticas de fomento. Precisamos inovar nas políticas de educação, precisamos desenvolver habilidades e métricas que possam visualizar e maximizar esses potenciais criativos.

Precisamos de salvaguardas, papel protetor da sociedade, executado pelo Estado. Precisamos de indução ao empreendedorismo e ao risco, precisamos de financiamento.

Precisamos de ousadia. Precisamos de orgulho e precisamos de acesso a mercados. Precisamos olhar pro nosso passado com orgulho. Mas precisamos mais ainda. Precisamos ser o orgulho dos nossos filhos e netos.

(NETO, Gilberto Freyre, Jornal do Commercio, Coluna Rede Gestão, 8 de julho, domingo.)

01. Quanto às ideias sugeridas pelo texto 1, todas as alternativas se encontram corretas, EXCETO:

- A) Inovar é imprescindível para que haja crescimento, desenvolvimento no Estado. Sem a inovação, sem o risco não há crescimento.
- B) O Estado deve exercer o papel de conduzir seus habitantes ao empreendedorismo e a fornecer financiamentos.
- C) As novas políticas exercidas pelo Estado têm de abrigar, em seu âmbito, além de outras políticas, a educacional.
- D) A economia tradicional, para que o desenvolvimento tenha continuidade, deverá ser substituída, caso contrário ele continuará estagnado.
- E) A visão do autor é que, para o crescimento do Estado, além da inovação, deverá haver investimento no sentido de pôr, em evidência, primordialmente, o capital a ser conseguido.

02. Considere as afirmações abaixo, relativas ao texto 1.

- 1) O texto, redigido na variedade formal da língua, encontra-se sem exemplo da variedade coloquial.
- 2) Existem alguns vocábulos compostos que se encontram redigidos de acordo com as novas normas ortográficas, isto é, sem hífen.
- 3) O texto possui uma abordagem sociocultural, uma vez que visa ao crescimento do Estado, investindo no ser humano, como um todo.
- 4) Os sinais de pontuação estão postos de maneira adequada, não existindo erro de acordo com as normas ortográficas.
- 5) Os vocábulos, quanto às regras de acentuação gráfica, encontram-se totalmente de acordo com as normas gramaticais vigentes.

Estão corretas, apenas:

- A) 2, 3, 4 e 5.
- B) 2, 4 e 5.
- C) 1, 2, 3 e 4.
- D) 1, 3 e 5.
- E) 2, 3 e 4.

“A nossa economia sempre foi criativa, adaptou-se e adapta-se aos percalços socioeconômicos do mundo globalizado. Restamos o desafio da inovação. A economia criativa **que** queremos é aquela que muda a nossa vida e **que** nos permite deixar de legado tudo de mais e de melhor do que recebemos. Há muito não conseguimos pensar diferente.”

03. Quanto aos aspectos semânticos do parágrafo acima, em uma das alternativas, existe uma inadequação. Assinale-a.

- A) Existem elementos linguísticos coesivos com valores semânticos diversos, tanto formando orações independentes como dependentes.
- B) Os elementos destacados, formadores de orações dependentes, possuem valores semânticos e morfossintáticos distintos.
- C) Caso seja formado um período com uma oração iniciada por “...logo que...”, o valor semântico dela será idêntico ao existente na palavra “ **sempre**”.
- D) O termo “**percalços**”, no contexto, possui significado igual ao da palavra destacada no período: “Quaisquer **dificuldades** poderão ser superadas se tivermos fé”.
- E) Há, no parágrafo, relação semântica de adição, de comparação e de restrição.

TEXTO 2

Talento e criatividade

“O homem apenas recria a realidade”, já disse alguém, evidenciando que Criador é somente Deus. No entanto, o homem, como ser inteligente, busca metamorfosear o existente no orbe terrestre, mediante a criatividade, seguindo a evolução presente nas variadas cores da natureza, nos vários nascente e ocaso, nos diversos luars que nos oferta O Onipotente.

Vê-se que o homem, ser racional, tem premência também de evoluir mediante uma inovação constante que o faz desenvolver seu talento inato. Talento é o que se busca, no jovem, a fim de que, com criatividade, ele demonstre não ser apenas um copião de ideias alheias, mas que possui imaginação e criatividade, evidenciando o poder de mutação que se faz necessário em nosso cotidiano.

O mercado, as empresas estão à cata de talentos, de seres que saibam inovar, que queiram crescer intelectualmente e não de colecionadores de títulos. O conhecimento se adquire por meio de uma aprendizagem contínua, que advém da força de vontade de cada um, aliada ao talento pessoal.

Lembre-se de que a evolução existe na natureza, por que então estacionarmos? Transformemo-nos nós e o mundo se transformará! Todos os homens possuem poder de inovação, exerçamos o nosso!

(S, Lemos. Inédito). Adaptado.

04. Considerando as ideias desenvolvidas pelo autor, observe as afirmativas abaixo.

- 1) Nota-se alguma semelhança com o texto 1.
- 2) Ele evidencia anexar à inovação, o talento, para o homem, assim exercer sua criatividade.
- 3) A criatividade e o talento são inerentes ao ser humano como ser racional que é.
- 4) Há, no texto 2, uma abordagem filosófica.
- 5) Existe, também, no texto, o sentido de evolução presente em toda a natureza.

Estão corretas:

- A) 1, 3, 4 e 5, apenas.
- B) 1, 2, 3, 4 e 5.
- C) 1, 2, 3 e 4, apenas.
- D) 2, 3, 4 e 5, apenas.
- E) 3, 4 e 5, apenas.

“O mercado, as empresas estão à cata de talentos. De seres que saibam inovar, que queiram crescer intelectualmente e não de colecionadores de títulos. O conhecimento se adquire por meio de uma aprendizagem contínua, que advém da força de vontade de cada um, aliada ao talento pessoal.”

Considere o excerto acima para responder as questões 05 e 06.

05. Em “à cata de...”, o sinal indicativo de crase está empregado de acordo com as normas gramaticais vigentes. Quanto ao emprego do sinal indicativo de crase, a alternativa incorreta é:

- A) A aprendizagem contínua depende do talento pessoal aliado a força de vontade de cada um.
- B) Nunca fomos à bela Paris, no entanto, sonhamos com a Torre Eiffel, com os magníficos museus, com a feérica iluminação da cidade.
- C) Os jovens deverão se colocar à disposição das empresas e do mercado para inovar.
- D) Os homens precisam crescer intelectualmente e se dedicar às causas sociais.
- E) Os homens não obedecem às leis, apenas as citam, às vezes, de cor, entretanto todos querem exigir os direitos de ser cidadão.

06. Considere as afirmativas abaixo com referência ao excerto acima.

- 1) O excerto se encontra correto quanto às normas de acentuação gráfica, quanto à regência e quanto à concordância.
- 2) A palavra “seres” possui forma verbal homônima equivalente, pertinente a um verbo chamado de anômalo.
- 3) Caso o termo antecedente do “**que**” fosse pluralizado, a forma verbal “**advém**” não sofreria alteração.
- 4) Em “Os CDs custaram dez reais cada”, existe uma inadequação, porque a palavra “**cada**”, de acordo com a variedade linguística formal, nunca poderá vir isolada.
- 5) Caso empregássemos o verbo “**saber**” na oração: “**Se você soubesse...**” apenas poderíamos completá-la, de acordo com as normas gramaticais, com uma forma do futuro do pretérito.

Está(ão) correta(s):

- A) Uma afirmativa, apenas.
- B) Duas afirmativas, apenas.
- C) Três afirmativas, apenas.
- D) Quatro afirmativas, apenas.
- E) Cinco afirmativas.

“Lembre-se de que a evolução existe na natureza, por que então estacionarmos? Transformemo--nos nós e o mundo se transformará! Todos os homens possuem poder de inovação, exerçamos o nosso!”

Excerto para as questões de 07 a 10.

07. A inadequação quanto ao excerto se encontra na alternativa.

- A) Existe um caso de colocação pronominal em que a próclise e a ênclise são obrigatórias.
- B) **Existe** é um verbo pessoal, mas que não exige complemento.
- C) Há uma oração com função complementar de substantivo, sendo objetiva indireta.
- D) **Estacionarmos** é uma forma verbal infinitiva, formando, por isso oração reduzida.
- E) O pronome **se**, no segundo período, pode ser apenas próclítico, uma vez que o verbo se encontra no futuro do presente.

08. O verbo **lembrar-se** está empregado de acordo com as normas de regência exigidas pela língua formal. Em uma das alternativas, há um deslize quanto a esse tipo de regência, identifique-a.

- A) Quase sempre, qualquer meta implica em esforço, em atravessar obstáculos a fim de conseguirmos atingi-la, apenas assim ela será valorizada.
- B) Aquele rapaz, que está exercendo alto cargo no governo, há muito namora a filha daquele deputado.
- C) O médico sorridente disse à enfermeira: “Vá tratar as feridas daquele doente, por favor!”
- D) Naquela casa, composta de vários membros, alguns não apreciam certas comidas quando estas têm gosto de alho.
- E) Informaram aos candidatos que os resultados seriam divulgados com brevidade, pois há necessidade de funcionários.

09. “...por que então estacionarmos?” quanto ao emprego do termo em evidência, há um erro, de acordo com as normas ortográficas no item:

- A) Vivemos, querendo saber o porquê da existência. Interrogamo-nos, mas nada descobrimos...
- B) Venceremos, porque somos corajosos e temos força para encetarmos caminhos por vezes íngremes e plenos de obstáculos.
- C) As pessoas fizeram barulho por que estavam realizando uma festa beneficente para as crianças carentes.
- D) Observe bem: aquele porquê se encontra redigido de maneira inadequada, corrija-o, assim seu texto ficará perfeito.
- E) Não sabemos por que estamos recebendo elogios, porém se os recebemos devemos ter algum merecimento.

10. “Todos os homens possuem poder de inovação...”

Considere as assertivas abaixo quanto ao emprego do vocábulo destacado no excerto acima.

- 1) Todos dez, ontem, chegaram à hora combinada. Assim, pudemos realizar a reunião com sucesso.
- 2) Quando nos dirigimos para o pátio, vimos todos os jovens, felizes, cantando aquela canção bem conhecida, de cujo nome nos esquecemos.
- 3) Ao nos dirigirmos à sala de aula, escutamos uma voz que dizia delicadamente: “Todos os quarenta candidatos desta sala estão aprovados”.
- 4) Naquela copa mundial em que o time brasileiro saiu vitorioso, todos homens gritavam eufóricos pelo grande pleito conquistado.
- 5) Faminto, aquele homem devorou, em instantes, todos os conteúdos existentes no prato e no copo, evidenciando sua carência.

Estão incorretas, apenas:

- A) 1, 2 e 5.
- B) 2, 4 e 5.
- C) 1 e 4.
- D) 1 e 5.
- E) 2 e 4.

RASCUNHO

Matemática

- 11.** Chegou ao Brasil a máquina de reciclar latinhas de refrigerante. Nela, para cada três latinhas colocadas, a pessoa recebe R\$ 0,20 em dinheiro. Nessa máquina, uma pessoa que recebeu R\$ 24,00 colocou
- A) 220 latinhas de refrigerante.
 - B) 240 latinhas de refrigerante.
 - C) 300 latinhas de refrigerante.
 - D) 360 latinhas de refrigerante.
 - E) 480 latinhas de refrigerante.
- 12.** Em uma doação são retirados, em média, 400 ml de sangue, sendo necessárias 10 semanas entre uma doação e outra. Ao mesmo tempo, sabe-se que uma pessoa pode perder 2l de sangue sem correr riscos. Supondo que uma pessoa não respeite esse intervalo e faça doações sucessivas de 400 ml de sangue, em quantas doações ela atingiria o limite máximo?
- A) 2 doações.
 - B) 4 doações.
 - C) 5 doações.
 - D) 6 doações.
 - E) 8 doações.
- 13.** Com as novas refinarias que estão sendo construídas, o Brasil será capaz de refinar, em 2020, 3,95 milhões de barris de petróleo por dia. Se em 2020 o consumo interno for de 2,8 mil barris de petróleo por dia, que excedente poderá ser exportado?
- A) 6,75 milhões de barris de petróleo por dia.
 - B) 3,73 milhões de barris de petróleo por dia.
 - C) 3,67 milhões de barris de petróleo por dia.
 - D) 2,85 milhões de barris de petróleo por dia.
 - E) 1,15 milhões de barris de petróleo por dia.
- 14.** O saldo da balança comercial de um país é calculado pela diferença entre o que ele exporta e o que ele importa. Em abril, certo país exportou 7,0 bilhões de dólares e importou 9,3 bilhões de dólares. De quanto foi o saldo da balança comercial desse país em abril?
- A) + 2,6 bilhões de dólares.
 - B) + 1,2 bilhões de dólares.
 - C) - 1,2 bilhões de dólares.
 - D) - 2,3 bilhões de dólares.
 - E) - 2,6 bilhões de dólares.
- 15.** Em média, 12 músicos se espremem no palco de um trio elétrico, que mede 6 m de comprimento por 3,5 m de largura. Quanto mede a área desse palco?
- A) $9,5 \text{ m}^2$
 - B) $12,0 \text{ m}^2$
 - C) $18,0 \text{ m}^2$
 - D) $21,0 \text{ m}^2$
 - E) $24,5 \text{ m}^2$
- 16.** Recife, Fortaleza e Salvador são as três capitais do nordeste com maior número de pessoas morando sozinhas. Ao todo, essas três capitais possuem 285 mil residências com um único morador. Fortaleza tem 15 mil pessoas a mais morando sozinhas que Recife, e Salvador tem o dobro do número de pessoas morando sozinhas que Fortaleza. De acordo com esses dados, quantas pessoas moram sozinhas em Recife?
- A) 150 mil pessoas.
 - B) 135 mil pessoas.
 - C) 95 mil pessoas.
 - D) 75 mil pessoas.
 - E) 60 mil pessoas.
- 17.** O helicóptero que abastece uma plataforma de petróleo em alto mar voa a uma velocidade de 225 km/h. Se a plataforma fica a 300 km da base, quanto tempo esse helicóptero leva para chegar à plataforma?
- A) 1h 45min
 - B) 1h 33min
 - C) 1h 30min
 - D) 1h 25min
 - E) 1h 20min
- 18.** A expressão “beber socialmente” equivale, segundo os especialistas, ao consumo máximo diário de álcool correspondente a três doses de bebida. Uma dose de bebida equivale a uma latinha com 350 ml de cerveja ou uma taça com 90 ml de vinho ou um copo com 25 ml de uísque. De acordo com esses dados, uma lata com 350 ml de uísque corresponde a
- A) 12 doses de bebida.
 - B) 14 doses de bebida.
 - C) 18 doses de bebida.
 - D) 25 doses de bebida.
 - E) 35 doses de bebida.
- 19.** Fofo e Fino almoçaram juntos, e a conta foi de 84 reais. Na hora de pagar a conta, Fofo, que consumiu o triplo de Fino, estabeleceu que cada um pagaria o valor proporcional ao seu consumo. Nessas condições, qual o valor pago por Fofo?
- A) 21 reais.
 - B) 28 reais.
 - C) 42 reais.
 - D) 56 reais.
 - E) 63 reais.
- 20.** Esse mês, Rosana atrasou o pagamento da taxa extra do condomínio, que era de 200 reais. Com isso, ela deverá pagar, a mais, 5% desse valor a título de multa e 2% de juros. Ao todo, quanto Rosana deverá pagar?
- A) 214 reais.
 - B) 210 reais.
 - C) 207 reais.
 - D) 205 reais.
 - E) 204 reais.

Conhecimentos Específicos

21. No encerramento do exercício de 2011, a empresa Caruaru Ltda. fez o registro contábil das cotas das depreciações dos bens do imobilizado do exercício de 2011, no valor de R\$ 15.000,00; da provisão para créditos de liquidação duvidosa, no valor de R\$ 9.000,00, e da provisão para Imposto de Renda e Contribuição Social sobre o Lucro, no valor de R\$ 36.000,00.

Com o registro contábil dos fatos indicados a empresa teve seu ativo patrimonial diminuído em:

- A) R\$ 15.000,00.
- B) R\$ 24.000,00.
- C) R\$ 45.000,00.
- D) R\$ 51.000,00.
- E) R\$ 60.000,00.

22. Em relação à definição de tributo, analise cada uma das sentenças abaixo e assinale V se for verdadeira ou F se for falsa.

- () Tributo é toda prestação pecuniária compulsória, em moeda, ou cujo valor nela se possa exprimir, que não constitua sanção de ato ilícito, instituída em lei e cobrada mediante atividade administrativa plenamente vinculada.
- () Tributo é toda prestação pecuniária compulsória, em moeda, ou cujo valor nela se possa exprimir, que não constitua sanção de ato ilícito, instituído em lei e cobrada mediante atividade legislativa.
- () Tributo é toda prestação pecuniária compulsória, em moeda, ou cujo valor nela se possa exprimir, que constitua sanção de ato ilícito, instituída em lei e cobrada mediante atividade do poder executivo.

A sequência correta, de cima para baixo é:

- A) F, F, V
- B) V, F, V.
- C) F, F, F.
- D) F, V, F.
- E) V, F, F.

23. Em relação à isenção tributária, analise cada uma das sentenças abaixo e assinale V se for verdadeira ou F se for falsa.

- () Se determinado município conceder isenção a todas as indústrias localizadas nos limites de seu território, essa isenção tributária não dispensará as indústrias do cumprimento das obrigações acessórias, como a emissão de notas fiscais.
- () Se determinado município conceder isenção a todas as indústrias localizadas nos limites de seu território, essa isenção tributária não será extensiva às contribuições de melhoria, salvo disposição de lei em sentido contrário.
- () Se determinado município conceder isenção a todas as indústrias localizadas nos limites de seu território, essa isenção tributária não será extensiva às taxas, salvo disposição de lei em sentido contrário.

A sequência correta, de cima para baixo é:

- A) V, F, F.
- B) V, F, V.
- C) V, V, V.
- D) F, V, F.
- E) F, V, V

24. O tributo instituído para custear obras públicas das quais decorram valorização de bens imóveis e que tem como limite total da cobrança o custo da obra e limite individual e a valorização acrescida a cada imóvel denomina-se

- A) Taxa.
- B) Contribuições de Melhoria.
- C) IVBI – Imposto de Valorização de Bens Imóveis.
- D) IPTU – Imposto sobre a Propriedade Predial e Territorial Urbana.
- E) ICOP – Imposto para Custear Obras Públicas.

25. A DIPJ – Declaração de Informações Econômico-fiscais da Pessoa Jurídica e a DIRF - Declaração do Imposto de Renda Retido na Fonte

- A) são obrigações tributárias acessórias.
- B) são obrigações tributárias principais.
- C) são obrigações tributárias secundárias.
- D) não são obrigações tributárias.
- E) são obrigações tributárias principal e secundária, respectivamente.

RASCUNHO

26. A Prefeitura de Caruaru-PE, através de procedimento interno ou mediante a ação direta do Agente Fazendário encarregado da execução de procedimento fiscal regular, não poderá:

- A) exigir informações ou esclarecimentos escritos e/ou verbais do sujeito passivo.
- B) exigir informações ou esclarecimentos escritos e/ou verbais de terceiro.
- C) exigir, quantas vezes se fizer necessária, até que ocorra a prescrição dos créditos tributários decorrentes das operações a que se refiram, a exibição dos livros, talões, relatórios ou documentos do sujeito passivo, inclusive os armazenados em meio magnético ou já arquivados, obrigatórios ou não.
- D) notificar o sujeito ativo ou terceiro para dar cumprimento a quaisquer das obrigações principais ou acessórias criadas pelo Poder Executivo.
- E) requisitar o auxílio da força pública ou requerer ordem judicial, quando vítima de embaraço ou quando indispensável à realização de atos necessários ao cumprimento de suas funções, ainda que não se configure fato descrito em Lei como crime ou contravenção.

27. Sujeito ativo da obrigação tributária é

- A) o Município de Caruaru.
- B) o Contribuinte.
- C) somente as Pessoas Jurídicas de Direito Privado.
- D) as Pessoas Físicas e Jurídicas de Direito Privado.
- E) somente as Pessoas Físicas de Direito Privado.

28. Considerando os dados abaixo:

- ✓ Despesas não incorridas e não pagas R\$ 30.000,00.
- ✓ Receitas ganhas e não recebidas R\$ 50.000,00.
- ✓ Despesas incorridas e pagas R\$ 20.000,00.
- ✓ Despesas incorridas e não pagas R\$ 12.000,00.
- ✓ Receitas recebidas e não ganhas R\$ 20.000,00.
- ✓ Despesas não incorridas e pagas R\$ 10.000,00.
- ✓ Receitas ganhas e recebidas R\$ 30.000,00.

A alternativa que contém o valor do resultado do exercício, de acordo com o Regime de Caixa é:

- A) R\$ 8.000,00 de lucro.
- B) R\$ 20.000,00 de prejuízo.
- C) R\$ 20.000,00 de lucro.
- D) R\$ 28.000,00 de prejuízo.
- E) R\$ 28.000,00 de lucro.

29. A declaração acessória obrigatória em que as pessoas jurídicas informam a Receita Federal sobre a apuração de: 1) PIS e COFINS no regime cumulativo e não cumulativo e 2) PIS com base na folha de salários denomina-se:

- A) DACON - Demonstrativo de Apuração de Contribuições Sociais.
- B) DIRF - Declaração do Imposto de Renda Retido na Fonte.
- C) CSLL - Contribuição Social sobre o Lucro Líquido.
- D) DCTF - Declaração de Contribuições e Tributos Federais.
- E) DIPJ - Declaração de Informações Econômico-fiscais da Pessoa Jurídica.

30. Ao levantar o seu balancete patrimonial, a empresa Capital do Agreste S.A. apurou os seguintes valores (em R\$ mil):

| | |
|-----------------|-----------|
| Bens..... | 46.250,00 |
| Direitos..... | 28.440,00 |
| Obrigações..... | 33.350,00 |

De acordo com as informações acima, o Patrimônio Líquido da empresa Capital do Agreste S.A. em R\$ mil é de:

- A) R\$ 15.540,00.
- B) R\$ 41.340,00.
- C) R\$ 51.160,00.
- D) R\$ 74.690,00.
- E) R\$ 108.040,00.

31. A empresa Vale do Ipojuca Ltda. pretende aumentar suas vendas a prazo para manter suas vendas totais de 2012, iguais às de 2011. Em 2011, o valor total das vendas foi de R\$ 1.200.000,00, considerando: um ano comercial de 360 dias, que as vendas têm comportamento linear e que a empresa operou com um prazo médio de recebimento de vendas de 30 dias.

Para alcançar esse objetivo, a empresa terá que ampliar para 45 dias o prazo médio de recebimento de vendas. Desse modo, o valor das Contas a Receber, em 30 de dezembro de 2.012, deve ser:

- A) R\$ 26.666,67.
- B) R\$ 40.000,00.
- C) R\$ 66.666,67.
- D) R\$ 100.000,00.
- E) R\$ 150.000,00.

32. A Contribuição Social sobre o Lucro Líquido (CSLL) foi instituída através da Lei nº 7.689, de 1988, destinada ao financiamento da:

- A) Saúde.
- B) Seguridade Social.
- C) Família de Baixa Renda.
- D) Agricultura.
- E) Fazenda Pública.

Considerando exclusivamente os dados abaixo e respeitando as determinações da Lei no 6.404/76, com as alterações das Leis nos 11.638/07 e 11.941/09, no levantamento do Balanço Patrimonial, em R\$ mil, **responda às questões 33 e 34.**

Dados extraídos do balancete de verificação da Cia. Agreste, em 31/12/11, com valores em R\$ mil.

- ✓ Capital Social – R\$ 500,00
- ✓ Financiamento a Pagar de Longo Prazo – R\$ 900,00
- ✓ Fornecedores (curto prazo) – R\$ 1.100,00
- ✓ Banco conta Movimento – R\$ 200,00
- ✓ Máquinas e Equipamentos (imobilizado) – R\$ 500,00
- ✓ Ações de Outras Empresas – R\$ 500,00
- ✓ Duplicatas a Receber (curto prazo) – R\$ 900,00
- ✓ Estoques (giro inferior a um ano) – R\$ 400,00

33. O Ativo Disponível da Cia. Agreste no dia 31/12/11, em R\$ mil, era:

- A) 200,00.
- B) 500,00.
- C) 600,00.
- D) 700,00.
- E) 1.500,00.

34. Respectivamente, o Contas a Pagar do Passivo Circulante e o Passivo Não Circulante da Cia. Agreste no dia 31/12/11, em R\$ mil, era:

- A) 500,00 e 900,00
- B) 500,00 e 500,00
- C) 500,00 e 1.500,00
- D) 1.100,00 e 900,00
- E) 1.100,00 e 2.500,00

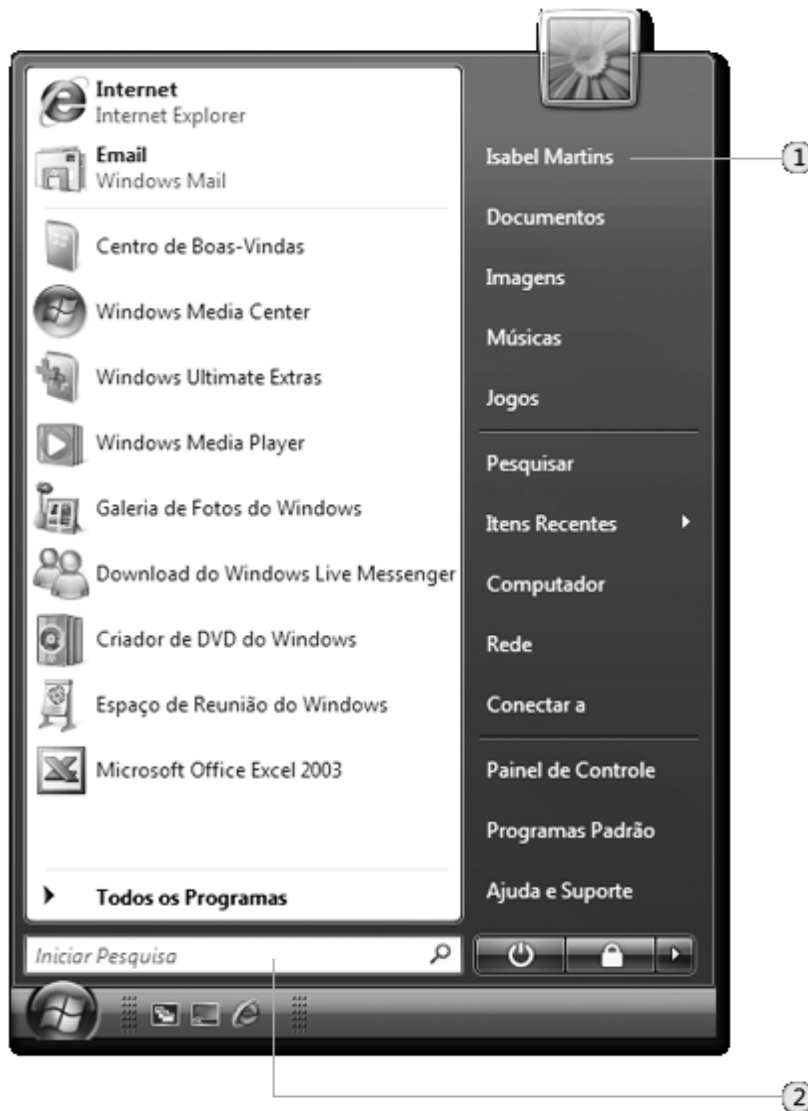
35. A empresa Capital do Forró Ltda. foi constituída em 31.12.2011 com capital de R\$ 300.000,00, dos quais R\$ 100.000,00 foram integralizados em dinheiro naquela data. Em janeiro de 2012, os sócios entregaram mais R\$ 80.000,00 em dinheiro e R\$ 120.000,00 em terrenos. Ainda em janeiro, a sociedade empresária adquiriu mercadorias para revenda por R\$ 44.000,00, metade à vista e metade para pagamento em 30 dias.

Desconsiderando a incidência de tributos e com base nos dados informados, é correto afirmar que, na Demonstração dos Fluxos de Caixa relativa ao mês de janeiro de 2012:

- A) as atividades de investimento geraram caixa no valor de R\$ 200.000,00.
- B) as atividades de investimento geraram caixa no valor de R\$ 80.000,00.
- C) as atividades de investimento consumiram caixa no valor de R\$ 44.000,00.
- D) as atividades operacionais consumiram caixa no valor de R\$ 22.000,00.
- E) as atividades operacionais consumiram caixa no valor de R\$ 44.000,00.

RASCUNHO

36. Analise a seguinte figura, acerca do menu Iniciar do sistema operacional Microsoft Windows.



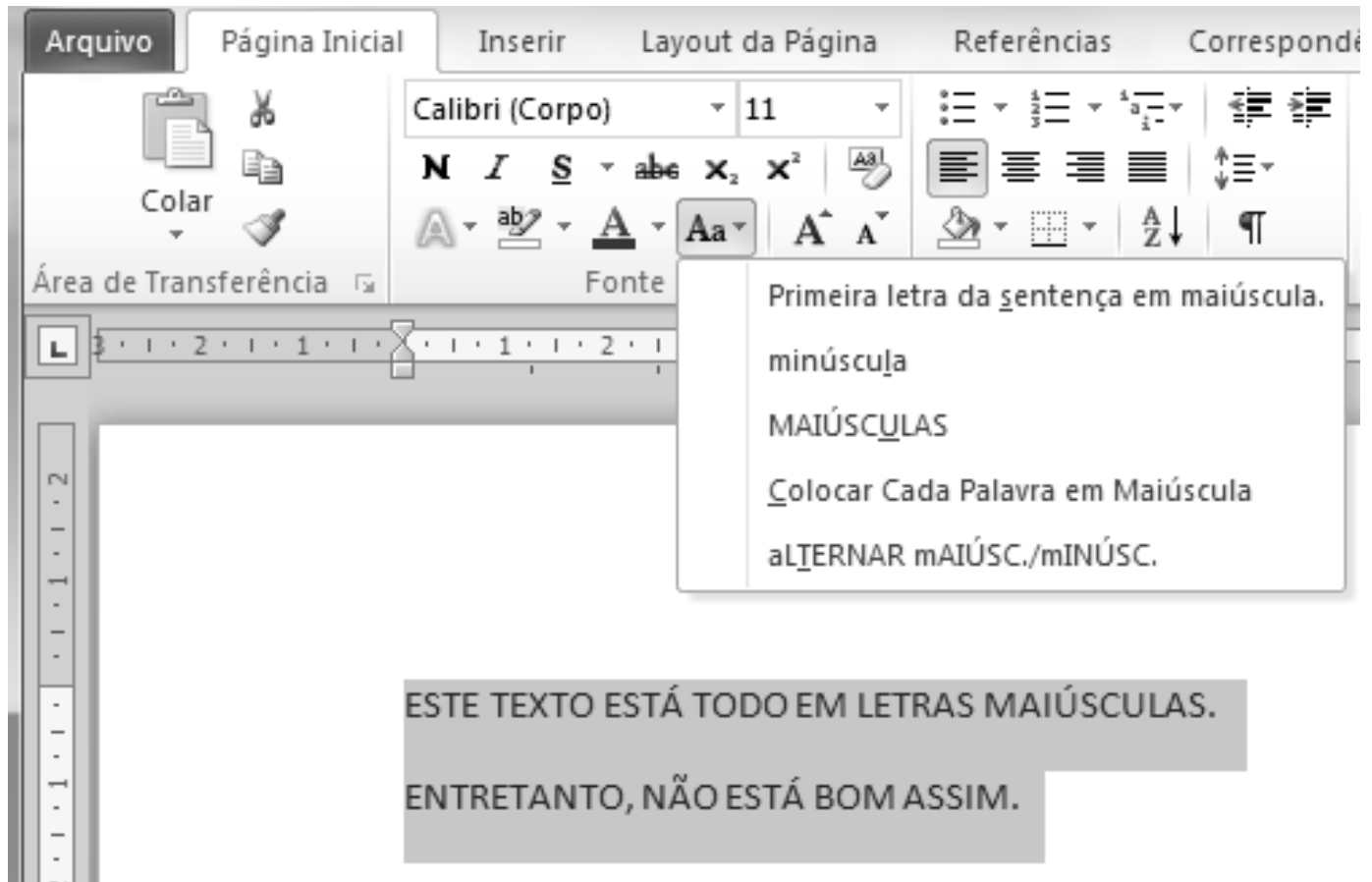
Baseado na figura apresentada, analise as afirmativas a seguir.

- 1) O item **1** indica o nome do usuário conectado no computador.
- 2) O item **2** indica uma caixa de pesquisa capaz de procurar não só documentos, como também programas instalados no computador.
- 3) É permitido ao usuário fixar atalhos no menu **Iniciar** a programas de seu interesse.

Está(ão) correta(s):

- A) 1, apenas.
- B) 1 e 2, apenas.
- C) 1 e 3, apenas.
- D) 2 e 3, apenas.
- E) 1, 2 e 3.

37. Observe a figura a seguir.



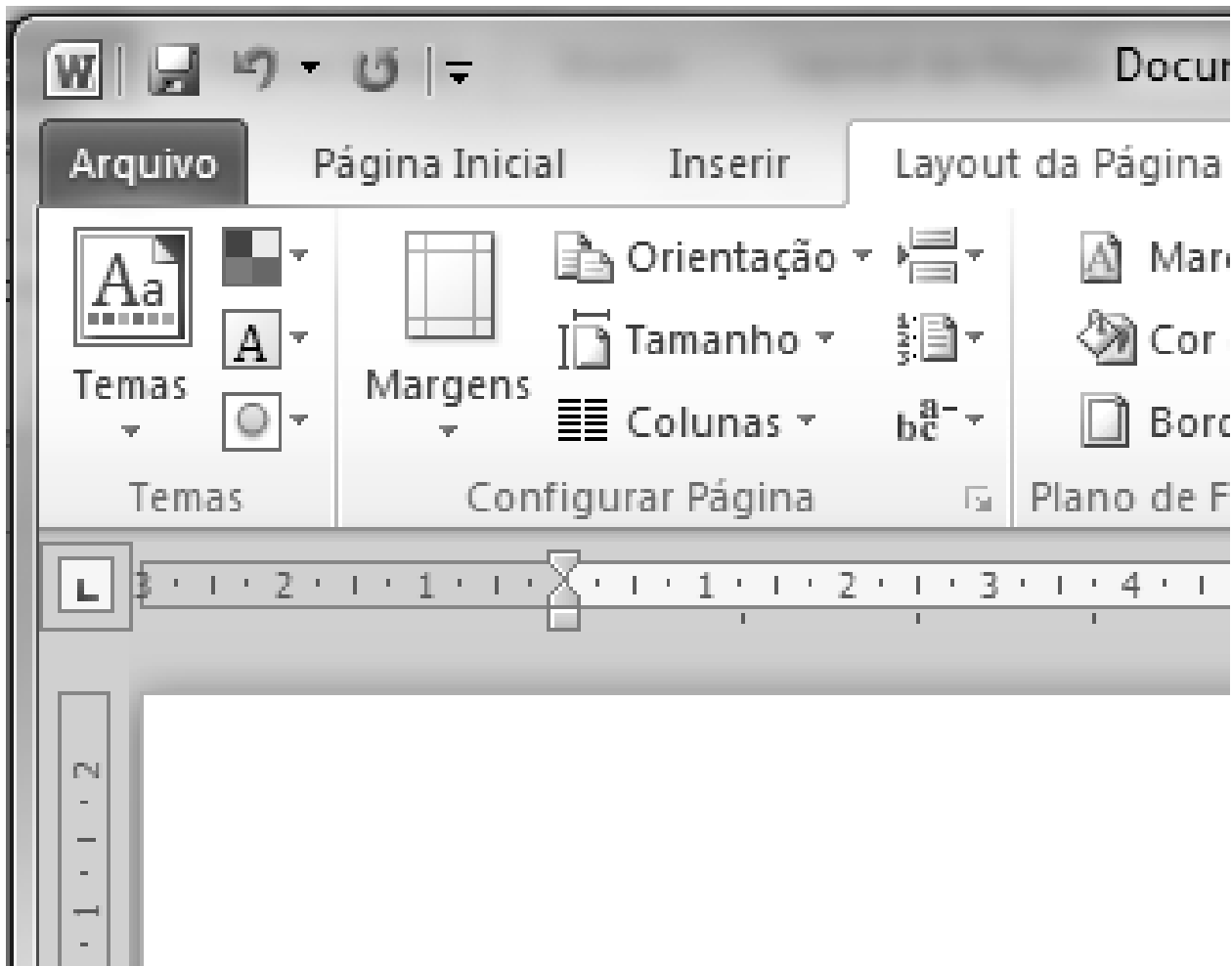
Baseado na figura apresentada e nas características do programa Microsoft Word, analise as afirmativas a seguir.

- 1) A opção **Colocar Cada Palavra em Maiúscula** faz com que a primeira letra de cada palavra do texto selecionado seja mantida em maiúscula, passando as demais para minúscula.
- 2) A opção **ALTERNAR maiúsc./minúsc.** faz com que as palavras do texto selecionado se alternem entre palavras com letras maiúsculas e palavras com letras minúsculas. Dessa forma, a palavra “ESTE” se tornará “este” e as letras da palavra “TEXTO” serão mantidas em maiúscula.
- 3) Ao selecionar a opção **Primeira letra da sentença em maiúscula.**, todas as letras do texto selecionado passarão para minúscula, exceto a palavra “ESTE”, que ficará “Este”.

Está(ão) correta(s):

- A) 1, apenas.
- B) 1 e 2, apenas.
- C) 1 e 3, apenas.
- D) 2 e 3, apenas.
- E) 1, 2 e 3.

38. Observe a figura a seguir.



Baseado na figura apresentada e nas características do programa Microsoft Word, analise as afirmativas a seguir.

- 1) Dentre as opções apresentadas em **Tamanho**, temos as opções **A4**, **A5** e **Carta**.
- 2) Através da opção **Margens**, é possível escolher tipos de margens pré-definidas, além de poder determiná-las de forma personalizada.
- 3) Através de **Orientação**, é possível escolher entre as opções **Norte** e **Sul**, que determinam a orientação do texto no papel.

Está(ão) correta(s):

- A) 1, apenas.
- B) 1 e 2, apenas.
- C) 1 e 3, apenas.
- D) 2 e 3, apenas.
- E) 1, 2 e 3.

Observe a figura a seguir, utilizada como base para as questões 39 e 40.

| | A | B | C | D | E | F |
|---|---------------|-------------|-----------------------|------------------------|---|---|
| 1 | Número | Item | Valor unitário | Valor acumulado | | |
| 2 | 1 | Cadeira | R\$ 100,00 | R\$ 100,00 | | |
| 3 | 2 | Mesa | R\$ 250,00 | R\$ 350,00 | | |
| 4 | 3 | Computador | R\$ 2.200,00 | R\$ 2.550,00 | | |
| 5 | 4 | Abajur | R\$ 50,00 | R\$ 2.600,00 | | |
| 6 | 5 | Impressora | R\$ 400,00 | R\$ 3.000,00 | | |
| 7 | | | TOTAL: | R\$ 3.000,00 | | |
| 8 | | | | | | |


39. Acerca da figura apresentada e das características do programa Microsoft Excel, analise as afirmativas a seguir:


- O texto mostrado em negrito na planilha pode ter sido formatado da seguinte forma: selecionaram-se ambas as linhas 1 e 7 e clicou-se no botão **N**.
- Os números preenchidos na coluna A (células A2 a A6) podem ter sido preenchidos da seguinte forma: preencheu-se a célula A2 com o valor 1; com a célula A2 selecionada, clicou-se na combinação de teclas CTRL+C; por fim, selecionaram-se as células A3 a A6 e clicou-se na combinação de teclas CTRL+V.
- O valor total apresentado na planilha (célula D7) pode ter sido calculado usando a seguinte forma: SOMA(D2:D6).

Está(ão) correta(s):

- 1, apenas.
- 1 e 2, apenas.
- 1 e 3, apenas.
- 2 e 3, apenas.
- 1, 2 e 3.

40. Acerca da figura apresentada e das características do programa Microsoft Excel, analise as afirmativas a seguir:

- O valor da célula D4 pode ter sido preenchido com o valor =C4+D3.
- As bordas mostradas na planilha podem ter sido criadas da seguinte forma: selecionaram-se as células de A1 a D7 e clicou-se na opção , apenas.
- A formatação de moeda vista nas células C2 a D6 pode ter sido feita usando-se uma das opções encontradas

através do botão .

Está(ão) correta(s):

- 1, apenas.
- 1 e 2, apenas.
- 1 e 3, apenas.
- 2 e 3, apenas.
- 1, 2 e 3.