

**PORTUGUÊS**

**01.** Considere a piada abaixo:

O bêbado esta pendurado em um poste cantarolando, até que chega um guarda e diz:

— Desça já daí!

O bêbado desce e o guarda pergunta:

— Quem é você?

— Não se lembra de mim? Sou o mesmo de lá de cima!

Contribui(em) para a “graça” da piada:

- I. A surpresa, o desfecho inesperado, que ocorre com o último trecho do texto.
- II. A informação prévia de que se tratava realmente de um ébrio.
- III. O fato de que o ébrio não compreendeu o contexto do seu interlocutor.

Está(ão) correto(s) o(s) item(ns):

- A) I, apenas;
- B) II, apenas;
- C) I e II, apenas;
- D) I e III, apenas;
- E) I, II e III.

Considere a imagem abaixo e responda as questões 02, 03 e 04.



**02.** Pela imagem acima é possível concluir que:

- A) o garoto se irrita ao afirmar que tirou zero na avaliação.
- B) o garoto faz uma ameaça verbal a professora que lhe deu zero na avaliação.
- C) a professora corrige, mas não justifica o motivo do erro.
- D) a professora ao ver o garoto com uma arma de fogo se vê na obrigação de alterar o resultado da avaliação.
- E) a professora errou na nota obtida pelo aluno e achou melhor corrigi-la.

**03.** De acordo com a fala do garoto, podemos concluir que ocorre a predominância da função:

- A) poética
- B) metalinguística
- C) conativa
- D) expressiva
- E) fática

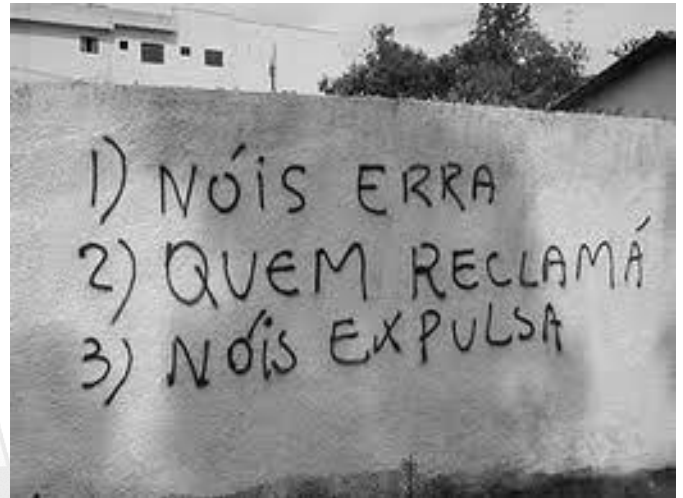
**04.** Ainda sobre a fala do garoto na charge acima, podemos concluir que:

- I. ocorre uma ruptura no uso da língua portuguesa;
- II. há registro de uma variante linguística social;
- III. há o registro da formalidade no uso da língua portuguesa.

Está(ão) correto(s) o(s) item(ns):

- A) I, apenas;
- B) II, apenas;
- C) I e II, apenas;
- D) I e III, apenas;
- E) I, II e III.

**05.** Considere a imagem abaixo e marque a alternativa correta.



Linguisticamente, a forma mais adequada para o enunciado acima seria:

- A) Nós erramos. Quem reclamar, nós expulsaremos.
- B) Nós erramos, mas quem reclamar, nós expulsamos.
- C) Nós erra, quem reclama, nós expulsa.
- D) Nós erra, mas quem reclama, nós expulsa.
- E) Nós erremos, quem reclamar, nós expulsemos.

**06.** Sobre o uso pronominal, marque a alternativa correta.

- A) Nada faz-me querer sair de Pernambuco.
- B) Vou-me embora para Moreilândia.
- C) Em Moreilândia, a prova se realizará neste domingo pela manhã e tarde.
- D) Anita despediu-se, me beijando a face.
- E) Em tratando-se de negócios, João está sempre atento.

**07.** Na expressão: “É provável que ele chegue ainda hoje.”, temos:

- A) Oração Subordinada Substantiva Subjetiva
- B) Oração Subordinada Substantiva Objetiva Direta
- C) Oração Subordinada Substantiva Objetiva Indireta
- D) Oração Subordinada Substantiva Predicativa
- E) Oração Subordinada Substantiva Apositiva

08. No estudo da linguagem, sabemos que o paralelismo consiste em uma sequência de expressões com estrutura idêntica. Com base neste contexto, marque a ÚNICA alternativa INCORRETA.

- A) Mariana vende balas e biscoitos.
- B) Pedro falou para sua mãe que iria para o cinema e depois para a festa.
- C) Fagner tem dois sonhos a se realizar: ser jogador e ficar famoso.
- D) Dona Georgita pediu para seu filho ir na farmácia e depois passasse no supermercado.
- E) Geralda afirmou ao delegado ter ido ao colégio e ter ido ao mercado.

09. Marque, entre as alternativas abaixo, a que apresenta todas as palavras separadas corretamente.

- A) sols-tí-ci-o, al-fai-a-te, ba-lei-a
- B) pneu, rá-bu-la, tungs-tê-ni-o
- C) ap-to, psi-co-se, o-bso-le-to
- D) ad-vir, ab-so-lu-to, si-le-pse
- E) pai, cog-no-me, ar-le-quim

10. Considere o fragmento textual abaixo e marque a alternativa correta.

“O rato roeu a roupa do Rei de Roma.”

Este famoso enunciado tem como predominância, quanto às figuras de linguagem:

- A) metonímia
- B) aliteração
- C) eufemismo
- D) hipérbole
- E) antítese

### CONHECIMENTOS GERAIS

11. Sabemos que Pernambuco está se preparando para receber uma montadora de automóveis que irá elevar ainda mais a economia do estado. Serão milhares de ofertas de emprego a serem gerados durante a instalação da Fiat, bem como, quando do início de produção. A cidade que irá instalar a primeira montadora de automóveis no estado consiste em:

- A) Abreu e Lima
- B) Caruaru
- C) Igarassú
- D) Paulista
- E) Goiana

12. Atualmente, o presidente do Tribunal de Justiça do Estado de Pernambuco corresponde a:

- A) Des. Jones Figueirêdo Alves
- B) Des. José Fernandes de Lemos
- C) Des. Bartolomeu Bueno de Freitas Moraes
- D) Des. Jovaldo Nunes Gomes
- E) Des. Alexandre Guedes Alcoforado Assunção

13. Assinale a alternativa abaixo que apresenta, economicamente, a maior empresa brasileira em valor de mercado.

- A) Itaú
- B) Vale
- C) Bradesco

- D) Bando do Brasil
- E) Petrobras

Considere o texto a seguir e responda a questão 14.

Da manga rosa  
Quero gosto e o sumo.  
Melão maduro, sapoti, juá.  
Jaboticaba, teu olhar noturno;  
Beijo travoso de umbú cajá.  
Pele macia,  
Ai! carne de cajú!  
Saliva doce, doce mel,  
Mel de uruçú.  
Linda morena,  
Fruta de vez temporana,  
Caldo de cana caiana,  
Vem me desfrutar!  
Linda morena,  
Fruta de vez temporana,  
Caldo de cana caiana,  
Vou te desfrutar!  
Morena Tropicana,  
Eu quero teu sabor.  
Ai! Ai! Ioiô! Ioiô!

14. Trata-se de uma das músicas mais conhecidas do meio artístico brasileiro que é de autoria de:

- A) Chico César
- B) Zé Geraldo
- C) Caetano Veloso
- D) Maria Betânia
- E) Alceu Valença

15. Todos os artistas abaixo citados são de Pernambuco, EXCETO:

- A) Alceu Valença
- B) Nando Cordel
- C) Elba Ramalho
- D) Reginaldo Rossi
- E) Geraldo Azevedo

16. É sabido que Pernambuco será uma das sedes da Copa do Mundo em 2014, inclusive com a construção de um moderno estádio de futebol exclusivo para o evento na cidade de:

- A) Recife
- B) São Lourenço da Mata
- C) Carpina
- D) Olinda
- E) Jaboatão dos Guararapes

17. Moreilândia, conforme dados do censo IBGE de 2010, está com uma população estimada em:

- A) 09.766 habitantes
- B) 11.132 habitantes
- C) 17.876 habitantes
- D) 23.445 habitantes
- E) 27.090 habitantes

18. O gentílico utilizado para quem nasce em Moreilândia corresponde a:

- A) moreirense
- B) moreilano
- C) moreiense
- D) moreilense
- E) moreilanense

19. O prefeito eleito na cidade de Moreilândia para o quadriênio 1997-2000 foi:

- A) Valdemar Peixoto de Luna
- B) Antonio Primo de Queiroz
- C) Jose Miranda Filho
- D) João Angelim Cruz
- E) Jeser de Sa Vieira

20. Entender a importância das artes plásticas, torna-se caminho para reconhecer a sensibilidade intelectual de uma pessoa. Muitas vezes, é através de uma obra de arte que se percebe a personalidade do ser humano, bem como, sua expressão de sentimento. Assinale, entre as alternativas abaixo a que apresenta uma artista plástica brasileira:

- A) Clara Nunes
- B) Anita Malfatti
- C) Chiquinha Gonzaga
- D) Clarice Lispector
- E) Cecília Meireles

### CONHECIMENTOS ESPECÍFICOS

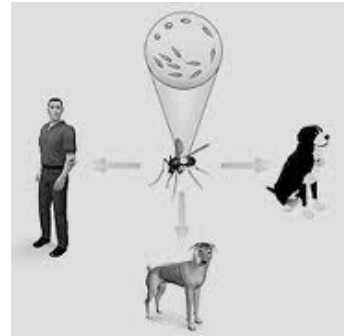
21. Analise a figura abaixo e identifique a alternativa que apresenta corretamente qual Patologia o Ciclo descrito retrata:



(Fonte: caicmario.blogspot.com)

- A) Malária
- B) Leishmaniose
- C) Dengue
- D) Sífilis
- E) Tuberculose

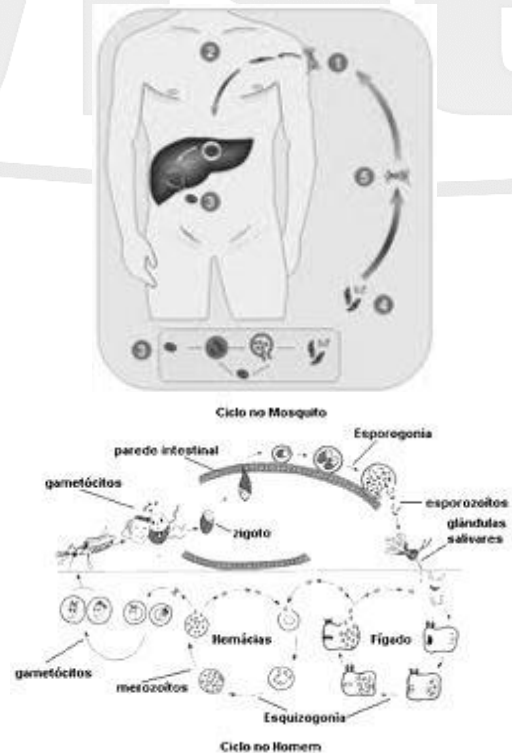
22. Analise agora as figuras abaixo e identifique com qual das Patologias alistadas entre as alternativas elas estão relacionadas diretamente:



(Fonte: patologias.blogspot.com) (Fonte: conscienciapet.blogspot)

- A) Malária
- B) Leishmaniose
- C) Dengue
- D) Hanseníase
- E) Tuberculose

23. Identifique agora com qual das Patologias abaixo alistadas como alternativas se relacionam as figuras seguintes:



(Fonte: sciELO.br)

(Fonte: sobiologia.com)

- A) Esquistossomose
- B) Tuberculose
- C) Dengue
- D) Leishmaniose
- E) Malária

24. Identifique qual das alternativas seguintes apresenta apenas patologias provocadas por Agentes Virais:

- A) Sífilis, Tuberculose, Sarampo
- B) Raiva, AIDS e Rubéola
- C) Hanseníase, Tuberculose e Poliomielite
- D) Esquistossomose, Malária e Leishmaniose
- E) Sarampo, Catapora e Hanseníase

25. Identifique dentre as alternativas seguintes a que contém apenas Patologias provocadas por Agentes Bacterianos:

- A) Sarampo, Tuberculose e Hanseníase
- B) Raiva, Rubéola e Tuberculose
- C) Hanseníase, AIDS e Esquistossomose
- D) Leishmaniose, Tuberculose e Raiva
- E) Tuberculose, Hanseníase e Cólera

26. Analise agora a seguinte Definição: “É um conjunto de procedimentos adotados numa determinada região que visa proporcionar uma situação higiênica saudável para os habitantes. Entre tais procedimentos, podemos citar: tratamento da água, canalização e tratamento esgotos, limpeza pública de ruas e avenidas, coleta e tratamento de resíduos orgânicos e materiais.”

- A Definição acima refere-se a:

- A) Engenharia Ambiental
- B) Esgotamento Sanitário
- C) Engenharia Sanitária
- D) Saneamento Básico
- E) Tratamento de Esgotos

27. Sabemos que o sarampo é uma doença de natureza viral, infecciosa aguda, transmissível e extremamente contagiosa. Ela é uma doença muito comum na infância. Na prevenção do sarampo, o Ministério da Saúde recomenda a vacina:

- A) Tríplice viral: 1ª dose com 12 meses de vida e 2ª dose com 4 anos de vida.
- B) Tetravalente: 1ª dose com 15 meses de vida e 2ª dose com 6 anos de vida.
- C) Tetravalente: 1ª dose com 15 meses de vida e 2ª dose com 4 anos de vida.
- D) Tríplice viral: 1ª dose com 18 meses de vida e 2ª dose com 8 anos de vida.
- E) Tríplice bacteriana: 1ª dose com 18 meses de vida e 2ª dose com 8 anos de vida.

28. Considere os itens abaixo sobre às formas de se contrair o vírus HIV.

- I- Fazendo sexo com camisinha com pessoa contaminada.
- II- Da mãe para o bebê durante a gravidez, na hora do parto e/ou amamentação.
- III- Compartilhando agulhas e seringas contaminadas.

Está(ão) correto(s) o(s) item(ns):

- A) I, apenas;
- B) II, apenas;
- C) III, apenas;
- D) II e III, apenas;
- E) I, II e III.

29. O Sistema Único de Saúde (SUS) teve seus princípios estabelecidos na Lei Orgânica de Saúde, em 1990, com base no:

- A) Artigo 78 da Constituição Federal de 1988.
- B) Artigo 149 da Constituição Federal de 1988.
- C) Artigo 158 da Constituição Federal de 1988.
- D) Artigo 168 da Constituição Federal de 1988.
- E) Artigo 198 da Constituição Federal de 1988.

30. Com base nos princípios doutrinários que conferem ampla legitimidade ao Sistema Único de Saúde, marque a alternativa correta.

- A) Informação, Integralidade, Equidade
- B) Universalidade, Qualidade, Informação
- C) Universalidade, Integralidade, Equidade
- D) regionalidade, Integralidade, Acesso
- E) Integralidade, Gratuidade, Universalidade