

**PORTUGUÊS**

**TEXTO I**

Leia o texto e responda as questões.

Por que algumas aves voam em bando formando um V?

Elas parecem ter ensaiado. Mas é claro que isso não acontece. Quem nunca viu ao vivo, já observou em filme ou desenho animado aquele bando de aves voando em "V". Segundo os especialistas, esta característica de voo é observada com mais frequência nos gansos, pelicanos, biguás e groux.

Há duas explicações para a escolha dessa formação de voo pelas aves. A primeira consiste na economia de energia que ela proporciona. Atrás do corpo da ave e, principalmente, das pontas de suas asas, a resistência do ar é menor e, portanto, é vantajoso para as aves voar atrás da ave dianteira ou da ponta de sua asa. Ou seja: ao voarem desta forma, as aves poupariam energia, se esforçariam menos, porque estariam se beneficiando do deslocamento de ar causado pelas outras aves. Isso explicaria, até, a constante substituição do líder nesse tipo de bando.

Essa é a primeira explicação para o voo em "V". E a segunda? O que diz? Ela sustenta que esse tipo de voo proporcionaria aos integrantes do bando um melhor controle visual do deslocamento, pois em qualquer posição dentro do "V" uma ave só teria em seu campo de visão outra ave, e não várias. Isso facilitaria todos os aspectos do voo. Os aviões militares de caça, por exemplo, voam nesse mesmo tipo de formação, justamente para ter um melhor campo de visão e poder avistar outros aviões do mesmo grupo. Essas duas explicações não são excludentes. É bem possível que seja uma combinação das duas o que torna o voo em "V" favorável para algumas aves.

(NACINOVIC, Jorge Bruno, Por que algumas aves... *Ciência Hoje das Crianças*, Rio de Janeiro, n. 150, set. 2004.)

01. Segundo o texto podemos afirmar:

- A) Trata-se de uma narrativa
- B) Trata-se de um texto dissertativo.
- C) Trata-se de um texto injuntivo
- D) Trata-se de um texto argumentativo.
- E) Trata-se de um texto descritivo.

02. De acordo com as regras ortográficas e correto afirmarmos que na frase:

“Por que algumas aves voam em bando formando um V?”

- A) O uso do “por que” está grafado incorretamente.
- B) O “por que” está grafado incorretamente porque trata-se de um pronome relativo.
- C) O uso do “por que” separado é correto apenas no final de frases interrogativas.
- D) Seria correto o uso do “por que” apenas se tivesse acentuado.
- E) O uso do “por que” está grafado corretamente porque se trata de um pronome interrogativo.

03. De acordo com as novas regras ortográficas marque V (verdadeiro) ou F (falso).

- ( ) O texto não está dentro das novas regras ortográficas.
- ( ) Frequentemente e voo não estão grafadas corretamente.
- ( ) Líder e favorável foi modificado pelo novo acordo ortográfico.
- ( ) O texto está dentro do novo acordo.
- ( ) A letra B está correta, tendo em vista que o acordo ortográfico modificou todas as palavras que têm trema.

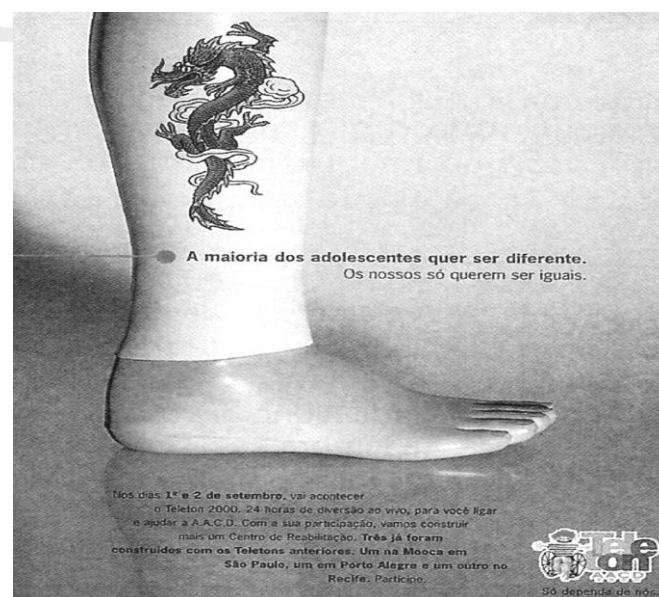
- A) FVFFV
- B) VVFFF
- C) FVFFF
- D) FFVVV
- E) FVVFF

04. Leia atentamente a tirinha e responda.



- A) No primeiro quadrinho- nestes é um pronome e refere-se às pessoas
- B) No 1º quadrinho neste é um pronome e refere-se a lugares.
- C) No 2º quadrinho quem é um pronome relativo.
- D) Sr é um pronome de demonstrativos
- E) Ele é um pronome pessoal (plural)

05. Leia a publicidade abaixo e marque a alternativa ERRADA.



- I. O texto refere-se à igualdade entre os adolescentes (deficientes ou não)
- II. Refere-se aos adolescentes que possuem deficiência física.
- III. A perna mostrada na imagem é de brinquedo

- IV. A perna é mecânica está tatuada porque é de um adolescente que quer ser igual a todos os outros.  
V. Está Incorreta apenas a letra C.

Sequência CORRETA.

- A) I/II  
B) I/III  
C) II/IV  
D) I/IV  
E) II/V

06. Observe a propaganda.

- A) Temos apenas o pronome possessivo nossos.  
B) Temos a presença de outros pronomes  
C) “SER” é pronome  
D) “Iguais” é verbo  
E) “DOS” é pronome relativo.

07. Leia atentamente a tirinha abaixo e marque a resposta CORRETA.



(CIÇA. *Pagando o pato*. Porto Alegre: L&PM, 2006, p.28. In: ABAURRE, M. L. M. et alii. *Português: contexto, interlocução e sentido*. São Paulo: Moderna, 2008, p.326.)

- A) No primeiro quadrinho os patinhos referem-se a um local indeterminado.  
B) Casa refere-se ao lar demonstrado no texto.  
C) Há uma ironia presente no texto.  
D) Há a presença de uma crítica social.  
E) Há a presença de uma crítica educacional

08. Sobre a tira, pode-se afirmar:

- I. No segundo quadrinho o termo **vivente** é uma metáfora com a vida.  
II. Vivente é uma comparação com o sofrimento.  
III. As cores dos patinhos enfatizam a divisão de classes sociais.  
IV. As cores dos patinhos demonstram a miséria vivenciada pela camada social, que em sua maioria é negra.  
V. O termo **nenhum** faz referência aos patinhos brancos.

Sequência CORRETA.

- A) I/III  
B) III/V  
C) III/IV  
D) II/III  
E) IV/V

Leia o diálogo abaixo e responda as questões 9 e 10.

TEXTO II

Bate-papo entre presos

Dois presos batiam papo no xadrez. Dizia o preso um: - aí mano o cara foi absolvido de novo lá no Senado. Diz o preso dois: também tu não ouviu dizer que quando 90% dos que julgaram tem telhado de vidro, não tem moral pra condenar ninguém. Fica difícil, né mano? Então é como dizia o meu velho pai: - filho se tu cair do cavalo, cai dum puro sangue, não dum pangaré, tá? ou: - filho, se tu roubar, rouba bastante, porque na cadeia só tem otário, pobre e miserável. Aí, mano! Não ouvi o coroa. Deu no que deu!

<http://www.brownsugarnew-brownsugar.blogspot.com/>

09. No texto III podemos INFERIR:

- A) A linguagem utilizada é a formal ou culta.  
B) Predomina a linguagem conotativa.  
C) Há a presença da função apelativa da linguagem  
D) Temos com predominância a linguagem denotativa.  
E) Sobressai-se a linguagem metafórica.

10. No fragmento abaixo é correto afirmarmos que:

Fragmento: “**Diz o preso dois: também tu não ouviu dizer que quando 90% dos que julgaram tem telhado de vidro, não tem moral pra condenar ninguém.**”

- A) Na expressão “tu não ouviu” está dentro da norma padrão da linguagem.  
B) “telhado de vidro” - está no sentido metafórico.  
C) “telhado de vidro” - está no sentido literal.  
D) “telhado de vidro” - está no sentido denotativo  
E) “telhado de vidro” - possuem um sentido ambíguo em relação ao falante.

CONHECIMENTOS GERAIS

11. Recentemente, o Senado Federal cassou o mandato de um senador da República por quebra de Decoro Parlamentar ao manter relações estreitas com o contraventor Carlos Augusto Ramos, o Carlinhos Cachoeira. A cassação mostra os primeiros resultados da CPMI do Cachoeira, criada no Congresso Nacional para investigar o esquema de jogos ilegais em alguns estados brasileiros. Marque a alternativa abaixo que apresenta o senador cassado pelo Senado Federal.

- A) Aécio Neves  
B) Armando Monteiro  
C) Fernando Collor  
D) Paulo Paim  
E) Demóstenes Torres

12. No Brasil, os serviços de telefonia celular vem sendo alvo de muitas reclamações por parte dos consumidores que alegam usar os sistemas com péssima qualidade. Em virtude disso, um órgão do Governo Federal está agindo sistematicamente na exigência de serviços de qualidade, sob pena de advertência, multa e suspensão dos serviços por parte das empresas reclamadas. Marque, entre as alternativas abaixo, a que apresenta o órgão responsável pela regulamentação desses serviços.

- A) ANEEL  
B) ANCINE  
C) ANVISA  
D) ANATEL  
E) ANAC

13. Em Pernambuco, todos os cargos públicos citados abaixo são exercidos de forma eletiva, EXCETO:

- A) Conselheiro tutelar
- B) Procurador Geral do Ministério Público
- C) Assessor parlamentar
- D) Diretor de escola
- E) Prefeito

14. Entre os cantores citados abaixo, marque o único de origem pernambucana.

- A) Lenine
- B) Alcione
- C) Zé Ramalho
- D) Caetano Veloso
- E) Djavan

15. Assinale, entre as alternativas abaixo, a que apresenta o atual presidente do Tribunal de Justiça de Pernambuco.

- A) Des. Jones Figueirêdo Alves
- B) Des. Jovaldo Nunes Gomes
- C) Des. Eduardo Augusto Paurá Peres
- D) Des. Alderita Ramos de Oliveira
- E) Des. Roberto da Silva Maia

16. As primeiras povoações do município de Petrolândia se deram nas fazendas:

- A) Fazenda Brejinho da Serra e Fazenda Brejinho de Dentro;
- B) Fazenda Brejinho de Fora e Fazenda Brejinho de Dentro;
- C) Fazenda Brejinho de Fora e Fazenda Brejinho da Serra;
- D) Fazenda Brejinho da Serra e Fazenda Jatobá;
- E) Fazenda Jatobá e Fazenda Brejinho de Dentro.

17. Conforme o Censo Populacional realizado pelo IBGE em 2010, a população de Petrolândia chegou ao número de:

- A) 19.895 habitantes
- B) 22.549 habitantes
- C) 27.125 habitantes
- D) 32.492 habitantes
- E) 36.266 habitantes

18. No ano de 2011 o Município de Petrolândia recebeu o título da capital Pernambucana de:

- A) Ovinocaprino;
- B) Coconicultura;
- C) Piscicultura;
- D) fruticultura;
- E) Suinocultura.

19. As cores predominantes na bandeira do Município de Petrolândia são:

- A) azul e branco;
- B) amarelo e branco;
- C) vermelho e branco;
- D) verde e branco;
- E) azul e verde.

20. O Município de Petrolândia está localizado na microrregião de:

- A) Petrolândia;
- B) São Francisco;
- C) Itaparica;
- D) Caatinga;
- E) Alto Sertão.

## CONHECIMENTOS ESPECÍFICOS

21. É por meio da Visita Domiciliar que se realizarão as seguintes tarefas, com exceção de:

- A) Identificação de indivíduos familiares saudáveis ou não
- B) Acompanhamento das famílias
- C) Cadastramento
- D) Projetos de como vivem os vizinhos da família visitada
- E) Trabalho educativo

22. "Indicadores de saúde são parâmetros utilizados internacionalmente com o objetivo de avaliar, sob o ponto de vista sanitário, a higidez de agregados humanos, bem como fornecer subsídios aos planejamentos de saúde, permitindo o acompanhamento das flutuações e tendências históricas do padrão sanitário de diferentes coletividades consideradas à mesma época ou da mesma coletividade em diversos períodos de tempo" (Rouquayrol, 1993).

Acerca dos Indicadores de Saúde, pode-se afirmar corretamente que:

- A) Indicam erros cometidos em saúde
- B) São acontecimentos ou fatos importantes, que sugerem o nível de saúde comunitário
- C) São fatos que avaliam as atividades comunitárias
- D) Mostram o poder idealizador da política na comunidade
- E) São fatos que mostram a direção dos serviços de saúde

23. Acerca dos Estudos Ecológicos e suas utilidades, julgue os itens a seguir em Verdadeiros (V) ou Falsos (F), e, julgue qual a alternativa com a Sequência CORRETA:

- ( ) Detectam territórios com excesso de doenças
- ( ) Geram hipóteses acerca da etiologia de males da saúde
- ( ) Testam hipóteses em diferentes bancos de dados, com métodos diferentes

- A) FFF
- B) FFV
- C) FVF
- D) VVV
- E) VFF

24. Qual a Doença bastante contraída em casos de enchentes, uma vez havendo o contato com o veículo causador, a saber, a urina de ratos?

- A) Esquistossomose
- B) Raiva
- C) Rubéola
- D) Febre amarela
- E) Leptospirose

25. Qual das doenças abaixo é causada por um Protozoário?

- A) Esquistossomose
- B) Malária
- C) Doença de Chagas
- D) Dengue
- E) Raiva

26. Com respeito à nutrição, o leite materno é dado como o suprimento mais completo para os recém-nascidos e para os bebês até quantos meses de idade?

- A) 3
- B) 6
- C) 9
- D) 10
- E) 12

27. Qual o “período de validade” da vacina antitetânica, tendo assim que ser renovada?

- A) 1 ano
- B) 2 anos
- C) 5 anos
- D) 7 anos
- E) 10 anos

28. Qual deve ser o correto descarte, quando o ACS/AE, numa visita domiciliar, se depara com vários remédios com validade vencida?

- A) Enterrar no fundo do quintal
- B) Jogar no vaso sanitário
- C) Descartar juntamente com os resíduos orgânicos
- D) Recolher e entregar os medicamentos na USB mais próxima
- E) Descartar, juntamente com lixo reciclável

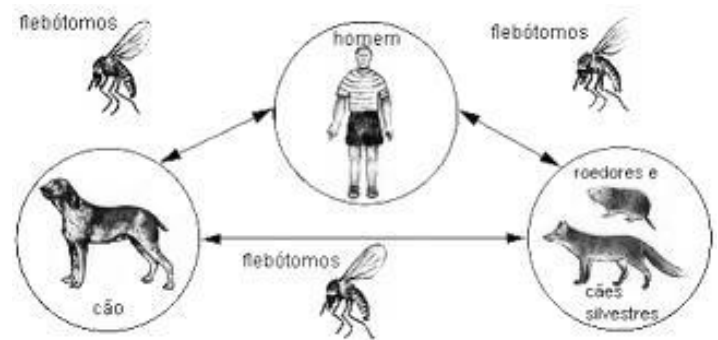
29. Qual alternativa apresenta uma Medida Profilática relacionada à Esquistossomose?

- A) Uso de sapatos e eliminação higiênica das fezes humanas
- B) Desfazer-se de ratos
- C) Destruição de caramujos planorbídeos
- D) Cozimento completo da carne suína
- E) Vacinação em dia dos cães

30. Durante uma visita, o ACS/AE se depara com uma criança de 2 anos, com vômito e diarreia, residente numa micro área de risco. Coincidentemente, o filho da vizinha, na semana anterior, teve o mesmo problema, mas, tomou um remédio e ficou bom. Logo, a mãe ficou de pegar o que restou de tal medicamento e dar para seu filho. O que o ACS/AE deve fazer, nesse caso?

- A) Disponibilizar para a criança um medicamento para a diarreia
- B) Concordar com a vizinha, e sugerir o uso do medicamento
- C) Cortar a alimentação da criança e leva-la ao hospital, imediatamente
- D) Disponibilizar para a criança um medicamento para vômito, e deixa-la com diarreia, uma vez a diarreia ser “boa”, limpando o organismo de toxinas
- E) Orientar a mãe a não utilizar-se do medicamento antes da consulta médica, além de estimular a ingestão de soro caseiro e alimentação leve e procurar a UBS para atendimento profissional adequado

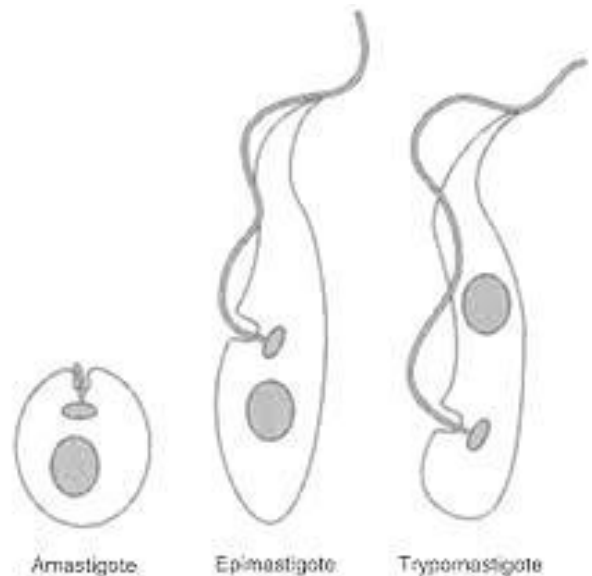
31. Analise atentamente a figura abaixo e identifique a alternativa que corresponde ao Ciclo Biológico da Patologia com que ela está relacionada:



(Fonte: adventrezone.com.br)

- A) Malária
- B) Tuberculose
- C) Leptospirose
- D) Dengue
- E) Leishmaniose

32. A Figura abaixo representa o Agente Etiológico de qual das Patologias de interesse sanitário relacionadas a seguir?



(Fonte: losmicrobios.com.ar)

- A) Tuberculose
- B) Doença de Chagas
- C) Malária
- D) Dengue
- E) Esquistossomose

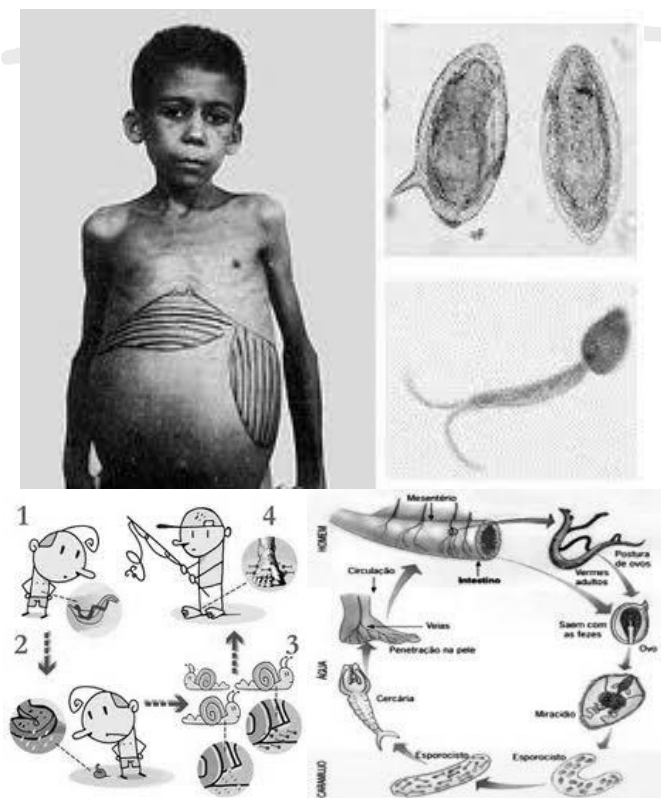
33. Observe as figuras seguintes e identifique a alternativa que corresponde à Patologia com que estas se relacionam:



(Fonte: secvotorantim.blogspot.com) (Fonte: solangebrincandoeaprendendo.blogspot.com)

- A) Malária
- B) Esquistossomose
- C) Raiva
- D) Dengue
- E) Leishmaniose

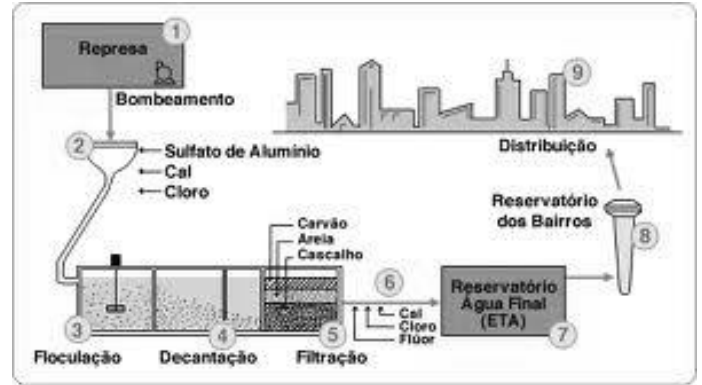
34. Analise as figuras abaixo e identifique com qual das Patologias abaixo elencadas estas se relacionam:



(Fonte: mundoeducacao.com.br) (Fonte: biomuseu.blogspot.com) (Fonte: papodeestudante.com)


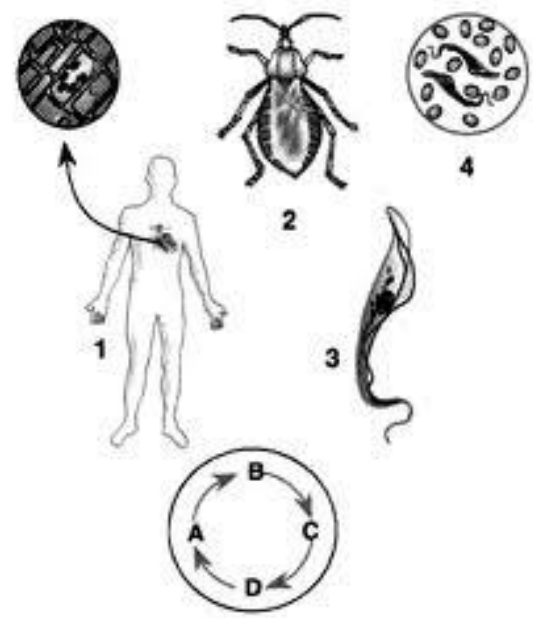
- A) Esquistossomose
- B) Dengue
- C) Tuberculose
- D) Malária
- E) Raiva

35. O Esquema abaixo está relacionado com que importante meio de Higiene Pública, que nos últimos decênios tem sido responsabilizado pela elevação constante dos índices de condições de vida e até mesmo da expectativa de vida da população, em diversos Continentes?



- A) Perfil Epidemiológico da População
- B) Estação de Tratamento Clínico
- C) Vigilância Sanitária
- D) Vigilância Epidemiológica
- E) Estação de Tratamento de Abastecimento

36. As figuras abaixo estão relacionadas diretamente com a transmissão de qual das Patologias citadas a seguir?



(Fonte : virtual.epm.br) ( Fonte: nossabio.blogspot.com)



(Fonte: misodor.com)

- A) Malária
- B) Tuberculose
- C) Doença de Chagas
- D) Esquistossomose
- E) Leishmaniose

37. Com relação ao SUS, identifique a opção INCORRETA:

- A) A Descentralização dos Serviços de Saúde para os Municípios não é um alvo prioritário do SUS.
- B) Pode-se afirmar que a execução de ações de Vigilância Epidemiológica, Sanitária e de Saúde do Trabalhador são atribuições do SUS.
- C) Pode-se afirmar que a Conferência de Saúde e o Conselho de Saúde são instâncias colegiadas do SUS.
- D) Pode-se afirmar que a Universalidade do acesso, a Integralidade das ações e a Igualdade da assistência à saúde são Princípios do SUS.
- E) A Direção do SUS no âmbito Estadual e do Distrito Federal é exercida pela respectiva Secretaria de Saúde.

38. Pode-se afirmar CORRETAMENTE que a saúde, na Constituição de 1988, é percebida como:

- A) Um Direito de Consumidor, assegurado pela devida regulamentação do Mercado através de um Código de Leis efetivado após Lei Complementar outorgada ou promulgada pelas respectivas Câmaras, sejam estas Municipais, Estaduais ou Federal.
- B) Um bem, que deve ser adquirido livremente no mercado, conforme as respectivas Leis de Oferta e Procura.
- C) Um Estado de Bem Estar Físico, Psíquico e Social, não devendo ser visto apenas como a ausência de processos patológicos ou desconforto de ordem Social.
- D) Um Estado de Bem Estar Espiritual e Físico, em decorrência da ação do Estado e do próprio indivíduo na busca da completa satisfação de seus anseios e necessidades.
- E) Um Direito de Cidadania, que deve ser garantido por Políticas Sociais e Econômicas.

39. A Constituição Federal de 1988 estabelece que o acesso aos Serviços de Saúde no país tem um caráter:

- A) Civil, em que a responsabilidade Estatal é restrita.
- B) Universal, ao qual todos os cidadãos têm direito.
- C) Universal, mas restrito pelas Leis específicas de cada Estado.
- D) Seletivo, mas disponível para a maioria, principalmente para aqueles menos favorecidos economicamente.
- E) Seletivo, mas, em cada esfera de governo, Municipal, estadual e Federal, garantido às camadas mais necessitadas da população através de Programas Governamentais de transferência de Renda e por Serviços facilmente encontrados e disponíveis na própria comunidade (Bolsa família, Bolsa Escola, Postos de Saúde, Hospitais Públicos, etc.).

40. Identifique a opção INCORRETA com relação aos Princípios e ou Diretrizes Organizacionais do SUS definidos pela Lei Orgânica de Saúde:

- A) Saúde como Direito de todos e Dever do Estado.
- B) Universalidade do acesso ao Sistema, com atendimento preferencial à população de baixa renda.
- C) Descentralização dos serviços aos Municípios com Direção única em cada esfera de governo.
- D) Integralidade da assistência à Saúde, incorporando ações e serviços individuais e coletivos, preventivos e curativos.
- E) Liberdade para a iniciativa privada prestar assistência técnica à saúde.