



# PREFEITURA MUNICIPAL DE LAGOA SANTA

CONCURSO PÚBLICO - Edital 001/2012

## Auxiliar Funerário, Soldador, Bombeiro Hidráulico, Serviços Gerais (30 horas) Códigos 601 a 604

---

**LEIA COM ATENÇÃO AS INSTRUÇÕES DESTE CADERNO.  
Elas fazem parte da sua prova.**

---

Este caderno contém a **Prova Objetiva** abrangendo conteúdos de **Língua Portuguesa e Matemática**.

---

Ao receber a **Folha de Respostas**:

- confira seu nome, número de inscrição e cargo de opção;
  - assine, **A TINTA**, no espaço próprio indicado.
- 

	A	B	C	D
01	<input checked="" type="checkbox"/>	<input type="checkbox"/>	<input type="checkbox"/>	<input type="checkbox"/>
02	<input type="checkbox"/>	<input checked="" type="checkbox"/>	<input type="checkbox"/>	<input type="checkbox"/>
03	<input type="checkbox"/>	<input type="checkbox"/>	<input checked="" type="checkbox"/>	<input type="checkbox"/>
04	<input type="checkbox"/>	<input type="checkbox"/>	<input type="checkbox"/>	<input checked="" type="checkbox"/>

Ao transferir as respostas para a **Folha de Respostas**:

- use apenas caneta esferográfica azul ou preta;
  - preencha, sem forçar o papel, toda a área reservada à letra correspondente à resposta solicitada em cada questão;
  - assinale somente uma alternativa em cada questão. Sua resposta não será computada se houver marcação de mais de **uma alternativa, questões não assinaladas ou questões rasuradas**.
- 

**NÃO DEIXE NENHUMA QUESTÃO SEM RESPOSTA.**

A **Folha de Respostas** não deve ser dobrada, amassada ou rasurada.  
**CUIDE BEM DELA, ELA É A SUA PROVA.**

---

**ATENÇÃO** – Nos termos do Edital 001/2012, “poderá, [...] ser eliminado o candidato que:

- [...] **portar arma(s)** no local de realização das provas [...];
  - **portar, mesmo que desligados**, [...] quaisquer equipamentos eletrônicos [...] ou instrumentos de comunicação [...] **telefone celular** [...] entre outros, ou deles fizer uso;
  - [...] deixar de atender as normas contidas no Caderno de questões da Prova Objetiva e na Folha de Respostas da Prova Objetiva [...];
  - [...] deixar de entregar a Folha de Respostas da Prova Objetiva, findo o prazo limite para realização das provas” (subitem 9.1.29 alíneas “d”, “e”, “g” e “i”).
- 

**DURAÇÃO MÁXIMA DA PROVA - QUATRO HORAS.**

---

## ATENÇÃO

Senhor(a) Candidato(a),

Antes de começar a fazer a prova, confira se este caderno contém, ao todo, **30 (trinta) questões objetivas**, cada uma constituída de **4 (quatro) alternativas**, assim distribuídas: **15 (quinze) questões de Língua Portuguesa, 15 (quinze) questões de Matemática**, todas perfeitamente legíveis.

Identificando algum problema, informe-o ***imediatamente*** ao aplicador de provas para que ele tome as providências necessárias.



Caso V.S<sup>a</sup> não observe essa recomendação, ***não lhe caberá qualquer reclamação ou recurso posteriores.***

# Língua Portuguesa

**INSTRUÇÃO** – Este texto foi retirado da internet.

Leia-o com atenção para responder as questões de 1 a 4.

## Nutricionista fala sobre os benefícios das frutas cítricas



Disponível em:

[http://www.google.com.br/search?q=imagens+de+frutas+c%C3%ADtricas&hl=ptBR&prmd=imvns&tbn=isc&tbo=u&source=univ&sa=X&ei=zXGoT83wOobq8wTi\\_Mi7CQ&ved=0CF0QsAQ&biw=1360&bih=587](http://www.google.com.br/search?q=imagens+de+frutas+c%C3%ADtricas&hl=ptBR&prmd=imvns&tbn=isc&tbo=u&source=univ&sa=X&ei=zXGoT83wOobq8wTi_Mi7CQ&ved=0CF0QsAQ&biw=1360&bih=587)

A nutricionista Karin Honorato fala sobre os benefícios das frutas cítricas: laranja, limão, mexerica. Essas frutas estão começando a entrar na safra, o que as tornam mais nutritivas e baratas. Segundo Karin, as frutas cítricas são conhecidas por serem ricas em vitamina C, o que ajuda a imunidade, protege o organismo e tem ação contra gripe e infecções. Mas a nutricionista mostra que elas têm outros benefícios.

De acordo com a Karin, além da vitamina C, essas frutas também são ricas em vitamina A boa para o cabelo, para a visão e até para imunidade. Outro nutriente citado por ela é o potássio, que age na pressão arterial e também evita as câimbras.

Sobre a laranja, a nutricionista destaca a importância do consumo do bagaço da fruta e, até mesmo, da parte branca, ricas em fibras. Importantes para o “bom funcionamento intestinal”.

Entre esse grupo de frutas cítricas, a nutricionista classifica a mexerica como a mais rica em fibras e ainda destaca a função terapêutica do óleo (sumo) presente nas cascas

dessas frutas. “Além de o aroma abrir o raciocínio e melhorar os funcionamentos neurológicos, esses óleos ajudam muito a prevenir infecções”, explicou.

Ela faz um alerta para o cuidado com a exposição ao sol ao consumir e manusear essas frutas. Isso pode causar queimaduras e manchas na pele.

Texto adaptado

Disponível em: <<http://g1.globo.com/minas-gerais/noticia/2012/05/nutricionista-fala-sobre-diabetes-e-cuidados-na-alimentacao.html>>

### **Questão 1**

A partir do texto, pode-se concluir que consumir as frutas fora da safra não é recomendável porque elas ficam mais

- A) baratas.
- B) caras.
- C) nutritivas.
- D) saborosas.

### **Questão 2**

De acordo com o texto, a vitamina A das frutas cítricas é boa para

- A) a gripe.
- B) as infecções.
- C) o cabelo.
- D) o intestino.

### **Questão 3**

Segundo o texto, comer o bagaço da laranja ajuda no funcionamento

- A) do coração.
- B) do fígado.
- C) do intestino.
- D) dos rins.

#### Questão 4

É **INCORRETO** afirmar que o óleo (sumo) presente nas cascas das frutas cítricas

- A) ajuda a curar queimaduras e manchas da pele.
- B) ajuda muito a prevenir infecções.
- C) abre o raciocínio por meio de seu aroma.
- D) melhora os funcionamentos neurológicos por meio de seu aroma .

#### Questão 5

Nara, servente escolar, fez uma lista, em ordem alfabética, das frutas que precisavam ser compradas pela diretora.

Assinale a alternativa que apresenta corretamente a lista feita por Nara.

- A) laranja – banana – mexerica – maçã
- B) maçã – laranja – mexerica – banana
- C) mexerica – maçã – laranja – banana
- D) banana – laranja – maçã – mexerica

**INSTRUÇÃO** – Leia o aviso com atenção para responder as questões de **6 a 8**.

\_\_\_\_\_ auxiliares funerários,

Amanhã, dia 02 de junho, haverá um serviço de limpeza geral nas áreas verdes do cemitério.

Pedimos que todos vocês organizem, com antecedência, todos os **materiais** necessários para a realização dessa tarefa.

**Obrigada,**

Sílvio de Abreu

Gerente de Serviços Gerais

### **Questão 6**

A alternativa que apresenta a palavra que completa ***corretamente*** a lacuna no aviso acima é

- A) Meus amigos
- B) Queridos
- C) Senhores
- D) Vossa Excelência

### **Questão 7**

No aviso, a palavra **Obrigada** foi usada de forma inadequada.

Assinale a alternativa que apresenta a forma ***CORRETA*** para a despedida nesse aviso.

- A) Grata
- B) Gratas
- C) Obrigado
- D) Obrigados

### Questão 8

No aviso, a palavra materiais foi incorretamente dividida em sílabas.

Assinale a alternativa que apresenta a divisão silábica **CORRETA** da palavra em destaque.

- A) materi- ais
- B) mat - eriais
- C) mater- iais
- D) materiai- s

### Questão 9

Paulo, ao fazer a relação das ferramentas de que precisaria para realizar uma tarefa, escreveu um dos nomes com erro de ortografia.

Assinale a alternativa que apresenta a escrita feita por Paulo.

- A) Alicate de pressão
- B) Chave de cano
- C) Maçarico
- D) Tarraxa

### Questão 10

Um soldador tem a função de \_\_\_\_\_ os equipamentos, os acessórios de soldagem e de corte e as peças a \_\_\_\_\_ soldadas.

As palavras que completam **corretamente** a frase acima são

- A) preparar – ser
- B) preparar - serem
- C) prepararem – ser
- D) prepararem – serem

### Questão 11

O servente escolar deve manter \_\_\_\_\_ e organizados os utensílios necessários ao desempenho da sua função.

A palavra que completa **corretamente** a frase acima é

- A) cheio.
- B) limpos.
- C) sujos.
- D) vazio.

### Questão 12

Os funcionários dos serviços gerais controlam a movimentação de pessoas, identificando, orientando e encaminhando-**as** para os lugares desejados.

Na frase acima, a palavra **as** refere-se

- A) aos funcionários.
- B) aos lugares.
- C) às orientações.
- D) às pessoas.

### Questão 13

Assinale a alternativa que apresenta, de maneira **CORRETA**, a frase no plural.

- A) As câmaras de ar estão sendo reformadas.
- B) As licenças-prêmio serão concedidas aos funcionários.
- C) Os altos-falantes não estão funcionando.
- D) Os guardas-civis estão de plantão.



### Questão 14

A servente escolar precisa verificar a qualidade dos gêneros alimentícios para **minimizar** os riscos de contaminação.

Na frase acima, o sinônimo da palavra **minimizar** é

- A) aumentar.
- B) duplicar.
- C) maximizar.
- D) diminuir.

### Questão 15

As caixas já estão com **muitos** documentos.

Na frase acima, o contrário da palavra **muitos** é

- A) grandes
- B) pequenos
- C) poucos
- D) raros

## Matemática

### Questão 16

Um armário precisa de seis parafusos para ser fixado na parede. Serão colocados 12 armários no prédio de uma escola.

Para fixar todos os armários, serão necessários

- A) 61 parafusos.
- B) 62 parafusos.
- C) 71 parafusos.
- D) 72 parafusos

### Questão 17

Para fazer a tubulação de água de uma cozinha, foram gastos  $\frac{2}{3}$  de um cano de 12 metros de comprimento.

É **CORRETO** afirmar que, do cano usado, sobraram

- A) três metros.
- B) quatro metros.
- C) seis metros.
- D) oito metros.

### Questão 18

Leia o quadro com as horas em que é servida a alimentação para os alunos de uma escola.

Horário de alimentação			
8 horas	11 horas	14 horas	

Nesse caso, é **CORRETO** afirmar que a próxima alimentação será servida às

- A) 15 horas.
- B) 16 horas.
- C) 17 horas.
- D) 18 horas.

### Questão 19

Uma escola precisa de 90 litros de suco para servir o lanche dos alunos durante um mês de aula. Em um determinado mês, não houve aula durante quatro dias.

Considerando o mês com 30 dias, é **CORRETO** afirmar que, nesse mês, a escola gastou

- A) 78 litros de suco.
- B) 48 litros de suco.
- C) 12 litros de suco.
- D) três litros de suco.

### Questão 20

O intervalo para o lanche em um escritório é de 15 minutos pela manhã e de 15 minutos pela tarde.

É **CORRETO** afirmar que, em uma semana de cinco dias de trabalho, o tempo gasto com o lanche é de

- A) duas horas e 15 minutos.
- B) duas horas e 30 minutos.
- C) duas horas e 45 minutos.
- D) três horas.

### Questão 21

Observe abaixo o cartaz de uma loja.

Promoção
Compre 2 blusas e leve 3 por R\$ 25,00

Uma pessoa levou seis blusas da promoção. Nesse caso, é **CORRETO** afirmar que ela gastou

- A) R\$ 25,00.
- B) R\$ 35,00.
- C) R\$ 50,00.
- D) R\$ 75,00.

### Questão 22

Um determinado remédio foi vendido no dia 17 de março de 2012 e tem a seguinte data de validade: **23 de dezembro de 2012**.

Nesse caso, é **CORRETO** afirmar que o remédio poderá ser utilizado durante

- A) oito meses.
- B) nove meses.
- C) 10 meses.
- D) 11 meses.

### Questão 23

O resultado da operação  $0,23 + 0,977$  é

- A) 0,127.
- B) 0,127.
- C) 1, 207.
- D) 10,00.

### Questão 24


Um comerciante precisa guardar 60 bolas em caixas. Em cada caixa cabem sete bolas.

É **CORRETO** afirmar que ele precisará de

- A) seis caixas.
- B) sete caixas.
- C) oito caixas.
- D) nove caixas.

### Questão 25

Observe a representação da divisão da barra de chocolate de um menino.



O menino comeu três décimos da barra de chocolate depois do almoço e dois décimos depois do jantar.

A parte da barra de chocolate que **sobrou** corresponde a

- A) 0,33.
- B) 0,5.
- C) 0,6.
- D) 5,0.

### Questão 26

Um menino tem um cofre com o seguinte dinheiro: 12 moedas de R\$ 1,00; nove moedas de R\$ 0,50 e 21 moedas de R\$ 0,25.

É **CORRETO** afirmar que, no cofre do menino, há

- A) R\$ 21,75.
- B) R\$ 21,50.
- C) R\$ 21,25.
- D) R\$ 21,00.

### Questão 27

Observe o quadro de horário de saída de uma determinada linha de ônibus entre seis horas e oito horas.

	6 horas	7 horas	8 horas
Minutos	10	15	10
	30	30	20
	50	45	30

É **CORRETO** afirmar que

- A) o intervalo entre as partidas é maior nos horários de seis e oito horas.
- B) o intervalo entre as partidas é maior nos horários de sete e oito horas.
- C) o intervalo entre as partidas é maior nos horários de sete e seis horas.
- D) não existe diferença entre os horários das partidas dos ônibus dessa linha.

### Questão 28

Uma mercearia vendeu no mês de agosto seis dúzias de latas de óleo. No mês seguinte, ela vendeu o triplo de latas de óleo.

No mês seguinte, a mercearia vendeu

- A) duas centenas e dezesseis latas de óleo.
- B) duas centenas e uma dúzia de latas de óleo.
- C) duas centenas de latas de óleo.
- D) uma centena e 86 latas de óleo.

### Questão 29

A escrita **CORRETA** do número R\$ 510,07 é

- A) quinhentos e dez reais e setenta centavos.
- B) quinhentos e dez reais e sete centavos.
- C) quinhentos e um reais e setenta centavos.
- D) quinhentos e um reais e sete centavos.

### Questão 30

Uma prefeitura gasta 75 quilos de material de asfalto para tampar os buracos nas ruas da cidade no mês de janeiro e o dobro no mês de fevereiro.

No mês de fevereiro, a prefeitura **gastou**

- A) 140 quilos de asfalto.
- B) 150 quilos de asfalto.
- C) 175 quilos de asfalto.
- D) 210 quilos de asfalto.

**ATENÇÃO:  
AGUARDE AUTORIZAÇÃO  
PARA VIRAR O CADERNO DE PROVA.**