

MUNICÍPIO DE PARAÓPEBA MINAS GERAIS

CONCURSO PÚBLICO EDITAL N° 001/2012



Operador Trator de Esteira

MANHÃ

Organizador:



CARGO: OPERADOR TRATOR DE ESTEIRA

Texto

As enchentes

As chuvaradas de verão, quase todos os anos, causam no nosso Rio de Janeiro inundações desastrosas. Além da suspensão total do tráfego, com uma prejudicial interrupção das comunicações entre os vários pontos da cidade, essas inundações causam desastres pessoais lamentáveis.

O Rio de Janeiro, da avenida, dos *squares*, dos freios elétricos, não pode estar à mercê de chuvaradas, mais ou menos violentas, para viver a sua vida integral. Não sei nada de engenharia, mas, pelo que me dizem os entendidos, o problema não é tão difícil de resolver.

Infelizmente, porém, nos preocupamos muito com os aspectos externos, (...) e não com o que há de essencial nos problemas de nossa vida urbana, econômica, financeira e social.

(Lima Barreto, Vida Urbana, 15/01/1915)

01

De acordo com o texto, marque **V** para as afirmativas verdadeiras e **F** para as falsas.

- () As inundações desastrosas são causadas pelas chuvas de verão.
() Os problemas destacados no texto aconteceram na cidade do Rio de Janeiro.
() As inundações causaram desastres lastimosos.

A sequência está correta em

- A) F, V, F B) V, V, V C) F, F, V D) V, F, V E) V, V, F

02

Lima Barreto descreve problemas enfrentados pela sociedade carioca no início do século XX. São causas das enchentes na cidade do Rio de Janeiro destacadas pelo autor

- I. ocupação desordenada.
II. problemas com engenharia.
III. precariedade da infraestrutura.
IV. realce no embelezamento urbano.
V. ausência de desenvolvimento tecnológico.

Estão corretas apenas as alternativas

- A) I, V B) III, IV, V C) I, II D) I, IV E) III, IV

03

Em “Infelizmente, porém, nos preocupamos muito com os aspectos externos, ...”, a palavra destacada exprime ideia de

- A) escolha. B) contraste. C) proporção. D) tempo. E) soma.

04

A palavra “desastrosas”, no 1º§ do texto, significa

- A) importantes. B) prováveis. C) infelizes. D) atuais. E) assustadoras.

05

A palavra “tráfego” é acentuada pela mesma razão que a seguinte palavra

- A) há. B) está. C) você. D) além. E) elétrico.

06

São palavras apresentadas no feminino, EXCETO:

- A) Cidade. B) Verão. C) Urbana. D) Engenharia. E) Chuvarada.

07

Assinale a afirmativa que apresenta ERRO ortográfico.

- A) As enchentes causaram mortes. D) Os desastres foram menos violentos.
B) As ruas ficaram destruídas. E) Porque a cidade ficou inundada?
C) Há problemas na vida urbana do carioca.

08

Assinale a palavra que se encontra no aumentativo.

- A) Suspensão. B) Barcaça. C) Verão. D) Inundação. E) Não.

09

“Chuvarada” é o mesmo que

- A) chover pouco e miúdo. D) chuva fina.
 B) chuva abundante; chuvão. E) chuvisco.
 C) garoar.

10

Em “... o problema não é tão difícil de resolver.”, a palavra destacada apresenta como antônimo

- A) impossibilitado. B) sigiloso. C) comum. D) fácil. E) agradável.

RACIOCÍNIO LÓGICO

11

Considere a tabela numérica a seguir.

19	32	27	13
38	26	15	11

A soma do maior número par com o menor número ímpar é

- A) 43. B) 51. C) 49. D) 38. E) 45.

12

Camila e Marcela fazem aniversário no mesmo mês. Num certo ano, o aniversário de Camila aconteceu no segundo sábado do referido mês e o de Marcela, na primeira segunda-feira. Se Camila faz aniversário no dia 12, então o aniversário de Marcela é no dia

- A) 5. B) 9. C) 3. D) 7. E) 4.

13

Sempre que Murilo abastece o tanque de seu carro ele gasta R\$45,00. Num certo mês, Murilo gastou R\$315,00 e, em cada vez que abasteceu o tanque, colocou 15 litros de gasolina. Quantos litros de gasolina ele comprou nesse mês?

- A) 105 B) 112 C) 98 D) 125 E) 93

14

Natália e Matheus são casados e têm três filhos. O filho mais velho tem 17 anos e o mais novo tem 8 anos. Se quando o filho do meio nasceu, o mais velho tinha 4 anos, então a diferença de idade entre os dois filhos mais novos é de

- A) 3 anos. B) 5 anos. C) 7 anos. D) 4 anos. E) 6 anos.

15

Para comprar o tênis que deseja, Felipe precisa conseguir mais 1/3 do valor que possui. Se Felipe tem R\$120,00, então o tênis custa

- A) R\$160,00. B) R\$150,00. C) R\$180,00. D) R\$170,00. E) R\$190,00.

16

Numa estante com 4 prateleiras foram colocados 39 livros, de tal forma que a prateleira mais baixa ficou com um livro a mais que a prateleira do meio, e esta ficou com um livro a mais que a prateleira mais alta. Quantos livros foram colocados na prateleira do meio?

- A) 15 B) 12 C) 16 D) 14 E) 13

17




Seja a sequência de letras A, Z, B, Y, C, X, D, W, ... A 9ª e a 10ª letra dessa sequência são, respectivamente,

- A) G, T. B) H, U. C) E, V. D) I, S. E) J, R.



18

Qual dos itens NÃO pertence ao grupo?



19

Numa vídeo-locadora, os filmes com numeração superior a 2.728 são os lançamentos, ou seja, aqueles adquiridos mais recentemente. Se o último filme recebido tem numeração igual a 3.017, o número de filmes que corresponde aos lançamentos é

- A) 245. B) 289. C) 291. D) 273. E) 295.

20

Rogério vai ao trabalho diariamente de carro, sai de sua casa às 7 horas e 55 minutos e chega ao local de trabalho pontualmente às 8 horas, sendo essa a hora em que começa a trabalhar. Num certo dia, seu carro apresentou um problema e Rogério resolveu caminhar de sua casa até o serviço e chegou 10 minutos atrasado. Sabe-se que Rogério gastou 23 minutos no trajeto, então ele saiu de casa às

- A) 7 horas e 47 minutos. D) 7 horas e 57 minutos.
B) 7 horas e 53 minutos. E) 8 horas e 9 minutos.
C) 8 horas e 5 minutos.

CONHECIMENTOS GERAIS

21

“O Palácio do Planalto anunciou nesta segunda feira (30 de abril), o novo ministro do Trabalho, que era o preferido da presidente Dilma Rousseff para o cargo, após reunião com o presidente do PDT.” Trata-se de

- A) Paulo Roberto Pinto. D) Manoel Dias.
B) Brizola Neto. E) Vieira Cunha.
C) Carlos Lupi.

22

São municípios mineiros, EXCETO:

- A) Alto Caparaó. B) Guaraciaba. C) Juatuba. D) Valença. E) Prados.

23

Investir na educação de crianças, jovens e adultos em todo o país é sinônimo de criar oportunidades para as pessoas e de desenvolvimento e crescimento para o Brasil. Acerca dos programas oferecidos pelo Ministério da Educação (MEC), analise.

- I. Brasil Alfabetizado: alfabetização de jovens, adultos e idosos. Acontece em todo o território nacional.
II. Programa Nacional de Livro Didático (PNLD): subsídio ao trabalho pedagógico dos professores. As escolas escolhem os títulos, de acordo com seu projeto pedagógico.
III. Escola Aberta: apoia a abertura, nos finais de semana, das escolas públicas localizadas em territórios de vulnerabilidade social.

Está(ão) correta(s) apenas a(s) afirmativa(s)

- A) I B) III C) I, II D) II, III E) I, II, III

30

“Protege a saúde do cidadão, através do controle sanitário da produção e comercialização de produtos e serviços submetidos à vigilância sanitária. Este órgão também exerce controle de portos, aeroportos e fronteiras e faz a interlocução do Ministério das Relações Exteriores com instituições estrangeiras para tratar de assuntos internacionais na área de vigilância sanitária.”

(<http://www.brasil.gov.br/sobre/saude/orgaos-vinculados> – adaptado)

A afirmativa refere-se à(ao)

- A) Agência Nacional de Saúde Suplementar (ANS).
- B) Agência Nacional de Vigilância Sanitária (Anvisa).
- C) Fundação Nacional de Saúde (Funasa).

- D) Instituto Nacional do Seguro Social (INSS).
- E) Sistema Único de Saúde (SUS).

INSTRUÇÕES

1. Material a ser utilizado: caneta esferográfica azul ou preta. Os objetos restantes devem ser colocados em local indicado pelo fiscal da sala, inclusive aparelho celular desligado e devidamente identificado com etiqueta.
2. Não é permitido consulta, utilização de livros, códigos, dicionários, apontamentos, apostilas, calculadoras e etc. Não é permitido ao candidato ingressar na sala de provas sem a respectiva identificação e o devido recolhimento de telefone celular, bip e outros aparelhos eletrônicos.
3. Durante a prova, o candidato não deve levantar-se, comunicar-se com outros candidatos e nem fumar.
4. A duração da prova é de 03 (três) horas, já incluindo o tempo destinado à entrega do Caderno de Provas e à identificação – que será feita no decorrer da prova – e ao preenchimento do Cartão de Respostas (Gabarito).
5. Somente em caso de urgência pedir ao fiscal para ir ao sanitário, devendo no percurso permanecer absolutamente calado, podendo antes e depois da entrada sofrer revista através de detector de metais. Ao sair da sala no término da prova, o candidato não poderá utilizar o sanitário. Caso ocorra uma emergência, o fiscal deverá ser comunicado.
6. O Caderno de Provas consta de 40 (quarenta) questões de múltipla escolha para os cargos de nível superior, médio magistério ou normal superior, médio técnico, médio e fundamental completo, e de 30 (trinta) questões para os cargos de nível fundamental incompleto. Leia-o atentamente.
7. **As questões das provas objetivas são do tipo múltipla escolha, com 05 (cinco) opções (A a E) e uma única resposta correta.**
8. Ao receber o material de realização das provas, o candidato deverá conferir atentamente se o Caderno de Provas corresponde ao cargo a que está concorrendo, bem como se os dados constantes no Cartão de Respostas (Gabarito) que lhe foi fornecido, estão corretos. Caso os dados estejam incorretos, ou o material esteja incompleto ou tenha qualquer imperfeição, o candidato deverá informar tal ocorrência ao fiscal.
9. Os fiscais não estão autorizados a emitir opinião e prestar esclarecimentos sobre o conteúdo das provas. Cabe única e exclusivamente ao candidato interpretar e decidir.
10. O candidato poderá retirar-se do local de provas somente a partir dos 90 (noventa) minutos após o início de sua realização, contudo não poderá levar consigo o Caderno de Provas, somente sendo permitida essa conduta apenas no decurso dos últimos 30 (trinta) minutos anteriores ao horário previsto para o seu término.
11. Os 3 (três) últimos candidatos de cada sala somente poderão sair juntos. Caso o candidato insista em sair do local de aplicação da prova, deverá assinar um termo desistindo do Concurso Público e, caso se negue, deverá ser lavrado o Termo de Ocorrência, testemunhado pelos 2 (dois) outros candidatos, pelo fiscal da sala e pelo coordenador da unidade.

RESULTADOS E RECURSOS

- Os gabaritos oficiais preliminares das provas objetivas serão divulgados na Internet, no site www.idecan.org.br, às 16h00min do dia subsequente ao da realização da prova escrita.

- Os recursos deverão ser apresentados, conforme determinado no **item 8 do Edital de Concurso Público nº. 001/2012**, sendo observados os seguintes aspectos:

a) O candidato que desejar interpor recursos contra os gabaritos oficiais preliminares das provas objetivas disporá de **02 (dois) dias úteis**, a contar do dia subsequente ao da publicação, em requerimento próprio disponibilizado no link correlato ao Concurso Público no site www.idecan.org.br.

b) A interposição de recursos poderá ser feita **somente via Internet, através do Sistema Eletrônico de Interposição de Recursos**, com acesso pelo candidato com o fornecimento de dados referentes à sua inscrição, apenas no prazo recursal, ao IDECAN, conforme disposições contidas no site www.idecan.org.br, no link correspondente ao Concurso Público.